

## 2018 北京市东城区高一（上）期末

### 政 治

本试卷共 100 分。考试时长 100 分钟。

第一部分（选择题 共 56 分）

一、选择题（在每小题列出的四个选项中，只有一项是最符合题目要求的。本大题共 28 小题，每小题 2 分，共 56 分）

2017 年 10 月 24 日上午，党的十九大胜利闭幕。回答 1~2 题。

1. 习近平同志在党的十九大报告中指出：中国特色社会主义进入新时代，我国社会主要矛盾已经转化为人民日益增长的美好生活需要和\_\_\_\_\_之间的矛盾。

- A. 落后的生产力
- B. 不平衡不充分的发展
- C. 不完善的市场
- D. 不全面不协调的发展

2. 党的十九大对新时代中国特色社会主义发展作出新的战略安排。第一个阶段，从 2020 年到 2035 年，在全面建成小康社会的基础上，基本实现\_\_\_\_\_；第二个阶段，从 2035 年到本世纪中叶，把我国建成富强民主文明和谐美丽的\_\_\_\_\_。

- A. 社会主义现代化          社会主义现代化强国
- B. 社会主义现代化          社会主义现代化国家
- C. 中华民族伟大复兴          社会主义现代化国家
- D. 中华民族伟大复兴          社会主义现代化强国

周末，小明同学上超市购买东西，发现许多有趣的现象。回答 3~6 题。

3. 走进超市，货架上摆满了琳琅满目的商品，都贴着各式价格标签，这是货币在执行\_\_\_\_\_职能。

- A. 价值尺度
- B. 流通手段
- C. 支付手段
- D. 价格尺度

4. 超市商品的陈列是有讲究的。例如，数码照相机旁放置记忆卡或电池，香皂旁放置皂盒，牙膏旁放置牙刷等。前面每组中的两种商品是

- A. 替代商品
- B. 价值量相同的商品
- C. 互补商品
- D. 价格档次相同的商品

5. 一般来说，超市会把乳制品和其他日常生活消费品“藏”在最深处，以便让你穿过整个卖场才能够得到它们。超市这样做

- A. 有利于增加其他商品销售，增加销售额
- B. 保障食品安全，提升日常消费品的价值
- C. 改善消费者体验，增加日常消费品销售
- D. 给消费者带来不便，造成超市利润减少

言，这种支付可以

- ①避免假币使用      ②简化收款手续
- ③方便购物消费      ④保障交易安全

- A. ①②③    B. ①②④    C. ①③④    D. ②③④

7. “旧时王谢堂前燕，飞入寻常百姓家。”常用来形容过去一些昂贵商品现在变成了大众消费品。造成这种变化的根本原因是

- A. 生产的迅速发展导致了商品供过于求
- B. 人们消费观念改变增加了高档品的消费
- C. 商品质量水平下降导致售价不断降低
- D. 社会劳动生产率提高导致商品价值降低

8. 据报道，2016 年全年国内旅游人数创历史新高，达 44.4 亿人次，比上年同期增长 11.0%，私人旅游定制师新兴职业也蓬勃兴起。私人旅游定制师新兴职业的兴起，说明

- A. 生产决定消费的方式                      B. 消费反作用于生产
- C. 消费决定生产                              D. 生产决定消费的对象

9. 下表是近期人民币外汇牌价情况。这表明

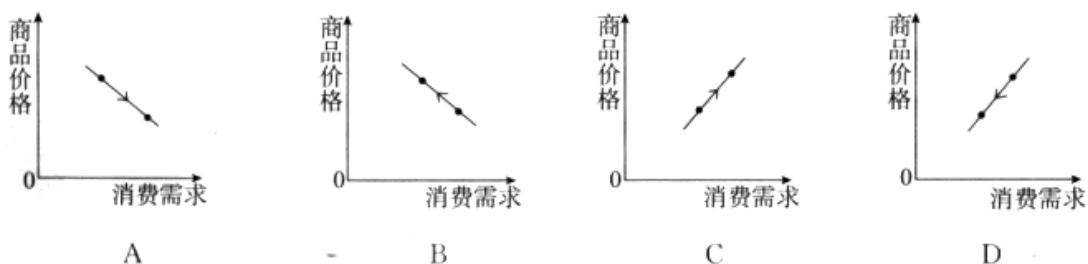
人民币外汇牌价（人民币/100 美元）

时间	美元	人民币
2017 年 12 月 1 日	100 元	661.47 元
2017 年 12 月 7 日	100 元	661.7 元

- A. 外汇汇率降低，美元币值下降，人民币币值上升
- B. 外汇汇率升高，美元币值上升，人民币币值下降
- C. 外汇汇率升高，美元币值下降，人民币币值上升
- D. 外汇汇率降低，美元币值上升，人民币币值下降

一年一度的“11·11”，成为中国消费市场重要的促销节点。回答 10~11 题。

10. 有些消费者为了抢到“前十分钟折上五折”“满 400 减 50”和其他打折商品，早早将商品加入购物车，“11·11”当天收获颇丰。能正确描述这种现象的是



11 火热的背后 有些现象引人深思。解决漫画（图 1）中的问题，需要




图1 如此“11·11”

- ①国家完善立法，统一电商行业标准
- ②政府规范市场秩序，加强监管力度
- ③企业履行社会责任，守法诚信经营
- ④消费者树立正确消费观，理性消费

A. ①②③    B. ①②④    C. ①③④    D. ②③④

12. 国务院日前印发《划转部分国有资本充实社保基金实施方案》，决定按照 10%的比例将中央和地方国有及国有控股大中型企业、金融机构的国有股权划转充实社保基金。这主要是基于

- ①以人民为中心的发展思想    ②国有资产归国家所有
- ③保障未来社保基金的可持续    ④减轻国企经营成本，提高国企竞争力

A. ①②③    B. ①②④    C. ①③④    D. ②③④

党的十八大以来的五年，是党和国家发展进程中极不平凡的五年。回答 13~15 题。

13. 读图 2，可以推断下列说法正确的是

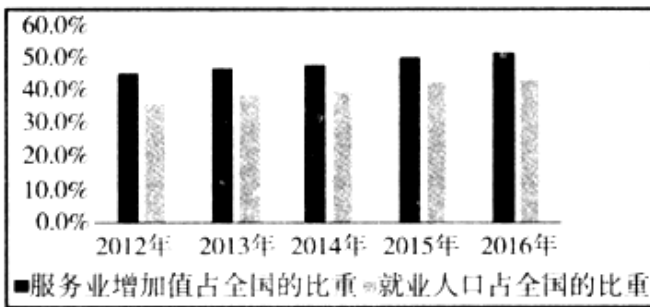


图2 2012—2016年我国服务业增加值和就业人口占全国的比重

- ①有利于缓解我国就业压力，提高人民生活水平
- ②收入差距不断缩小，社会分配日益平均
- ③中国经济稳中向好，经济质量和效益不断提升
- ④我国已进入创新驱动发展强国，农业产值和地位在下降

A. ①③    B. ①④    C. ②③    D. ②④

14. 十八大以来，实施脱贫攻坚战略，开展精准扶贫精准脱贫取得巨大成就（图3）。开展精准扶贫



图 3

- ①体现了发展成果由人民共享
- ②是社会主义本质的内在要求
- ③是市场机制发挥作用的结果
- ④消灭收入差距, 实现共同富裕

A. ①②    B. ①④    C. ②③    D. ③④

15. 近五年来, 伴随着人们生活水平的提高和观念的更新, “消费升级”浪潮在中国渐成规模, 传统的生存型、物质型消费开始让位于发展型、服务型等新型消费, 新消费时代已然来临。这意味着

- A. 我国已成为制造强国    B. 生存消费已经逐渐消失
- C. 居民消费结构不断改善    D. 恩格尔系数将不断提高

16. 大学毕业生小新设计的一个动漫形象在网络上风靡一时。小新希望利用这个契机, 开办一家自己的公司。这将需要大约 20 万元的启动资金, 他的银行卡上只有 5 万元。小新可以

- A. 招募股东, 通过股票上市依法向社会筹集启动资金
- B. 申请政府政策扶持, 向政府民政部门申请救助资金
- C. 申请银行的小微企业专项贷款, 开办有限责任公司
- D. 许诺高额回报利息来集资, 发展下线扩大融资规模

17. 近期, 在中国联通的混合所有制改革过程中, 引入腾讯、百度、阿里巴巴、京东等一批民间资本, 为国企改革注入活力。鼓励非公有制经济参与国企改革的原因在于

- ①国有企业效率低下, 阻碍我国经济发展    ②发挥各种所有制经济优势, 相互促进
- ③增强非公经济在国民经济中的主体作用    ④有利于国有资本增加控制力和竞争力

A. ①③    B. ①④    C. ②③    D. ②④

18. 据报道, 2018 届全国普通高校毕业生预计 820 万人。下列举措有利于增加高校毕业生就业的有

- ①大力发展现代服务业, 增加就业岗位    ②出台鼓励大众创业、万众创新的政策
- ③加强离校未就业高校毕业生的职业培训    ④出台延时退休政策, 延长大学生毕业时间

A. ①②③    B. ①②④    C. ①③④    D. ②③④

2017 年 12 月 6 日, 我国首条穿越秦岭的高铁——西(安)成(都)高铁正式开通全线运营。回答 19~20 题。

19. 某校高一(1)班同学在课堂时事述评时,谈及西成高铁的意义(图4)。西成高铁正式开通




图 4

- ①加强两地资源互补
- ②缩短两地铁路里程
- ③节省两地通行时间
- ④促进两地交流协作

A. ①②③      B. ①③④      C. ②③④      D. ①②④

20. 西成高铁正式开通当天,成都飞往西安的机票票价“大跳水”,最低票价只有 340 元,比西成高铁的一等座 397 元还便宜;并且,成都飞西安航班数由每日 10 班减为 4 班左右。导致航空出现这种情况的原因是

- A. 市场失灵,资源浪费      B. 服务提升,成本下降
- C. 竞争加剧,顾客分流      D. 价格机制,不当竞争

21. 随着网络购物、餐饮外卖等行业的发展,小商品多层包装、过度包装,一次性餐具的大量使用给环境保护带来巨大压力。为此应该

- A. 引导资源有效回收利用,推动绿色发展、循环发展、低碳发展
- B. 对网络购物和餐饮外卖等高污染企业进行限制,建设生态文明
- C. 鼓励对外贸易,既增加外汇收入,又能有效减少我国的污染源
- D. 对网络购物和餐饮外卖行业收高额污染税,提高行业准入门槛

22. 总投资约 449 亿元的杭绍台高铁,是我国第一条开工的民营控股高铁项目、第一条采用 PPP(政府和社会资本合作)模式建造运营的高铁项目(图 5)。这一模式

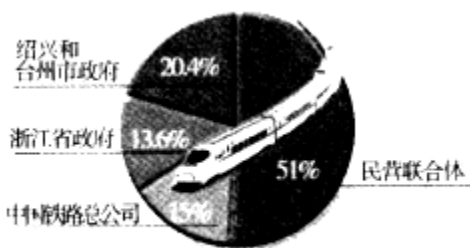


图 5

A. 拓宽了民营企业投资渠道

- B. 减少民营企业经营市场风险
- C. 扩大了国有资产的支配范围
- D. 确保民营企业提高利润水平

23. 全面推开营改增试点后，2017年10月30日，国务院常务会议通过《国务院关于废止〈中华人民共和国营业税暂行条例〉和修改〈中华人民共和国增值税暂行条例〉的决定（草案）》。这标志着在中国实行了60多年的营业税告别演出“剧终”，也意味着增值税改革进程的全面加速。全面推开营改增。

- ①减轻企业税负负担，推动实体经济发展
- ②促进产业分工优化，助推经济转型升级
- ③促进收入分配公平，缩小行业收入差距
- ④促进财政收入增加，企业财政补贴增多

- A. ①②      B. ①④      C. ②③      D. ③④

24. 党的十八大以来，一系列改革措施落地生根，人民“获得感”不断增强。从财政的作用来看，图6主要说明

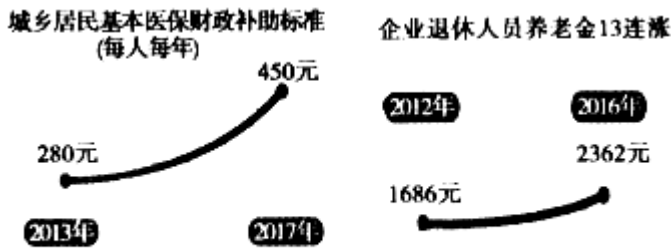


图6

- A. 财政能够促进国民经济平稳运行
- B. 财政能够促进资源的合理配置
- C. 财政对资源配置起决定性作用
- D. 财政保障民生，促进生活水平提高

25. 有人形容市场经济是“前有黄金万两，后有虎狼成群”。这形象地说明了市场经济具有

- ①自发性      ②盲目性      ③竞争性      ④滞后性

- A. ①④      B. ①③      C. ②③      D. ②④

26. 读图7。自拍杆“小白”的奇妙之旅生动地体现了



漫画：刘慧

图7 中国制造自拍杆“小白”的奇妙之旅



- A. 生产全球化    B. 贸易全球化
- C. 金融全球化    D. 技术全球化

27. “世界经济的大海，你要还是不要，都在那儿，是回避不了的。想人为切断各国经济的资金流、技术流、产品流、产业流、人员流，让世界经济的大海退回到一个一个孤立的小湖泊、小河流，是不可能的，也是不符合历史潮流的。”这段话表明

- A. 经济全球化是一把双刃剑，弊大于利
- B. 人为切断世界各国的经济联系是不可取的
- C. 经济全球化是不可逆转的潮流，我们应任其发展
- D. 世界经济必定一直向前发展，不必担心“保护主义”

28. “一带一路”倡议 4 年来，已有 100 多个国家和国际组织积极响应，40 多个国家和国际组织同中国签署了合作协议；中国同沿线国家的贸易总额超过 3 万亿美元，对沿线国家投资累计超过 500 亿美元；中国企业在 20 多个国家建设 56 个境外经贸合作区，为有关国家创造近 11 亿美元税收和 18 万个就业岗位。沿线国家的产品、技术、服务、资本源源不断地进入中国，“中国制造”“中国建设”“中国服务”受到越来越多沿线国家的欢迎。这说明，“一带一路”

- ①为经济全球化提供新动能
- ②推动我国形成全面开放新格局
- ③遵循共商共建共享原则，实现合作共赢
- ④扩大商品出口，我国已主导经济全球化

- A. ①②③    B. ①②④    C. ①③④    D. ②③④

第二部分（非选择题 共 44 分）

二、非选择题（共 44 分）

29. （16 分）近日，由商务印书馆官方出版，中国社科院语言所修订的《新华字典》App 上线。据介绍，该 App 提供数字版纸版对照、原《新闻联播》播音员李瑞英播读、汉字规范笔顺动画、还开发了生字本、知识问答、汉字游戏等具有学习功能的增值服务。但《新华字典》App 的免费版每天只能查 2 个字，想要继续使用，就得付费 40 元，而一本纸质版的新华字典售价在 20 元左右，引发争议。App 的开发方表示，因涉及版权及软件开发等问题，所以需要付费。



结合所学经济知识和生活体验，回答以下问题。

(1) 你认为《新华字典》App 收费的理由有哪些？（8分）

(2) 有同学表示，他不愿意付费购买《新华字典》App。请写出能支持他这一观点的理由。（8分）

30. （16分）共享单车已经成方便市民出行的重要的交通工具。

2015年至2016年，共享单车市场整体用户数量从245万大幅增长到1886万，2017年用户规模依然保持大幅增长，年底或达5000万。

(1) 结合所学经济知识和生活体验，说明共享单车的用户规模为何增长迅速。（6分）

(2) 观察图8，预测共享单车发展前景；假如你是某一单车经营者，面对市场应该如何做？（4分）

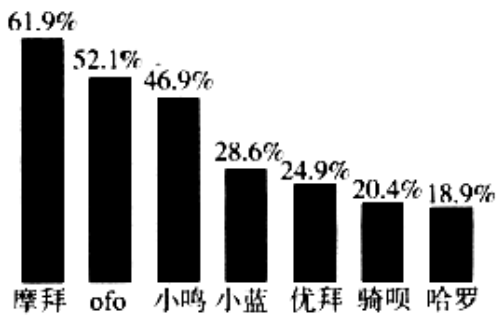


图8 2017年1月中国各单车平台用户使用率

(3) 共享单车火了，相应的问题也多了（图9）。共享单车如何做到便民不扰民？共享单车，更需共治。结合图9中的问题，谈谈你的建议。（不少于3条）（6分）

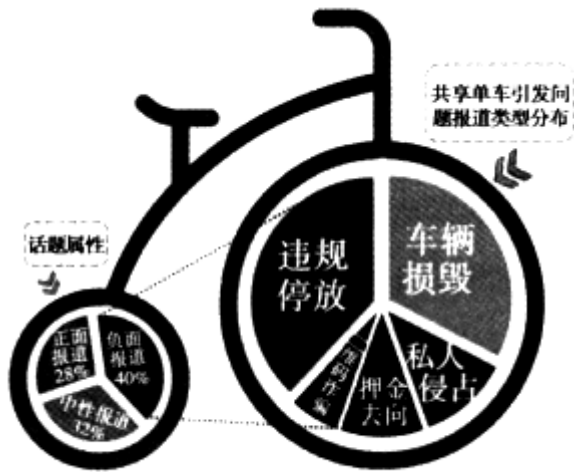


图9

31. （6分）某校学生会拟组织高三毕业生搞一场学生多余产品（如课外书籍、文具、复习笔记等）交换的“跳蚤市场”。如果你准备交换自己多余产品，为了取得比较理想的销售业绩，请填写下列表格。

计划展卖商品	
市场分析	
宣传口号	

32. （6分）“十二五”时期，财政部会同科技部、工信部等部门研究出台多项政策措施，包括消费补贴、税收优惠、政府采购等，涵盖研发、生产、消费、运行等环节，大力支持我国新能源汽车产业。在持续的政策引领下，



我国的新能源汽车产业迅速发展，2016 年新能源汽车产销量和保有量均位居世界第一。为了继续引导新能源汽车的发展，我国调整新能源汽车推广应用财政补贴政策，从 2017 年开始，新能源汽车补助标准逐渐降低，到 2020 年取消补贴。

结合材料，运用《经济生活》知识，谈谈对我国新能源汽车消费补贴政策变化的认识。（6 分）

## 政治试题答案

### 第一部分（选择题 共 56 分）

#### 一、选择题（本大题共 28 小题，每小题 2 分，共 56 分）

题号	1	2	3	4	5	6	7	8	9	10	11	12	13	14
答案	B	A	A	C	A	A	D	B	B	A	D	A	A	A
题号	15	16	17	18	19	20	21	22	23	24	25	26	27	28
答案	C	C	D	A	B	C	A	A	A	D	B	B	B	A

### 第二部分（非选择题 共 44 分）

#### 二、非选择题（共 44 分）

#### 29. （16 分）

(1) 《新华字典》App 耗费了大量的劳动和成本，商品交换以价值为基础，应该收费；App 本身比纸质版多了很多内容，而且都很优质，因此，价格应高于纸质版；体现了对知识的尊重，激励创造是保持产品持续发展、服务用户的必要方式；有利于保护知识产权，维护正常的经济秩序。（8 分）

(2) 替代品增多（如纸质新华字典、其他查询 App）；消费心理；购买力；等等。（其他答案言之有理，均可给分）（8 分）

#### 30. （16 分）

(1) 大量共享单车的推出；弥补公交和私人汽车的不足；符合绿色出行理念和方式；一系列的促销体验活动；等等。（其他答案言之有理，均可给分）（6 分）

(2) 前景预测：竞争加剧，小型企业将被淘汰。

措施：对大企业而言，可以兼并中小企业，扩大市场占有规模；改进服务和管理，提升竞争。

优势：对中小企业而言，可以联合，扩大市场占有率；开拓新市场或新的行业。（4 分）

(3)

等级	内容
5—6 分	针对某一问题，建议具体，主体明确；或就某一主体，不同角度解决问题
3—4 分	建议具体，但主体不明确；或主体明确，建议不具体
1—2 分	只有一个建议或一个主体
0 分	作答与该题无关

#### 31. （6 分）

略

#### 32. （6 分）

财政补贴降低消费者购车成本，激励新能源汽车消费，在新能源汽车市场发展初期，有利于培育市场；但长期

执行消费补贴，政府不仅背上负担，而且行业容易出现低水平的盲目扩张，形成产能过剩。现在，我国新能源汽车产业形成一定规模，产业溢出效应明显，财政补贴逐渐退坡，将提高消费者购买新能源汽车的成本，但有利于激发企业创新的活力和动力，提高产业技术水平、增强核心竞争力，提升产品品质。财政具有促进资源合理配置的作用。

(6分)

北京高考在线是长期为中学老师、家长和考生提供新鲜的高考资讯、专业的高考政策解读、科学的升学规划以及实用的升学讲座活动等全方位服务的升学服务平台。自 2014 年成立以来一直致力于服务北京考生，助力千万学子，圆梦高考。

目前，北京高考在线拥有旗下拥有北京高考在线网站和北京高考资讯微信公众号两大媒体矩阵，关注用户超 10 万+。

北京高考在线\_2018 年北京高考门户网站

<http://www.gaokzx.com/>

北京高考资讯微信：bj-gaokao

## 北京高考资讯

### 关于我们

北京高考资讯隶属于太星网络旗下，北京地区高考领域极具影响力的升学服务平台。

北京高考资讯团队一直致力于提供最专业、最权威、最及时、最全面的高考政策和资讯。期待与更多中学达成更广泛的合作和联系。

长按二维码 识别关注



微信公众号：bj-gaokao

官方网址：www.gaokzx.com

咨询热线：010-5751 5980