

查缺补漏试题

【中国古代思想】

1. 老子认为，“失道而后德，失德而后仁，失仁而后义，失义而后礼”。孔子则说，“不学礼，无以立”，要“非礼勿视，非礼勿听，非礼勿言，非礼勿动”。这反映出，当时他们（ ）
- A. 反思西周的礼乐文化
B. 迎合封建贵族政治诉求
C. 主张维护夏商周制度
D. 得到统治者的积极支持

【货币的使用】

2. 下图为不同时期的部分货币，据图可知，其形制变化的共同原因是（ ）



图 5

- A. 铸铁技术的进步
B. 商品交易的需要
C. 审美观念的不同
D. 国家统一的推动

【王安石变法、古代社会救济。】

3. 王安石在变法中“募饥民修水利”，以“赈救食力之农”“兴陂塘沟港之废”。与“煮粥赈灾”“开仓放粮”等赈灾方式相比，王安石此举力图（ ）
- A. 尽量减轻政府的救灾负担
B. 稳定灾区的社会秩序
C. 从长远上解决灾民生计问题
D. 建立政府抗灾救荒体系

【中国古代政治制度、边疆治理】

4. 元朝是中国历史上首个由少数民族建立的大一统王朝，疆域广大，民族众多，推进了新的民族融合。下列关于元朝巩固统一多民族国家的举措，叙述正确的是（ ）
- A. 首次设立枢密院主管军事
B. 在西南地区实行土司制度
C. 确定行省之下的行政区划依次为郡、州、县
D. 设理藩院管辖西藏和四川、青海部分地区
5. 六部是中国古代重要的行政机构。以下对于六部的描述，按时间顺序排列正确的是（ ）
- ①各自分署，直接对皇帝负责
②隶属于中书省
③隶属于尚书省
④增设外务部等机构，六部之名渐废
- A. ③②①④
B. ①③②④
C. ②③①④
D. ④②③①

【古代法律与教化—明清时期】

6. 明代继承前代“以例辅律”的传统。律一经颁行，即成定制，因而难以应对不断出现的新问题，故朝廷不得不大量增补各类“例”以维护社会正常秩序，甚至将六部办定的“成案”提升为“现行则例”。此举（ ）
- A. 提升了社会治理的能力 B. 杜绝了司法腐败的可能
C. 确保了审判结果的公正 D. 导致了社会矛盾的激化

【近代商业贸易的变化】

7. 晚清时期，中国的商业经营形式产生了新变化。下列历史事件可以佐证这一观点的是（ ）
- ①在广州设置公行，统揽对外贸易事务 ②上海出现了最早专营股票的证券机构
③中国人自办的第一家银行在上海创办 ④第一家大型百货公司在香港成立
- A. ①②③ B. ①②④ C. ①③④ D. ②③④

【近代以来官员的选拔与管理】

8. 北洋政府时期，选拔官员主要有考试和甄别两种方式，甄别是指对已经在文官职位上工作的人，通过检验其毕业文凭、调查经历、检查工作成绩、考察学识与工作经验等决定其能否留任；合格者授予甄别合格证书，可继任原职，不合格者被免职。北洋政府时期实行甄别的用意在于（ ）
- A. 学习西方的文官制度 B. 保持行政连续性与稳定性
C. 完善公务员的任职体系 D. 为守旧官僚暗开绿色通道

【古代战争与地域文化的演变，注意文化交流的双向性】

9. 亚历山大东征时，沿途兴建了许多希腊式的新城。为了扩大帝国统治的社会基础，亚历山大竭力推行马其顿人与东方人融合的政策，倡导马其顿人与东方女子婚。随着东征，巴比伦的天文学和数学知识也传入了希腊。上述材料说明亚历山大东征（ ）
- A. 是一次掠夺性战争 B. 促进了欧洲经济的发展
C. 促进了东西方文化交流 D. 希腊文化渗透到各个阶层

【中世纪欧洲封建制度、世界主要国家的基层治理】

10. 中世纪早期的西欧，贵族都有庄园法庭的司法权，这在西欧是普遍的状况。由地主贵族、俗人或僧侣、男爵或主教在一定的范围内，对那里的居民办理行政、征收赋税，而国王只是被缩成一个阴影而已。材料表明，这一时期的西欧庄园（ ）
- A. 带有基层自治色彩 B. 农业经济占主导地位
C. 具有完全独立主权 D. 有利于形成强大王权

【世界古代史·逻辑】

11. 以下史事和结论对应准确的是

	史事	结论
A	恰塔尔·休于遗址位于今土耳其境内，是迄今遗址最早的城市遗址	人类文明诞生于今天的土耳其境内

B	前4世纪晚期，马其顿国王亚历山大与波斯国王大流士三世在叙利亚北部决战，最终灭亡波斯入侵印度	印欧人大迁徙改变了亚洲的政治格局
C	西欧城市通过与封建主谈判、或金钱赎买或武装暴动，获得封建主颁发的特许状进而获得自治权	西欧城市是封建领主土地的一部分
D	12世纪末，源赖朝建立镰仓幕府，将军为首的幕府掌握实权	日本模仿中国建立了中央集权国家

【近代民族国家的形成】

12. 13世纪，以伦敦方言为基础形成的英语出现在英国官方文件中，英语开始逐渐成为英国人广泛使用的语言。16世纪，法国国王签署敕令，规定法国的法律文件必须用以巴黎方言为主形成的法语撰写，法语成为法国的官方语言。这反映出（ ）

- A. 民族认同观念的强化 B. 自由平等思想的传播
C. 国际法体系的形成 D. 欧洲语言的书面化

【欧洲思想解放运动·科学革命】

13. 阅读下列材料，解读正确的是（ ）

哥白尼	质疑托勒密宇宙体系，提出“太阳中心说”。
伽利略	通过自由落体实验驳斥亚里士多德论点；自制望远镜观测天象，证实哥白尼学说。
牛顿	以实验数据为依据，通过数学分析，论述力学三大运动定律和万有引力定律；认为上帝是“第一推动力”。

- ①体现独立思考与自主精神 ②脱离天主教意识形态
③反映资产阶级的政治主张 ④形成理性化思维方式
A. ②④ B. ①③ C. ②③ D. ①④

【马克思主义的诞生与传播】

14. 马克思在《资本论》中指出，工人干活，资本家付给他钱，这看起来这并没有什么不对，但实际上不是“等价交换”。工人为资本家劳动所创造的财富远远大于自己所得的报酬，而它却被资本家无偿地剥削走了。《资本论》一问世，便被誉为“工人阶级的圣经”。这主要是因为它（ ）

- A. 创立了剩余价值学说 B. 揭示了人类社会的发展规律
C. 构建了历史唯物主义 D. 指明了无产阶级的历史使命

20世纪初，马克思主义在中国的传播【马克思主义传播→马克思主义中国化】

1917年十月革命后，李大钊《布尔什维主义的胜利》《庶民的胜利》等文章，率先宣传马克思主义。1919年五四运动以后，马克思主义迅速在中国传播。1921年南陈北李组建中国共产党，仿效苏俄革命独立开展革命活动。1927年国共合作破裂、大革命失败后，毛泽东提出工农武装割据、农村包围城市的思想，马克思主义逐渐中国化，符合中国革命的实际情况。

【俄国经济制度变化】

15. 受政权更迭影响，俄国历史上曾出现多个有关农业和农民的政策。下列政策按时间先后顺序排列正确的是

- ①调整国家与农民的关系，用粮食税替代余粮收集制
 - ②加大农业投入，将农产品义务交售制改为收购制。
 - ③通过合作社把个体的小农经济改造成为社会主义集体经济。
 - ④农奴可以通过赎买得到土地，成为拥有私产的自由农民。
- A. ②③①④ B. ②①③④ C. ④①②③ D. ④①③②

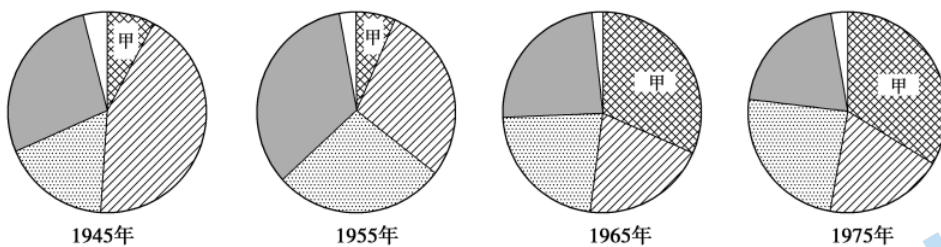
【战后资本主义的变化】

16. 1950 年以后的 20 年里，大多数发达市场经济国家持续的高增长率使经济定期波动的特点大为改观。西欧在 1952 年和 1958 年出现两次衰退，但每次衰退的程度都很轻，衰退后都继之以更高的增长率。这主要得益于()

- A. “自由放任”政策推行
- B. “福利国家”的规模缩小
- C. 国家对经济的宏观调控
- D. “新经济”增长模式出现

【战后殖民体系的崩溃】

17. 下图为 1945、1955、1965、1975 年各大洲的联合国成员国数量所占比例示意图。图中“甲”是()



- A. 非洲
- B. 亚洲
- C. 欧洲
- D. 美洲

二、非选择题

材料信息的概括(关键信息提炼、特点提炼、归纳)	17、18 (1)、18 (3)、19 (2)、23
比较异同	19 (1)
分析解释(原因、目的;作用、影响、意义)	17、18 (1)、19 (2)、
论述观点	20、
综合(解读、阐释、评析等)	18 (2)、21、22、23

17. 阅读材料，完成下列要求。

材料一

汉兴，改秦之败，大收篇籍，广开献书之路。迄孝武(汉武帝)世，书缺简脱，礼坏乐崩，圣上喟然而称曰：“朕甚闵(怜悯)焉!”于是建藏书之策，置写书之官，下及诸子传说，皆充秘府。

材料二

天一阁为明代兵部右侍郎范钦的藏书之所，是我国现存最古老的私人藏书楼。天一阁管理措施严密，四百年间，获准登阁者仅黄宗羲、阮元等 10 余人。清代阮元曾记载道：司马（范钦）歿后，封闭甚严，继乃子孙各方相约为例，凡阁厨锁钥，分房掌之。禁以书下阁梯，非各房子孙齐，不开锁。”范氏族约甚至规定：“擅将书借出者，罚不与祭三年；因而典鬻者，永摈逐不与祭。”阮元还指出：“范氏以书为教，自明至今，子孙繁衍，其读书在科目学校者，彬彬然以不与祭为辱。”

——据虞浩旭《阮元与天一阁藏书楼》整理

材料三

公共图书馆从 19 世纪 50 年代开始在英国逐步兴起，它的特点是：地方当局征税建馆，免费为公众服务。公共图书馆集中在工业城镇，而且以工人为重点服务对象。1753 年创建的不列颠博物馆图书馆也发展成国际的学术中心，马克思、列宁、孙中山就曾在这里阅览图书，旁征博引，为自己的思想理论奠定了坚实的基础。

——据周楠《欧洲图书馆史研究》整理

- (1) 根据材料一、二，概括中国古代藏书的主要情况。结合所学知识，分别简析导致上述现象的社会原因有哪些？
- (2) 根据材料三并结合所学知识，指出英国公共图书馆兴起的原因并简析其影响。

【参考答案】

- (1) 主要情况：分官方藏书和私人藏书；以保存书籍，延续文化为目的；具有封闭性；藏书馆管理严格；官方藏书设专门官员，具有政治色彩；私人藏书具有宗族色彩等。

材料一：吸取秦朝焚书坑儒的教训；建立大一统王朝的需要等。

材料二：维护宗族地位的需要；重视文化遗产的传统；科举制度的影响；古代印刷技术的发展与传播，书籍成为重要资源等。

- (2) 原因：政府社会服务职能的提高；工业革命对工人素质提出更高要求；英国重视科技文化教育的传统等。

影响：有利于英国国民素质的提升；推动英国成为世界学术中心之一；促进了英国工业革命的发展和科技进步；有利于近代科技文化向世界各地传播；为人类先进思想的产生提供了知识条件等。

18. 历史·记忆

【历史记忆与祖先认同】

材料一

北魏拓跋珪即位后，采纳汉臣崔宏建议，自谓黄帝之后。据《魏书》记载，拓跋氏追溯的初祖是受封北土的黄帝嫡孙。拓跋珪及继任的三位皇帝亲往或遣使至涿鹿黄帝庙祭祀。

至孝文帝，又下诏：“魏之先出于黄帝，以土德王，故为拓跋氏。夫土者，黄中之色，万物之元也；宜改姓元氏。”面对关于迁都的质疑，他说：“黄帝以天下未定，居于涿鹿，既定之后，亦迁于河南。”孝文帝主持定姓族时，汉臣薛宗起建议不应以祖先曾经的居住地为确定门第等级的主要标准，他说：“陛下黄帝之胤，受封北土，岂可亦谓之胡邪！”

(1) 概述北魏统治者追溯祖先的目的、过程与效果。

【历史记忆与时代使命】

材料二 黄宗羲生活于明末清初，两百年后其政治思想备受推崇。梁启超与谭嗣同等曾将《明夷待访录》“节钞”送人。革命党人陈天华认为，《明夷待访录》“虽不及《民约论》（又译《社会契约论》）之完备，民约之理，却已包括在内”。该书中的《原君》《原臣》也曾被用作兴中会的宣传品。

民国时期，梁启超反思说：“畴昔谈立宪、谈共和者，偶见经典中某字某句与立宪、共和等字义略相近，辄捃拾以沾沾自喜，谓此制为我所固有。其实今世共和、立宪制度之为物，即泰西亦不过起于近百年……比附之言，传播既广……以为所谓立宪、共和者不过如是，而不复追求其真义之所存。”

(2) 评析清末民初关于黄宗羲的“记忆复兴”这一现象。

【历史记忆与历史书写】

材料三

法国高中历史教科书（法德通用版）有关“法国大革命”的部分思考题

序号	思考题
1	阅读阿瑟·杨（当时旅法的英国人）的游记节选，作者认为 1787 年君主制危机主要表现有哪些？
2	持续数百年之久的旧制度为什么在几个月之内就崩溃了？
3	旧制度下，贵族和教士都有哪些特权？
4	阅读西哀士的《什么是第三等级》节选，为什么西哀士认为贵族成了“让人难以忍受的阶层”，而只有第三等级才能代表整个民族？
5	大卫通过他的画《网球厅宣誓》想传达怎样的政治信息？
6	为什么攻占巴士底狱被视为旧制度崩溃的象征？
7	阅读《人权宣言》和《独立宣言》，列表比较二者的异同。
8	组织关于《人权宣言》和《独立宣言》现实性的讨论。
9	阅读课本中的示意图，1791 年的立宪君主制与现代民主制有什么异同？
10	欧洲人是如何理解和接纳法国大革命的？
11	你认为纪念法国大革命还有意义吗？
12	为什么法国大革命没有像英国那样产生一个持久的立宪君主制？

(3) ①上表中思考题具有哪些特点？并简要说明。

②为“美国独立战争—华盛顿—联邦政府的建立”这一单元的学习，设计一组思考题。

(8分)

(要求：设计3~6个思考题；多角度、多层次涵盖该单元的主要内容；揭示该单元三部分之间的内在联系；体现创新性和思考深度。)

【参考答案】

(1) 目的：认同中原文化；巩固自己的政治统治。

过程：拓跋珪自称黄帝是其祖先；此后多个皇帝通过祭祀承认和延续这一祖先认同；孝文帝采取了一系列措施（改汉姓、迁都洛阳、定姓族等）加以强化。

效果：北魏统治者获得汉臣认可，通过祖先认同实现文化认同；客观上促进了民族融合；为结束长期分裂局面创造了有利条件。

(2) 答案示例：黄宗羲政治思想的核心是反对封建专制，提倡民主（民本）。晚清时期，维新、革命志士主张开启民智，反对君主专制，宣传民主思想。他们一方面引入西方资产阶级政治学说，另一方面又积极发掘中国传统思想中的近代因素，作为自己政治主张的理论依据。黄宗羲的思想符合维新派和革命派的需要，因此受到重视。他们将《明夷待访录》与卢梭《民约论》相比附，宣传“人民主权”思想，反对君主专制，从而赋予黄宗羲的思想以近代意义，社会上出现了对黄宗羲“记忆复兴”的现象。进入民国后，封建王朝已被推翻，共和政体建立，民主共和观念逐渐深入人心，时代的要求以及国人关注热点已发生变化，对黄宗羲政治思想的关注逐渐淡化。总之，清末民初对黄宗羲的“记忆复兴”是对时代需求的回应。

(3) (略)

19. 阅读材料，完成下列要求。

材料一

清康熙时解除海禁，在广东、福建、浙江、江苏设立四处海关，管理对外贸易。海关设置后即制定税则，不分进出口，往来贸易统一征税，包括正税和杂税，税率总计10%左右。乾隆时期对浙海关税率提高两倍，试图“寓禁于征”，但效果不显著，之后实行粤海关一口通商。

——摘编自韦庆远、叶显恩主编《清代全史》等

材料二

1843年，《五口通商章程及海关税则》规定，进出口货物按值百抽五交纳关税。根据这个税则，一些主要进口货物的税率较原来粤海关实征的税率大幅降低，出口税率一般也比过去降低。此后，列强利用协定关税权，一再压低中国进口税率，使其长期低于出口税率。

——摘编自许涤新、吴承明主编《中国资本主义发展史》等

材料三

1950年，政务院确立改造海关的基本方针，海关税则“必需保护国家生产，必需保护国内产品与外国商品竞争”。在海关税率方面，根据国家经济情况和国内需要予以调整，“使其较能适合于发展国内生产保护国内工业的要求”。同年，中国对外贸易出现了70余年来未有的出超。

——摘编自武力主编《中华人民共和国经济史》等

(1) 根据材料一、二并结合所学知识，概括清代海关税率的变化，并简析其原因。

(2) 根据材料三并结合所学知识，简析 1950 年中国海关税率调整的特征和意义。

【参考答案】

(1) 变化：从不区分进口税率与出口税率，到区分进口税率和出口税率，并且出口税率高于进口税率；晚清海关税率较鸦片战争前降低。

原因：清代中前期限制中外贸易，鸦片战争后国门被打开；协定关税，海关主权丧失；列强向中国倾销商品。

(2) 特征：完全自主；税率灵活，根据国家需要调整。

意义：维护国家关税主权；有利于结束外贸入超的局面；保护了本国民族经济，有利于国民经济的恢复与发展。

20. 阅读材料，完成下列要求。

材料

卫所，明代常备军军事组织。明代在各要害地方皆设卫所，屯驻军队，若干府划为一个防区设卫，卫下设所。卫所集中分布区域与明代的政治、经济、国防等有密切关系。

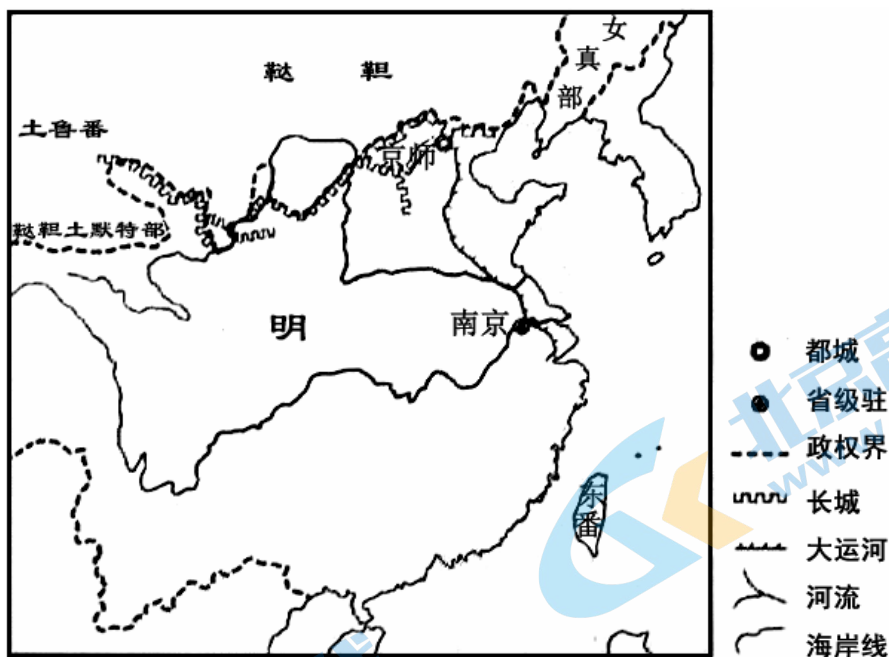


图 5 明万历年间疆域示意图（局部）

根据图 5 并结合所学知识，在答题卡的地图中标示出明代卫所集中分布的区域，并说明集中分布的理由。（要求：只需标示出明代卫所的一个集中分布区域；在答题卡的地图中用斜线 / / / / / 明确标示，理由准确充分，表述清晰。）

【参考答案】略

21. 阅读材料，完成下列要求。

材料

表 2

时间	旅顺船坞发展大事件
1881 年	清廷准李鸿章所奏，筹建旅顺军港和船坞。这是辽宁地区最早军工企业。
1890 年	旅顺港坞竣工，时称旅顺船务局，内设东北第一条国内电报线路、中国第一条国际电报线路、第一条自来水管线和船坞供电照明系统。北洋船舰再无需借道异国维修保养，同时带动了旅大地区造船行业兴起。
1898 年	沙俄占领旅顺，旅顺船坞沦为俄海军修理厂，服务其太平洋舰队。
1905 年	日军占领旅顺，旅顺船坞更名为日本海军修理厂，并开始承修商船。 1907 年，日企满洲铁路株式会社接手船坞。
1945 年	日本投降。8 月，苏联红军接管旅顺船坞，将其改称海军 102 工厂，生产计划列入苏联国民计划。
1955 年	苏方将 102 工厂交给新中国政府。翌年更名为解放军第四零一工厂，船厂扩建工程成为国家“一五计划”重点项目之一。
1965 年	7 月，改称解放军 4810 工厂或辽南造船厂，并进行扩建，主要任务是维护和改装现役军舰。
2012 年	我国自主研发的 056 型导弹护卫舰“营口号”在辽南造船厂下水。

——据《辽宁省志一大事记》《从“旅顺船坞”看洋务运动的客观效应》整理
采用一个新的时间尺度，任选旅顺船坞的一个发展阶段结合所学知识加以说明。（要求：明确写出所选阶段的起止时间及特点，表述清晰。）

【参考答案】

示例一：旅顺船坞创立与初步发展阶段（1881—1898年）。

经过两次鸦片战争，清政府统治阶级中的洋务派为了挽救国家的颓势，推行了以“自强”“求富”为目标的洋务新政。洋务派创办了一批官办的军事工业，如旅顺船坞等。这一时期的旅顺船坞置于清政府管理下，为北洋水师提供作战保障。

旅顺船坞的建立顺应了近代化的发展趋势，对外国侵略有所抵制；引进西方先进的生产、管理方式，为民族资本主义的产生与发展创造了条件；也培养了一批辽宁地区的早期产业工人。

示例二：旅顺船坞发展受挫阶段（1898—1955年）。

近代以来列强侵华不断加深，甲午战争、日俄战争和日本侵华战争等使中国半殖民地半封建社会性质不断加深。该时期的旅顺船坞先后被沙俄、日本和苏联控制，受到他们的经济掠夺，服务于这些国家的战争与经济发展需要，旅顺船坞失去独立发展机会。建国初期新中国实行“一边倒”外交方针，站在社会主义苏联一边，但苏联保持对旅顺船坞的管理权。

这一时期的旅顺船坞发展受制于外来势力，发展艰难。

示例三：旅顺船坞高速发展阶段（1955至今）。

新中国成立后，通过谈判从苏联手里收回旅顺船坞，这一时期的旅顺船坞在新中国管理下。新中国“一五计划”优先发展重工业，重视东北地区的发展，旅顺船坞自此得到国家的重视，发展迅速，为我国国防现代化作出重要贡献。旅顺船坞的发展促进了辽宁地区经济发展和国防现代化的进程，也为旅顺港成为中国北方最大军港创造了条件。

其他时间尺度划分的发展阶段也可，但只说明某一年（如1898年）的发展特点，不得分。

22. 阅读材料，回答问题。

“中心”与“外缘”

材料

由于第三世界是一个世界经济范畴，因此它的最主要的特征是欠发展（或欠发达），按依附论的观点，欠发展是指外缘地区国家经济的一种畸形发展状况。

根据依附论和世界体系的理论，近代资本主义兴起所构筑的由“中心”与“外缘”地区组成的资本主义世界体系的结构，大致如图8所示。

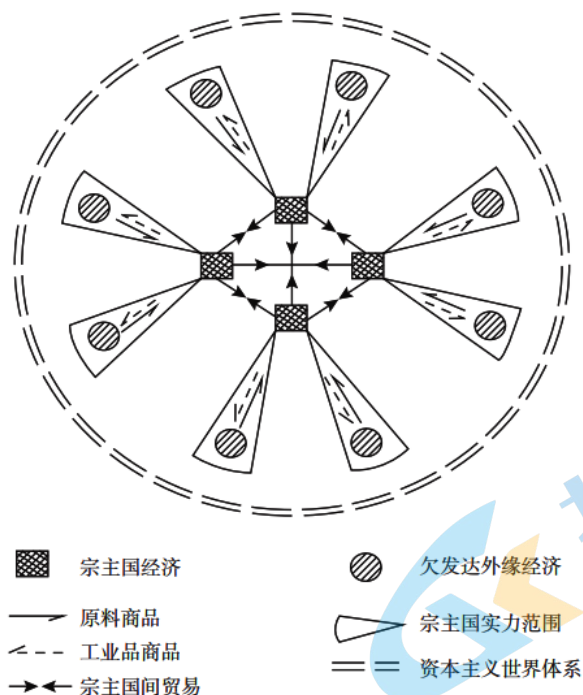


图8

——摘编自【美】斯塔夫里亚诺斯著《全球分裂——第三世界的历史进程》

依据材料并结合所学知识，以“依附与畸形”为题写一则历史短文。

（要求：立论正确，史论结合；逻辑严密，条理清晰；表述成文，叙述完整。）

【参考答案】

（1）作答内容应包括以下四个角度：

①“依附与畸形”的表现。

②对“依附与畸形”的原因进行分析，可从不同时段进行论述。

③联系现实，谈对“依附与畸形”现象和实质的认识。

（2）表述要求：逻辑严密，条理清晰，表述成文。

【示例】

“依附与畸形”是一种国际经济格局。

它是近代西方侵略扩张造成的不平等的国际经济格局。新航路开辟后，西方国家的殖民扩张和掠夺，中断了殖民地原有的社会进程，殖民地日益成为宗主国的附庸。工业革命后，西方工业国加强对外输出商品和掠夺原料，殖民地半殖民地国家进一步沦为原料产地和商品销售市场，资本主义经济附庸地位被强化，经济发展更加畸形化。

它呈现出东西方经济发展失衡的状态。第三世界经济被宗主国控制并依附于宗主国，呈现经济的畸形发展。宗主国为满足自身需要，采取强迫殖民地发展单一经济等手段保障其对原料的需求，还禁止或限制殖民地同任何其他国家进行贸易，使殖民地经济发展畸形化，加剧了殖民地的经济落后和对宗主国的依赖。

“依附与畸形”的经济格局是不合理的国际经济旧秩序。宗主国处于压迫、剥削的“中心”地位，第三世界一直处于被压迫、被剥削的“外缘”地位。这种局面的改变任重道远。我们要反对霸权主义和强权政治，努力构建公平合理的国际经济、政治新秩序，营造互利共赢的国际关系新格局，构建人类命运共同体。

23. 阅读下列材料，完成下列要求。

材料一

当今世界正发生复杂深刻的变化，人类正处在大发展大变革大调整的时期。世界多极化、经济全球化深入发展，社会信息化、文化多样化持续推进。同时，人类也正处在一个挑战层出不穷、风险日益增多的时代。国际金融危机深层次影响继续显现，世界经济缓慢复苏、发展分化，国际投资贸易格局和多边投资贸易规则深刻调整，各国面临的发展问题依然严峻。如何防止全球化的危机，使人类社会能够延续存在、和睦相处和持续发展，这是目前全人类面临的共同挑战和课题。

——摘编自常健《解决人类现实挑战的中国方案》

材料二

中国以命运共同体的新视角，寻求人类共同利益和共同价值的新内涵，要求打造体现“和平、发展、公平、正义、民主、自由”等全人类共同价值的人类命运共同体。人类命运共同体意识的重要理论创新是它的整体思维，不仅超越了西方选举驱动的政党政治的局部和短期利益观，而且还具有人类社会应对全球性挑战的整体合力。而中国将现阶段世界发展大势和自身在 21 世纪第二个十年的发展思路和目标交织一处，更是扩大本国与世界各国利益汇合的全方位的战略发展愿景。它旨在推进各国经济全方位互联互通和良性互动，减少全球发展不平等和不平衡的现象，使得世界各国人民都有机会来享受世界经济增长带来的利益和好处，展现出中国向人类文明提出的一个永久性道德价值和人文关怀。

——摘编自蔡亮《试分析国际秩序的转型与中国全球治理观的树立》

- (1) 根据材料一并结合所学知识，概括指出当今的时代主题和发展特点。
- (2) 根据材料一、二并结合所学知识，对中国的全球治理观进行简要评析。（要求：表述准确，逻辑清晰，不得摘抄原文）

【参考答案】

- (1) 时代主题：和平与发展
发展特点：世界多极化；经济全球化；社会信息化；文化多样化；大发展大变革大调整；人类面临一系列挑战。
- (2) 评析：在全球治理方面，中国提出了推动构建人类命运共同体的理念。提出这一理念

主要是基于当今世界形势和人类面临许多共同的挑战，而旧的国际秩序和治理模式又存在弊端，难以适应当今世界形势的发展要求。此外，也与中国自改革开放以来综合国力增强、国际地位不断提升以及中国传统文化的影响增强有关。中国的全球治理观体现了和平、发展、合作、共赢的新理念，为推动世界和平与可持续发展提供了一个理性可行的行动方案；有利于推动国际秩序和国际体系朝着更加公正合理的方向发展；同时，也体现了中国作为世界大国的责任与担当，这是对人类进步事业和人类文明奉献的中国智慧和力量。



2022 北京高三各区二模试题下载

北京高考资讯公众号搜集整理了【**2022 北京各区高三二模试题&答案**】，想要获取试题资料，关注公众号，点击菜单栏【**一模二模**】→【**二模试题**】，即可**免费获取**全部二模试题及答案，欢迎大家下载练习！

还有更多**二模成绩、排名、赋分**等信息，考后持续分享！



微信搜一搜

北京高考资讯

A screenshot of the WeChat public account interface for '北京高考资讯'. On the left, a vertical menu has '二模试题' (Second Mock Exam Questions) highlighted with a red box and a red arrow pointing to it. Other menu items include '一模试题', '高考真题', '期中期末', and '各省热门试题'. In the center, there is a QR code with the text '识别二维码查看下载北京各区二模试题&答案' (Scan the QR code to view and download Beijing's second mock exam questions and answers). At the bottom, a navigation bar has '一模二模' (First and Second Mock Exams) highlighted with a red box. On the right side of the screenshot, there is an illustration of a student sitting at a desk with books, and several callout boxes with text: '这里有最新热门试题' (Here are the latest popular exam questions), '考后最快更新分享' (Fastest updates and sharing after the exam), and '北京高考资讯' (Beijing Gaokao Information).