

## 丰台区 2019 年高三年级第二学期综合练习（二）

### 文科综合

本部分共 35 小题，每小题 4 分，共 140 分。在每小题列出的四个选项中，选出最符合题目要求的一项。

2019 年 3 月 24 日，国家主席习近平抵达法国尼斯，对法国进行国事访问。图 1 为法国地形图。读图，回答第 1、2 题。

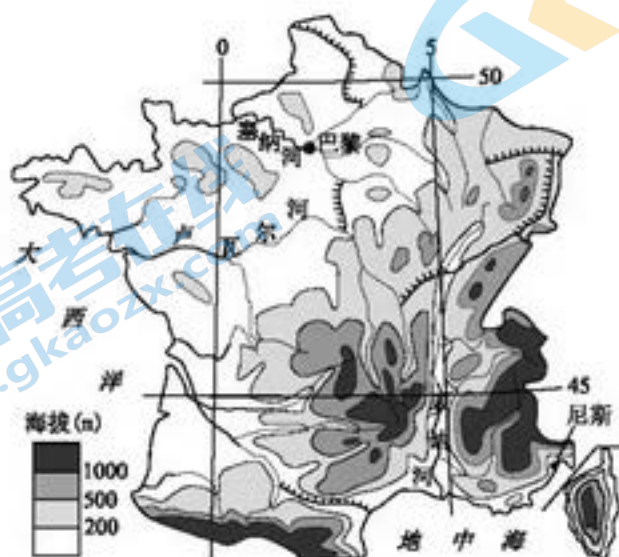


图 1

1. 该日，巴黎比尼斯  
A. 正午太阳高度大    B. 自转速度快    C. 日出较晚    D. 白昼略短
2. 法国  
A. 地形类型多样，以高原盆地为主  
B. 终年受盛行西风控制，温和多雨  
C. 罗纳河下游有凌汛现象，夏季径流量大  
D. 建运河连接河流，沟通大西洋和地中海

图 2 为 1987~2010 年间淮河流域初霜日为 11 月 8 日、终霜日为 4 月 1 日的位置示意图。读图，回答第 3、4 题。

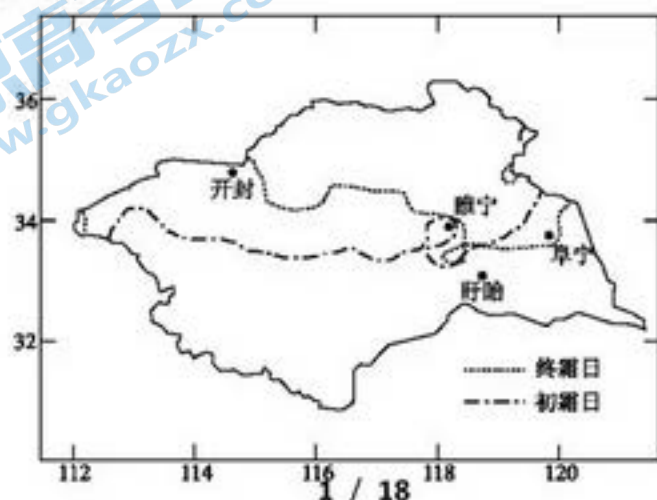


图 2

3. 1987~2010 年间

- A. 开封初霜日多晚于 11 月 8 日  
C. 阜宁年平均有霜日数在 200 天以上

- B. 睢宁终霜日多早于 4 月 1 日  
D. 盱眙地势低平，终年无霜

4. 淮河流域出现霜降现象的可能原因有

- ①东临黄海，水汽充足  
②较低纬度暖气团北上，增温增湿  
③晴朗少云，大气透明度高  
④较高纬度冷气团南下，气温下降

- A. ①②  
B. ①③  
C. ②④  
D. ③④

“地膜覆盖，秸秆深埋”是我国河套灌区的一种土壤改良技术。据此，回答第 5 题。

5. 该技术可以

- A. 促进土壤表层空气流通  
B. 控制土壤中的含盐量  
C. 防止外力对土壤的侵蚀  
D. 增加土壤中的矿物质

图 3 示意我国甲山峰与乙山峰垂直自然带谱。读图，回答第 6、7 题。

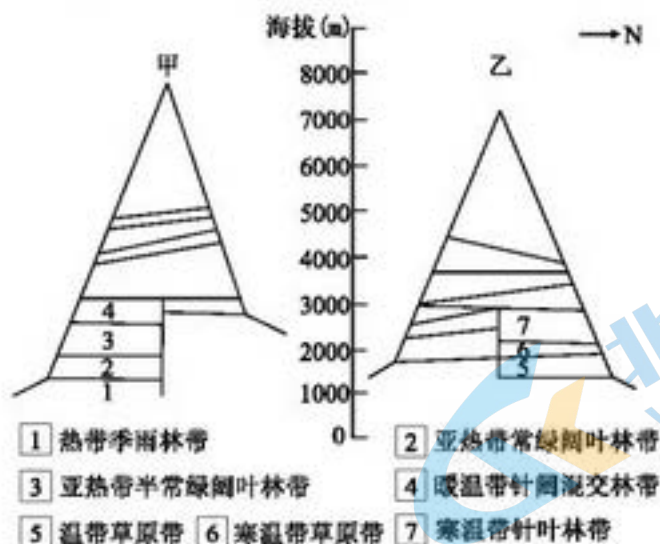


图 3

6. 海拔 3000 米以下，影响甲峰南坡与乙峰北坡垂直自然景观差异的主要因素分别是

- A. 热量 水分  
B. 地势 光照  
C. 湿度 温度  
D. 地形 降水

7. 甲峰南麓、乙峰北麓农业发展的主要方向是

- ①甲峰南麓以林业为主  
②乙峰北麓以牧业为主  
③两地区以种植业为主  
④两地区以混合农业为主

- A. ①②  
B. ①④  
C. ②③  
D. ③④

2018 年 4 月，“环西部火车游”旅游专列推出兰州—天水、兰州—敦煌等 6 条精品旅游线路，将景点、游客、旅行社融合起来，中国铁路正式进入“火车服务+”的新时代。读图

4. 回答第 8、9 题。



图 4

8. 开通“环西部火车游”旅游专列可以
- ①提高列车运行速度，加强区域之间的文化交流
  - ②提升游客旅游体验，增强乘火车出行的吸引力
  - ③进一步挖掘陕、甘两省区境内的旅游资源潜力
  - ④推动地方经济发展和跨区域相关行业互利共赢

A. ①②

B. ①③

C. ②④

D. ③④

9. 游客沿陇南环线可欣赏的景观是



A



B



C



D

苏州工业园区是我国一流高科技园区。图 5 为不同时期苏州中心城区形态格局演变示意图。读图，回答第 10、11 题。



图 5

10. 苏州中心城区

- A. 地域空间先向南北拓展而后向东西延伸
- B. 形态演变主要受地形和河湖水系的影响
- C. 三个阶段的形态格局演变示意图比例尺相同
- D. 城市内部空间结构演变受城市发展定位影响

11. 工业园区的建设发展有利于苏州市

- A. 调整农业结构
- B. 人口均衡分布
- C. 二、三产业融合
- D. 改变城市职能

12. 图 6 为考古学家在甘肃、陕西等地发掘的大量“铅饼”之一，正面雕刻有象征皇权威严的蟠螭，背面刻有希腊字母和汉代印戳。专家推断可能是希腊化的中亚西亚地区的货币。由此可知汉代

- A. 已开通到达地中海的直接商路
- B. 丝绸之路促进了中外经贸往来
- C. 外贸成为财政收入的主要来源
- D. 海上对外交通到达非洲东海岸



图 6

13. 宋代民间私学兴盛，官方教育机构也对平民阶层开放，还出现了以讲书赚钱为职业，不以科举进仕为目标的专职教师。下列对此认识正确的是

- A. 工商皆本思想推动社会变迁
- B. 国家统一安定促进文化繁荣
- C. 科举制度创立推进教育发展
- D. 商品经济发展促进文化下移

14. 永乐初年规定“入内衙者皆编、检、讲读之官，不置官属，不得专制诸司”，永乐中期内阁兼管六部尚书，明后期又规定全国大小奏章，由阁臣草拟处理意见，呈报皇帝批准。这说明

- A. 内阁权力逐步增大
- B. 宰相行政权力被瓜分
- C. 内阁拥有批红权力
- D. 君主专制达到了顶峰

15. 下表对中国古代科技解释正确的是

选项	史实	结论
----	----	----

A	《甘石星经》记载了 120 多个恒星的位置	夏商时期天文学领域成就突出
B	《九章算术》论述田亩面积等的计算方法	形成了以实验为基础的数学体系
C	《齐民要术》介绍豆、麦、谷类种植技术	总结了北方农业的生产经验
D	《本草纲目》按无机、植物、动物排序分类	全面总结 19 世纪中医治疗学成就

16. 从“师夷长技”到“民主科学”，近代中国在向西方学习的道路上不断探索。下列学习行为与图 7 中序号对应正确的是

- A. 洪仁玕在①起草了《资政新篇》
- B. 李鸿章在②创办江南制造总局
- C. 康有为在③组织领导公车上书
- D. 陈独秀在④发表了《敬告青年》



图 7

17. 中国共产党在某次会议上批评了教条主义错误，肯定了符合中国革命实际的战略战术。在中共历史上首次自觉运用马克思主义基本立场、观点、方法解决中国民主革命面对的问题。这次会议

- A. 纠正了党内存在的右倾主义错误  
B. 做出了实行改革开放的重大决策  
C. 提出综合平衡中稳步前进的方针  
D. 标志中国共产党从幼稚走向成熟

18. 1979年元旦，全国人大常委会发表《告台湾同胞书》，提出统一为大势所趋、人心所向，并提出了结束两岸军事对峙、开放三通等方针。《告台湾同胞书》发表的意义在于

- ①标志着中国大陆对台政策发生重大转变 ②为结束两岸军事对峙创造必要的前提  
③为“一国两制”方针的形成奠定了基础 ④大陆承诺采用和平方式解决台湾问题

- A. ①②③ B. ①②④ C. ①③④ D. ②③④

19. 16世纪欧洲上演的一部戏剧中，女主人公鲍西亚曾发出感叹：“一个活着的女儿的意志，却要一个死了的父亲的遗嘱所钳制”，但“年轻人是一头不受拘束的野兔，会跳过老年人所设立的理智的藩篱。”这部作品

- A. 标志着现实主义文学的发端  
B. 彰显了作者理性主义的精神  
C. 反映了欧洲的人文主义思想  
D. 体现了浪漫主义的文学风格

20. 图8为某同学在学习西方近代民主政体时制作的政权结构示意图。该图能够说明

- A. 英国以责任内阁制为核心  
B. 美国践行了三权分立原则  
C. 法国确立了民主共和政体  
D. 德国具有专制主义的色彩

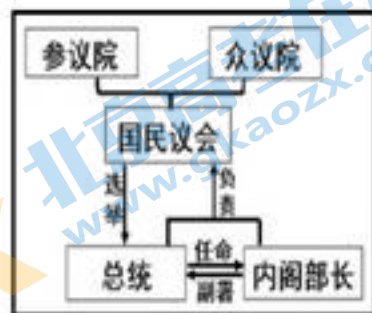


图8

21. 马克思指出：资本主义世界市场的形成，“使一切生产和消费都成为世界性的了，民族的片面性和局限性日益成为不可能……它使未开化和半开化的国家从属于文明的国家，使农民的民族从属于资产阶级的民族，使东方从属于西方。”马克思

- A. 全面地论述了阶级斗争的观点  
B. 辩证评价资本主义世界市场的影响  
C. 否定了第一次工业革命的成果  
D. 科学分析了新航路开辟的积极作用

22. 1949年,美国总统杜鲁门发表演说,提出了“技术援助和开发落后地区”的计划,他认为美国的援助“是对共产主义最强烈的消毒剂”“发展这些国家将使我国工厂的生意永远兴隆。”该计划意在

- ①与苏联对抗,推动美国全球霸权战略实施
- ②争夺全球商品市场、原料产地、投资场所
- ③给予落后国家技术援助,帮助其恢复经济
- ④通过技术输出,以防止新的经济危机发生

A. ①②      B. ①③      C. ②③      D. ②④

23. 下表为一部世界伟人传记的部分目录。该传记的主人公是

目录	
第8章	“非常革命”的光量子
第10章	时空理论的变革
第18章	“在疯人院”——普鲁士的和平主义者
第25章	犹太人、犹太复国运动和美国之行

A. 伽利略      B. 牛顿      C. 普朗克      D. 爱因斯坦

24. 2019年中国北京世界园艺博览会汇集了世界各国的精品园艺,展示出园艺、城市、自然与人类和谐相融的画卷,呈现出世界范儿、中国风的全球园艺盛宴,阐释了“让园艺融入自然 让自然感动心灵”的办会理念。由此可知

- ①各国园艺文化在园艺博览会中各美其美、美美与共
- ②中国园艺具有其他国家园艺不可比拟的优越性
- ③徜徉于世界园艺博览会人们潜移默化地受到熏陶
- ④举办园艺博览会是促进园艺创新发展的根本途径

A. ①②      B. ①③      C. ②④  
D. ③④



Expo 2019  
BEIJING CHINA

25. “大国工匠 2018 年度人物”颁奖典礼透过一个个感人至深的故事，挖掘中华民族共有的精神财富，生动诠释了习近平总书记强调指出的“劳动最光荣、劳动最崇高、劳动最伟大、劳动最美丽”这一宏大主题。国家举行隆重盛大的“大国工匠”颁奖典礼有利于

- ①先进文化在一定条件下对人们工作和生活起决定作用
- ②树立正确舆论导向，促进党牢牢掌握意识形态工作领导权
- ③发挥先进人物的榜样作用，为社会主义凝魂聚气、强基固本
- ④奏响主旋律，充分展现中国人民是具有伟大奋斗精神的人民

A. ①②③

B. ①②④

C. ①③④

D. ②③④

26. 浩瀚星空中，黑洞是极神秘又惹人遐思的天体。从爱因斯坦的广义相对论率先预言黑洞的存在，到惠勒提出“黑洞”概念，再到霍金提出“黑洞是时空的扭曲者”……现





该规划的出台过程表明

- ①公民决策权的充分行使提高了决策的民主性
- ②北京城市副中心建设要始终坚持党的全面领导
- ③建设北京城市副中心是建设法治中国的必然要求
- ④北京市人大在规划的出台过程中行使了监督权

- A. ①②                      B. ①③                      C. ②④  
D. ③④

31. 伴随着我国人民生活水平的进一步提高，家庭私家车的保有量不断增长，随之而来的“停车难”问题成为了不少老旧小区的痛点，给居民生活带来了诸多不便。解决老旧小区“停车难”问题考验着管理者的智慧，下列属于居委会合理做法的是

- A. 优化停车泊位，实现电子收费
- B. 召开居民会议，引导居民文明停车
- C. 加大对违章停车问题的处罚力度
- D. 占用小区绿地改建“立体式”停车场

32. 下表是我国征信行业发展历程。

2003年3月	十届全国人大一次会议审议通过《政府工作报告》，强调“加快建立社会信用体系”
2006年4月	“中国人民银行征信中心”成立，专门负责企业和个人征信系统的建设、运行和维护
2015年1月	中国人民银行印发《关于做好个人征信业务准备工作的通知》，八家民营企业进入个人征信市场，其信用报告评分也将影响到个人租车买房子等
2015年10月	国家发展改革委牵头、国家信息中心承建的全国信用信息共享平台上线运行。三年来信用信息从最初不到2000万条提升到超过259亿条
2019年3月	中国人民银行召开全国征信工作电视电话会议，重点围绕小微企业和三农等普惠性金融中的征信服务问题，增加征信的有效供给，强化信用联合惩戒和征信监管

纵览征信发展历程，可以看出

- ①加强征信管理有利于完善征信市场，优化营商环境
- ②加强征信管理有利于防范信用风险，降低交易成本
- ③征信体系的构建是实现市场经济发展最有力最现实的激励机制
- ④征信能够从根本上约束企业和个人行为，形成良好的社会信用环境

- A. ①②                      B. ①③                      C. ②④  
D. ③④

33. 2019年3月,国务院总理李克强在发布的《政府工作报告》中提出,要在全中国实行“携号转网”。例如持有中国移动号码的手机用户,可以原号转入中国电信网或中国联通网。对于“携号转网”的影响,下列预测与其经济学依据对应正确的有

- ①运营商降低宽带资费,提供更优化套餐服务——价格竞争决定企业未来发展前景
- ②运营商提高网络覆盖广度深度,提升用户体验——市场竞争有利于行业优化发展
- ③消费者在各大运营商间自由切换享受服务——收入水平的提高要求提高消费品质
- ④相关部门敦促携号转网福利的切实落地——市场调节的不足需要科学的宏观调控

A. ①②                      B. ①③                      C. ②④                      D. ③④

34. 图13描述的是甲商品的价格变化与乙商品的需求量变化之间的关系。在其他条件不变的情况下,下列描述正确的是

- ①非洲猪瘟爆发,猪肉价格的变化和牛肉需求量变化的关系符合D1
- ②非洲猪瘟爆发,猪肉价格的变化和牛肉需求量变化的关系符合D2
- ③汽车关税降低,进口汽车价格的变化和国产汽车需求量变化的关系符合D1
- ④汽车关税降低,进口汽车价格的变化和国产汽车需求量变化的关系符合D2

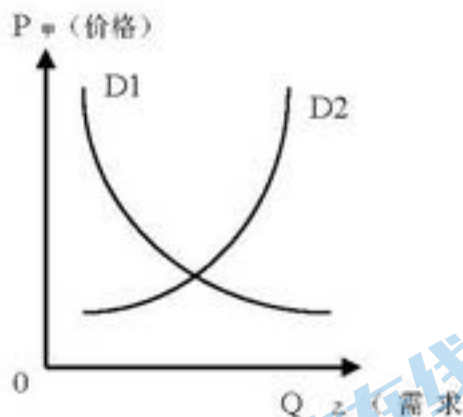


图13

A. ①③                      B. ①④  
C. ②③                      D. ②④

35. 下列选项中经济学家与其经济思想或政策主张对应正确的是

选项	经济学家	经济思想或政策主张
A	斯密	主张取消政府对经济活动的 <b>所有</b> 干预,充分发挥市场作用
B	李嘉图	各国依据绝对成本优势生产商品,然后通过对外贸易,用自己生产的东西交换本国需要而由他国生产的东西,从中获得好处
C	马克思	具体劳动创造出各种各样的使用价值,抽象劳动是价值的唯一源泉。具体劳动和抽象劳动是生产商品的两次劳动
D	凯恩斯	由于边际消费倾向递增、资本边际效益递增和流动偏好三大心理规律,引发有效需求不足,最终导致资本主义经济危机

36. (36分) 图14为我国局部地区等高线地形图(单位:m)。读图,完成下列问题。

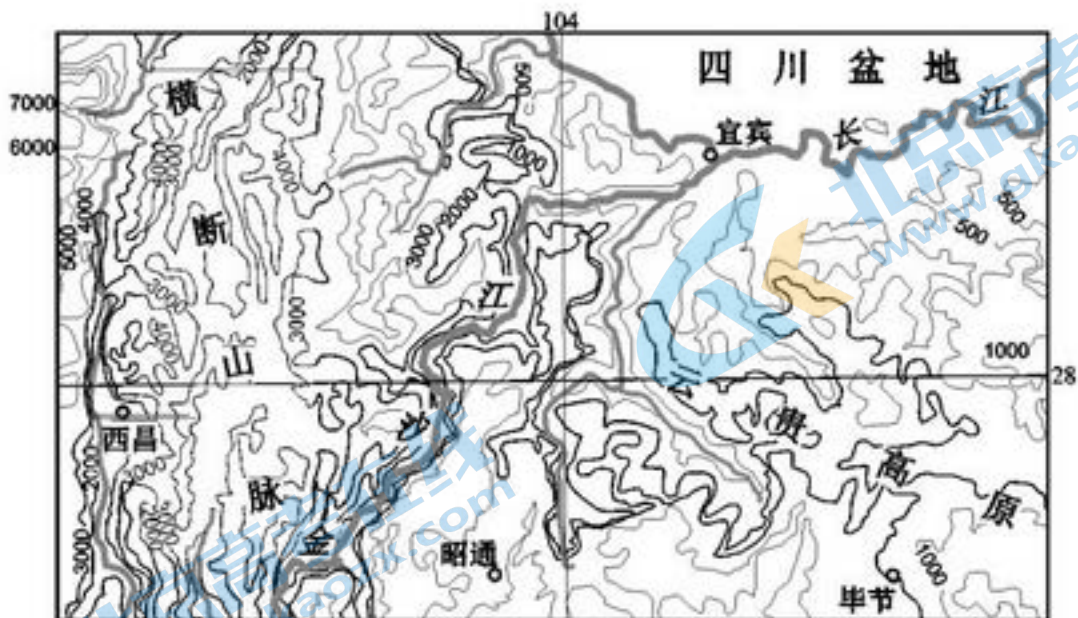


图14

- (1) 金沙江谷地为干热河谷,从地形与大气环流的角度分析其成因。(8分)
- (2) 西昌素有小“春城”之称,冬暖夏凉,四季如春,分析西昌有小“春城”之称的原因。(10分)
- (3) 图中城市对外交通方式多以航空运输为主,简述其原因。(8分)
- (4) 近年来图示区域生态环境明显改善,简述其对区域河流的影响。(10分)

37. (36分) 救贫济困 共建共享

材料一 民惟邦本,本固邦宁。固本之道,在于安民,安民之道,在于足衣食。

——北宋理学家程颢

救助法令、机构	救助情况
贡士庄、贡士库、义田	为寒门学子赴考提供基本生活所需和旅资,资助贫困学子甚至其后人的生活
广惠仓、常平仓	政府对“老幼贫乏不能自存者”提供救济
惠养乞丐法、安济坊	政府收容无业流浪人员
居养令、居养院	政府收容城乡鳏寡孤独疾病残废人员
助葬之法、漏泽园	安葬贫困无依或无主死者
同业互助	城市工商业同行业经营者之间互助
街区救助	工商富室对所在街区的贫乏之人“随时有所资给”

——依陈国灿《宋代城市的社会救助》等编制

- (1) 依据材料,概括宋代社会救助的特点。结合所学,分析这些特点形成的原因。(10分)

材料二 20 世纪 30 年代美国通过一系列法案，改变了过去由民间团体自助自救或由慈善团体提供救助的传统。法令规定联邦政府授予各州老年资助费、老年救济金、失业补助金、儿童补助款、妇幼福利补助费等；失业保险由工人和雇主各交付相当于工人工资 1% 的费用，剩余部分由联邦政府拨付；使用联邦资金清理贫民窟，建设低费用住房，在 37 个城市提供 2.16 万套住房和 1.5 万套迁居工程；联邦政府为佃农、劳工及分成制农民提供为期 40 年的年息 3% 的购房贷款。法案对救助对象设置了各类与种族高度相关的职业和身份限制。在执行时，各州往往偏向白人，例如住房贷款 98% 都给了白人，全国超过 65% 的黑人被新法案排除在外，在南部某些地区达到了 80% 以上。

——摘编自黄安年《美国政府的住房福利保障政策》、李庚《种族隔离阴霾下的罗斯福新政》等

(2) 依据材料，概括 20 世纪 30 年代美国社会救济措施。你如何看待这些措施，结合所学进行说明。(12 分)

材料三 19 世纪中期以来，西方的政治经济学说纷至沓来，儒家思想主导地位受到削弱，传统救济思想发生蜕变。以薛福成、郑观应、王韬为代表的思想家逐渐认识到中国贫穷之因在于实业不振，养民无术。他们认为民富才能国富，才可以备水旱之灾，进而提出了“通商互利”“富国养民”“以教代养”（教授生产技艺以获得谋生手段）等和救贫济困相结合的思想。

民国时期伴随工业化发展，传统经济结构破坏和社会动荡，大量农民和城市平民破产，如何吸纳大量失业人口成为近代化的新课题。民国思想界认为传统的宗族救济不利于大众福利，主张构建新的救济制度，将实现民生主义作为理想社会的奋斗目标。他们认为“国家为人民聚集而成，政府乃由人民组织，人民有所困苦，则应加以救济。”他们还主张改变以小农经济为基础的社会救济方式，使社会救济建立在近代工业基础上。

新中国建立了人民当家作主的政权。新政权受马克思主义社会保障思想的影响，将满足社会成员社会福利需求，促进社会公平作为救济工作的目标，把恢复和发展生产作为促进社会救济的必备前提和基础，借鉴苏联以国家为主导的社会救济模式。政府还认识到小农经济的脆弱性，积极倡导互助合作，为后来的合作社运动做了有益的铺垫。

——摘编自蔡勤禹《试论中国近代社会救济思想》、蔡士文《建国初期中国共产党社会救济的理论与实践》

(3) 依据材料并结合所学，对近代以来中国社会救济思想的演变进行解读。(14 分)

38. (34 分) 改革再出发，进一步全面推动高质量发展。

【紧日子有意义，好日子有滋味】

“足国之道，节用裕民”。党和政府过紧日子，意味着精打细算，把钱花在刀刃上，把更多“真金白银”投入到高质量发展和民生事业上来，让人民群众更多分享改革发展成果。“紧日子”彰显了党和政府为民的初心，“好日子”是百姓生活的幸福味道。政府会过“紧日子”，让老百姓的“好日子”更有奔头，让国家发展的“大图景”和千家万户的“小目标”交相辉映，画出最大同心圆。

(1) 运用所学哲学知识阐释如何处理“紧日子”与“好日子”之间的关系。(8 分)

### 【落实群众路线，书写满意答卷】

翻开今年的政府工作报告，一边是减轻企业税收和社保缴费负担近 2 万亿元、数十项惠民举措等众多利好，一边是中央财政一般性支出压减 5% 以上、“三公”经费再压减 3% 左右等安排。一边是政府的“减法”，一边是民生的“加法”，生动诠释了党和政府过“紧日子”和老百姓分享改革发展成果“好日子”之间的辩证关系。

(2) 结合《政治生活》相关知识，谈谈如何理解党和政府为了百姓的“好日子”要过“紧日子”。(10 分)

### 【助力经济增长，添彩美好生活】

#### 材料一



图 15




图 16

(3) 解读材料一反映的经济信息。(4 分)

材料二 2019 年，中国消费市场有望跨入 6 万亿美元，并有可能成为世界第一大消费市场。消费是经济增长的主要动力，也是人民群众美好生活需要的直接体现。要抓紧实施促进消费的一揽子政策，增强消费对经济高质量发展的基础性作用。

材料三 进入 2019 年，哪些行业有机会成为新的消费增长点？图 17 是消费升级热点关键词生成的词云图。



图 17

(4) 阅读材料，运用《经济生活》相关知识分析如何助力消费增长添彩美好生活。(12 分)

39. (10分) “湖山冰玉明，楼阁丹青焕。”2022年冬奥会奥组委办公楼落户首钢园区，首钢实现从百年钢铁巨人向文化创意巨人的转型。

首钢改造期间经历了三次转身：最传奇的转身——西十筒仓改建成奥组委办公楼；最诗意的转身——凉水塔改造成大跳台；最优雅的转身——高炉改建成博物馆。首钢工业园

区改造是对宝贵工业遗迹的保存，同时也展示了北京在疏解非首都功能进程中的卓著成就，它带动了园区周边地块产业的连锁反应发展和品质提升，为非首都核心功能外迁后工业转型带来的社会问题的解决提供了一种新的思路 and 探索，也成为国内其他钢铁厂改造的示范模板。

结合材料，运用《文化生活》知识，以“工业记忆·文化传承·城市更新”为主题写一篇 150 字左右的短文。（10 分）

40. （18 分）工业化是当代世界历史发展的趋势。20 世纪以来，俄国对经济建设进行了不断的探索。

1928 年—1937 年，苏联政府投入巨资，开发西伯利亚。到 1937 年，西伯利亚生产了约 20 亿度电，开采了 2840 万吨煤炭，冶炼出 147 万吨生铁和 163 万吨钢，仅乌拉尔—库兹涅茨克煤炭冶金联合企业的钢铁产量就占全苏总产量的 1/3，煤炭产量占总产量的 1/4，发电量占总发电量的 1/6，西伯利亚成为苏联工业发达地区之一。在此期间，西伯利亚的轻工产量仅增加 2.5 倍，1937 年谷物总产量比一战前增加 1.3 倍。

——摘编自李丽《斯大林时期苏联西伯利亚开发探析》

（1）依据材料，概括 20 世纪 30 年代西伯利亚地区经济发展特点，结合所学分析原因。（8 分）

近年来，俄罗斯林产工业发展较快，木材产量大，以出口为主，其出口的 50% 以上是原木等低附加值产品。俄罗斯是世界上最大的原木出口国，国内人均木材消费量远低于欧盟。

（2）列举俄罗斯政府促进林产工业进一步发展可采取的措施。（10 分）

41. （26 分）建设粤港澳大湾区是贯彻落实新发展理念的新典范。

嘉靖三十三年（1554 年），明政府允许葡萄牙人入广州城贸易，“广州交易会”开始。葡萄牙人从欧洲带来毛织品，从印度运来琥珀、珊瑚、象牙、胡椒等。他们携带大量白银，每年从中国购买约 5300 箱丝绸、2500 锭黄金、800 镑麝香和大量的珍珠宝石、糖、瓷器等物品。嘉靖三十八年，海寇犯潮，明政府下令禁止葡萄牙人入广州贸易，交易会中断。隆庆末年明政府再次开放“广州交易会”，崇祯十三年（1640 年）明政府正式宣布关闭广州市场。

——汤开建 严中明《明中后期广州交易会始末考》，樊树志《晚明大变局》

（1）依据材料，简述明代“广州交易会”的特点，结合所学，分析明政府关闭“广州交易会”的影响。（8 分）

世界湾区的建设既有共同的一般规律也有各自特色。改革开放以来，特别是香港、澳门回归祖国后，粤港澳合作不断深化，粤港澳大湾区经济实力、区域竞争力显著增强，已具备建成国际一流湾区和世界级城市群的基础条件。2019 年 2 月《粤港澳大湾区发展规划纲要》正式公布，对粤港澳大湾区的战略定位、发展目标、空间布局等方面做了全面规划，将其战略定位为充满活力的世界级城市群，具有全球影响力的国际科技创新中心，“一带一路”建设的重要支撑、内地与港澳深度合作示范区和宜居宜业宜游的优质生活圈。



(2) 结合材料，从辩证唯物论的角度分析粤港澳大湾区的战略设计。(8分)

国家环境保护模范城市肇庆市是一座有 2200 多年历史的国家历史文化名城，但经济发展在粤港澳大湾区中却明显滞后。如今，肇庆市正充分利用自身优势加快融入大湾区一体化发展。读图 18，回答第 (3) 题。

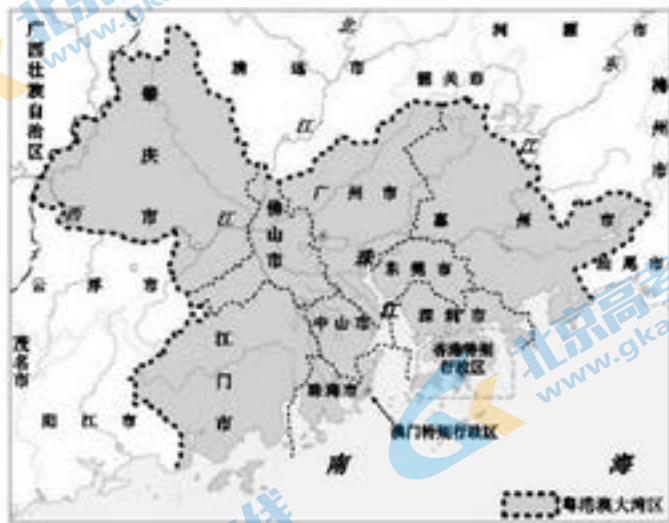


图 18

(3) 概述肇庆市发展的优势地理条件。(10分)

丰台区 2018~2019 学年度高三年级第二学期统一练习（二）

文科综合能力测试参考答案

2019.05

第一部分共 35 小题，每小题 4 分，共 140 分

1	2	3	4	5	6	7	8	9	10
C	D	B	D	B	A	A	C	B	D
11	12	13	14	15	16	17	18	19	20
C	B	D	A	C	B	D	A	C	C
21	22	23	24	25	26	27	28	29	30
B	A	D	B	D	B	C	A	D	C
31	32	33	34	35					
B	A	C	B	A					

第二部分共 6 小题，共 160 分

36. (36 分)

- 金沙江谷地以西是南北纵列分布的横断山脉，以东是云贵高原，阻挡夏季风；金沙江谷地位于夏季风的背风坡，气流下沉，温度升高，湿度减少。
- 夏季受暖湿西南季风影响，多阴雨，对太阳辐射的削弱作用较强；地处横断山脉，海拔较高，夏季较凉爽。纬度较低，位于谷地，有高大山地阻挡北方冷空气南下，冬季较温暖。
- 伴随经济发展，对外联系需求量增大；地形地质条件复杂，地质灾害多发，高速公路和铁路交通设施建设难度大、成本高；航空运输速度快，可提高运输效率。
- 减少河流含沙量，改善水质，减轻河流淤积；流量季节变化幅度减小，河水泛滥频率降低。

37. (36 分)

(1) 特点：有立法与专门机构；政府救助与民间救助相结合，救助形式多样；面向不同层面的救助对象。(4 分)

原因：宋代民族政权并立土地兼并严重，社会矛盾尖锐；工商业的发展；理学思想发展。(6 分)

(2) 措施：发放救助金；提供保险；加强住房保障；低息贷款；(4 分)

看待：(历史地) 30 年代政府开展救济工作反映了美国在经济危机的打击下，政府加强对经济的干预。(辩证地) 政府对失业者、老人、儿童等的救济，为低收入者解决住房问题，提供低息贷款，促进经济恢复，有利于稳定社会秩序。但是，救助法案中种族歧视

的内容是社会不公的体现。战后西方发达国家在此影响下，建立起比较完善的社会保障制度。（6分）

30年代美国政府的社会救济一定程度上缓解了社会矛盾，但仍需继续完善。（2分）

（3）解读：晚清时期，随着西方思想的传入和民族资本主义的产生，一些思想家从国家富强的角度思考救济问题，倡导发展实业，把救国与济困相结合，丰富了社会救济思想，但并没有提出具体的救济措施。（4分）

中华民国建立后，社会动荡，经济调整，出现大量失业人口。随着民族资本主义进一步发展，在三民主义和实业救国思想影响下，思想界提倡打破原有宗族救济模式，实施政府救济、关注大众福利。丰富了社会救助思想，有利于资本主义的发展。（4分）

新中国成立，人民民主政权建立，马克思主义进一步发展，倡导以国家为主导兼有互助合作的救济模式，注重社会公平，加强了社会稳定，恢复了生产，巩固了新生政权，为社会救济提供了新模式。（4分）

综上所述，近代以来中国在传统儒家济事、民本思想的基础上吸收和学习西方思想，社会救济思想不断丰富，逐步走出传统思想的束缚，向国家主导、关注大众、关注公平方向发展，创造性地提出了多样的救济途径，促进了社会的稳定和发展。（2分）

38.（34分）

（1）（8分）“紧日子”与“好日子”体现了对立统一的关系，“紧日子”彰显了党和政府为民的初心，“好日子”是百姓生活的幸福味道，政府过“紧日子”是为了人民的“好日子”；政府应在工作中坚持正确的价值观，自觉站在人民群众的立场上，把更多“真金白银”投入到高质量发展和民生事业上来，让人民群众更多分享改革发展成果；坚持用联系的、发展的眼光看问题，政府会过“紧日子”，老百姓的“好日子”才更有奔头。（言之有理，可酌情给分）

（2）（10分）我国是人民民主专政的社会主义国家，其本质是人民当家作主。党和政府带头过紧日子，目的是为老百姓过好日子，这是我们党和政府的宗旨与性质所决定的。为此，政府要坚持对人民负责各工作原则，求真务实；转变职能，简政放权；自觉接受监督，切实做到过好“紧日子”，为百姓谋幸福。作为执政党要全面从严治党，贯彻群众路线，提高党的执政能力，维护人民群众的根本利益。

（3）（4分）我国GDP尽管增速放缓，但总量持续增长。消费、投资、出口三大需求不同程度的拉动着经济的增长，其中国内消费对经济增长的贡献率最高。

（4）（12分）收入是消费的基础和前提。我们应该发展经济，提高居民当前收入水平，完善收入分配制度，健全社会保障体系等，提升消费信心；生产决定消费。通过供给侧改革，科技创新驱动，优化产品结构，提高产品质量，扩大优质产品和服务的供给，发展新零售新业态，培育新的消费热点，加快消费结构升级；随着生活水平的改善，人们的

消费理念也在发生变化。悦己消费、品质消费、个性化消费、绿色消费、智能消费等新型消费体验和消费需求在一定程度上也会促进消费。（言之有理，可酌情给分）

39.（10分）参考知识：文化的作用；文化的继承与发展；文化创新等

评分标准：

等级	等级描述
水平4 (9-10分)	观点鲜明，能明确表达自己的见解；紧扣问题，全面展开论述，或就某点深入分析；知识运用准确、贴切；逻辑严密，条理清晰
水平3 (6-8分)	观点比较明确，能表达自己的见解；能扣住问题展开论述，或能就某点分析；知识运用比较准确、贴切；逻辑性较强，有条理
水平2 (3-5分)	观点不明确；论述不能集中指向问题，罗列知识；知识运用不正确；论述缺乏逻辑，条理性差
水平1 (0-2分)	应答与试题无关；或重复试题内容；或没有应答

40.（18分）

（1）特点：政府主导优先发展重工业；整体发展迅速；重工业发展迅速，轻工业和农业发展相对缓慢。（4分）

原因：两个五年计划的实行；高度集中的政治经济体制形成；资本主义国家的包围和战争威胁，为巩固政权，发展国防，实行优先发展重工业战略。（4分）

（2）提供政策支持；完善相关法规，加强管理；鼓励高附加值产品的生产；加强林产工业科研投入，鼓励创新型产品的研发；鼓励企业拓展国内外市场。

41.（26分）

（1）依据材料概括广州交易会的特点，结合所学分析明政府对“广州交易会”政策的影响。

特点：受政策影响大；时断时续；进出口贸易量大、物品种类多。（4分）

影响：明朝政府的海禁政策，阻碍了中外经济交流，使中国失去了开辟海外市场的机会，造成了中国的落后。（4分）

（2）规律具有普遍性和客观性，世界湾区的建设有着一般规律，粤港澳大湾区的战略设计遵循了湾区建设的规律；物质决定意识要求我们一切从实际出发，粤港澳大湾区的战略设计本着实事求是的精神，在地域基础条件具备的实际情况上进行的科学规划；同时，粤港澳大湾区的战略设计也充分发挥了主观能动性，贯彻新发展理念，对粤港澳大湾区的战略定位、发展目标、空间布局等方面做了全面规划，将有力地推动粤港澳大湾区的建设。（8分）

(3) 肇庆市地处粤港澳大湾区的西北部，是大湾区连接大西南的门户，地理位置优越；土地面积大，价格较低；绿色生态宜居；历史文化底蕴厚重；经济发展潜力较大。