

北京市西城区 2022—2023 学年度第二学期期末试卷

高一数学

2023.7

本试卷共 6 页，共 150 分。考试时长 120 分钟。考生务必将答案写在答题卡上，在试卷上作答无效。

第一部分（选择题 共 40 分）

一、选择题共 10 小题，每小题 4 分，共 40 分。在每小题列出的四个选项中，选出符合题目要求的一项。

(1) 已知复数 $z=1+i$ ，则在复平面内 \bar{z} 对应的点在

- (A) 第一象限 (B) 第二象限
(C) 第三象限 (D) 第四象限

(2) 下列函数中，最小正周期为 π 且是偶函数的是

- (A) $y = \sin(x + \frac{\pi}{4})$ (B) $y = \tan x$
(C) $y = \cos 2x$ (D) $y = \sin 2x$

(3) 在 $\triangle ABC$ 中， $2a=b$ ， $C=60^\circ$ ， $c=\sqrt{3}$ ，则 $a=$

- (A) $\frac{1}{2}$ (B) 1
(C) $\sqrt{3}$ (D) $2\sqrt{3}$

(4) 某城市一年中 12 个月的月平均气温 y (单位 $^\circ\text{C}$) 与月份 x ($x=1, 2, 3, \dots, 12$) 的关系可近似地用

三角函数 $y = a + A \sin[\frac{\pi}{6}(x-3)]$ ($A > 0$) 来表示，已知月平均气温最高值为 28°C ，最低

值为 18°C ，则 $A=$

- (A) 5 (B) 10
(C) 15 (D) 20

(5) 复数 $z = \cos \alpha + i \sin \alpha$ ，且 z^2 为纯虚数，则 α 可能的取值为

- (A) 0 (B) $\frac{\pi}{4}$
(C) $\frac{\pi}{3}$ (D) $\frac{\pi}{2}$

(6) 已知直线 m ，直线 n 和平面 α ，则下列四个命题中正确的是

- (A) 若 $m \parallel \alpha$ ， $n \subset \alpha$ ，则 $m \parallel n$ (B) 若 $m \parallel \alpha$ ， $n \parallel \alpha$ ，则 $m \parallel n$
(C) 若 $m \perp \alpha$ ， $n \parallel \alpha$ ，则 $m \perp n$ (D) 若 $m \perp n$ ， $n \parallel \alpha$ ，则 $m \perp \alpha$

(7) 在平面直角坐标系中， O 为坐标原点， $P(1, -2)$ ， $Q(3, 4)$ ，则 $\cos \angle POQ =$

- (A) $\frac{\sqrt{5}}{3}$ (B) $\frac{\sqrt{5}}{5}$
(C) $-\frac{\sqrt{5}}{3}$ (D) $-\frac{\sqrt{5}}{5}$

(8) 已知等边 $\triangle ABC$ 的边长为 4， P 为 $\triangle ABC$ 边上的动点，且满足 $\overline{AP} \cdot \overline{AB} \leq 12$ ，

则点 P 轨迹的长度是

- (A) 7 (B) 9
(C) 10 (D) 11

(9) 已知函数 $f(x) = 2\sin(\omega x + \frac{\pi}{3})$ ($\omega > 0$)，则“ $f(x)$ 在 $[0, \frac{\pi}{3}]$ 上既不是增函数也不是减函数”

是“ $\omega > 1$ ”的

- (A) 充分不必要条件 (B) 必要不充分条件
(C) 充分必要条件 (D) 既不充分也不必要条件

(10) 已知点 A ，点 B ，点 P 都在单位圆上，且 $|AB| = \sqrt{3}$ ，则 $\overline{PA} \cdot \overline{PB}$ 的取值范围是

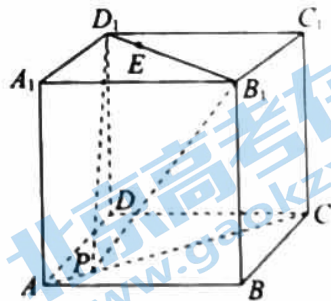
- (A) $[-\frac{1}{2}, \frac{3}{2}]$ (B) $[-1, 3]$
(C) $[-2, 3]$ (D) $[-1, 2]$

第二部分 (非选择题共110分)

二、填空题共5小题, 每小题5分, 共25分。

- (11) 已知复数 z 在复平面内所对应的点的坐标为 $(3, -4)$, 则 $\left| \frac{5}{z} \right|$ 为 _____.
- (12) 设向量 $\mathbf{a} = (1, 2)$, $\mathbf{b} = (4, x)$, 若 $\mathbf{a} \perp \mathbf{b}$, 则 $x =$ _____.
- (13) 已知圆柱的底面半径为 3, 体积为 $\frac{32\pi}{3}$ 的球与该圆柱的上、下底面相切, 则球的半径为 _____, 圆柱的体积为 _____.
- (14) 写出一个同时满足下列两个条件的函数 $f(x) =$ _____.
- ① $\forall x \in \mathbf{R}, f(x + \frac{\pi}{2}) = f(x)$;
- ② $\forall x \in \mathbf{R}, f(x) \leq f(\frac{\pi}{4})$ 恒成立.
- (15) 如图, 在棱长为 4 的正方体 $ABCD - A_1B_1C_1D_1$ 中, 点 P 是线段 AC 上的动点 (包含端点), 点 E 在线段 B_1D_1 上, 且 $D_1E = \frac{1}{4}B_1D_1$, 给出下列四个结论:

- ① 存在点 P , 使得平面 $PB_1D_1 \parallel$ 平面 C_1BD ;
- ② 存在点 P , 使得 $\triangle PB_1D_1$ 是等腰直角三角形;
- ③ 若 $PE \leq 5$, 则点 P 轨迹的长度为 $2\sqrt{7}$;
- ④ 当 $\frac{AP}{PC} = \frac{1}{3}$ 时, 平面 PB_1D_1 截正方体 $ABCD - A_1B_1C_1D_1$ 所得截面图形的面积为 18.



其中所有正确结论的序号是 _____.

三、解答题共6小题，共85分。解答应写出文字说明，演算步骤或证明过程。

(16) (本小题 13 分)

$$\text{已知 } \frac{\pi}{2} < \alpha < \pi, \sin \alpha = \frac{4}{5}.$$

(I) 求 $\tan \alpha$ 的值;

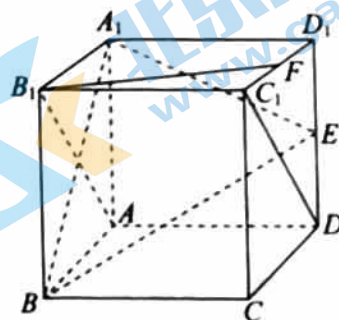
(II) 求 $\frac{\cos 2\alpha}{\cos(\alpha + \frac{\pi}{4})}$ 的值.

(17) (本小题 13 分)

如图, 在正方体 $ABCD-A_1B_1C_1D_1$ 中, E, F 分别是棱 DD_1, C_1D_1 的中点.

(I) 证明: $A_1B \perp$ 平面 ADC_1B_1 ;

(II) 证明: $B_1F \parallel$ 平面 A_1BE .



(18) (本小题 14 分)

已知在 $\triangle ABC$ 中, $a \cos B + b \cos A = 2c \cos A$.

(I) 求 A 的大小;

(II) 若 $c=4$, 在下列三个条件中选择一个作为已知, 使 $\triangle ABC$ 存在且唯一, 求 $\triangle ABC$ 的周长.

① $\triangle ABC$ 的面积为 $5\sqrt{3}$; ② $a = \sqrt{13}$; ③ AB 边上的高线 CD 长为 $\frac{\sqrt{3}}{2}$.

(19) (本小题 15 分)

已知函数 $f(x) = \sin(2x - \frac{\pi}{6}) + 2\cos^2 x - 1$.

(I) 求 $f(\frac{\pi}{6})$ 的值;

(II) 求函数 $f(x)$ 的单调递增区间;

(III) 若函数 $f(x)$ 在区间 $[0, m]$ 上有且只有两个零点, 求 m 的取值范围.

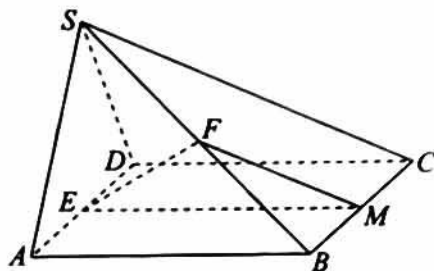
(20) (本小题 15 分)

如图, 在四棱锥 $S-ABCD$ 中, 平面 $SAD \perp$ 平面 $ABCD$, $SA=SD=AD=2$, 四边形 $ABCD$ 为正方形, E 为 AD 的中点, F 为 SB 上一点, M 为 BC 上一点, 且平面 $EFM \parallel$ 平面 SCD .

(I) 求证: $CD \perp SA$;

(II) 求证: M 为线段 BC 中点, 并直接写出 M 到平面 SCD 的距离;

(III) 在棱 SC 上是否存在点 N , 使得平面 $DMN \perp$ 平面 $ABCD$? 若存在, 求 $\frac{CN}{CS}$; 若不存在, 说明理由.



(21) (本小题 15 分)

对于定义在 \mathbf{R} 上的函数 $f(x)$ 和正实数 T , 若对任意 $x \in \mathbf{R}$, 有 $f(x+T) - f(x) = T$, 则称 $f(x)$ 为 T -阶梯函数.

(I) 分别判断下列函数是否为 1-阶梯函数 (直接写出结论):

① $f(x) = x^2$; ② $f(x) = x + 1$.

(II) 若 $f(x) = x + \sin x$ 为 T -阶梯函数, 求 T 的所有可能取值;

(III) 已知 $f(x)$ 为 T -阶梯函数, 满足: $f(x)$ 在 $[\frac{T}{2}, T]$ 上单调递减, 且对任意 $x \in \mathbf{R}$, 有 $f(T-x) - f(x) = T - 2x$. 若函数 $F(x) = f(x) - ax - b$ 有无穷多个零点, 记其中正的零点从小到大依次为 x_1, x_2, x_3, \dots

直接给出一个符合题意的 a 的值, 并证明: 存在 $b \in \mathbf{R}$, 使得 $F(x)$ 在 $[0, 2023T]$ 上有

4046 个零点, 且 $x_2 - x_1 = x_3 - x_2 = \dots = x_{4046} - x_{4045}$.

高一数学答案及评分参考

2023.7

一、选择题：本大题共 10 小题，每小题 4 分，共 40 分。

- (1) D (2) C (3) B (4) A (5) B
 (6) C (7) D (8) B (9) B (10) A

二、填空题：本大题共 5 小题，每小题 5 分，共 25 分。

- (11) 1 (12) -2 (13) 2, 36π
 (14) $|\sin 2x|$ (答案不唯一) (15) ①③④

注：第 13 题第一问 2 分，第二问 3 分；第 15 题全部选对得 5 分，不选或有错选得 0 分，其他得 3 分。

三、解答题：本大题共 6 小题，共 85 分。其他正确解答过程，请参照评分标准给分。

(16) (本小题 13 分)

解：(I) 因为 $\sin^2 \alpha + \cos^2 \alpha = 1$, $\sin \alpha = \frac{4}{5}$,1 分

所以 $\cos^2 \alpha = \frac{9}{25}$, $\cos \alpha = \pm \frac{3}{5}$3 分

又因为 $\frac{\pi}{2} < \alpha < \pi$, 所以 $\cos \alpha = -\frac{3}{5}$5 分

所以 $\tan \alpha = \frac{\sin \alpha}{\cos \alpha} = -\frac{4}{3}$7 分

(II) $\frac{\cos 2\alpha}{\cos(\alpha + \frac{\pi}{4})} = \frac{\cos^2 \alpha - \sin^2 \alpha}{\frac{\sqrt{2}}{2}(\cos \alpha - \sin \alpha)}$ 11 分

$= \sqrt{2}(\cos \alpha + \sin \alpha) = \frac{\sqrt{2}}{5}$13 分

(17) (本小题 13 分)

(I) 证明：因为 $ABCD - A_1B_1C_1D_1$ 为正方体，

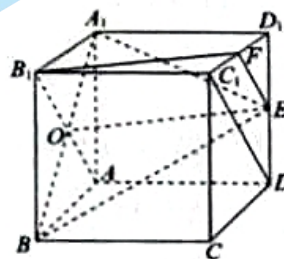
所以 $B_1C_1 \perp$ 平面 ABB_1A_1 .

因为 $A_1B \subset$ 平面 ABB_1A_1 ,

所以 $B_1C_1 \perp A_1B$2 分

因为 A_1ABB_1 为正方形，

所以 $A_1B \perp AB_1$,4 分



又因为 $B_1C_1 \cap AB_1 = B_1$ ，所以 $A_1B \perp$ 平面 ADC_1B_1 .

.....6分

(II) 设 $AB_1 \cap A_1B = O$ ，连接 OE .

因为 $ABCD - A_1B_1C_1D_1$ 为正方体，

所以 $B_1A \parallel C_1D$ ，且 $B_1A = C_1D$ ，

所以 $B_1O \parallel C_1D$ ，且 $B_1O = \frac{1}{2}C_1D$.

.....8分

因为 E, F 分别 DD_1, C_1D_1 的中点，

所以 $EF \parallel C_1D$ ，且 $EF = \frac{1}{2}C_1D$.

.....10分

所以 $EF \parallel B_1O$ ，且 $EF = B_1O$.

所以四边形 B_1OEF 为平行四边形.

所以 $B_1F \parallel OE$.

.....12分

又因为 $B_1F \not\subset$ 平面 A_1BE ， $OE \subset$ 平面 A_1BE ，

所以 $B_1F \parallel$ 平面 A_1BE .

.....13分

(18) (本小题 14 分)

解: (I) 由正弦定理 $\frac{a}{\sin A} = \frac{b}{\sin B} = \frac{c}{\sin C}$,

得 $\sin A \cos B + \sin B \cos A = 2 \sin C \cos A$.

.....2分

所以 $\sin(A+B) = 2 \sin C \cos A$.

.....4分

因为 $A+B+C = \pi$ ，所以 $\sin(A+B) = \sin C$ ，

.....5分

所以 $\sin C = 2 \sin C \cos A$.

因为 $C \in (0, \pi)$ ， $\sin C \neq 0$ ，

所以 $2 \cos A = 1$ ，即 $\cos A = \frac{1}{2}$.

.....6分

又因为 $A \in (0, \pi)$ ，所以 $A = \frac{\pi}{3}$.

.....7分

(II) 选择①

.....8分

因为 $S_{\triangle ABC} = 5\sqrt{3}$ ，即 $\frac{1}{2}bc \sin A = 5\sqrt{3}$ ，

.....9分

即 $\frac{1}{2} \times b \times 4 \times \frac{\sqrt{3}}{2} = 5\sqrt{3}$.

所以 $b = 5$.

.....10分

又因为 $a^2 = b^2 + c^2 - 2bc \cos A$ ，即 $a^2 = 25 + 16 - 2 \times 5 \times 4 \times \frac{1}{2}$ ，

.....12分

所以 $a = \sqrt{21}$.

.....13分

所以 $\triangle ABC$ 的周长为 $9 + \sqrt{21}$

选择③

因为 AB 边上的高线 CD 长为 $\frac{\sqrt{3}}{2}$, 即 $b \sin A = \frac{\sqrt{3}}{2}$

所以 $b = 1$

又因为 $a^2 = b^2 + c^2 - 2bc \cos A$, 即 $a^2 = 1 + 16 - 2 \times 1 \times 4 \times \frac{1}{2}$

所以 $a = \sqrt{13}$

所以 $\triangle ABC$ 的周长为 $5 + \sqrt{13}$

(19) (本小题 15 分)

解: (I) $f\left(\frac{\pi}{6}\right) = \sin \frac{\pi}{6} + 2 \cos^2 \frac{\pi}{6} - 1 = 1$

(II) $f(x) = \sin\left(2x - \frac{\pi}{6}\right) + 2 \cos^2 x - 1 = \frac{\sqrt{3}}{2} \sin 2x - \frac{1}{2} \cos 2x + \cos 2x$

$$= \frac{\sqrt{3}}{2} \sin 2x + \frac{1}{2} \cos 2x = \sin\left(2x + \frac{\pi}{6}\right)$$

由 $-\frac{\pi}{2} + 2k\pi \leq 2x + \frac{\pi}{6} < \frac{\pi}{2} + 2k\pi, k \in \mathbf{Z}$,

得 $-\frac{\pi}{3} + k\pi \leq x < \frac{\pi}{6} + k\pi$

所以 $f(x)$ 的单调递增区间是 $\left[-\frac{\pi}{3} + k\pi, \frac{\pi}{6} + k\pi\right] (k \in \mathbf{Z})$

(III) 因为 $x \in [0, m]$, 所以 $2x + \frac{\pi}{6} \in \left[\frac{\pi}{6}, 2m + \frac{\pi}{6}\right]$

依题意 $2\pi \leq 2m + \frac{\pi}{6} < 3\pi$

解得 $\frac{11\pi}{12} \leq m < \frac{17\pi}{12}$

所以 m 的取值范围为 $\left[\frac{11\pi}{12}, \frac{17\pi}{12}\right)$

(20) (本小题 15 分)

解: (I) 因为四边形 $ABCD$ 为正方形, 所以 $CD \perp AD$.

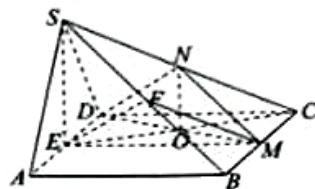
因为平面 $SAD \perp$ 平面 $ABCD$, 平面 $SAD \cap$ 平面 $ABCD = AD$, $CD \subset$ 平面 $ABCD$,
所以 $CD \perp$ 平面 SAD2分

又 $SA \subset$ 平面 SAD ,
所以 $CD \perp SA$4分

(II) 因为平面 $EFM \parallel$ 平面 SCD , 平面 $EFM \cap$ 平面 $ABCD = EM$,
平面 $SCD \cap$ 平面 $ABCD = CD$,
所以 $CD \parallel EM$,6分

又因为 E 为 AD 的中点,
所以 M 为线段 BC 中点.7分

M 到平面 SCD 的距离为 $\frac{\sqrt{3}}{2}$9分



(III) 存在, N 为 SC 中点.10分

连接 EC 、 DM 交于点 O , 连接 SE .

因为 $ED \parallel CM$, 并且 $ED = CM$,

所以四边形 $EMCD$ 为平行四边形, 所以 $EO = CO$.

又因为 N 为 SC 中点,

所以 $NO \parallel SE$11分

因为平面 $SAD \perp$ 平面 $ABCD$, 平面 $SAD \cap$ 平面 $ABCD = AD$,

又 $SE \subset$ 平面 SAD , 由已知 $SE \perp AD$,

所以 $SE \perp$ 平面 $ABCD$,12分

所以 $NO \perp$ 平面 $ABCD$,13分

又因为 $NO \subset$ 平面 DMN ,

所以平面 $DMN \perp$ 平面 $ABCD$14分

所以存在点 N , 使得平面 $DMN \perp$ 平面 $ABCD$, $\frac{CN}{CS} = \frac{1}{2}$15分

(21) (本小题 15 分)

解: (I) ① 否; ② 是.4分

(II) 因为 $f(x)$ 为 T -阶梯函数, 所以对任意 $x \in \mathbf{R}$ 有:

$$f(x+T) - f(x) = [x+T + \sin(x+T)] - (x + \sin x) = \sin(x+T) - \sin x + T.$$

.....6分

北京高一高二高三期末试题下载

京考一点通团队整理了【**2023年7月北京各区各年级期末试题&答案汇总**】专题，及时更新 最新试题及答案。

通过【**京考一点通**】公众号，对话框回复【**期末**】或者底部栏目<**高一高二**>**期末试题**>，进入汇总专题，查看并下载电子版试题及答案！

