

## 高二历史

2023.1

(考试时间 90 分钟 满分 100 分)

## 第一部分

本部分共 15 题,每题 3 分,共 45 分。在每题列出的四个选项中,选出最符合题目要求的一项。

1.《尚书·舜典》记载,舜制定了“五载一巡守,群后(诸侯)四朝。敷奏以言,明试以功,车服以庸(奖励)”的规定。后世属于这一制度继承与发展的有

- ①刺史                      ②上计                      ③察举                      ④封驳  
A. ①②                      B. ①③                      C. ②④                      D. ③④

2. 我国各朝代都有管理边疆民族和国外宾客的机构,下列朝代与机构对应正确的是

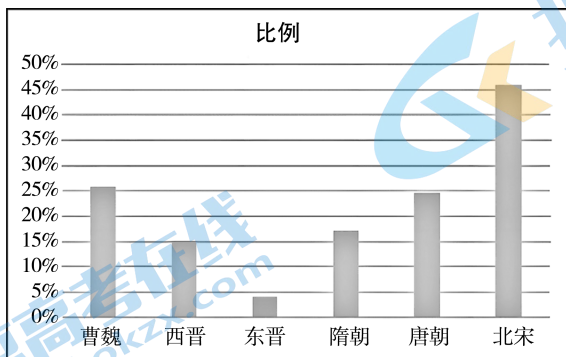
- A. 商朝——典属国                      B. 汉朝——理藩院  
C. 唐朝——鸿胪寺                      D. 清朝——宣政院

3. 下列变法或改革内容按时间排序正确的是

- ①“量地计丁,丁粮毕输于官。一岁之役,官为金募”  
②“民有二男以上不分异者,倍其赋”  
③“以变法为号令之宗旨,以西学为臣民之讲求”  
④“户无主客,以现居为簿,人无丁中,以贫富为差”

- A. ②①④③                      B. ②④①③                      C. ④②①③                      D. ①②③④

4. 下图是历代寒门子弟入仕比例的统计,对此解读合理的是



- ①九品中正制将选官权收归中央,导致两晋寒门子弟入仕比例降低  
②隋唐将科举制作为官员选拔新制度,使得寒门子弟比例不断上升  
③宋朝理学盛行和科举考试推动,寒门子弟入仕比例超过士族子弟  
④总体反映中国古代选官标准的变化,由重家世门第到重学识才能

- A. ①②                      B. ①④                      C. ②③                      D. ②④

5. 敦煌文献中的“官私文书”具有珍贵的史料价值。隋唐时期的文书中有大量关于“乡法”（民间习惯法）的记述,以及买地契、卖舍契、便贷契、雇工契、养男(女)契、放妻书、放良书等各种契约文书的书写样本(例见下框)。这说明当时

自雇已后,便须兢心造作。

——《戊子年(988年)梁户史汜三雇工契》

入作之后,比至月满,便须兢心,勿[存]二意。

——《后梁龙德四年(924年)敦煌乡百姓张么甲雇工契(样文)》

- A. 人身依附逐渐松弛  
B. 契约规范社会秩序  
C. 乡法取代国家法律  
D. 私有财产不可侵犯
6. 右图为任命方积蕃担任大理院(1906年,清政府改大理寺为大理院,民国沿用,属司法最高审判机关)刑庭推事的委任状。该史料可以用于研究

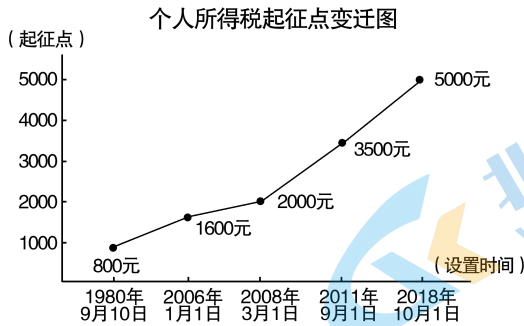


- A. 清末学堂选官制度  
B. 北洋政府文官制度  
C. 五权宪法运行机制  
D. 国民政府人事制度
7. 下列规定中,进一步巩固和扩大了抗日民族统一战线,加强了抗日民主政权建设的是
- A. “由中国国民党全国代表大会代表国民大会,领导国民行使政权。”  
B. “苏维埃全政权是属于工人,农民,红军兵士及一切劳苦民众的。”  
C. “本党愿与各党各派及一切群众团体进行选举联盟……只占三分之一。”  
D. “资产阶级的民主主义让位给工人阶级领导的人民民主主义。”
8. 下表是建国以来我国干部制度的发展历程。我国干部制度

新中国成立后	中共中央及各级党委组织部门统一领导、统一管理下的分类管理的干部制度。
改革开放后	坚持党管理干部的根本原则,逐步实现干部管理的科学化、民主化、法制化、现代化。
2005年	全国人大常委会通过《中华人民共和国公务员法》,公务员制度正式形成,把长期坚持的干部人事管理的有效做法上升为法律。
十八大以来	干部队伍建设更加规范化、制度化,严格依规办事,廉政制度和规定不断完善。
2018年	《中华人民共和国公务员法》修订,规定“录用担任一级主任科员以下及其他相当职务层次的公务员,采取公开考试、严格考察、平等竞争、择优录取的办法”。

- ①反映了国家政治制度改革的成果  
②适应了时代发展的人才建设需求  
③坚持了党管干部的基本政治原则  
④体现了精英政治的国家治理模式
- A. ①②③  
B. ②③④  
C. ①②④  
D. ①②③④

9. 对我国“个人所得税起征点变迁图”的理解准确的有



- ①个税起征点的变迁说明人民生活水平提高
- ②计划经济时代收入差距小没有征收的必要
- ③对调节个人收入和社会稳定具有积极作用
- ④起征点的不断提高制约社会保障体系完善

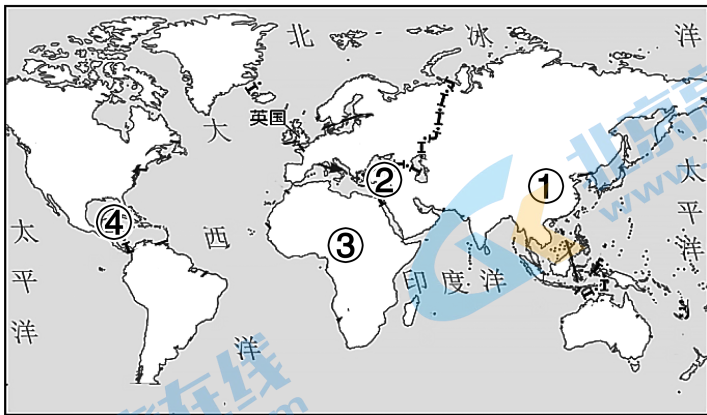
A. ①                      B. ①②                      C. ①②③                      D. ①②③④

10. 公元前536年,郑国的子产“铸刑书”,把刑法浇铸在金属器皿上。公元前450年左右,罗马共和国颁布《十二铜表法》。二者的共同点在于

- ①是本国历史上最早成文法
- ②都引发了德治与法治之争
- ③符合当时社会变革的需求
- ④以依法治国已成为社会共识

A. ①③                      B. ②③                      C. ①④                      D. ③④

11. 农业和畜牧业是人类文明产生的重要前提。下列表述正确的是



- A. ①地区是小麦和水稻的原产地
- B. ②地区最早驯化了骆马和山羊
- C. ③地区最早栽培了辣椒和大麦
- D. ④地区是玉米和番茄的原产地

12. 下列关于古希腊政治制度的叙述,正确的是

- A. 斯巴达法定最高权力机关是公民大会
- B. 雅典议事会议员由公民大会投票产生
- C. 斯巴达监察官有重要权力且终身任职
- D. 雅典公民审判员由卸任高级官员组成

13. 1066 年,法国诺曼底公爵征服英国,称威廉一世。他没收反抗的盎格鲁—撒克逊贵族土地,分封给随他而来的法国封建主,逐层建立封建土地等级所有制。威廉一世还召集封臣,令这些人一律向他行臣服礼及宣誓效忠。他还极力摆脱教皇对英国教会的干涉,把英国教会控制在自己手中。这表明英国
- 确立了中央集权制
  - 创建了封君封臣制
  - 社会矛盾不断激化
  - 国王强化自身权力
14. 1648 年签订的《威斯特伐利亚和约》规定,“所有罗马帝国的选侯、邦君和各邦,应根据本协议确定和确认享有他们自古以来的权利……自由行使领土权,不论是宗教的,还是政治的或是礼遇性的权利……不受任何人的侵犯,不论其信奉何宗教。”这一规定
- 奠定了近代国际法的理论基础
  - 确立了国际关系主权平等原则
  - 清除了教会对国际政治的影响
  - 实现了神圣罗马帝国权力统一
15. 下列选项中,史实与结论相符的是

	史实	结论
A	16 世纪 80 年代,葡萄牙人每年向果阿运送相当于约 30 吨白银的 100 万葡萄牙银币	葡萄牙利用资本输出控制落后国家的经济命脉
B	1825 年英国解除关于机器输出的禁令,大批机器和先进技术被引入法、德、美、俄等国	英国的“世界工厂”地位被打破,世界经济形成多中心格局
C	1963-1973 年,全世界 GDP 年均增长率为 5.1%,世界贸易的年均增长率达到 8.9%	二战后国际贸易的发展推动了世界经济的增长
D	20 世纪 70 年代,美国政府宣布停止美元兑换黄金,固定汇率制被浮动汇率制取代	美元失去国际贸易结算和各国外汇储备的主要货币地位

## 第二部分

本部分共 5 题,共 55 分。

### 16. (6 分) 贡回市茶

**材料一** 明朝时藏区政教势力接受招谕,赴内地入贡。中央对入贡者回赐以茶叶、银钞、绸缎、棉麻等。入贡者“潜带金银,候回日市买私茶等货”。成化末年,明朝中央无力供应充足的赏赐彩缎,不得不折支生绢或茶叶,入贡者携运食茶渐成惯例。“诸番恋贡市之利,且欲保世官,不敢为变”,“以故西陲宴然,终明世无番寇之患”。

**材料二** 贡赐贸易带来的大量茶叶、绸缎等被用于寺院法会,或是熬茶、布施、供献等宗教活动。1512 年,二世达赖喇嘛对扎什伦布寺的二千名僧人熬茶供饭,借以展示宗教权威。藏区赴内地的贡道俨然变成内地物资输往藏区的通道,与明代茶马贸易商路渐趋合流。寺院大商队渐渐衍生形成商帮,成为贯穿藏区、辐射内地的长途贸易前奏。

阅读材料,结合所学,阐述“贡回市茶”的影响。(6 分)

### 17. (12 分) 粮安天下

**材料一** 工业革命以来,英国掀起开凿运河和修建铁路的高潮,保障了廉价且稳定的大宗货物运输,也为治理日益突出的粮食问题提供了条件。1839 年反《谷物法》<sup>①</sup>同盟在曼彻斯特建立,同盟认为《谷物法》抬高了粮食价格,导致工人无钱购买工业制品,也阻碍了欧洲大陆进口曼彻斯特的纺织品。1846 年英国政府废除《谷物法》后,从国际市场进口大量小麦。1750 年到 1850 年间,议会颁布法案推动了圈地运动大规模开展,大量荒地因被圈占而得到充分的开发利用,提高了粮食产量。

注①:《谷物法》是英国 1815 年制定的限制谷物进口的法律,其目的是维护土地贵族的利益。《谷物法》的实施,导致其他粮食输出国家对英国工业品提高关税。

(1) 阅读材料一,结合所学,简析英国“粮食问题治理”的历史影响。(4 分)

习近平总书记指出:要牢记“确保国家粮食安全,把中国人的饭碗牢牢端在自己手中。”

**材料二** 改革开放以来,我国制定了一系列法律法规和政策措施,持续深化粮食流通体制改革,激发市场活力。中共十八大以来,国家实施乡村振兴战略,建立了中央和地方分工明确、功能互补的粮食储备体系,开展粮食公路、铁路、水路多式联运,建立规范统一的国家粮食电子交易平台。继续稳定与世界 100 多个国家、国际组织以及国际农业研究机构建立科技交流与合作关系。自 2016 年起,中国连续向亚非拉 50 余国提供紧急粮食援助,建立了 30 多个农业技术示范中心,派遣近千名农业专家和技术人员。

(2) 阅读材料二,结合所学,阐释改革开放以来中国的“粮食安全治理”。(8 分)



材料二 部分国家城市化进程简表

国别	时间	城镇化建设	社会保障
美国	1880—1970年	快速发展 大量移民来到美国,工业革命吸引了大量人口流向城市	20世纪30年代成立联邦救济署,颁布《社会保障法》《就业法》《经济危机法》
	1970年以后	放缓 逆城市化现象,人口由大城市迁向郊区的现象日益增多	福利保障过高,给政府带来了严重财政危机
英国	18世纪60年代—19世纪末	非常迅速 城镇人口从不到20%到发展约为75%	严重滞后,沿用传统的“济贫法”,城市人口膨胀、贫富分化、住房拥挤、各种犯罪问题凸显
	20世纪以后	基本实现城镇化 发展速度有所放缓	建立现代社会保险制度,进入到福利国家的行列 出现过度发展社会保障问题
德国	1840—1914年	农村劳动人口向众多的小城镇流动,城镇化发展加快	现代社会保险制度逐渐产生,颁布《帝国保险法》《职员保险法》
	二战后	发展速度放缓	社会保障完善,建成福利国家

(2) 阅读材料二,结合所学,从城镇化与社会保障关系的角度对城市化进程加以解读。(9分)

要求:观点正确,逻辑清晰,多角度论述

## 20. (12分) 文物与历史

中国国家博物馆是中国历史文化艺术的殿堂。它的藏品见证和展示了中华文明的辉煌灿烂与血脉绵延。以下是国家博物馆的部分“明星文物”。

<p>①大盂鼎(西周)</p> 	<p>内有铭文 291 字,记载了周康王告诫盂要衷心辅佐王室,以及赐予盂的器物、人口等信息。</p>	<p>②三彩釉陶载乐骆驼(唐朝)</p> 	<p>骆驼昂首挺胸,驮着 5 名身着唐装的男子(2 名汉人、3 名胡人)。乐器残缺,只剩一把琵琶。琵琶是从印度、波斯传入中国的。</p>
<p>③嵌珍珠宝石项链(隋朝)</p> 	<p>9 岁女孩李静训的随葬品。项链由 28 个金质球形链珠组成,鲜艳夺目,雍容华贵。原产于巴基斯坦或阿富汗。</p>	<p>④琅琊刻石(秦朝)</p> 	<p>公元前 219 年秦始皇东巡到琅琊郡时所刻,文字为小篆。主要颂扬了秦始皇统一中国的丰功伟绩。</p>
<p>⑤“鄂君启”错金青铜节(战国·楚)</p> 	<p>楚王颁发给鄂君启的经商通行证,错金铭文规定了商队车、船的数量,行商路线,货物种类及课税免税等情况。</p>	<p>⑥神州五号飞船返回舱(公元 2003 年)</p> 	<p>返回舱是唯一返回地球的舱段,重达 3 吨,顶部是航天员进出舱口。舱体表面被高温烧蚀,呈暗褐色。</p>
<p>⑦石镰(新石器时代裴李岗文化)</p> 	<p>镰首锐利,背部圆钝,刃口处加工成整齐细密的锯齿状,制作精致,出土数量较多。</p>	<p>⑧中国政府签署“入世”文件时用的文具</p> 	<p>这套文具共三件,包括签字笔、墨水瓶和吸墨器。</p>

依据材料,结合所学,任选 3 个研究视角(主题),简述所选文物的史料价值。为每个主题再补充一则不同类型的史料,并简要说明。(12分)



北京市朝阳区 2022~2023 学年度第一学期质量检测

高二历史参考答案（评分细则）

2023. 1

第一部分（共 45 分）

本部分共 15 题，每题 3 分，共 45 分。

1	2	3	4	5	6	7	8	9	10	11	12	13	14	15
A	C	B	D	B	B	C	A	C	A	D	A	D	B	C

第二部分（共 55 分）

16. (6 分)

明朝中央加强了对藏区的统治，稳定了西部边陲；增强了藏区民众对明朝中央的向心力和归属感（促进了民族交流交往与交融），有利于统一多民族国家的发展。明代中后期，回赐开支逐渐成为明朝中央沉重的财政负担。（3 分）

藏区人民通过贸易获得大量绢帛丝茶，改善了生活；藏区僧俗统治阶层积累了巨额财富，有利于稳固其统治；贡道和商帮加强了藏区与内地的经济联系（促进了长途贩运贸易的发展，拓宽了中原与西藏地区的商路），促进了边疆社会经济的发展。（3 分）

（说明：对中央和对西藏的影响各 3 分，每个角度 2 条以上可得 3 分。）

17. (12 分)

(1) (4 分)

有效解决了英国的粮食问题，稳定了社会秩序；促进了农业机械化，有利于提高工人生活水平；推动了交通运输的进步，促进了国内市场和贸易的发展，为工业革命的深入开展创造了条件；促进了国际贸易的增长和世界市场的扩展；打击了英国的土地贵族，推动了英国政治改革进程。（任意 4 点，可得 4 分）

(2) (8 分)

背景：中国农业自然资源的“先天不足”（人口众多、耕地面积少）；世界各国工业化、城市化加速，人口激增，耕地面积不断减少，国际形势动荡，粮食安全成为世界各国共同关注的重大问题。（1 分）

思想：改革开放以来，党和政府高度重视粮食安全问题；确立了立足国内资源、实现粮食基本自给的方针。（1 分）

措施：通过制度创新（家庭联产承包责任制、取消农业税、农村承包地三权分置、乡村振兴战略等）和农业科技创新，保障粮食生产；完善粮食储备体系；确保粮食流通有序畅通；开展国际科技交流与合作；向亚非拉国家提供粮食、技术援助，促进粮食安全水平协同提升。（4 分）

(4 分)

评价：改革开放以来，中国充分发挥市场作用，加强政府宏观调控，在增加粮食产量、保障粮食安全方面取得重大成就，构建了国家粮食安全保障体系；积极参与全球粮食安全治理，为全球粮食安全贡献中国智慧和力量（构建人类命运共同体）。（2 分）

18. (12 分)

(1) (6 分)

措施：自主发行货币，根据市场需要投放、回收货币；收兑伪钞、法币，换取物资；禁止伪币、法币流通，形成本币独占市场。（3 分）

作用：打破了敌伪的经济封锁和掠夺政策，改善了人民生活；促进了根据地和解放区经济发展，为抗日战争和解放战争胜利奠定了物质基础；形成统一货币市场，为新中国货币和

金融管理积累了经验。(3分)

(2) (6分)

21世纪以来,经济全球化深入发展,各国相互联系和依存日益加深;世界经济的不稳定性、不确定性突出,增长动能不足;中国经济实力不断增长,在国际金融中的影响力逐步提高;为推动亚洲经济的稳定增长,促进亚洲地区团结合作,中国发起成立亚洲基础设施投资银行。(6分)(其他合理答案:推动合作共赢的新型国际关系建设,优化全球治理体系;承担大国责任,推动亚洲命运共同体建立。)

(说明:从世界、亚洲、中国三个角度作答)

19. (13分)

(1) (4分)

罗马城:不追求规整,神庙、娱乐、浴场等公共服务设施多,有一定宗教色彩。

长安城:布局规整,皇家宫殿所占比例大,体现了强烈的皇权色彩。

(2) (6分)

评分标准

等级三	观点正确,能够运用多个国家的材料,从多个角度,综合比较、分阶段论述,逻辑严谨	7—9分
等级二	观点正确,能够运用多个国家的材料,论证比较充分,逻辑比较清晰	4—6分
等级一	观点不准确,仅能运用单一国家材料或从单一角度陈述,论证不充分,逻辑不清晰	0—3分

【示例】

近代以来,工业革命推动了城市化进程。城市化经历了由快速发展到逐步放缓的过程。为适应城市化发展,美英德三国都建立了社会保障制度,但呈现出不同特点。

英国最先完成工业化和城镇化,其社会保障制度建设相对滞后,传统的“济贫法”无法解决城镇化带来的各种问题。德国较早颁布了《帝国保险法》等;美国在经济危机期间,成立了专门的救济机构,颁布《社会保障法》。美国和德国适应城镇化的发展,通过立法适时建立相应的社会保障制度,有力推动了社会经济发展。二战后,美英德三国城镇化速度都有所放缓,出现逆城市化现象。高福利的社会保障加剧了政府的财政负担,制约了社会经济发展,社会保障制度面临考验。

综上,社会保障建设应与城镇化发展水平形成良性互动关系,当二者协调发展时,将促进社会的进步;反之,将制约经济和社会的发展。

20. (12分)

【示例】

视角一:文物①④可用于研究“中国古代的政治制度与国家治理”(1分)

大盂鼎铭文是研究西周分封制和社会状况的重要史料;琅琊刻石为研究秦朝的大一统国家治理、郡县制、统一文字提供了实证资料。

补充史料:《史记》史料类型:文献史料(史书),记载了从黄帝时代到汉武帝时期的历史,其中有关西周、秦朝政治制度和国家治理的内容可以和以上的碑铭(金石史料)进行互证。(3分)

视角二：文物⑤⑧可用于研究“关税与商业贸易”（1分）

“鄂君启”错金青铜节是研究战国时期关税制度和商业活动的珍贵史料；WTO以削减关税和促进贸易自由化为宗旨，中国加入WTO促进了国际贸易的发展，文物⑧见证了中国加入WTO的重要时刻。

补充史料：《南京条约》 史料类型：文献史料（档案），是研究中国丧失关税自主权的重要史料。（3分）

视角三：文物⑥⑦可用于研究“技术进步与人类社会的发展”（1分）

文物⑦实证了新石器时代农业工具制作技术的进步，为研究生产工具进步促进农业发展提供了实物史料；现代科技的快速发展加快了人类迈向现代化的步伐，文物⑥是研究新中国航天技术发展的重要史料。

补充史料：翻车或筒车的插图 史料类型：图像史料（绘画），有助于研究灌溉工具的进步，以及灌溉技术如何推动农业生产的发展。（3分）

视角四：文物②③可用于研究“中外经济文化交流与社会生活”（1分）

文物②为研究隋朝中外经济文化交流状况提供了实物史料；文物③则从音乐、服装等角度印证了唐朝中外交往对社会生活的影响。两件文物都有助于研究中外交往如何丰富了人们的物质、文化生活。

补充史料：意大利绘画“群神宴”沉船，史料类型：图像史料，有助于研究瓷器在欧洲流行并丰富当地人民生活的历史。（3分）

## 关于我们

北京高考在线创办于 2014 年，隶属于北京太星网络科技有限公司，是北京地区极具影响力的中学升学服务平台。主营业务涵盖：北京新高考、高中生涯规划、志愿填报、强基计划、综合评价招生和学科竞赛等。

北京高考在线旗下拥有网站门户、微信公众平台等全媒体矩阵生态平台。平台活跃用户 40W+，网站年度流量数千万量级。用户群体立足于北京，辐射全国 31 省市。

北京高考在线平台一直秉承 “精益求精、专业严谨” 的建设理念，不断探索 “K12 教育+互联网+大数据” 的运营模式，尝试基于大数据理论为广大中学和家长提供新鲜的高考资讯、专业的高考政策解读、科学的升学规划等，为广大高校、中学和教科研单位提供 “衔接和桥梁纽带” 作用。

平台自创办以来，为众多重点大学发现和推荐优秀生源，和北京近百所中学达成合作关系，累计举办线上线下升学公益讲座数百场，帮助数十万考生顺利通过考入理想大学，在家长、考生、中学和社会各界具有广泛的口碑影响力

未来，北京高考在线平台将立足于北京新高考改革，基于对北京高考政策研究及北京高校资源优势，更好的服务全国高中家长和学生。



微信搜一搜

北京高考资讯