

# 2018 北京四中高一（上）期中

## 历史

试卷满分 100 分 考试时间为 60 分钟

一、单项选择题（下列各题的四个选项中，只有一项符合题意。每小题 2 分，共 60 分）

1. 据《史记》载：“伯夷、叔齐，孤竹君之二子也。父欲立叔齐，及父卒，叔齐让伯夷。伯夷曰：‘父命也。’遂逃去。叔齐亦不肯立而逃之。”针对材料中所反映的问题而确立的制度是

- A. 分封制
- B. 宗法制
- C. 井田制
- D. 礼乐制

2. 周公“兼制天下，立七十一国，姬姓独居五十三人”。可见西周受封的主体是

- A. 先代贵族
- B. 异姓功臣
- C. 同姓亲族
- D. 殷商后裔

3. 公元前 221 年，秦王嬴政结束诸侯割据局面实现统一，建立了秦朝。这一年是公元前

- A. 2 世纪前期
- B. 2 世纪后期
- C. 3 世纪前期
- D. 3 世纪后期

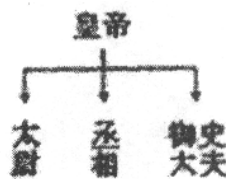
4. 历史学家夏曾佑说：“中国之教，得孔子而立；中国之政，得秦皇而立；中国之境，得汉武而后定。三者皆中国所以为中国也。”其中，“中国之政”的准确理解是

- A. 皇帝制
- B. 三公九卿制
- C. 郡县制
- D. 专制主义中央集权制

5. 秦朝负责执掌群臣奏章，下达皇帝诏令，监察百官的是

- A. 丞相
- B. 御史大夫
- C. 太尉
- D. 郡守

6. 如图所示的中央机构创立于



- A. 秦朝
- B. 隋朝
- C. 宋朝
- D. 元朝

7. 钱穆在《国史新论》中写道“自经此项制度推行日久，平民社会，穷苦子弟，栖身僧寺，十年寒窗，也可跃登上第。”材料中所说的这项制度指的是

- A. 世卿世禄制
- B. 察举制
- C. 九品中正制
- D. 科举制

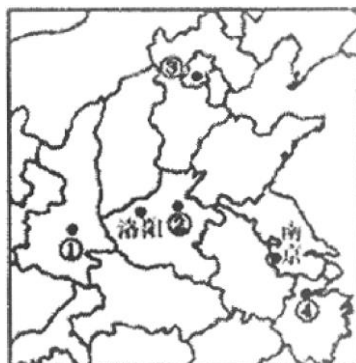
8. 唐太宗时期，假设国家要在关中一带修建一项大型水利工程，这项工程的实施涉及众多机构，按制度规定其运作程序是

- A. 尚书省→中书省→门下省→工部

- B. 中书省→门下省→尚书省→工部  
 C. 门下省→中书省→尚书省→工部  
 D. 尚书省→门下省→中书省→工部
9. 北宋初年，宋太祖赵匡胤导演了“杯酒释兵权”的故事。这一事件的影响是  
 A. 把主要将领的兵权收归中央                      B. 由中央派文官担任地方长官  
 C. 在地方设通判监督地方文官                      D. 由中央控制地方的赋税收入
10. 《宋史》记载的“掌军国机务，兵防、边备、戎马之政令，出纳密令，以佐邦治”的机构是  
 A. 三司    B. 政事堂  
 C. 中书门下    D. 枢密院
11. 下边是《中国历代官称辞典》中的一个辞条，依据辞条内容推断这一机构是

官署名。明代始设。洪武十五年，置华盖殿、武英殿、文华殿、文渊殿、东阁各大学士，收阅奏章，批发文稿，协助皇帝办理政务，为皇帝顾问。

- A. 礼部  
 B. 中书省  
 C. 内阁  
 D. 军机处
12. 明朝在中央机构中废中书省和丞相，分相权于吏、户、礼、兵、刑、工六部，直属皇帝，其目的是  
 A. 提高办事效率    B. 扩大统治基础  
 C. 加强专制统治    D. 增强六部权力
13. 故宫博物院军机处景点说明文字：“军机处一日日程……接折（阅读奏折）——见面（请皇帝旨）——述旨（拟皇帝旨意）——过朱（皇帝过目确定）——交发（下发旨意）……”上述情况说明军机处的主要职责是  
 A. 纵论军务，谋划战事                                      B. 辅佐皇帝，参与决策  
 C. 陪读陪写，赋诗作画                                      D. 跪受笔录，上传下达
14. 当代史学家对封建国家权力运行的规律作出如下总结：皇帝从资历较浅、地位不高的心腹近侍或仆从中选拔一些人来承担政务，逐渐演变成正式的辅助机构……这种权力的不断转移与分散，是封建国家权力运行的基本规律。能够印证上述观点的史实有  
 ①秦朝设置丞相      ②西汉重用尚书令  
 ③明朝设置内阁      ④清朝建立军机处  
 A. ①②③                      B. ①③④                      C. ②③④                      D. ①②③④
15. 下图中的四个数字分别代表中国古代的重要都城，其中发生在③处的历史事件是



- A. 嬴政创立皇帝制度
- B. 隋炀帝设立进士科
- C. 明太祖废除丞相制
- D. 雍正帝设立军机处

16. “若认定传统政治制度仅仅是因君主‘家天下’而造就一切，君主制能维持两千余年就成为不可理解的‘哑谜’。事实上，支撑中国君主制长期存活的社会机制极为复杂，而且在一种特定的社会体制内还长期有效。”这段论述意在强调

- A. 君主专制存在诸多弊病
- B. 君主制长期存在的原因无法解释
- C. 君主专制制度根深蒂固
- D. 君主制的存在有其特定历史条件

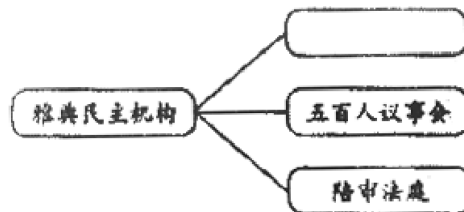
17. 直接民主是古希腊时期雅典民主政治的主要特色之一，与这一特色形成直接有关的是

- A. 雅典精神文化成就辉煌
- B. 雅典是小国寡民的城邦
- C. 古希腊的民主政治传统
- D. 伯里克里的民主思想

18. 梭伦在推行改革中，把公民分为四个等级的根据是

- A. 出身地位
- B. 官职大小
- C. 教育程度
- D. 财产多寡

19. 公元前 5 世纪雅典民主政治进一步完善。在下图空白处应该填写的机构是



- A. 四百人议事会
- B. 元老院
- C. 参议院
- D. 公民大会

20. 公元前 6 世纪末，促使雅典民主制确立的执政官是

- A. 梭伦
- B. 克利斯提尼
- C. 伯利克里
- D. 亚历山大

21. 《十二铜表法》最重要的历史地位是

- A. 罗马成文法诞生的标志
- B. 平民利益的保护伞
- C. 最早限制贵族特权的法律
- D. 内容最全面的法律

22. “随着商业和帝国的发展，生活愈益复杂，原先的法律不再能满足需要。外国人在罗马可能遭到关押，他的财产可能被没收，就是一个典型的问题。”为此罗马形成了

- A. 习惯法体系
- B. 公民法体系
- C. 万民法体系
- D. 自然法体系

23. 罗马法体系最终完成的标志是

- A. 习惯法的形成
- B. 《十二铜表法》的制定
- C. 公民法的形成
- D. 《民法大全》的颁布

24. 13 世纪，英王与贵族签订《大宪章》，该事件对英国政治产生的影响是

- A. 资产阶级革命的导火索
- B. 形成王权受限的传统



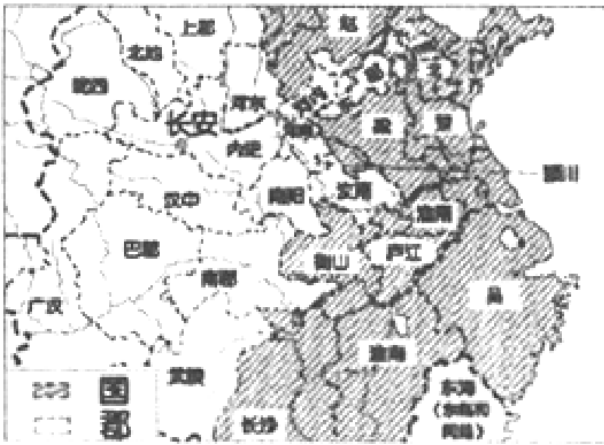


图3



图4

(1) 请在下表空白处，填写四幅地图（局部）对应的朝代及地方行政制度名称。（8分）

图片序号	图 1	图 2	图 3	图 4
朝代				
地方行政制度				

(2) 请写出为解决图 3 所示制度隐患而采取的措施。（2分）

(3) 请评价图 4 的地方行政制度。（2分）结合所学归纳以上四幅地图体现的总体趋势。（2分）

32. 阅读材料，回答问题。（10分）

第 5 表：凡以遗嘱处分自己的财产，或对其家属指定监护人的，具有法律上的效力。

第 9 表：不得为了任何个人的利益，制定特别的法律。

——摘自《十二铜表法》

(1) 分别列举上述材料中反映的法律原则。（4分）

(2) 依据材料和所学，概述罗马法的影响。（6分）

33. 阅读材料，回答问题。（16分）

(1) 模仿示例，将该辞典对《权利法案》的解释进行解读，结合所学，补充一个相关史实，使之表述更加完整；补充一条结论，体现其世界政治文明史上的地位。（8分）

英国宪法的基本文件之一。这是斯图亚特王朝的国王们与英格兰人民和议会在 17 世纪长期斗争的成果。

法案的主要目的在于明文宣布詹姆斯二世的各种措施为非法，其中包括不按法律审判案件的特权；未经议会同意完全废除某些法律；未经议会授权征收税赋并在平时维持常备军等等。

《权利法案》成为英国施政的基础，使君主政体受议会意志的制约，并摆脱专横的统治。

示例：

①对《权利法案》的基本定位

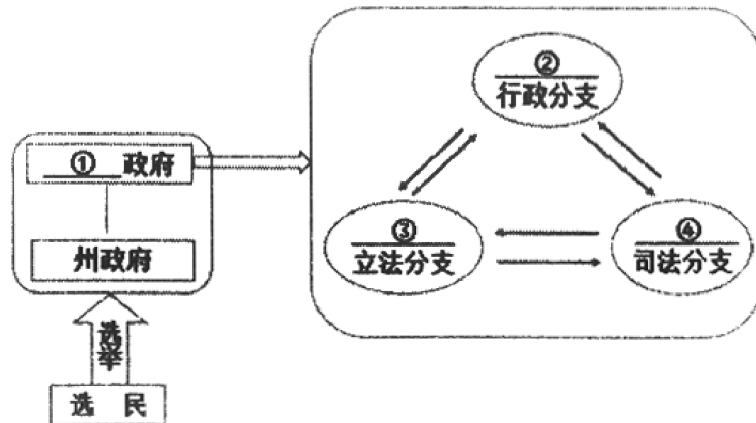
②\_\_\_\_\_ (2分)

③\_\_\_\_\_ (2分)

④补充史实\_\_\_\_\_。(2分)

⑤补充结论：\_\_\_\_\_。(2分)

下图是某同学依据美国 1787 年宪法所作的示意图：



(2) 依据所学，完成上述示意图。(4分)

(3) 从分权制衡的角度解读以上示意图。(4分)

# 2018 北京四中高一（上）期中历史参考答案

一、选择题（共 30 小题，每小题 2 分，共 60 分）

1	2	3	4	5	6	7	8	9	10
B	C	D	D	B	A	D	B	A	D
11	12	13	14	15	16	17	18	19	20
C	C	D	C	D	D	B	D	D	B
21	22	23	24	25	26	27	28	29	30
A	C	D	B	D	A	D	D	C	C

二、非选择题。（31 题 14 分，32 题 10 分，33 题 16 分，共 40 分）

31. 答案要点

（1）（每空 1 分，共 8 分）

图片序号	图 1	图 2	图 3	图 4
朝代	西周	元	西汉	秦
地方行政制度	分封制	行省制	郡国制 (答“郡县、封国并存”或“郡国并行制”可给分)	郡县制

（2）措施：颁布“推恩令”，加强中央集权。（2 分）

（3）评价：秦朝通过郡县制，实现了对地方政权直接有效的控制，奠定了中国两千多年地方管理制度的基本格局。（2 分）

趋势：中央集权不断加强。（2 分）

32. （1）第 5 表：私有财产神圣不可侵犯。第 9 表：法律面前人人平等。（4 分）

（2）对当时来讲：为国家权力提供法律依据，稳定了社会秩序，保护了统治阶级的政治和经济基础。

对后世而言：罗马法是欧洲历史上第一部比较系统完备的法律体系。罗马法对近代欧美国家的立法和司法产生了重要影响，当代很多法律制度中的原则和做法，都可在罗马法中找到源头。为近代资产阶级革命与建设提供了思想武器、法学渊源。（任答三点给 6 分）

33. （1）②《权利法案》的内容：（2 分）

③《权利法案》的意义或作用：（2 分）

④背景：1688 年光荣革命后（或英国资产阶级革命后）；

时间：1689 年；

颁布者：由资产阶级和新贵族控制的议会颁布；

（写出其中 1 点即给 2 分，其他言之成理酌情给分）

⑤结论：英国逐渐确立起君主立宪政体；英国成为世界上第一个君主立宪制的国家；君主立宪制确立了资产阶级代议制，有利于促进资产阶级民主，对世界产生深远的影响。（写出其中 1 点给 2 分，其他言之成理酌情给分）

（2）①联邦；②总统；③国会；④最高法院。（4 分）

（3）解读：中央和地方之间实行联邦制，联邦拥有政治、经济、军事、外交大权，各州享有一定的自治权；联邦政府的权力分为立法、司法、行政三个部分，分别由国会、最高法院和总统掌握，三者独立平等，互相制约。

（4 分）