

机密★本科目考试启用前

北京市 2020 年普通高中学业水平等级性考试

化 学

本试卷共 9 页，100 分。考试时长 90 分钟。考生务必将答案答在答题卡上，在试卷上作答无效。考试结束后，将本试卷和答题卡一并交回。

可能用到的相对原子质量：H 1 C 12 N 14 O 16

第一部分

本部分共 14 题，每题 3 分，共 42 分。在每题列出的四个选项中，选出最符合题目要求的一项。

1. 近年来，我国航空航天事业成果显著。下列成果所涉及的材料为金属材料的是

- A. “天宫二号”航天器使用的质量轻强度高的材料——钛合金
- B. “北斗三号”导航卫星使用的太阳能电池材料——砷化镓
- C. “长征五号”运载火箭使用的高效燃料——液氢
- D. “C919”飞机机身使用的复合材料——碳纤维和环氧树脂

2. 下列物质的应用中，利用了氧化还原反应的是

- A. 用石灰乳脱除烟气中的 SO_2
- B. 用明矾 $[\text{KAl}(\text{SO}_4)_2 \cdot 12\text{H}_2\text{O}]$ 处理污水
- C. 用盐酸去除铁锈（主要成分 $\text{Fe}_2\text{O}_3 \cdot x\text{H}_2\text{O}$ ）
- D. 用 84 消毒液（有效成分 NaClO ）杀灭细菌

3. 水与下列物质反应时，水表现出氧化性的是

- A. Na
- B. Cl_2
- C. NO_2
- D. Na_2O

4. 已知： ${}_{33}\text{As}$ （砷）与 P 为同族元素。下列说法不正确的是

- A. As 原子核外最外层有 5 个电子
- B. AsH_3 的电子式是 $\text{H}:\ddot{\text{As}}:\text{H}$
- C. 热稳定性： $\text{AsH}_3 < \text{PH}_3$
- D. 非金属性： $\text{As} < \text{Cl}$

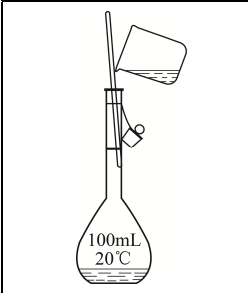
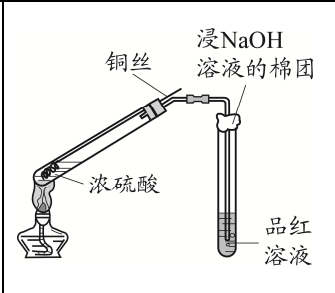
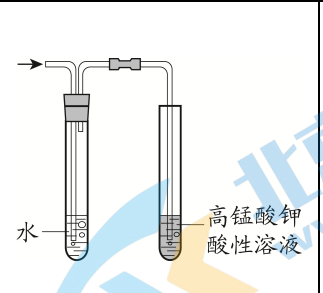
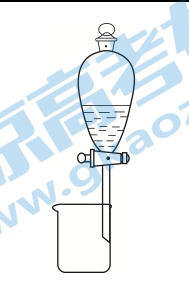
5. 下列说法正确的是

- A. 同温同压下，O₂ 和 CO₂ 的密度相同
- B. 质量相同的 H₂O 和 D₂O（重水）所含的原子数相同
- C. 物质的量相同的 CH₃CH₂OH 和 CH₃OCH₃ 所含共价键数相同
- D. 室温下，pH 相同的盐酸和硫酸中，溶质的物质的量浓度相同

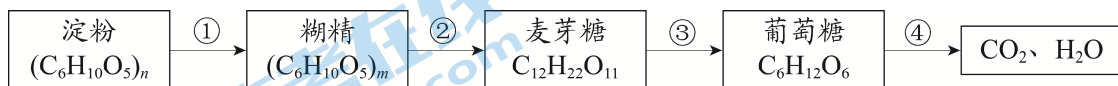
6. 下列方程式与所给事实不相符的是

- A. 用碳酸钠溶液处理锅炉水垢： $\text{CaSO}_4(\text{s}) + \text{CO}_3^{2-} \rightleftharpoons \text{CaCO}_3(\text{s}) + \text{SO}_4^{2-}$
- B. 湿润的淀粉碘化钾试纸遇氯气变蓝： $3\text{Cl}_2 + \text{I}^- + 3\text{H}_2\text{O} = 6\text{Cl}^- + \text{IO}_3^- + 6\text{H}^+$
- C. 铝粉和氧化铁组成的铝热剂用于焊接钢轨： $2\text{Al} + \text{Fe}_2\text{O}_3 \xrightarrow{\text{高温}} \text{Al}_2\text{O}_3 + 2\text{Fe}$
- D. 淡黄色的过氧化钠敞口放置变成白色： $2\text{Na}_2\text{O}_2 + 2\text{CO}_2 = 2\text{Na}_2\text{CO}_3 + \text{O}_2$ 、
 $2\text{Na}_2\text{O}_2 + 2\text{H}_2\text{O} = 4\text{NaOH} + \text{O}_2 \uparrow$

7. 用下列仪器或装置（图中夹持略）进行相应实验，不能达到实验目的的是

配制一定物质的量浓度的氯化钠溶液	检验浓硫酸与铜反应产生的二氧化硫	检验溴乙烷消去产物中的乙烯	分离酒精和水
			
A	B	C	D

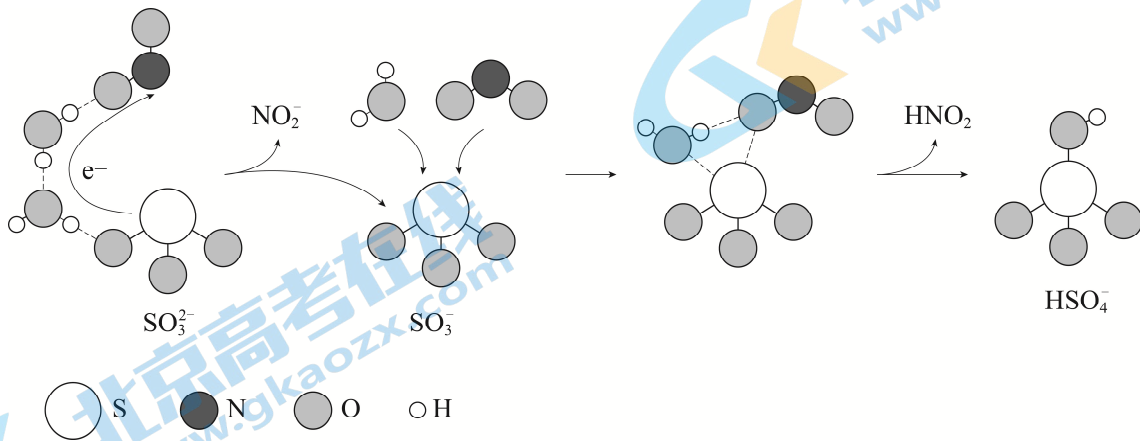
8. 淀粉在人体内的变化过程如下：



下列说法不正确的是

- A. $n < m$
- B. 麦芽糖属于二糖
- C. ③的反应是水解反应
- D. ④的反应为人体提供能量

9. 硫酸盐 (含 SO_4^{2-} 、 HSO_4^-) 气溶胶是 $\text{PM}_{2.5}$ 的成分之一。近期科研人员提出了雾霾微颗粒中硫酸盐生成的转化机理, 其主要过程示意图如下:



下列说法不正确的是

- A. 该过程有 H_2O 参与
 B. NO_2 是生成硫酸盐的氧化剂
 C. 硫酸盐气溶胶呈酸性
 D. 该过程没有生成硫氧键
10. 一定温度下, 反应 $\text{I}_2(\text{g}) + \text{H}_2(\text{g}) \rightleftharpoons 2\text{HI}(\text{g})$ 在密闭容器中达到平衡时, 测得 $c(\text{I}_2) = 0.11 \text{ mmol} \cdot \text{L}^{-1}$ 、 $c(\text{H}_2) = 0.11 \text{ mmol} \cdot \text{L}^{-1}$ 、 $c(\text{HI}) = 0.78 \text{ mmol} \cdot \text{L}^{-1}$ 。相同温度下, 按下列 4 组初始浓度进行实验, 反应逆向进行的是

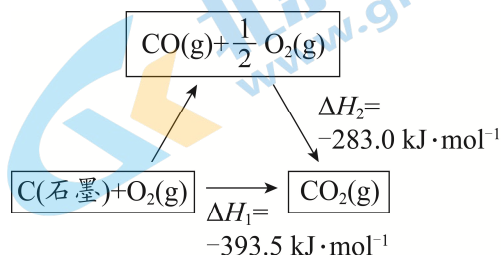
	A	B	C	D
$c(\text{I}_2) / \text{mmol} \cdot \text{L}^{-1}$	1.00	0.22	0.44	0.11
$c(\text{H}_2) / \text{mmol} \cdot \text{L}^{-1}$	1.00	0.22	0.44	0.44
$c(\text{HI}) / \text{mmol} \cdot \text{L}^{-1}$	1.00	1.56	4.00	1.56

(注: $1 \text{ mmol} \cdot \text{L}^{-1} = 10^{-3} \text{ mol} \cdot \text{L}^{-1}$)

11. 室温下, 对于 $1 \text{ L } 0.1 \text{ mol} \cdot \text{L}^{-1}$ 醋酸溶液, 下列判断正确的是
- A. 该溶液中 CH_3COO^- 的粒子数为 6.02×10^{22}
 B. 加入少量 CH_3COONa 固体后, 溶液的 pH 降低
 C. 滴加 NaOH 溶液过程中, $n(\text{CH}_3\text{COO}^-)$ 与 $n(\text{CH}_3\text{COOH})$ 之和始终为 0.1 mol
 D. 与 Na_2CO_3 溶液反应的离子方程式为 $\text{CO}_3^{2-} + 2\text{H}^+ \rightleftharpoons \text{H}_2\text{O} + \text{CO}_2 \uparrow$

12. 依据图示关系, 下列说法不正确的是

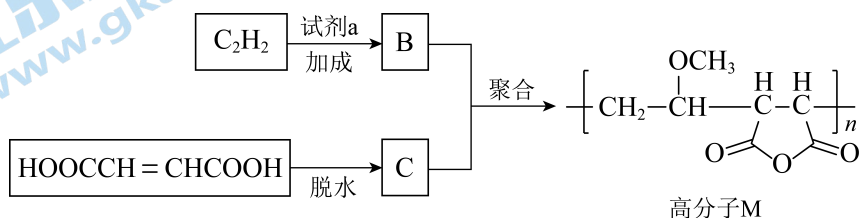
- A. 石墨燃烧是放热反应
 B. 1 mol C(石墨)和 1 mol CO 分别在足量 O₂ 中燃烧, 全部转化为 CO₂, 前者放热多
 C. C(石墨) + CO₂(g) = 2CO(g)



$$\Delta H = \Delta H_1 - \Delta H_2$$

- D. 化学反应的 ΔH , 只与反应体系的始态和终态有关, 与反应途径无关

13. 高分子 M 广泛用于牙膏、牙科粘合剂等口腔护理产品, 合成路线如下:



下列说法不正确的是

- A. 试剂 a 是甲醇
 B. 化合物 B 不存在顺反异构体
 C. 化合物 C 的核磁共振氢谱有一组峰
 D. 合成 M 的聚合反应是缩聚反应

14. 某同学进行如下实验:

	实验步骤	实验现象
I	将 NH ₄ Cl 固体加入试管中, 并将湿润的 pH 试纸置于试管口, 试管口略向下倾斜, 对试管底部进行加热	试纸颜色变化: 黄色 → 蓝色 (pH ≈ 10) → 黄色 → 红色 (pH ≈ 2); 试管中部有白色固体附着
II	将饱和 NH ₄ Cl 溶液滴在 pH 试纸上	试纸颜色变化: 黄色 → 橙黄色 (pH ≈ 5)

下列说法不正确的是

- A. 根据 I 中试纸变蓝, 说明 NH₄Cl 发生了分解反应
 B. 根据 I 中试纸颜色变化, 说明氨气比氯化氢气体扩散速率快
 C. I 中试纸变成红色, 是由于 NH₄Cl 水解造成的
 D. 根据试管中部有白色固体附着, 说明不宜用加热 NH₄Cl 的方法制备 NH₃

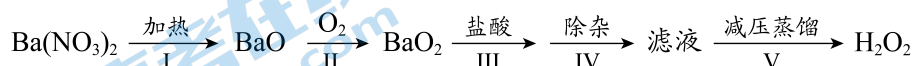
第二部分

本部分共 5 题，共 58 分。

15. (10 分)

H_2O_2 是一种重要的化学品，其合成方法不断发展。

(1) 早期制备方法



① I 为分解反应，产物除 BaO 、 O_2 外，还有一种红棕色气体。该反应的化学方程式是_____。

② II 为可逆反应，促进该反应正向进行的措施是_____。

③ III 中生成 H_2O_2 ，反应的化学方程式是_____。

④ 减压能够降低蒸馏温度。从 H_2O_2 的化学性质角度说明 V 中采用减压蒸馏的原因：_____。

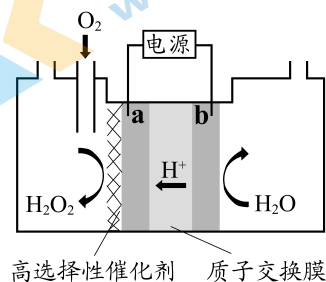
(2) 电化学制备方法

已知反应 $2\text{H}_2\text{O}_2 \rightleftharpoons 2\text{H}_2\text{O} + \text{O}_2 \uparrow$ 能自发进行，反向不能自发进行，通过电解可以实现由 H_2O 和 O_2 为原料制备 H_2O_2 。下图为制备装置示意图。

① a 极的电极反应式是_____。

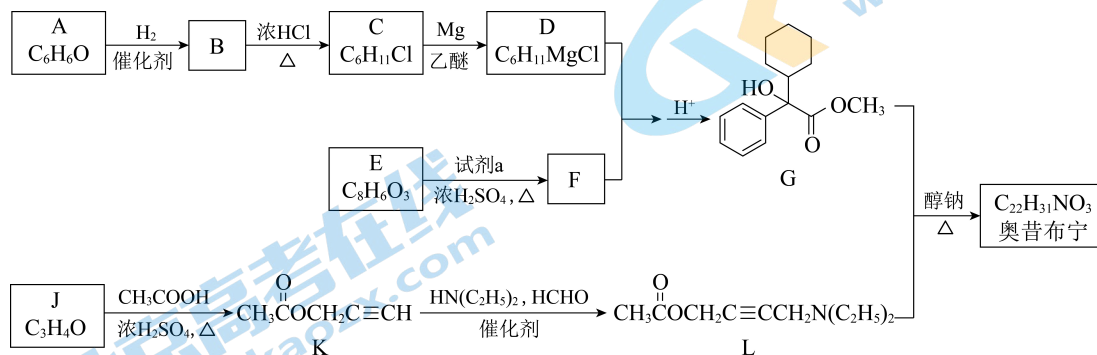
② 下列说法正确的是_____。

- A. 该装置可以实现电能转化为化学能
- B. 电极 b 连接电源负极
- C. 该方法相较于早期制备方法具有原料廉价，对环境友好等优点

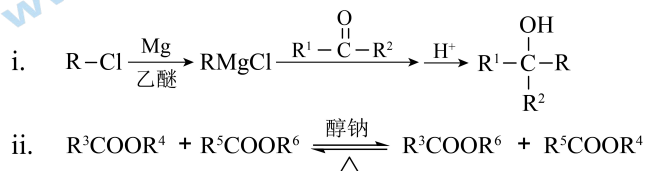


16. (12分)

奥昔布宁是具有解痉和抗胆碱作用的药物，其合成路线如下：



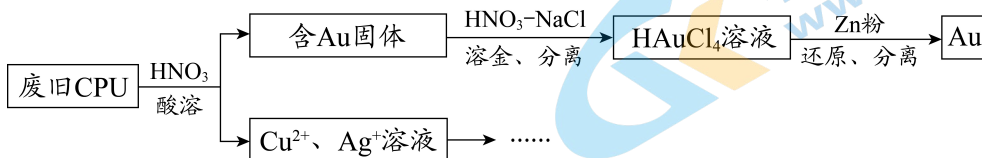
已知：



- (1) A 是芳香族化合物，A 分子中含氧官能团是_____。
- (2) B→C 的反应类型是_____。
- (3) E 的结构简式是_____。
- (4) J→K 的化学方程式是_____。
- (5) 已知：G、L 和奥昔布宁的沸点均高于 200℃。G 和 L 发生反应合成奥昔布宁时，通过在 70℃ 左右蒸馏出_____（填物质名称）来促进反应。
- (6) 奥昔布宁的结构简式是_____。

17. (12分)

用如下方法回收废旧 CPU 中的单质 Au (金)、Ag 和 Cu。



已知: ① 浓硝酸不能单独将 Au 溶解。



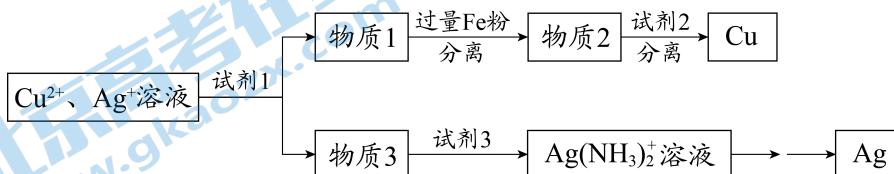
- (1) 酸溶后经_____操作, 将混合物分离。
- (2) 浓、稀 HNO_3 均可作酸溶试剂。溶解等量的 Cu 消耗 HNO_3 的物质的量不同, 写出消耗 HNO_3 物质的量少的反应的化学方程式: _____。
- (3) $\text{HNO}_3\text{-NaCl}$ 与王水[V(浓硝酸):V(浓盐酸) = 1:3]溶金原理相同。

① 将溶金反应的化学方程式补充完整:



② 关于溶金的下列说法正确的是_____。

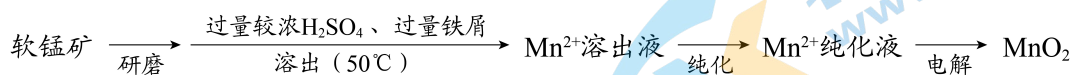
- A. 用到了 HNO_3 的氧化性
 - B. 王水中浓盐酸的主要作用是增强溶液的酸性
 - C. 用浓盐酸与 NaNO_3 也可使 Au 溶解
- (4) 若用 Zn 粉将溶液中的 1 mol HAuCl_4 完全还原, 则参加反应的 Zn 的物质的量是_____mol。
 - (5) 用适当浓度的盐酸、NaCl 溶液、氨水与铁粉, 可按照如下方法从酸溶后的溶液中回收 Cu 和 Ag (图中标注的试剂和物质均不同)。



试剂 1 是_____, 物质 2 是_____。

18. (12分)

MnO_2 是重要化工原料, 由软锰矿制备 MnO_2 的一种工艺流程如下:



资料: ① 软锰矿的主要成分为 MnO_2 , 主要杂质有 Al_2O_3 和 SiO_2 。

② 金属离子沉淀的 pH

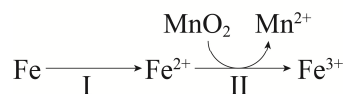
	Fe^{3+}	Al^{3+}	Mn^{2+}	Fe^{2+}
开始沉淀时	1.5	3.4	5.8	6.3
完全沉淀时	2.8	4.7	7.8	8.3

③ 该工艺条件下, MnO_2 与 H_2SO_4 不反应。

(1) 溶出

① 溶出前, 软锰矿需研磨。目的是_____。

② 溶出时, Fe 的氧化过程及得到 Mn^{2+} 的主要途径如图所示。



i. II 是从软锰矿中溶出 Mn^{2+} 的主要反应, 反应的离子方程式是_____。

ii. 若 Fe^{2+} 全部来自于反应 $\text{Fe} + 2\text{H}^+ = \text{Fe}^{2+} + \text{H}_2 \uparrow$, 完全溶出 Mn^{2+} 所需 Fe 与 MnO_2 的物质的量比值为 2。而实际比值 (0.9) 小于 2, 原因是_____。

(2) 纯化

已知: MnO_2 的氧化性与溶液 pH 有关。纯化时先加入 MnO_2 , 后加入 $\text{NH}_3 \cdot \text{H}_2\text{O}$, 调溶液 $\text{pH} \approx 5$ 。说明试剂加入顺序及调节 pH 的原因:_____。

(3) 电解

Mn^{2+} 纯化液经电解得 MnO_2 。生成 MnO_2 的电极反应式是_____。

(4) 产品纯度测定

向 a g 产品中依次加入足量 b g $\text{Na}_2\text{C}_2\text{O}_4$ 和足量稀 H_2SO_4 , 加热至充分反应, 再用 $\text{c mol} \cdot \text{L}^{-1}$ KMnO_4 溶液滴定剩余 $\text{Na}_2\text{C}_2\text{O}_4$ 至终点, 消耗 KMnO_4 溶液的体积为 d L。

(已知: MnO_2 及 MnO_4^- 均被还原为 Mn^{2+} 。相对分子质量: MnO_2 86.94; $\text{Na}_2\text{C}_2\text{O}_4$ 134.0)

产品纯度为_____ (用质量分数表示)。

19. (12分)

探究 Na_2SO_3 固体的热分解产物。

资料: ① $4\text{Na}_2\text{SO}_3 \xrightarrow{\Delta} \text{Na}_2\text{S} + 3\text{Na}_2\text{SO}_4$ 。

② Na_2S 能与 S 反应生成 Na_2S_x , Na_2S_x 与酸反应生成 S 和 H_2S 。

③ BaS 易溶于水。

隔绝空气条件下, 加热无水 Na_2SO_3 固体得到黄色固体 A, 过程中未检测到气体生成。黄色固体 A 加水得到浊液, 放置得无色溶液 B。

(1) 检验分解产物 Na_2S

取少量溶液 B, 向其中滴加 CuSO_4 溶液, 产生黑色沉淀, 证实有 S^{2-} 。反应的离子方程式是_____。

(2) 检验分解产物 Na_2SO_4

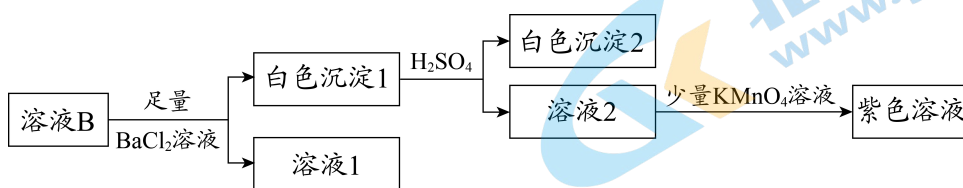
取少量溶液 B, 滴加 BaCl_2 溶液, 产生白色沉淀, 加入盐酸, 沉淀增多(经检验该沉淀含 S), 同时产生有臭鸡蛋气味的气体 (H_2S)。由于沉淀增多对检验造成干扰, 另取少量溶液 B, 加入足量盐酸, 离心沉降(固液分离)后, _____(填操作和现象), 可证实分解产物中含有 SO_4^{2-} 。

(3) 探究(2)中 S 的来源

来源 1: 固体 A 中有未分解的 Na_2SO_3 , 在酸性条件下与 Na_2S 反应生成 S。

来源 2: 溶液 B 中有 Na_2S_x , 加酸反应生成 S。

针对来源 1 进行如下实验:



① 实验可证实来源 1 不成立。实验证据是_____。

② 不能用盐酸代替硫酸的原因是_____。

③ 写出来源 2 产生 S 的反应的离子方程式: _____。

(4) 实验证明 Na_2SO_3 固体热分解有 Na_2S 、 Na_2SO_4 和 S 产生。运用氧化还原反应规律分析产物中 S 产生的合理性: _____。

(考生务必将答案答在答题卡上, 在试卷上作答无效)

机密★启用前

北京市 2020 年普通高中学业水平等级性考试

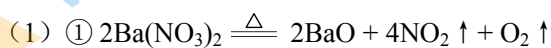
化学参考答案

第一部分共 14 小题，每小题 3 分，共 42 分。

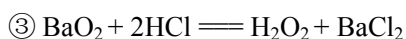
1. A 2. D 3. A 4. B 5. C
6. B 7. D 8. A 9. D 10. C
11. C 12. C 13. D 14. C

第二部分共 5 小题，共 58 分。

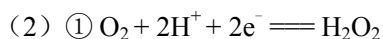
15. (10 分)



② 增大 O_2 浓度



④ 防止 H_2O_2 分解

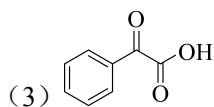


② A C

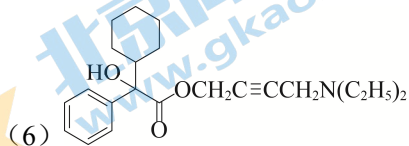
16. (12 分)

(1) -OH 或羟基

(2) 取代反应

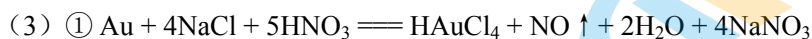
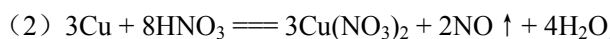


(5) 乙酸甲酯



17. (12分)

(1) 过滤



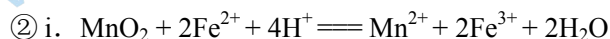
\textcircled{2} A C

(4) 2

(5) NaCl 溶液 Cu、Fe

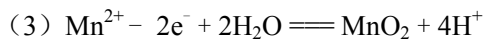
18. (12分)

(1) \textcircled{1} 增大反应物接触面积，加快 Mn^{2+} 溶出速率



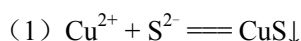
ii. Fe^{2+} 主要来自于反应 $\text{Fe} + 2\text{Fe}^{3+} \rightleftharpoons 3\text{Fe}^{2+}$ ，从而提高了 Fe 的利用率

(2) 先加 MnO_2 ，可利用溶液的酸性将 Fe^{2+} 全部氧化为 Fe^{3+} ，再加氨水调溶液 $\text{pH} \approx 5$ ，将 Fe^{3+} 和 Al^{3+} 沉淀除去



(4) $86.94(b/134.0 - 2.5cd)/a$

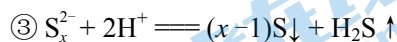
19. (12分)



(2) 取上层清液，加入 BaCl_2 溶液，产生白色沉淀

(3) \textcircled{1} 向溶液 2 中加入少量 KMnO_4 溶液，紫色不褪，证明无 SO_3^{2-}

\textcircled{2} 盐酸有还原性，可使 KMnO_4 溶液褪色，干扰 SO_3^{2-} 检验



(4) Na_2SO_3 热分解时只有 +4 价硫元素发生氧化还原反应，升价产物有 Na_2SO_4 ，降价产物有 S 是合理的。

关于我们

北京高考资讯是专注于北京新高考政策、新高考选科规划、志愿填报、名校强基计划、学科竞赛、高中生涯规划的超级升学服务平台。总部坐落于北京，旗下拥有北京高考在线网站（www.gaokzx.com）和微信公众平台等媒体矩阵。

目前，北京高考资讯微信公众号拥有30W+活跃用户，用户群体涵盖北京80%以上的重点中学校长、老师、家长及考生，引起众多重点高校的关注。
北京高考在线官方网站：www.gaokzx.com

北京高考资讯 (ID: bj-gaokao)
扫码关注获取更多



关注北京高考在线官方微信：[北京高考资讯 \(ID:bj-gaokao\)](https://www.gaokzx.com)，获取更多试题资料及排名分析信息。