

2023 北京房山初三一模

历史

本试卷共 12 页，共 70 分，考试时长 70 分钟。考生务必将答案答在答题卡上，在试卷上作答无效。考试结束后，将答题卡交回，试卷自行保存。

第一部分

本部分共 20 题，每题 1.5 分，共 30 分。在每题列出的四个选项中，选出最符合题目要求的一项。

1. 《中国国宝大会第二季》中介绍一件国宝：“它是迄今世界上出土的最重的青铜器，除了巨大的形制，还通过其精巧的工艺，呈现出雄伟庄严之感”。这件国宝是（ ）
A. 三星堆青铜面具
B. 四羊方尊
C. 司母戊鼎
D. 利簋
2. 《史记·商君列传》记载：“有军功者，各以率受上爵……修力（努力）本业，耕织致粟帛多者复其身。”上述材料可以用来研究（ ）
A. 武王伐纣的原因
B. 武王伐纣的影响
C. 商鞅变法的背景
D. 商鞅变法的内容
3. 一位学者认为，华夏民族大一统的国家伟业到了汉武帝时代，完成了从地理空间到精神空间的整合与凝聚。汉武帝在政治上、思想上采取的措施是（ ）
A. 分封制、以德治国
B. 郡县制、以法治国
C. 行省制、无为而治
D. 推恩令、尊崇儒术
4. 文学艺术是时代的反映。下面诗句所反映的某一时代的历史特征是（ ）

九天阊阖开宫殿，万国衣冠拜冕旒（注：冕旒这里指皇帝）。

——王维《和贾舍人早朝大明宫之作》

忆昔开元全盛日，小邑犹藏万家室。

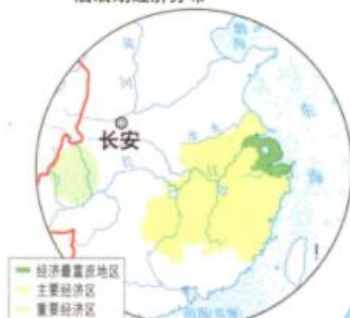
——杜甫《忆昔二首》

- A. 统一多民族国家的巩固与发展
 - B. 政权分立与民族交融
 - C. 繁荣与开放
 - D. 民族关系发展和社会变化
5. 下列一组示意图所反映的主题是（ ）

汉代经济分布



唐后期经济分布



宋代经济分布



- A. 中外文化交流
C. 疆域面积扩大

- B. 经济重心南移
D. 君主专制强化

6. 以下示意图呈现了中国对某一地区加强管辖的历史脉络，其中①处应为（ ）



- A. 设置宣政院
C. 平定大、小和卓叛乱

- B. 设置台湾府
D. 设立军机处

7. 历代本草记载“名称多杂”，错漏很多。李时珍搜书籍 800 余种，博采细勤，删繁补缺，辨疑正误，用了 27 年完成的著作（ ）

- A. 发展了中医学的理论和治疗方法
C. 被誉为“中国 17 世纪的工艺百科全书”

- B. 创编的“五禽戏”帮助人民强身健体
D. 总结了我国古代药物学成就

8. 下列人物与事件对应正确的是（ ）

- A. 林则徐——黄海海战
C. 左宗棠——收复新疆

- B. 洪秀全——虎门销烟
D. 邓世昌——金田起义

9. 近代思想家魏源在《古微堂内集》中明确提出怎样治理国家，一是学习西方的先进技术，二是变革旧的典章制度。下列体现其思想的实践探索是（ ）

- A. 洋务运动、义和团运动
C. 戊戌变法、义和团运动

- B. 洋务运动、戊戌变法
D. 戊戌变法、京汉铁路工人罢工

10. 1912 年 3 月 5 日，上海《时报》的一篇文章中提到“……共和成，专制灭，民国成，清朝灭，总统成，皇帝灭……”。材料反映的历史事件（ ）

- A. 沉重打击清朝的统治和外国侵略势力
C. 使中国人民接受了一次民主与科学的洗礼

- B. 宣告中国两千多年的君主专制制度的终结
D. 促进了马克思主义同工人运动的结合

11. 中国国民党第一次全国代表大会的召开，标志国共两党合作的正式建立，掀起大革命高潮。与此相关的是（ ）

- A. 护国运动

- B. 五四运动

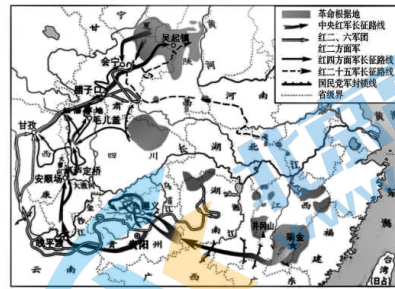
- C. 北伐战争

- D. 南昌起义

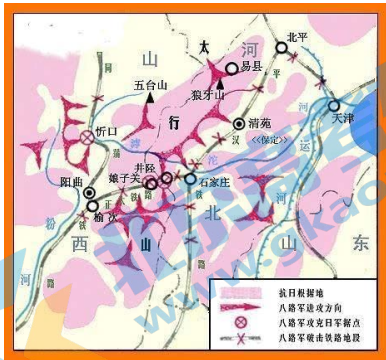
12. “粉碎了国民党反动派消灭红军的企图，保存了党和红军的基干力量，使中国革命转危为安。播下了革命种子，打开了中国革命的新局面。”其评价的军事行动是（ ）



A.



B.



C.



D.

13. 下面图文材料反映了 ()



人民代表步入第一届全国人民代表大会第一次会议会场

中华人民共和国的一切权力属于人民。人民行使权力的机关是全国人民代表大会和地方各级人民代表大会。

.....

中华人民共和国全国人民代表大会是最高国家权力机关。

——《中华人民共和国宪法》(1954年)

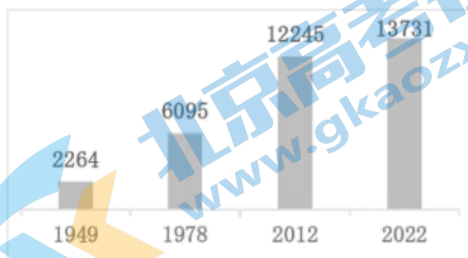
A. 人民代表大会制度的确立

B. 经济建设的顺利进行

C. 封建土地制度被废除

D. 政治协商制度的确立

14. 如图所示变化发生的原因是 ()

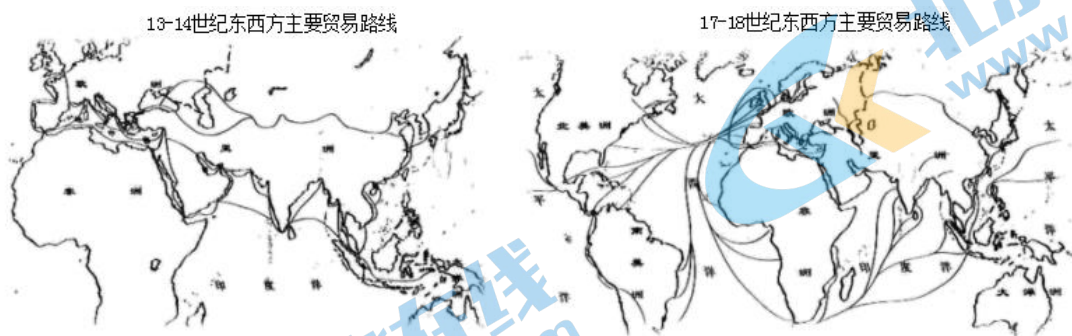


1949—2022年我国粮食产量(单位:亿吨)

- ①农村土地制度改革的不断深化②农业生产技术的不断进步
③国家强农惠农富农政策的扶植④国有企业改革的逐渐深入

A. ①②③ B. ①②④ C. ①③④ D. ②③④

15. 如图，促成东西方贸易路线发生变化的事件是（ ）



- A. 手工工场兴起 B. 租地农场兴起
C. 文艺复兴 D. 新航路开辟

16. 法国启蒙思想家孟德斯鸠提倡分权制衡的政治模式。体现这一模式的文献是（ ）

①1787年美国宪法②《解放黑人奴隶宣言》③《拿破仑法典》④《中华民国临时约法》
A. ①② B. ①③ C. ①④ D. ②③

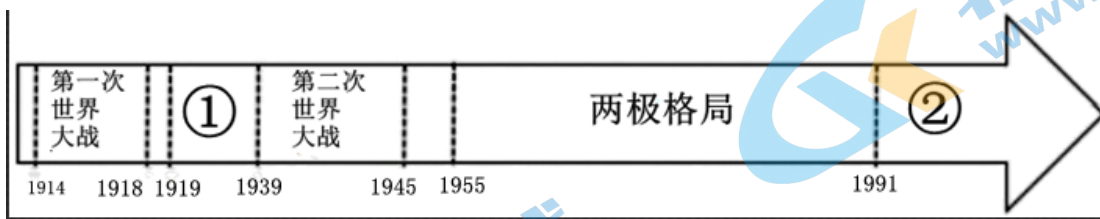
17. 19世纪中期的一部著作指出，有文字记载的全部历史都是阶级斗争的历史。资本主义社会必将被没有阶级剥削和压迫的共产主义社会所取代。这部著作是（ ）

- A. 《自然哲学的数学原理》 B. 《物种起源》
C. 《共产党宣言》 D. 《战争与和平》

18. 以下为第二次世界大战中的重要事件，按时间顺序排列正确的是（ ）

①德国突袭波兰②斯大林格勒战役开始③雅尔塔会议召开④签署《联合国宣言》
A. ①②③④ B. ②③④① C. ①③④② D. ①④②③

19. 下图是一位同学整理的世界格局演变的示意图，其中①②两处应填写的是（ ）



- A. ①巴黎和会②经济全球化 B. ①凡尔赛体系②经济全球化
C. ①华盛顿会议②世界多极化趋势 D. ①凡尔赛—华盛顿体系②世界多极化趋势

20. 中国历史发展与世界历史紧密相连。以下各项对应正确的是（ ）

序号	中国历史事件	世界历史背景
①	北宋与辽签订“澶渊之盟”	17世纪荷兰进行殖民侵略
②	中国民族工业出现“短暂的春天”	第一次世界大战

③	抗美援朝战争	美苏“冷战”对峙
④	中国加入世界贸易组织	经济全球化趋势

A. ①②③

B. ②③④

C. ①③④

D. ①②④

第二部分

本部分共 4 题，共 40 分。

21. 农耕·工业·信息

材料一 农耕文明的发展

 <p>碳化粟和黍</p>	 <p>铁犁铧</p>	 <p>都江堰</p>
<p>北京门头沟东胡林遗址发现早期栽培粟和黍的遗存，时间在距今 10000 年至 8000 年前。</p>	<p>战国时期，铁质农具被普遍使用。出现了在木犁上套 V 字形铁口铧的形式，即“铁犁铧”。</p>	<p>都江堰是一座综合性的水利枢纽，发挥出防洪、灌溉、水运等多方面的作用。</p>
 <p>《齐民要术》</p>	 <p>曲辕犁</p>	 <p>清代开荒执照</p>
<p>《齐民要术》总结了农、林、牧、副、渔等方面的生产技术，内容十分丰富。反映出当时农业生产技术已经达到很高水平。</p>	<p>曲辕犁操作时可自如地控制入土深浅，回转省力，适于精耕细作，大大提高了耕作的效率和质量。</p>	<p>清代鼓励官员、百姓开垦荒地。凡地方官招来的各处民人，开垦荒田给以印信执照。</p>

(1) 依据材料一并结合所学，概括影响中国古代农业发展的因素。

材料二 1764年的一天，英国纺织工哈格里夫斯无意中碰翻了纺车，纺锤由水平状态变为直立却依然转动不停。这个现象引起哈格里夫斯的思索……经过反复试验、改进，终于造出了一部有转轴、有滑轨、带有8个竖立纺锤的机器。新机器被各工厂采用，缓解了一度困扰着英国纺织业的“纱荒”。它的发明在纺织史上占有重要地位，恩格斯曾把它称之为“使英国工人的状况发生根本变化的第一个发明”。

——摘编自罗长青《纺纱机的发明与演变》

(2) 依据材料二，说出哈格里夫斯发明的新机器名称。结合所学，说说机器的发明和应用的影响。

材料三 在当今世界，信息资源是社会的共有财产，它的开发、管理和利用，直接关系到个人、企业和国家的发展。电子计算机与远程通信的结合产生的覆盖全球、24小时工作的通信网，使全球经济更紧密地连接在一起。从事信息的生产、存贮、分配、交换活动以及与此有关的各类工作的人数和比重，正在急剧增加。电子计算机及其通信网络加速了信息流动从而使生产与生活的分散化、多样化、小规模化、非群体化成了可能。

——摘编自宋振峰《论信息化社会的特点及影响》

(3) 依据材料三，说出信息化社会发展的表现。结合所学，说说信息化社会发展的条件。

22. 中国共产党第二十次全国代表大会上的报告提出：以中国式现代化全面推进中华民族伟大复兴。

材料一 中国式现代化根植于中华文化沃土。当前中国式现代化所依循的依法治国和以德治国相结合的治国方略，与我国古代“礼治为本、礼法合治”的执政传统异曲同工。在价值目标方面，中国式现代化内蕴小康社会、和谐社会、共同富裕等价值理念，可在中华优秀传统文化中得到印证。

——摘编自吕瑶《中国式现代化的出场逻辑、历史进程及价值意蕴》

(1) 列举中国古代体现“以德治国”和“依法治国”的主要学派。依据材料一概括中国式现代化与中国传统文化的关系。

材料二 中国共产党对中国式现代化道路的探索

历程	救国之路	兴国之路	富国之路	强国之路
时期	1921—1949年	1949—1978年	1978—2012年	2012年以来
主要探索	党的七届二中全会提出要“使中国稳步地由农业国转变为工业国”的现代化目标。	1964年底，周恩来总理在三届全国人大一次会议上提出：“把我国建设成为一个具有现代农业、现代工业、现代国防和现代科学技术的社会主义强国”。	党的十二大提出：“把马克思主义的普遍真理同我国的具体实际结合起来，走自己的路，建设有中国特色的社会主义”。确定党在新时期的历史任务是：逐步实现工业、农业、国防、和科学技术现代化……大会把20世纪末的奋斗目标由先前的四个现代化	以习近平同志为核心的党中央不断深化和拓展中国特色社会主义道路，统筹推进“五位一体”总体布局、协调推进“四个全面”战略布局，形成了中国式现代化道

			改为实现小康。	路。
史事	A	B	C	④“一带一路”

(2) 将下列史实填入相应位置。从以上四个阶段中任选一个阶段，依据材料二，结合所学相关史实，说明中国共产党现代化道路的探索对中华民族发展的贡献。

①一五计划②邓小平南方谈话③井冈山革命根据地建立

材料三 中国式现代化道路创造了经济快速发展的奇迹和社会长期稳定的奇迹，中国用几十年时间走完了发达国家几百年走过的工业化现代化历程。作为社会主义现代化之典范的中国式现代化，开辟了一条崭新的不同于西方现代化的发展道路，丰富了人类探索现代化的多元图景和多元路径，为人类文明多样性发展提供了新的样态。

——摘编自薛金华《中国式现代化的历史进程及世界意义》

(3) 依据材料三，概括中国式现代化道路的意义。

23. 大国外交，责任担当。

材料一 中国古代对外交往情况简表

朝代	史实（部分）
汉朝	自张骞通西域后，商人们将丝绸等货物，经西域运往中亚、西亚，再转运到欧洲，又把西域的物产运到中原。这条沟通欧亚的陆上交通道路就是A。
唐朝	唐朝时世界上有70多个国家或地区与中国往来，日本派遣唐使来华学习唐朝的先进文化。B东渡日本，传授佛经，传播医学、建筑等。玄奘西行天竺，带回大量佛经，根据他的口述，由弟子记录成书《大唐西域记》。
宋元	朝廷设立市舶司管理海外贸易，宋代时与中国有贸易关系的国家有五六十个，元代时达到140多个。中国的印刷术、指南针等输往西方，西方的药物、天文、历法、数学也传入中国。
明朝	C的过程中，先后到达亚洲和非洲的30多个国家和地区，最远到达非洲东海岸和红海沿岸。明朝引进南美洲的玉米、甘薯、马铃薯等。
清朝前期	清朝实行闭关锁国政策，只开放广州一处作为通商口岸。

(1) 将材料一表格填写完整。依据材料一并结合所学，概括中国古代对外交往的特点。

材料二

巴黎和会	万隆会议	G20 峰会
		
1919年1月, 战胜的协约国在巴黎凡尔赛宫召开会议, 讨论对德和约及战后安排。中国作为战胜国出席会议, 中国代表提出收回德国在山东的一切权益, 但是列强无视中国的正当要求, 将德国在山东的权益转给日本……中国代表最后拒绝在和约上签字。	1955年4月, 在印度尼西亚万隆, 来自亚洲、非洲的29个国家和地区的代表举行第一次亚非会议。周恩来在万隆会议上提出“求同存异”的方针, 为会议的成功作出了重要贡献。从万隆会议开始, 中国提出的和平共处五项原则, 受到国际社会的认可, 逐渐推行开来。	经济全球化出现波折, 世界经济复苏乏力等问题阻碍了世界经济健康发展, 需要各国共同面对和解决。2016年杭州G20峰会通过了《二十国集团领导人杭州峰会公报》, 中国作为世界第二大经济体和最大的发展中国家, 积极协调发达国家与新兴市场国家立场, 努力维护G20合作大局。

(2) 依据材料二并结合所学, 任选一次会议, 说出会议召开的背景。结合所学, 分析中国在国际会议中地位变化的原因。

材料三 2023年3月10日, 中国、沙特阿拉伯、伊朗在北京发表三方联合声明, 宣布沙特与伊朗达成协议, 同意恢复双方外交关系, 在两个月内重开双方使馆和代表机构, 安排互派大使, 探讨加强双边关系。三国表示, 愿尽一切努力, 加强国际地区和平与安全。沙特官员称, 中国领导人提出的倡议坚持睦邻友好原则, 促进了地区和世界的安全与稳定。伊朗官员称, 中国在支持其他国家扩大合作和发展关系方面发挥了建设性作用。

——摘编自《推动沙伊复交的中国方案, 为乌克兰危机指明方向》

(3) 依据材料三并结合所学, 分析“三方联合声明”的作用。谈谈中国在处理国际问题中所遵循的外交理念。

24. 铸牢中华民族共同体意识, 汇聚起实现中华民族伟大复兴的磅礴力量。

材料一 以下是有关中华民族形成和发展的部分史实

- ①传说黄帝和炎帝结成部落联盟, 逐渐形成华夏族, 因此后人尊崇炎帝和黄帝为中华民族的人文始祖。
- ②春秋时期, 中原的“诸华”“诸夏”在同周边的戎、狄、蛮、夷等民族长期交往和斗争中, 出现了大规模的民族交融。
- ③秦朝建立起我国历史上第一个统一的多民族的封建国家。
- ④西汉朝廷设置西域都护, 颁行汉朝的号令, 调遣军队, 征发粮草, 对西域地区进行有效的管辖。
- ⑤北魏孝文帝改革推行汉化措施, 汉语成为北方主要的通用语言, 西北民族的乐器、歌舞等受到汉族

人民的喜爱。

⑥宋与辽、宋与西夏的边界开设贸易场所，称为“榷场”。官府和商人用各种商品在此进行交换，互通有无。

⑦党项族首领元昊仿效唐宋制度，订立官制、军制和法律，并鼓励垦荒，发展农牧经济，还创制了西夏文字。

⑧元朝建立后，对西藏地区行使行政管理权，在这一地区设立宣慰使司都元帅府，由宣政院直接统辖，掌管西藏的军民各项事务。

⑨明长城处于北方游牧地区与农耕地区的连接线上，在它附近的多民族聚集的地区，建立了许多农牧贸易场所，使长城同时成为各民族交往的纽带。

⑩土尔扈特部回归祖国，为多民族国家的巩固和发展谱写了光辉的篇章。

(1) 选择材料一中相关史实，结合所学自定一个你想论述的观点，加以阐述或说明。(要求：观点正确，史论结合，条理清楚)

示例：观点：中国古代民族间的交往、交流与交融历史悠久。

选择的史实：①②

论述：华夏族是由传说中的炎黄部落结盟演变而来，春秋时期出现大规模民族交融，由此可见，民族交往、交流与交融历史悠久。

材料二 1935年日本策划“华北自治运动”，企图分裂中国。1935年12月，傅斯年（著名历史学家）发表《中华民族是整个的》一文，其中说：“我们中华民族，说一种话，写一种字，据同一的文化，行同一的伦理，俨然是一个家族”。1939年12月，毛泽东发表《中国革命和中国共产党》一文，明确指出：“中国是一个由多数民族结合而成的拥有广大人口的国家”；同时，强调在四亿五千万人口中，除了汉族占绝大多数外，还有藏、蒙、维吾尔、朝鲜等“共有数十种少数民族”。

——摘编自郑师渠《中华民族共同体意识的近代思想论争——从傅斯年、顾颉刚到费孝通、白寿彝》

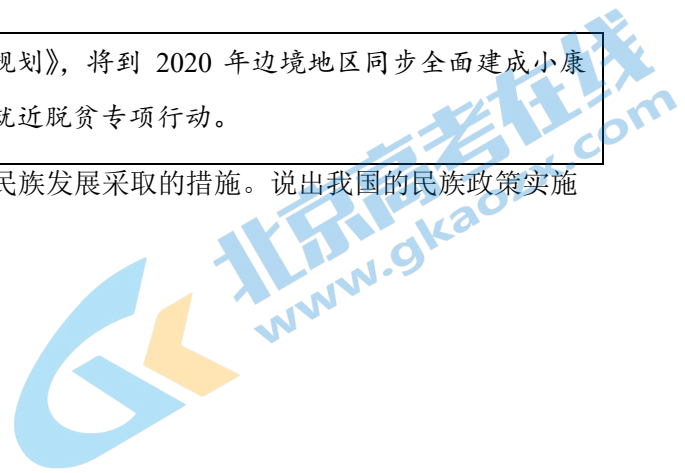
(2) 依据材料二分别概括傅斯年、毛泽东对“中华民族”认识的观点。结合时代背景，分析其作用。

材料三

时间	新中国成立后我国的民族政策摘编
1952年	颁布《中华人民共和国民族区域自治实施纲要》，对民族区域自治制度的实施，作了全面规定。
1984年	《中华人民共和国民族区域自治法》颁布实施。
1999年	党的十五届四中全会做出实施西部大开发战略的决定，支持中西部地区和少数民族地区加快发展。
2015年	发布《国务院关于加快发展民族教育的决定》，在学前教育阶段基本普及两年双语教育，义务教育阶段全面普及双语教育。

2017年	国务院办公厅发布《兴边富民行动“十三五”规划》，将到 2020 年边境地区同步全面建成小康社会确立为发展目标，部署实施边境地区就地就近脱贫专项行动。
-------	--

(3) 依据材料三，概括新中国成立以来国家为促进少数民族发展采取的措施。说出我国的民族政策实施的意义。



参考答案

第一部分

本部分共 20 题，每题 1.5 分，共 30 分。在每题列出的四个选项中，选出最符合题目要求的一项。

1. 【答案】C

【解析】

【详解】根据材料“它是迄今世界上出土的最重的青铜器”，结合所学知识，商代青铜器司母戊鼎，重大 832.84 千克，是迄今世界上出土的最重的青铜器，C 项正确；三星堆青铜面具不是迄今世界上出土的最重的青铜器，排除 A 项；四羊方尊中国现存商代青铜方尊中最大的一件，排除 B 项；利簋是已发现的最早的西周青铜器之一，排除 D 项。故选 C 项。

2. 【答案】D

【解析】

【详解】根据材料，结合所学可知，材料反映的是奖励耕战。战国时期，秦孝公为了增强秦国的实力，在争雄战争中处于有利地位，公元前 356 年，秦国商鞅在秦孝公的支持下进行变法，商鞅变法的法令规定，奖励耕战，生产粮食布帛多的人，可以免除徭役，根据军功大小授予爵位和田宅，没有战功的贵族不能获得爵位，商鞅变法这项规定最直接触动旧贵族“奶酪”，守旧贵族最为不满，因此材料可以用来研究商鞅变法的内容，D 项正确；武王伐纣的客观原因是纣王荒淫无道，民不聊生，排除 A 项；武王伐纣结束了商王朝的统治，对推动中国历史进步起到积极作用，排除 B 项；商鞅变法的背景有：秦孝公即位以后，决心图强改革，秦国井田制瓦解，其社会经济的发展落后于大国，为了增强秦国实力，使不被别国吞并，秦孝公引进人才等，排除 C 项。故选 D 项。

3. 【答案】D

【解析】

【详解】结合所学可知，汉武帝为了加强中央集权，在政治上和思想文化上分别采取了以下措施：政治上，重用人才，削弱诸侯国势力，实行“推恩令”，加强中央集权；思想文化上，“罢黜百家，独尊儒术”，把儒家学说作为封建社会的正统思想；举办太学，推行儒学教育，D 项正确；西周实行分封制，排除 A 项；秦朝推行郡县制，排除 B 项；元朝实行行省制，排除 C 项。故选 D 项。

4. 【答案】C

【解析】

【详解】根据所学知识可知，九天阊阖开宫殿，万国衣冠拜冕旒的意思是九重的皇宫打开了金红宫门，万国的使臣都躬身朝拜皇帝，反映了唐朝政府对外政策的开放；忆昔开元全盛日，小邑犹藏万家室描绘了唐玄宗统治前期，唐朝进入全盛时期，史称“开元盛世”的情景，诗句所反映的唐代繁荣与开放的历史特征，C 项正确；明清时期历史的基本特征是统一多民族国家的巩固与发展，排除 A 项；三国两晋南北朝时期是我国古代历史上的分裂时期，政治上，各个民族政权并立；三国两晋南北朝时期的政治特点是政权分立和民族融合，排除 B 项；辽、宋、夏、金、元时期的时代特征是民族关系发展和社会变化，排除 D 项。

故选 C 项。

5. 【答案】B

【解析】

【详解】根据示意图结合所学知识可知，汉代北方经济的发展远远超过南方，经济重心在北方，魏晋南北朝时期江南地区得到开发，唐朝时经济重心开始南移，宋代南方社会秩序相对较安定，北方人民大量南迁，为南方经济发展提供了大量劳动力，使南方自然资源继续得以开发利用，社会经济秩序发展，从而最终超过北方，全国经济重心转移到了南方，B 项正确；题干材料反映的是经济重心南移，与中外文化交流无关，排除 A 项；题干材料是汉代、唐代、宋代经济发展示意图，反映不出疆域面积扩大，排除 C 项；题干材料是汉代、唐代、宋代经济发展示意图，反映不出君主专制强化，排除 D 项。故选 B 项。

6. 【答案】B

【解析】

【详解】根据图示可知，中国对台湾地区加强管辖的历史脉络，1684 年，清朝设置台湾府，隶属于福建省，加强了台湾同祖国内地的联系，巩固了祖国的东南海防，B 项正确；宣政院，是中国元朝时期设立的一个直属中央政府管辖的国家机构，负责掌管全国佛教事宜并统辖吐蕃（今西藏）地区的军政事务，排除 A 项；清朝乾隆时期平定了大小和卓叛乱，加强了对天山南北的控制，排除 C 项；军机处是清朝官署名，也称“军机房”、“总理处”。是清朝时期的中枢权力机关，于雍正七年（1729 年）因用兵西北而设立，排除 D 项。故选 B 项。

7. 【答案】D

【解析】

【详解】根据所学知识可知，李时珍编写的《本草纲目》总结了我国古代药物学成就，丰富了我国医药学宝库，在世界医药史上占有重要地位，D 项正确；张仲景发展了中医学的理论和治疗方法，收集了许多民间药方，写成了《伤寒杂病论》，排除 A 项；华佗是东汉著名医学家，模仿虎、鹿、熊、猿、鸟五种禽兽的活动姿态，编了一套医学体操，这套体操叫做“五禽戏”，用以锻炼身体，排除 B 项；明朝杰出的科学家宋应星所著的《天工开物》，被外国学者称为“中国 17 世纪的工艺百科全书”，排除 C 项。故选 D 项。

8. 【答案】C

【解析】

【详解】根据所学知识可知，1875 年，清政府任命左宗棠为钦差大臣，督办新疆军务，1878 年除伊犁外，新疆重新回到祖国怀抱，1884 年，清政府在新疆设立行省，巩固了祖国的西北塞防，捍卫了祖国的领土和主权，C 项正确；1894 年 9 月 17 日，邓世昌在黄海海战中英勇殉国，排除 A 项；林则徐在广州的虎门销毁了鸦片二百多万斤，被称为虎门销烟，排除 B 项；1851 年 1 月 11 日，洪秀全和杨秀清、肖朝贵、冯云山、韦昌辉、石达开等人率众约两万人在广西桂平金田村发动武装起义，排除 D 项。故选 C 项。

9. 【答案】B

【解析】

【详解】根据所学知识，洋务运动主张向西方学习先进的技术，戊戌变法主张学习西方先进的制度，B 项正确；义和团运动是一场农民阶级发动的反帝运动，没有提出合理的主张，排除 AC 项；京汉铁路大罢工

是共产党领导的工人运动，与题意不符，排除 D 项。故选 B 项。

10. 【答案】B

【解析】

【详解】根据题干“1912年3月5日”“共和成，专制灭，民国成，清朝灭，总统成，皇帝灭”，结合所学可知，1911年爆发的辛亥革命推翻了清王朝的反动统治，宣告中国两千多年的君主专制制度的终结，1912年建立中华民国，B项正确；太平天国运动沉重打击清朝的统治和外国侵略势力，排除A项；新文化运动使中国人民接受了一次民主与科学的洗礼，排除C项；五四运动促进了马克思主义同工人运动的结合，排除D项。故选B项。

11. 【答案】C

【解析】

【详解】结合所学可知，在国共两党第一次合作中，在苏联和中国共产党的帮助下，1924年5月，国民党在广州的黄埔创办了黄埔军校，为中国革命培养了大批的军事政治人才，1926年7月进行北伐战争，掀起了国民革命运动，基本推翻了北洋军阀的统治，C项正确；护国运动是1915年-1916年，辛亥革命后发动的反对袁世凯复辟帝制的运动，排除A项；五四运动，是1919年5月4日发生在北京的一场以青年学生为主，广大群众、市民、工商人士等阶层共同参与的，通过示威游行、请愿、罢工、暴力对抗政府等多种形式进行的爱国运动，是中国人民彻底的反对帝国主义、封建主义的爱国运动，排除B项；南昌起义指在1927年8月1日中共联合国民党左派，打响了武装反抗国民党反动派的第一枪，揭开了中国共产党独立领导武装斗争和创建革命军队的序幕，排除D项。故选C项。

12. 【答案】B

【解析】

【详解】结合所学可知，红军长征的胜利，粉碎了国民党反动派消灭红军的企图，保存了党和红军的基干力量，宣传了中国共产党的主张，扩大了中国共产党的影响，使中国革命转危为安，其中B项地图从江西瑞金出发，在甘肃会师，属于红军长征，B项正确；A项是二次革命形势图，排除A项；C项是百团大战示意图，排除C项；D项是三大战役示意图，排除D项。故选B项。

13. 【答案】A

【解析】

【详解】结合所学可知，1954年第一届全国人民代表大会召开，颁布了《中华人民共和国宪法》，以国家根本大法的形式，确定了人民代表大会制度是我国的根本政治制度，A项正确；材料展示的是制度建设，与经济无关，排除B项；1952年《中华人民共和国土地改革法》颁布，废除了封建剥削的土地制度，排除C项；政治协商制度的确立是在第一届政治协商会议上，排除D项。故选A项。

14. 【答案】A

【解析】

【详解】根据“1949—2022年我国粮食产量图”结合所学知识可知，新中国成立以来我国粮食产量的变化的原因主要有持续推进农村改革激发活力，农村土地制度改革的不断深化，持续推进科技进步增强动力，将农业科技进步作为增加粮食等重要农产品有效供给、提高农产品质量的根本途径，财政支农总体规

模不断扩大，为粮食和农业发展提供了强有力的物质保障，中央高度重视粮食和农业生产，不断完善强农惠农政策，①②③符合题意，A项正确；题干材料反映的是我国农村粮食产量的增长，与国有企业改革无关，④不符合题意，B项、C项、D项都包含④，排除B项、C项、D项。故选A项。

15. 【答案】D

【解析】

【详解】根据图示可以看出贸易中心转移，结合所学可知，新航路开辟之前的贸易中心在地中海沿海，开辟之后转移到大西洋沿岸，D项正确；手工工场和租地农场兴起是资本主义萌芽到出现，与贸易中心转移无关，排除AB项；文艺复兴是思想解放运动与贸易无关，排除C项。故选D项。

16. 【答案】C

【解析】

【详解】根据所学知识可知，1787年宪法是由制宪会议制定的，它确立美国是一个联邦制国家，实行三权分立，总统是国家元首和政府首脑，享有行政权，国会掌握立法权，最高法院掌握司法权；《中华民国临时约法》以分权制衡的政治原则维护民主共和，①④符合题意，C项正确；《解放黑人奴隶宣言》规定从1863年起，废除叛乱各州的奴隶制，并允许奴隶作为自由人参加北方军，扭转了南北战争的局势，②不符合题意，排除A项；《拿破仑法典》是法国资产阶级大革命的重要成果，也是资产阶级国家最早的一部民法典，③不符合题意，排除B项；②③不符合题意，排除D项。故选C项。

17. 【答案】C

【解析】

【详解】根据材料“19世纪中期的一部著作”与“资本主义社会必将被没有阶级剥削和压迫的共产主义社会所取代”可以得出，这部著作论述了共产主义的道路与前途，结合所学知识，这出自1848年，马克思、恩格斯为共产主义者同盟起草的纲领《共产党宣言》，C项正确；《自然哲学的数学原理》为牛顿的著作，出版于17世纪，排除A项；《物种起源》为达尔文的著作，系统阐述生物进化理论，排除B项；《战争与和平》为俄国作家列夫·托尔斯泰创作的长篇小说，排除D项。故选C项。

18. 【答案】D

【解析】

【详解】结合所学知识，①德国突袭波兰时间是1939年9月1日；②斯大林格勒战役开始于1942年7月；③雅尔塔会议召开于1945年2月；④签署《联合国宣言》的时间是1942年1月，所以按时间顺序排列正确的是①④②③，D项正确；雅尔塔会议召开于1945年2月；签署《联合国宣言》的时间是1942年1月，排除A项；雅尔塔会议召开于1945年2月；签署《联合国宣言》的时间是1942年1月，排除B项；雅尔塔会议召开于1945年2月；签署《联合国宣言》的时间是1942年1月，排除C项。故选D项。

19. 【答案】D

【解析】

【详解】结合所学可知，一战后形成了凡尔赛—华盛顿体系，二战后，伴随着美苏争霸的进行，世界形成了两极格局，1991年苏联解体，标志着两极格局结束，世界暂时形成“一超多强”的局面，世界格局向多极

化方向发展，D项正确；图示展示的是世界政治格局的演变，巴黎和会和经济全球化不符合，排除AB项；华盛顿会议不属于政治格局，排除C项。故选D项。

20. 【答案】B

【解析】

【详解】根据所学知识，第一次世界大战期间西方列强放松对中国的侵略，使得中国民族工业出现“短暂的春天”；美苏“冷战”对峙期间，正值新中国成立不久，中国采取一边倒的外交策略，导致美国对中国长达20年的封锁，抗美援朝战争就发生在这一时期；经济全球化趋势加强的背景下，2001年中国加入世界贸易组织，同全球其他国家相互合作竞争，B项正确；北宋与辽签订“澶渊之盟”发生在11世纪，与17世纪荷兰进行殖民侵略没有关系，排除A项；北宋与辽签订“澶渊之盟”是我国民族内部事务，与荷兰17世纪的殖民无关，排除C项；北宋与辽签订“澶渊之盟”发生在11世纪，与17世纪荷兰进行殖民侵略没有关系，排除D项。故选B项。

第二部分

本部分共4题，共40分。

21. 【答案】(1) 农作物的栽培，水利工程的修建，农业生产工具的改进，农业生产技术的总结与推广，政府政策的支持等。

(2) 珍妮机。影响：机器的发明与应用，推动社会生产力的发展，将人类社会带入工业文明时代。

(3) 表现：信息资源社会共有；全球经济连接在一起；从事信息工作的人数和比重增加；生产与生活多样化。

条件：计算机网络的发展（互联网的普及），经济全球化。

【解析】

【小问1详解】

根据材料“北京门头沟东胡林遗址发现早期栽培粟和黍的遗存”“《齐民要术》总结了农、林、牧、副、渔等方面的生产技术，内容十分丰富。反映出当时农业生产技术已经达到很高水平”结合所学知识可得出，中国古代农业发展的因素是农作物的栽培，农业生产技术的总结与推广；根据材料“铁犁铧”“曲辕犁操作时可自如地控制入土深浅，回转省力，适于精耕细作，大大提高了耕作的效率和质量”结合所学知识可得出，中国古代农业发展的因素是农业生产工具的改进；根据材料“都江堰是一座综合性的水利枢纽，发挥出防洪、灌溉、水运等多方面的作用”结合所学知识可得出，中国古代农业发展的因素是水利工程的修建；根据材料“清代鼓励官员、百姓开垦荒地”结合所学知识可得出，中国古代农业发展的因素是政府政策的支持等。

【小问2详解】

根据材料“1764年的一天，英国纺织工哈格里夫斯无意中碰翻了纺车……经过反复试验、改进，终于造出了一部有转轴、有滑轨、带有8个竖立纺锤的机器”结合所学知识可知，1765年，哈格里夫斯发明了纺纱机，将它命名为“珍妮机”，得出哈格里夫斯发明的新机器名称是珍妮机；根据所学知识可得出，机器的发明和应用的影响是机器的发明与应用，推动社会生产力的发展，将人类社会带入工业文明时代。

【小问3详解】

根据材料“在当今世界，信息资源是社会的共有财产”可得出，信息化社会发展的表现是信息资源社会共有；根据材料“电子计算机与远程通信的结合产生的覆盖全球、24小时工作的通信网，使全球经济更紧密地连接在一起”可得出，信息化社会发展的表现是全球经济连接在一起；根据材料“从事信息的生产、存贮、分配、交换活动以及与此有关的各类工作的人数和比重，正在急剧增加”可得出，信息化社会发展的表现是从事信息工作的人数和比重增加；根据材料“电子计算机及其通信网络加速了信息流动从而使生产与生活的分散化、多样化、小规模化、非群体化成了可能”可得出，信息化社会发展的表现是生产与生活多样化；根据材料信息“电子计算机与远程通信的结合产生的覆盖全球”“全球经济更紧密地连接在一起”“电子计算机及其通信网络加速了信息流动”结合所学知识可得出，信息化社会发展的条件有计算机网络的发展（互联网的普及），经济全球化。

22. 【答案】（1）儒家法家。中国式现代化植根于中华文化，吸收传统文化中的治国理念和思想，是继承和发展的关系。

（2）A. ③井冈山革命根据地建立 B. ①一五计划 C. ②邓小平南方谈话。选取某一阶段史实说明该时期的贡献：观点正确，言之成理即可。

答案示例：1921—1949年：中国共产党探索出中国革命道路，领导中国人民取得抗日战争、解放战争的胜利，最终取得新民主主义革命的伟大胜利。中国共产党带领全国人实现民族独立、人民解放的历史任务。为中国的现代化建设创造了前提条件。

1949—1978年：新中国成立后，共产党领导中国人民进行社会主义革命，经过一五计划，三大改造，召开第一届全国人民代表大会，初步建立社会主义基本制度，为当代社会的一切发展进步奠定了根本的政治前提和制度基础。在四个现代化思想指导下，党领导人民全面推进社会主义建设，取得工业、科技、国防等领域巨大的建设成就，为社会主义现代化建设奠定了奠定物质技术基础。

1978—2012年：党的十一届三中全会，开创了中国特色社会主义道路，进行改革开放，对内经济体制改革，对外开放，把实现小康作为奋斗目标，开创社会主义现代化建设新局面。改革开放取得了巨大成就，国家的综合国力和国际影响力大幅度提高，中国走向富强之路。

2012—今在习近平新时代中国特色社会主义思想的指导下，形成“五位一体”总体布局、“四个全面”战略布局，形成中国式现代化道路。深入实施“一带一路”，筹建和成立亚洲基础设施投资银行等，完成了脱贫攻坚，建成了小康社会，综合国力的持续增强。正在为实现中华民族伟大复兴，实现社会主义现代化强国的第二个百年奋斗目标前进。

（3）促进了中国经济的快速发展和社会稳定，开辟了现代化发展的新道路，为人类文明的发展提供新样态。

【解析】

【小问1详解】

根据所学知识，儒家孔子推崇西周的制度，主张以德治国，反对苛政。法家韩非反对空谈仁义，强调以法治国，树立君主的权威，建立中央集权专制统治。根据材料一“与我国古代“礼治为本、礼法合治”的执政传统异曲同工”“在中华优秀传统文化中得到印证”可知，中国式现代化来源于中国传统文化，吸收传统文化中的治国理念和思想，是继承和发展的关系。

【小问 2 详解】

第一小问：一五计划属于新中国成立后兴国之路，从此我国开始改变工业落后的面貌，向社会主义工业化迈进，因此 B 为①一五计划；邓小平南方谈话解放了人们的思想，对即将召开的党的十四大具有十分重要的指导作用，而且对中国整个社会主义现代化建设事业具有重大而深远的意义。因此 C 为②邓小平南方谈话；井冈山革命根据地建立发生于新民主主义革命时期，开辟了“中国农村包围城市，武装夺取政权”的革命道路，因此 A 为③井冈山革命根据地建立。第二小问：本小问在回答时应注意史实叙述正确，观点明确，符合这一时期主要探索特征（答案不唯一，言之有理即可）。

【小问 3 详解】

根据材料三可知，中国式道路“创造了经济快速发展的奇迹和社会长期稳定的奇迹”，具有“崭新的不同于西方现代化”的特点，具有“丰富了人类探索现代化的多元图景和多元路径，为人类文明多样性发展提供了新的样态。”的作用，因此中国式现代化道路促进了中国经济的快速发展和社会稳定，开辟了现代化发展的新道路，为人类文明的发展提供新样态。

23. 【答案】(1) A. 丝绸之路 B. 鉴真 C. 郑和下西洋

特点：范围广，内容丰富，以和平交往为主，由积极主动交往逐渐转向被动交往

(2) 巴黎和会：第一次世界大战，协约国获胜，召开巴黎和会。

万隆会议：二战后，很多亚洲和非洲国家取得独立，这些国家面临巩固民族独立、发展经济的重任，迫切需要加强国际合作，营造和平的国际环境。

G20 杭州峰会：经济全球化趋势加强、和平与发展成为时代主题，中国经济实力的不断增强。

原因：新中国成立后奉行独立自主的和平外交政策；改革开放以来，综合国力不断提升，国际影响力扩大；国际地位提高等。

(3) 作用：促进地区和世界的安全与稳定；为国家扩大合作和发展发挥建设性作用；彰显中国外交在中东地区的影响力。

外交理念：和平、发展、合作共赢、构建人类命运共同体。

【解析】

【小问 1 详解】

根据所学知识可知，自张骞通西域后，商人们将丝绸等货物，经西域运往中亚、西亚，再转运到欧洲，又把西域的物产运到中原，这条沟通欧亚的陆上交通道路就是著名的“丝绸之路”，得出 A 处填丝绸之路；唐朝时，受日本僧人邀请，鉴真东渡日本，传授佛经，传播医学、建筑等，为中日文化交流作出了卓越的贡献，得出 B 处填鉴真；1405—1433 年，郑和七次下西洋，郑和下西洋的过程中，先后到达亚洲和非洲的 30 多个国家和地区，最远到达非洲东海岸和红海沿岸，得出 C 处填郑和下西洋；根据材料信息“丝绸等货物、西域的物产、佛经、医学、建筑等，印刷术、指南针等输往西方，西方的药物、天文、历法、数学传入中国，明朝引进南美洲的玉米、甘薯、马铃薯等”可得出中国古代对外交往的特点是内容丰富，以和平交往为主；根据材料信息“经西域运往中亚、西亚，再转运到欧洲”“宋代时与中国有贸易关系的国家有五六十个”“先后到达亚洲和非洲的 30 多个国家和地区，最远到达非洲东海岸和红海沿岸”可得出中国古代对外交往的特点是范围广；根据材料信息“汉朝、唐朝、宋元、明朝的积极对外交往”和材料

“清朝实行闭关锁国政策，只开放广州一处作为通商口岸”结合所学知识可得出，中国古代对外交往的特点是积极主动交往逐渐转向被动交往。

【小问2详解】

根据材料“1919年1月，战胜的协约国在巴黎凡尔赛宫召开会议，讨论对德和约及战后安排”结合所学知识可得出巴黎和会召开的背景是第一次世界大战，协约国获胜，召开巴黎和会；根据材料“1955年4月，在印度尼西亚万隆，来自亚洲、非洲的29个国家和地区的代表举行第一次亚非会议”结合所学知识可知，二战后，民族解放运动空前高涨，越来越多的亚洲和非洲国家取得独立，新独立的国家都面临巩固政权、发展经济的共同问题，得出万隆会议召开的背景是二战后，很多亚洲和非洲国家取得独立，这些国家面临巩固民族独立、发展经济的重任，迫切需要加强国际合作，营造和平的国际环境；根据材料“经济全球化出现波折，世界经济复苏乏力等问题阻碍了世界经济健康发展，需要各国共同面对和解决。2016年杭州G20峰会通过了《二十国集团领导人杭州峰会公报》”结合所学知识可得出，G20杭州峰会召开的背景是经济全球化趋势加强、和平与发展成为时代主题，中国经济实力的不断增强；根据所学知识可知，新中国成立后奉行独立自主的和平外交政策，增进了世界各国对新中国和平外交政策的认同，改革开放以来，中国综合国力显著增强，对国际社会的贡献越来越大，深刻改变了世界经济发展格局，得出中国在国际会议中地位变化的原因有新中国成立后奉行独立自主的和平外交政策；改革开放以来，综合国力不断提升，国际影响力扩大；国际地位提高等。

【小问3详解】

根据材料“三国表示，愿尽一切努力，加强国际地区和平与安全。沙特官员称，中国领导人提出的倡议坚持睦邻友好原则，促进了地区和世界的安全与稳定。伊朗官员称，中国在支持其他国家扩大合作和发展关系方面发挥了建设性作用”结合所学知识可得出，“三方联合声明”的作用是促进地区和世界的安全与稳定；为国家扩大合作和发展发挥建设性作用；彰显中国外交在中东地区的影响力；根据所学知识可知，中国在外交战略方面，相继提出和平与发展是世界的主题，中国倡导并主张互利共赢的国际合作，坚持走和平发展的道路，坚持多边主义和新安全观，构建持久和平共同繁荣的和谐世界等重大命题与理念，得出中国在处理国际问题中所遵循的外交理念是和平、发展、合作共赢、构建人类命运共同体。

24. 【答案】(1) 示例：观点：少数民族进行主动进行汉化改革，促进民族交融；选择的史实：⑤⑦

论述：北魏孝文帝推行汉化改革，移风易俗，在很大程度上促进了民族的融合，党项族首领元昊在政治、经济、文化上学习汉族，促进了民族交融，由此可见，少数民族汉化改革，促进了民族交融。（观点、史实、论述）

(2) 傅斯年：中华民族是整个的，中华民族是一个统一的和不可分割的民族共同体。毛泽东：中国是一个统一的多民族国家。

作用：日本侵华，企图分裂中国，宣传中华民族是统一的整体，增强中国人统一的国家观念和民族意识，有利于团结全民族抗战。

(3) 措施：建立完善法律法规，确保民族区域自治政策的实行，保障少数民族当家做主的权利。国家通过西部大开发战略，兴边富民行动等帮助少数民族发展经济，脱贫攻坚。国家重视少数民族地区教育的发展。

意义：维护民族团结，巩固祖国统一，促进各民族共同发展，促进各民族共同繁荣，加强了少数民族的国家认同，铸牢中华民族共同体意识。

【解析】

【小问 1 详解】

根据材料“北魏孝文帝改革推行汉化措施，汉语成为北方主要的通用语言，西北民族的乐器、歌舞等受到汉族人民的喜爱”“党项族首领元昊仿效唐宋制度，订立官制、军制和法律，并鼓励垦荒，发展农牧经济，还创制了西夏文字”结合所学知识可知，北魏孝文帝改革，缓解民族与民族之间的矛盾，在很大程度上促进了民族的融合，党项族首领元昊的改革，推动了西夏王朝的封建化，促进了民族交融，得出观点“少数民族进行主动进行汉化改革，促进民族交融”；选择的史实是⑤⑦，运用所学知识加以论述，北魏孝文帝推行汉化改革，移风易俗，在很大程度上促进了民族的融合，党项族首领元昊在政治、经济、文化上学习汉族，促进了民族交融，由此可见，少数民族汉化改革，促进了民族交融。

【小问 2 详解】

根据材料“傅斯年（著名历史学家）发表《中华民族是整个的》一文，其中说：‘我们中华民族，说一种话，写一种字，据同一的文化，行同一的伦理，俨然是一个家族’”可得出，傅斯年对“中华民族”认识的观点是中华民族是整个的，中华民族是一个统一的和不可分割的民族共同体；根据材料“毛泽东发表《中国革命和中国共产党》一文，明确指出：‘中国是一个由多数民族结合而成的拥有广大人口的国家’”可得出，毛泽东对“中华民族”认识的观点是中国是一个统一的多民族国家；根据材料“1935 年日本策划“华北自治运动”，企图分裂中国”结合所学知识可知，九一八事变爆发后，民族危机急剧加深，1935 年，日本策划推动华北五省“自治运动”，华北事变后，中华民族面临亡国灭种的危机，在这种情况下，傅斯年、毛泽东对“中华民族”认识的观点，增强了中国人统一的国家观念和民族意识，得出结合时代背景，傅斯年、毛泽东对“中华民族”认识的观点起到的作用是日本侵华，企图分裂中国，宣传中华民族是统一的整体，增强中国人统一的国家观念和民族意识，有利于团结全民族抗战。

【小问 3 详解】

根据材料“1952 年颁布《中华人民共和国民族区域自治实施纲要》，对民族区域自治制度的实施，作了全面规定。1984 年《中华人民共和国民族区域自治法》颁布实施”可得出，新中国成立以来国家为促进少数民族发展采取的措施是建立完善法律法规，确保民族区域自治政策的实行，保障少数民族当家做主的权利；根据材料“1999 年党的十五届四中全会做出实施西部大开发战略的决定，支持中西部地区和少数民族地区加快发展”“2017 年国务院办公厅发布《兴边富民行动“十三五”规划》”可得出，新中国成立以来国家为促进少数民族发展采取的措施是国家通过西部大开发战略，兴边富民行动等帮助少数民族发展经济，脱贫攻坚；根据材料“2015 年发布《国务院关于加快发展民族教育的决定》，在学前教育阶段基本普及两年双语教育，义务教育阶段全面普及双语教育”可得出，新中国成立以来国家为促进少数民族发展采取的措施是国家重视少数民族地区教育的发展；根据材料结合所学知识可得出，我国的民族政策实施的意义是维护民族团结，巩固祖国统一，促进各民族共同发展，促进各民族共同繁荣，加强了少数民族的国家认同，铸牢中华民族共同体意识。

关于我们

北京高考在线创办于 2014 年，隶属于北京太星网络科技有限公司，是北京地区极具影响力的中学升学服务平台。主营业务涵盖：北京新高考、高中生涯规划、志愿填报、强基计划、综合评价招生和学科竞赛等。

北京高考在线旗下拥有网站门户、微信公众平台等全媒体矩阵生态平台。平台活跃用户 40W+，网站年度流量数千万量级。用户群体立足于北京，辐射全国 31 省市。

北京高考在线平台一直秉承 “精益求精、专业严谨” 的建设理念，不断探索 “K12 教育+互联网+大数据” 的运营模式，尝试基于大数据理论为广大中学和家长提供新鲜的高考资讯、专业的高考政策解读、科学的升学规划等，为广大高校、中学和教科研单位提供 “衔接和桥梁纽带” 作用。

平台自创办以来，为众多重点大学发现和推荐优秀生源，和北京近百所中学达成合作关系，累计举办线上线下升学公益讲座数百场，帮助数十万考生顺利通过考入理想大学，在家长、考生、中学和社会各界具有广泛的口碑影响力

未来，北京高考在线平台将立足于北京新高考改革，基于对北京高考政策研究及北京高校资源优势，更好的服务全国高中家长和学生。



微信搜一搜

北京高考资讯