

北京市东城区 2016—2017 学年度第二学期高三综合练习(二)

2017.5

文科综合

本试卷共 12 页, 满分 300 分。考试时长 150 分钟。考生务必将答案答在答题卡上, 在试卷上作答无效。考试结束后, 将本试卷和答题卡一并交回。

第一部分 (选择题, 共 140 分)

本部分共 35 小题, 每小题 4 分, 共 140 分。在每小题列出的四个选项中, 选出最符合题目要求的一项。

图 1 为摩拜单车投放城市最新分布示意图。读图, 回答 1、2 题。

- 摩拜单车投放的城市均
 - 为省会城市
 - 位于水运发达地区
 - 地处亚热带地区
 - 位于人口界线以东
- 摩拜单车在投放城市掀起市民骑行热潮, 市民选择摩拜单车主要是
 - 方便出行
 - 出行方式多样
 - 减少环境污染
 - 缓解交通拥堵

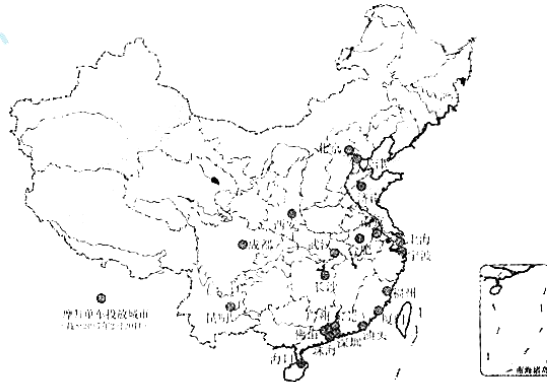


图 1

图 2 为某日 08 时和 20 时海平面气压分布图(单位: 百帕)。读图, 回答 3 题。

- 从 08 时到 20 时, 图中
 - ①地气温升高, 天气由晴转阴
 - ②地风向偏北, 风力逐渐减弱
 - 热带气旋向西移动并逐渐增强
 - 冷、暖锋位置基本没有改变

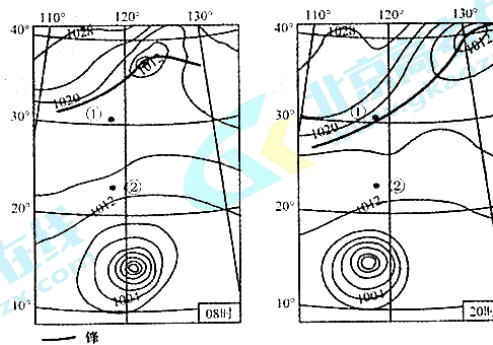


图 2

图3是亚洲沿某一方向的地形剖面图。读图，回答4、5题。

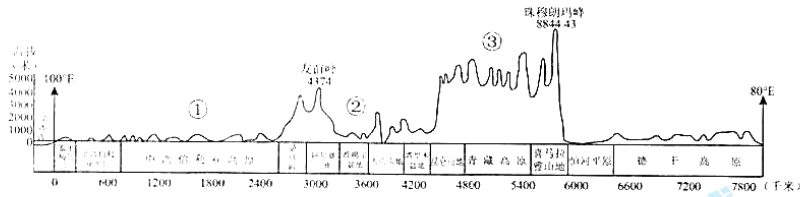


图3

4. 亚洲
- A. 图示剖面线地势起伏大且中部高南北低
 - B. 图示剖面线大致呈西北—东南走向
 - C. 平原面积小且主要分布在北部和南部
 - D. 高原山地面积广大故平均海拔居各大洲之首
5. 图示
- A. ①地河流结冰期短、多自南向北流
 - B. ②地各河流只参与陆地内循环
 - C. ③地流水和冰川侵蚀地貌广布
 - D. 最高点和最低点的温差约为 36℃

图4是我国部分主要旅游城市接待入境游客变化统计图。读图，回答6~8题。

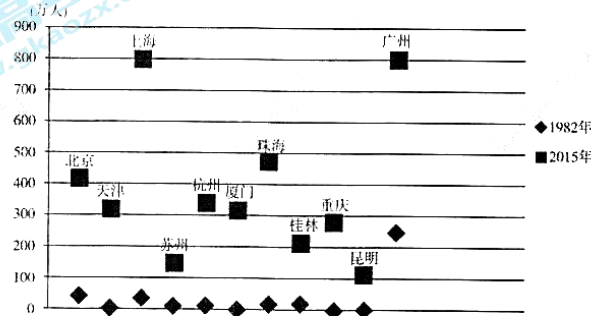


图4

6. 图中入境游客数量
- A. 各城市有增有减
 - B. 广州市增幅最大
 - C. 上海市一直最大
 - D. 2015年各城市差异更大
7. 图中所示
- A. 城市等级越高入境游客数量越多
 - B. 入境游客数量的变化趋势说明我国旅游城市的基础设施日趋完善
 - C. 珠海市入境游客数量较多的主要原因是旅游资源历史文化价值高
 - D. 昆明市入境游客数量不断增多的主要原因是距国际客源市场近
8. 关于桂林山水的正确叙述有
- ①喀斯特地貌主要是流水堆积形成
 - ②乘船观两岸风景效果最佳
 - ③游览的最佳时间在12月份
 - ④组成岩石主要是变质岩
 - ⑤美学价值和科学价值突出
- A. ①③ B. ②① C. ②⑤ D. ③⑤

图 5 为四国国旗图案，国旗能反映该国的宗教或文化。读图，回答 9 题。




图 5

9. 图中反映的宗教或文化依次是

- A. 佛教 伊斯兰教 儒家文化 基督教
B. 佛教 儒家文化 伊斯兰教 基督教
C. 儒家文化 伊斯兰教 佛教 基督教
D. 儒家文化 佛教 基督教 伊斯兰教

珊瑚生长在水温 21—38°C，平均盐度 3.5‰，海水清澈度高，水温垂直与季节变化小的海域。图 6 为珊瑚环礁形成示意图。读图，回答 10、11 题。




图 6

10. 据图判断珊瑚环礁的形成过程为

- A. ③②④①
B. ②③①④
C. ①③②④
D. ④②③①

11. 珊瑚环礁主要分布在

- A. 温带大陆架地区
B. 低纬度浅海海域
C. 河流注入的海域
D. 寒暖流交汇处

12. 有史学家将春秋战国时期视作中国的“化成时代”，意为经此时期古代制度、文化等基本定型。下列史实可以印证这一观点的是

- ①王位世袭制取代了禅让制
②分封制确定了中央对地方的分级管理模式
③官僚制取代了世卿世禄制
④诸子百家构造了中国传统文化的基本精神
- A. ①②
B. ③④
C. ①③
D. ②④

13. 中国古代注重设立管理环境及自然资源的机构。隋唐时期设虞部负责专门管理山林事务，其政令执行的程序是

- A. 中书省—礼部—虞部
B. 门下省—刑部—虞部
C. 枢密院—户部—虞部
D. 尚书省—工部—虞部

14. 观察图 7，下列选项中符合本时期的史实是

- A. 汉字书法艺术进入自觉阶段
B. 中医临床学的理论基础已奠定
C. 古代经济重心的南移已经完成
D. 汲取西方科技成果的农书出版

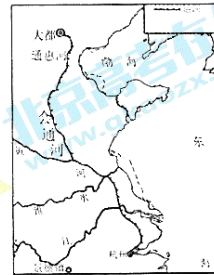


图 7

15. 对于“格物致知”一说，王阳明解释为：“格物者，格其心之物也，格其意之物也。”“是去其心之不正，以全其本体之正。”这说明了心学
- A. 奠定中国古代传统文化的基础 B. 强调人的历史责任和使命感
C. 对程朱理学既有继承又有创新 D. 是带有早期启蒙性质的进步思潮
16. 有学者认为：1840 年以来中国对西方的反应，依次经历了“技术的反应”、“制度的反应”、“观念的反应”和“组织的反应”四个阶段。按此观点，下列组合对应正确的是
- A. 发昌机器厂——农工商总局——《新青年》—— 中国共产党建立
B. 京师同文馆——轮船招商局——《新学伪经考》——同盟会成立
C. 金田起义——总理衙门——《钦定宪法大纲》——国民党一大召开
D. 大生纱厂——京张铁路局——《新民主主义论》—— 一届人大召开
17. 下列选项中对表 1 的正确解读是

表 1 近代中国国内市场商品情况

	1890 年	1908 年	1920 年
市场商品总值(单位:亿两)	11.74	22.99	66.10
市场商品中洋货所占比重(%)	12.09	21.62	12.84

- A. 市场商品总值增长主要是由于民族资本主义经济持续发展
B. 洋货所占比重上升是因为上海等东南沿海通商口岸的开放
C. 市场商品总值增长最快时期主要由于清政府放宽设厂限制
D. 洋货所占比重下降是因为抵制洋货、使用国货运动的开展
18. 民国初年上海流行单页公历“月份牌”，其绘画主题多为女性。图 8 是一张“月份牌”，它可以用来研究近代
- ①服饰变革 ②交通变化
③女性地位 ④礼仪革新
- A. ①② B. ③④ C. ①③ D. ②④
19. 1937 年 9 月，国民党公布了由共产党提交的《国共合作宣言》，主要内容是提出抗日的三项主张：争取中华民族之独立自由与解放；实现民权政治，召开国民大会，以制定宪法与规定救国方针；实现中国人民之幸福与愉快的生活。该材料表明
- A. 反对帝国主义的国民革命运动开始 B. 广泛的抗日民族统一战线建立
C. 中华民族自尊心、自信心极大提高 D. “和平民主团结”建国方针实现
20. 1694 年，威廉和玛丽从荷兰引进银行制度，批准成立英格兰银行并带头认股。该银行为社会集资和私人剩余资金找到了一个去处，在伦敦商人中大受欢迎。这说明当时英国
- A. 工业革命的经济基础已经形成 B. 伦敦成为国际金融中心和证券中心
C. 已确立了海上霸权和殖民霸权 D. 光荣革命为经济发展提供政治保障



图 8

21. 下列各项史实与结论之间逻辑关系正确的是

	史实	结论
A	梭伦按财产多寡将全体雅典公民划分为四个等级并享有相应权利	标志着雅典民主制最终确立
B	亚历山大二世签署“法令”，规定农民有人身自由和一般公民权	为俄国资本主义发展提供了自由劳动力
C	凯末尔下令废除苏丹·哈里发制度，实行政教分离	标志着土耳其的社会生活走向了世俗化
D	甘地主张恢复以手纺车为标志的农村工业，来对抗西方工业文明	促进了印度的经济发展，符合时代发展潮流

22. 美国“自 1930 年以来，单单联邦官僚机构就扩大了 5 倍；1933 年以后的 10 年内，仅总统发布的行政命令就达 3556 项。与此相对应，立法部门和司法部门的权力受到削弱”。这说明

- A. 各州的自主权被剥夺
 B. 三权分立原则被破坏
 C. 自由放任政策被放弃
 D. 总统行政权力被扩大

23. “马歇尔计划”在欧洲自由贸易和经济结构调整方面发挥了重要作用。它通过强化欧洲经济合作组织、欧洲内部贸易和欧洲货币体系来引导欧洲合作的新形式出现。这表明“马歇尔计划”

- A. 推动欧洲经济一体化进程
 B. 建立了欧美平等伙伴关系
 C. 形成了战后世界经济秩序
 D. 主导了战后世界政治格局

24. 不知何时，有些中小学校采用音乐代替了枯燥原始的铃声。世界名曲，民族乐曲进入了校园，根据不同需要，提示学生上课、下课、进校和离校。学校的这种做法是为了

- A. 拓展音乐课程，计时鉴赏并举
 B. 改革单一铃响，中西文化合璧
 C. 提醒作息時間，引导审美情趣
 D. 价值导向作息，告知时间节点

25. 志愿者，指的是在不为任何物质报酬的情况下，能够主动承担社会责任而不获取报酬，奉献个人时间和行动的人。北京五星级志愿者数据已与市经信委社会信用记录共享，政府为优秀志愿者免费提供公共资源和服务等，商业机构也将根据自身能力为志愿者提供激励途径。这一做法

- ①有利于弘扬社会主义核心价值观，培养良好社会风尚
 ②有利于推动社会信用制度建设，完善社会信用体系
 ③既提倡奉献精神，也兼顾按劳取酬
 ④鼓励志愿者奉献，提升科学文化修养

- A. ①②
 B. ①③
 C. ②③
 D. ②④

26. 今年 4 月 1 日，中央决定设立“雄安新区”。有专家指出，“雄安新区”的设立，不仅能疏解北京的人口压力，治理“大城市病”，而且北京有关单位和人才的外迁也能促进“雄安新区”向“智慧城市”发展。这体现了

- A. 事物发展是一个量变和质变的过程
 B. 事物发展是前进性与曲折性统一的过程
 C. 事物发展是一个主观与客观统一的过程
 D. 事物发展是联系运动变化的过程

27. 体现与图9“我的未来我做主”中哲学道理相一致的语句是

- A. 人尽其才,物尽其用
- B. 因材施教,量体裁衣
- C. 以人为本,各显其能
- D. 人各有志,各有所好



28. 沉迷于成绩往往会自满,过多地纠结于不足会导致悲观;总在挫

折中徘徊会丧失斗志,盲目乐观可能会高傲自大。认识事物需要

- ①坚持普遍性与特殊性相结合
- ②从实际出发,坚持两点和两分法
- ③既要把握整体,又要关注部分
- ④既要实事求是,又要坚持适度原则

- A. ①②
- B. ①③
- C. ②③
- D. ②④

29. 以百望山为界,海淀被分为山前山后两个地区。近年来,山后地区人口的增加和不同功能区的发展,对现有的公共交通线网造成了一定的压力。某中学公交研学小组经过研究调查,并请有关专家指导,为山后地区公交线网做了一份详细的优化调整建议。你认为下列递交该建议的途径及其理由正确的是

- ①联系区人大代表——人大代表应密切联系群众,了解民情反映民意
- ②反映给新闻媒体——反映民意是新闻媒体的社会责任,保障公民决策权
- ③投递到“市长信箱”——政府了解社情民意,促进决策科学化民主化
- ④提交给区委书记——区委应科学执政,依法行使公共服务职能

- A. ①②
- B. ①③
- C. ②③
- D. ②④

30. 1947年5月1日,内蒙古自治区成立。内蒙古自治区是在中国共产党领导下成立的第一个省级少数民族自治区,开创了我国民族区域自治制度的先河。七十年来,内蒙古自治区实现了民族平等和各民族大团结,各民族之间的交往与合作的密切程度前所未有,政治、经济、文化等各项事业迅猛发展。这表明

- A. 自治权是民族区域自治制度的核心内容
- B. 各民族共同繁荣是民族平等和民族团结的前提
- C. 民族区域自治制度有利于发展社会主义民族关系
- D. 民族区域自治制度是我国发展进步的根本制度保障

31. 2017年4月16日,土耳其总统埃尔多安发表讲话,宣布修宪公投获得通过。修宪公投的主要内容为土耳其由现行的议会制改为总统制。这意味着,在土耳其

- ①议会的控制权必将被削弱
- ②执政实权从总理手中落入总统手中
- ③总统由议会获得多数席位政党产生
- ④颁布法令的权力由总统落入内阁手中

- A. ①②
- B. ①③
- C. ②③
- D. ②④

32. 经济学中常用总效用和边际效用来分析消费者行为。总效用(TU)是指从消费一定量某种物品中所得到的总满足程度。边际效用(MU)是指某种物品的消费量每增加一单位所增加的满足程度。根据边际效用递减规律,推测下表中 TU、MU 分别最有可能是

巧克力的消费量	总效用	边际效用
0	0	0
1	30	30
2	50	20
3	TU	MU

- A. 80 20 B. 70 20 C. 50 10 D. 60 10
33. 早晨上班,王先生从家附近骑 ofo 单车到地铁站,再乘坐地铁到单位上班。节假日和朋友一起租辆车、租上户外旅行装备,开启旅行模式……这种方式给王先生带来了极大的便利,他表示,这种“租——用——还”的循环性消费切实提升了他的生活幸福感,身边的很多年轻朋友都很喜欢这种方式。王先生的这种生活方式
- ①绿色低碳,提高了资源利用效率
②让租赁的商品被多次利用,提高了商品的价值
③属于钱货两清的消费,获得了商品的使用权
④体现求实消费心理,契合环保理念
- A. ①② B. ①④ C. ②③ D. ③④
34. 2017 年 4 月 21 日起,东南沿海高铁部分票价进行了优化调整,其中部分线路的票价有了一定程度的上涨,这使高铁票价问题再次引发关注。不考虑其他因素,下列能支持高铁车票价格上涨的理由是
- ①铁路部门降低运营成本提升服务品质
②高铁票价过低导致铁路部门盈利困难
③东南沿海高铁沿线地区经济发达,旅客高铁出行需求旺盛
④作为替代品的公路汽车票和飞机票的价格长期处于低位
- A. ①② B. ①④ C. ②③ D. ③④
35. 坚持“房子是用来住的,不是用来炒的”定位,北京市近期出台以下政策:严格执行“认房又认贷”(即只要名下有房产,再买房就算二套房;如果名下无房产,但有过房贷记录,也算二套房);将二套房首付款提高至 60%;包括首套房在内的贷款年限均从原先的最高 30 年缩短到 25 年。北京楼市迅速降温。这一政策的传导机制是
- ①提高二套房首付比例→购买二套房的资金增加→投机性购房减少→楼市降温
②认房又认贷→二手房的供给量减少→购房者观望情绪加重→楼市降温
③缩短贷款年限→购房贷款比例降低→购房需求减少→楼市降温
④缩短贷款年限→增加还款压力→购房需求减少→楼市降温
- A. ①② B. ①④ C. ②③ D. ②④

第二部分 (非选择题,共 160 分)

36. (36 分)读图 10、11 及文字材料,回答下列问题。

斯图加特位于德国西南部内卡河谷地,是巴登-符腾堡州的首府,该州第一大城市。

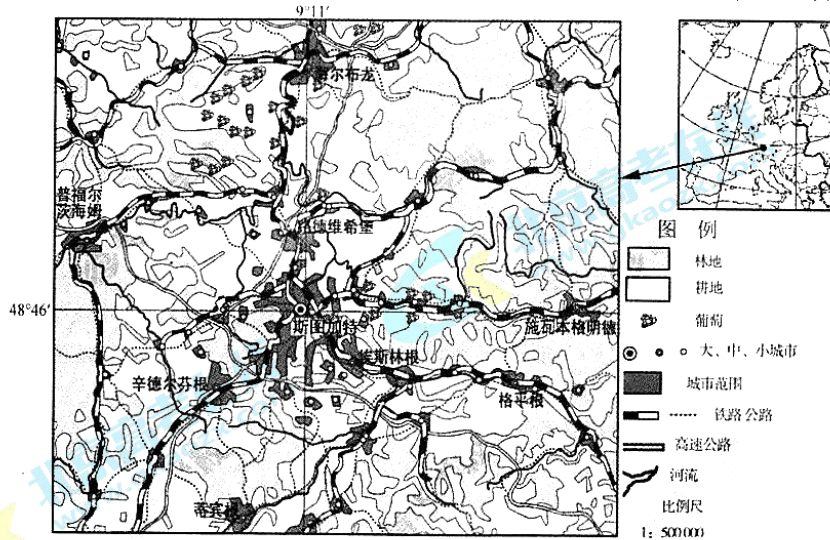


图 10

(1)描述斯图加特的气候特征,并解释其成因。(10 分)

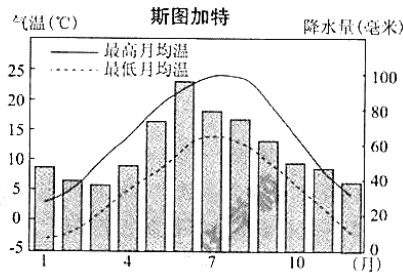


图 11

葡萄生长需要较多热量;喜水,但水分过多也有害生长;最适合在日照充足、土壤疏松等条件的地方栽培。德国有世界纬度最高的葡萄产区。图示地区的小气候为葡萄种植提供良好的条件,该地葡萄种植历史悠久。

(2)说出图 10 中葡萄种植区的分布特点,并说明地形对葡萄种植有利影响。(8 分)

(3)概述图 10 所示地区城市的主要特点。(8 分)

在二十世纪四十年代后期,斯图加特汽车产业集群开始形成。斯图加特是奔驰之乡。近百年来,奔驰汽车以其过硬的质量标准,推陈出新的创新能力一直是汽车领域的先驱者。

(4)分析斯图加特奔驰汽车工业发展的主要条件。(10 分)

37. (34分) 交流和交往推动文明的发展。

材料一 在古代中西交往的高路上,不断有中外古币重见天日。图12为出土的两枚钱币:宋朝“崇宁通宝”铜钱(崇宁:宋徽宗年号,钱文为宋徽宗亲笔)和大食国(中国古代对阿拉伯帝国的称呼)金币,金币中心钱文为:“安拉之外别无他神”。



图12

(1) 阅读图文材料,概括两种货币的不同点。(8分)

材料二

表2 近代中国留学热潮简表

出现时间	留学国家	概况
1872年—1875年	美国	多数从事工矿、铁路、教育、电报事业,如詹天佑、唐国安(清华大学首任校长)等
1896年—1911年	日本	多数学习政法、军事、师范教育等专业,如宋教仁、陈独秀、李四光等
1922年—1934年	苏联	培养了邓小平、刘伯承等一批共产党人
1944年—1949年	美国	著名的有邓稼先、杨振宁等一批科学家

(2) 分别说明四次留学热潮出现的国内背景,并总述留学生在中国近现代史上的贡献。(12分)

材料三 16世纪,全球范围内的国家交往开始。西班牙在美洲开拓殖民地,进行殖民掠夺。17世纪,荷兰采取占领沿海据点进行贸易交流的方式与亚非国家交往。

18世纪法国掀起启蒙运动,北美、欧洲一些国家受其影响建立起新的政治制度。英国开展工业革命,扩大了欧美国家在世界范围内的优势,使其在跟亚非国家交往时方式转变为全面侵略。

19世纪英、法等国进一步利用不平等条约取得的特权,进行商品和资本输出。1869年日本提出修约要求,至1910年收回全部主权。一战后中国提出废除部分不平等条约要求被拒绝,二战期间中国与列强所签订的不平等条约皆告废止。

1945年美、苏、中、土等国签署《联合国宪章》,宣告联合国成立。1962年亚、非、拉美主要产油国成立石油输出国组织,采取共同行动反对西方国家对产油国的剥削和掠夺。1989年亚太经济合作组织成立,1991年中国加入,使亚太地区在世界经济和政治格局中的地位 and 作用提高。

(3) 依据材料,提炼出一个观点。并结合材料和所学史实,对该观点进行论述。(14分) 要求:观点明确,史实充分,史论结合,逻辑清晰。

38. (29分) 加快创新发展, 培育壮大新动能, 促进中国经济转型。

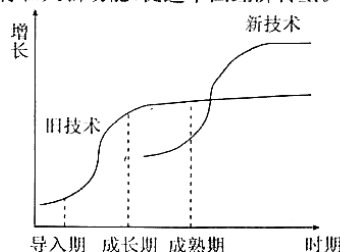


图 13 新旧技术的“S型曲线”示意图

(1) 研究表明, 各技术的萌生、发展、演进都遵循自己的“S型曲线”。图 13 反映什么经济现象? (3分)

本届政府立足创业创新, 不断创新政府管理, 优化政府服务(表 3), 促进新旧动能接续转换, 以知识、技术、信息、数据等新生产要素为支撑的经济发展新动能正在形成。

表 3 本届政府改革举措(部分)

1	产权是所有制的核心, 保护产权是坚持社会主义基本经济制度的必然要求。发布了《中共中央国务院关于完善产权保护制度依法保护产权的意见》
2	简政放权、放管结合、优化服务改革稳步推进, 2013 年以来, 国务院分 9 批审议通过取消或下放的行政审批事项共 618 项, 目前, 全国平均每天新增市场主体 4 万户
3	全面推开“营改增”, 同时, 进一步清理规范基金和收费, 再取消、调整和规范一批行政事业性收费项目; 公开中央和各地收费目录清单
4	推动高校普及创业教育, 支持各类培训机构开展创业培训, 运用社会各类资源建设创业孵化基地

(2) 结合材料, 运用《政治生活》相关知识, 说明上述改革举措是如何推动创业创新的。(12分)

新旧动能转换, 实则是一个国家发展到一定阶段, 资源禀赋、成本因素各方面发生变化, 发展模式必须作出相应调整, 这种变化是不以人的意志为转移的。长期以来, 我国经济增长主要靠高投资、高消耗、高污染、低效益“三高一低”的方式来拉动, 再加上出口导向型增长模式, 随着资源和环境约束, 国际经济持续复杂低迷, 外贸进出口总值出现负增长, 这说明, 之前的发展模式到了不得不转变的时候。培育新动能, 改造传统动能, 就是在经济发展新常态下从单纯追求速度到更多追求质量的转变, 促进中国经济转型。

加快新旧动能转换, 要积极培育“无中生有”的新产业、新业态等新动能。“无中生有”, 要瞄准“新”字做文章, 用好创新这把“金钥匙”, 聚力培育新兴产业让“新芽长成大树”, 引导新兴产业走向“高大上”。同时, 培育新动能并非简单地“另起炉灶”, 也不意味着抛弃旧动能, 而是要着力促进“有中生新”, 改造升级传统产业让“老树生新枝”。“无中生有”和“有中出新”两者相辅相成、有机统一。

当前, 供给和需求不平衡、不协调的矛盾和问题日益凸显, 突出表现为供给侧对需求侧变化的适应性调整明显滞后。培育新动能、增强发展后劲, 关键是推进供给侧结构性改革。

新旧动能转换的过程既是培育新动力和新动能的过程, 也是各种风险和矛盾加快释放的过程, 是一个漫长而痛苦的过程, 不可能一蹴而就。

(3) 结合上述材料, 运用《生活与哲学》的相关知识, 谈谈对“新旧动能转换”的认识。(14分)

39. (14分)某中学正在举行“时事小达人”实践活动。请你也参与进来。

共享经济日渐进入国人的生活,共享单车已成为共享经济的典型代表。共享单车从本质上来讲是企业行为,资本不断涌入单车市场,在摩拜单车和 ofo 引领了“共享单车”风潮后,更多单车公司纷纷加入战局,特别是在一线城市,共享单车发展迅猛,共享单车订单如潮涌,传统自行车行厂家应接不暇。

共享单车是城市慢行系统的一种模式创新,为在城市生活的人们出行提供了一种新的选择,也多了一份方便;还解决了曾经难以治理的城市顽疾——黑摩的。而与此同时,车辆损毁、违规占道、私人侵占、单车押金去向不透明、单车企业运营管理维护不善……所引发的城市管理难题等也接踵而至。

有人说,共享单车是公共管理的显微镜,凸显了法律法规、企业管理等在面对新现象、新挑战时的短板。

结合材料,运用《经济生活》相关知识,以“共享经济下的企业与政府”为题,写一篇短评。(14分)要求:观点明确,逻辑清晰,论述合理,200字左右。

40. (20分)社会在不断发展。无论是历史还是现在,都需要用辩证、综合视角去审视。阅读图文材料,回答问题。

《马可·波罗行记》(简称《行记》)向西方较为全面地介绍了中国。但关于马可·波罗是否到过中国,中外史学界争论已久。

表4 两派争论情况

	怀疑论者	肯定论者
争论1	《行记》没有记载中国代表性事物如:印刷术、汉字、长城、茶、筷子、缠足等	关于当时宫廷的奢华、南方城市的繁荣、市场的活跃,《行记》比任何汉文史料和外国作品更为详细、生动
争论2	在中国古代史籍中,没有找到任何可供考证的关于记载马可·波罗的史料	马可·波罗当时只是一个管理盐务的小官,不会被记入史籍。同时期罗马教皇派往中国的特使团,也从未出现在中国历史文献中
争论3	《行记》记载马可·波罗襄阳献炮,与《元史》所载史实不符	《行记》对当时中国的货币、食盐生产与税收体制的大量准确而详尽的描述,当时的欧洲、阿拉伯或波斯文献中无书能及
争论4	各种印刷本的《行记》采用的人名和地名是波斯文或阿拉伯文,他可能只到过波斯,可能从波斯史料抄来	《行记》原稿已经遗失,由人代笔流传下来,加上翻译和多次转抄,抄本近200个
共识	西方世界对中国较为全面的了解始于《行记》,并引发海外探险,推动中西交流	

(1)概括两派学者的分析角度,任选一组争论进行说明。(10分)

北京在元朝开始成为都城，称大都，马可·波罗曾到过当时的大都。现在北京飞速发展。2017年4月1日中共中央、国务院印发通知，决定设立国家级“雄安新区”（河北雄县、容城、安新三县及周边地区），疏解北京非首都功能。

(2)评价“雄安新区”设立的自然条件。(10分)

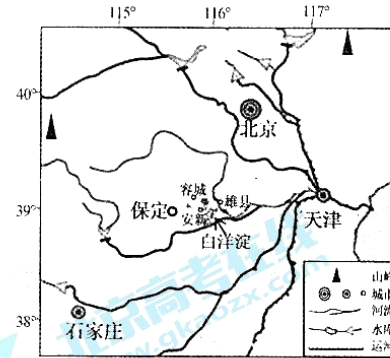


图 14

41. (27分)地理环境是人类社会赖以存在和发展的必要前提;社会实践活动推动人类社会的发展。阅读图文材料,回答问题。

武汉位于长江流域重要的地段,自古就有“为政之要,在于江防”。

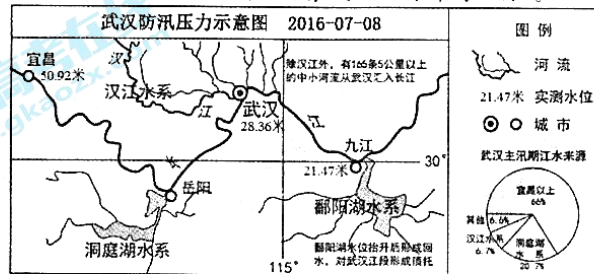


图 15

(1)分析主汛期时,长江武汉段洪水“易进难出”的原因。(10分)

1995年,时任美国财政部长萨默斯认为:“将来,当历史学家回顾我们这个时代的时候,他们视为突出的事件也许不是两个集团之间斗争的结束。这么多的国家转向以市场为基础的经济,也许是更震动更大的变化。这是一场把亚洲、东欧、拉美和非洲几十亿人送上通往繁荣的快速电梯的运动。”

(2)结合材料和所学,指出“这场运动”出现的历史背景。并用相关史实说明中国是如何主动融入这场运动的。(8分)

90年前,中国革命从井冈山出发,井冈山成为中国革命的起点;90年后的今天,井冈山又在全国实现率先脱贫“摘帽”,以在新时代的奋斗和成功实践,为伟大的井冈山精神再次注入了新的活力。

井冈山精神是井冈山率先脱贫“摘帽”的力量之源,井冈山人民传承红色基因,不等不靠,撸起袖子加油干。深入开展“脱贫好故事”活动,广泛宣传自强不息、自主发展脱贫的先进典型,着力营造“扶贫不扶懒”的社会氛围。组织“雨露计划”等教育培训,加强农村实用技术培训,提高脱贫致富的专业技能。推进“旅游+”,大打井冈旅游牌,深入挖掘各地旅游资源,推进整合农业观光、农家乐、休闲度假等差异化、个性化的全域旅游,开启了旅游脱贫的绿色新通道……

(3)结合材料,运用《文化生活》相关知识,说明井冈山人民是如何实现脱贫“摘帽”的。(9分)

北京市东城区 2016—2017 学年度第二学期高三综合练习(二)

2017.5

文科综合参考答案及评分标准

第一部分 (选择题,共 140 分)

题号	1	2	3	4	5	6	7	8	9	10
答案	D	A	B	A	C	D	B	C	C	A
题号	11	12	13	14	15	16	17	18	19	20
答案	B	B	D	C	C	A	D	C	B	D
题号	21	22	23	24	25	26	27	28	29	30
答案	B	D	A	C	A	D	D	D	B	C
题号	31	32	33	34	35					
答案	A	D	B	C	B					

第二部分 (非选择题,共 160 分)

36. (36 分)

(1)(10 分)

夏季凉爽,冬季温和,气温年较差小,全年气候温和;全年降水量在 600 毫米以上,各月降水较均匀。

成因:位于中纬度地区,终年受西风及北大西洋暖流的影响。

(2)(8 分)

分布集中(不均),沿河谷分布;

位于河谷地区,地势低平;便于耕作(土层深厚);热量较好。

(3)(8 分)

(大、中等、小)城市沿河流、交通线分布;等级高的城市数量少,等级低的城市数量多;

等级高的城市服务种类多,级别高、服务范围大(城市有等级差异、服务功能有差异);

等级高的城市间相距远,等级低的城市相距近。

(4)(10 分)

历史悠久(汽车产业集聚,规模大);交通便利(基础设施完善);国内外市场广阔;

生产工艺先进(技术水平高,科技投入大);劳动力充足且素质高。

37. (34 分)

(1)(8 分)

材质:宋朝货币为铜质铸币,大食货币为贵金属货币。

形制:宋朝货币为圆形方孔钱,大食货币为圆形无孔。

钱文:宋朝货币以年号为主,大食货币以宗教语言为主。

高三文科综合参考答案及评分标准 第 1 页(共 4 页)

文化：中国钱币反映皇权至上和世俗性的特点，大食钱币体现阿拉伯民族的文化特色和宗教特色。

(2)(12分)

国内背景：

19世纪70年代，清政府开展洋务运动，急需科技等方面的人才。

19世纪90年代，甲午战争中国战败，向日本学习以挽救民族危机。

中国共产党成立后，走新民主主义革命道路，向社会主义国家苏联学习。

抗战胜利前后，中美两国关系密切，向美国学习先进的科学技术。(8分)

贡献：

学习了国外先进的科学技术、政治理念、文化教育思想等，推动了中国的现代化进程。(4分)

(3)(14分)

评分标准：

水平一：12—14分

观点清晰，表述准确；(4分)

能够运用2—3项以上层次和角度的史实论证观点，史实与观点联系紧密，具有较强的说服力；(4—6分)

史论结合，表述层次清楚，逻辑无误。(4分)

水平二：8—11分

观点比较清晰，表述比较准确；(3分)

能够运用1至2项以上层次和角度的史实论证观点，史实与观点联系比较紧密，能够说明观点，史实比较充分；(3—5分)

史论结合，表述层次比较清楚，逻辑基本无误。(2—3分)

水平三：4—7分

能提出观点；(2分)

只运用1项层次和角度的史实论证观点，史实不充分但能够说明观点；(1—3分)

史论结合，表述层次不清楚，逻辑性较差。(1—2分)

水平四：0—3分

无明确观点；仅能列举1项或同一层次或角度的史实，没有论述；(2分)

没有结合史实，仅仅进行论述，论述合理；(1分)

无观点，表述错误。(0分)

(29分)

(1)(3分)

一个技术在初期进步比较缓慢，一旦进入成长期就会呈现指数型增长，但是技术进入成熟期就走向曲线顶端，会出现增长率放缓、动力缺乏的问题。而这个时候，会有新的技术在下方蓬勃发展，最终超越传统技术，形成新的“S型曲线”。新旧技术的转换更迭，共同推动形成技术不断进步的高峰(或新动能支撑起新发展)。

(2)(12分)

依法保护各种所有制经济组织和公民财产权，增强人民群众财产财富安全感，增强社会

高三文科综合参考答案及评分标准 第2页(共4页)

信心,形成良好预期,增强各类经济主体创业创新动力。转变政府职能,创新管理优化服务,处理好政府与市场关系,极大激发了市场活力和社会创造力。组织社会主义经济建设职能,政务公开,减轻企业税费负担,促进企业分工细化和技术进步。组织社会主义文化建设职能,加强公共服务,健全创业服务体系。(其他言之有理可酌情给分)

(3)(14分)

知识角度:客观规律与主观能动性;对立统一推动事物发展;辩证否定;主要矛盾;前进性与曲折性统一等。

等级水平	等级描述
水平 4 (10—14分)	观点鲜明,能明确表达自己的见解;紧扣问题,全面展开论述;知识运用准确、贴切;逻辑严密,条理清晰。
水平 3 (5—9分)	观点比较明确,能表达自己的见解;能扣住问题展开论述;知识运用比较准确、贴切;逻辑性较强,有条理。
水平 2 (1—4分)	观点不明确;论述不能集中指向问题,罗列知识;知识运用不正确;论述缺乏逻辑,条理性差。
水平 1 (0分)	应答与试题无关,或重复试题内容,或没有应答。

39. (14分)

等级	等级描述
水平 4 (10—14分)	观点明确,能准确运用《经济生活》知识阐述观点,论述合理全面,有一定深度,逻辑清晰。
水平 3 (5—9分)	观点比较明确,能在一定程度上运用《经济生活》知识阐述观点,论述基本合理,逻辑性较强,但不够全面。
水平 2 (1—4分)	观点不够明确,能简单地运用《经济生活》知识阐述观点,语义不完整、不连贯,堆砌不相关知识。
水平 1 (0分)	应答与试题无关;重复试题内容;没有应答。

40. (20分)

(1)(10分)

分析角度:

考察《行记》本身所记载的当时中国的社会风貌;通过史籍进行考证;通过《行记》不同版本的文本特色进行分析;都从中西交流的视角认同《行记》的客观影响。(8分)

说明示例:

争论1:《行记》没有记载中国代表性社会风貌,所以马可·波罗可能没有到过中国。
《行记》中描写的宫廷和都市生活详细生动,无其他史料可及,所以马可·波罗到过中国。
争论2:个人经历没有被记录在中国史书中;作为一个传教士和商人来到中国,是普通老百姓,不会被记入中国史书。不能因史书没有记录就认为他没有到过中国。
争论3:《行记》中所描述的史实与中国史料不符;所记录的中国当时的经济生活准确详尽,无其他外文文献可及,无书可抄。
争论4:没有采用中国文字写作。《行记》记录的内容可能是从其他与中国有交往的国家史料中摘抄而来,所以,马可·波罗可能没到过中国。流传下来的《行记》并非原稿,版本众多。只有亲身经历者才能写出这样的行记,所以,马可·波罗到过中国。(2分,注:任选一个作答即可)

(2)(10分)

地理位置较优越,地处北京、天津和保定中部,靠近大城市;(环境优美,生态环境好)地势平坦,发展空间大;近白洋淀,水源比较充足;温带季风气候区易发生干旱和洪涝灾害;平原地势低平,不利洪水排泄。

41.(27分)

(1)(10分)

武汉地势低平,排水不畅(洞庭湖湖区调蓄能力减少);(2分)

汛期时上游河段干流和支流来水量大,落差大,流速较快;(4分)

武汉以下河段支流多汇入干流水量大,下游水位较高,落差小,排水速度较慢;(4分)

(2)(8分)

背景:两级格局瓦解,世界多极化趋势加强;经济全球化速度加快。(4分)

史实:中国逐步建立起社会主义市场经济体制,进一步扩大对外开放,形成全方位、多层次的新格局;2001年,中国加入世界贸易组织,主动融入世界大市场。(4分)

(3)(9分)

优秀文化能够增强人的精神力量,在人们认识世界和改造世界的过程中转化为物质力量。井冈山精神增强人民战胜困难的斗志,激发脱贫的内生动力。文化与经济相互交融。大力发展旅游;发展教育事业,加强教育培训,提高劳动者素质,为实现脱贫“摘帽”提供物质基础和智力支持。加强社会主义精神文明建设创建活动,加强社会主义核心价值观,引领良好风尚,为脱贫“摘帽”提供精神动力。(9分)(其他言之有理可酌情给分)



扫描二维码,关注北京高考官方微信!

查看更多北京高考相关资讯!

官方微信公众号:bj-gaokao