

# 2021 北京东城高三（上）期末

## 历史

2021.1

本试卷共 8 页，100 分。考试时长 90 分钟。考生务必将答案答在答题卡上，在试卷上作答无效。

### 第一部分

本部分共 15 题，每题 3 分，共 45 分。在每题列出的四个选项中，选出最符合题目要求的一项。

1. 下列现象所体现的政治制度，按其出现的时间顺序排列正确的是

- ①臣民称之曰“陛下”，其言曰“制诰”，史官记事曰“上”
- ②十年，伐邾、冀戎，初县之。十一年，初县杜、郑
- ③内侍官先设御案，请上文书，即退出门外。待御览毕，发内阁拟票
- ④及第全胜十政官，金鞍镀了出长安。马头渐入扬州郭，为报时人洗眼看

A. ②①④③    B. ③①④②    C. ④②③①    D. ①③④②

2. 以下为 1991 年从唐朝金乡县主（李渊的孙女）与其丈夫合坟墓中出土的彩绘作品，据此可得出的结论是



骑马带猓獠狩猎女俑

骑马带猎豹狩猎胡人俑

- ①较为开放的社会风气    ②男女平等的社会地位
- ③宽松开明的政治氛围    ④多元文化的交往交融

A. ①③    B. ②④    C. ②③    D. ①④

3. 学者李伯重认为明清时代江南一些市镇出现了早期“工业化”，“（手）工业在经济中所占的地位日益重要，甚至超过了农业所占的地位。”下列选项，可以为这种观点提供支持的是

- A. 盖邑布（无锡棉布）轻细不如松江
- B.（桐乡）其地人多而田少，往往佃于他处
- C.（塘栖）官道舟车之要冲，丝缕粟米皆聚贸于此
- D.（嘉定）仅种木棉一色，以棉织布，以布易银，以银余米

4. 1906年, 康有为撰写《法国大革命记》等文, 称: “孔子早明太平世之法, 而必先以据乱世、升平世乃能致之, 苟未至其时, 实难躐等(逾越等级)”, 主张“由专制而立宪而共和”。这表明康有为

- ①主张以暴力革命推翻清朝统治      ②借助儒学宣传自身学说  
③承认历史是进化的且有阶段性      ④与孙中山的政治目标完全不同

A. ①②    B. ②③    C. ①④    D. ③④

5. 下表是 19 世纪末 20 世纪初民族工业企业创办情况表。据此可知, 这一时期的民族工业企业

企业名称	创办人的身份(当时或以前)	资本关系
南通大生纱厂	张謇(翰林院编修)	领用官机, 并征集商人资本
崇明大生纱厂	张謇(翰林院编修)	有恽莘耘(道员)、王丹揆(按察使)、刘聚卿(参议)股份
上海振华纱厂	吴祥林(买办)	中英合资, 与怡和洋行有关
上海公益纱厂	祝大椿(怡和买办)	中英合资, 与怡和洋行有关


- ①以经营重工业为主      ②以官督商办为主, 标志近代工业起步  
③出现新的经营形式      ④对国内官僚势力和外国资本有依赖性

A. ①②    B. ①③    C. ②④    D. ③④

6. 1920年5月1日, 在北京、上海等十余座城市, 陈独秀、李大钊等人领导群众进行了庆祝五一劳动节的集会和演讲, 并散发传单, 打出了“劳工神圣”“资本家的末日”等标语, 《新青年》杂志出版“劳动节纪念号”, 介绍五一节由来和欧美工人阶级的斗争。这反映了

- A. 工人阶级开始登上政治舞台    B. 中国先进分子广泛宣传马克思主义  
C. 中国共产党早期的中心工作    D. “联俄、联共、扶助农工”三大政策

7. 孙中山在《国民政府建国大纲》中提出: “一完全自治之县, 其国民有直接选举官员之权, 有直接罢免官员之权……每县地方自治政府成立之后, 得选国民代表一员, 以组织代表会, 参预中央政事。”由此可见孙中山主张



- A. 直接民主 B. 主权在民  
C. 三权分立 D. 民生主义

8. 凭证、契约具有一定的史料价值，右图是一张土地分配证，可用于研究

- A. 太平天国的《天朝田亩制度》  
B. 辛亥革命期间的“平均地权”  
C. 国共十年对峙时期的土地革命  
D. 过渡时期的农业合作化运动

9. 改革开放以来，对经济体制改革目标的提法多次调整（见下表），由此可知

会议	正式提法
中共十二大	计划经济为主，市场调节为辅
中共十二届三中全会	有计划的商品经济
中共十三届四中全会	计划经济与市场调节相结合的经济体制
中共十四大	建立社会主义市场经济体制

- A. 思想解放是一个渐进的过程 B. 体制改革推动了经济高速发展  
C. 单一的所有制结构开始打破 D. 社会主义市场经济理论已完善

10. 以下是 1954 年颁布的《中华人民共和国宪法》目录和 1982 年修订的《中华人民共和国宪法》目录，目录的变化体现了

1954 年宪法	1982 年宪法
序言	序言
第一章 总纲	第一章 总纲
第二章 国家机构	第二章 公民的基本权利和义务
第三章 公民的基本权利和义务	第 33 条~第 56 条
第 85 条~第 103 条	第三章 国家机构
第四章 国旗、国徽、首都	第四章 国旗、国徽、首都

- A. 社会主义法律体系的完备 B. 人民民主的法律保障进一步加强  
C. 基层民主政治建设的完善 D. “实行依法治国”被正式写入宪法

11. 美国学者赞恩在《西方法律的历史》一书中称雅典：“对普通公民推理能力的过分依赖使希腊人走上了极端：不管是否能够得到法律专业阶层的帮助，每位公民都是称职的律师和法官。”该观点意在

- A. 倡导在法律面前人人平等的原则 B. 肯定雅典民主调动了公民积极性  
C. 指出抽签选出法庭审判员的弊端 D. 赞扬雅典法律制度保持了公正性

12. 下图是老卢卡斯·克拉纳赫 1529 年创作的《法律与恩典的寓言》，画面左侧是亚当、夏娃的子孙受到原罪沾染，必须根据《摩西律法》履行特定的行为，这种救赎若不能成功，灵魂就被打入地狱。右侧是受到基督鲜血洗礼的信徒，只要信仰基督，就可得到救赎。该作者



A. 支持天主教会 B. 主张信仰自由 C. 支持路德教派 D. 否定神创论

13. 英国资产阶级革命时期，国会没收了支持国王的贵族的土地，随后分批出售，购买者多是商人资产者。国会还废除了贵族领主因封赐土地而形成的对国王的一切封建义务，圈地不再受限制。此举

①调动了广大民众的革命积极性 ②导致资产阶级革命曲折艰难

③有利于英国资本主义经济发展 ④冲击了封建制度的经济基础

A. ①② B. ②③ C. ③④ D. ①④

14. 有学者指出，1787 年制宪会议的目的不是建设一个现代民主制度，而是为了建立一个拥有实权但权力同时受到限制的联邦政府，以保护各州“主权”和人民“权利”的有效性。为此 1787 年宪法规定

①联邦政府拥有最高权力 ②各州拥有一定的自治权

③联邦政府实行三权分立 ④国民都有权利选举总统

A. ①②③ B. ①②④ C. ①③④ D. ②③④

15. 有人形容 1929 年经济危机时期的美国总统胡佛，“他把自己视为美国企业的啦啦队长，而不是美国经济的裁判员、教练员或者运动员”。这反映了胡佛

A. 奉行自由放任的原则 B. 开始成为垄断集团利益的代表

C. 加强政府对经济干预 D. 主张国家进行国民收入再分配

## 第二部分

本部分共 5 题，共 55 分。

16. (10分) 记述屈原的文献史料

屈原(约公元前340~前278年)是著名文学家,对他最早的四则记述如下

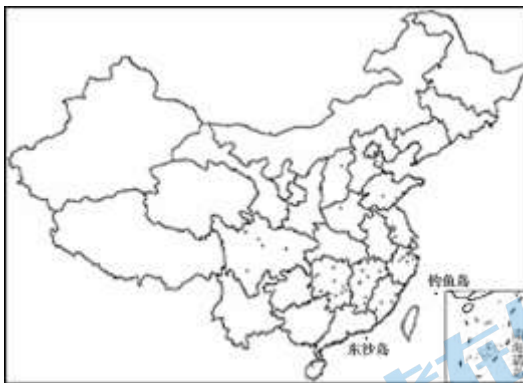
史料	作者	简介
《吊屈原赋》	贾谊(公元前200~前168年)	贾谊被贬长沙王太傅,临湘水,做此赋。“屈原,楚贤臣也。被谗放逐,作《离骚》赋……遂自投汨罗而死。谊追伤之,因自喻”
《史记·屈原贾生列传》	司马迁(约公元前145年~?)	是关于屈原生平与创作的现存最早、最全面的一篇传记,塑造了屈原信而见疑、忠而被谤,最终投江自尽的形象
《哀时命》	庄忌(约公元前188~前105年)	庄忌作《哀时命》赋,称:“夫何予生之不遭时(未遇到好时机)……(庄)忌哀屈原受性忠贞,不遭明君而遇暗世,斐然作辞,叹而述之,故曰‘哀时命’”
《九叹》	刘向(公元前77~前6年)	《楚辞》篇名。刘向身为宗室,屡屡上言切谏,却反遭迫害,故“追念屈原忠信之节,故作《九叹》”

(1) 指出上述文献史料的类型并举例说明。(4分)

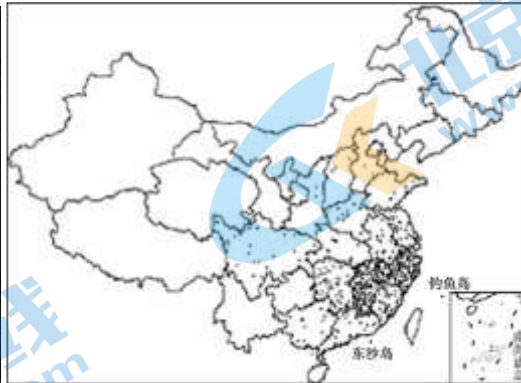
(2) 阅读材料,说明上述记述屈原的文献史料有何共性?(6分)

17. (15分) 示意图与地图

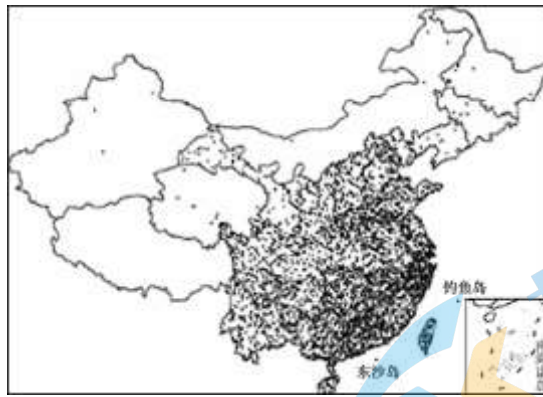
书院是自唐代兴起的一种民间教育文化机构,集研究、教育、传播等功能于一体。著名的书院有朱熹曾讲学的白鹿洞书院,“二程”曾讲学的高阳书院等。



唐朝书院分布示意图



宋朝书院分布示意图



清朝（前期）书院分布示意图

注：图中•为书院所在位置

(1) 阅读图文材料，概述唐、宋、清三朝书院分布的变化及原因。(5分)



保存于英国赫里福德教堂的《世界地图》，创作于1300年

1507年德国地理学家瓦尔德泽米勒绘制的《世界地图》

赫里福德《世界地图》被称为“历史”。其顶端是圣经中耶稣复活和审判的整个场景。世界被分为欧洲（地图左下方）、亚洲（上方）、非洲（右下方）三个部分。以东为上位，中央是耶路撒冷，耶稣受难的画面被绘在城市上方，圣城用圆形的城墙表示，很像一个巨大的神学齿轮。越往地图上方看，聚落分布得越稀疏，长相奇特的怪物和人像也开始渐渐出现。地图底部的一座岛屿矗立着两根圆柱——赫拉克勒斯之柱，标志着古代已知世界的最西端。

瓦尔德泽米勒自称《世界地图》为“宇宙学”——一种描述地与天的科学，他宣示受惠于托勒密（公元2世纪倡导地心说的希腊学者）的理论性、学术性地图和投影法，以及15世纪航海家制作的地图。地图以北为上，因为航海上采取了以北方为主要方向的罗盘方向。地图有清晰的海岸线和陆块、经纬线，顶端供奉的是托勒密和亚美利哥（首次确认美洲是新大陆的航海家）。地图右下角的图例上说“尽管许多古人热衷于测量世界的周长，但他们仍然对很多事情知之甚少；例如，以发现者的名字命名的亚美利加，曾经不为西方所知，现在已经知道是世界的第四部分”。

——摘编自（英）杰里·布罗顿《十二幅地图中的世界史》

(2) 阅读材料并结合所学，评析上述两幅世界地图。(10分)

## 18. (10分) 地名变迁

胡同街巷的名称从不同角度显现了北京风貌。

东城区有东、西总布胡同，明朝时叫总铺胡同，铺为明代保甲制度中之划分单位。清朝时讹传为总部胡同、总布胡同。豆腐池胡同在明朝时因姓陈的卖豆腐出名称豆腐陈胡同，清代误传为豆腐池胡同，“文革”时一度改名朝红胡同。

在西城区，恭俭胡同所在地原是明朝内宫监署，清朝时称内宫监胡同，民国时期内宫监胡同成为平民住所，以谐音“恭俭”取代“宫监”，称为恭俭胡同。民丰胡同在明代称舍饭蜡烛寺，清代称舍饭寺胡同，1965年定为民丰胡同。

1946年为纪念三位牺牲的抗日将领，北平市政府将铁狮子胡同、南沟沿和北沟沿改称张自忠路、佟麟阁路和赵登禹路。1966年三条路又被改名为工农兵东大街、四新路和中华路。1984年，北京市政府根据群众来信决定恢复为张自忠路、佟麟阁路和赵登禹路。

——据《档案中的北京地名变迁》等书籍整理

北京地名的形成和演变受多种因素影响，请你对此进行论述。(10分)

## 19. (10分) 马克思主义

材料一 工人革命的第一步就是使无产阶级上升为统治阶级，争得民主。

无产阶级将利用自己的政治统治，一步一步地夺取资产阶级的全部资产，把一切生产工具集中在国家即组织成为统治阶级的无产阶级手里，并且尽可能快地增加生产力的总量。

——《共产党宣言》

材料二 第一次的社会主义革命使地球上一亿人首先摆脱了帝国主义战争和帝国主义世界。……我们最后的一项事业，也是最重要最困难而又远远没有完成的事业，就是经济建设……我们遭受的失败最多，犯的错误最多……我们正在学习怎样在一个小农国家里进一步建设社会主义大厦而不犯这些错误。

——列宁《十月革命四周年》

材料三 中华人民共和国的成立标志着中国革命由资产阶级民主革命阶段转变到社会主义革命阶段，即进入由资本主义到社会主义的过渡时期。……从去年夏季以来，社会主义改造，也就是社会主义革命就以极广阔的规模和极深刻的程度展开起来。……这样就为大大地发展工业和农业的生产创造了社会条件。我们进行社会主义革命所用的方法是和平的方法。

——毛泽东《社会主义革命的目的是解放生产力》(1956年)

从马克思主义理论的发展与实践角度，解读以上材料。(10分)

20. (10分) 德国近现代经济

材料一 19世纪前半期，为尽快摆脱落后局面，德国各邦政府都兴办国营企业，资助私营企业，招聘外国技术人员，组织成立科学研究团体。19世纪中期，借助于私人企业和政府的力量，铁路建设在德国呈现爆炸性扩张趋势，在1879年实行国有化之前，铁路是德国经济中效益最高的产业，带动了煤炭、炼钢、机械工业的发展和整合。1867年，西门子制成了第一台发电机，19世纪80年代，以西门子为代表的德国企业家利用电灯和电话等普及的契机，率先开始大规模发展电气工业，成为确立德国工业优势地位的支柱性产业。

——摘编自萧国亮等《世界经济史》

(1) 近代德国创造了落后国家实现经济增长的模式。依据材料一概括其发展模式的内涵，并举例说明。(4分)

材料二 1982年，联邦德国科尔政府上台后，减少了失业救济金以及儿童福利费。国家份额在国内生产总值中的比重，从1990年的近52%降至1998年的47.9%（含原民主德国地区）。通过降低税收和利率的办法，以调动企业主的积极性，鼓励他们增加投资。德国中小企业囊括了全国2/3的职工，其产值占社会总产值的90%，于是科尔政府大力扶植中小企业。政府颁布《促进就业法》等法令后，46万人接受各种职业培训，其中2/3以上是失业青年。

——摘编自朱忠武《科尔政府时期德国经济稳定增长的原因探析》等

(2) 依据材料二概括科尔政府经济政策的特点，并结合两段材料，总结德国经济发展所带来的启示。(6分)



# 2021 北京东城高三（上）期末历史

## 参考答案

第一部分共 15 题，每题 3 分，共 45 分。

1	2	3	4	5	6	7	8	9	10	11	12	13	14	15
A	D	D	B	D	B	B	C	A	B	C	C	C	A	A

第二部分共 5 道题，共 55 分。

16. (10 分)

(1) 史书，如《史记》；文学作品，如《吊屈原赋》《哀时命》《九叹》。(4 分)

(2) 从文献年代上看，缺少屈原所处战国时期的直接记录，最早的记述已是西汉时期，相隔较远。

从内容上看，都记述了屈原的正直忠信以及被迫自尽的遭遇。

从作者来看，很多人有怀才不遇、忠而被谤的经历，更多借屈原的遭遇来感慨自己的命运，因而其记述带有一定主观色彩。(6 分)

17. (15 分)

(1) 变化：从分布的整体密度看，唐朝书院零星分布，宋代书院的密度增大，到清代达到高峰。

从分布的集中区域看，三个朝代在江南地区书院多于其他地区，并且密度越来越大。

从边疆地区的分布看，唐宋时期很少，清代在东北、新疆、云南和台湾等地出现了一些书院。

原因：封建经济繁荣；科举制和理学的发展推动了书院增多；经济重心南移，推动江南地区成为文化重心；伴随着中央政权疆域的扩展，中原文化传播到边疆，民族交融发展。(5 分)

(2) 评分标准：

等级	要求
水平四：10—8 分	论述全面且准确，史论结合；结论有深刻认识；逻辑清晰 细化：两个方面论述 7 分，结论 2 分，逻辑清晰 1 分
水平三：7—5 分	论述较全面，结合史实；认识准确；逻辑较清晰
水平二：4—2 分	论述不够全面，逻辑不够清晰。或只论述了一幅地图，且论述准确
水平一：1—0 分	仅列举史实，没有分析

示例：

中世纪，基督教盛行于西欧，赫里福德《世界地图》依据基督教教义以及神话、想象等，突出耶稣、圣城耶路撒冷等神学内容；由于中世纪欧洲与其他地区联系有限，地图只涉及欧亚非三洲，且欧洲以外区域与真正地理状况差异大。该地图是由神学而非地理学界定的一幅世界图像，展现了中世纪基督徒眼中的世界。

16世纪，随着文艺复兴运动的发展，瓦尔德泽米勒《世界地图》借鉴古典时代的地理学成就，肯定人类的理性与探索；而新航路开辟过程的新发现为制图提供了更广阔、准确的地图信息，因此有了清晰的海岸线、经纬度，以及增加美洲地区；受航海技术进步影响，地图由以东为上改为以北为上。该地图是在世界开始连成一个整体以及人文精神复兴的影响下，对世界的重新认识，增强了实用性。

综上所述，地图体现了人类对于世界的认知，是制图者的世界观和它所处时代的产物。

18. (10分)

示例：

地名的形成受到所在区域功能的影响，反映了旧时北京的政治、民生的遗迹和地理旧貌等。如由内廷机构得名的内宫监胡同、因保甲制度而得名的总铺胡同、卖豆腐出名的豆腐陈胡同、靠近河渠的南、北沟沿等。

地名的形成演变也受到了政治因素的影响。如辛亥革命后内宫监胡同改名；抗战胜利后，为纪念英烈改名为张自忠路等三条道路；“文革”时期，受“左”倾错误影响，用政治术语改造地名，如朝红胡同、工农兵东大街等；新时期拨乱反正，地名逐渐去政治化，工农兵东大街等地名恢复原貌。

地名的形成演变也受思想道德观念的影响。为了表达人们对某些传统道德和品行的肯定，地名中经常会使用一些表示德行、操守意义的词，如将内宫监改为恭俭胡同；地名中会使用一些表达美好生活愿望的词，如将舍饭寺胡同改为民丰胡同。

地名也会因时间久远出现音讹而改名的现象。如总铺胡同、豆腐陈胡同在清代误传成了谐音的总部胡同、豆腐池胡同。

总之，城市地名承载着城市的历史文化，其形成和演变受到政治、经济、思想等多种因素的影响。

19. (10分)

示例：

1848年，马克思创立了科学社会主义理论，《共产党宣言》从理论上阐明了无产阶级革命的两个步骤：首先夺取政权，然后实现公有制并推动生产力发展，这一理论指导着国际无产阶级的革命运动。

一战期间，俄国成为帝国主义链条上的最薄弱环节，1917年十月革命成功，建立无产阶级专政。随后布尔什维克党幻想以“战时共产主义政策”直接过渡到社会主义经济制度，超越了当时小农占优势的实际情况，为解决由此引发的政治经济危机，1921年实行“新经济政策”，探索出一条在生产力发展的基础上，逐步向社会主义过渡的道路。

中国近代处于半殖民地半封建社会，1949年中国共产党领导人民获得了新民主主义革命的胜利，建立新中国。为完成社会主义革命和适应工业化的要求，1953年开始实施“一五”计划，开展了采取和平方法的三大改造，生产资料私有制转变为社会主义公有制，开辟了一条适合中国国情的社会主义改造道路，为社会主义工业化奠定了初步基础。

综上所述，马克思主义指导了俄、中两国的革命；同时，俄、中两国都根据本国国情创造性地实践了马克思主义关于革命的理论，并不断丰富了马克思主义理论。

20. (10分)

(1) 政府主导工业化进程。举例：兴办国营企业，实行铁路国有化；以政府招聘外国技术人员等形式推动科技进步。

科技带动产业发展。举例：19世纪中期，以第一次工业革命的成果——铁路建设带动重工业发展；19世纪末，以第二次工业革命的成果——电气技术，带动电气工业成为支柱性产业。（4分，答重工业主导等内容也可酌情给分）

(2) 特点：减少政府干预，缩减福利；利用经济杠杆鼓励私有企业；注重立法；扶植中小企业；加强职业培训，提高就业率。（4分）

启示：根据具体国情和现实需求，制定经济发展战略；工业化需要教育与科技的智力支持；国家的统一安定是经济发展的重要保障。（2分）

## 关于我们

北京高考在线创办于 2014 年，隶属于北京太星网络科技有限公司，是北京地区极具影响力的中学升学服务平台。主营业务涵盖：北京新高考、高中生涯规划、志愿填报、强基计划、综合评价招生和学科竞赛等。

北京高考在线旗下拥有网站门户、微信公众平台等全媒体矩阵生态平台。平台活跃用户 40W+，网站年度流量数千万量级。用户群体立足于北京，辐射全国 31 省市。

北京高考在线平台一直秉承“精益求精、专业严谨”的建设理念，不断探索“K12 教育+互联网+大数据”的运营模式，尝试基于大数据理论为广大中学和家长提供新鲜的高考资讯、专业的高考政策解读、科学的升学规划等，为广大高校、中学和教科研单位提供“衔接和桥梁纽带”作用。

平台自创办以来，为众多重点大学发现和推荐优秀生源，和北京近百所中学达成合作关系，累计举办线上线下升学公益讲座数百场，帮助数十万考生顺利通过考入理想大学，在家长、考生、中学和社会各界具有广泛的口碑影响力

未来，北京高考在线平台将立足于北京新高考改革，基于对北京高考政策研究及北京高校资源优势，更好的服务全国高中家长和学生。



微信搜一搜

北京高考资讯