

北京市朝阳区高三年级第二次综合练习

文科综合能力测试

2018.5

(考试时间 150 分钟 满分 300 分)

第一部分(选择题,满分 140 分)

本部分共 35 小题,每小题 4 分,共 140 分。在每小题列出的四个选项中,选出最符合题目要求的一项。

每年冬至前后,落日光辉穿过颐和园的十七孔桥,照亮全部桥洞,俗称“金光穿洞”。图 1 为某游客拍摄的“金光穿洞”景观图。读图,回答第 1、2 题。



图 1

1. 据图可知

- A. 桥体大致为西北——东南走向
- B. 拍摄时间约为北京时间 18:00
- C. 拍摄照片之时,中国南极昆仑站(80°25'S,77°07'E)为黑夜
- D. 在整个可拍摄该景观的日子里,北京正午太阳高度逐日增大

2. “金光穿洞”景观

- A. 属于水域风光类型
- B. 有较高的历史文化价值
- C. 受天气状况影响小
- D. 应选择特定的位置观赏

2018 年 1 月 3 日,名为格雷森的“炸弹气旋”袭击了美国东部。“炸弹气旋”是在冷气团与暖气团相遇时形成的气旋,其中心气压在 24 小时内下降超过 24 百帕。该类气旋爆发强、发展快,会带来强烈的暴风雪和降温,威力如同炸弹,故被称作“炸弹气旋”。图 2 为美国东部 1 月 3 日降雪量分布图。据此完成第 3~5 题。

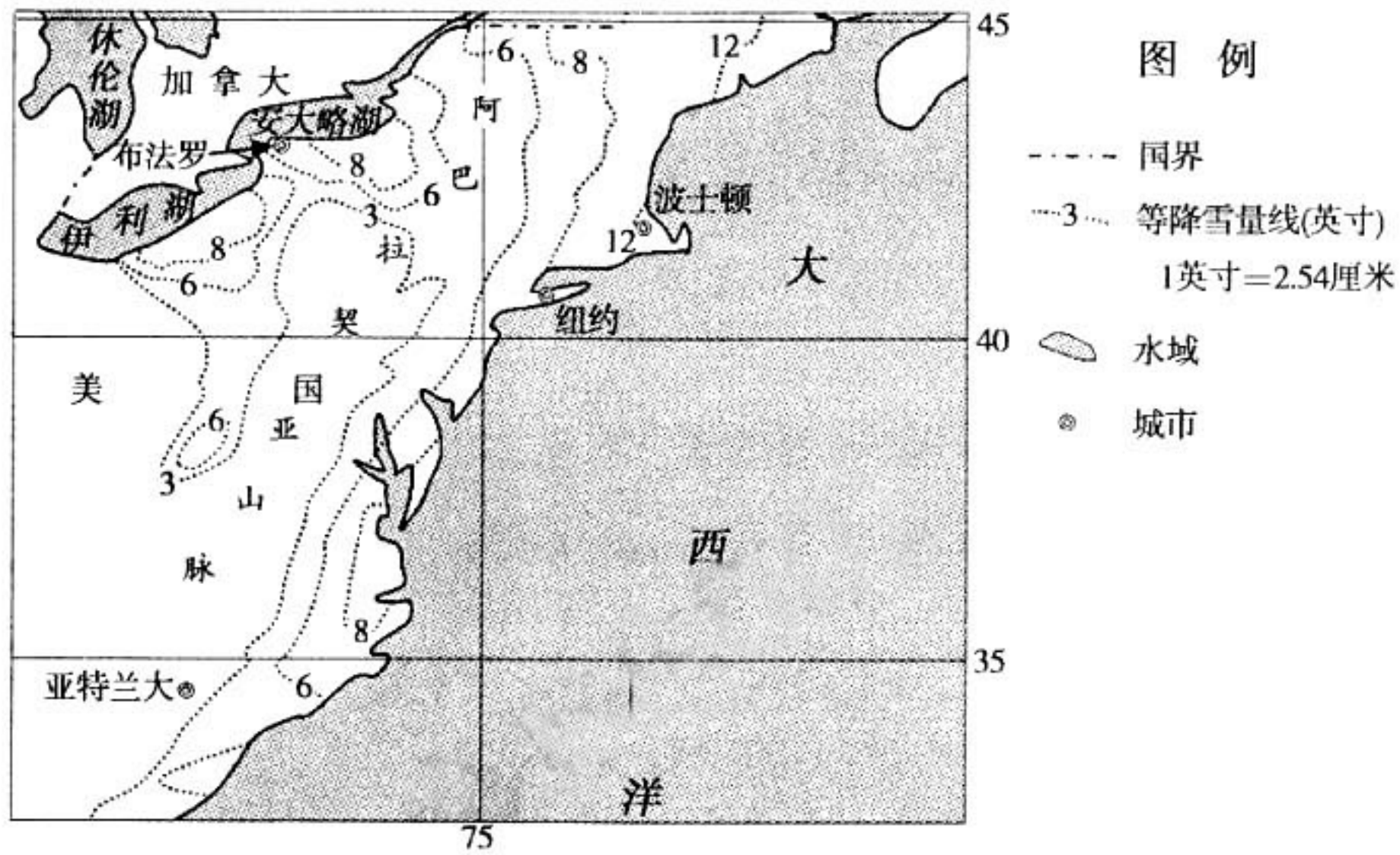


图2

3. 图中降雪量
 - A. 最低值出现在伊利湖东南岸
 - B. 从阿巴拉契亚山脉向两侧递减
 - C. 最大值出现在东北沿海
 - D. 布法罗少于亚特兰大
4. “炸弹气旋”格雷森
 - A. 生成于热带洋面
 - B. 属于温带气旋
 - C. 中心盛行下沉气流
 - D. 东南侧盛行偏北风
5. 美国东部海面冬季容易形成“炸弹气旋”的主要条件有
 - ①盛行由内陆到沿海的寒冷气流
 - ②气温较高导致空气的对流强盛
 - ③内陆的低压吸引海洋暖湿气流
 - ④沿海暖流的增温增湿作用较强
 - A. ①②
 - B. ①④
 - C. ②③
 - D. ②④

河道形态与地形、地质、流量、含沙量等因素有关。图3为某河道和河谷示意图，图中沙洲的位置和形态易发生变化。读图，回答第6题。

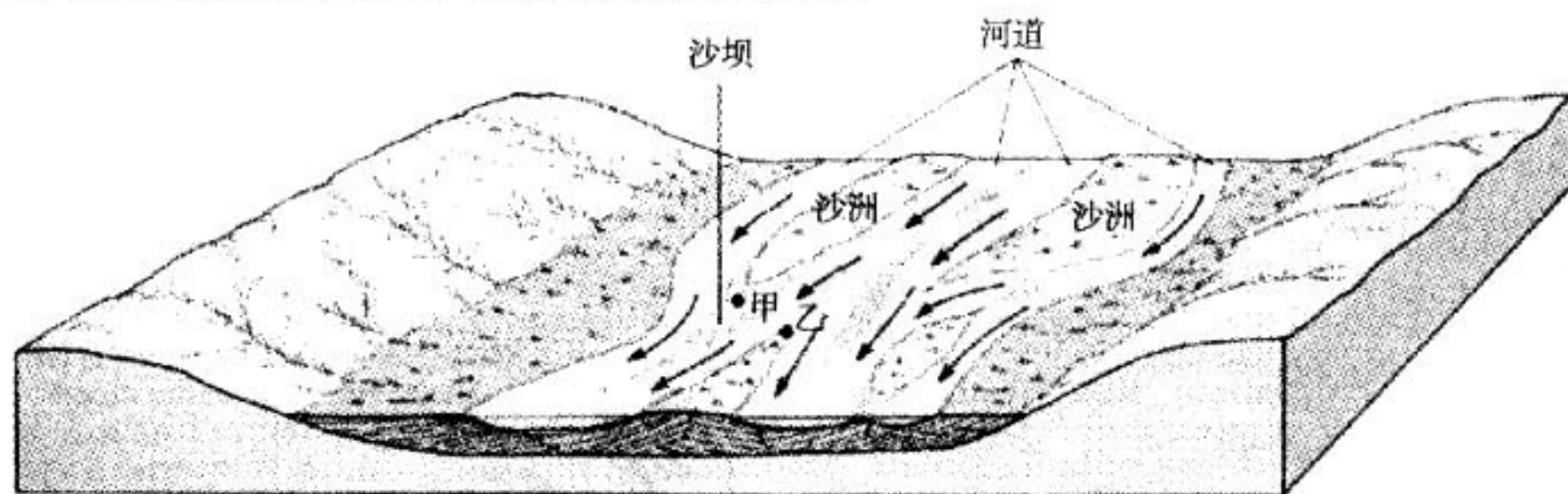


图3

6. 图中
 - A. 甲乙两处受侵蚀作用明显
 - B. 河道的位置较稳定
 - C. 河流流量变化大，含沙量大
 - D. 地貌多见于峡谷地区

基于“让你身边的空座，成为他人的希望”理念，通过网络搭乘顺风车的平台发展起来。图4为某公司手机打车平台基于大数据绘制的2017年国庆黄金周全国大陆跨城顺风车出行状况图。图中线条代表出行线路，其亮度越高，表示顺风车出行频次越大。据此完成第7~9题。

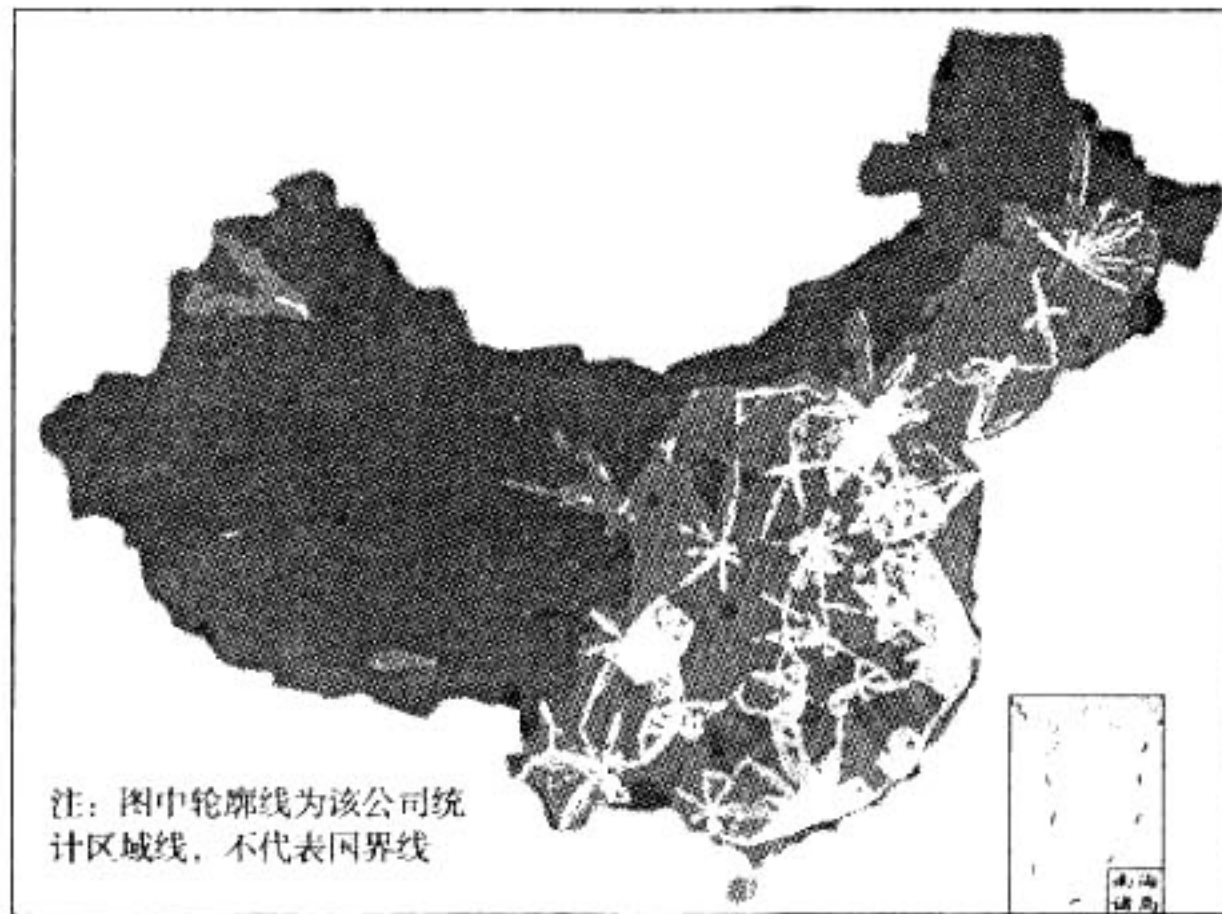


图 4

7. 由图可知,跨城顺风车
- A. 出行范围哈尔滨大于长春 B. 出行频次闽南三角地带明显高于珠三角地区
- C. 出行范围云南以跨省为主 D. 出行频次乌鲁木齐在各自治区首府中为最高
8. 影响各地跨城顺风车出行规模的主要因素是
- ①假期长短 ②城市人口数量 ③经济发展水平 ④地形状况
- A. ①② B. ①④ C. ②③ D. ③④
9. 发展顺风车
- ①利于缓解交通压力 ②利于节能环保
- ③利于优化产业结构 ④应当加强监管
- A. ①②③ B. ①②④ C. ①③④ D. ②③④

我国自 1980 年开始执行一对夫妇只生育一胎的政策。2016 年我国实施全面二孩政策。下表为 2013 ~ 2017 年出生人口统计数据。据此完成第 10、11 题。

年份	出生人口(万)	一孩数(万)	二孩数(万)	人口出生率(‰)
2013	1640	1056	511	12.08
2014	1687	972	606	12.37
2015	1655	886	652	12.07
2016	1786	973	721	12.95
2017	1723	724	883	12.43

10. 由上表可以看出实施全面二孩政策导致
- A. 出生人口持续增加 B. 出生率显著提高
- C. 一孩数明显减少 D. 二孩数显著增加
11. 影响近五年一孩数变化的主要因素是
- A. 医疗设施状况 B. 育龄妇女数量和生育意愿
- C. 居民收入水平 D. 人口文化水平和职业技能

19.

1984 年	北京停用牛奶供应证
1987 年	北京停用侨汇券
1991 年	北京停用糖票
1992 年	北京停用肉票、蛋票、肥皂票、居民购货证
1993 年	全国各地基本取消粮票,票证时代彻底终结

上表反映了

- A. 商品流通走向了市场化
 - B. 中国人世市场资源供应充足
 - C. 分配制度出现根本变化
 - D. 实现了由富国到强国的目标
20. 葡萄牙在 16 世纪打败了在数量上占优势的阿拉伯舰队。据此可知,葡萄牙
- A. 揭开了开辟新航路的序幕
 - B. 确立了在印度洋上的霸权
 - C. 垄断了与中国的丝茶贸易
 - D. 建立了工业同市场的联系

21.



英国画家德·卢戴尔布格（1740 年~1812 年）的绘画《卡尔布鲁克代尔之夜》：月亮高挂在天幕，但是夜深人不静，大熔炉飞溅的火花照亮了夜空，也照亮了周围的小镇和远处的群山，运输的马车整装待发……

图 5

图 5 作品

- A. 描绘了英国工业化的场景
 - B. 以夸张强烈的色彩表现物象
 - C. 反映了世界市场初步形成
 - D. 体现了现代主义艺术的风格
22. 世界银行、国际货币基金组织和关贸总协定被公认为调整二战后世界经济贸易和金融的三大支柱。它们
- ①推动了二战后两极格局的形成
 - ②反映了世界经济朝着体系化与制度化发展
 - ③顺应了世界经济的全球化趋势
 - ④消除了发达国家和发展中国家的贫富差距
- A. ①② B. ③④ C. ②③ D. ②④

23. 下列选项中史实与结论之间逻辑关系正确的是

	史 实	结 论
A	1789 年 8 月法国《人权宣言》颁布	欧洲掀起空前的思想解放运动
B	1958 年 1 月 1 日《罗马条约》生效	欧洲摆脱了美国和苏联的控制
C	1961 年《不结盟国家和政府首脑宣言》发表	非洲经济区域一体化进程加快
D	2001 年《上海合作组织成立宣言》签署	中国与周边国家的关系得到加强

24. 某校话剧社排演三幕话剧《糖人世家》，再现小张一家祖孙三代与吹糖人传统手艺之间的故事。该剧前两幕讲述了吹糖人这一传统手艺面临失传的困境，小张希望从爷爷手中传承这一手艺但却遭到父亲的反对。下列选项中最适合作为该剧后一幕主题的是



图 6 吹糖人

- A. 树立文化自信,传统手艺在固守传统中生存发展
- B. 顺应时代要求,传统手艺在继承创新中焕发活力
- C. 面向大众要求,传统手艺在传播中提升人们的道德修养
- D. 追求经典高雅,传统手艺成为展现传统文化的主要标志

25. 2018 年春节前夕,一群来自中国的演员们在联合国总部上演《吉祥腰鼓》、《秦腔乱弹》等充满浓郁中华文化特色的艺术作品,受到众多联合国官员、各国驻联合国使节、当地各界人士的欢迎。这一展演活动有助于

- ①促进文化的交流与传播,增强对自身文化的认同
- ②展现中华文化独特魅力,推动中华文化走向世界
- ③增强我国的综合国力,巩固国际竞争的物质基础
- ④创新文化传播手段,维护世界和平促进共同发展

- A. ①②
- B. ①④
- C. ②③
- D. ③④

26. 长期以来,科学界普遍认为两栖类动物是由古总鳍鱼进化而来。世界杰出女科学家、我国中科院张弥曼院士及其研究团队,运用化石还原技术研究了杨氏鱼的结构,认为古总鳍鱼是现代两栖类祖先的观点值得商榷。此后的泥盆纪、志留纪鱼化石考古发现,进一步证实了张弥曼院士质疑的合理性。这表明

- ①不同认识主体对同一客体的认识因社会地位的差异而各不相同
- ②真理是具体的有条件的,随着实践的发展总会发现真理中的错误
- ③认识的发展是一个在实践中不断继承和超越已有认识成果的过程
- ④意识活动具有主动创造性,能够揭示深藏事物内部的本质和规律

- A. ①②
- B. ①③
- C. ②④
- D. ③④

27. “算”出来的成功

	条 件	成功率
算式一	做一件事的成功率假设仅为 1%，反复尝试 100 次，至少成功一次的概率是多少？	概率为 63%
算式二	假如你现在的能力是“1”，每天多努力 1%，或者懈怠 1%，坚持一年后会怎样？	$1.01^{365} \approx 37.7834$ $0.99^{365} \approx 0.0255$
算式三	一个人分管的工作，质量能达到 90% 的标准已经很不错，如若有 5 道程序，最终标准会是多少？	$90\%^5 \approx 59\%$

人们在生活中向往成功，希望事业能有所建树，最终实现人生价值。上表中“算”出来的成功给人们的启示有

- ①重视量的积累，脚踏实地，持之以恒，从身边点滴小事做起
- ②部分的功能及其变化会影响整体，要十分重视部分的作用
- ③用发展的观点看问题，在辩证否定过程中促进新事物成长
- ④看问题要一分为二，失败向成功的转化取决于个人的选择

A. ①② B. ①③ C. ②④ D. ③④

28. 党的十九届三中全会审议通过《中共中央关于深化党和国家机构改革的决定》，十三届全国人大一次会议批准了国务院机构改革方案：国务院正部级机构减少 8 个、副部级机构减少 7 个；大力推进政社分开、政事分开、管办分离，构建简约高效的基层管理体制，实现重心下移、力量下沉、资源下投。上述改革

- ①体现了国务院机构改革要坚持中国共产党的领导
- ②表明行政机关是权力机关的执行机关和监督机关
- ③有利于最大限度减少政府对市场资源的直接配置
- ④通过完善我国的基层自治制度助力市场经济发展

A. ①② B. ①③ C. ②④ D. ③④

29.

某市“互联网 + 不动产登记”改革实施方案工作目标

第一阶段 (2018 年 5 月起)	物理聚合不动产登记办事窗口，实现自然人房屋权属转让中涉及多部门参与的业务一窗办理。
第二阶段 (2018 年 6 月起)	全面实现不动产登记相关政务“一询三预”：网上咨询、自然人存量房交易税收网上预审、购房人资格网上预审、不动产登记移动端网上预约。
第三阶段 (2018 年底)	在“一询三预”的基础上，推广不动产登记办事线上、线下一体化服务。

以上工作目标有利于改进不动产登记、房屋交易及税收征管的相关工作,这表明政府

- ①强化服务,尽心竭力多管事
 - ②依法执政,科学民主解难事
 - ③改革创新,诚心诚意办实事
 - ④转变职能,坚持不懈做好事
- A. ①② B. ①③ C. ②④ D. ③④

30. 2018年国务院政府工作报告提出,将提高个人所得税起征点,增加子女教育、大病医疗等专项费用扣除,合理减负。这一事件,引起与会代表和委员的极大关注并提出如下建议。

一: 个税征收以家庭为单位计征,同时调整按家庭计税的个税起征点和税率
 二: 个税起征点提升至7000元,个人自行纳税申报起征点由目前12万元提至24万元
 三: 个税起征点要高于工薪阶层基本开支的总和,可以调整到10000元

下列表述正确的是

- A. 人大代表由选民直接选举产生,有义务反映纳税人的意见
 - B. 政协委员对个税起征点发表意见,积极履行民主监督职能
 - C. 相关国家机关应该采纳和执行政协委员有关个税改革建议
 - D. 全国人大代表和政协委员建言献策体现人民民主的真实性
31. “法者,治之端也。”法治是政治走向成熟的重要标志。国家的繁荣进步、社会的和谐稳定,必然离不开法治的支撑和保障。某班同学组织以“法治如何让生活更美好”为主题的演讲会,下列演讲标题中,不合适的是
- A. 人民代表大会:领导立法,深入推进科学民主立法,健全完善法律体系
 - B. 各级政府部门:严格执法,规范行政行为自觉接受监督,做到依法行政
 - C. 各级人民法院:公正司法,让群众在每一个司法案件中感受到公平正义
 - D. 全体中国公民:知法守法,为在全社会营造良好的法治氛围贡献出力量

32. 行业发展中存在的5种力量(图7)共同决定了竞争的规模和程度,影响着产业的吸引力和企业的战略决策。其中“供应商的讨价还价能力”主要指供方通过提高其投入要素价格与降低供应产品或服务的质量的能力,来影响某一行业中现有企业的盈利能力与产品竞争力。在以下市场条件中,有利于提高供应商讨价还价能力的是



图7 波特五力

- ①供应商所在的行业领域,都是市场规模小、市场份额较低的企业
- ②供应商的产品买者众多,但任一单个买者都不能成为其关键客户
- ③买方企业虽拥有选择权,但难以找到可与供应商相竞争的替代品
- ④买方企业不仅数量较少,而且行业总销量中存在占比巨大的买者

- A. ①② B. ①④ C. ②③ D. ③④

33.

2013 ~ 2017 年某市经济社会发展的部分数据(扣除价格因素)

	2013 年	2014 年	2015 年	2016 年	2017 年
地区生产总值实际增速(%)	7.7	7.3	6.9	6.7	6.7
城镇居民人均可支配收入实际增速(%)	7.1	7.2	7.0	6.9	7.0
农村居民人均可支配收入实际增速(%)	7.6	7.3	7.1	7.0	7.1

从上表数据中可以推断出该市

- ①居民收入增长和经济发展基本同步
- ②居民收入在国民收入分配中的比重有所提高
- ③农村居民收入高于城镇居民收入,城乡差距逐步缩小
- ④城乡居民生存资料消费逐年减少,恩格尔系数逐年降低

A. ①② B. ①③ C. ②④ D. ③④

34.

甲同学一直在向过往的出租车招手示意,可等了 15 分钟,他也没有打到一辆车。

乙同学通过手机网络叫车,信息刚刚发出就有司机接单,两分钟后车就到了。

丙同学回家途径拥堵路段,他发出打车信息后一直无人接单,他随即追加 2 元打车费,可还是无人接单,直到他追加 6 元打车费才有人接单。

以上是三名同学放学后打车回家的情形。下列说法正确的有

- ①网约车一定程度上可降低司机实际载客时段单位里程运营成本
- ②网约车可以议价,发挥了价格的调节机制,有利于缓解打车难
- ③网络议价增加了交易的时间成本,但与传统出租车相比支出降低
- ④若乘客实施出行措施不具吸引力,网约车可能出现无人接单现象

A. ①② B. ①③ C. ②④ D. ③④

35. 在开放经济中,一国国民收入的增长,可能带来对外国产品需求的扩大,从而增加与之有贸易关系的国家的国民收入,这种“溢出效应”所引起的他国国民收入增加,自然也会促进他国进口,最终反过来促进本国国民收入的进一步增加,产生“回波效应”。下列举措中,有助于实现“回波效应”的有


- ①借鉴李嘉图比较成本学说,主动扩大进口,满足国内多样化需求
- ②遵循凯恩斯资本边际效率递减规律,创造更有吸引力的投资环境
- ③遵循世贸的自由贸易规则,放宽市场准入,让开放成果惠及他国
- ④注重市场机制和国家调节相结合,尊重知识产权,保护本国产业

A. ①② B. ①③ C. ②④ D. ③④

第二部分(非选择题,满分 160 分)

36. (36 分)根据材料,回答下列问题。

材料:《丝路山水地图》为明代手卷式地图,现残留 30.12 米,包括从嘉峪关到今沙特阿拉伯麦加的地域。原图应长 40 米,向西应到今土耳其的伊斯坦布尔。图 8 为《丝路山水地图》局部(撒马尔罕地区),图 9 为撒马尔罕气候统计图,图 10 为古丝绸之路示意图。



撒马尔罕城

图 8

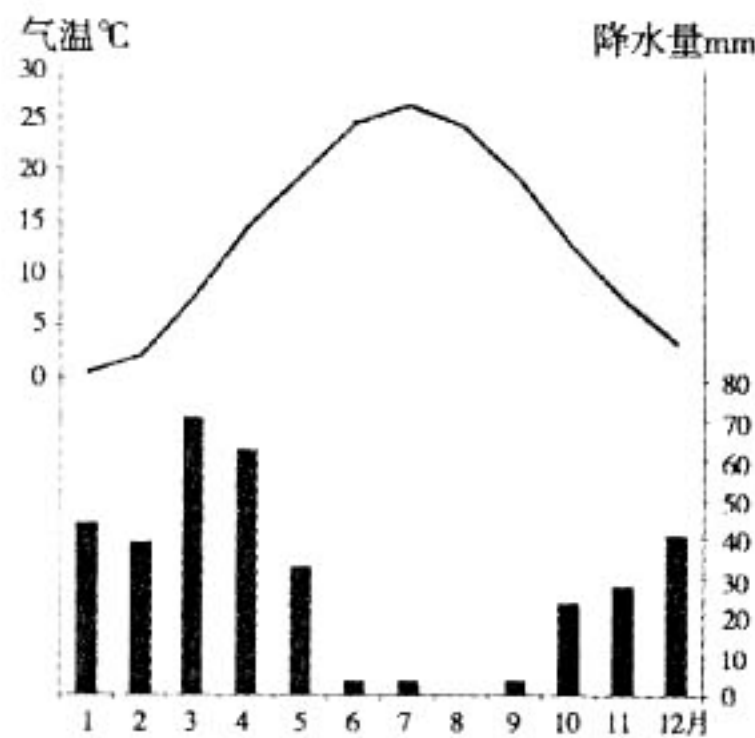


图 9

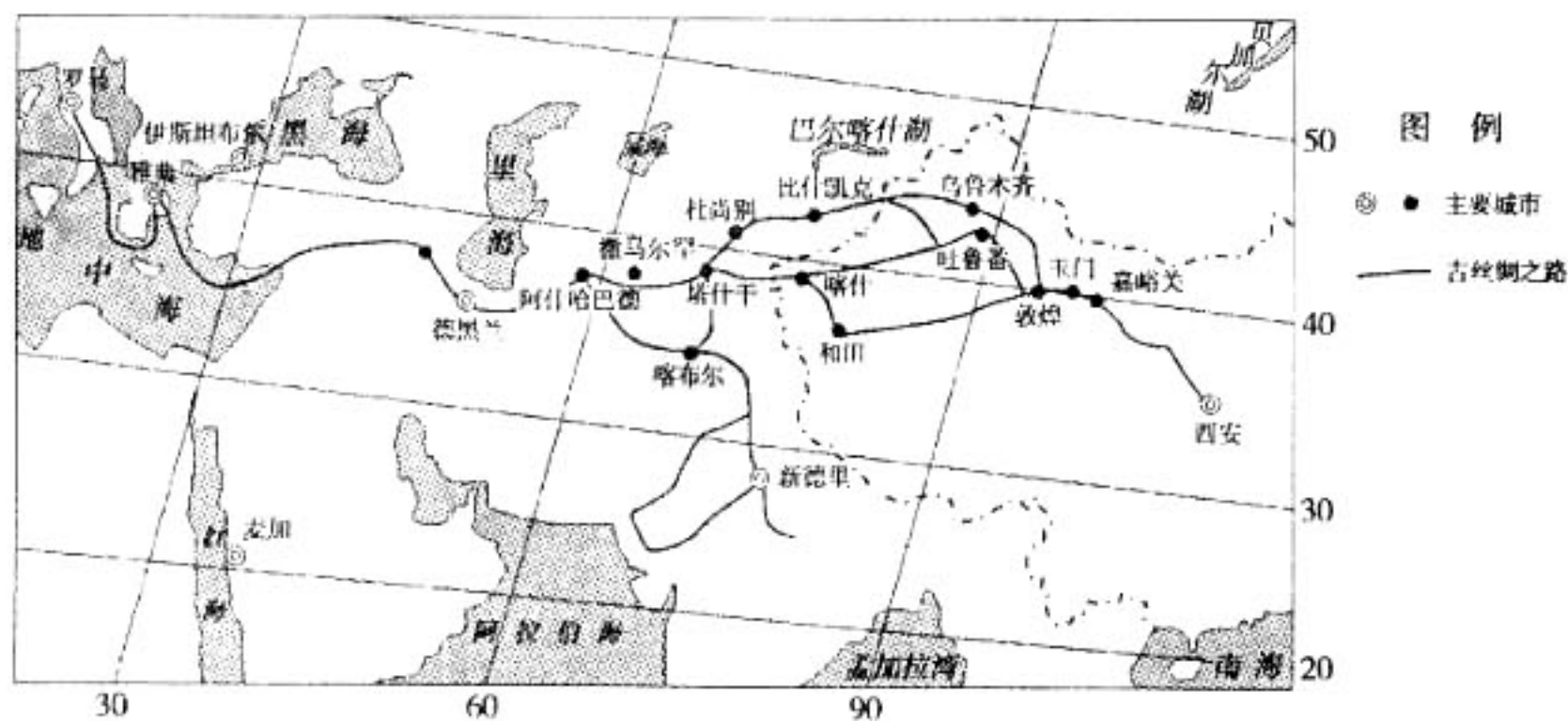


图 10

(1)与图 10 相比,说出图 8 在表达撒马尔罕地区地理信息上的特点。(4 分)

(2)说明撒马尔罕的降水特征及其形成原因。(10 分)

近年来,葡萄成为乌兹别克斯坦出口量最大、出口价格最高的农产品。该国葡萄种植可追溯到公元前 6 世纪。撒马尔罕山谷地带为该国葡萄主产区,种植面积超过 12 万公顷,既有用来酿造高端葡萄酒的酿酒葡萄,又有果香浓郁的鲜食葡萄。这里一直坚持人工采摘和晾晒葡萄干,不添加任何化学药剂,以保证产品品质。

(3)简析撒马尔罕山谷地带葡萄产业能够享誉世界的主要条件。(12 分)

沙特阿拉伯是最大的石油输出国。近年来,中国“一带一路”战略与沙特阿拉伯旨在摆脱经济依赖石油出口的“2030 愿景”相对接,在石油深加工、铁路、港口、电站、通信、劳动培训、广播电视等方面进行深度合作。

(4)指出中沙深度合作中我国的优势条件,简述中沙深度合作对沙特发展的有利影响。(10 分)

37. (38分) 社会存在决定社会意识, 社会意识对社会存在有反作用。

材料一 汉武帝及其近臣将所谓“儒术”扩展之后又延长, 包括了有利于中央集权官僚政治所必需的种种理论与实践的步骤。孔子所提倡的自身之约束, 待人之宽厚, 人本主义之精神, 家人亲族的团结和礼仪上之周到等等全部构成官僚集团行动上的规范。孟子所倡导的人民生计与国本攸关也毫无疑问地被尊重。

——摘自黄仁宇《中国大历史》

(1) 分析儒家思想对当时社会的影响。(8分)

材料二 北宋时, 儒家学者融合了道佛思想来解释儒家义理, 形成了以理为核心的新儒学体系——“理学”。欧洲步入近代社会以后, 启蒙思想家提出了一整套哲学理论、政治纲领和社会改革方案, 要求建立一个以“理性”为基础的社会。启蒙运动时期被称为“理性时代”。

(2) 依据材料二和所学知识, 分别说明古代中国的“理学”和近代欧洲的“理性”的不同内涵;(6分) 并指出两种不同思想对中国历史发展的积极影响。(8分)

材料三 马克思主义中国化是将马克思主义基本原理同中国具体实际相结合, 不断形成具有中国特色的马克思主义理论成果的过程。具体而言, 就是把马克思主义基本原理同中国革命、建设和改革的实践结合起来, 同中国的优秀历史传统和优秀文化结合起来, 既坚持马克思主义, 又发展马克思主义。一是马克思主义在指导中国革命、建设和改革的实践中实现具体化。二是把中国革命、建设和改革的实践经验和历史经验理论化。三是把马克思主义植根于中国的优秀文化之中。

(3) 以“马克思主义中国化与中国革命和建设”为主题, 结合所学, 对材料三所蕴含的历史信息进行解读。(16分)

【要求: 史实清楚, 逻辑严谨, 史论结合。】

38. (32分) 1978年以来, 以不断深化改革和扩大开放为动力, 中国人民走出了一条改变自身和国家前途命运、极不平凡、世人瞩目的发展之路。

材料一 某企业是一家国有钢铁老厂, 其改革历程如下。

阶段	问 题	改 革
第一阶段 (1978年起)	产权结构过于单一, 分配中平均主义严重影响员工工作积极性, 企业经营状况不佳, 长期依靠财政维持运转。	举措: 改制为股份有限公司, 健全法人治理结构。实行自主经营, 自负盈亏, 在竞争中求生存。所有员工一律实行按贡献大小取得报酬。引进国外资金、技术和管理经验, 充分利用好国际市场和国际资源谋求发展。 影响: 企业重新焕发了生机与活力。
第二阶段 (2008年起)	市场需求不振, 出现严重产能过剩; 产品单一, 品质达不到国外市场的严苛要求; 主业外迁, 大量土地厂房等资源闲置; 核心技术受制于人; 随着原材料价格上涨和国家政策的调整, 企业利润下滑。经营陷入新的困境。	举措: (请勿在此处答题)。 影响: 推动企业实现更高质量、更有效率、更可持续的发展。

(1)运用经济学知识,说明该企业在第一阶段的改革举措体现了我国建立和完善社会主义市场经济体制的哪些任务。(6分)

(2)结合第二阶段面临的问题,运用所学《经济生活》知识,说明该企业走出困境、适应高质量发展应采取的举措。(8分)

材料二 改革开放的40年,也是我国民主政治建设不断推进,基层民主自治实践日益丰富,人民不断获得更多更切实民主权利的40年。大学生小张毕业后,主动申请到远近闻名的“问题村”当了一名“村官”。经过细致的前期调查研究,小张了解到村民对于乡村振兴工作的意见,据此制定了自己的工作计划。

(3)运用所学《政治生活》知识,帮助小张完成工作计划。(12分)

问 题	工作计划
1. 村委会按期要进行换届选举,可是村民选举积极性不高,认为谁当选无所谓。	示例:向村民宣讲《中华人民共和国村民委员会组织法》,让村民意识到选举当家人事关自己的切身利益,提高村民民主参与的主动性和积极性。
2. 修建农户厕所排污处理系统有利于建设宜居乡村,村委会决定每户集资800元,但是部分村民提出反对意见。	① (请勿在此处答题)
3. 村里的小卖部经常有人聚在一起打麻将,不仅耽误了农活,还经常为此发生口角,破坏了邻里关系。	② (请勿在此处答题)
4. 粮食补贴、集资款的使用等村委会账目不透明,村干部存在着公款吃喝的现象。	③ (请勿在此处答题)

材料三 在新时代和新的历史形势下,我国改革开放面临40年后的再出发。如何不忘初心,走好未来几十年高质量发展“新的长征路”,引发社会的广泛关注和热议。下面是一位网友的论坛留言。

【紧紧抓住大有可为的历史机遇期】

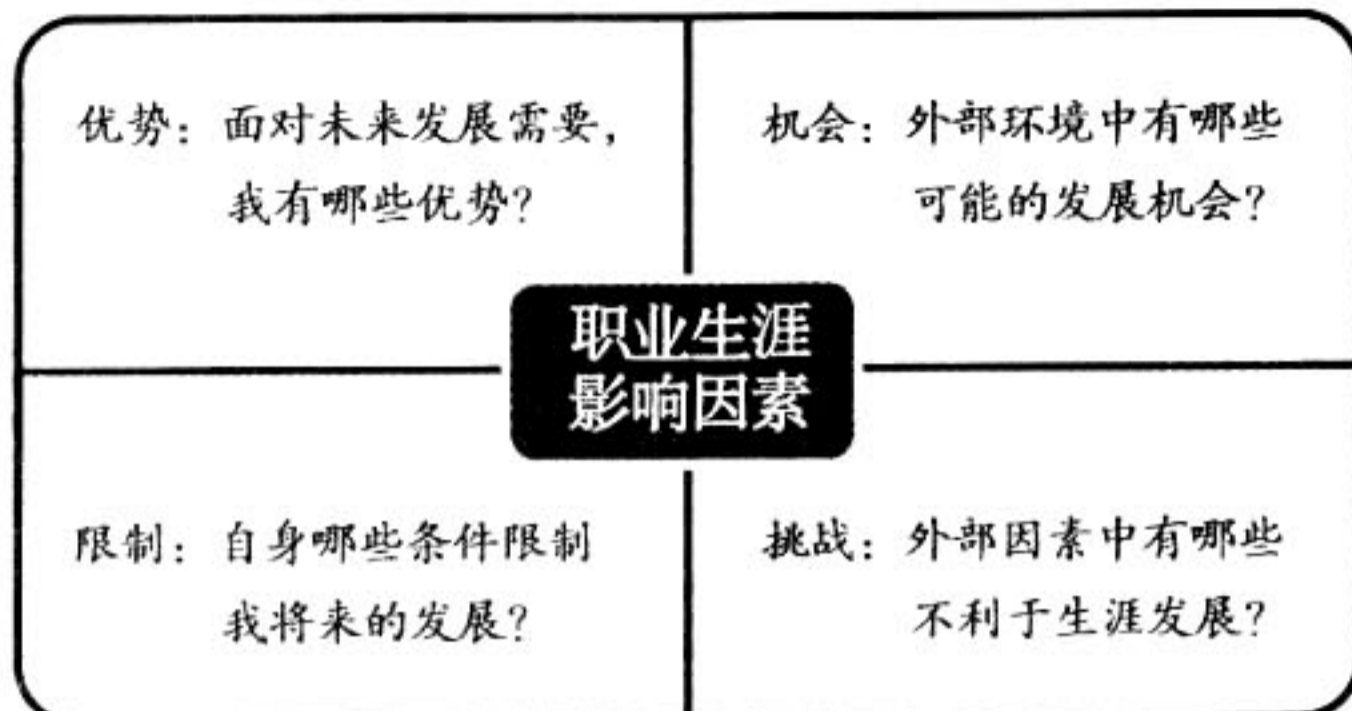
“时代是出卷人,我们是答卷人,人民是阅卷人。”面对时代对我们的考试,我们一定要不忘初心、牢记使命,努力向历史、向人民交出优异的答卷。

我国经济已由高速增长转向高质量发展,中国发展经过量的积累进入质的提升阶段,处于一个大有可为的历史机遇期。当历史的机遇再次摆在中国面前,唯有居安思危,继续以改革的精神、改革的勇气、改革的方法,把蕴藏着必然性的机遇变成国家和民族发展的现实,才是我们对改革开放40年最好的纪念和致敬。

(4)结合材料,运用唯物辩证法的相关知识,简要分析如何走好改革开放“新的长征路”。(6分)

39. (12分) 高中阶段是生涯发展的探索期与职业准备期, 某校利用寒假开展主题为“遇见未来的自己”的中学生职业体验活动。

材料一 小王同学通过查阅资料, 对影响职业生涯的因素进行了梳理。



(1) 结合材料, 运用系统优化的方法, 说明小王如何更好地进行职业生涯规划。(4分)

材料二 某班学生走进真实职场, 感受岗位工作, 增加职业认知, 交流职业体验。

警察岗位的体验: 跟着社区民警走街串巷, 让我感受到, 警察不只是电视剧中在刀尖上不畏艰险的英勇形象, 更多的是在基层忙碌, 协调好邻里街坊关系的人民公仆。

律师岗位的体验: 律师负有尽最大的力量去维护当事人合法权益与法律正义的责任。

建筑设计岗位的体验: 建筑是一门将艺术和技术相结合的专业, 要成为一名优秀的建筑设计师, 离不开对专业技能持之以恒的学习和钻研。

园艺师岗位的体验: 原来以为园艺师就是剪花浇水, 通过体验才知道, 一名优秀的园艺师要具备栽培、育种、防病等园艺科学知识, 还要有科技试验、农业技术开发与推广等多种技能……

(2) 结合上述材料和个人认知, 运用相关哲学知识, 围绕“我的职业追求”主题写一篇发言提纲。(8分)

【要求: 自选角度; 观点鲜明; 知识运用准确、贴切; 论述严谨, 条理清晰; 150字左右。】

40. (24分) 逢山开路、遇河架桥体现了中国人民积极自信、锐意进取的精神以及努力实现中华民族伟大复兴梦的力量。

总投资为10.28亿元的贵州北盘江公路桥全长1341.4米, 桥面到谷底垂直高度565米, 是迄今世界最高的桥梁(图11)。该桥于2016年底通车, 从而使云南宣威至贵州六盘水的车程由5小时缩短为1小时。该地区石灰岩广布。





图 11

(1) 简评该桥梁建设的主要条件。(10分)



武汉长江大桥于1955年9月动工。1956年6月毛泽东题写了“一桥飞架南北，天堑变通途”。1957年10月15日武汉长江大桥正式通车。1962年4月大桥图案入选第三套人民币。

图12

(2) 分析武汉长江大桥图案入选第三套人民币的原因。(6分)

“一桥飞架南北，天堑变通途”，人们之所以爱桥，颂桥，离不开对桥的功能认识。

桥具有实用功能：桥是路的延伸，给人们带来交通的便利，没有桥，往来就不够畅通。桥具有艺术功能：桥能融入环境、美化环境，一座著名的桥梁就是一个地方亮丽的风景线。桥具有丰厚的文化底蕴：杭州西湖的断桥、西安的灞桥、扬州瘦西湖的“二十四桥”等背后都有着感人的故事。



图13 沟通的桥

“桥”还有着丰富的内涵：贸易，是畅通经济的桥；外交，是沟通政治的桥；交流，是融通文化的桥；对话，是打通心灵的桥。在国与国的关系中，造桥架桥多艰险，保桥护桥费思量，毁桥容易修桥难。

(3) 结合材料，运用《文化生活》相关知识，说明如何架设和保护联通不同文明之间的“桥”。(8分)

41. (18分) 建设生态文明是关系人民福祉、关乎民族未来的大计，我们要像保护眼睛一样保护生态环境，像对待生命一样对待生态环境。

20世纪70年代，德国通过实施一系列环境法律，推进经济结构调整和技术进步。到90年代，严重的环境污染得到治理，环境质量得到很大改善。从1970年开始，日本确立环境优先原则，实行世界上最严格的环境法律和标准，经过几十年的努力，基本解决了工业污染问题。

——摘自周生贤《我国环境保护的发展历程与探索》

(1) 分析德国、日本处理环境与经济关系的原因及特点。(8分)

西双版纳是我国唯一有大面积热带雨林分布的地区。近年有关部门计划在西双版纳热带雨林河谷地区建设一座多功能水电站，但因引发环境公益诉讼，被叫停。

(2) 从雨林的生态效益角度简析叫停建设该水电站的原因，并为该地区的发展提出建议。(10分)