

绝密★启封并使用完毕前

2017 年普通高等学校招生全国统一考试

数学（文）（北京卷）

本试卷共 5 页，150 分。考试时长 120 分钟。考生务必将答案答在答题卡上，在试卷上作答无效。考试结束后，将本试卷和答题卡一并交回。

第一部分（选择题 共 40 分）

一、选择题共 8 小题，每小题 5 分，共 40 分。在每小题列出的四个选项中，选出符合题目要求的一项。

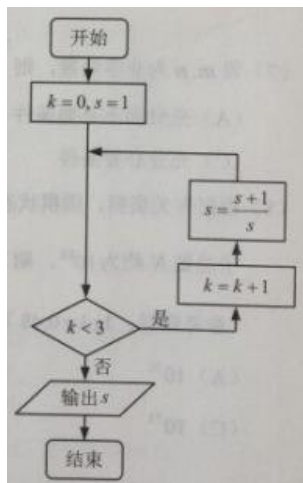
(1) 已知 $U=\mathbb{R}$ ，集合 $A=\{x|x<2 \text{ 或 } x>2\}$ ，则 $C_U A=$

- (A) $(-2,2)$
- (B) $(-\infty,-2)\cup(2,+\infty)$
- (C) $[-2,2]$
- (D) $(-\infty,-2]\cup[2,+\infty)$

(2) 若复数 $(1-i)(a+i)$ 在复平面内对应的点在第二象限，则实数 a 的取值范围是

- (A) $(-\infty,1)$
- (B) $(-\infty,-1)$
- (C) $(1,+\infty)$
- (D) $(-1,+\infty)$

(3) 执行如图所示的程序框图，输出的 s 值为



北京高考在线
微信号: bj-gaokao

- (A) 2
- (B) $\frac{3}{2}$
- (C) $\frac{5}{3}$
- (D) $\frac{8}{5}$

北京高考在线
微信号: bj-gaokao

(4) 若 x, y 满足 $\begin{cases} x \leq 3, \\ x + y \geq 2, \\ y \leq x, \end{cases}$ 则 $x+2y$ 的最大值为

- (A) 1 (B) 3
- (C) 5 (D) 9

(5) 已知函数 $f(x)=3^x+(\frac{1}{3})^x$, 则 $f(x)=3^x+(\frac{1}{3})^x$

- (A) 是偶函数, 且在 \mathbf{R} 上是增函数
- (B) 是奇函数, 且在 \mathbf{R} 上是增函数
- (C) 是偶函数, 且在 \mathbf{R} 上是减函数
- (D) 是奇函数, 且在 \mathbf{R} 上是增函数

北京高考在线
微信号: bj-gaokao

(6) 某三棱锥的三视图如图所示, 则该三棱锥的体积为

- (A) 60 (B) 30
- (C) 20 (D) 10

(7) 设 m, n 为非零向量, 则“存在负数 λ , 使得 $m=\lambda n$ ”是“ $m \cdot n < 0$ ”的

- (A) 充分而不必要条件
- (B) 必要而不充分条件

- (C) 充分必要条件 (D) 既不充分也不必要条件
- (8) 根据有关资料, 围棋状态空间复杂度的上限 M 约为 3^{361} , 而可观测宇宙中普通物质的原子总数 N 约为 10^{80} . 则下列各数中与 $\frac{M}{N}$ 最接近的是
- (参考数据: $\lg 3 \approx 0.48$)
- (A) 10^{33} (B) 10^{53} (C) 10^{73} (D) 10^{93}

第二部分 (非选择题 共 110 分)

二、填空题共 6 小题, 每小题 5 分, 共 30 分。

- (9) 在平面直角坐标系 xOy 中, 角 α 与角 β 均以 Ox 为始边, 它们的终边关于 y 轴对称. 若 $\sin \alpha = \frac{1}{3}$, 则 $\sin \beta =$ _____.
- (10) 若双曲线 $x^2 - \frac{y^2}{m} = 1$ 的离心率为 $\sqrt{3}$, 则实数 $m =$ _____.
- (11) 已知 $x \geq 0$, $y \geq 0$, 且 $x+y=1$, 则 $x^2 + y^2$ 的取值范围是 _____.
- (12) 已知点 P 在圆 $x^2 + y^2 = 1$ 上, 点 A 的坐标为 $(-2, 0)$, O 为原点, 则 $\overrightarrow{AO} \cdot \overrightarrow{AP}$ 的最大值为 _____.
- (13) 能够说明“设 a, b, c 是任意实数. 若 $a > b > c$, 则 $a+b > c$ ”是假命题的一组整数 a, b, c 的值依次为 _____.
- (14) 某学习小组由学生和教师组成, 人员构成同时满足以下三个条件:
- (i) 男学生人数多于女学生人数;
 - (ii) 女学生人数多于教师人数;
 - (iii) 教师人数的两倍多于男学生人数.
- ①若教师人数为 4, 则女学生人数的最大值为 _____.
- ②该小组人数的最小值为 _____.

三、解答题共 6 小题, 共 80 分. 解答应写出文字说明, 演算步骤或证明过程。

(15) (本小题 13 分)

已知等差数列 $\{a_n\}$ 和等比数列 $\{b_n\}$ 满足 $a_1 = b_1 = 1, a_2 + a_4 = 10, b_2 b_4 = a_5$.

(I) 求 $\{a_n\}$ 的通项公式;

(II) 求和: $b_1 + b_3 + b_5 + \dots + b_{2n-1}$.

(16) (本小题 13 分)

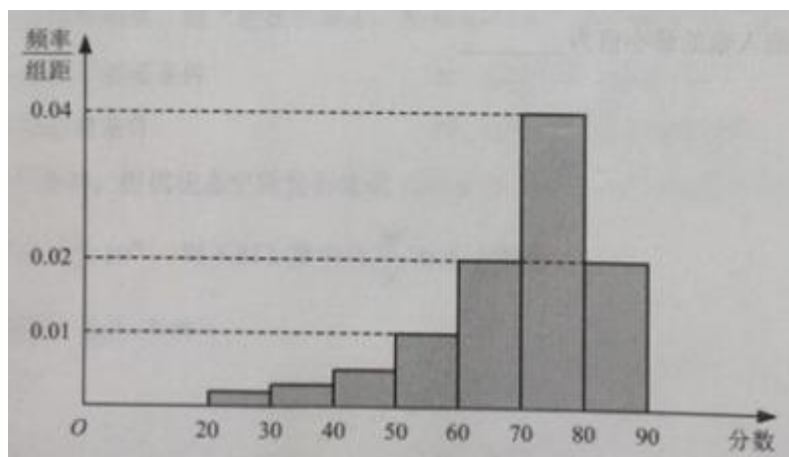
已知函数 $f(x) = \sqrt{3} \cos(2x - \frac{\pi}{3}) - 2 \sin x \cos x$.

(I) $f(x)$ 的最小正周期;

(II) 求证: 当 $x \in [-\frac{\pi}{4}, \frac{\pi}{4}]$ 时, $f(x) \geq -\frac{1}{2}$

(17) (本小题 13 分)

某大学艺术专业 400 名学生参加某次测评, 根据男女学生人数比例, 使用分层抽样的方法从中随机抽取了 100 名学生, 记录他们的分数, 将数据分成 7 组: $[20, 30)$, $[30, 40)$, \dots , $[80, 90]$, 并整理得到如下频率分布直方图:



(I) 从总体的 400 名学生中随机抽取一人, 估计其分数小于 70 的概率;

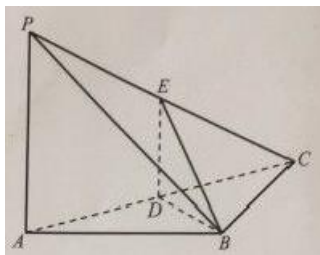
(II) 已知样本中分数小于 40 的学生有 5 人, 试估计总体中分数在区间 $[40, 50)$ 内的人数;

(III) 已知样本中有一半男生的学科网分数不小于 70, 且样本中分数不小于 70 的男女生人数相等. 试估计总体中男生和女生人数的比例.

(18) (本小题 14 分)

如图, 在三棱锥 $P-ABC$ 中, $PA \perp AB$, $PA \perp BC$, $AB \perp BC$, $PA=AB=BC=2$, D 为线段

AC 的中点, E 为线段 PC 上一点.



- (I) 求证: $PA \perp BD$;
 - (II) 求证: 平面 $BDE \perp$ 平面 PAC ;
 - (III) 当 $PA \parallel$ 平面 BDE 时, 求三棱锥 $E-BCD$ 的体积.
- (19) (本小题 14 分)

已知椭圆 C 的两个顶点分别为 $A(-2,0)$, $B(2,0)$, 焦点在 x 轴上, 离心率为 $\frac{\sqrt{3}}{2}$.

- (I) 求椭圆 C 的方程;
- (II) 点 D 为 x 轴上一点, 过 D 作 x 轴的垂线交椭圆 C 于不同的两点 M, N , 过 D 作 AM 的垂线交 BN 于点 E . 求证: $\triangle BDE$ 与 $\triangle BDN$ 的面积之比为 $4:5$.

(20) (本小题 13 分)

已知函数 $f(x) = e^x \cos x - x$.

- (I) 求曲线 $y=f(x)$ 在点 $(0, f(0))$ 处的切线方程;
- (II) 求函数 $f(x)$ 在区间 $[0, \frac{\pi}{2}]$ 上的最大值和最小值.



扫描二维码, 关注北京高考官方微信!

查看更多北京高考相关资讯!