

2021 北京东城高一（上）期末

历史

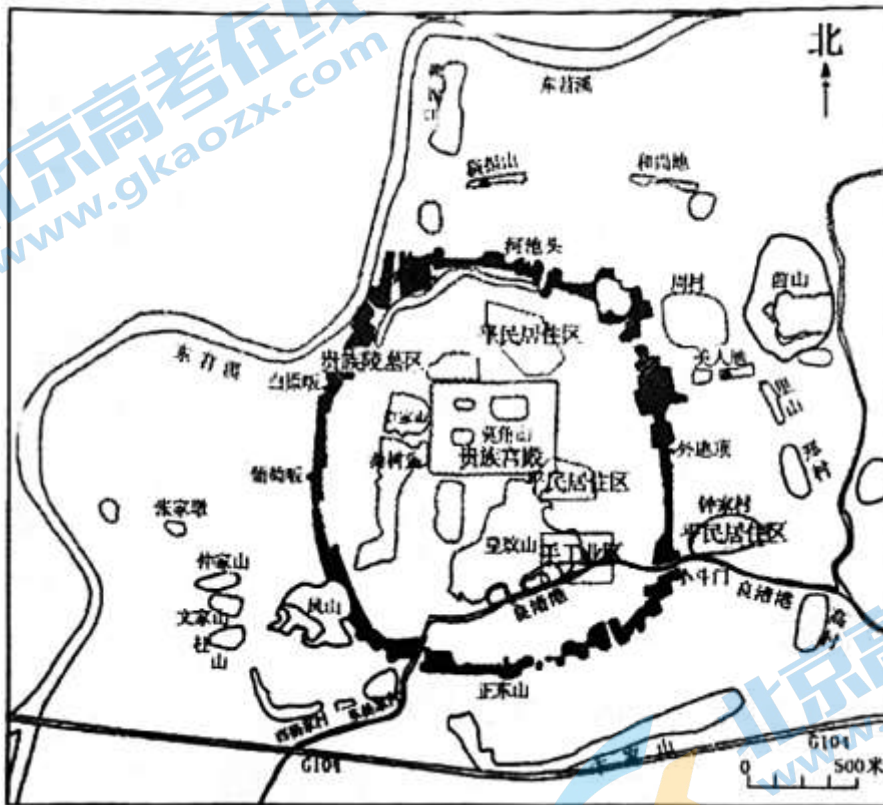
2021.1

本试卷共 12 页，共 100 分。考试时长 90 分钟。考生务必将答案答在答题卡上，在试卷上作答无效。

第一部分（选择题 共 60 分）

本部分共 40 题，每题 1.5 分，共 60 分。在每题列出的四个选项中，选出最符合题目要求的一项。

1. 下图是位于黄河下游的龙山文化陶寺遗址平面图。观察此图，你能获得的历史信息是



- A. 中华文明多元一体
- B. 阶级分化比较明显
- C. 国家机构更加完善
- D. 手工业分工较细密

2. 春秋时期，中原各国因社会发展比相邻的戎狄蛮夷先进，自称为“华夏”。在频繁的往来和密切联系中，进入战国以后，戎狄蛮夷逐渐融入华夏族。华夏族吸收了大量新鲜血液，更加稳定，分布更加广泛。这反映了

- A. 国家统一
- B. 华夏认同
- C. 列国纷争
- D. 诸侯称王

3. 区分历史叙述中的史实和解释是历史学科的素养要求之一。下列文字中，属于历史解释的是

| | |
|--|---|
| 战国时期， <u>商鞅由魏入秦</u> 。 <u>公元前 356 年，秦孝公任命商鞅为左庶长，开始变法。</u> | |
| ① | ② |
| <u>商鞅变法的主要内容有：重农抑商，奖励军功等，变法为秦统一中国奠定了基础。</u> | |
| ③ | ④ |

- A.① B.② C.③ D.④

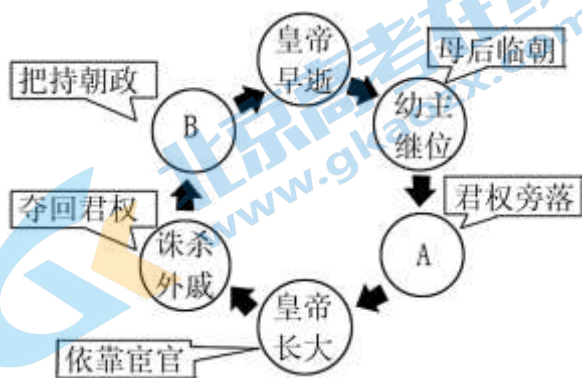
4.《荀子·君道》：“墙之外，目不见也；里之前，耳不闻也；而人主(君主)之守司(官更)，远者天下，近者境内，不可不略知也。”为达到这种效果，秦始皇采取的措施是

- A.统一度量衡 B.设立太尉 C.设立御史大夫 D.设立丞相

5.公元前 127 年，主父偃向汉武帝提出：“愿陛下令诸侯得推恩分子弟，以地侯之。彼人人喜得所愿，上以德施，实分其国，不削而稍弱矣。”这一提议旨在

- A.减轻徭役和刑罚 B.恩泽贵族
C.削弱诸侯王势力 D.增加税收

6.下图是某同学根据东汉后期政局变化画的一幅示意图，图中 A、B 两处应为



- A.与民休息、独尊儒术 B.王莽改制、农民起义
C.光武中兴、党锢之祸 D.外戚专权、宦官得宠

7.下列史料反映了中国古代某一选官制度的弊端。该制度所处的历史时期是

今台阁选举，涂塞耳目，九品访人，唯问中正。故据上品者，非公侯之子孙，则当涂之昆弟也。

- A.春秋战国时期 B.秦汉时期
C.魏晋南北朝时期 D.隋唐时期

8.东晋建立之初，琅琊王氏当权。此后，颍川庾氏、谯国桓氏、陈郡谢氏、太原王氏等家族相继掌权。上述材料反映了东晋

- A.地方出现众多割据政权 B.士族专权
C.宗室诸王争夺中央权力 D.国力强盛

9.《魏书》载：“(孝文帝)雅好读书，手不释卷。《五经》之义，览之便讲，学不师受，探其精奥。史传百家，无不该涉。善谈《庄》《老》，尤精释义。”材料说明孝文帝

- A.认同汉族文化 B.注重学以致用
C.锐意改革旧俗 D.潜心文学创作

10.唐太宗统治时期，政治清明，社会安定，统一多民族国家得到进一步巩固和发展。历史上称这一时期为

- A.文景之治 B.贞观之治 C.开元盛世 D.康乾盛世

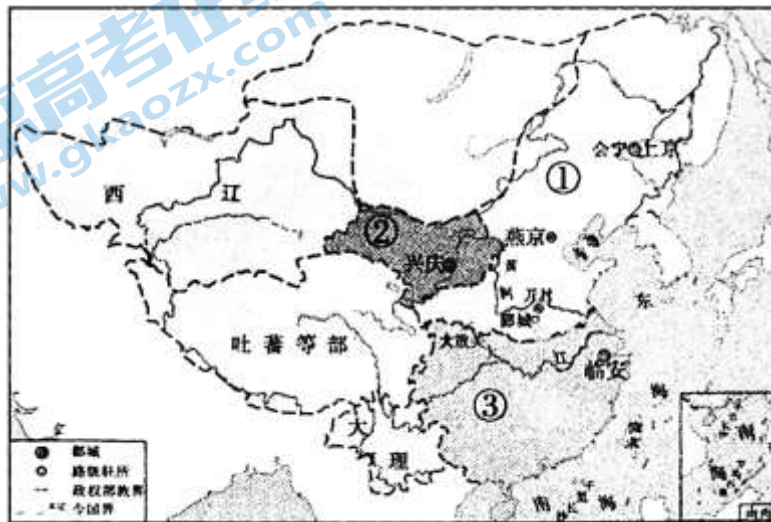
11.《唐六典》记载：“课户每丁租粟二石；其调随乡土所产绌、绢、絁各二丈……凡丁岁役二旬，无事则收其庸，每日三尺。”指的是

- A.郡县制 B.科举制 C.三省六部制 D.租庸调制

12.王祯《造活字印书法》记载，五代唐明宗长兴二年(931)，宰相冯道、李愚请令判国子监临田敏，校正《九经》，刻板印卖，朝廷从之长……因是天下书籍遂广。”这反映

- A.雕刻印刷术已在唐朝普及 B.政府已采用活字印刷技术
C.雕版印刷推动了文化发展 D.文化传播仅依靠手抄书籍

13.下图中①②③所代表的政权分别是

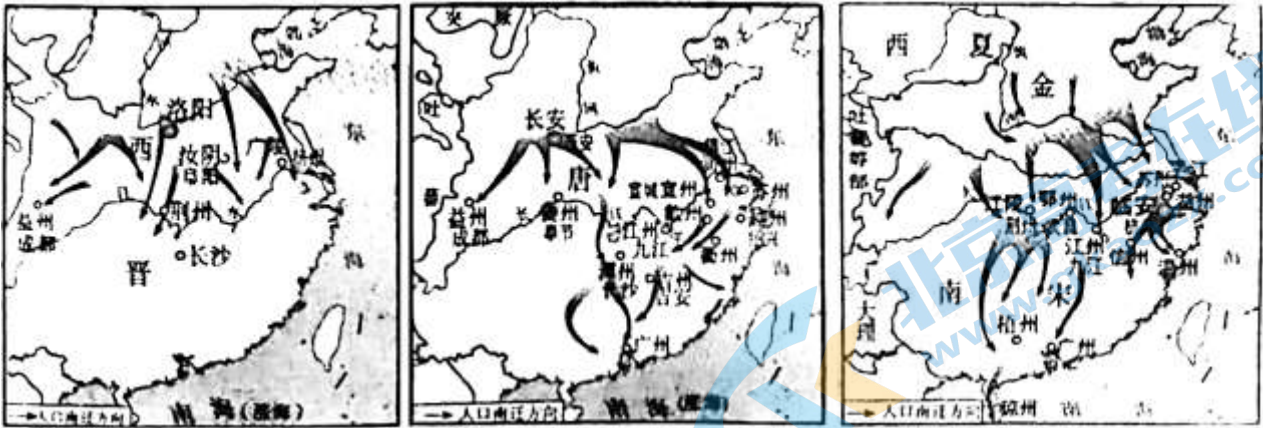


- A.辽、西夏、金 B.金、西夏、南宋
C.金、辽、北宋 D.西夏、北宋、辽

14.下列主张体现北宋时期程朱理学思想的是

- A.“人法地，地法天，天法道，道法自然”
B.“以兼相爱、交相利之法易之”
C.“宇宙之间，一理而已……其张之为三纲，其纪之为五常”
D.“保天下者，匹夫之贱与有责焉”

15.下列三幅地图体现了同一历史现象，其影响是



- ①推动了江南经济的开发 ②导致了藩镇割据
 ③加强了中外文化的交流 ④促进了民族交融

- A. ①② B. ③④ C. ①④ D. ②③

16. 为了便于对“琉球”的管理，元政府在澎湖设立了巡检司，隶属于晋江县。元朝时期的“琉球”即今天的

- A. 西藏 B. 台湾 C. 福建 D. 广东

17. 内阁大学士的日常工作主要是替皇帝浏览百官奏章，草拟处理意见，称为“票拟”。皇帝在“票拟”的基础上，用红笔正式批复奏章，称为“批红”。明朝中期，有的大学士深得皇帝信任，权力很大，被比喻为宰相。由此可知

- A. 内阁实质上反映了君主专制的加强
 B. 明朝中期相权加强
 C. “票拟”使内阁大学士拥有了决策权
 D. 内阁负责监察百官

18. 下列属于明清时期社会经济发展表现的是

- ①高产作物的推广种植大幅度提高了粮食总产量
 ②美洲等地白银通过海外贸易大量流入中国
 ③形成了实力雄厚的商人群体
 ④兴起一大批以经济功能为主的工商业市镇

- A. ①②③④ B. ①②③ C. ②③④ D. ①③④

19. 公元 1790 年，为庆祝乾隆皇帝 80 大寿，徽班进京，后融合徽、汉二调，吸收其他戏曲的艺术成分，最终发展成为

- A. 杂剧 B. 散曲 C. 昆曲 D. 京剧

20. 明朝后期，出现了一部中国古代医药学总结性著作，被后人誉为“东方药物巨典”。它是

- A. 《千金方》 B. 《资治通鉴》 C. 《梦溪笔谈》 D. 《本草纲目》

21. 两次鸦片战争后，中国社会发生的变化有

①西方科学知识开始在中国传播

②国家的主权和领土完整受到严重侵犯

③逐渐沦为半殖民地半封建社会

④社会各阶层为寻求国家出路不断探索

A.①②③

B.①②④

C.①③④

D.②③④

22.某同学在学习太平天国运动时列了一个大事年表，下列选项最适合成为该表标题的是

| |
|--------------------------|
| 1851年 金田起义 |
| 1853年 太平军北伐 |
| 1853年 颁布《天朝田亩制度》追求财富平均 |
| 1856年 太平天国领导集团内讧 |
| 1864年 在湘军、淮军和洋枪队的联合进攻下失败 |

A.农民阶级发展资本主义

B.农民阶级的英勇与智慧

C.农民阶级的抗争和局限

D.农民阶级抵制外来侵略

23.经过两次鸦片战争，清朝统治阶级中的一些当权人物看到了欧美国家的船坚炮利。为挽救国家的颓势，他们开展了一场以“自强”“求富”为目标的自救运动，被称作

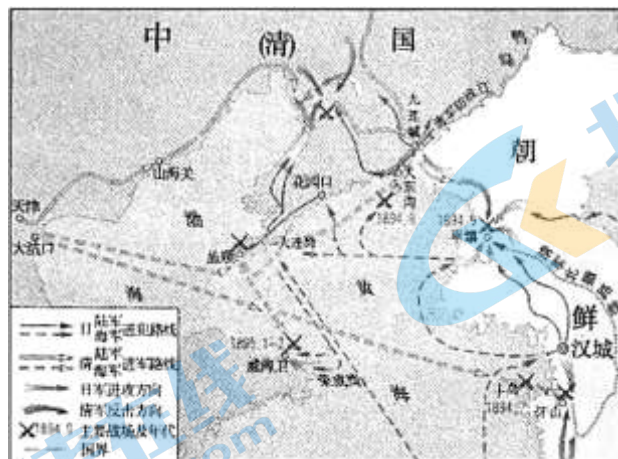
A.禁烟运动

B.洋务运动

C.百日维新

D.预备立宪

24.下图为近代某次列强侵华战争示意图。该侵华战争之后签订的不平等条约约为



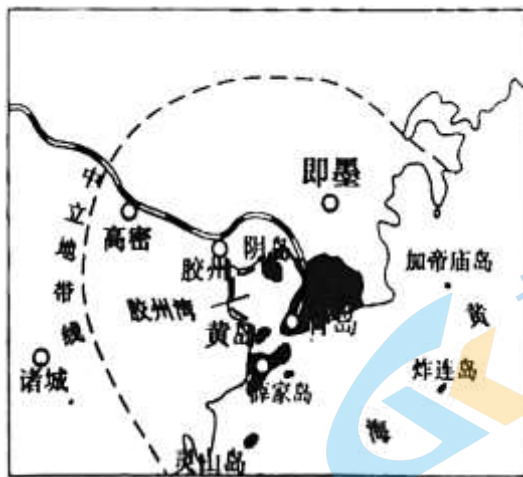
A.《南京条约》

B.《天津条约》

C.《马关条约》

D.《辛丑条约》

25.19世纪各帝国主义国家纷纷在华划分势力范围和强租租借地，掀起了瓜分中国的狂潮。强租下图所示租借地的国家是



- A. 德国 B. 英国 C. 俄国 D. 美国

26. 下表是“克林德碑”的相关信息，其变化说明

| 时间 | 事件 |
|-------|---|
| 1900年 | 德国驻华公使克林德在北京东单牌楼与清军发生冲突，被清军当场击毙，即“克林德事件” |
| 1901年 | 《辛丑条约》签订后，醇亲王载沣赴德国谢罪，清政府在克林德被杀处建立牌坊，即“克林德碑” |
| 1918年 | 德国在一战中战败，中国成为一战战胜国。克林德碑改名为“公理战胜碑” |
| 1952年 | 在亚洲及太平洋区域和平会议上，为表扬中国人民为世界和平所作的贡献，“公理战胜碑”改为“保卫和平碑” |

- A. 中国人民反抗外来侵略的决心 B. 中国社会完全沦为半殖民地半封建社会
 C. 中国面临“数千年未有之变局” D. 维护民族尊严与正义的基础是国家实力

27. 1912年3月11日南京临时参议院颁布《中华民国临时约法》，规定：中华民国主权属于国民全体。其实质意义在于

- A. 否定封建君主专制 B. 确立民主共和政体
 C. 实现自由民主法治 D. 传播民主共和观念

28. 下图是1917年由鲁迅设计完成的北京大学校徽，它象征北大肩负开启民智的重大使命。其中“北”字构成背对背的两个侧立的人像，“大”字构成了一个正面站立的人像。校徽体现了



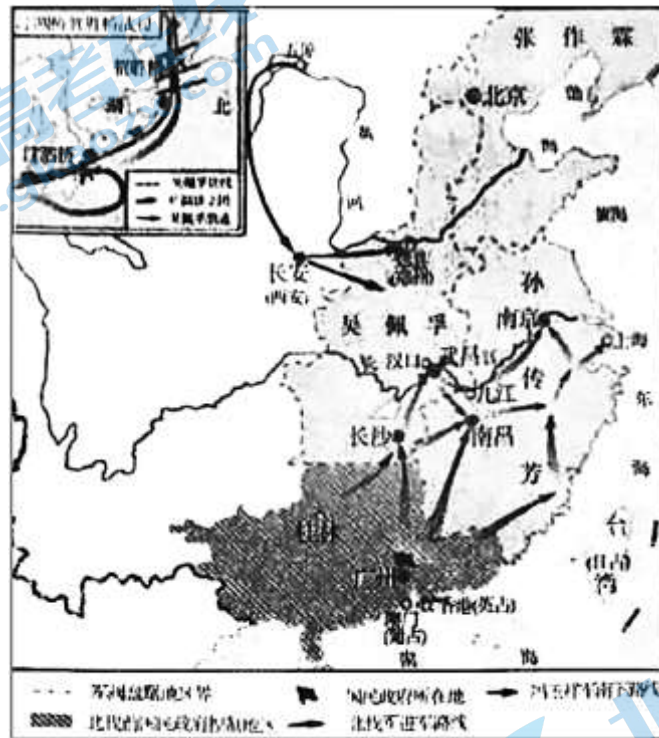
- A. 戊戌变法的改革成果 B. 三民主义的精髓
 C. 新文化运动重要理念 D. 民众的文化诉求

29. 以下是民国时期部分刊物简介表。这些刊物可用于研究

| 创刊时间 | 刊物名称 | 部分栏目或文章名称 |
|----------|---------------|------------------------------------|
| 1919年6月 | 《民国日报》的副刊《觉悟》 | 《关于〈共产党宣言〉中的唯物史观》 《劳动组合运动和阶级斗争》 |
| 1921年2月 | 《新滕》半月刊 | 《纪念劳动节专号》 |
| 1923年10月 | 《少年新滕》 | 《列宁底精神》 |

- A.北京已成为新思想的宣传中心
B.晚清时期近代教育的发展状况
C.五四运动后马克思主义的传播
D.“双百方针”对文化事业的推动

30.对下图所示历史事件评述正确的是



- A.斗争目标是反对袁世凯复辟帝制
B.基本推翻了北洋军阀的反动统治
C.成功实现了工农红军的战略转移
D.揭开了解放战争战略反攻的序幕

31.中国共产党为领导中国革命走向胜利不断进行探索。下图是中国共产党重要会议的会址，按照会议时间顺序排列正确的是




①河北省平山县西柏坡村



②贵州省遵义市



③浙江嘉兴南湖红船



④福建省上杭县古田村

- A. ①②③④ B. ②①④③ C. ③④②① D. ④③①②

32. 在全民族抗战中，中国共产党发挥了中流砥柱的作用。以下史实能够证明此结论的有

- ①十几万中国华工远渡重洋，前往欧洲前线承担战勤任务
- ②1938年毛泽东完成《论持久战》，思想上武装全党全军和人民群众
- ③八路军和新四军开辟的敌后战场，牵制了在华日军一半以上的兵力
- ④1940年下半年，八路军发动百团大战，打破日军的“囚笼政策”

- A. ①②③ B. ①②④ C. ①③④ D. ②③④

33. 2020年上映的电影《八佰》. 展现了谢晋元率部坚守上海四行仓库的事迹，该电影艺术创作源于抗日战争中的

- A. 淞沪会战 B. 太原会战 C. 徐州会战 D. 枣宜会战

34. 毛泽东诗词“钟山风雨起苍黄，百万雄师过大江”反映的历史事件是

- A. 辽沈战役 B. 淮海战役 C. 平津战役 D. 渡江战役

35. 徐中约在《中国近代史：1600—2000，中国的奋斗》中指出：“国民政府不理解农民，看不到解决农民困苦的紧迫性，对农民的疾苦也漠不关心....恰恰就是在这个被忽视的区域，毛泽东的天才得到了最高度，最成功的发挥。”下列史料能够佐证作者观点的是



- A. 革命根据地农民获得的土地分配证件 B. 《西北文化报》报道西安事变的文字



C.毛泽东和蒋介石在重庆谈判期间合影



D.北平学生“反饥饿反内战”大游行图影

36.新中国成立后，党和国家为巩固人民政权所采取的一系列举措有

- ①土地改革 ②稳定物价 ③剿匪镇反 ④抗美援朝
- A.①②③④ B.①②④ C.②③④ D.①③④

37.20世纪50年代中期，我国开始探索自己的社会主义建设道路。下列历史事件被称为“我国建设社会主义道路的一次成功探索”的是

- A.一届政协 B.中共八大 C.“大跃进”运动 D.人民公社化运动

38.1955年4月，亚非会议在印度尼西亚万隆举行。周恩来在发言中说：中国代表团参加会议的目的“是来求团结而不是来吵架的”。这次会议上中国提出并坚持的方针是

- A.“一边倒” B.另起炉灶 C.打扫干净屋子再请客 D.求同存异

39.1959至1961年，我国经济发生了严重困难。为克服困难，中共中央实行的方针是

- A.“鼓足干劲、力争上游、多快好省地建设社会主义”
- B.“调整、巩固、充实、提高”
- C.“解放思想，实事求是，团结一致向前看”
- D.“计划和市场都是经济手段”

40.中国共产党高度重视理论建设，坚持将马克思主义基本原理同中国具体实际和时代特征结合起来。马克思主义中国化的最新理论成果是

- A.邓小平理论 B.“三个代表”重要思想
- C.科学发展观 D.习近平新时代中国特色社会主义思想

第二部分(非选择题 共40分)

41.(14分)阅读材料，回答问题

材料一 清朝十分重视边疆治理。根据边疆蛮夷的特点分别施治，即“修其教不易其俗，齐其政不易其宜”；对边疆蛮夷的上层人物加强控制的同时在待遇、名位和礼遇方面加以厚待；在蒙古草原和青藏高原积极倡导喇嘛教，发挥宗教聚集人心、教化风俗、绥服边地的作用；在中央设立理藩院，掌管内外藩蒙古、回部及诸番杂

部；在北部、东部、西北部、西部边疆设置军府，派将军、都统、大臣等官员监督、管领当地的军事与行政。通过上述的治边方略，清朝对边疆地区的治理卓有成效。

——摘编自方铁《论元明清三朝的边疆治理制度》

(1)依据材料一，概括清朝边疆治理的举措，并指出其积极意义。(6分)

材料二 中国近代爱国主义萌发于忧患意识，发展于救亡斗争，下迄于中华人民共和国，合着时代脉搏，它具有一些显著的特点：一是近代爱国主义是和救亡图存结合在一起的。二是主张结合中国的实际情况学习外国的长处，为我所用。

——摘编自齐涛主编《中国通史教程(近代卷)》

(2)请参照示例，围绕上述近代爱国主义的两个特点，举例说明。(8分)

要求：每个特点各举一例史实或举一例同时呈现两个特点的史实。

示例：围绕特点一的举例说明。《辛丑条约》签订后，民族危机进一步加深。有识之士认识到只有推翻清政府才能挽救中国。孙中山领导了辛亥革命，推翻清王朝，建立了中华民国。

42.(12分)建设与发展

某博物馆以组图的形式呈现新中国的发展历史。

组图①



农民申请加入农业生产合作社



手工业生产合作社社员证



1956年1月15日，在首都各界群众20多万人庆祝社会主义改造胜利大会上，工商界代表向毛泽东呈递喜报



(1)请从组图①②中任选一组，为它起一个标题，并配一段说明词。(8分)

某同学对 1978 年以来中国共产党的历史非常感兴趣，获得一本珍贵的参考书，但前两章目录不完整。

| |
|--|
| 第一章 伟大历史转折和中国特色社会主义的开创(1978—1991 年) |
| 第二章 改革开放新阶段和把中国特色社会主义全面推向 21 世纪(1992-2001 年) |
| 第三章 全面建设小康社会和把中国特色社会主义不断推向前进(2002—2016 年) 一、中共十六大与“三个代表”重要思想 二、中共十七大与科学发展观 三、深化改革开放与经济总量跃居世界第二 四、中共十八大与全面建成小康社会目标的确定 五、海峡两岸交往扩大 |
| 结束语 坚定不移把中国特色社会主义伟大事业全面推向前进 |

(2)请依据所学，在第一章或者第二章中任选一章，试着将其目录补充完整。

要求：每章至少有四个子目。(4分)

43.(14分)史料辨析

材料一 自从胡骑起烟尘，毛毳(兽的毛皮)腥膻满咸洛。女为胡妇学胡妆，伎进胡音务胡乐。……胡音胡骑与胡妆，五十年来竞纷泊。

——【唐】元稹《法曲》

材料二 你看圣贤书里，哪一处不说着忠孝二字。当时母亲教我读书，也要识些礼义。

——摘自【明】香囊记》

注：《香囊记》是明前期的戏曲

(1)材料一、二反映了哪些历史现象?请分别说明。(4分)

材料三 枢密使童贯上奏战事曰，“杀退辽兵，直至燕京，围住城池攻击，旦夕可破。今有辽主早竖降旗，情愿投降，遣使丞相奉表称臣，纳降请罪，求诏退兵罢战，情愿年年进奉”，恳请皇帝恩准。

—摘编自《水浒传》第八十九回

(2)材料三描述的情景是否属实?请简述理由。(4分)

(3)结合所学，谈谈你如何看待古代文学作品的史料价值。(6分)

关于我们

北京高考在线创办于 2014 年，隶属于北京太星网络科技有限公司，是北京地区极具影响力的中学升学服务平台。主营业务涵盖：北京新高考、高中生涯规划、志愿填报、强基计划、综合评价招生和学科竞赛等。

北京高考在线旗下拥有网站门户、微信公众平台等全媒体矩阵生态平台。平台活跃用户 40W+，网站年度流量数千万量级。用户群体立足于北京，辐射全国 31 省市。

北京高考在线平台一直秉承“精益求精、专业严谨”的建设理念，不断探索“K12 教育+互联网+大数据”的运营模式，尝试基于大数据理论为广大中学和家长提供新鲜的高考资讯、专业的高考政策解读、科学的升学规划等，为广大高校、中学和教科研单位提供“衔接和桥梁纽带”作用。

平台自创办以来，为众多重点大学发现和推荐优秀生源，和北京近百所中学达成合作关系，累计举办线上线下升学公益讲座数百场，帮助数十万考生顺利通过考入理想大学，在家长、考生、中学和社会各界具有广泛的口碑影响力

未来，北京高考在线平台将立足于北京新高考改革，基于对北京高考政策研究及北京高校资源优势，更好的服务全国高中家长和学生。



微信搜一搜

北京高考资讯