

西城区高三模拟测试

文科综合

2017.5

本试卷共 15 页，共 300 分。考试时长 150 分钟。考生务必将答案答在答题卡上，在试卷上作答无效。考试结束后，将本试卷和答题卡一并交回。

第一部分（选择题 共 140 分）

本部分共 35 小题，每小题 4 分，共计 140 分。在每小题列出的四个选项中，选出最符合题目要求的一项。

亚欧大陆 36°N 到 46°N 之间的阿尔卑斯山、大高加索山、昆仑山等众多名山，都盛产优质矿泉水，被誉为“世界黄金水源带”。昆仑山脉玉珠峰北麓海拔 6000 米的雪线之上，冰雪慢慢融化，渗入岩层，形成优质的雪山矿泉水。据此，回答第 1、2 题。

1. “世界黄金水源带”的形成原因有

- ①纬度高，全年气温低
- ②有高大山脉分布
- ③降水丰富，年积雪量大
- ④森林覆盖率高，利于水体净化
- ⑤山地冰川广布，逐渐消融

- A. ①②
- B. ③④
- C. ②⑤
- D. ④⑤

2. 昆仑山的雪山矿泉水

- A. 水源主要来自太平洋
- B. 水源地将随全球变暖海拔降低
- C. 补给依靠江河、湖泊
- D. 由冰雪下渗经过滤和矿化形成

图 1 为某年 6 月 5 日，某省区近地面天气状况图。读图，回答第 3 题。

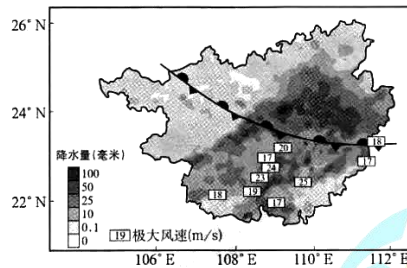


图 1

3. 该地

- A. 冷气团来自西伯利亚冷高压
- B. 降水主要出现在冷气团一侧
- C. 锋面两侧气团的温度差异大
- D. 锋线附近的等压线最为密集

雾凇是低温时空气中的水汽凝华在树枝等物体上的现象。日本青森县形成的雾凇远超吉林雾凇平均40-60mm的厚度，被称为“山形雾凇”，如图2(b)所示。读图2，回答第4、5题。

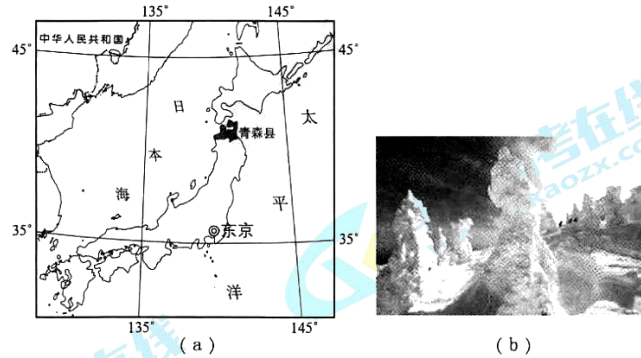


图2

4. 与吉林相比，青森县雾凇形成的特殊条件是
- A. 纬度高，冬季气温低
  - B. 冬季盛行西北风
  - C. 日本海提供充足水汽
  - D. 常绿阔叶林为主
5. 当地旅游开发可以
- A. 加大宣传，吸引北欧等地区客源
  - B. 挖掘景观历史内涵，增加资源类型
  - C. 清理植被，建设高标准的滑雪场
  - D. 利用地热温泉资源，丰富旅游项目

图3为我国西北某地地质剖面示意图，该地常年盛行东北风。读图，回答第6题。

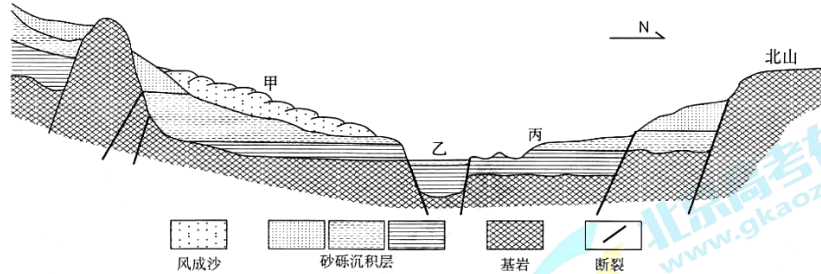


图3

6. 图中
- A. 地势特征主要是由内力作用形成
  - B. 甲地因地壳上升形成较厚沉积层
  - C. 乙地是因褶皱形成的谷地，植被条件较好
  - D. 丙地风力侵蚀作用强，可为甲地提供沙源

图4是我国2011-2015年洪涝、旱灾、台风灾害应急响应应次统计图。读图，回答第7题。

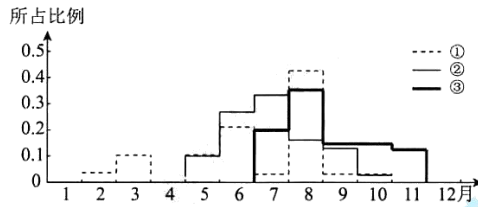


图4

7. 图中①②③代表的依次是
- A. 旱灾、洪涝、台风
  - B. 洪涝、旱灾、台风
  - C. 台风、洪涝、旱灾
  - D. 旱灾、台风、洪涝

图5是2000年和2011年成都市热岛效应温度场示意图。读图，回答第8、9题。




图5

8. 图中成都市
- A. 2000年市中心温度普遍较高且集中连片
  - B. 2000年东北部环路因车辆拥堵温度最高
  - C. 十年间新建产业园区，重工业规模扩大
  - D. 十年间企业基本退出城区，呈分散布局
9. 为缓解城市热岛效应，应采取的合理措施是
- A. 建设市中心休闲旅游区
  - B. 优化城市中心功能分区
  - C. 疏解人口和商业到近郊
  - D. 外迁全部产业至远郊区

2011年，贵州省从江侗乡稻鱼鸭农业生态系统成为全球重要的农业文化遗产(GIAHS)保护试点地，图6示意具体生产过程，其间农田需保证随时有充足的水。读图，回答第10、11题。

时间(农历)	正月	三月初	三月中	持续130天左右	八月初	八月中
农田	放雏鸭	放鱼苗	养鱼	养鱼、养鸭	收获田鱼	养鸭
			水稻插秧	水稻返青	水稻生长	收割水稻

← 鸭子集中圈养 →      ← 鸭子集中圈养 →

图6

10. 该农业生态系统中
- A. 水稻种植机械化水平较高
  - B. 耕作制度属于一年三熟
  - C. 养鱼养鸭可增加土壤养分
  - D. 需要增加农药的使用量
11. 为保护这种农业文化遗产，当地应该
- A. 修筑梯田，扩大农田面积
  - B. 加强灌溉设施的维护
  - C. 增加养鸭数量，提高收入
  - D. 坡脚种植水源涵养林

12. 下列有关中国古代“权力的分配与继承”的做法，表述准确的是

- A. 西周宗法制以“嫡长子继承”为核心
- B. 秦朝设丞相协助皇帝，加强中央集权
- C. 北宋“中书门下”分割宰相的行政权
- D. 明朝时期内阁“首辅”行使宰相权力

13. 图7为新疆吐鲁番出土的唐景龙四年（710年）抄本《论语郑氏注》（部分），12岁的作者在旁边留有小诗：“写书今日了，先生莫嫌迟。明朝是假日，早放学生归。”此文物可佐证



图7

- A. 唐太宗推行“崇儒尊孔”的国策
- B. 《四书章句集注》已成为考试用书
- C. 唐朝人普遍用诗歌表达生活体验
- D. 汉文化在西北边疆地区有所传播

14. 宋元的工匠们将规矩工整的楷书广泛用于刻书并加以改造，在明朝中期形成了以“横轻竖重、四角整齐”为特征的宋体字。宋体字的形成

- A. 实现了汉字由繁到简的演变
- B. 阻碍了中国书法艺术的传承
- C. 利于印刷业发展和文化传播
- D. 标志着活字印刷术正式诞生

15. 读图8，判断下列描述正确的是

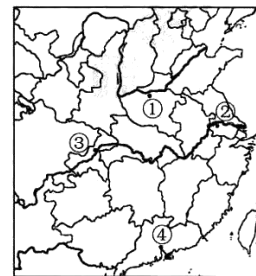


图8

- A. 汉武帝时①成为陆上丝绸之路的起点
- B. ②是隋朝大运河中心，也是政治中心
- C. 元朝时③瓷窑众多，成为著名的瓷都
- D. 清政府在④处特许商行专营对外贸易

16. 下表反映了19世纪60-90年代中国主要近代民办企业概况，据此判断下列说法正确的是

行业种类	厂数（个）	平均资本（两）	分布地区及数量（家）
船舶和机器修造	16	625	上海12、广东2、天津1、武汉1
缫丝	97	38392	上海8、广东88、烟台1
棉纺织	2	240000	上海2
面粉	3	40000	上海、天津、北京各1

- ①经营范围涉及轮船修理和加工制造业
- ②以轻工业为主，各类企业规模大小悬殊
- ③主要分布于东南沿海地区和通商口岸
- ④其发展得益于清政府放宽民间设厂限制

- A. ①②③
- B. ①②④
- C. ①③④
- D. ②③④

17. 19 世纪中期以后，英、法、美等国在与中国进行贸易时，将本国度量衡与中国度量衡按比例折算。1928 年，南京政府拟定《度量衡法》，规定海关与内地一律采用国际通用标准。这一变化折射出中国
- 一直采用国际统一度量衡
  - 贸易走向规范化和国际化
  - 迈出经济近代化的第一步
  - 在世界市场处于附属地位

18. 图 9 为 20 世纪初刊登于《神州日报》上的时政漫画。它反映的历史事件是
- 戊戌变法
  - 义和团运动
  - 清末新政
  - 辛亥革命

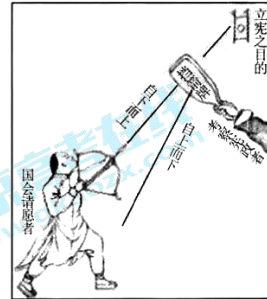


图 9

19. 改革开放以来，中国出现两次立法高峰，1978 年~1992 年制定了《宪法》（1982 年修订）《刑法》《中华人民共和国民族区域自治法》等二百多个重要法律；20 世纪 90 年代初，一大批用于调整经济活动的法律法规出台。对上述高峰均起到推动作用的是
- “有法可依”的法律建设方针
  - 确定建立市场经济体制的目标
  - “关于真理标准问题”的讨论
  - 经济全球化和区域化趋势加强
20. 西班牙学者受教皇委托，整理来华传教士的记载，参考各类中国书籍译著、欧洲中国学著作，于 1585 年出版了《伟大强盛的中华帝国史及其情况以及巨大的财富、宏伟的城市、政府和杰出的发明》一书。到 16 世纪末，此书以 7 种欧洲文字重印 46 次。它表明
- ①宗教改革后，欧洲新教教派向东方拓展势力
  - ②此书比较客观地描述了中国社会的主要特征
  - ③当时欧洲需要关于中国社会情况的详细资料
  - ④该书在欧洲广泛流行，促成了新航路的开辟
- ①②
  - ②③
  - ②④
  - ③④
21. 有学者认为，在 19 世纪，欧洲大多数君主最终妥协，被迫交出部分权力……国家不再是统治者的领域，而是法治的领域，君主和政府都要接受国家的统治。符合此发展趋势的是
- 1832 年的英国
  - 1861 年的俄国
  - 1871 年的德国
  - 1875 年的法国
22. 20 世纪 30 年代，不同社会制度的国家和地区都在探索自身的发展道路。下列表述正确的是
- 苏联：优先发展重工业，利用商品经济建设社会主义
  - 土耳其：凯末尔“以俄为师”，全方位借鉴苏联经验
  - 印度：甘地领导“非暴力不合作运动”，实现民族独立
  - 美国：放弃“自由放任”政策，转为国家干预经济

23. “这是一项前所未有的政治构想，借着永久性的安排（至少是长久性的），进而统一各个主权国家经济活动、法律系统（就某种程序而言）。”为此构想奠定基础的是
- A. 北大西洋公约组织  
B. 欧洲煤钢共同体  
C. 上海合作组织  
D. 不结盟运动
24. 在布鲁塞尔的街头，矗立着一尊雕像：头顶圆帽、蓄着胡须的男子倒骑着毛驴，憨态可掬。中国人会认出来这是智慧幽默的阿凡提，叙利亚人说他是朱哈，还有人说这是土耳其的霍加·纳斯列丁……驼铃悠扬的古丝绸之路上，这位骑着毛驴的智者以不同的名字在人民中流传。这一现象，最适合用于佐证
- A. 尊重文化的多样性  
B. 文化影响人的交往方式  
C. 商业贸易与文化传播  
D. 一方水土 一方文化
25. 在一场名为“中华文化及其活力”的研讨会上，人们提出了以下观点，其中不合理的是
- A. 中国的古典诗学如“意境”“情景交融”等保存了中华文化的重要基因  
B. 中国文化更适合与传统相联系，而西方文化更侧重于现代，两种文化各具特色  
C. 如果无法觉察古人如何与他们的时代积极互动，只是模仿其外在形迹，我们并没有真正掌握文化传统的精髓  
D. 中国文化的真正活力不在于刻意维护某种古老的礼仪，而是进入当今社会，力争发现问题并且解决问题，展示中国智慧
26. 当感性的古诗与理性的数学相遇……

元稹的《一言至七言诗》是一首风格独特的咏茶诗，俗称宝塔诗，诗曰：

茶  
香味，嫩芽。  
慕诗客，爱僧家。  
碾雕白玉，罗织红纱。  
铫前黄蕊色，碗转典尘花。  
夜后邀陪明月，晨前命对朝霞。  
洗尽古今人不倦，将知醉后岂堪夸。

数值计算经常会产生一些奇异而美妙的结果。

$3 \times 4 = 12$   
 $33 \times 34 = 1122$   
 $333 \times 334 = 111222$   
 $3333 \times 3334 = 11112222$   
 $33333 \times 33334 = 1111122222$   
 $333333 \times 333334 = 111111222222$   
.....

下列说法正确的是：

- ①形式美作为审美对象是独立存在的，不需要内容作为支撑  
②形式与内容的联系是一种人为事物的联系，因而是主观的  
③诗词与数学可以通过特定一致的形式展现，从而产生相通性的美感  
④对称均衡、节奏韵律，多样的形式与相应的精神内容相结合会产生强烈的感染力
- A. ①②  
B. ①③  
C. ②④  
D. ③④

27. 是完成无报酬的社团工作还是承担一份高酬劳的兼职？是遵守交通规则还是闯红灯将病人送到医院？生活是复杂的，人们在履行自己的责任时，往往会出现冲突。关于如何在相互冲突的责任中选择，下列建议合理的是

- ①应具体分析不同责任的特殊性，优先考虑更为紧迫和重要的责任
- ②当紧迫的责任和重要的责任发生冲突时，任何一种选择都是对的
- ③客观决定主观，因此责任的履行依赖于良好的外部条件
- ④价值判断是价值选择的基础，应审视责任做出正确的价值判断

A. ①③                      B. ②③                      C. ①④                      D. ②④

28. 小明和朋友们一起去奥森公园赏花，看到有人在公园的小河里捞蝌蚪。下列选项来自于他们的对话，其中有道理的是

- A. 小蝌蚪长在公园的河里，是无主之物，属于公共物品
- B. 不收门票的奥森公园具有非竞争性和非排他性，属于公共物品
- C. 如果有工作人员去阻止随意捕捞小蝌蚪，那么小蝌蚪就具有了竞争性
- D. 奥森公园的日常维护由政府财政支持，这证明公共物品供给与市场作用无关

29. 某市宣布取消原来可以免费乘坐公交车的“敬老卡”，代之以按不同年龄等级发放的老年综合津贴。老年人直接获得了现金形式补贴，能把钱用在刀刃上，更好地支配自己应得的公共福利，十分满意；另一方面，因为政策改变了部分人“不坐就没补贴”“没事儿也去坐坐”的心理，使公交车和地铁上的老年乘客明显减少，增加了公交舒适度，提高了普通出行者的满意度。看似削减社会福利的做法，受到了各方赞许，这启示我们

- ①公共福利的分配应以政府的计划手段为主
- ②良好的制度设计有利于社会整体资源配置的优化
- ③可以通过支出结构的优化来减少养老制度的资金压力
- ④要设计出提升福利的经济政策，应当理解个人的消费选择

A. ①③                      B. ①④                      C. ②③                      D. ②④



图 10

30. “人工智能取代劳动力”“机器人抢工作”这类新闻已不是什么新鲜事，很多人开始担心自己的饭碗能否保住。微软公司创始人比尔·盖茨建议美国政府“对机器人征税”，税款用于帮助那些因机器人而失业的人获得新技能、进入新行业。“对机器人征税”

- ①会刺激企业提高生产效率，推动企业的创新和技术进步
- ②会促使企业减少劳动力要素的投入，从而放慢机器人替代人工的速度
- ③需要在机器带来的生产效率提高与人类福利特别是弱势群体利益之间做出权衡
- ④在一个开放、竞争的世界市场中，如果一国“对机器人征税”，会抑制制造业生产效率的提高，其制造业的比较优势就可能被削弱，从而失去更多的就业岗位

A. ①②                      B. ①③                      C. ②④                      D. ③④

31.

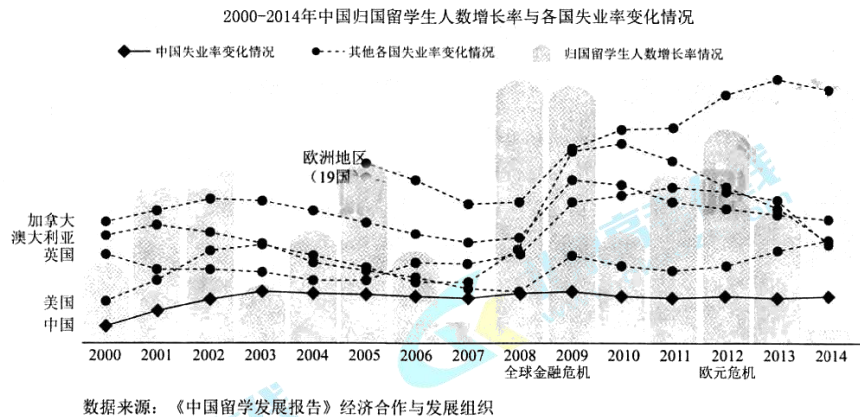


图 11

截至 2016 年底，一共有 485 万名中国留学前往世界各地留学，322 万人回到国内发展，其中 2016 年回国 43.25 万人，较 2015 年增长了 12.1%。结合上图信息，下列推断合理的是

- ① 各国的失业率都明显受全球经济发展形势的影响
  - ② 从 2005 年到 2014 年，我国的留学生归国总人数时增时减，波动较大
  - ③ 归国留学生的年增长率与英、美等留学大国的失业率呈正相关
  - ④ 这一发展趋势将有利于增加我国的人才储备，提高国际竞争力
- A. ①②      B. ①③      C. ②④      D. ③④

32. 根据国务院《2017 年政务公开工作要点》，今年做到按月公开全国财政收支情况，解读财政收支增减变化及原因、预判财政收入走势，解释说明收支运行中可能引发关注的热点问题；每周发布国内批发市场价格信息、国际农产品价格信息以及全国小麦、稻谷、玉米、大豆收购价格信息，每月发布中国玉米、大豆、棉花、食用植物油、食糖等农产品供需平衡表等。这些举措，有利于

- ① 提高公开实效——增进民众对政策的理解——凝聚改革共识
  - ② 建设法治政府——健全基本公共服务体系——贯彻共享理念
  - ③ 信息更加透明——市场主体充分预判风险——做到趋利避害
  - ④ 规范行政行为——精简政府的工作程序——强化市场监管
- A. ①③      B. ①④      C. ②③      D. ②④





第二部分（非选择题 共 160 分）

36. (36 分) 读图 12，回答下列问题。

“非洲之傲”列车运行线路之一的起点是南非开普敦，终点是坦桑尼亚达累斯萨拉姆。

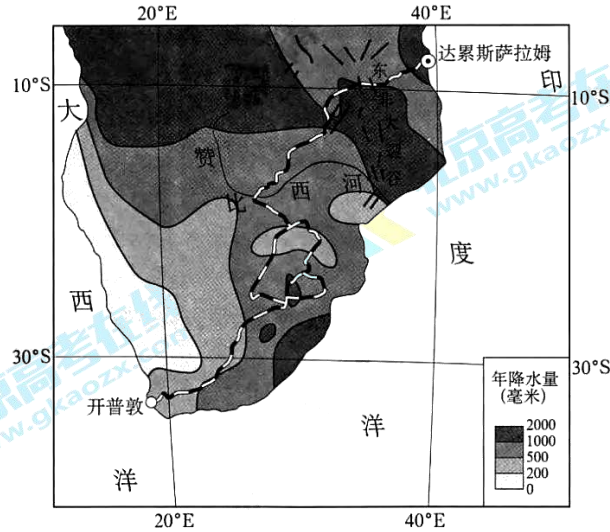


图 12

(1) 说明图中 30°S 附近大陆东西两岸年降水量的差异，并任选一侧简述成因。(8 分)

开普敦位于欧洲到亚洲航线的中途，西欧人在此建立了南部非洲最早的殖民地，其优越的自然条件吸引西欧农民不断迁移到此定居。

(2) 分析开普敦受西欧殖民者青睐的原因。(8 分)

铁路沿线大部分地区农业生产靠天吃饭，草原上旱季烧荒备耕现象非常普遍，每年仅播种一季。

(3) 指出草原地区旱季烧荒带来的主要生态问题，并说明当地农业发展应采取的措施。(10 分)

列车运行的最东段是我国 1970 年援建的坦赞铁路，共有 320 座桥梁，22 条隧道。2017 年 1 月中国宣布将再次参与该铁路的改造升级，实现铁路与港口的有效衔接，打造铁路沿线产业经济带。

(4) 分析影响坦赞铁路施工的自然因素，概述该铁路改造升级对沿线国家经济发展的影响。(10 分)

## 37. (34分) 科学揭示规律——科学解放思想——科学救国兴国

材料一 先秦时期，中国人观测星象，主要是为生活生产服务，往往只描述观测结果。商周时期留下了世界上最早关于日食、月食的记录。战国时期的天文学家石申，利用赤道坐标记录了八百多颗恒星的位置。后人保留下来的《石氏星表》是世界上最早的星表。

古希腊人带着超然的心态观察天象，试图探索宇宙的本质。公元前2世纪，天文学家希帕克斯利用天球的模型对星座进行观察，制订了一个不少于850颗恒星的星表。这是西方第一个星表。他还编制了太阳月亮运动位置表，能够预报日食和月食。

(1) 依据材料一，概括古代中国与希腊在天文学研究方面的异同。(8分)

材料二 “他(哥白尼)用这本书……来向自然事物方面的教会权威挑战。从此自然科学便开始从神学中解放出来……科学的发展从此便大踏步地前进。”

“大自然和大自然的法则藏匿于黑夜之中；上帝说，让牛顿出世吧！于是世界一片光明。”

“以达尔文著作的出版为界，在此之前是传统基督教世界观的思想意识占据着统治地位。那种世界观得到了圣经权威的认可，……认为动植物物种是各自分别被创造出来的，而且自它们产生以来就从来不曾改变过。”

“在我们这一时代的物理学家中，爱因斯坦将位于最前列。他现在是，将来也还是人类宇宙中有头等光辉的一颗巨星。”

(2) 阅读材料二，模仿示例，简述以上科学家的主要成就，并从思想解放的角度阐释其影响。(12分)

示例：16世纪，哥白尼提出日心说，否定了教会所鼓吹的地心说，使自然科学逐渐从教会的控制下解放出来，得到独立的发展。

材料三 林则徐是近代中国开眼看世界的第一人，魏源则提出“师夷长技以制夷”的主张。他们认为“夷之长技有三：一战舰，二火器，三养兵练兵之法”。

洋务运动以兴建实业为主要内容，还有组织地翻译了《克虏伯炮说》《兵船汽机》《代数术》《电学》《化学鉴原》《地学浅释》等大量西方科技文献。

维新变法运动期间，严复通过翻译《天演论》《原富》(即《国富论》)《法意》(即《论法的精神》)等著作，把进化论、西方古典经济学和政治理论等介绍到中国。

新文化时期的知识分子进而将科学作为一个整体升华为一种普遍的规范体系，一切都必须按科学原则形式，都必须以科学的原则加以裁决。

(3) 依据材料三，结合所学，以“近代中国人对科学含义认识的变化”为题，进行解读。(14分)。

要求：提取信息充分；总结和归纳准确、完整；解释和分析逻辑清晰。

38. (31分) 我们处在一个信息量极大丰富的时代。

材料一 随着互联网的发展，信息量极大丰富甚至是过剩，以前一条新闻会被我们津津乐道好几天甚至更长时间，而现在可能只有几个小时，甚至根本就顾不上。一个个热点迅速出现又迅速消失，注意力成为稀缺资源。为了赢得用户的关注，企业费尽了心思。

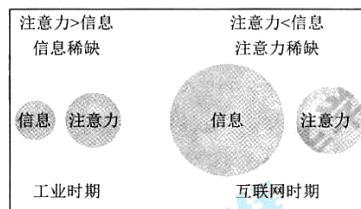


图13

(1) 一家视频网站打算开展“0 付费”活动以争取用户，即凡是在一个月内成为企业注册用户的，无需任何手续费，可以连续一年免费享受网站的服务；同时要求视频审核人员加快审核进度，提供尽可能多的视频资源供用户选择。运用经济知识，分析该企业做法的合理性和风险性。(10分)

材料二 在某种程度上，技术帮我们解决了注意力稀缺的难题。我们的浏览历史、喜欢的书、喝过的饮料、听过的歌曲、购买过的商品等等都可以让系统“越用越懂我”。应用数据分析技术，系统根据用户的偏好推测用户的观念倾向，为用户提供量身定制的内容。在搜索引擎中搜索同样的内容，不同偏好的人会搜到不同的结果……沿着熟悉的方式，我们可以沉浸在自己感兴趣的内容里，遇到跟自己兴趣、爱好、观念差不多的人，时时产生“英雄所见略同”的庆幸。

(2) 运用哲学观点回答，“只看自己喜欢的文章、只与兴趣爱好价值观相似的人交流”这一做法是否有利于认识的发展？(11分)

材料三 面对如潮资讯、海量观点，我们应怎样选择？某校学生会对本校学生的媒介素养状况做了一个小调查，结果如下：

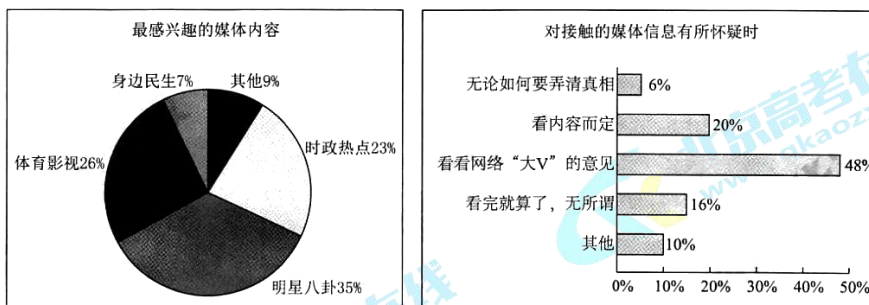


图14

(3) 针对调查结果，校学生会拟建议学校开设媒介素养的选修课。请运用《文化生活》知识，就开设该选修课的必要性写一份报告。(10分)

要求：学科观点运用得当，逻辑顺畅，200字左右。

39. (15分) 文艺当与时代同行, 电视剧《人民的名义》的播出, 收获了观众的热情赞誉。

【看电视 学经济】

剧情片断: 大风服饰厂(以下简称大风厂)前身为一家国有独资企业, 后改制为内部职工持股的有限责任公司。

蔡成功购买了厂里51%股权, 剩余49%股权由职工享有, 蔡成功任公司的总经理。

蔡成功为了解决短期资金困难问题, 从山水集团借款6000万, 约定使用6天, 日息千分之四, 以大风厂全部股权做了质押。大风厂职工对蔡成功与山水集团签订股权质押的事并不知情, 且未召开过股东大会讨论通过。大风厂无法向山水集团偿还借款, 欠款半年产生利息4000多万元, 山水集团起诉至市人民法院, 后来, 法院将大风厂的全部股权判归山水集团所有。

(1) 有法律工作者指出, 在现实生活中, 这个判决结果不一定会发生, 有些事对大风厂是有利的。阅读材料, 运用经济知识回答, 该法律工作者的说法是否有道理? 具体说明。(5分)

【看电视 说反腐】

十八大以来, 反腐败成为中国政治舞台的重要内容, 也成为牵动人心的时代命题。“骑自行车上班, 在陈旧简陋的家中吃炸酱面, 每个月给乡下老母亲汇300元生活费; 然而在另一处隐秘的豪宅, 壁柜里、床上、冰箱里, 却塞满了他利用行政职权贪腐而来的现金, 总数超过2.3亿元……”电视剧一开篇, 就为我们勾勒了这样一个腐败分子的“两面人生”。贪腐的危害, 反腐的决心, 通过视听语言呈现, 让人十分震撼。

(2) “以人民的名义, 是反腐的动力, 更是反腐的意义。”运用《政治生活》知识, 说明你对这句话的理解。(10分)



法律链接

“借贷双方约定的利率超过年利率36%, 超过部分的利息约定无效。借款人请求出借人返还已支付的超过年利率36%部分的利息的, 人民法院不予支持。”

——摘自《最高人民法院关于审理民间借贷案件适用法律若干问题的规定》(2015年)

40. (18分) 新版历史教科书将中国抗日战争的时间限定，从原先的“八年抗战”，改为“十四年抗战”，东北地区的战事再次引起人们的关注。

20世纪30年代有关东北战事的相关材料

①中日韩三国共同历史编纂委员会著《超越国境的东亚三国近现代史》(2013年出版)中描述：“1931年9月18日夜，日本关东军发动侵略中国的九一八事变。”	
	
②1931年9月20日中共中央发布的《为日本帝国主义强暴占领东三省事件宣言》	③1931年9月23日，杭州市各界群众举行抗日救国大会的照片。
④齐齐哈尔博物馆解说词：“1931年11月4日，黑龙江省政府代理主席马占山，率领爱国官兵发起江桥战役，打响了抗日第一枪。”	
⑤日本学者井上清著《昭和五十年》(1979年出版)中统计：“日军战死、病死和负伤的人数在战争开始的1931年为2871人，第二年一跃而超过3万人，1933年为42149人，1934年为39874人，1935年为54766人。”	

(1) 阅读材料，写出属于一手资料的序号；选择恰当的内容(标出序号)来说明抗日战争的起点确定在1931年的理由。(8分)

东北抗日联军在极其恶劣和残酷的环境中长期坚持游击战争，图15是东北抗日联军活动区域示意图。读图，回答第(2)题。

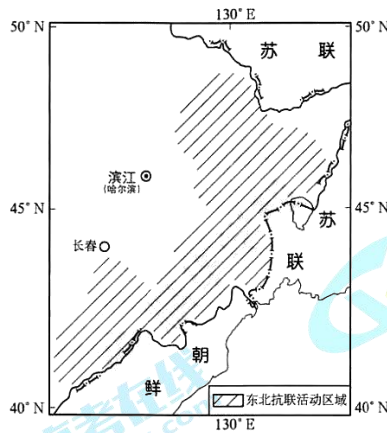


图15

(2) 分析东北抗日联军开展游击战环境恶劣的原因。(10分)

41. (26分) 某校学生开展了主题为“体会区域差异 探寻城市发展 品味地方文化”的陕西游学活动。

同学们在穿越秦岭的高速公路上多次看到装满柑橘的货车，在秦岭南坡更是观察到连绵10多千米的柑橘园。当晚，有同学上网查找柑橘的生长条件，整理资料如图16所示。读图，回答第(1)题。

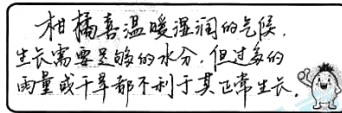


图16

(1) 简述秦岭对其南坡柑橘生长所起的作用。(10分)

新中国成立后，古都西安焕发新的活力。20世纪50年代，西安成为当时新建成的机械工业基地之一。苏联援建中国的156项重点工程中，有17项在西安地区布点建设。上海交通大学的大部分专业西迁成立西安交通大学。西安逐渐发展成为我国中西部地区科技实力最强、工业门类最齐全的大城市之一。

1992年，西安被列为对外开放的16个沿江和内陆省会城市之一，享受沿海开放城市的优惠条件。2013年提出的“一带一路”战略规划中，西安定位为内陆型改革开放新高地。

(2) 阅读材料，归纳20世纪50年代西安工业迅速发展的历史条件；结合所学，简述西安等内陆省会城市对外开放的意义。(10分)

陕西是中华民族发祥地之一，周、秦、汉、唐等十三个朝代都在这里建都，又是革命圣地延安的所在地，全国非物质文化遗产的重要代表地区，文化遗存丰富。同学们逛博物馆、看兵马俑、听秦腔、漫步西安城墙、品尝羊肉泡馍，经历了一个丰富的文化之旅。

(3) 请运用系统优化的方法，对陕西的文化建设提出方案，并做简要说明。(6分)

(考生务必将答案答在答题卡上，在试卷上作答无效)

西城区高三模拟测试  
文科综合参考答案及评分标准

2017.5

第一部分共 35 小题，每小题 4 分，共 140 分。

1	2	3	4	5	6	7	8	9	10
C	D	B	C	D	D	A	A	B	C
11	12	13	14	15	16	17	18	19	20
B	A	D	C	D	A	B	C	A	B
21	22	23	24	25	26	27	28	29	30
C	D	B	C	B	D	C	B	D	D
31	32	33	34	35					
D	A	C	A	B					

第二部分共 6 小题，共 160 分。

36. (36 分)

- (1) 年降水量东多西少，大陆东岸 1000-2000 毫米，大陆西岸小于 200 毫米。(2 分)  
大陆东岸：位于东南信风的迎风海岸，沿岸有暖流，山脉阻挡，多地形雨。(6 分)  
大陆西岸：受副热带高气压带控制，位于东南信风的离风海岸，沿岸有寒流。(6 分)
- (2) 海上航线重要的物资补给站；与西欧相比，热量充足，适宜种植业发展；阳光充足。(8 分)
- (3) 土地荒漠化面积不断扩大，生物多样性减少；(4 分) 因地制宜发展农牧业，改善水利设施，促进技术推广。(6 分)
- (4) 穿越裂谷带，河流众多；(4 分) 改善基础设施，利于沿线国家资源开发，完善产业结构，促进对外贸易发展。(6 分)

37. (34 分)

- (1) 相同：内容方面，都对恒星、太阳、月亮等的运行进行观测并记录；都利用模型或先进手段观察绘制星表；成果均达到较高水平（或答绘制出星表）。  
不同：目的不同，中国为生活生产服务，古希腊探索宇宙的本质；成就不同，中国最早记录日食、月食现象，古希腊可以预报日食和月食。  
(任意四点即可，必须有不同点，共 8 分)
- (2) 17 世纪，牛顿把地球上的物体运动和天体运动概括到同一个理论中，形成经典力学体系，揭示自然现象背后的客观规律，推动了启蒙运动的发展。(4 分)  
19 世纪，达尔文创立“物竞天择、适者生存”的生物进化理论，挑战了神学创世说，改变了大多数人对生物界的看法，促进了思想解放。(4 分)  
20 世纪初，爱因斯坦提出相对论，否定了经典力学的绝对时空观，揭示了时间与空间的本质属性，改变了人们认识世界的角度和方式。(4 分)

北京市西城区 2017 年 5 月高三文科综合参考答案 第 1 页 (共 3 页)



(3) 评分标准:

- 水平四，解释 4 项信息，归纳准确，解释逻辑清晰。(9-12 分)
- 水平三，解释 3 项信息，归纳准确，解释逻辑清晰。(6-9 分)
- 水平二，解释 2 项信息，归纳准确，解释逻辑清晰。(3-6 分)
- 水平一，解释 1 项信息，归纳准确，有一定的逻辑。(0-3 分)
- 小结提升 2 分。

38. (31 分)

(1) 合理性：“0 付费”活动可以刺激用户需求，增加品牌知名度，扩大企业的市场占有率；加快审核提供丰富的视频资源产品，满足用户多样化的需求，有利于企业发展；(5 分)

风险性：“0 付费”活动减少了企业的利润来源，会增加企业运营的成本，影响企业收益；片面强调视频产品的数量而忽视质量审核，会影响企业产品的信誉形象，触及法律监管的底线，忽视社会责任，影响企业的长远发展。(5 分)

(其他合理答案亦可给分)

(2) 哲学观点的论述 9 分，综合评价分 2 分。

示例 1:

看喜欢的文章、与兴趣爱好价值观相似的人交流，可以丰富和深化自己在某一领域的认识，能够促进认识的发展。还应倾听不同的观点和声音，真理与谬误相伴而行，在人们探索真理的过程中，不同观点相互辩驳会丰富我们的认识，推动认识的发展。实践是认识的基础和认识发展的动力，应重视实践，在实践中发现问题解决问题，获得直接经验，推动认识的发展。

示例 2:

对此需要具体分析。看喜欢的文章、与兴趣爱好价值观相似的人交流，可以丰富自己在某一领域的认识，增加量的积累，对认识的发展是有利的。另一方面，矛盾普遍存在，“只看喜欢的文章、只与兴趣爱好价值观相似的人交流”的做法只见矛盾的同一体性而忽视了斗争性，应该让不同的认识相互碰撞、相反相成，共同推动认识的发展；事物之间和事物内部的联系是复杂多样、变化发展的，应全方位多角度地把握多样的联系，在联系中推动认识的发展。

(3)

等级	等级描述
水平 4 (9-10 分)	能准确把握情境任务，结合对调研数据的分析，从教育的作用、大众传媒及其商业性、在文化生活中选择等角度综合论证开设媒介素养选修课的必要性，观点运用准确、表述清晰、前后逻辑一致。
水平 3 (6-8 分)	能较好把握情境任务，结合调研数据的分析，准确运用学科理论观点论证开设媒介素养选修课的必要性，但内容不够完整、准确或逻辑不够清晰。
水平 2 (3-5 分)	能大体把握信息，能运用学科观点论证问题，但观点学科观点运用不准确或是缺乏逻辑、堆砌知识。
水平 1 (0-2 分)	应答与试题无关；重复试题内容；没有应答。

北京市西城区 2017 年 5 月高三文科综合参考答案 第 2 页 (共 3 页)

39. (15分)

- (1) 有道理。具体理由：日利率千分之四折算成年利率为144%（按360天计算），超过了36%的法律规定，超出的部分法律不予支持；大风厂为有限责任公司，股东会作为决策机构，负责处理公司重大经营管理事宜，股权质押没有召开股东会讨论通过，程序不合法。（5分）（其他合理答案酌情给分）
- (2) 我国是人民当家作主的社会主义国家，国家的权力来自于人民，腐败现象会损害人民群众的利益，与党和政府的性质宗旨不相容。中国共产党作为执政党，要坚持人民主体地位，把实现好、维护好、发展好广大人民的根本利益作为一切工作的出发点和落脚点。我国的政府是为人民服务、对人民负责的政府，要维护和保障人民利益，依法加强对权力的监督。坚定不移地惩治腐败，有利于提高党的执政水平和执政能力，提高政府的威望和公信力，密切党群、干群关系，促进社会和谐，调动各方进行社会主义建设。（10分）

40. (18分)

(1) 一手资料：②③（2分）

说明示例一（从中日两方面）：由材料①⑤可知，1931年九一八事变开始，日军侵略中国东北，并付出巨大的代价；材料②③④反映出1931年9月起，中国各界已开始了抗日救国斗争。（6分）

说明示例二（从史料的角度）：从②③等当时史料（或一手资料）看，中国各界已经进行了抗日救国斗争；从①④⑤等今人的研究成果和表述（二手资料）看，也都认为1931年日本发动了侵略，并统计出日本付出巨大代价，中国进行了抗战。（6分）

(2) 山高，冬季漫长、寒冷，降雪量大，人口少（聚落少），缺少食物、物资补给。（10分）

41. (26分)

(1) 冬季秦岭阻挡冷空气，南坡相对温暖；南坡为夏季风的迎风坡，降水充足；南坡为阳坡，光照充足；坡地宜林，排水条件良好。（10分）

(2) 条件：新中国成立是重要的前提条件；“一五计划”优先发展重工业，西安是重要的布点地区（或答国家战略布局调整）；苏联的援助；科技文化基础较好（或科技人才的培养）。（答出任意三点给6分）

意义：中国对外开放从沿海拓展至内地；标志着多层次、宽领域的对外开放格局初步形成；引进资金、技术，对周边起到辐射作用；中国工业布局更趋合理，有利于均衡发展；为21世纪实施新的战略规划奠定基础。（答出任意两点给4分）

(3) 提出合理方案（2分）；能运用系统优化的方法，从整体性、结构优化、有序性或是综合思维的任意角度对方案加以解释说明。（4分）



扫描二维码，关注北京高考官方微信！

查看更多北京高考相关资讯！