

2018 北京临川学校高一（下）期末

地 理

一、单项选择题（选出符合题意的选项。共 40 个小题，每小题 1.5 分，共 60 分。）

1. 黄土高原和华北平原之间的山脉是

- A. 长白山 B. 巫山 C. 天山 D. 太行山

2. 我国是一个多民族的大家庭，民族文化丰富多彩。与图 1 中信息搭配完全正确的一组是

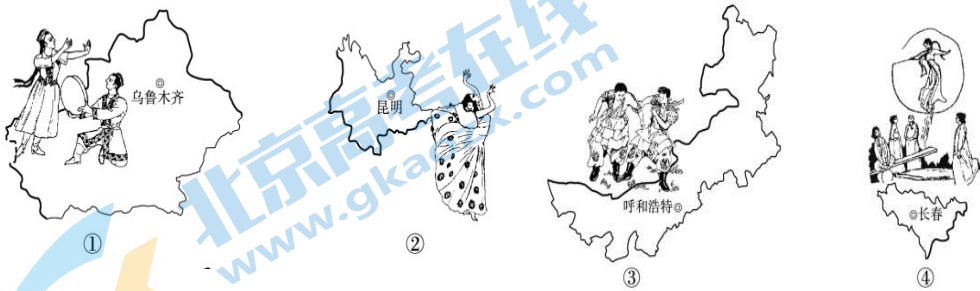


图 1

- A. ①—蒙—住窑洞，唱信天游 B. ②—滇—跳孔雀舞，吃竹筒饭
C. ③—新—参加那达慕大会，骑马、摔跤 D. ④—吉—全年气候炎热，喜欢跳跷跷板

3. 通常“黑土地”指的是我国

- A. 华北地区 B. 东北地区 C. 西南地区 D. 西北地区

4. 黄河与长江共同流经的省级行政单位是

- A. 青海、湖南 B. 西藏、青海 C. 青海、四川 D. 陕西、甘肃

5. 位于珠江口东岸的经济特区是

- A. 汕头 B. 厦门 C. 深圳 D. 珠海

6. 我国航运条件最好的河流是

- A. 长江 B. 珠江 C. 黄河 D. 淮河

国际上普遍认为：人口老龄化是指一个国家或地

区 65 岁及以上老年人口占总人口比重达到或超过 7%，就

称为老龄化社会。图 2 为中国与世界 65 岁及以上老年人口

比重统计与预测图，据此回答 7~9 题。

7. 我国 65 岁及以上老年人口比重超过世界平均水平的年

份大致为

- A. 1995 年 B. 2003 年
C. 2010 年 D. 2025 年

8. 人口老龄化会使中国和世界面临的主要社会问题有

- A. 就业困难 B. 劳动力充足
C. 儿童入学难 D. 社会养老压力大

9. 2016 年 1 月 1 日，我国计划生育政策调整为“全面实施二孩”，该政策有利于

- A. 迅速提高人口素质 B. 降低人口出生率 C. 降低人口增长速度 D. 缓解人口老龄化

10. 按市场、廉价劳动力、动力、原料指向型顺序排列的一组工厂是

- A. 印刷厂、洗衣机厂、火电厂、家具厂
B. 啤酒厂、电子装配厂、炼铝厂、甘蔗制糖厂
C. 皮革厂、水果罐头厂、钢铁厂、服装厂
D. 印刷厂、精密仪器厂、电镀厂、飞机制造厂

11. 灌溉农业分布在我国的

- A. 北方地区 B. 南方地区 C. 青藏地区 D. 西北地区

12. 一个地区的人口的自然增长，取决于

- A. 跨地区的人口迁移率 B. 人口的年龄结构
C. 出生率和死亡率的变动 D. 人口的地区分布

13. 一个地区人口数量的变化，取决于该地区

- A. 出生率高低 B. 死亡率高低
C. 自然增长率高低 D. 自然增长和机械增长两个方面

14. 影响人口容量的首要因素是

- A. 政策 B. 资源 C. 科技 D. 医疗

15. 以下关于人口迁移的叙述，正确的是

- A. 对人口迁移经常起重要作用的因素是经济
B. 人口迁移可以按迁移距离划分为国内人口迁移和国际人口迁移

65岁及以上老年人口比重(%)

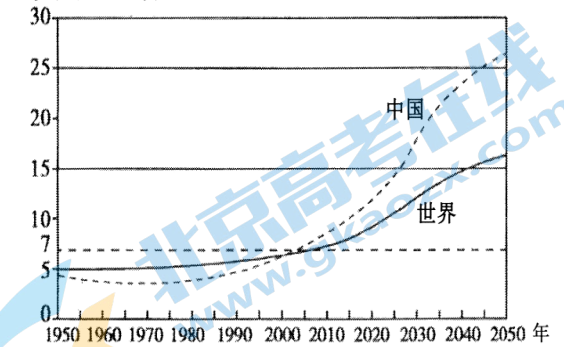


图 2

C. 目前世界上所有国家人口迁移的主要流向，都是由农村到城市的迁移

D. 人口迁移只对迁入区有利，对迁出区则不利

16. 世界上第一批城市多数诞生在

A. 北半球面积较大的盆地中

B. 河流中上游的峡谷地带

C. 南半球平坦辽阔的高原上

D. 北半球中低纬度河流的中下游平原上

17. 假设人口分布均匀，下列哪项服务的服务范围最大

A. 米店

B. 服装店

C. 空调专卖店

D. 汽车交易市场

18. 限制新疆绿洲农业生产的主要因素是

A. 气候

B. 水源

C. 地形

D. 土壤

19. 下列城市中，服务范围最大的是

A. 北京

B. 株洲

C. 郑州

D. 上海

20. 属于环境问题产生原因的是

①人类向环境索取资源的速度超过了资源本身及替代品的再生速度

②人类向环境排放废弃物的速度超过了环境的自净能力

③人类与环境协调统一时 ④某些自然灾害发生

⑤某地水土中含有某些对人体有害的元素或缺少某些人体必须的微量元素

⑥人类从环境中适量获取物质与能量

A. ①②③

B. ①②④⑤

C. ①②③④⑤

D. ①②③④⑤⑥

21. 我国面积最大的高原是

A. 云贵高原

B. 黄土高原

C. 青藏高原

D. 内蒙古高原

22. 田纳西河流域的气候类型是

A. 温带大陆性气候

B. 温带季风气候

C. 地中海气候

D. 亚热带季风性湿润气候

23. 关于田纳西河的叙述，不正确的是

- A. 密西西比河的二级支流
B. 水能资源丰富的河流
C. 流量小，流速缓的河流
D. 水系发达，支流众多的河流
24. 田纳西河开发治理的核心是
A. 梯级综合开发水资源
B. 大力实行退耕还林还草
C. 将发展旅游放在首位
D. 以获得廉价水电为目标
25. 我国地势最高的大盆地是
A. 塔里木盆地
B. 准噶尔盆地
C. 柴达木盆地
D. 吐鲁番盆地
26. 下列城市位于嘉陵江和长江交汇处的是
A. 安庆
B. 重庆
C. 广州
D. 郑州
27. 以下城市中，在宗教基础上发展起来的城市是
A. 上海
B. 黄山
C. 北京
D. 拉萨

下表为世界某地区农业人口密度和人口密度的变化，回答 28~29 题。

注：农业人口密度是指单位面积上的农业人口数

密度 \ 年份	1990	1995	2000	2005	2010
农业人口密度(人/km ²)	203	180	178	115	98
人口密度(人/km ²)	401	420	439	460	508

28. 该地区城市化进程最快的阶段是
A. 1990-1995
B. 1995-2000
C. 2000-2005
D. 2005-2010
29. 导致该地区农业人口密度下降的原因，最不可能的是
A. 农业产业结构的调整
B. 农业机械化水平的提高
C. 城市化，工业化占用耕地
D. 农业收入较低
30. 有关“二战”以来，世界城市化的叙述，正确的是
A. 发达国家城市人口的增长速度超过发展中国家
B. 发展中国家的城市化与经济水平较适应

C. 2000 年世界城市人口已超过人口总数的三分之二

D. 世界大城市不断涌现

31. 以下各项关于城市化意义的说法, 全部正确的一组是

- ①提高乡村对外开发程度 ②缩小城乡差别 ③合理布局人口
④保护生态环境 ⑤增加居民收入 ⑥与工业化相互促进

A. ① ③ ⑤

B. ① ② ⑤

C. ① ② ⑥

D. ② ④ ⑥

长江三角洲是我国经济最发达的地区之一, 该地区以城市群为龙头带动了区域经济的起飞。根据所学知识, 回答 32~34 题。

32. 长江三角洲地区与城市带发育不相关的自然因素是

- A. 气候温和湿润 B. 河网密集 C. 矿产资源丰富 D. 临江面海的地理位置

33. 该地区经济高速增长的根本原因是

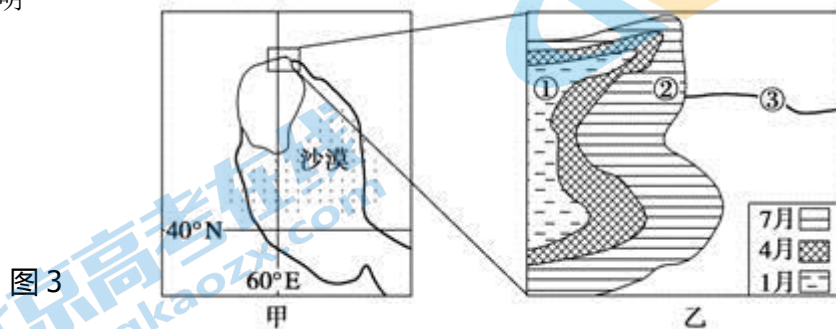
- A. 市场机制比较成熟 B. 特色经济形成规模
C. 积极参与国际竞争 D. 第一产业发展迅速

34. 在实施西部大开发战略中, 国家倡导长江三角洲等经济发达地区支援西部地区, 从全局上看主要是为了

- A. 利用西部的大量富余劳动力 B. 提供西部所需的大量建设资金
C. 向西部提供人才、技术支持 D. 保持东西部地区经济协调发展

图甲是某著名湖泊, 图乙表示其水位变化情况。读图回答 35~36 题。

35. 图乙所给的信息说明



A. 4、7 两月的水位差比 1、4 两月的水位差大

B. 4、7 两月的水域面积差比 1、4 两月的水域面积差大

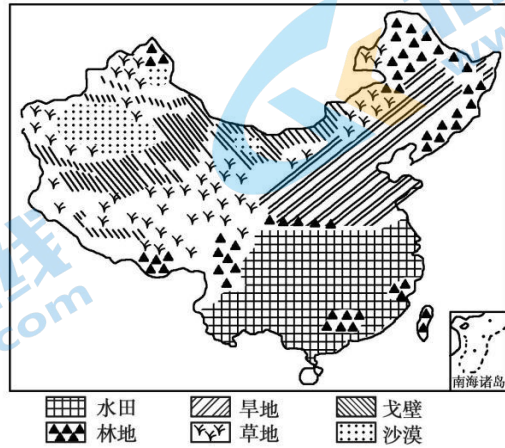
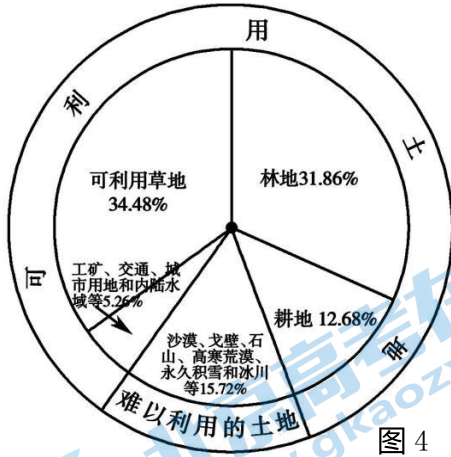
C. 4、7 两月的水量差比 1、4 两月的水量差大

D. 4、7 两月的盐度差比 1、4 两月的盐度差大

36. 与③河段河流水文特征不符合的是

- A. 夏季断流 B. 淡水水质 C. 冬季凌汛 D. 夏季洪涝

读中国土地利用类型统计图（图 4）和中国土地资源利用类型分布图（图 5），回答 15~16 题。



37. 关于我国土地资源的叙述, 正确的是

- A. 我国土地利用类型齐全, 耕地多, 草地少
B. 耕地主要分布在东部平原、丘陵和盆地
C. 林地主要分布在内陆高原和山地
D. 草地主要分布在东北山区和青藏高原

38. 本着“因地制宜, 合理布局”的原则, 下列做法合理的是

- A. 山地迎风坡降水多, 可大面积种植水稻
B. 草地地区, 大力增加牲畜数量, 提高草场利用率
C. 在城市郊区, 发展肉、乳、禽、蛋生产
D. 扩大城市规模, 将耕地变成城市建筑用地

自然地理环境是一个整体, 一个自然地理要素的变化可能引起其他要素甚至整个自然地理环境面貌的变化。

图 6 是北美地区的某河流水文站 1990 年和 2012 年观测到的河流流量和含沙量的变化曲线图。读图, 完成 39~40 题。

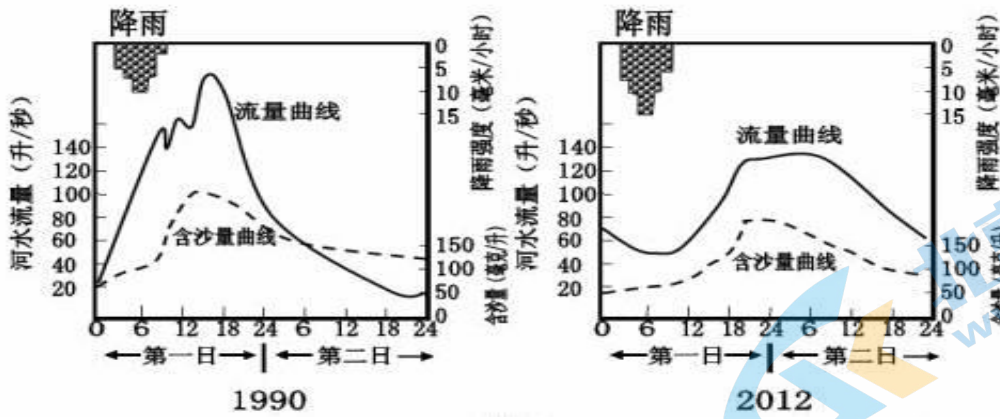


图6 某河流水文站1990年和2012年观测到的河流流量和含沙量的变化曲线图

39. 近十几年来, 有关该地区自然地理要素变化的叙述, 正确的是

- A. 年降水量增加
- B. 河流流量增加
- C. 植被覆盖率上升
- D. 河流含沙量增加

40. 近几十年来, 导致该地区河流水文特征发生变化的可能是

- ①耕地面积不断增加
- ②水库面积增加
- ③经济林面积增大
- ④灌溉面积增加

- A. ①②
- B. ②③
- C. ③④
- D. ①④

二、综合题 (40分)

41. 读图7, 回答以下问题。(15分)

(1) 此图所示是我国_____工业基地。

(2) 经过此工业基地的铁路有 ()

- ①京广线
- ②京沪线
- ③京哈线
- ④滨洲线
- ⑤哈大线

- A. ①③⑤
- B. ②③
- C. ③④⑤
- D. ③⑤

(3) 图中 ABCD 四个工业中心, 以造船业著称

的是 ()

- ①. A
- ②. B
- ③. C
- ④. D

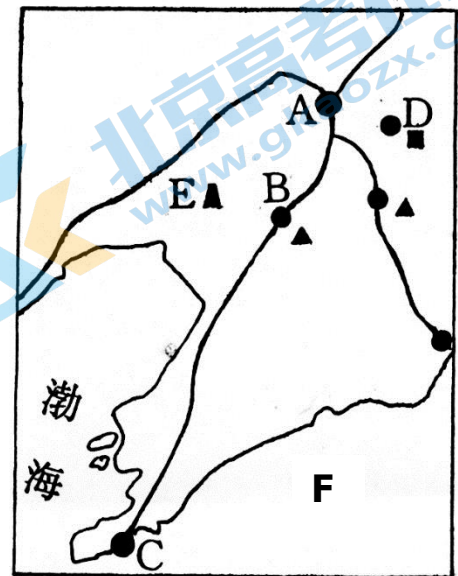


图7 我国某工业基地简略图

(4) 写出图中数码代表的地理事物的名称:

A _____ 市; B _____ 市;

C _____ 市; F _____ 海。

(5) 本区工业发展的主要有利条件有:

资源 _____, 如有辽河油田、抚顺煤

矿、 _____ 铁矿等; 交通 _____ 等。

(6) 此工业基地曾一度衰落, 有效的整改措施有哪些?

42. 读图 8, 完成以下问题。(10 分)

(1) 图中代表 1 月 0°C 等温线的是字母 _____。

(2) 图中代表季风与非季风区界线的是字母 _____。

(3) 图中代表我国地势阶梯界线的是字母
有 _____。

(4) 图中地理界线 A 主要由哪
三条山脉组成: _____。

(5) 四川盆地位于我国地势第 _____ 级阶梯上。

(6) 我国水土流失最严重的高原位于地势第 _____ 级阶
梯上。

(7) 我国有海岸线的省级行政区共有 _____ 个。

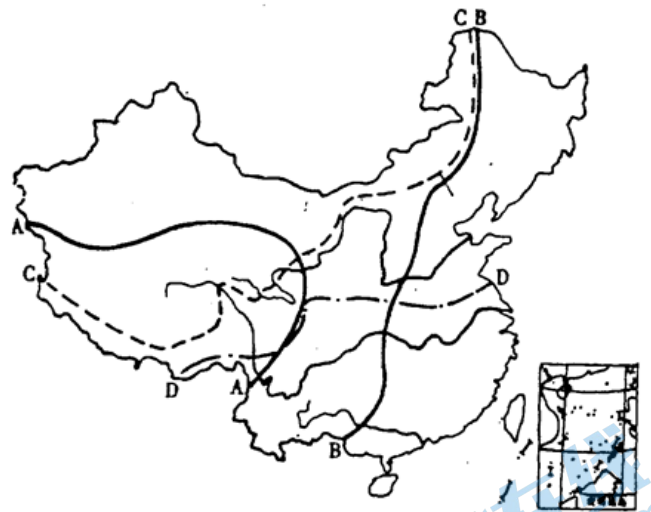


图 8·我国四条重要地理界线分布示意

43. 根据图9回答下列问题。(图中等高距为1000米)(10分)

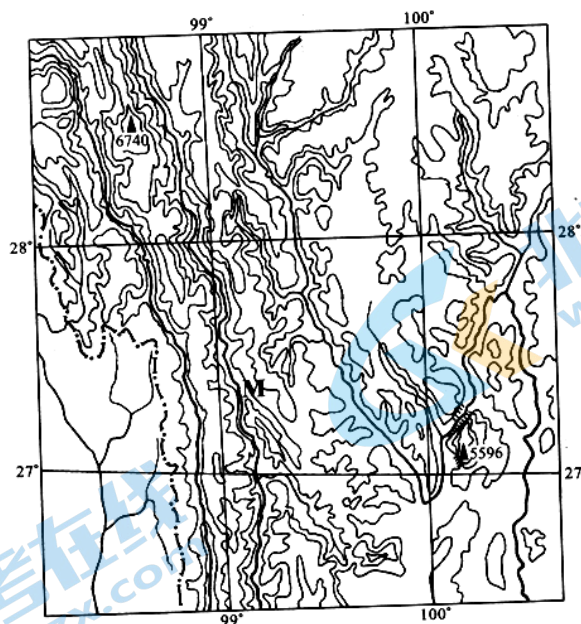


图9·某地等高线地形和水系图

- (1) 图中区域位于东西半球中的_____半球, 南北半球中的_____半球。(2分)
- (2) 图中区域的地形地势特点是_____。(2分)
- (3) 如果图中区域在我国, 则最有可能是我国的_____山区。(1分)
- (4) 此处若为我国一著名自然保护区, 则应是_____。(1分)
- (5) 图中M河流名称为_____江, 流出我国后改名为_____河(2分)
- (6) 图中区域第一产业的发展方向是大力发展_____和_____。(2分)

44. 简述水土流失的危害(5分)