

2021北京顺义高一（上）期末

政 治

考 生 须 知	1.本试卷共12页，共分为两部分。第一部分为选择题，共30小题（共60分）；第二部分为非选择题，两道大题（共40分）。满分100分。考试时间90分钟。 2.在答题卡上准确填写学校名称、姓名、班级和教育ID号。 3.试题答案一律填涂或书写在答题卡上，选择题请用2B铅笔作答，其他试题请用黑色字迹签字笔作答，在试卷上作答无效。 4.考试结束，请将答题卡交回。
------------------	--

第一部分 选择题（共60分）

一、选择题 在每小题列出的四个选项中，只有一项是最符合题目要求的。本大题共30小题，每小题2分，共计60分。

1.下列对原始社会人类的生产和生活状况的描述，正确的是（ ）

- ①人们主要用铁制农具采集食物 ②人们在生产中结成平等互助的关系
③人们平均分配获得的劳动产品 ④人们开始用刻在龟甲或兽骨上文字记事

A.①② B.①④ C.②③ D.③④

某学习小组进行研究性学习时，搜集到以下图片资源。回答2、3题。



圣西门
图一



《共产党宣言》
图二



巴黎公社
图三



十月革命
图四

2.依据以上图片，该小组拟定最恰当的学习主题是（ ）

- A.空想社会主义的产生 B.科学社会主义创立和实践历程
C.巴黎公社的成立及其影响 D.十月革命的爆发及发展历程

3.图片中标志着科学社会主义从理论到现实的是（ ）

- A.图一：空想社会主义理论 B.图二：《共产党宣言》的发表
C.图三：巴黎公社的实践 D.图四：十月革命的胜利

4.1883年3月，恩格斯在马克思墓前发表讲话指出，马克思作出的两大发现具有重大意义：一是马克思发现了人类历史的发展规律，二是发现了现代资本主义生产方式和它所产生的资产阶级社会的特殊的运动规律。恩格斯所说的两大发现指的是（ ）

①经济危机理论 ②唯物史观 ③市场经济理论 ④剩余价值学说

A.①③ B.①④ C.②③ D.②④

5.圣西门生于贵族家庭，他的理想是建立由实业家和学者领导的“实业制度”，但钱很快花光，理想却没实现；傅立叶心中的理想社会是“和谐制度”，在这一制度下人人劳动，男女平等，他把这一理想目标实现寄希望于富人出资；欧文在美国买了一块移民区，进行“新和谐公社”的共产主义实验村，很快淹没在资本主义的汪洋大海。圣西门、傅立叶、欧文建设美好社会的空想性体现在（ ）

A.没有正确选择阶级斗争的对象 B.对社会主义作纯粹虚构的幻想

C.离开阶级斗争去实践社会主义 D.用法律来批判资本主义私有制

资本由于无限度地盲目追逐剩余劳动，像狼一般地贪求剩余劳动..资本是不管劳动力的寿命长短，它唯一关心的是在一个工作日内最大限度地使用劳动力。——《资本论》

在资产阶级看来，世界上没有一样东西不是为了金钱而存在的，连他们本身也不例外，因为他们活着就是为了赚钱，除了快快发财，除了金钱的损失，不知道有别的痛苦。

——《英国工人阶级状况》

6.上述马克思和恩格斯的讲话揭示了（ ）

①资本主义生产方式的运动规律 ②资本家剥削工人、占有工人剩余劳动的秘密

③人类社会发展的—般规律 ④人民群众的历史主体作用

A.①② B.①③ C.③④ D.②④

7.毛泽东同志说：“青年是革命的先锋队，为了中华民族的解放、独立、自由、幸福，进行了那样的斗争，英勇得很……中国青年运动有很好的革命传统，这个传统就是‘永久奋斗’。”下列能体现这一传统的是（ ）

A.太平天国运动 B.辛亥革命 C.五四运动 D.戊戌变法

8.小立同学收集了习近平主席出席四场重要外交活动发表的演讲及题目如下：

外交活动	演讲题目
上海合作组织成员国元首理事会第二十次会议	弘扬“上海精神”深化团结协作构建更加紧密的命运共同体
金砖国家领导人第十二次会晤	守望相助共克疫情 携手同心推进合作
亚太经合组织第二十七次领导人非正式会议	携手构建亚太命运共同体
二十国集团领导人第十五次峰会	勠力战疫 共创未来

上表体现的中国智慧和—中国理念是（ ）

- A.推进国家治理体系现代化 B.全面推进依法治国
C.推进构建人类命运共同体 D.坚持总体国家安全观

9.“气势恢弘、大度雍容，纲维有序、礼乐交融。”2019年10月1日上午，庆祝中华人民共和国成立70周年大会在北京天安门广场隆重举行。由10万群众、36个方阵组成的群众游行，分建国创业”“改革开放”“伟大复兴”三个篇章，展现中国共产党团结带领全党全国各族人民从站起来、富起来到强起来的伟大征程。下列四个方阵中，属于“伟大复兴”篇章的是（ ）

- ①“脱贫攻坚”方阵 ②“建国伟业”方阵 ③“开天辟地”方阵 ④“人类命运共同体”方阵
A.①② B.①④ C.②③ D.③④

10.中国特色社会主义最本质的特征、中国特色社会主义制度的最大优势是（ ）

- A.坚定“四个自信” B.中国共产党领导
C.坚持依法治国 D.全面深化改革

11.在学习了中国特色社会主义进入了新时代的内容后，同学们对新时代的理解有了自己的认识，下面是他们对新时代的理解，其中错误的是（ ）

- A.小华：中国特色社会主义新时代就是全面建成小康社会，实现了共同富裕的时代
B.小强：中国特色社会主义进入了新时代是因为我国在改革开放和社会主义现代化建设方面取得了巨大成就
C.小明：中国特色社会主义进入了新时代是决胜全面建成小康社会，进而全面建设社会主义现代化强国的时代
D.小红：中国特色社会主义进入了新时代后，我国的社会主要矛盾发生了改变

12.习近平总书记在参观《复兴之路》展览时提出：“实现中华民族伟大复兴，就是中华民族近代以来最伟大的梦想。”当前，实现中华民族伟大复兴的中国梦就是要（ ）

- A.实现同步富裕
B.实现共产主义
C.实现中华民族的独立和人民的解放
D.建设富强民主文明和谐美丽的社会主义现代化强国

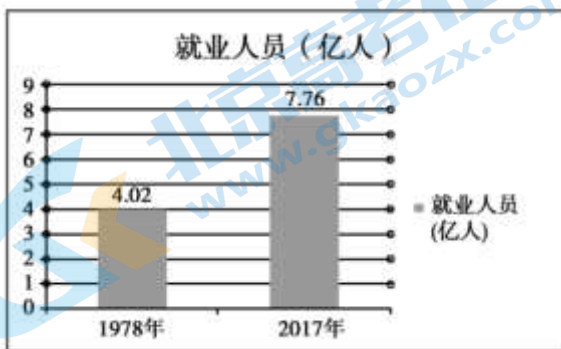
13.小李在华为科技有限公司上班，闲暇时他喜欢在星巴克喝杯咖啡，下班回家路上会在市场的水果摊买些水果。（见下图）



材料中的星巴克咖啡、华为科技有限公司和水果摊分别属于（ ）

- A. 私营经济 外资经济 个体经济 B. 私营经济 个体经济 集体经济
 C. 国有经济 外资经济 集体经济 D. 外资经济 私营经济 个体经济

改革放40多年我们交出的成绩单如下图，回答14、15题。



14. 这表明改革开放 ()

- ①是我国的立国之本和强国之路 ②是解决我国一切问题的基础和关键
 ③极大地解放发展了社会生产力 ④增强了我国的经济实力和综合国力

- A. ①② B. ①④ C. ②③ D. ③④

15. 下列选项中，最能恰当体现我国取得上述重大成就的根本原因是 ()

- A. 坚持中国共产党的领导，开辟了中国特色社会主义道路
 B. 努力建设全方位、多层次、宽领域的对外开放格局
 C. 加快生态文明体制改革，建设美丽中国
 D. 推行计划生育，使人口的增长同经济和社会发展计划相适应

16. 习近平新时代中国特色社会主义思想是一个系统完整、逻辑严密，相互贯通的思想理论体系。这一理论体系博大精深，犹如一棵参天大树，扎根沃土，主干遒劲、枝繁叶茂。其中最为核心关键的组成部分是 ()

- A. “五位一体” B. “四个全面” C. “八个明确” D. “十四个坚持”

17. 在我国，发展壮大国有经济是因为 ()

- ①国有经济控制国民经济命脉 ②国有经济是国民经济的主体
 ③国有经济是我们党执政兴国的重要支柱 ④国有经济对国民经济发展起主导作用

- A.①② B.①④ C.②③ D.③④

18.漫画“一哄而下”（见图）表明（ ）



- ①生产经营者的决策带有一定的盲目性 ②经济效益是企业应该考虑的第一要素
③仅由市场调节会导致经济资源浪费 ④市场不能及时准确地反映供求变化

- A.①② B.①③ C.②④ D.③④

19.宏观调控是指国家综合运用各种手段对国民经济进行调节和控制。下列是小张同学对我国宏观调控主要目标的表述，其中错误的是（ ）

- A.增加就业 B.促进经济增长 C.稳定物价 D.发展对外友好关系

20.大数据给人们带来诸多便利的同时，也带来了一些负面影响，“大数据杀熟”便是其中之一。例如，在线旅游经营者滥用大数据分析手段，利用自身掌握的信息优势，针对不同消费特征的旅游者，同一产品或服务在相同条件下设置差异化的价格，造成老客户吃亏。可见，“大数据杀熟”（ ）

- A.利用了消费者的消费习惯进行精准溢价，应该由政府补贴其损失
B.利用信息不对称对老客户实施价格歧视，需要政府加强市场监管
C.是信息时代市场经济发展的必然结果，只能通过科技进步来克服
D.是市场的盲目性体现，需要通过不断完善现代化市场体系来解决

21.国家发展改革委、商务部印发实施《市场准入负面清单（2019年版）》，市场准入负面清单制度，是指国务院以清单方式明确列出在中华人民共和国境内禁止和限制投资经营的行业、领域、业务，市场准入负面清单以外的行业、领域、业务等，各类市场主体皆可依法平等进入。关于负面清单制度，下列说法中正确的是（ ）

- ①负面清单制度是政府实施财政政策的具体体现
②负面清单制度是支持非公有制经济发展的重要举措
③清单的调整有利于各种所有制经济公开公平公正参与市场竞争
④禁止性准入类和限制性准入类不利于政府经济职能的有效行使

- A.①② B.①③ C.②③ D.②④

22.北京市《2020年办好重要民生实事项目分工方案》中提出，要全面落实无障碍环境建设行动方案；依托社区（村）现有服务资源，为残疾人就近提供康复、就业、日间照料等助残服务；为2.5万名残疾人提供居家康复培训；为有需要的残疾军人配置康复辅助器具。这表明（ ）

- A.国家加大社会救助的投入力度 B.国家满足社会成员高层次的保障需求
C.我国建成了健全的社会保障制度 D.社会保障有利于促进社会公平正义

23.坚持按劳分配原则（ ）

- ①是由生产资料公有制决定的 ②是社会主义市场经济的要求
③以社会所有物质财富为分配对象 ④以劳动者提供的劳动数量和质量为尺度

- A.①③ B.①④ C.②③ D.②④

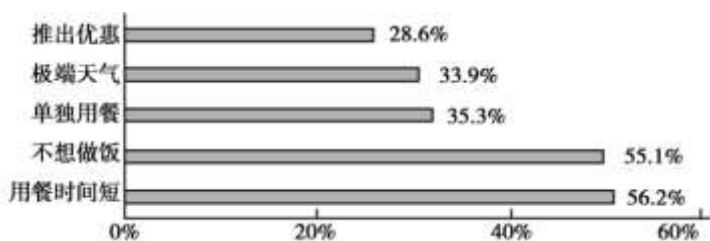
24.在社会主义市场经济中，与多种所有制经济相适应，存在着多种分配方式，让劳动、知识、技术、管理、资本等要素参与收入分配。这（ ）

- ①体现了劳动者共同劳动的社会地位 ②有利于资源优化配置
③坚持了公有制经济的主体地位 ④有利于让一切要素竞相迸发活力

- A.①② B.①③ C.②④ D.③④

25.网络时代，外卖影响着我们的生活，也影响着企业的经营。某网站对在线餐饮外卖用户订餐原因作了调查，结果如下图所示。

在线餐饮外卖用户订餐原因



根据调查结果，餐饮外卖企业应（ ）

- ①改进操作流程，提高食品价格 ②根据天气变化，调整备餐数量
③增加配送费用，分散送餐压力 ④保障餐品质量，提高配送时效

- A.①② B.①③ C.②④ D.③④

26.40年间，中国已经织成了一张全球最大的保障网。社保卡作为由政府发行的、覆盖率最广的民生保障卡，令惠民政策暖人心，政府服务更贴心。社会保障卡的功能从最初支持就医结算，到实现社会保障和金融双功能，社保卡不断“变身”和“升值”，体现了（ ）

- ①政府不断拓展服务功能，创新服务机制，方便参保群众
②保障参保群众更加方便快捷地享受社保待遇和金融服务
③银行不断提升社保卡的管理和应用水平，提高用卡效率

④科技企业为群众提供更加高效、便捷、安全的公共服务

A.①② B.①③ C.②④ D.③④

27.社会保障主要由社会保险、_____、_____、社会优抚组成，还包括其他社会保障形式，它们共同构成了我国的社会保障体系。（ ）

A.生活保障、生产保障 B.养老保险、医疗保险

C.住房保障、社区服务 D.社会救助、社会福利

28.智能农机田间走，“耕牛”转身变“铁牛”。脚不沾泥、手不碰水就把田种了，打开手机就能设定耕作深度，查看数据就知道农作物生长状况……智慧农业将现代信息技术与农业生产、经营、管理和服务全产业链融合，为传统农业提质增效提供了现代化解决方案。由此可见，智慧农业（ ）

①提升了农业科技水平，提高农业供给质量 ②改进了农业生产工具，提高农业产品价格

③增强了农业综合竞争力，助力乡村振兴 ④调整了农村生产关系，消除城乡发展差异

A.①② B.①③ C.②④ D.③④

29.“雄安新区进入大规模实质性开工建设阶段”、“相信粤港澳深化合作，一定能打造出国际一流湾区”、“推动长三角营商环境一体化”、“加快补齐革命老区、民族地区、边疆地区、贫困地区发展短板”。给上述新闻内容加一个标题，最合适的是（ ）

A.区域联动 协调发展 B.以人为本 和谐发展

C.互联互通 融合发展 D.绿色发展 潜力无限

30.经过改革开放40年来的努力，我国成功走出了一条中国特色扶贫开发道路，使7亿多农村贫困人口成功脱贫。中国成为世界上减贫人口最多的国家，也是世界上率先完成联合国千年发展目标的国家。打赢脱贫攻坚战（ ）

①是社会主义的本质要求 ②有利于全体人民共享改革发展成果

③就真正实现了人与自然和谐共生 ④是政府倡导简约适度勤俭节约生活方式的结果

A.①② B.①③ C.②④ D.③④

第二部分 非选择题（共40分）

二、问答题根据题目要求作答。本大题共4小题，共计26分。

31.（6分）光阴流转，人们曾经梦想的一些“大件”，已逐渐成为普通的生活用品。

材料一 “三大件”曾经是衡量一个家庭生活水平的重要标志，“三大件”的变化也是中国经济飞速发展的一个缩影（见下图）。在消费日趋多样化、个性化的今天，“三大件”究竟是什么，没有统一的答案。



自行车



手表



缝纫机



冰箱



电视机



洗衣机

20世纪70年代的“三大件”

20世纪90年代的“三大件”



空调



摄像机



电脑



今天

20世纪90年代的“三大件”

(1) 结合你的家庭生活，说说当今你们家庭梦想的“三大件”是什么。(2分)

(2) 做为劳动者如何才能获得你心仪的三大件?(4分)

32. (6分) 某校高一学生对“绿水青山就是金山银山”理论的提出产生了浓厚的兴趣，在报纸上看到这样一篇报道。

安吉余村人的靠山吃山发展之路

上个世纪末，余村人靠山吃山，靠开山采矿鼓了腰包，但村里常年灰尘漫天。

在“绿水青山就是金山银山”这一论断指引下，安吉依托“竹海”“白茶”等资源优势走出一条“靠山吃山”经济发展之路。

利用竹资源优势发展竹加工产业。成立股份制合作社，鼓励村民入股，竹林由合作社统一经营管理；通过技术创新发展在竹子上种植中药等发明专利创新1700余项；依托竹海着力发展生态休闲旅游，开农家乐、民宿等，实现了从“石头经济”到“生态经济”转型，从一个污染村，完美蜕变成了国家4A级景区、全国文明村、全国美丽宜居示范村。

安吉利用白茶资源优势，在政府的扶持下白茶企业通过加强品牌建设，不仅国内品牌响亮，还不断开拓国际市场，安吉白茶已经成为摩洛哥王室指定用茶之一。

富裕起来的安吉人，为四川、湖南、贵州贫困地区捐赠茶苗，携手合作奔小康。通过美丽乡村建设，加大公共基础设施建设，农村联网、修建公路、卫生服务等13项公共服务全覆盖，着力解决农民最关心、最直接、最现实的利益问题。

2019年，全村实现农村经济总收入2796亿元，农民人均收入4598元，村集体经济收入达到521万元。

结合材料，运用《经济与社会》的相关知识，谈一谈安吉生态发展之路是如何贯彻新发展理念，推动经济高质量发展的?

33. (8分) 中轴线是历史留给北京的丰厚文化遗产，我们应该保护、传承、利用好这份宝贵的历史文化遗产。

材料一 北京中轴线，肇始于元代，南起永定门、北至钟楼，全长达7.8公里，是世界上现存最长、最完整的古代城市轴线。

中轴线，贯穿古都的外城、内城、皇城、宫城，营造出南北起伏、东西对称的城市格局，形成了恢宏壮丽、气势磅礴的古都气象。

中轴线以中为尊，城市布局不偏不倚；中轴线上有山（景山）有水，体现天人合一的哲学思想；中轴线上有皇家文化也有百姓民俗，体现出和而不同的价值追求。

(1) 请列举三个位于北京中轴线上的旅游景点。(3分)

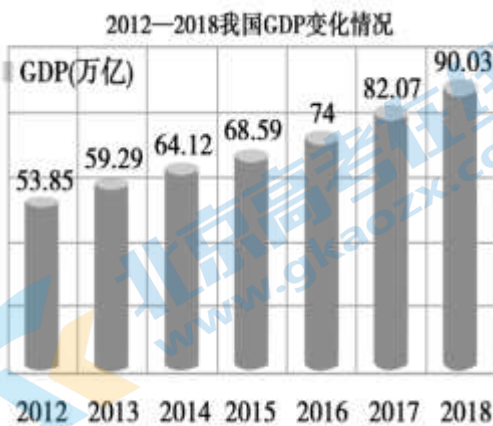
材料二 作为中轴线上著名的旅游景点，故宫已经有600年的历史。600岁的故宫正在变得越来越年轻，越来越时尚，越来越有温度。

关注游客需求	<ul style="list-style-type: none"> ·实行网上购票，使游客免于长时间排队 ·安放长椅，方便游客休息 ·在不伤害文物的前提下，允许游客拍摄宫殿内景
赋予文物生命力	<ul style="list-style-type: none"> ·传统文化生活化，充分挖掘传统文化资源与当代生活的联系。例如利用故宫中收藏的中外玩具，举办玩具展 ·传统文化商品化，通过研发朝珠耳机等文创产品
借助现代科技	<ul style="list-style-type: none"> ·拍摄纪录片《我在故宫修文物》，让公众更真实地了解了文物的修复过程 ·推出多项手机应用程序，公众可以通过手机亲临其境感受展厅的氛围 ·建成数字故宫社区，包括公众教育、文化展示，参观导览等功能
更好融入世界舞台	<ul style="list-style-type: none"> ·加强与国外博物馆的合作，举办更多展览，向世界展示中国文化，加深各国民众对中国文化的了解

(2) 结合材料，运用《经济与社会》知识分析600岁的故宫何以变得年轻、时尚、有温度。(5分)

34. (6分) 某校高一学生参加主题为“我国要建成覆盖全民、城乡统筹、权责清晰、保障适度、可持续的多层次社会保障体系”的研究性学习，获得了如下信息：

材料一



材料二 第二次世界大战后，一些欧洲国家进入经济高速增长阶段，社会福利水平不断提高，公民享有免费的医疗、悠长的假期、长期的失业救济……这被称为无处不在的社会保障，“与其去做一欧元一小时的体力活，不如舒舒服服躺在家里拿救济金”成为一些人的心态写照。席卷全球的金融危机爆发以来，这些国家的高福利政策给财政带来了巨大的压力。

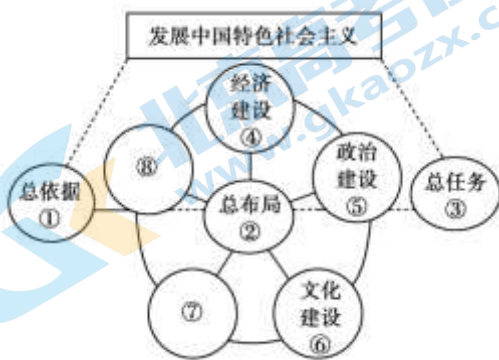
结合材料，谈谈国家如何完善社会保障体系。（6分）

三、综合题14分。

35.

党的十九大报告指出，经过长期努力，中国特色社会主义进入新时代。

（1）某班学生围绕“中国特色社会主义的发展”开展探究活动。在学习活动中，一位同学绘制出了如下思维导图，请你写出378对应的文字内容。（2分）



（2）请你谈谈对习近平新时代中国特色社会主义思想重要地位的认识。（4分）

青年兴则国家兴，青年强则国家强。

李大钊曾经说过，青年要“为世界进文明，为人类造幸福，以青春之我，创建青春之家庭，青春之国家，青春之民族，青春之人类，青春之地球，青春之宇宙”

1957年11月17日，到苏联莫斯科访问的毛泽东对中国留学生说：世界是你们的，也是我们的，但是归根结底是你们的，你们青年人朝气蓬勃，正在兴旺时期，好像早晨八九点钟的太阳，希望寄托在你们身上。

2013年12月5日，习近平在给青年学生的回信中深情地写道，历史和现实都告诉我们，青年一代有理想有担当，国家就有前途，民族就有希望，实现中华民族伟大复兴就有源源不断的强大力量。

（3）根据上述材料，谈谈在中国特色社会主义新时代，青年人该如何作为？（4分）

（4）结合材料和自身实际，谈谈青年人该成为什么样的时代新人？（4分）

2021北京顺义高一（上）期末政治

参考答案

一、选择题（共 60 分）

题号	1	2	3	4	5	6	7	8	9	10	11	12	13	14	15
答案	C	B	D	D	C	A	C	C	B	B	A	D	D	D	A
题号	16	17	18	19	20	21	22	23	24	25	26	27	28	29	30
答案	C	B	B	D	B	C	D	B	C	C	A	D	B	A	A

二、问答题 根据题目要求作答。本大题共 4 小题，每小题 6 分，共计 24 分。

31.（6分）

（1）学生作答合理得分。（2分）

（2）学生可从劳动、立足岗位、学习技能，创业、消费、收入等任意角度展开论述。

（4分）（答出其中一点且有论述得 2 分，答出两点 4 分。考生若从其他角度回答，言之成理亦可得分）

32.（6分）（1）创新：安吉贯彻创新发展理念，通过科技创新和体制创新，促进绿色生产，实现经济效益和社会效益的统一，激发了劳动者的生产积极性，提高了劳动生产率和产品竞争力，促进农民增收、实现共同富裕，推动经济高质量发展；

（2）绿色：安吉贯彻绿色发展理念通过生态文化旅游,处理好经济发展与环境保护的关系,促进人与自然和谐共生，实现了经济的高质量发展,做到了“绿水青山就是金山银山”，使经济发展与环境保护协调发展。

（3）协调：安吉通过发展生态休闲旅游、携手贫困地区致富实现产业、区域协调发展，加强文化、公共基础设施建设，促进经济社会协调发展，增强发展的整体性，推动了经济持续健康发展，实现经济高质量发展。

（4）开放：安吉通过白茶品牌建设，开拓国际市场，积极融入世界经济发展，推动经济高质量发展。

（5）共享：安吉通过加强基础设施、改善公共服务，坚持以人民为中心的发展思想，让全体人民共享改革发展成果，增强群众的获得感和幸福感，推动经济高质量发展。

33.(8分)（1）天坛公园、天安门广场、前门大街、钟鼓楼、鸟巢、水立方、奥林匹克森林公园等（3分）

（2）关注游客需求，实行网上购票，安放长椅，改善游客游览体验。借助现代科技，利用手机应用程序、数字故宫社区，为游客提供更多服务功能，提高服务质量。加大文化创意产品的研发，推动传统文化商品化。注重品牌培育和推广，通过研发文创产品，拍摄纪录片等方式提升品牌价值，拓展品牌的价值链。积极走出去，加强与国外博物馆的合作，提高国际影响力，更好融入世界舞台。（5分）

（其他答案言之有理，可酌情给分）

34. (6分)社会保障水平与国民经济发展水平相适应、保障适度的社会保障体系，既要保证公民基本社会保障的需求，又要鼓励公民区积极劳动，推动经济社会健康、持续发展；

社会保障支出水平不足，影响社会的安定，社会保障水平过高于就会养懒汉，易产生贫困陷阱和失业陷阱，在职者的工作积极性。

完善社会保障体系，要公平对待每个公民并确保其享受相应的社会保障权益。

完善完善社会保障体系要做到权责清晰。

三、综合题 16分。

35.(16分)

(1) (3分)③总任务:实现社会主义现代化和中华民族伟大复兴。

⑦社会建设

⑧生态文明建设

(答出三个得3分，⑦和⑧顺序可颠倒)

(2) (5分)为发展马克思主义作出了原创性贡献；是马克思主义中国化最新成果，是党和人民实践经验和集体智慧的结晶，是中国特色社会主义理论体系的重要组成部分；就是真正坚持和发展马克思主义，就是真正坚持和发展科学社会主义。

(3) (4分)广大青年要坚定理想信念，志存高远，脚踏实地，勇做时代的弄潮儿，在实现中国梦的生动实践中放飞青春梦想，在为人民利益的不懈奋斗中书写人生华章。

(4) (4分)从树立远大理想、热爱祖国、担当时代责任、练就过硬本领、锤炼品德修为等方面说明

(价值观正确，言之成理即可得分)

关于我们

北京高考在线创办于 2014 年，隶属于北京太星网络科技有限公司，是北京地区极具影响力的中学升学服务平台。主营业务涵盖：北京新高考、高中生涯规划、志愿填报、强基计划、综合评价招生和学科竞赛等。

北京高考在线旗下拥有网站门户、微信公众平台等全媒体矩阵生态平台。平台活跃用户 40W+，网站年度流量数千万量级。用户群体立足于北京，辐射全国 31 省市。

北京高考在线平台一直秉承“精益求精、专业严谨”的建设理念，不断探索“K12 教育+互联网+大数据”的运营模式，尝试基于大数据理论为广大中学和家长提供新鲜的高考资讯、专业的高考政策解读、科学的升学规划等，为广大高校、中学和教科研单位提供“衔接和桥梁纽带”作用。

平台自创办以来，为众多重点大学发现和推荐优秀生源，和北京近百所中学达成合作关系，累计举办线上线下升学公益讲座数百场，帮助数十万考生顺利通过考入理想大学，在家长、考生、中学和社会各界具有广泛的口碑影响力

未来，北京高考在线平台将立足于北京新高考改革，基于对北京高考政策研究及北京高校资源优势，更好的服务全国高中家长和学生。



微信搜一搜

北京高考资讯