

高二地理

注意
事项

1. 考生要认真填写考场号和座位序号。
2. 本试卷共 8 页,分为两个部分。第一部分为选择题,20 个小题(共 50 分);第二部分为非选择题,4 个小题(共 50 分)。
3. 试题所有答案必须填涂或书写在答题卡上,在试卷上作答无效。第一部分必须用 2B 铅笔作答;第二部分必须用黑色字迹的签字笔作答。
4. 考试结束后,考生应将试卷和答题卡按要求放在桌面上,待监考员收回。

第一部分 选择题(共 50 分)

新冠肺炎疫情发生后,国家紧急调派 4 万多名医护人员驰援湖北,举全国之力予以支援。图 1 是全国派出的 31 支医疗队伍和萌萌的代号。读图回答 1~3 题。



图 1

1. ①、②对应的省级行政区分别是

A. 贵州、新疆

B. 陕西、四川

C. 重庆、山西

D. 重庆、福建

2. ③、④两省的省会分别是

A. 郑州、广州

B. 合肥、银川

C. 南昌、南宁

D. 长春、昆明

3. 桂、渝都属于

A. 亚热带

B. 非季风区

C. 暖温带

D. 内流区

图2为非洲气候类型分布图。读图回答4、5题。

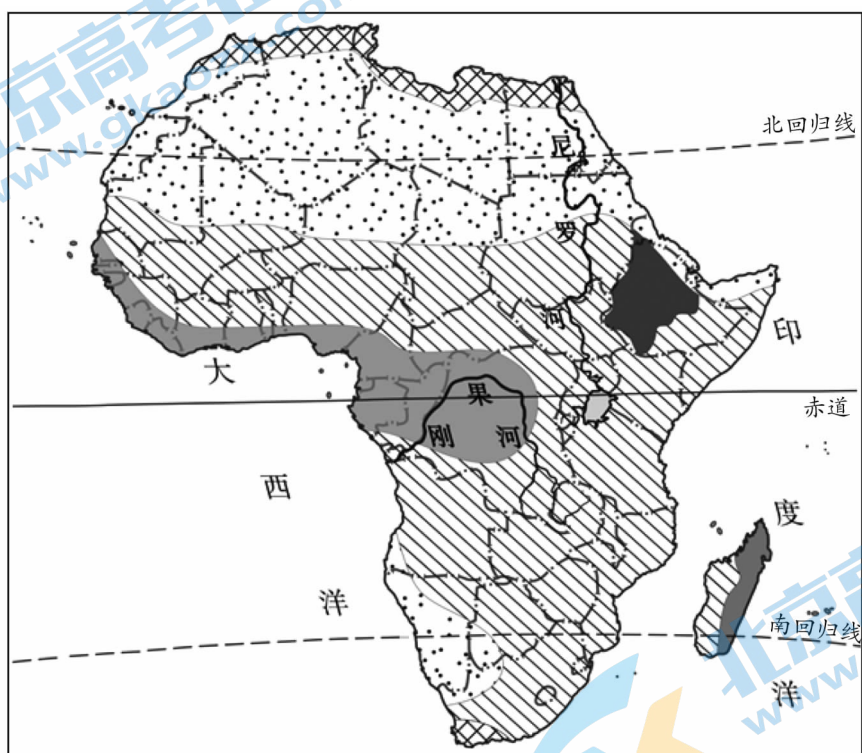


图2

4. 北回归线经过的非洲大陆部分,可开发的旅游项目是

A. 沙漠观光

B. 草原度假

C. 高山滑雪

D. 火山探险

5. 图中

A. 热带雨林地区有大规模动物迁徙

B. 热带草原气候横贯整个赤道地带

C. 热带沙漠地区水土流失问题严重

D. 高山高原气候分布在大陆东北部

图3为沿23°26'S地形剖面图。读图回答6~8题。

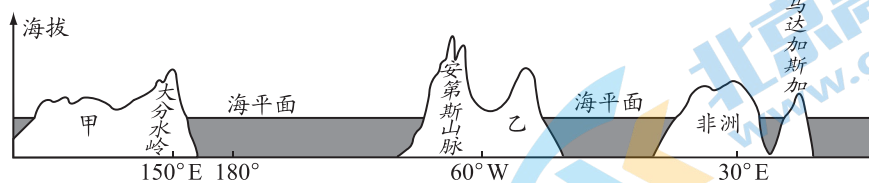


图3

6. 甲为
 A. 亚洲 B. 非洲 C. 北美洲 D. 大洋洲
7. 乙大洲
 A. 地势中部高四周低 B. 西部有世界上最长的山脉
 C. 以温带大陆性气候为主 D. 海拔最高, 气温最低
8. 甲、乙之间的大洋为
 A. 大西洋 B. 太平洋 C. 印度洋 D. 北冰洋

北京市旅游资源丰富, 拥有众多名胜古迹和人文景观, 是全球拥有世界文化遗产最多的城市。图4为“北京市主要旅游资源图”。读图回答9~14题。

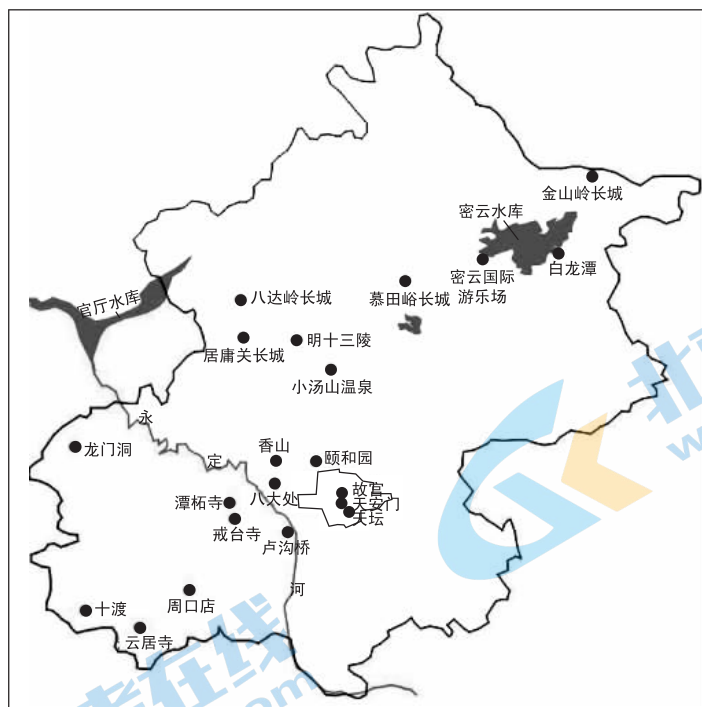


图4

9. 我国现存规模最大、保存最完整的皇家园林是
 A. 颐和园 B. 戒台寺 C. 白龙潭 D. 居庸关长城
10. 能欣赏到蓝天、白云、红墙、绿瓦完美组合的景点是
 A. 故宫 B. 白龙潭 C. 卢沟桥 D. 龙门洞

第二部分 非选择题(共 50 分)

21. 图 6 为小天鹅在我国境内的主要栖息地和迁徙路线。阅读图文材料,回答下列问题。

(20 分)

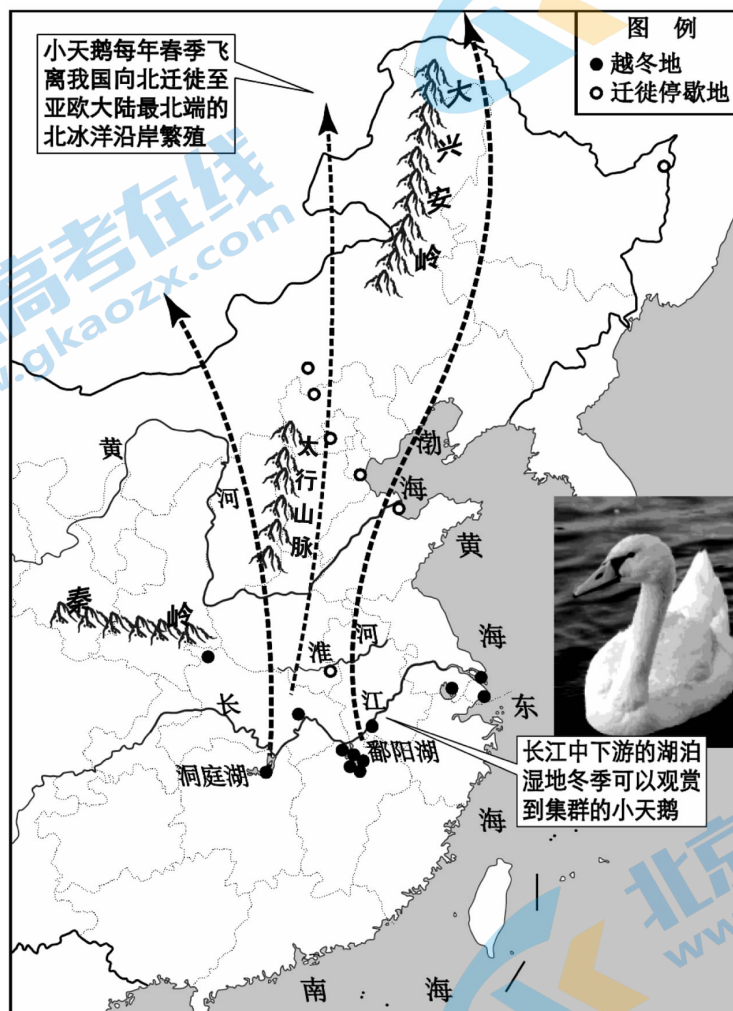


图 6

(1) 分析小天鹅选择在长江中下游的湖泊湿地越冬的原因。(4 分)

(2) 描述小天鹅迁徙停歇地的分布特点及气候特征。(6 分)

(3)填写大兴安岭和太行山脉东西两侧的地形区。(4分)

山脉名称	东侧	西侧
大兴安岭		
太行山脉		

(4)简述图中秦岭的走向和地理意义。(6分)

22. 2018年12月25日,杭黄高速铁路正式开通。图7为杭黄高速铁路所经区域示意图。

阅读图文材料,回答下列问题。(12分)

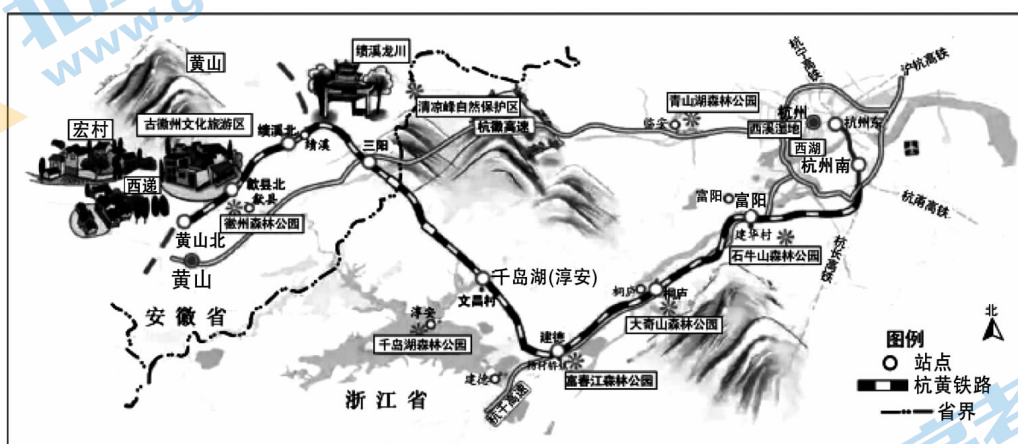


图7

(1)说出黄山四绝分别是什么?(4分)

(2)说明中学生暑假去杭州西湖旅游需要携带的物品。(4分)

(3)从下面两个问题中任选其一回答。(4分)

问题一:简述杭黄高速铁路开通对千岛湖旅游客源市场的影响。

问题二:简述杭黄高速铁路开通对黄山及其沿线旅游业的影响。

23. 2020年3月17日,武汉市文化和旅游局官方微博发布了32张感谢各省援助医疗队的海报,图8、图9为其中的两张。阅读图文材料,回答下列问题。(12分)



图8



图9

(1)说出“烟花三月,一同登楼望春风”体现的旅游景观欣赏的方法。(4分)

(2)请分别为黄鹤楼和热干面设计一句旅游宣传词。(4分)

从2020年4月8日零时起,武汉市解除离汉离鄂通道管控措施,有序恢复对外交通。武汉市文化和旅游局下发通知,从4月26日起,武汉市各旅行社可恢复运营。

(3)请你为恢复后的武汉旅游提出合理化建议。(4分)

24. 读图 10“意大利世界遗产分布图”、图 11“罗马气候类型图”，回答下列问题。(6 分)

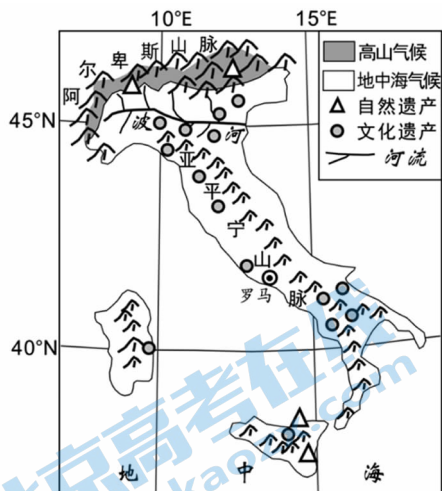


图 10

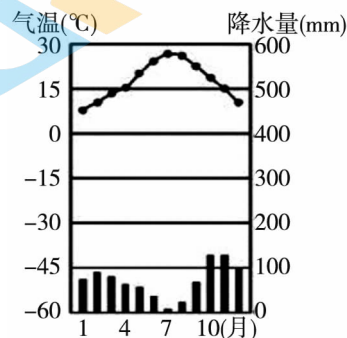


图 11

(1) 归纳意大利世界遗产的特点。(3 分)

在意大利,冬季可以滑雪,夏季可以晒海滩日光浴。

(2) 从地形和气候两方面,分析在意大利冬季可以滑雪、夏季可以晒日光浴的原因。(3 分)