

高二思想政治

考生须知	1. 本试卷共 8 页,分为两部分。第一部分为选择题,共 15 道小题(共 45 分); 第二部分为非选择题,六道大题(共 55 分)。
	2. 试题所有答案必须填涂或书写在答题卡上,在试卷上作答无效。第一部分 必须用 2B 铅笔作答;第二部分必须用黑色字迹的签字笔作答。

第一部分 选择题(共 45 分)

本部分共 15 题,每题 3 分,共 45 分。在每题列出的四个选项中,选出最符合题目要求的一项。

1.



民主共和制是资本主义所能采用的最好的政治外壳,所以资本一旦掌握这个最好的外壳,就能十分巩固十分可靠地确立自己的权力,以致在资产阶级民主共和国中,无论人员、无论机构、无论政党的任何更换,都不会使这个权力动摇。

列宁的话主要表达了

- ①国家的本质属性是阶级性
- ②国体决定政体,适当的政体能够巩固国体
- ③任何国家都是民主与专政的统一体
- ④民主政体有强大的生命力和巨大的优越性

A. ①②

B. ①④

C. ②③

D. ③④

2. 以下内容来自《纽约时报》:

从好莱坞到硅谷再到华尔街,拜登先生的竞选活动都在积极地追求巨额捐赠者阶层。根据对新的联邦记录的分析,它已经从那些在过去六个月内向他与民主党的联合行动提供至少 10 万美元的捐助者那里筹集了近 2 亿美元。如果没有精英阶层的支持,拜登永远不会赢,拜登非常明白这一点。

据此,下列推断正确的是

- ①甲说:“美国两党之间的利益对立具有不可调和性。”
- ②乙说:“美国利益集团是资产阶级控制国家机器的特殊形式。”
- ③丙说:“美国的选举是有钱人的权力游戏、有权人的金钱游戏。”
- ④丁说:“美国的国家决策是由利益集团决定的。”

A. ①③

B. ①④

C. ②③

D. ②④

国家主权是国家最重要的构成要素。下列事件中正确体现我国行使主权国家的基本权利的是

序号	事件	主权国家的基本权利
①	2010年6月19日,中国人民银行决定“进一步推进人民币汇率形成机制改革”,在人民币汇率改革上我国遵循规律,坚持自主决定	平等权
②	2020年6月15日,中印边境加勒万河谷地区冲突,中国予以坚决回击	自卫权
③	2021年4月29日,国家卫健委指出必须加强进口物品,运输工具表面的预防性消毒	独立权
④	2022年4月6日,外交部例行记者会上,中方对美国向台出售武器的行为,予以坚决反对,强烈谴责	管辖权

- A. ①③ B. ①④ C. ②③ D. ②④

进入21世纪以来,“金砖国家”成员国逐渐成为推动世界经济发展强有力的新发动机。目前,该组织所占全球经济份额逐年上升。有组织预计,2040年“金砖国家”经济规模可能会超过七国集团。上述事实表明

- A. 国际政治经济秩序发生了根本性变化
 B. 发展经济是维护世界和平的重要前提
 C. 南北发展不平衡仍然是全球最突出的主要问题
 D. 发展中国家经济力量的提升促进了世界多极化发展

改革开放40多年来,中国走出了一条全新的大国崛起之路,发展起来的中国日益被世界所感知和欣赏,深刻地影响着世界:“一带一路”凝聚合作发展的国际共识,人类命运共同体理念描绘各国同舟共济、共创未来的美好愿景……中国之所以日益被世界所感知和欣赏是因为

- ①准确把握了和平与发展这一当今时代主题,以自身发展促世界共赢
 ②已经站在世界舞台的中央,维护自身利益的同时兼顾他国合理关切
 ③主导国际关系的多极化进程,不断推动国际关系的法治化和民主化
 ④不照搬其他国家现代化发展模式,坚持走独立自主的和平发展道路

- A. ①② B. ①④ C. ②③ D. ③④

6. 中国共产党第二十次全国代表大会胜利召开后,中国特色大国外交踏上新征程,从引领双边关系;既密切大国互动,又深化南南合作;既阐释中国之治,又回答世界之问;既提出宏大倡议主张,又宣布务实行动举措,内涵丰富、影响深远。下列解读正确的是

①中国特色大国外交传递着我国维护世界和平、促进世界发展的强劲信号
 ②中国是国际关系民主化的积极推动者,彻底改变了国际关系和世界面貌
 ③对话合作、互利共赢已经是世界大势所趋,双边主义也已取代冷战思维
 ④中国积极参与国际事务,发出中国声音,践行共商共建共享的全球治理观

A. ①③ B. ①④ C. ②③ D. ②④

7. 经济全球化曾经被人们视为阿里巴巴的山洞,现在又被不少人看作潘多拉的盒子……世界经济的大海,你要还是不要,都在那儿,是回避不了的。想人为切断各国经济的资金流、技术流、产品流、产业流、人员流,让世界经济的大海退回到一个一个孤立的小湖泊、小河流,是不可能的。这是因为经济全球化

A. 是生产力发展到一定阶段的产物,也是生产力进一步发展的要求
 B. 是不依赖于人的意识,并能为人的意识所反映的自在事物的联系
 C. 不可避免地存在缺陷,需要人们从一开始就必须揭示出它的本质
 D. 是不可逆转的历史大势,与人们对它的认识保持同步发展的状态

中国国际进口博览会已经成为我国构建新发展格局的窗口,推动高水平开放的平台。“东方之约”年年如约而至,从0到1,再从1到5。进博会越办越好,给世界带来一份共同发展的机遇。回答8、9题。

8. 2022年11月4日我国举办了第五届中国国际进口博览会,中国将推动各国各方共享中国大市场机遇,践行真正的多边主义,凝聚更多开放共识,共同克服全球经济发展面临的困难和挑战。这表明中国

①领导构建多边贸易体制,为全球经济复苏注入信心
 ②促进进出口贸易便利化,与世界人民共享市场机遇
 ③提供国际合作的平台,推动全球化朝共赢方向发展
 ④拓展国际贸易发展空间,实现了国际贸易结构优化

A. ①② B. ①④ C. ②③ D. ③④

9. 下列传导能正确反映举办进博会积极影响的是

①降低市场准入门槛 ②共享中国发展机遇 ③深化国际经贸合作
 ④搭建国际贸易平台 ⑤共建开放型世界经济

A. ①→④→②→③ B. ②→①→④→③
 C. ③→②→④→⑤ D. ④→②→③→⑤

10. 某班准备开展以“为世界贡献中国智慧中国方案”为主题的研究性学习, 以下资料符合该主题的是

- ①中国是联合国改革的最早倡导者和有力支持者之一
 - ②中国倡导的构建人类命运共同体理念、共建“一带一路”主张等被多次写入联合国文件
 - ③中欧建立全面战略伙伴关系, 双方政治互信不断深化
 - ④中国重视发展与非盟的关系, 非盟在涉及中国重大利益问题上积极支持中国
- A. ①② B. ①④ C. ②③ D. ③④

11. “与君远相知, 不道云海深。”博鳌亚洲论坛当今的使命是为亚洲和世界发展凝聚正能量。论坛部分年会的主题如下:

2002年(第一届)	新世纪、新形势、新任务: 亚洲经济合作与发展
2012年(第十一届)	变革世界中的亚洲: 迈向健康与可持续发展
2021年(第二十届)	世界大变局: 共襄全球治理盛举 合奏“一带一路”强音
2023年(第二十二届)	不确定的世界: 团结合作迎挑战, 开放包容促发展

上述材料最适合论证下列哪一观点

- A. 坚持本国利益优先, 尊重他国关切
- B. 加强互利合作, 消除国家间利益分歧
- C. 更多参与、更多行动, 做全球发展的贡献者
- D. 遵循自愿原则, 坚持单边行动与集体行动相结合

12. 中国和东盟国家积极构建贸易伙伴关系, 只有“守望相助、同舟共济”, 才能共同应对各种挑战, 为本地区人民提供和平安宁的家园。要做到“守望相助、同舟共济”, 需要中国与东盟各国

- ①携手相助, 战略结盟
 - ②互尊互信, 友好协商
 - ③互谅互让, 均担责任
 - ④亲仁善邻, 合作共赢
- A. ①② B. ①③ C. ②④ D. ③④

《中华人民共和国民法典》被称为“民权保护之母”, 也被称为“社会生活的百科全书”。回答13、14题

13. 一个人一生各阶段的权利, 都可以在民法典中找到答案。对此理解正确的是

- ①民法保护公民的民事权利
 - ②民法旨在调整自然人之间的人身关系
 - ③民法与每一个人的一生都密切相关
 - ④人的一生要与所有民事法律规范打交道
- A. ①② B. ①③ C. ②④ D. ③④

14. 民法典是民事权利的宣言书,民事主体在进行民事活动时应当遵循相应的基本原则。对以下关于日常生活中违反民法基本原则的行为,判断不正确的是
- A. 季某在服装市场中询问一件衣服的价格之后,摊主强迫其购买——违反了自愿原则
 - B. 张某知道他手中的一幅名画是假货,但是当做真迹卖给了王某——违反了诚信原则
 - C. 王某经常在住宅中和朋友聚会至深夜,大声播放音乐——违反了守法和公序良俗原则
 - D. 陈某在市场卖菜,以有机菜的名义抬高价格并且经常缺斤短两——违反了绿色的原则
15. 围绕法律知识的学习,同学们有如下讨论,其中合理的是
- A. 成年子女对父母负有赡养、扶助和保护的义务,但基于自愿原则,赡养义务可以赡养人自愿的书面承诺而免除
 - B. 教育类自媒体未经版权方授权,出于善意主动向中小学师生转发电子课本,不侵犯版权方的信息网络传播权
 - C. 加强对著作权人合法权益的保护,引导他人对著作权人的作品进行合理使用,著作权民事法律关系中的客体是行为
 - D. 北京冬奥会会徽“2022”右上角标注着“TM”表明该会徽图形是作为商标使用的,擅自使用该会徽图形会侵犯知识产权

第二部分 非选择题(共 55 分)

本部分共 6 题,共 55 分。

16. (6 分)“物之不齐,物之情也。”

世界上不存在完全相同的政治制度,也不存在适用于一切国家的政治制度模式。我国建立健全常态化的法律草案公开征求意见工作机制,不断完善政务公开制度体系,拓宽公众参与立法和重大行政决策的渠道。我国健全依法决策机制,把公众参与、专家论证、风险评估、合法性审查、集体讨论决定确定为重大行政决策法定程序,提高决策科学化、民主化、法治化水平。我国的人民代表大会制度体现了我国宪法规定的国家一切权力属于人民的社会主义民主的本质,是实现人民当家作主的重要途径和可靠制度保障。

(1)除了国体对政体的决定作用外,还有哪些影响政体的因素?(2 分)

(2)结合材料,以“我国的人民代表大会制度”为例,谈谈如何衡量一个国家政治制度是不是民主和优越的?(4 分)

17. (4分) “天下太平,万物安宁。”

国泰民安是人民群众最基本最普遍的愿望。实现中华民族伟大复兴的中国梦,保证人民安居乐业,国家安全是头等大事。某班同学开展“我与国家安全”为主题的微讨论,请你参与其中。

我与国家安全

同学甲: 去年是我国进入新时代以来第十年,我国综合国力大幅提高,距离伟大复兴的中国梦越来越近,国家安全局面前所未有的好,我们不需要担心国家安全问题。

同学乙: 我也深刻感受到国家的发展日新月异,中国现在是世界上最安全的地方。何其有幸身在伟大的祖国,我们只要好好学习,做好本职就OK啦。

同学丙: 我觉得两位同学的观点有些问题呀。
第一、_____
第二、_____

阅读材料,结合所学知识,补充丙同学的观点并阐述理由。

18. (10分) “爱人者必见爱也。”

伊朗和沙特阿拉伯是中东地区的两个重要国家。但自2016年以来,两国之间的关系一直处于紧张状态。

2023年3月10日,中国、沙特阿拉伯、伊朗三国政府分别向外界发布中沙伊三方联合声明,宣布通过中国主持的会谈,沙特和伊朗达成协议,同意恢复两国外交关系,并在两个月内重新开放大使馆,通过对话和外交解决两国之间的分歧。



这次恢复外交关系的协议是在中国主持下达成的,被认为是中东地区局势的重大转折点,也是中国外交政策的重要成果。

这是对话的胜利,是和平的胜利,还传递了一个明确信号,那就是无论问题多复杂,挑战多尖锐,只要本着相互尊重精神进行平等对话,就一定能够找到各方都能够接受的解决方法。所以,对于全世界来说,一旦将“沙特-伊朗”模式普及,世界局势也将大大缓和,全世界都将迎来一个高速发展,和平美好的新时代。

结合《当代国际政治与经济》知识,根据材料内容,写一篇时事述评。

要求:①围绕主题,观点明确;②论证充分,逻辑清晰;③学科术语,使用规范;

④总字数在200字左右。

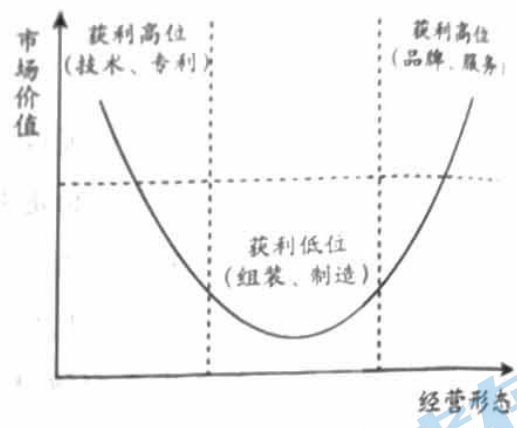
10. (11分) 在经济全球化的进程中,我国必须根据经济全球化的内在要求和时代特征积极参与,才能抓住经济全球化所提供的机会。

【理论基础】 比较优势理论是由英国著名古典政治经济学家大卫·李嘉图提出来的。如果一国生产某产品的机会成本低于另一个国家,我们就可以说相对于另一个国家,该国生产某产品存在比较优势。比较优势不仅存在于国家之间,也存在于地区之间、个人之间。比较优势的存在是形成分工的重要基础。



(1) 根据两国的比较优势,甲国和乙国应该如何进行贸易? (2分)

【实践分析】 伴随着经济全球化潮流,一些产品的设计、生产、组装、营销、售后服务等一系列环节,形成了一条紧密相连的跨国性的价值创造与分配链条,链条各个环节的利润率不同,有人以“微笑曲线”形象地形容这条全球性链条。






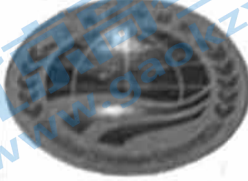
(2) “微笑曲线”反映了什么经济现象? (3分)

【发展战略】 某班同学围绕“基于比较优势的经济发展战略的选择”议题展开研究,针对该不该自主研发某关键设备,同学们提出自己的观点:



(3) 运用《当代国际政治与经济》知识,就核心技术和关键设备的研发,谈谈你对上述观点的看法。(6分)

20. (10分)某班学生开展“识别组织标识,了解国际组织”学习活动,下面是同学们搜集到的部分国际组织的标识。

组别	A	B	C	D
标识				

(1)请在 ABCD 四组中任选一个,写出该国际组织的中文名称(全称、简称皆可)类别(按职能范围划分)及其区别于其他国际组织的最重要的特征。(4分)

(2)在上述国际组织中任选一个,谈谈中国在其中发挥的作用。(6分)

21. (14分)从“摇篮”到“坟墓”,从人格尊严到生活幸福,从财产安全到交易便利,民法典为百姓各项民事权利保驾护航。请分析以下案例,运用《法律与生活》知识回答相应问题。

案例一 孟某、江某决定为他们刚出生的女儿取名叫“北雁南飞”,在为女儿申请办理户口登记时,却被当地公安机关以姓名违背公序良俗为由拒绝办理。孟某认为其女儿享有姓名权,且父母有为子女取名的自由。有人则认为,这种取名不带有父母任何一方姓氏,过于任性,与习惯做法不符,不应提倡。

(1)结合生活中通常的取名方法,讨论案例中的取名行为是否合理合法,并说明理由。(6分)

案例二 陈某研发设计出一款外形独特、造型新颖的笔,并于当年取得了该款笔的专利权。这款笔投放市场后热销,然而,好景不长,陈某发现市场上出现了一款与他的设计几乎一样的笔,并低价在市场上推销,影响其生意。于是,陈某将生产“山寨”笔的企业告上法庭。

(2)阅读案例二可以判断,陈某取得该款笔的专利类型属于_____ (A. 发明专利; B. 实用新型专利; C. 外观设计专利)。该项专利的保护期为_____ (A. 10; B. 15; C. 20)年。(2分)

(3)学习了尊重知识产权的相关内容,请你谈一谈为什么国家法律保护发明创造又规定了发明创造的保护期是有限的?(6分)

高二思想政治参考答案及评分标准

第一部分 选择题（共 45 分）

本部分共15题，每题3分，共45分。在每题列出的四个选项中，选出最符合题目要求的一项。

题号	1	2	3	4	5	6	7	8	9	10
答案	A	C	D	D	B	B	A	C	D	A
题号	11	12	13	14	15					
答案	C	C	B	D	D					

第二部分 非选择题（共 55 分）

本部分共6题，共55分。

16. (6分)

(1) 地理环境、历史渊源、文化传统、社会习惯、发展程度等。

(2) 我国的人民代表大会制度充分保障人民当家作主，保证人民依法行使民主协商、民主决策等权利，享有广泛的权利和自由；全面动员全体人民以国家主人翁地位投身社会主义建设，把各方面智慧和力量凝聚起来，坚定不移朝着国家发展的宏伟目标前进。实践证明，只有像“人民代表大会制度”这样符合本国国情和实际、保证人民根本利益、促进国家有序发展的政治制度才是民主和优越的。可见，衡量一个国家政治制度是否民主和优越，从本质上看人民的意志是否得到充分体现，人民根本利益是否得到充分保障。

17. (4分)

第一、观点：时刻警惕国家安全问题。理由：国家安全是国家政权、主权、统一和领土完整，关系人民福祉、经济社会可持续发展和国家其他重大利益。（2分）

第二、观点：学生应维护国家安全。理由：公民应履行维护国家安全、荣誉和利益的义务。（2分）

18. (10分)

评分视角：可从当今时代的主题、国家利益、我国的和平外交政策等角度回答。

等级水平	等级描述
水平 4 (8~10分)	观点鲜明，能明确表达自己的见解；紧扣问题，深入分析；知识运用准确、贴切；逻辑严密，条理清晰
水平 3 (4~7分)	观点比较明确，能表达自己的见解；能扣住问题展开论述，知识运用比较准确；逻辑性较强，有条理
水平 2 (1~3分)	观点不明确；论述不能集中指向问题，罗列知识；知识运用不正确；论述缺乏逻辑，条理性差
水平 1 (0分)	应答与试题无关；或重复试题内容；或没有应答

19. (11分)

(1) (2分)

甲国拥有生产粮食的比较优势，乙国拥有生产肉类的比较优势，甲国适合多生产粮食，乙国适合多生产肉类，双方贸易共同受益。

(2) (3分)

从事产品技术研发、市场销售和售后服务的企业能够获得较高利润，而从事组装、制造的企业利润水平较低，体现了在经济全球化进程中，世界经济发展不平衡。

(3) (6分)

主张从国外购买或租赁的观点，可以降低我国研发核心技术和关键设备的成本，共享经济全球化的好处，具有一定的合理性。但是，关键核心技术是国之重器，对推动我国经济高质量发展、保障国家安全具有十分重要的意义，因此我国实行对外开放，必须坚持独立自主、自力更生的原则，增强自主创新能力，实现关键核心技术自主可控，所以主张下大力气研发这种设备的观点更合理。

20. (10分)

(1) (4分)

参考示例：

联合国，一般性国际组织；它是当今世界最具普遍性、代表性、权威性的政府间国际组织。

(2) (6分)

参考示例：

选择联合国，中国是联合国创始会员国，也是安理会常任理事国之一，在事关世界和平与安全的重大事务上享有否决权，是联合国中有重要影响的国家之一。中国本着自身肩负的重大国际责任，尊重联合国的权威地位，维护《联合国宪章》的宗旨和原则，积极参加各项工作，在人类和平与发展事业中发挥着建设性作用。中国坚持以多边主义实现共同安全；中国坚持以互利合作实现共同繁荣；中国是联合国改革的最早倡导者和有力支持者之一。

21. (14分)

(1) (6分)

依照法律规定，公民依法享有姓名权，公民原则上随父姓或者母姓，符合中华传统文化和伦理观。反之任由公民凭个人意愿喜好随意选取姓氏甚至自创姓氏，违背公序良俗和一般道德要求。因此案例中取名行为既不合理也不合法。

(2) (2分)

C；B。

(3) (6分)

我国实施创新驱动发展战略，专利权是维护发明人或者设计人的利益、激励科技创新的重要手段，保护专利权有利于促进创新发展。专利权是一种无形财产权，发明创造自身具有随着时间推移和技术水平提高而逐渐失去财产价值的特性，如果对其保护期限是无限的，专利权长期被独占，不利于整个社会科学技术的进步和产业的发展。

(其他角度作答，言之成理，酌情给分)

关于我们

北京高考在线创办于 2014 年，隶属于北京太星网络科技有限公司，是北京地区极具影响力的中学升学服务平台。主营业务涵盖：北京新高考、高中生涯规划、志愿填报、强基计划、综合评价招生和学科竞赛等。

北京高考在线旗下拥有网站门户、微信公众平台等全媒体矩阵生态平台。平台活跃用户 40W+，网站年度流量数千万量级。用户群体立足于北京，辐射全国 31 省市。

北京高考在线平台一直秉承 “精益求精、专业严谨” 的建设理念，不断探索 “K12 教育+互联网+大数据” 的运营模式，尝试基于大数据理论为广大中学和家长提供新鲜的高考资讯、专业的高考政策解读、科学的升学规划等，为广大高校、中学和教科研单位提供 “衔接和桥梁纽带” 作用。

平台自创办以来，为众多重点大学发现和推荐优秀生源，和北京近百所中学达成合作关系，累计举办线上线下升学公益讲座数百场，帮助数十万考生顺利通过考入理想大学，在家长、考生、中学和社会各界具有广泛的口碑影响力

未来，北京高考在线平台将立足于北京新高考改革，基于对北京高考政策研究及北京高校资源优势，更好的服务全国高中家长和学生。



微信搜一搜

北京高考资讯