

西城区高三统一测试

历史

本试卷共 8 页，100 分。考试时长 90 分钟。考生务必将答案写在答题卡上，在试卷上作答无效。考试结束后，将本试卷和答题卡一并交回。

第一部分

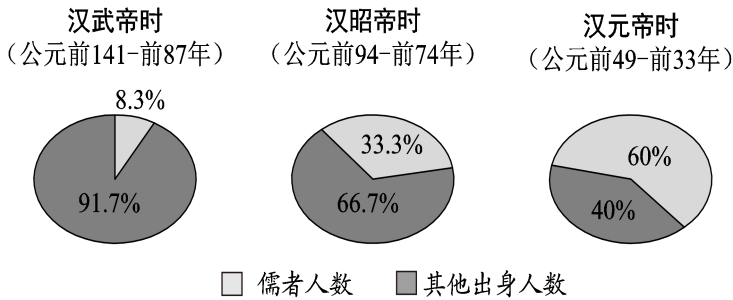
本部分共 15 题，每题 3 分，共 45 分。在每题列出的四个选项中，选出最符合题目要求的一项。

1. “历史是最好的教科书”，考古遗存等历史文化遗产是注释历史最好的“活字典”。下列遗产的特色与其价值对应正确的是

- ①孔庙、太庙、故宫等建筑——彰显文化传承
- ②西藏布达拉宫等边陲明珠——见证民族交融
- ③长城、运河等遗产——沟通南北的经济与文化
- ④敦煌莫高窟等丝路宝藏——印证文明交流互鉴

- A. ①②③ B. ①②④ C. ①③④ D. ②③④

2. 下图为西汉某时期丞相出身的统计图。其变化反映出



- A. “汉承秦制”未有改变 B. 察举制注重人才的出身
- C. “推恩令”的效果显著 D. 儒学的政治影响力加强

3. 从 8 世纪起，瓷器成为中国大宗出口商品，主要沿海路外销到东南亚、南亚、西亚、东非等地，深受当地人喜爱，西亚和北非的工匠大量仿制中国瓷器。这表明

- A. 中国制瓷业历史悠久，宋朝制瓷工艺达到高峰
- B. 来自对外贸易的税收成为唐朝国库的主要来源
- C. 中国瓷器的大规模输出影响了亚非制瓷业的发展
- D. 海上丝绸之路由此开通，陆上丝绸之路逐渐衰落

4. 整个元代只有延祐三年气候比较暖和，除此之外的记录都表明气候异常寒冷。气候变化给社会生产造成了巨大的压力。与解决此问题相关的史实是

- ①引进并推广美洲高产作物以确保粮食总产量
- ②南方创制出轻便灵活、适用于水田的曲辕犁
- ③《农书》大量介绍农业增产、积谷防饥的经验
- ④推广植棉和棉纺织技术，提高棉纺织品的产量

A. ①③ B. ①④ C. ②④ D. ③④

5. 行政中枢是王朝行政的核心，是加强中央集权的关键所在。以下对于行政中枢的描述，按时间顺序排列正确的是

- ①设置三公——建立了以丞相府为首的行政中枢
- ②废除宰相制——内阁逐渐成为事实上的行政中枢
- ③建立中朝——行政中枢权力移至皇帝亲信手中
- ④完善三省制——三省成为皇帝直接掌控的中枢

A. ①③④② B. ①④③② C. ③②①④ D. ③④②①

6. 1861年，办理外交事务的中央机构总理衙门成立。1864年，美国人丁韪良将《国际法原理》译成中文，恭亲王奕訢奏请出资助印。此书后以《万国公法》为名印行，规范国与国之间交往的国际法被正式介绍到中国。这表明

- A. 清朝统治者固守“天朝上国”观念 B. 国际法的引入避免了中国主权丧失
- C. 中国传统外交理念逐渐向近代转变 D. 清政府开始效仿西方实行以法治国

7. 以下四项表述可以从史实直接推断出结论的是

	史实	结论
A	《天朝田亩制度》提出了“有田同耕，有饭同食，有衣同穿，有钱同使”主张	体现了农民追求社会财富平均的理想
B	洋务派创办了江南制造总局等一批近代企业，建成新式海军	说明中国实现了“自强”“求富”的目的
C	光绪帝发布上百道变法诏令，涉及政治、军事、文化、教育等除旧布新的举措	表明清政府实施了完整的资产阶级改革方案
D	义和团运动提出“扶清灭洋”的口号	反映出社会主要矛盾是清政府与民众的矛盾

8. 下表根据《欧战前后农商部注册工业公司年别表》整理。推动中国的工业公司出现此状况的原因包括

项目	时期	
	1914年8月前总计	1914年8月—1920年新注册
公司数	146(个)	272(个)
资本总额	约14.8(万元)	约11743(万元)
行业类别	——	纺织业和面粉业居多

- ①民国政府鼓励民间兴办实业 ②抵制日货、提倡国货运动兴起
 ③一战期间欧洲市场需求量增大 ④政府引进技术大力发展重工业
- A. ①②③ B. ①②④ C. ①③④ D. ②③④

9. 为解决货币不统一给各解放区之间经贸往来和野战军机动作战带来的困难，中国共产党在河北石家庄成立中国人民银行，首批发行的人民币上有“中华民国三十七年”字样。与此相应的背景是

- A. 毛泽东等人赴重庆谈判 B. 中共中央主动撤出延安
 C. 战争进入反攻决战阶段 D. 开国大典在北京隆重举行

10. 20世纪70年代，中国外交部收到一组贺电，称“这是正义事业和真理的胜利”“在解决重要国际事务方面，强大的社会主义国家中华人民共和国绝不能被排除在外，而应当起到它应有的作用”。这些电报所祝贺的事件是

- A. 1970年，中国第一颗人造地球卫星发射成功
 B. 1971年，中华人民共和国恢复在联合国的一切合法权利
 C. 1972年，美国总统尼克松访华，中美《联合公报》发表
 D. 1978年，中国共产党十一届三中全会在北京召开

11. 右图镶嵌画描绘了柏拉图与学生讨论问题的情景。下列关于古希腊哲学的说法，正确的是



- A. 资本主义萌芽出现是古希腊哲学产生的经济基础
 B. 其代表人物包括苏格拉底、柏拉图和查士丁尼等
 C. 西方先哲初步用理性思维方式认识和解释世界
 D. 柏拉图等人的主张推动古代雅典民主政治的确立

12. 从16世纪末开始，荷兰财政收入的主体逐渐从对土地征收的财产税转移到对基本消费品征收的商税上。英国内战后的财政演变过程与此类似。此过程反映出

- A. 西欧国家从农业社会向近代工商业社会转变
- B. 新航路开辟使大西洋沿岸逐渐成为贸易中心
- C. 早期殖民扩张引发了荷兰和英国的价格革命
- D. 荷兰地势低洼，农牧业落后于欧洲其他国家

13. 有学者评价某法律文献：“它肯定了封建贵族的消灭，并且采纳了 1789 年的社会原则：个人自由、法律面前人人平等、国家世俗化、信仰自由和选择职业的自由。”这部法律文献是

- A. 《权利法案》
- B. 美国联邦宪法
- C. 《拿破仑法典》
- D. 《德意志帝国宪法》

14. “这个时期逐步出现了技术进步的制度化。更多的先进工业企业不再满足于接受技术创新并利用它们，而是通过精心的、有计划的科研与试验来追寻自己的技术创新。”材料中的“这个时期”是指

- A. 18 世纪初期
- B. 18 世纪后半期
- C. 19 世纪后半期
- D. 20 世纪中期

15. 下面是关于 20 世纪 60 年代某重大事件的两幅政治漫画。对其解释准确的是



“如果你们撤出……我们就撤出……”

- ①此事件是战后美苏两国对抗加剧的产物
 - ②左图勾勒了美苏相互进行核威胁的场景
 - ③右图表明美苏双方拒绝任何方式的妥协
 - ④双方在对抗的同时，力避直接的军事冲突
- A. ①②③
 - B. ①②④
 - C. ①③④
 - D. ②③④

第二部分

本部分共 5 题，共 55 分。

16. (12 分) 澳门与中西文化交流

材料一

公元前 214 年，秦朝征服岭南地区，设置桂林郡、南海郡和象郡进行管辖。番禺县（现属广州市）是南海郡的治所，澳门隶属番禺县。秦始皇下令迁徙中原 50 万人入岭南，与当地少数民族杂居。

材料二

澳门地理位置优越。自 16 世纪 80 年代到 19 世纪初，许多欧洲传教士跟随商船来到澳门，其中一些人后来进入内地。他们集中在东亚最早的西式学校——圣保罗学院培训，学习中文钻研中国文化。按来澳先后排列，他们撰写或翻译的著作如下：

国别	中文姓名	著作或译作
意大利	利玛窦	译《几何原理》等，著《西琴八曲》
西班牙	庞迪我	著《人类原始》《四大洲地图》等
意大利	艾儒略	著《万物真理》《几何要法》等
葡萄牙	谢务禄	著《中国通史》《字考》
德国	汤若望	著《西洋测历法》《远镜说》《浑天仪说》《泰疏四卷》等
波兰	卜弥格	著《中国植物》《医论》等
比利时	柏应理	译《大学》《中庸》《论语》
比利时	南怀仁	著《坤舆图说》《西方纪要》等
法国	马若瑟	著《易经》，译元曲《赵氏孤儿》

(1) 根据材料一，简述秦朝采取的措施对澳门历史发展的影响。(4分)

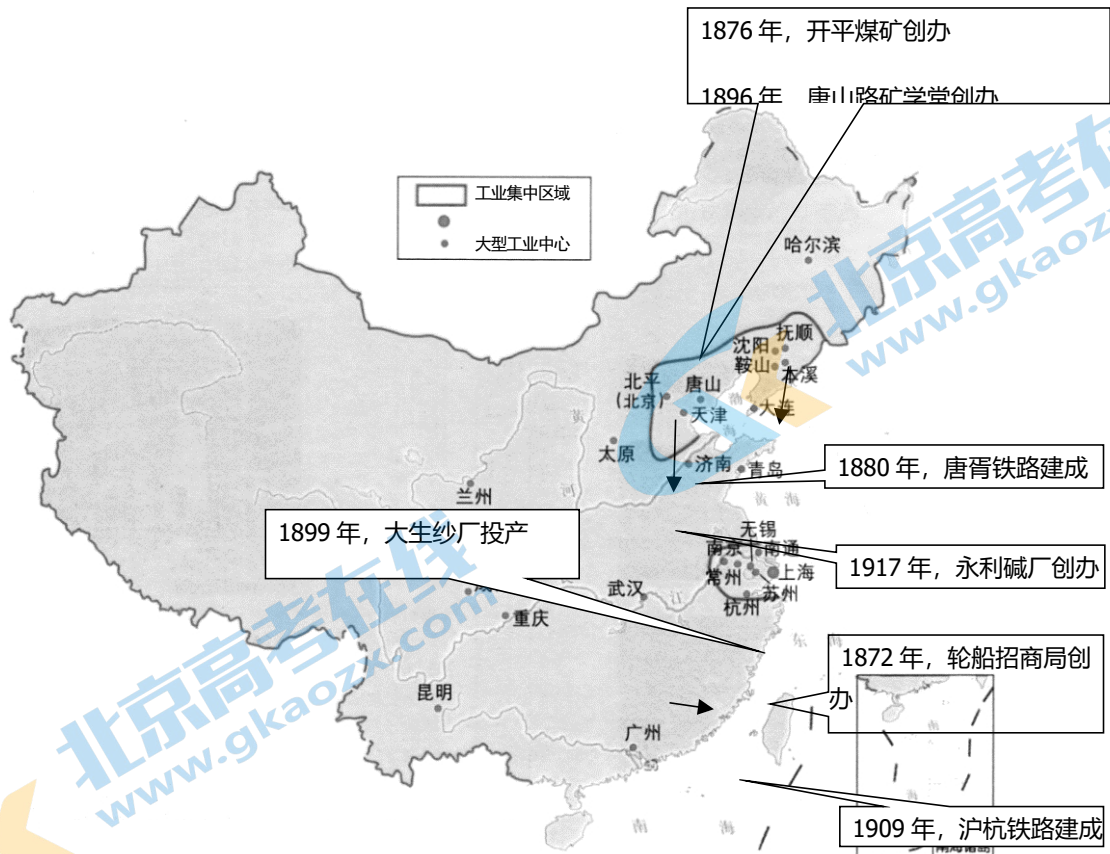
(2) 根据材料二并结合所学，对“澳门是 17—18 世纪中西文化交流的主要桥梁”这一观点进行论证。(8分)

要求：观点正确，史论结合，逻辑清晰。

17. (11分) 近代中国工业化的探索

材料一

近代中国主要企业、工业城市及工业集中区域分布示意图



材料二


1872年在上海创办的轮船招商局，简称招商局，1950年成为中华人民共和国政府在港全资国有企业，1979年招商局在深圳创办了中国第一个对外开放的工业园区。1876年创办的开平煤矿即开平矿务局，1999年改制为开滦（集团）有限责任公司，是中国特大型能源化工企业。

围绕“中国近代工业区的形成”这一主题，从①京津冀地区和③长江下游地区中，选择一处进行解读。

要求：提取信息充分；总结归纳准确、完整；解释和分析逻辑清晰。

18. (12分) 马克思主义的诞生与传播

材料一



- ①《共产党宣言》手稿
- ②1848年德文版《共产党宣言》
- ③各种语言版本的《共产党宣言》
- ④电视系列片《正道沧桑——社会主义500年》

(1) 某同学在研究“马克思主义的诞生”这一主题时搜集到以上资料，请从中选取对该主题研究价值最大的两项资料，并说明取舍的理由。(4分)

材料二

不管最近 25 年来的情况发生了多大的变化，这个《宣言》中所阐述的一般原理整个来说直到现在还是完全正确的。某些地方可以作一些修改。……（当然）正如《宣言》中所说的，这些原理的实际运用，随时随地都要以当时的历史条件为转移。

——摘自马克思和恩格斯《共产党宣言》德文版序言（1872 年）

（2）结合社会主义运动的相关史实，评析材料二中马克思和恩格斯的观点。（8 分）

19. （6 分）题词、口号或标语具有鲜明的时代特征



①



③



②

①1942 年，毛泽东为延安电影团拍摄《南泥湾》题词“自己动手丰衣足食”。

②20 世纪五六十年代，武汉人将当时流行的口号“自力更生”刻在饼模上。

③2018 年，中国某大型企业实验室悬挂的标语写着“自主知识产权的核心技术，是企业的‘命门’所在”“掌握更多具有自主知识产权的关键技术”。

分别简述“自己动手”“自力更生”“自主创新”等口号出现的国内外时代背景。

20. （14 分）持续推进反贫困之战

材料一

新中国成立后，中国共产党领导各族人民，持续推进反贫困之战，7 亿多农村贫困人口逐渐摆脱了贫困。2012 年党中央承诺“决不能落下一个贫困地区、一个贫困群众”时，中国还剩 9899 万农村贫困人口。……全国各地开展了东西部扶贫协作、对口支援等多种形式的帮扶。

——摘编自《铸牢中华民族共同体意识的伟大实践——写在我国脱贫攻坚战取得全面胜利之际》（2021—2—26）

材料二

我国社会逐步实现了由新民主主义到社会主义的过渡。……国家尽一切努力，促进全国各民族的共同繁荣。

……县级以上的地方各级人民代表大会审查和批准本行政区域内的国民经济和社会发展计划、预算以及它们的执行情况的报告。

关注北京高考在线官方微信：[北京高考资源 \(jgkao\)](#)，获取更多试题资料及排名分析信息。

——摘自《中华人民共和国宪法》（2018年修订）

材料三

上级国家机关……从财政、金融、物资、技术和人才等方面，帮助各民族自治地方加速发展经济、教育、科学技术、文化、卫生、体育等事业。

——摘自《中华人民共和国民族区域自治法》（2001年修订）

（1）1949—2012年，我国政府采取了诸多措施发展经济改善民生。简述其中三项有效促进7亿多农村贫困人口摆脱贫困的措施。（6分）

（2）结合材料及所学，分析至2020年底中国实现全部人口摆脱贫困的政治条件。（8分）



参考答案

一、选择题：本大题共 15 小题，每小题 3 分，共 45 分。在每小题列出的四个选项中，只有一项是符合题目要求的。

题号	1	2	3	4	5	6	7	8	9	10	11	12	13	14	15
答案	B	D	C	D	A	C	A	A	C	B	C	A	C	C	B

二、非选择题：本大题共 5 小题，共 55 分。

16. (12 分) 参考答案示例：

(1) 澳门成为统一多民族国家的一部分；有利于当地经济文化的发展；促进民族间的交往交融。

(2) 17—18 世纪，由于中国实行海禁和“闭关锁国”政策，中西交流渠道有限。新航路开辟后，澳门因为地理位置优越成为国际性港口，文化随之传播，成为当时中西文化交流的重要桥梁。

西方科技文化从澳门引入中国，此为“西学东渐”。当时西欧的科技文化发展较快，传教士将数学、地理学、物理学、历法、音乐、医学等领域的知识译成汉语或用汉语写作，西学经澳门传入中国内地。

同时，中国文化也经他们西传，是为“中学西传”。他们在澳门学习中文、钻研中国文化，用多种语言翻译儒家经典、文学作品，撰写书籍，将中国历史、科技文化成就西传，促进了中国文化在欧洲的传播。

可见，中西文化在当时主要通过澳门进行交流。

17. (11 分) 略

18. (12 分) 参考答案示例：

(1) 史料：选择①和②。

理由：手稿反映了思想最初的表达和修改的过程。发表于 1848 年的文稿是当时保留下来的实物资料，内容最为完整。二者互证可研究马克思主义的诞生。而各种语言版本的《共产党宣言》或电视系列片则经过了后人的翻译或艺术加工，不宜作为研究的首选资料。

(2) 马克思和恩格斯指出《共产党宣言》的一般原理完全正确，但有些地方已过时；这些原理的运用要以当时的历史条件为转移。

在工业革命展开和工人运动兴起的大背景下，马克思和恩格斯继承人类优秀文化成果，与革命实践相结合创建了科学社会主义。巴黎公社采用武装斗争的形式建立政权，打碎旧的国家机器，从实践上丰富了马克思主义学说。随着工业革命的推广，各国水平和工人觉悟有差异，加上各国历史文化不同，马克思和恩格斯意识到《宣言》有些地方已过时，明确指出此问题，以便科学指导各国革命斗争。

马克思主义理论需要在实践中不断发展，马克思和恩格斯能用发展的眼光反思自己的理论，体现出实事求是的思想精髓。列宁主义、毛泽东思想、邓小平理论等都是不断根据时代、实践、认识发展的产物，分别指导两国革命和社会主义建设，都取得了成功。

19. (6 分) 参考答案示例：

关注北京高考在线官方微信：[北京高考资源网\(微信号: jingkaokao\)](#)，获取更多试题资料及排名分析信息。

①日本全面侵华，日伪军对抗日根据地疯狂进攻和“扫荡”，根据地出现严重困难。

②资本主义国家封锁中国；中国进行社会主义建设。

③经济全球化加快，科技革命发展；中国进入深化改革阶段。

20. (14分) 参考答案示例：

(1) 20世纪50年代的土地改革废除了封建土地所有制，解放了农村生产力；农业、手工业社会主义改造后，社会主义生产资料公有制建立；1978年以后，农村实行家庭联产承包责任制，发展乡镇企业和非农产业，调动农民生产积极性拓展致富途径；国家实施西部大开发战略大力支持西部经济发展；减免粮食税减轻农民负担；修建重大水利工程保障农业生产；开放沿边城市拓展经济发展的渠道等。

(2) 中华人民共和国的建立是完成全部脱贫任务的政治前提；社会主义制度的建立提供了基本的制度保障，以共同富裕为目标，发挥集中力量办大事、统筹全局的优势；人民代表大会制度和民族区域自治制度保障人民当家作主发展经济，确保中央对民族地区提供全方位支持；中国共产党领导人民攻坚克难，广大干部群众奋战一线等。

关于我们

北京高考在线创办于 2014 年，隶属于北京太星网络科技有限公司，是北京地区极具影响力的中学升学服务平台。主营业务涵盖：北京新高考、高中生涯规划、志愿填报、强基计划、综合评价招生和学科竞赛等。

北京高考在线旗下拥有网站门户、微信公众平台等全媒体矩阵生态平台。平台活跃用户 40W+，网站年度流量数千万量级。用户群体立足于北京，辐射全国 31 省市。

北京高考在线平台一直秉承“精益求精、专业严谨”的建设理念，不断探索“K12 教育+互联网+大数据”的运营模式，尝试基于大数据理论为广大中学和家长提供新鲜的高考资讯、专业的高考政策解读、科学的升学规划等，为广大高校、中学和教科研单位提供“衔接和桥梁纽带”作用。

平台自创办以来，为众多重点大学发现和推荐优秀生源，和北京近百所中学达成合作关系，累计举办线上线下升学公益讲座数百场，帮助数十万考生顺利通过考入理想大学，在家长、考生、中学和社会各界具有广泛的口碑影响力

未来，北京高考在线平台将立足于北京新高考改革，基于对北京高考政策研究及北京高校资源优势，更好的服务全国高中家长和学生。



微信搜一搜

北京高考资讯