

2018 年夏季普通高中合格性考试练习（一）

历史

第一部分 选择题（每小题 1.5 分，共 60 分）

在下列各题的四个选项中，只有一项是符合题意的。

1. “逮克殷践奄，灭国数十，而新建之国皆其功臣、昆弟、甥舅，本周之臣子；而鲁、卫、晋、齐四国，又以王室至亲为东方大藩。”与材料描述相关的制度是

- A. 禅让制
- B. 世袭制
- C. 分封制
- D. 郡县制

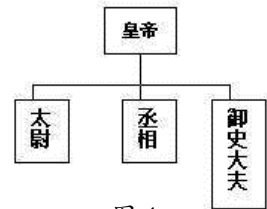


图 1

2. 图 1 所示的中央机构创立于

- A. 秦朝
- B. 隋朝
- C. 宋朝
- D. 明朝

3. 《汉书》记载：“武帝施主父之册，下推恩之令，使诸侯王得分户邑，以封子弟，不行黜陟，而藩国自析。”据此判断，汉武帝实行“推恩令”的目的是

- A. 恩泽贵族
- B. 增加税收
- C. 削弱王国势力
- D. 实现民族交融

4. 宋朝“掌军国机务，兵防、边备、戎马之政令，出纳密令，以佐邦治”的机构是

- A. 三司
- B. 政事堂
- C. 门下省
- D. 枢密院

5. 图 2 中的四个数字分别代表中国古代的重要都城，其中发生在③处的历史事件是

- A. 嬴政创立皇帝制度
- B. 隋炀帝设立进士科
- C. 明太祖废除丞相制
- D. 雍正帝设立军机处

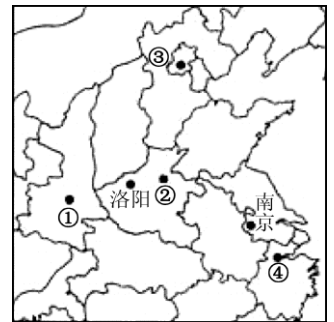


图 2

6. 史学家陈旭麓指出：“这场战争，自西方人 1514 年到中国起，是他们积 325 年窥探之后的一逞。对于中国人来说，这场战争是一块界碑。它铭刻了中世纪古老的社会在炮口逼迫下走入近代的最初一步。”这场战争是指

- A. 鸦片战争
- B. 第二次鸦片战争
- C. 甲午中日战争
- D. 八国联军侵华战争

7. 史学家杰里·本特利说：“太平天国的改革方案包含了很多激进的特征，对不满的民众很有吸引力”。其方案中对农民最具吸引力的是

- A. 平均分配土地
- B. 产品上交国库
- C. 奖励技术发明
- D. 开设新式学堂

8. “过去五千年的中华通史，实是一部帝王专制史；而今后的中华通史，将是一部民主政治史。”下列事件中体现这一历史转型的是

- A. 鸦片战争
- B. 太平天国运动
- C. 甲午中日战争
- D. 辛亥革命

9. 图 3 是近代的一幅宣传画。底部小字为：“国民革命军第三军政治部印”。它可以用于研究

- A. 北伐战争
- B. 红军长征
- C. 抗日战争



D. 解放战争

10. 20 世纪 20 年代，中国共产党开创了“农村包围城市”的革命道路。这一道路的开端是

- A. 中共一大召开
B. 革命统一战线的建立
C. 南昌起义的爆发
D. 井冈山革命根据地的创建

11. 阅读下面世界反法西斯战争简表，可以获取的历史信息有

战场名称	起止时间
欧洲战场	1939 年 9 月 1 日—1945 年 5 月 8 日
苏德战场	1941 年 6 月 22 日—1945 年 5 月 8 日
太平洋战场	1941 年 12 月 7 日—1945 年 9 月 2 日
中国战场	1931 年 9 月 18 日—1945 年 8 月 15 日

- ①中国反法西斯战争开始时间最早，持续时间最长
②中国抗日战争是世界反法西斯战争重要组成部分
③抗日战争是中国百年来第一次反侵略的战争
④全民族抗战是中国抗日战争胜利的主要原因

- A. ①② B. ②③ C. ②④ D. ③④

12. 有观点认为：新民主主义革命的历史，就是从天安门到天安门。这两个“天安门”分别指

- ①五四运动爆发 ②北平和平解放
③举行开国大典 ④召开一届人大

- A. ①② B. ①③ C. ②④ D. ③④

13. 1978 年至 1992 年全国人大及其常委会制定重要法律 230 多部。其中主要包括 1982 年宪法、《刑法》、《民法通则》、《刑事诉讼法》、《民事诉讼法》等。这一立法高峰的出现

- A. 进一步推进了农村的民主制度建设 B. 说明全国人大具有监督权和行政权
C. 确立了人民民主和社会主义的原则 D. 促进了比较完备的法律体系的形成

14. “君子和而不同”是中华民族的传统理念。我国外交政策能体现该理念的是

- A. “一边倒”的政策 B. “另起炉灶”的方针
C. 和平共处五项原则 D. “联美遏苏”的方针

15. 公元前 5 世纪，罗马的《十二铜表法》规定：“期满，债务人不还债的，债权人得拘捕之，押其到长官前，申请执行。”这体现了

- A. 维护平民利益 B. 限制贵族权力
C. 保护财产私有 D. 扩大统治基础

16. 2016 年 7 月 13 日《泰晤士报》报道：英国历史上第二位女首相特蕾莎·梅正式走马上任，接受伊丽莎白二世女王的任命，组建政府。这反映出英国政治体制的特点是

- A. 首相对国王负责 B. 首相掌握了行政权力
C. 议会对内阁负责 D. 议会与国王集体统治

17. “主席职务及其事务的领导权属于由皇帝任命的帝国宰相……建议并公布帝国法律及监督执行之权属于皇帝……”上述内容应出自

- A. 英国《权利法案》 B. 美国《独立宣言》
C. 法兰西第三共和国宪法 D. 德意志帝国宪法

18. 美苏“冷战”开始的标志是

- A. 杜鲁门主义的提出 B. 马歇尔计划的实施

- C. 不结盟运动的兴起
- D. 华沙条约组织的成立

19. 图 4 是某同学的历史课堂笔记，其中遗漏的知识点应该是

- A. 抗衡苏联的经济制裁
- B. 摆脱美国的政治控制
- C. 世界经济一体化出现
- D. 欧洲资源的严重不足

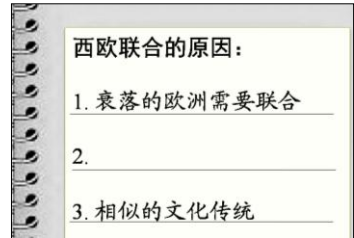



图 4

20. 某同学写作了一篇历史小论文，他选用的史实包括：德国一分为二、朝鲜战争爆发和古巴导弹危机。以下标题最适宜的是

- A. 《战后美国独霸世界》
- B. 《世界多极化趋势的出现》
- C. 《国际恐怖主义肆虐》
- D. 《“冷战”阴影下的国际关系》

21. 下列图片中的古代发明与用途对应正确的有



- ① 耧车—冶铁工具 ② 翻车—灌溉工具 ③ 筒车—运输工具 ④ 曲辕犁—耕地工具
- A. ①② B. ②③ C. ②④ D. ③④

22. 《礼记·典制》中记载：“天子之六工，曰土工、金工、石工、木工、兽工、草工，典制六材。”这段记载的是

- A. 工场手工业的规模
- B. 官营手工业的分工
- C. 私营手工业的繁荣
- D. 家庭手工业的兴起

23. 中国古代经济重心逐渐转移到江浙地区是在

- A. 秦汉
- B. 隋唐
- C. 两宋
- D. 明清

24. 对图 5 所反映的历史信息解释准确的是

- A. 经济重心开始向南方转移
- B. 私营手工业占据主导地位
- C. 工商业地区专业分工明确
- D. 政府放弃了重农抑商政策



图 5

25. 蒋廷黻认为：“恭亲王奕訢是个有血性的人，且真心为国家图谋。他认为中国应该接受西洋文化之军事部分，于是下了很大决心推行他们的新政。”这里的“新政”指的是

- A. 洋务运动
- B. 戊戌变法
- C. 清末新政
- D. 预备立宪

26. “治国之道，在乎自强，而审时度势，则自强以练兵为要，练兵又以制器为先”。下列企业中体现这一思想的是

- A. 轮船招商局
- B. 汉阳铁厂
- C. 江南制造总局
- D. 发昌机器厂

27. 以下是某历史研究小组整理的一组图片，他们研究的主题应该是



- 洋务派创办的汉阳铁厂 张謇创办的大生纱厂 新中国制造的首批汽车

- A. 中国工业化的发展历程
- B. 近代中国经济结构的变动
- C. 民族资产阶级的强国路
- D. 中国军事工业的前世今生

- A. 恢复和发展国民经济
B. 变落后农业国为先进工业国
C. 在农村建立人民公社
D. 建立社会主义市场经济体制
29. “脚踏黄河水倒流,搬来泰山做枕头;决心苦战十五年,赶上英国不发愁。”这首民歌出现于
A. “一五”计划期间
B. “大跃进”期间
C. “文化大革命”期间
D. 改革开放新时期
30. 1990年,我国政府决定进一步开放长江沿岸城市,作为开放龙头的是
A. 江西九江
B. 上海浦东
C. 湖北武汉
D. 四川宜宾
31. 17世纪欧洲一本书上记载的凤梨、马铃薯、木薯的插图,它反映出新航路的开辟
A. 促使商路和国际贸易中心转移
B. 促进了洲际间农业物种的交流
C. 为欧洲提供了资本的原始积累
D. 使欧洲传统社会遭到灭顶之灾
32. 17世纪初,拥有众多商船、成为世界头号贸易强国的是
A. 荷兰
B. 西班牙
C. 法国
D. 葡萄牙
33. 新航路开辟后,人类历史发生了重大转折,这一“转折”主要是指
A. 欧洲贸易中心转到地中海沿岸
B. 世界开始从分散走向整体
C. 人类由农业文明转向工业文明
D. 资本主义世界体系的确立
34. 图6反映了罗斯福新政的某项措施,该措施是




图6

- A. 整顿财政金融
B. 调整工业生产
C. 实行以工代赈
D. 调整农业生产

35. 罗斯福新政为资本主义发展开辟一条新的道路,其特点是
A. 实行自由放任
B. 转向计划经济
C. 加大市场调节
D. 国家干预经济
36. 美国史学家指出:“1921年,列宁发起的政策允许农民经营自己的土地和出售自己的粮食。私人企业主可以经营小型工业,恢复了货币和信贷……将俄国经济拖出混乱不堪的状况。”这一政策是
A. 战时共产主义政策
B. 新经济政策
C. 农业集体化政策
D. 工业化政策
37. 为了解决“斯大林模式”给苏联经济造成的困难,从赫鲁晓夫、勃列日涅夫,到戈尔巴乔夫都进行了经济改革,他们改革的共同点是
A. 优先解决农业生产中的问题
B. 调整所有制结构发展个体经济
C. 发展重工业以进行军备竞赛
D. 力图缓解计划经济造成的弊端
38. 二战后,英国政府颁布了《家庭补助法》、《国民保险法》、《国民救济法》;20世纪六七十年代又陆续颁布了《工资委员会法》、《劳动合同法》、《就业保障法》等。这些措施
①减少了政府的财政支出
②消灭了资本主义的弊端
③有利于社会秩序的稳定
④保障了低收入者的生活
A. ①③
B. ①④
C. ②④
D. ③④

39. “布雷顿森林体系”建立后,美元也被称为“美金”,美国财政部长福勒曾说“各个行星围绕着太阳转,各国货币围绕着美元转”。下列表述正确的是

A. 美元与黄金挂钩 各国货币与黄金挂钩

- B. 美元与马克挂钩，马克与其他货币挂钩
 - C. 美元与黄金挂钩，各国货币与美元挂钩
 - D. 美元与白银挂钩，各国货币与白银挂钩
40. 下列具有经济和政治双重性质的区域性组织是
- A. 欧洲联盟
 - B. 北美自由贸易区
 - C. 石油输出国组织
 - D. 亚太经合组织

第二部分 非选择题（共计 40 分）

一、从专制到民主、从人治到法治是人类历史发展的必然趋势。阅读材料，回答下列问题。（本题共 20 分）

陶片放逐法是雅典城邦实施的一项政治制度。在每年举行的公民大会上，雅典公民可以在陶片上写上那些不受欢迎或被认为对雅典民主制度有威胁的人物，将他驱除。

图 7 为雅典卫城北坡的一口井里出土的陶片，共 191 枚，上面全写着雅典执政官泰米斯托克利名字。经考古学家鉴定，书写笔迹仅有 14 种。



图 7

1. 依据材料并结合所学，概括雅典民主制度的特点及其弊端。（6 分）

经过四个月的讨论和妥协产生的宪法（1787 年宪法）是一份 4000 字的简短文献，为新政府勾画了一个最为简要的框架。宪法包含了两个最为基本的政治原则——联邦制和联邦政府不同部门之间的“制衡”机制，前者有时也被称为“权力的分割”（division of powers），后者则被称为“权力的分立”（separation of powers）。

——【美】埃里克·方纳《给我自由！一部美国的历史》

2. 结合 1787 年宪法的内容，谈谈你对材料中“权力的分割”与“权力的分立”的理解，（4 分）并简要说明这样设计的意义。（4 分）

巴黎公社成立后，废除旧军队、旧警察，取消资产阶级的法庭和议会，代之以国民自卫军，并建立了工人阶级的治安、司法和立法机构，还规定公职人员由民主选举产生，人民有权监督和罢免；没收逃亡资本家的工厂，交给工人合作社管理；监督铁路运输和军需生产，规定公职人员的薪金不许超过熟练工人最高工资。

1917 年 11 月苏维埃政府成立后，摧毁旧的国家机器，废除旧的等级制度，宣布国内各民族人民的权利平等，废除教会的一切特权。苏维埃政府接管银行、铁路，对企业开始实行工人监督，后来将大企业收归国有；没收地主、皇室、寺院的土地，分配给农民耕种。

3. 根据上述材料，比较巴黎公社革命措施与苏维埃政府革命措施的相同点；（4 分）结合所学，指出十月革命的历史意义。（2 分）

二、史实、史论、史识是构成史学的三要素。阅读材料，回答下列问题。（本题共 20 分）

南宋楼璘绘制了反映当时南方农桑生产全过程的《耕织图》，元、明、清皆以此为范本。



雍正《耕织图》-耕

乾隆《棉花图》瓷册-纺线

雍正《耕织图》是雍正登基以前以康熙年间刻版印制的《耕织图》为蓝本，由清宫廷画师精心绘制而成，耕图、织图各 23 幅，每幅画上都有雍正的亲笔题诗。

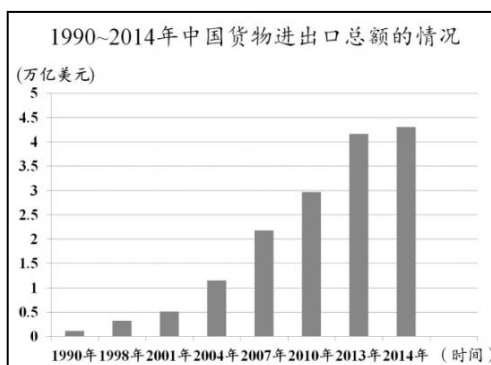
乾隆《棉花图》共 16 幅，每图附有文字说明，系统介绍了从棉花种植到制成棉布的过程。乾隆特为每幅图题诗一首，后以木版、石刻、烧制瓷书等方式颁行天下。

1. 结合上述图文材料，谈一谈你对《耕织图》历史价值的认识。（6 分）

从技术的角度来看，人类社会决定性的转折是从生命能源（即人力和畜力）为主转向对无生命能源的使用。我们所说的工业革命其实更好的名称是能源革命。

——【英】马丁·沃尔夫《全球化为什么可行》

2. 概括材料中的观点，并结合两次工业革命的相关史实进行简要论证。（6 分）



年份	中国改革开放若干大事
1978 年	“改革开放”的决策
1992 年	中共十四大确立社会主义市场经济体制的改革目标
2001 年	中国正式加入世界贸易组织
2013 年	中国提出“一带一路”战略
2013 年	中国货物进出口总额首次超过美国

3. 依据材料并结合所学，对 20 世纪 90 年代以来中国的对外贸易进行说明和解释。（8 分）

历史试题答案

第一部分 选择题（每小题 1.5 分，共 60 分）

1	2	3	4	5	6	7	8	9	10
C	A	C	D	D	A	A	D	A	D
11	12	13	14	15	16	17	18	19	20
A	B	D	C	C	B	D	A	B	D
21	22	23	24	25	26	27	28	29	30
C	B	C	C	A	C	A	B	B	B
31	32	33	34	35	36	37	38	39	40
B	A	B	C	D	B	D	D	C	A

第二部分 非选择题（共计 40 分）

一、本题共 20 分

(1) (6分)

特点：人民主权、直接民主、轮番而治。（答出2点，给4分）

弊端：过于泛滥的直接民主，导致国家权力的滥用和误用，成为政治腐败、社会动乱的隐患。（2分）

(2) (8分)

权力的分割：指的是联邦政府与州政府权力的划分。（2分）

权力的分立：指的是政府的权力被分为立法、行政和司法三部分，互相制衡。（2分）

意义：加强了中央政府的权力，但又保证了各州有一定的自治权；有利于防止专制。（4分）

(3) (6分)

相同点：都打碎旧的国家机器，建立新的国家机构；都体现了民主性和人民性；在社会经济方面都涉及了公有化。（答出 2 点，给 4 分）

意义：是人类历史上的第一次取得胜利的社会主义革命，将社会主义从理论变为现实；开创了国际社会主义运动的新局面。（答出 1 点，给 2 分）

二、本题共 20 分

(1) (6分)

历史价值：为历史研究提供了有价值的实物资料；可用于研究中国古代男耕女织的生产生活方式；可用于研究统治者重视耕织“以农为本”的思想；可用于研究古代的农业和手工业技术；还可用于研究书法和诗歌等方面的内容。（答出 3 点，给 6 分）

(2) (6分)

观点：工业革命期间，能源的变革推动人类社会的发展。（2分）

论证：第一次工业革命期间，煤炭的大规模使用和蒸汽机的改进，推动人类进入“蒸汽时代”。

第二次工业革命期间，发电机和电动机研制成功，电力在人们生产生活中得以广泛使用，推动人类进入“电气时代”；以石油为燃料的内燃机的创制，为汽车和飞机的发明奠定基础，引发了交通运输领域的革新。

（两次工业革命各举一例，每例 2 分，共 4 分）

(3) (8分)

说明：20 世纪 80 年代以来我国对外贸易呈现高速增长。（6 分）

解释：实行改革开放政策促进生产力的迅速发展；建立社会主义市场经济体制、加入世界贸易组织使中国与世界经济接轨；在经济全球化的背景下，中国提出“一带一路”战略，加强同亚欧之间的经济联系。（6分）

北京高考在线是长期为中学老师、家长和考生提供新鲜的高考资讯、专业的高考政策解读、科学的升学规划以及实用的升学讲座活动等全方位服务的升学服务平台。自 2014 年成立以来一直致力于服务北京考生，助力千万学子，圆梦高考。

目前，北京高考在线拥有旗下拥有北京高考在线网站和北京高考资讯微信公众号两大媒体矩阵，关注用户超 10 万+。

北京高考在线_2018 年北京高考门户网站

<http://www.gaokzx.com/>

北京高考资讯微信：bj-gaokao

北京高考资讯

关于我们

北京高考资讯隶属于太星网络旗下，北京地区高考领域极具影响力的升学服务平台。

北京高考资讯团队一直致力于提供最专业、最权威、最及时、最全面的高考政策和资讯。期待与更多中学达成更广泛的合作和联系。

长按二维码 识别关注



微信公众号：bj-gaokao

官方网址：www.gaokzx.com

咨询热线：010-5751 5980