

一、选择题 (共 8 道小题, 每小题 2 分, 共 16 分)

第 1-8 题均有四个选项, 符合题意的选项只有一个

1. 如果 $2m=3n$ ($n \neq 0$), 那么下列比例式成立的是

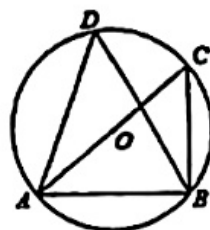
- (A) $\frac{m}{2} = \frac{n}{3}$ (B) $\frac{m}{3} = \frac{n}{2}$ (C) $\frac{m}{n} = \frac{2}{3}$ (D) $\frac{m}{2} = \frac{3}{n}$

2. 将抛物线 $y=2x^2$ 向左平移 2 个单位长度, 再向下平移 3 个单位长度, 所得到的抛物线的表达式为

- (A) $y=2(x+2)^2+3$ (B) $y=2(x-2)^2+3$
(C) $y=2(x-2)^2-3$ (D) $y=2(x+2)^2-3$

3. 如图, 点 A, B, C, D 在 $\odot O$ 上, AC 是 $\odot O$ 的直径, $\angle BAC=40^\circ$, 则 $\angle D$ 的度数是

- (A) 40° (B) 50° (C) 60° (D) 90°



3 题图

4. 如图, 在等腰 $\triangle ABC$ 中, $AB=AC$, $BD \perp AC$ 于点 D , $\cos A = \frac{3}{5}$, 则 $\sin \angle CBD$ 的值

- (A) $\frac{1}{2}$ (B) 2
(C) $\frac{\sqrt{5}}{2}$ (D) $\frac{\sqrt{5}}{5}$



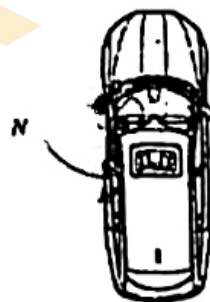
4 题图

5. 不透明盒子中有 6 张卡片, 除所标注文字不同外无其他差别. 其中, 写有“珍稀濒危植物种子”的卡片有 1 张, 写有“人工种子”的卡片有 5 张. 随机摸出一张卡片写有“珍稀濒危植物种子”的概率为

- (A) $\frac{1}{6}$ (B) $\frac{1}{5}$ (C) $\frac{1}{3}$ (D) $\frac{1}{2}$

6. 如图, 某汽车车门的底边长为 1 m, 车门侧开后的最大角度为 72° . 若将一扇车门侧开, 则这扇车门底边扫过区域的最大面积是

- A. $\frac{\pi}{10} \text{ m}^2$ B. $\frac{\pi}{5} \text{ m}^2$
C. $\frac{2\pi}{5} \text{ m}^2$ D. $\frac{4\pi}{5} \text{ m}^2$

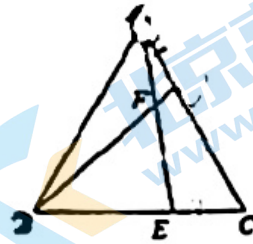
7. 在平面直角坐标系 xOy 中, 若点 $(4, y_1)$, $(6, y_2)$ 在抛物线 $y=a(x-3)^2+1$ ($a > 0$) 上, 则下列结论正确的是

- (A) $1 < y_1 < y_2$ (B) $1 < y_2 < y_1$ (C) $y_2 < y_1 < 1$ (D) $y_1 < y_2 < 1$

8. 如图, $\triangle ABC$ 是等边三角形, D, E 分别是 AC, BC 边上的点, 且 $AD=CE$, 连接 BD, AE 相交于点 F , 则下列说法正确的是

- ① $\triangle ABD \cong \triangle CAE$; ② $\angle BFE = 60^\circ$;
 ③ $\triangle AFB \sim \triangle ADF$; ④ 若 $\frac{AD}{AC} = \frac{1}{3}$, 则 $\frac{AF}{BF} = \frac{1}{2}$

- A ①②③ B ①②④
 C ②③④ D ①③④



8 题图

二、填空题 (共 8 道小题, 每小题 2 分, 共 16 分)

9. 方程 $x^2 - 9 = 0$ 的根是_____.

10. 抛物线 $y = x^2 - 2x + 4$ 的顶点坐标是_____.

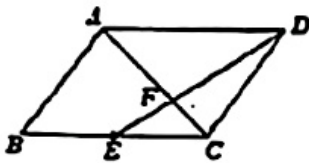
11. 某科技公司开展技术研发, 在相同条件下, 对运用新技术生产的一批产品的合格率进行检测, 下表是检测过程中的一组统计数据:

抽取的产品数 n	500	1000	1500	2000	2500	3000	3500	4000
合格的产品数 m	476	967	1431	1926	2395	2883	3367	3836
合格的产品频率 $\frac{m}{n}$	0.952	0.967	0.954	0.963	0.958	0.961	0.962	0.959

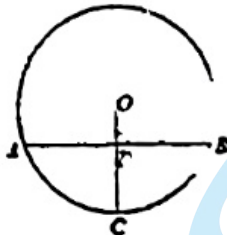
估计这批产品合格的产品的概率为_____.

12. 如图, 在平行四边形 $ABCD$ 中, E 为 BC 的中点, DE, AC 交于点 F , 则 $\triangle CEF$ 和 $\triangle ADF$ 的面积比为_____.

13. 如图, 在 $\odot O$ 中, 半径 OC 垂直弦 AB 于点 D , 若 $OC=3, AB=4\sqrt{2}$, 则 CD 的长为_____.



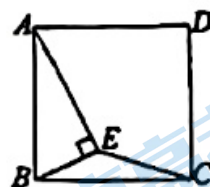
(12 题图)



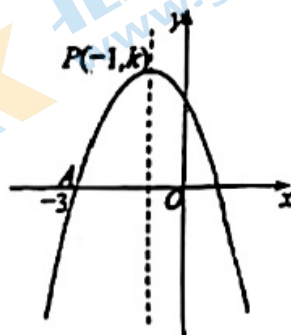
(13 题图)

14. 对于向上抛的物体, 在没有空气阻力的条件下, 上升高度 h , 初速度 v , 抛出后所经历的时间 t , 这三个量之间有如下关系: $h = vt - \frac{1}{2}gt^2$ (其中 g 是重力加速度, g 取 10m/s^2). 将一物体以 $v=21\text{m/s}$ 的初速度 v 向上抛, 当物体处在离抛出点 18m 高的地方时, t 的值为_____.

15. 如图, E 是正方形 $ABCD$ 内一点, 满足 $\angle AEB = 90^\circ$, 连接 CE . 若 $AB = 2$, 则 CE 长的最小值为_____



16. 在平面直角坐标系 xOy 中, 抛物线 $y = ax^2 + bx + c (a \neq 0)$ 的顶点为 $P(-1, k)$, 且经过点 $A(-3, 0)$, 其部分图象如图



① $a < 0$;

② $b = -2a$;

③ 若点 $M(2, m)$ 在此抛物线上, 则 $m < 0$;

④ 若点 $N(t, n)$ 在此抛物线上且 $n < c$, 则 $t > 0$.

所有正确结论的序号是_____

三、解答题 (本题共 12 道小题, 第 17 题 5 分, 第 18 题 4

分, 第 19 题 6 分, 第 20-22 题, 每小题 5 分, 第 23-26 题, 每小题 6 分, 第 27、28 题, 每小题 7 分, 共 68 分)

17. 计算: $8 \sin 60^\circ - \sqrt{27} + (-1)^{2021} - \tan 45^\circ$.

18. 已知 a 是方程 $x^2 - 2x - 1 = 0$ 的一个根, 求代数式 $(a-1)^2 + a(a-2)$ 的值.

19. 已知关于 x 的一元二次方程 $x^2 - x + 2m - 2 = 0$ 有两个实数根.

(1) 求 m 的取值范围.

(2) 当 m 取最大整数值时, 求方程的根.

20. 已知二次函数 $y = -x^2 + bx + c$ 的图象过点 $A(1, 0)$ 和 $B(0, -3)$.

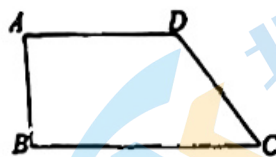
(1) 求这个二次函数的解析式;

(2) 当 $1 < x < 4$ 时, 结合图象, 直接写出函数值 y 的取值范围.



21.如图,在四边形 $ABCD$ 中, $AD \parallel BC$, $\angle B = 90^\circ$, $\cos C = \frac{3}{5}$, $CD = 10$.

求 AB 的长.



22.在平面直角坐标系 xOy 中,一次函数 $y = kx + b (k \neq 0)$ 的图象经过点 $(0, 1)$, $(-2, 2)$,

与 x 轴交于点 A .

(1) 求该一次函数的表达式及点 A 的坐标;

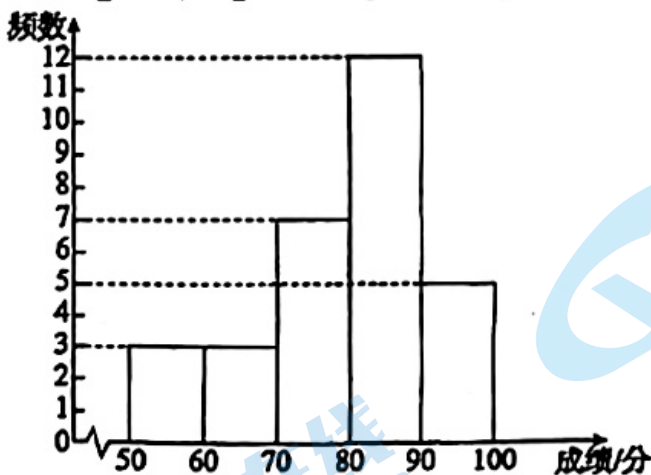
(2) 当 $x \geq 2$ 时,对于 x 的每一个值,函数 $y = 2x + m$ 的值大于一次函数 $y = kx + b (k \neq 0)$

的值,直接写出 m 的取值范围.

23.某校开展了知识竞赛(百分制),七、八年级学生参加了本次活动.为了解两个年级的答题情况,该校从每个年级各随机抽取了 30 名学生的成绩,并对数据(成绩)进行了整理、描述和分析.下面给出了部分信息.

a. 七年级成绩的频数分布直方图如下

(数据分成五组: $50 \leq x < 60$, $60 \leq x < 70$, $70 \leq x < 80$, $80 \leq x < 90$, $90 \leq x \leq 100$);



b. 七年级成绩在 $80 \leq x < 90$ 的数据如下(单位:分):

80 81 85 85 85 85 85 85 85 85 88 89

c. 七、八年级各抽取的 30 名学生成绩的平均数、中位数、众数、方差如下表:

年级	平均数	中位数	众数	方差
七年级	80.4	m	n	141.04
八年级	80.4	83	84	86.10

根据以上信息,回答下列问题:

(1) 表中 $m = \underline{\hspace{2cm}}$, $n = \underline{\hspace{2cm}}$;

(2) 下列推断合理的是 ;

① 样本中两个年级数据的平均数相同, 八年级数据的方差较小, 由此可以推断该校八年级学生成绩的波动程度较小;

② 若八年级小明同学的成绩是 84 分, 可以推断他的成绩超过了该校八年级一半以上学生的成绩.

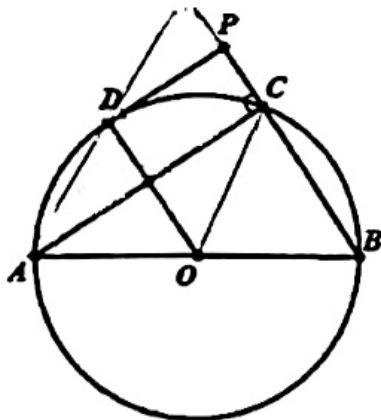
(3) 竞赛成绩 80 分及以上记为优秀, 该校七年级有 600 名学生, 估计七年级成绩优秀的学生人数.

24. 如图, AB 是 $\odot O$ 的直径, 点 C 在 $\odot O$ 上, 点 D 为 AC 的中点, 过点 D 作 $\odot O$ 的切线, 交 BC 延长线于点 P , 连接 OD 交 AC 于点 E .

求证: 四边形 $DECP$ 是矩形;

) 作射线 AD 交 BC 的延长线于点 F , 若 $\tan \angle CAB = \frac{3}{4}$,

$BC = 6$, 求 DF 的长.



25. 一位滑雪者从某山坡滑下并滑完全程, 滑行距离 s (单位: m) 与滑行时间 t (单位: s) 近似满足“一次函数”、“二次函数”或“反比例函数”关系中的一种. 测得一些数据如下:

滑行时间 t/s	0	1	2	3	4
滑行距离 s/m	0	2	6	12	20

(1) s 是 t 的 函数 (填“一次”、“二次”或“反比例”);

(2) 求 s 关于 t 的函数表达式;

(3) 已知第二位滑雪者也从坡顶滑下并滑完全程, 且滑行距离与第一位滑雪者相同, 滑

行距离 s (单位: m) 与滑行时间 t (单位: s) 近似满足函数关系 $s = \frac{5}{2}t^2 + 2t$. 记第

一位滑雪者滑完全程所用时间为 t_1 , 第二位滑雪者滑完全程所用时间为 t_2 , 则 t_1

t_2 (填“ $<$ ”, “ $=$ ”或“ $>$ ”).

26. 在平面直角坐标系 xOy 中, 点 (x_1, m) , (x_2, n) 在抛物线 $y=ax^2+bx+c(a>0)$ 上, 设抛物线的对称轴为 $x=t$.

(1) 若对于 $x_1=1, x_2=3$, 有 $m=n$, 求 t 的值;

(2) 若对于 $t-1<x_1<t, 2<x_2<3$, 存在 $m>n$, 求 t 的取值范围.

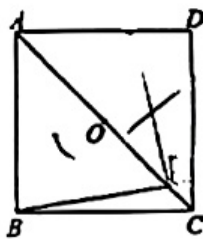
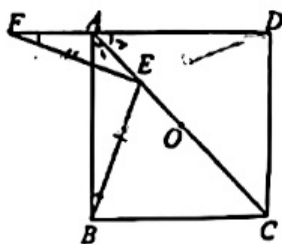
27. 在正方形 $ABCD$ 中, 点 O 为对角线 AC 的中点, 点 E 在对角线 AC 上, 连接 EB , 点 F 在直线 AD 上 (点 F 与点 D 不重合), 且 $EF=EB$.

(1) 如图 1, 当点 E 在线段 AO 上 (不与端点重合) 时,

① 求证: $\angle AFE = \angle ABE$;

② 用等式表示线段 AB, AE, AF 的数量关系并证明;

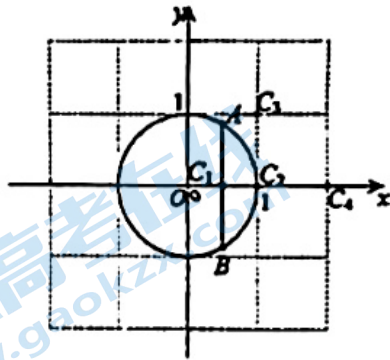
(2) 如图 2, 当点 E 在线段 OC 上 (不与端点重合) 时, 补全图形, 并直接写出线段 AB, AE, AF 的数量关系.



28. 在平面直角坐标系 xOy 中, $\odot O$ 的半径为 1. 对于 $\odot O$ 的弦 AB 和点 C 给出如下定义: 若点 C 在弦 AB 的垂直平分线上, 且点 C 关于直线 AB 的对称点在 $\odot O$ 上, 则称点 C 是弦 AB 的“关联点”.

(1) 如图, 点 $A(\frac{1}{2}, \frac{\sqrt{3}}{2})$, $B(\frac{1}{2}, -\frac{\sqrt{3}}{2})$.

在点 $C_1(0, 0)$, $C_2(1, 0)$, $C_3(1, 1)$, $C_4(2, 0)$ 中, 弦 AB 的“关联点”是_____.



(2) 若点 $C(\frac{1}{2}, 0)$ 是弦 AB 的“关联点”, 直接写出 AB 的长;

(3) 已知点 $M(0, 2)$, $N(\frac{2\sqrt{15}}{15}, 0)$. 对于线段 MN 上一点 S , 存在 $\odot O$ 的弦 PQ , 使得点 S 是弦 PQ 的“关联点”. 记 PQ 的长为 l , 当点 S 在线段 MN 上运动时, 直接写出 l 的取值范围.

参考答案

选择题:

题号	1	2	3	4	5	6	7	8
答案	B	D	B	D	A	B	A	B

填空题:

9. 3, -3

10. (1, 3)

11. 0.960 (答案不唯一 0.96 或者 0.959 都可以)

12. 1: 4

13. 2

14. 3 或者 1.2

15. $\sqrt{5}-1$

16. ①③

17. 解: 原式 $= 8 \times \frac{\sqrt{3}}{2} - 3\sqrt{3} + 1 - 1$ 4分

$= \sqrt{3}$ 5分

18. 解: $(a-1)^2 + a(a-2)$

$$= a^2 - 2a + 1 + a^2 - 2a$$

$$= 2a^2 - 4a + 1 \dots\dots\dots 2 \text{分}$$

$\because a$ 是方程 $x^2 - 2x - 1 = 0$ 的一个根,

$$\therefore a^2 - 2a - 1 = 0,$$

$$\therefore a^2 - 2a = 1. \dots\dots\dots 3 \text{分}$$

$$\therefore \text{原式} = 2(a^2 - 2a) + 1$$

$$= 2 \times 1 + 1$$

$$= 3 \dots\dots\dots 4 \text{分}$$

19. 解:

(1) \because 方程有两个实数根,

$$\therefore \Delta \geq 0 \dots\dots\dots 1 \text{分}$$

$$\therefore \Delta = (-1)^2 - 4 \times 1 \times (2m - 2)$$

$$= 1 - 8m + 8$$

$$= 9 - 8m \dots\dots\dots 2 \text{分}$$

$\therefore 9 - 8m \geq 0$

$\therefore m \leq \frac{9}{8}$ 3分

(2) $\because m \leq \frac{9}{8}$, m 为最大整数,

$\therefore m = 1$ 4分

$\therefore x^2 - x = 0$.

解得: $x_1 = 0, x_2 = 1$ 6分

20. 解: (1) \because 二次函数 $y = -x^2 + bx + c$ 的图象过点 $A(1, 0)$ 和 $B(0, -3)$,

$\therefore \begin{cases} -1 + b + c = 0, \\ c = -3. \end{cases}$

解得 $\begin{cases} b = 4, \\ c = -3. \end{cases}$

\therefore 这个二次函数的解析式为 $y = -x^2 + 4x - 3$ 3分

(2) $-3 < y \leq 1$ 5分

21. 解: 过点 D 作 $DE \perp BC$ 于点 E , 如图. 1分

在 $Rt\triangle DEC$ 中, $\cos C = \frac{CE}{CD} = \frac{3}{5}$,

$\therefore CE = \frac{3}{5}CD = \frac{3}{5} \times 10 = 6$,

$DE = \sqrt{CD^2 - CE^2} = 8$ 2分

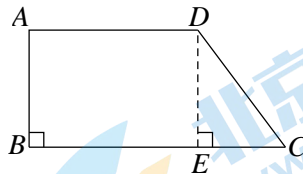
$\because \angle DEC = \angle B = 90^\circ$,

$\therefore AB \parallel DE$.

又 $\because AD \parallel BE$,

\therefore 四边形 $ABED$ 是平行四边形. 4分

$\therefore AB = DE = 8$ 5分



22. 解: (1) \because 一次函数 $y = kx + b (k \neq 0)$ 的图象经过点 $(0, 1), (-2, 2)$,

$\therefore \begin{cases} b = 1, \\ -2k + b = 2. \end{cases}$

解得 $\begin{cases} k = -\frac{1}{2}, \\ b = 1. \end{cases}$ 2分

\therefore 该一次函数的表达式为 $y = -\frac{1}{2}x + 1$.

令 $y = 0$, 得 $x = 2$.

∴ A(2, 0).3分

(2) $m > -4$5分

23. 解: (1) 83, 85.2分

(2) ①②.4分

(3) $\frac{17}{30} \times 60 = 340$ (人). ..5分.....

答: 估计七年级成绩优秀的学生人数为 340 人.....6分

24. (1) 连接 OC

∵ AB 为 ⊙O 直径, C 为 ⊙O 上一点

∴ ∠ACB = 90°

∴ ∠ACP = 90°

∵ 点 D 为 AC 的中点

∴ AD = DC

∴ ∠AOD = ∠COD

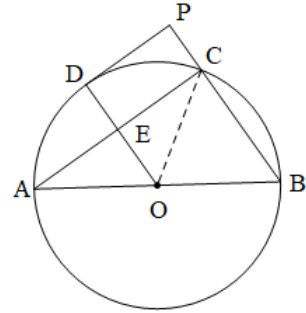
∵ OA = OC

∴ OD ⊥ AC

∵ DP 是 ⊙O 的切线, D 为切点

∴ OD ⊥ DP2分

∴ 四边形 DECP 是矩形3分



(2) 如图补全图形, 在 Rt△ABC 中, BC=6, $\tan \angle CAB = \frac{3}{4}$

∴ AC=8, AB=104分

∵ OD ⊥ AC

∴ AE = EC = 4

在 Rt△AEO 中, OA=5, AE=4,

∴ OE=35分

∴ DE=2

在 Rt△AEO 中, DE=2, AE=4,

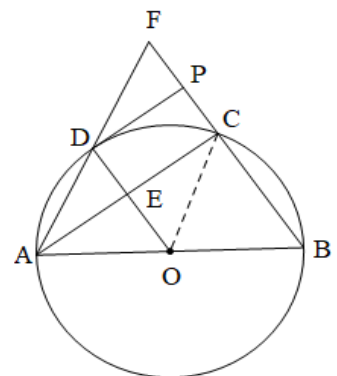
∴ AD = 2√5

∵ 矩形 DECP 对边平行

∴ OD // BF

∴ $\frac{AO}{OB} = \frac{AD}{DF} = 1$

∴ FD = 2√56分



25. 解: (1) 二次.2分

(2) 设 s 关于 t 的函数表达式为 $s=at^2+bt$,

根据题意, 得

$$\begin{cases} a+b=2, \\ 4a+2b=6. \end{cases}$$

$$\text{解得} \begin{cases} a=1, \\ b=1. \end{cases} \dots\dots 4 \text{分}$$

$\therefore s$ 关于 t 的函数表达式为 $s=t^2+t$.

(3) $>$6分

26. 解: (1) 由题意知, $a+b+c=9a+3b+c$.

$$\therefore b=-4a.$$

$$\therefore t=-\frac{b}{2a}=2. \dots\dots 2 \text{分}$$

(2) $\because a>0$,

\therefore 当 $x \geq t$ 时, y 随 x 的增大而增大; 当 $x \leq t$ 时, y 随 x 的增大而减小.

设抛物线上的四个点的坐标为 $A(t-1, m_A)$, $B(t, m_B)$, $C(2, n_C)$, $D(3, n_D)$.

点 A 关于对称轴 $x=t$ 的对称点为 $A'(t+1, m_A)$

\because 抛物线开口向上, 点 B 是抛物线顶点,

$$\therefore m_A > m_B.$$

i 当 $t \leq 1$ 时, $n_C < n_D$

$$\therefore t+1 \leq 2.$$

$$\therefore m_A \leq n_C,$$

\therefore 不存在 $m > n$, 不符合题意.

ii 当 $1 < t \leq 2$ 时, $n_C < n_D$

$$\therefore 2 < t+1 \leq 3.$$

$$\therefore m_A > n_C.$$

\therefore 存在 $m > n$, 符合题意.

iii 当 $2 < t \leq 3$ 时,

$\therefore n$ 的最小值为 m_B .

$$\therefore m_A > m_B.$$

\therefore 存在 $m > n$, 符合题意.

iv 当 $3 < t < 4$ 时, $n_D < n_C$.

$$\therefore 2 < t-1 < 3.$$

$$\therefore m_A > n_D.$$

\therefore 存在 $m > n$, 符合题意.

v 当 $t \geq 4$ 时, $n_D < n_C$.

$$\therefore t-1 \geq 3.$$

$\therefore m_A \leq n_D,$

\therefore 不存在 $m > n$, 不符合题意.

综上所述, t 的取值范围是 $1 < t < 4$ 6 分

27. (1)

①证明: 连接 DE .

\because 四边形 $ABCD$ 是正方形,

$\therefore AB=AD, \angle BAD=90^\circ$.

\because 点 E 在对角线 AC 上,

$\therefore \angle BAC = \angle DAC = 45^\circ$.

$\because AE=AE, \therefore \triangle ABE \cong \triangle ADE$.

$\therefore BE=DE, \angle ABE = \angle ADE$.

$\because EF=BE, \therefore DE=EF$.

$\therefore \angle F = \angle ADE$.

$\therefore \angle F = \angle ABE$ 2 分

② $AB=AF + \sqrt{2} AE$; 3 分

证明: 过点 E 作 $EG \perp AE$ 交 AB 于点 G .

$\therefore \angle AEG = 90^\circ$.

$\because \angle BAE = 45^\circ$,

$\therefore \angle AGE = \angle BAE = 45^\circ$.

$\therefore AG = \sqrt{2} AE, \angle EGB = 135^\circ$.

$\because \angle FAE = \angle FAB + \angle BAE = 135^\circ$,

$\therefore \angle EGB = \angle FAE$.

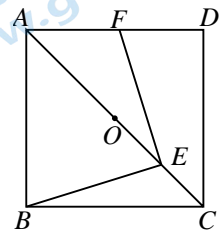
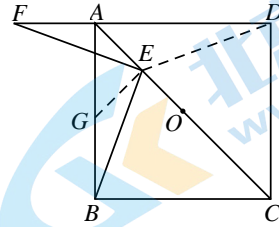
$\because \angle F = \angle ABE, EF = EB$,

$\therefore \triangle AEF \cong \triangle GEB. \therefore BG = AF$.

$\therefore AB = BG + GA = AF + \sqrt{2} AE$ 5 分

(2) 正确补全图形;

$AB + AF = \sqrt{2} AE$ 7 分



28. 解: (1) C_1, C_4 2 分

(2) $\frac{\sqrt{7}}{2}$ 或 $\frac{\sqrt{15}}{2}$ 4 分

(3) $0 < t \leq \frac{\sqrt{7}}{2}$ 或 $\sqrt{3} \leq t \leq 2$ 7 分

关于我们

北京高考在线创办于 2014 年，隶属于北京太星网络科技有限公司，是北京地区极具影响力的中学升学服务平台。主营业务涵盖：北京新高考、高中生涯规划、志愿填报、强基计划、综合评价招生和学科竞赛等。

北京高考在线旗下拥有网站门户、微信公众平台等全媒体矩阵生态平台。平台活跃用户 50W+，网站年度流量数千万量级。用户群体立足于北京，辐射全国 31 省市。

北京高考在线平台一直秉承“精益求精、专业严谨”的建设理念，不断探索“K12 教育+互联网+大数据”的运营模式，尝试基于大数据理论为广大中学和家长提供新鲜的高考资讯、专业的高考政策解读、科学的升学规划等，为广大高校、中学和教科研单位提供“衔接和桥梁纽带”作用。

平台自创办以来，为众多重点大学发现和推荐优秀生源，和北京近百所中学达成合作关系，累计举办线上线下升学公益讲座数千场，帮助数十万考生顺利通过考入理想大学，在家长、考生、中学和社会各界具有广泛的口碑影响力

未来，北京高考在线平台将立足于北京新高考改革，基于对北京高考政策研究及北京高校资源优势，更好的服务全国高中家长和学生。

推荐大家关注北京高考在线网站官方微信公众号：**京考一点通**，我们会持续为大家整理分享最新的高中升学资讯、政策解读、热门试题答案、招生通知等内容！

