

2024 北京大兴初三（上）期末

化 学

2024. 01

学校

姓名

准考证号

考 生 须 知	1. 本试卷共 8 页，共两部分，36 道小题，满分 70 分。考试时间 70 分钟。 2. 在试卷和答题卡上准确填写学校、班级、姓名、准考证号。 3. 试题答案一律填涂或书写在答题卡上，在试卷上作答无效。 4. 在答题卡上，选择题用 2B 铅笔作答，其他试题用黑色字迹签字笔作答。
------------------	--

可能用到的相对原子质量：H 1 C 12 O 16 Al 27 K 39 Fe 56 I 127

第一部分

本部分共 25 题，每题 1 分，共 25 分。在每题列出的四个选项中，选出最符合题目要求的一项。

- 空气的成分中，体积分数约为 78% 的气体是
A. 氮气 B. 氧气 C. 二氧化碳 D. 稀有气体
- 下列不属于氧气用途的是
A. 气焊 B. 食品防腐 C. 炼钢 D. 医疗急救
- 下列物质中，含有氢分子的是
A. $\text{Ca}(\text{OH})_2$ B. H_2CO_3 C. H_2O_2 D. H_2
- 下列净水方法中，净化程度最高的是
A. 吸附 B. 沉降 C. 蒸馏 D. 过滤
- 下列做法不利于节约资源的是
A. 垃圾分类处理 B. 乘坐公共交通工具
C. 使用节水龙头 D. 经常使用一次性筷子
- 下列含金属元素的物质是
A. H_2S B. P_2O_5 C. KNO_3 D. H_2O

含碳物质在自然界广泛存在。回答 7~10 题。

- 下列含碳物质中，属于纯净物的是
A. 石油 B. 大理石 C. 干冰 D. 天然气
- 下列 CO_2 的用途中，主要利用其物理性质的是
A. 灭火 B. 人工降雨 C. 制造纯碱 D. 作气体肥料
- 下列关于 CO 和 CO_2 的说法中，正确的是
A. 组成元素相同 B. 化学性质相同
C. 构成分子相同 D. 都是有毒气体

点燃

10. 下列关于 $2\text{CO} + \text{O}_2 \xrightarrow{\text{点燃}} 2\text{CO}_2$ 的说法中, 不正确的是

- A. 表示一氧化碳和氧气在点燃条件下生成二氧化碳
- B. 参加反应的 CO 与生成的 CO_2 的质量比为 1 : 1
- C. 参加反应的 CO 与 O_2 的分子个数比为 2 : 1
- D. 反应前后, 原子的种类、个数没有变化

我国科学家在化学、化工领域做出了重大贡献。回答 11~13 题。

11. 近代化学先驱徐寿创造了部分元素的汉语名称。下列元素名称与符号不一致的是

- A. 钠 (Na) B. 钙 (Ca) C. 锰 (Mn) D. 镁 (Zn)

12. 放射化学家杨承宗成功从含铀万分之几的铀矿石中制备核纯铀。铀在元素周期表中的信息如右图, 下列有关铀元素的说法正确的是

- A. 原子序数为 92 B. 质子数为 146
- C. 中子数为 146 D. 相对原子质量为 238 g

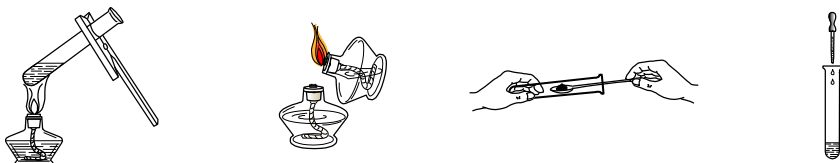
92	U
铀	
238.0	

13. 物理化学家卢嘉锡从氮分子的结构出发, 提出了固氮酶活性中心的结构模型。下列符号能表示两个氮分子的是

- A. 2N_2 B. N_2 C. 2N D. $2\text{N}_2\text{O}$

实验是化学研究的基础。回答 14~18 题。

14. 下列操作不正确的是



- A. 加热液体 B. 点燃酒精灯 C. 取固体粉末 D. 滴加液体

15. 下列仪器不能加热的是

- A. 试管 B. 量筒 C. 烧杯 D. 燃烧匙

16. 用灯帽盖灭酒精灯, 其灭火原理是

- A. 清除可燃物 B. 隔绝空气
- C. 降低温度 D. 降低酒精的着火点

17. 某同学制作的试剂标签如下。其中化学符号能正确表示其物质组成的是



A



B



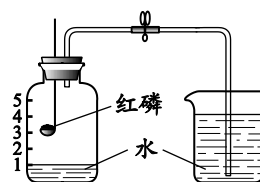
C



D

18. 下图装置可用于测定空气中 O_2 的含量。下列说法不正确的是

- A. 实验前需检查装置气密性
- B. 红磷的作用是消耗集气瓶中的氧气
- C. 将点燃的红磷伸入集气瓶后, 再关闭止水夹
- D. 该实验利用了氮气不支持燃烧、难溶于水的性质



中国传统文化中蕴含着丰富的化学知识。回答 19~22 小题。

19. 《天工开物》记载：“水锡……其质黑色……愈经淘取”。“愈经淘取”指用孔径小于锡砂的容器从水中淘取锡砂，主要利用的方法是

- A. 溶解 B. 混合 C. 过滤 D. 蒸发

20. 中国传统印染工艺常用茜草素($C_{14}H_8O_4$)作染料。下列关于 $C_{14}H_8O_4$ 的说法不正确的是

- A. 由碳、氢、氧三种元素组成 B. 一个分子中含有 26 个原子
C. 碳元素质量分数最大 D. 氢、氧元素的质量比为 2:1

21. 印染工艺中常用磷酸钠(Na_3PO_4)作促染剂。其中磷元素的化合价为

- A. +3 B. -3 C. +5 D. -5

22. 马家窑彩陶表面的炭烟可用 3%的 H_2O_2 溶液擦洗，该反应的化学方程式为

$C + 2H_2O_2 = X + 2H_2O$ ，则 X 的化学式为

- A. CO B. CO_2 C. CH_4 D. C

某品牌加碘食用盐标签如右图所示。回答 23~24 题。

23. 加碘食盐中的“碘”指的是

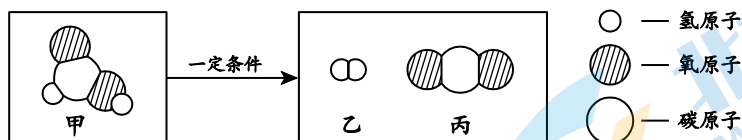
- A. 原子 B. 分子
C. 单质 D. 元素

精制食用盐	
配 料:	NaCl、 KIO_3 等
含 碘:	(18~33) mg/kg
重 量:	400 g
食用注意:	勿长时间加热
保 存:	防潮、放阴凉处

24. 下列关于该食盐的说法中，不正确的是

- A. 该食盐为混合物
B. 一袋该食盐中含 KIO_3 (7.2~13.2) mg
C. 炒菜时，最好在菜熟后加入该食盐调味
D. 使用后，该食盐应放在密封、干燥的容器中保存

25. 甲酸具有清洁制氢的巨大潜力，其分解前后分子种类变化的微观示意图如下：



下列说法不正确的是

- A. 甲的化学式为 CH_2O_2 B. 乙为单质
C. 丙的相对分子质量为 44 D. 反应前后分子总数不变

第二部分

本部分共 11 题，共 45 分。

【生活现象解释】

26. (7 分) 同学们在大兴国际氢能示范区开展了调查研究活动。

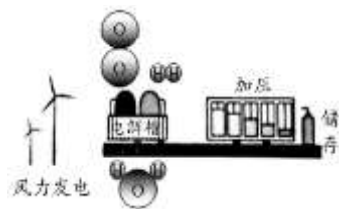


图1 风电制氢



图2 “长征五号”运载火箭



图3 氢能源汽车

(1) 调查能源应用现状。

① 目前使用的燃料大多来自化石燃料。化石燃料包括煤、石油和天然气。

② 开发利用新能源可解决能源问题。新能源有太阳能 (写出一例即可)。

(2) 调查风电制氢原理。

① 图1中水通电反应的化学方程式为 $2H_2O \xrightarrow{\text{通电}} 2H_2 \uparrow + O_2 \uparrow$ 。

② 4700 L 氢气在加压下能装入容积为 40 L 的钢瓶中。用分子的观点解释其原因：分子间有间隔。

(3) 调查氢能的使用。

① 加氢站张贴的安全标识中，表示“严禁吸烟”的是B (填序号)。



② “长征五号”运载火箭使用了液氢和液氧作为推进剂。利用液氧的性质是沸点低。

③ 使用氢能源汽车作为交通工具可实现“零碳排放”，原因是氢气燃烧只生成水。

【科普阅读理解】

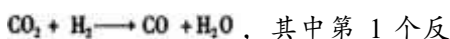
27. (6分) 阅读下面科普短文。

甲醇(CH₃OH)在常温常压下为液态，具有淡酒精味，沸点为64.6℃。绿色甲醇是指通过可再生能源生产的甲醇，生产过程中不产生碳排放，可破解世界能源和“双碳”难题。

甲醇来源广泛，我国生产甲醇各原料结构产能占比如图1。近年来，利用CO₂催化加氢合成甲醇，是一条既能够减少CO₂排放又可以生产可再生能源的新途径。主要涉及的两个化学反应为：



和



应为主反应。科研人员研究了其他条件相同时，温度对CO₂转化率和甲醇产率的影响，其结果如图2。

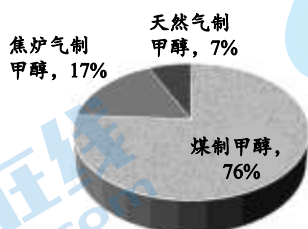


图1

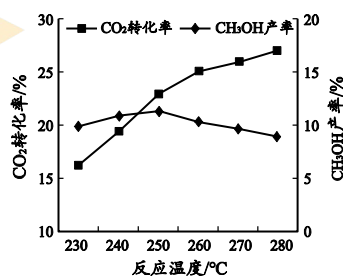


图2

随着我国碳达峰、碳中和的稳步推进，绿色甲醇产能及相关技术的提高，甲醇有望在居家、运输等场合作为燃料在人们生产和生活中慢慢普及。

依据文章内容回答下列问题。

- (1) 甲醇属于_____ (填“有机化合物”或“无机化合物”)。
- (2) 甲醇的物理性质是_____ (写出1点即可)。
- (3) 由图1可知,我国生产甲醇各原料结构产能占比最大的是_____。
- (4) 判断下列说法是否正确(填“对”或“错”)。

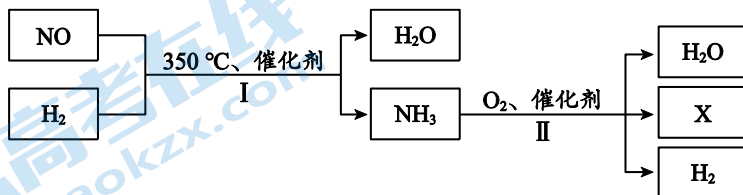
① CO₂催化加氢合成甲醇,产物只有CH₃OH。_____

② 碳中和、碳达峰中的“碳”指的是二氧化碳。_____

- (5) 由图2可得到的结论是:其他条件相同时,在实验研究的范围内,_____。

【生产实际分析】

28. (4分) 以NO为原料合成氨并利用氨氧化制氢的转化过程如下:

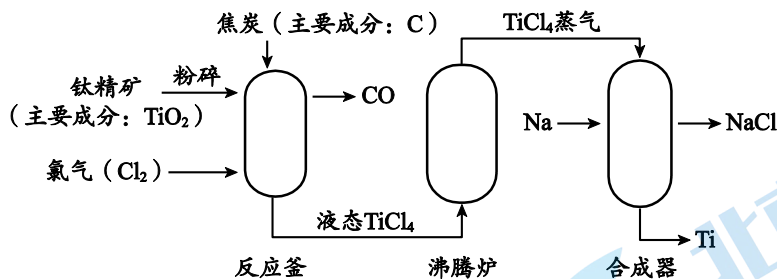


(1) 配平 I 中反应的化学方程式: $2\text{NO} + \square \text{H}_2 \xrightarrow[350^\circ\text{C}]{\text{催化剂}} \square \text{H}_2\text{O} + \square \text{NH}_3$

(2) II 中,发生的反应 _____ (填“属于”或“不属于”)分解反应,生成物 X 是一种常见的气体单质,其化学式为_____。

(3) 上述物质中,属于氧化物的是_____。

29. (3分) 钛(Ti)可用于航空、航天领域。金属热还原法生产钛的主要工艺流程如下:



(1) 反应釜中,反应物为_____ (写化学式)。

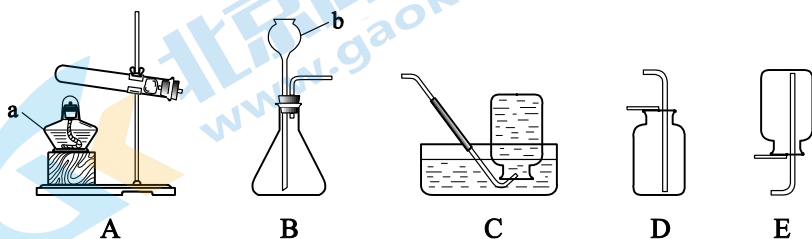
(2) 沸腾炉中,发生的变化属于_____ (填“物理变化”或“化学变化”)。

(3) 合成器中,反应前后化合价发生改变的元素是_____ (填序号)。

- A. Na B. Cl C. Ti

【基本实验及其原理分析】

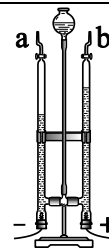
30. (4分) 实验室制取气体所需装置如下图所示。请从30-A或30-B两题中任选一个作答,若均作答,按30-A计分。



30-A	30-B
(1) 仪器 a 的名称是_____。	(1) 仪器 b 的名称是_____。
(2) 加热 KMnO_4 制取 O_2 的化学方程式为_____，选用的发生装置为_____ (填序号)。	(2) 用大理石和稀盐酸反应制取 CO_2 的化学方程式为_____，选用的发生装置为_____ (填序号)。
(3) 能用排水法收集 O_2 的原因是_____。	(3) 能用向上排空气法收集 CO_2 的原因是_____。

31. (2分) 用右图电解水实验研究水的组成。

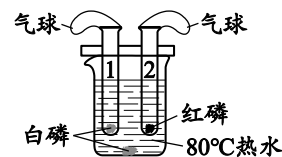
- 将燃着的木条放在 b 管尖嘴口处，打开活塞，观察到_____。
- 经检验 a 管中产生 H_2 ，由此推断水中含有氢元素，理由是_____。



32. (4分) 用下图所示实验验证可燃物燃烧的条件。

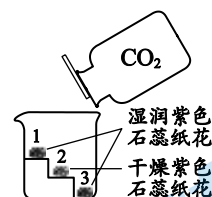
已知：白磷和红磷的着火点分别为 40°C 、 240°C 。

- 试管中的白磷燃烧而红磷不燃烧，说明可燃物燃烧的条件之一是_____；磷燃烧反应的化学方程式为_____。
- 能验证可燃物燃烧需要与 O_2 接触的现象是_____。
- 从“热水”和“气球”中任选其一，答出其作用：_____。



33. (3分) 用右图实验研究 CO_2 的性质。

- 可证明 CO_2 能与水反应的现象是_____，该反应的化学方程式为_____。
- 可证明 CO_2 密度比空气的大现象是_____。



34. (3分) 兴趣小组同学利用下述实验探究蔗糖的元素组成。

实验装置	实验步骤及现象
	<p>I. 通入 N_2，排尽玻璃管中空气，关闭 k，点燃酒精灯。A 中固体变黑，管内壁出现小水珠。</p> <p>II. 打开 k，改通 O_2。A 中黑色固体剧烈燃烧，发白光，B 中液体变浑浊。</p>

- 实验 I，A 中玻璃管内壁有小水珠产生，由此可得到的结论是_____。
- 实验 II 的目的是_____；B 中反应的化学方程式为_____。

【科学探究】

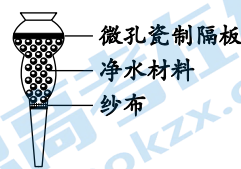
35. (6分) 兴趣小组同学在制作简易净水器过程中，为研究净水效果，进行了下列几组实验。

资料：I. 明矾是一种常见的絮凝剂，溶于水后能够吸附水中悬浮物并发生沉降，从而达到净水目的。

II. 浑浊度用以表示浑浊程度，浑浊度越低代表水质越好。

【进行实验】

实验 1：分别用等量不同材料装填入装置（见右图），对 100 mL 河水（预先滴入 1 滴红墨水）进行净化。实验记录如下：



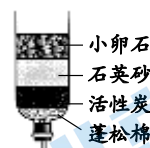
实验序号	净水材料	净水效果
1-1	小卵石	净化速度快，水样浑浊，仍为红色
1-2	石英砂	净化速度较慢，水样较澄清，仍为红色
1-3	活性炭	净化速度很慢，水样澄清，一段时间后，出现浅红色

实验 2：分别将相同流量河水注入填充等量活性炭的净化装置。实验记录如下：

实验序号	2-1	2-2
实验装置		
河水通过活性炭层的方式	自上而下	自下而上
净水效果	实验 2-2 比 2-1 净化后的水更清澈	

实验 3：取 100 mL 河水，测定初始水样的浑浊度为 670 NTU。采用不同的方法分别对水样进行处理，测定水样的浑浊度。实验记录如下：

实验序号	3-1	3-2	3-3	3-4
操作	静置 1 h	加入明矾	使用滤纸进行过滤	使用自制净水器（见右图）处理
浑浊度/NTU	256	143	55	43

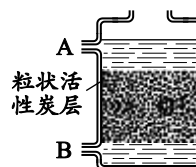


【解释与结论】

- 实验 1 的目的是_____。
- 实验 1-3 中，活性炭的作用是_____。
- 由实验 2 可以得到的结论是_____。
- 实验 3-2 中，加入明矾后水样的浑浊度低于 670 NTU 的原因是_____。

【反思与评价】

- 依据实验数据，能得出“其他条件相同时，使用自制净水器处理等量水样比使用滤纸进行过滤净化效果更好”的结论，其证据是_____。
- 右图为某同学设计的一款简易净水器，为了得到更好的净水效果，入水口应为_____（填“A”或“B”）。



【实际应用定量计算】

36. (3 分) 工业上用于焊接钢轨发生的主要反应为 $2Al + Fe_2O_3 \xrightarrow{\text{高温}} 2Fe + Al_2O_3$ 。该反应中，若有 27 kg Al

完全反应，计算生成的 Fe 的质量（写出计算过程及结果）。



参考答案

第一部分 选择题（每小题 1 分，共 25 分）

题号	1	2	3	4	5	6	7	8	9	10
答案	A	B	D	C	D	C	C	B	A	B
题号	11	12	13	14	15	16	17	18	19	20
答案	D	A	A	B	B	C	A	C	C	D
题号	21	22	23	24	25					
答案	C	B	D	B	D					

第二部分 非选择题（每空 1 分，共 45 分）

26. (1) ① 石油 ② 太阳能（风能、氢能等）

(2) ① $2\text{H}_2\text{O} \xrightarrow{\text{通电}} 2\text{H}_2\uparrow + \text{O}_2\uparrow$

② 氢分子间存在间隔，加压后氢分子间的间隔变小

(3) ① B ② 支持燃烧

③ H_2 、 O_2 中不含碳元素（或 H_2 与 O_2 反应生成水），不产生 CO_2

27. (1) 有机化合物

(2) 具有淡酒精味（或常温常压为液体等）

(3) 煤制甲醇

(4) ① 错 ② 对

(5) 随温度的升高， CO_2 转化率增大， CH_3OH 的产率先增大后减小

28. (1) $2\text{NO} + 5\text{H}_2 \xrightarrow[\text{催化剂}]{350^\circ\text{C}} 2\text{H}_2\text{O} + 2\text{NH}_3$

(2) 不属于 N_2

(3) NO 、 H_2O

29. (1) TiO_2 、 Cl_2 、C

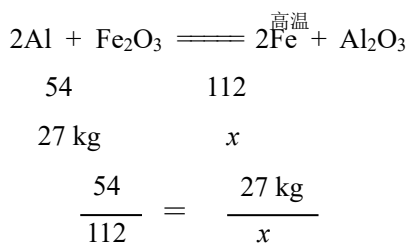
(2) 物理变化

(3) AC

30.

	30-A	30-B
(1)	酒精灯	长颈漏斗
(2)	$2\text{KMnO}_4 \xrightarrow{\Delta} \text{K}_2\text{MnO}_4 + \text{MnO}_2 + \text{O}_2\uparrow$, A	$\text{CaCO}_3 + 2\text{HCl} = \text{CaCl}_2 + \text{H}_2\text{O} + \text{CO}_2\uparrow$, B
(3)	O_2 不易溶于水且不与水反应	CO_2 的密度比空气的大，且不与空气成分反应

31. (1) 木条燃烧更旺
 (2) 水发生分解反应 (或反应物只有水), 生成物氢气中含有氢元素, 依据化学反应前后元素种类不变, 水中一定含有氢元素
32. (1) 温度达到可燃物的着火点 $4P + 5O_2 \xrightarrow{\text{点燃}} 2P_2O_5$
 (2) 试管 1 中的白磷燃烧, 热水中的白磷不燃烧
 (3) 热水: 提供热量, 隔绝氧气 (气球: 调节压强, 防止白烟逸散)
33. (1) 纸花 1 和 3 变红、2 不变红 $H_2O + CO_2 \rightleftharpoons H_2CO_3$
 (2) 纸花 3 比 1 先变红
34. (1) 蔗糖中含有氢元素和氧元素
 (2) 证明蔗糖中含有碳元素 $Ca(OH)_2 + CO_2 \rightleftharpoons CaCO_3 \downarrow + H_2O$
35. (1) 在净水材料用量、河水体积等条件相同时, 比较不同净水材料的净化效果 (或探究净水材料对净水效果的影响)
 (2) 吸附、过滤
 (3) 在河水流量、活性炭用量等其他条件相同时, 水自下而上比自上而下通过活性炭层净水效果好
 (4) 明矾溶于水后能够吸附水中悬浮物并发生沉降
 (5) 初始水样的浑浊度相同, 实验 3-4 比 3-3 中净化后的水样浑浊度低
 (6) B
36. 【解】设: 生成 Fe 的质量为 x 。



答: 生成 Fe 的质量为 56 kg。

北京初三期末试题下载

京考一点通团队整理了【**2024年1月北京初三期末试题&答案汇总**】专题，及时更新最新试题及答案。

通过【**京考一点通**】公众号，对话框回复【**期末**】，进入各年级汇总专题，查看并下载电子版试题及答案！



微信搜一搜

