

2022 北京高中合格考历史 (第二次)

考生须知	<ol style="list-style-type: none">1. 考生要认真填写考场号和座位序号。2. 本试卷共 10 页, 分为两部分。第一部分为选择题, 40 小题(共 60 分); 第二部分为非选择题, 2 小题(共 40 分)。3. 试题所有答案必须填涂或书写在答题卡上, 在试卷上作答无效。第一部分必须用 2B 铅笔作答; 第二部分必须用黑色字迹的签字笔作答。4. 考试结束后, 考生应将试卷和答题卡放在桌面上, 待监考员收回。
------	--

第一部分(选择题)

本部分共 40 小题, 每小题 1.5 分, 共 60 分。在每小题列出的四个选项中, 选出最符合题目要求的一项。

1. 距今约 7000 至 5000 年前, 黄河中游地区进入仰韶文化时期。右图是仰韶村遗址出土的月牙纹彩陶罐, 表面打磨光滑, 腹部装饰了一圈类似月牙的纹饰, 鼓腹平底, 呈红褐色。这说明仰韶文化时期 ()




- A. 掌握了彩绘陶器制作技术
B. 出现明显的阶级分化
C. 部落之间存在频繁战争
D. 出现早期国家的雏形
2. 战国时期“诸子十家……皆起于王道既微, 诸侯力政”, 各学派针对当时的社会现实问题, 提出了各自的政治社会主张和要求, 试图影响现实政治。这一历史现象被称为 ()
- A. 百家争鸣
B. 焚书坑儒
C. 儒学复兴
D. 西学东渐
3. 下面是某学生历史笔记的内容, 它反映的历史时期是 ()

- ◆实现统一, 定都咸阳
- ◆设置郡县, 统一文字
- ◆北击匈奴, 修筑长城

- A. 西周
B. 秦朝
C. 唐朝
D. 明朝
4. 为配合对匈奴的战争, 汉武帝派遣张骞两次出使西域。下列对张骞出使西域的影响表述正确的是 ()
- A. 促进了西域与中原的联系
B. 促进了与东南亚各国友好往来

- C. 加强了对岭南地区的治理
D. 加强了对东北地区的有效管理
5. 5世纪后期，北魏孝文帝拓跋宏采取了迁都洛阳、以汉族服饰取代鲜卑服饰、改鲜卑姓为汉姓等一系列改革措施。由此可以推断北魏孝文帝改革的历史作用是（ ）
- A. 导致南朝政权的更迭
B. 加强了民族交融
C. 促进了江南经济开发
D. 取消了士族特权
6. 古代某皇帝统治期间，国家出现少有的开明政治局面，史称“贞观之治”，他还被草原各族尊奉为“天可汗”。该皇帝是（ ）
- A. 汉武帝
B. 唐太宗
C. 宋太祖
D. 康熙帝
7. 使出身社会中下层 读书人通过相对公平的考试参与政权，扩大了统治基础，提高了官员的文化素质，加强了中央集权。横线处应填（ ）
- A. 察举制
B. 九品中正制
C. 科举制
D. 租庸调制
8. 鉴于唐末五代“方镇屯重兵，多以赋入自贍(充足)，名曰留使、留州，其上供殊鲜(少)”，北宋统治者为保证各地赋税上交朝廷，采取的措施是（ ）
- A. 用文官担任枢密使
B. 设置转运司统管地方财政
C. 设参知政事为副相
D. 设置宣政院管理吐蕃地区
9. 史料记载“官分南北，以国制治契丹，以汉制待汉人”。这一史料记载的制度是（ ）
- A. 唐朝的三省六部制
B. 辽朝南、北面官制度
C. 金朝“猛安谋克”制
D. 元朝的行省制度
10. 自唐朝中叶以来，南方的经济实力渐渐超越北方。北宋在经济上对南方依赖明显，户口分布南多北少格局也已定型。南宋时，长江下游和太湖流域一带成为全国最重要的粮仓。这一变化反映出（ ）
- A. 经济重心逐渐转移到南方
B. 门第观念日渐淡化
C. 社会成员的身份趋于平等
D. 美洲白银大量流入
11. 北宋沈括所著《梦溪笔谈》记载：“用胶泥刻字，薄如钱唇，每字为一印，火烧令坚……欲印，则以一铁范置铁板上，乃密布字印……若印数十百千本，则极为神速。”此项发明是（ ）
- A. 造纸术
B. 活字印刷术
C. 指南针
D. 火药
12. 下列材料反映了某个朝代政治制度的变化。这一朝代是（ ）
- 自洪武十三年罢丞相不设，析中书省之政归六部……而殿阁大学士只备顾问，帝方自操威柄，学士鲜所参决。
- A. 西汉
B. 唐朝
C. 宋朝
D. 明朝
13. 某学生梳理清朝康雍乾时期的知识时，记录了“形成奏折制度” “设立军机处” “制造文字狱”三项内容，从中可以看出其梳理的知识主题是（ ）
- A. 君主专制加强
B. 国家疆域奠定
C. 商品经济发展
D. 文学成就显著
14. 1900年8月，八国联军占领北京。1901年9月，清政府被迫与列强签订了（ ）
- A. 《南京条约》
B. 《天津条约》
C. 《马关条约》
D. 《辛丑条约》
15. 晚清时期，国家陷入内忧外患的严重局面，社会各阶层为寻求国家出路进行了探索。以下时间轴展示

了其中的四件大事，方框处应填入（ ）



- A. 虎门销烟
- B. 左宗棠收复新疆
- C. 义和团运动
- D. 武昌起义

16. 1915年，陈独秀、李大钊等一批先进的知识分子认识到共和制度得不到巩固，根本原因在于缺乏对旧思想、旧文化，旧礼教的彻底批判，为此发起的运动是（ ）

- A. 太平天国运动
- B. 保路运动
- C. 新文化运动
- D. 一二·九运动

17. 下图是1919年5月《新申报》的“号外”，有“今日各校学生游街”“声明不认二十一款，撤回赴欧和会专使”等内容。这张“号外”报道的历史事件是（ ）



- A. 五四运动爆发
- B. 国民党一大召开
- C. 北伐战争开始
- D. 东北改旗易帜

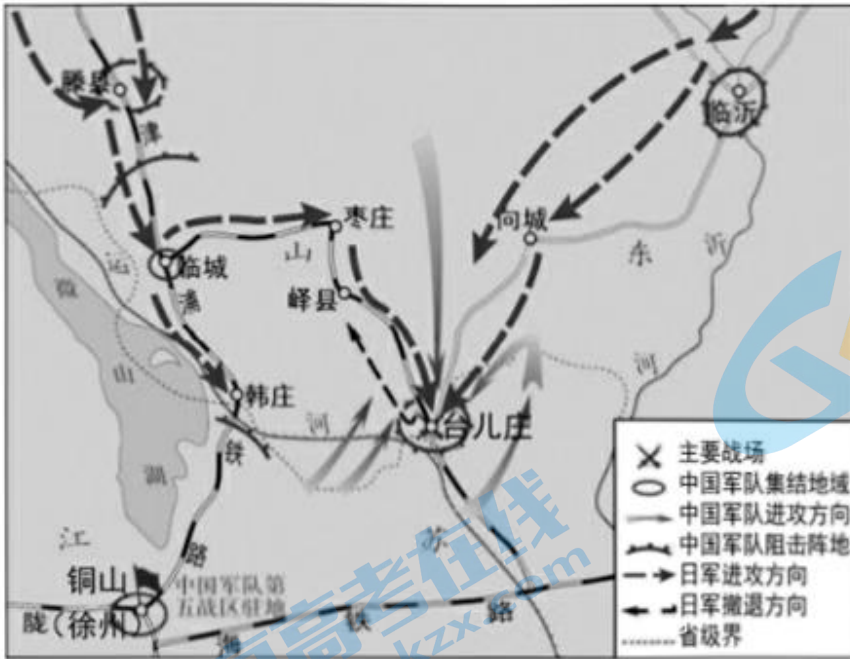
18. 点燃了“工农武装割据”的星星之火的历史事件是（ ）

- A. 党的民主革命纲领的制定
- B. 第一次国共合作形成
- C. 井冈山革命根据地的建立
- D. 红军长征的胜利结束

19. 1937年9月22日，国民党中央通讯社发表了中国共产党提出的国共合作抗战宣言。第二天，国民党领导人发表谈话，承认中国共产党的合法地位。在中国共产党的推动下，第二次国共合作实现。这标志着（ ）

- A. 中国局部抗战由此开始
- B. 西安事变最终得到和平解决
- C. 中国共产党全面抗战路线的形成
- D. 抗日民族统一战线正式形成

20. 读下图，中国军队在图中所示战役中取得抗战以来正面战场的最大胜利。该战役属于（ ）



- A. 淞沪会战 B. 忻口会战 C. 徐州会战 D. 武汉会战

21. “美术经典中的党史”是热播的电视节目。节目中介绍过的四幅油画如下，按其反映的革命活动的时间先后顺序，排列正确的是（ ）

<p>①启航（南湖红船）</p> 	<p>②地道战</p> 
<p>③遵义会议</p> 	<p>④百万雄师下江南</p> 

- A. ①③②④ B. ②①④③ C. ③④①② D. ④③②①

22. 1949年春，中共在河北平山西柏坡召开了七届二中全会，会上毛泽东指出党的工作重心必须由乡村转移到城市，提醒全党“务必使同志们继续地保持谦虚、谨慎、不骄、不躁的作风，务必使同志们继续地保持艰苦奋斗的作风”。这次会议召开的背景是（ ）

- A. 北伐战争胜利进军 B. 中央红军到达陕北
C. 中国全面抗战开始 D. 解放战争即将胜利

23. 下图是新中国成立后拍摄的一张照片，其中有“人民政府领导我们分到田地”“郁金友分到五亩田地”等字样。照片反映的历史事件是（ ）



- A. 银元之战 B. 米棉之战 C. 土地改革 D. 抗美援朝

24. 20世纪六十年代，大量先进典型和英雄人物抒写了改天换地的壮丽诗篇，形成了艰苦奋斗、自力更生的时代精神，如：铁人精神、焦裕禄精神、红旗渠精神、雷锋精神。这一时期中国人民的主要任务是（ ）

- A. 彻底打败日本侵略者 B. 取消列强在华特权
C. 肃清一切反革命武装 D. 全面建设社会主义

25. 1978年12月，实现了新中国成立以来党和国家历史上具有深远意义的伟大转折、开启了改革开放和社会主义现代化建设新时期的会议是（ ）

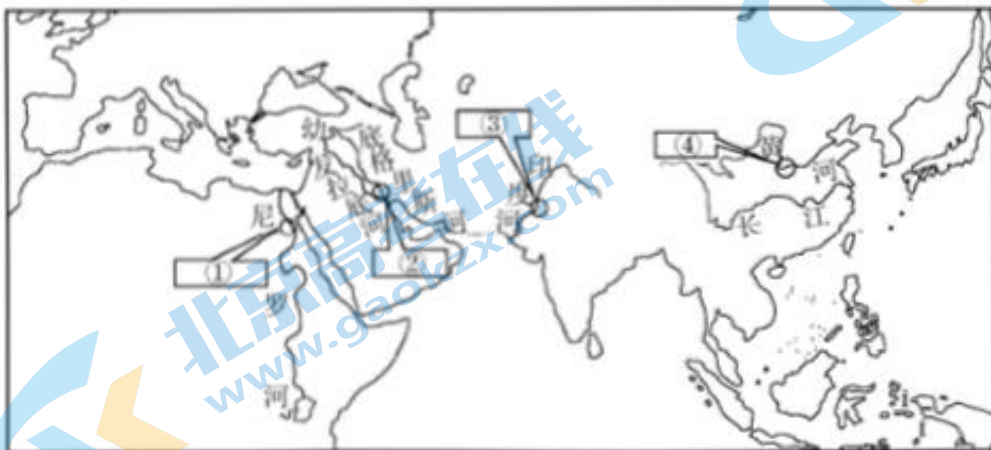
- A. 中国人民政治协商会议第一届全体会议 B. 第一届全国人民代表大会
C. 中共八大 D. 中共十一届三中全会

26. 中国改革开放四十多年来取得了巨大成就。下列成就属于这一时期的是（ ）

- ①社会主义基本制度开始确立
②中国特色社会主义理论体系形成和发展
③经济总量跃升至世界第二位
④基础设施建设在众多领域走在世界前列

- A. ①②③ B. ①②④ C. ①③④ D. ②③④

27. 世界古代某一地区的文明成就包括“象形文字”“世界上第一部太阳历”“金字塔”“莎草纸”。这一地区是（ ）



- A. ① B. ② C. ③ D. ④

28. 恩格斯说：“国王是整个封建等级制的最上级，是附庸不能撇开不要的最高首脑，而同时他们又不断反叛这个最高首脑。”恩格斯评论的封君封臣制度出现于（ ）

- A. 古代的南亚
- B. 中古时期的西欧
- C. 古代的美洲
- D. 中古时期的西非

29. 下列是某学生所做的学习笔记，其学习的主题应是

- ◆646年，日本大化改新，实行租庸调制
- ◆10世纪，高丽王朝在中央设三省六部
- ◆11世纪，越南引进科举制度

- A. 亚非国家间的友好往来
- B. 东西方文明间相互交融
- C. 中华文明影响周边国家
- D. 亚洲各国经济联系加强

30. 下列农作物中，属于古代美洲印第安人独立培育出来的是（ ）



①玉米



②马铃薯



③花生



④水稻

- A. ①②③
- B. ①②④
- C. ①③④
- D. ②③④

31. 早期殖民扩张中断了美洲和非洲原有的社会发展进程，打破了原本相对平衡的多元文明格局，给当地人民带来了巨大灾难。这段话阐释的是早期殖民扩张的（ ）

- A. 原因
- B. 条件
- C. 过程
- D. 影响

32. 下图是一幅创作于18世纪末的伦敦全景画，图中既描绘了泰晤士河两岸大大小小的工厂，也展现了工厂烟囱排放着乌黑的浓烟。这种情景的出现是因为（ ）



- A. 奴隶贸易的兴起
- B. 光荣革命的发生
- C. 工业革命的开展
- D. 经济危机的爆发

33. 有位老师在讲解某一历史事件时引用了“德国平民因营养不良而死亡的人数(1915—1918年)”“丘吉尔1923年写的回忆录《世界危机》”“索姆河战役幸存士兵的回忆”等材料。据此判断这一历史事件是（ ）

- A. 法国大革命
- B. 德意志统一
- C. 第一次世界大战
- D. 第二次世界大战

34. 1921年，面对严重经济和政治危机，苏俄政府通过粮食税等市场机制建立工农联盟。当时苏俄政府

实施的经济政策是（ ）

- A. 战时共产主义政策
- B. 新经济政策
- C. “社会主义工业化”
- D. “农业集体化”

35. 1942年1月，以美、英、苏、中为首的26个国家签署《联合国宣言》，标志着

- A. 协约国集团的形成
- B. 国际联盟的正式成立
- C. 世界反法西斯同盟的建立
- D. 国际货币基金组织的成立

36. 某学生制作的手抄报设置了五个栏目，每个栏目的小标题分别是“杜鲁门主义”“马歇尔计划”“德国分裂”“北约成立”“华约成立”。由此推断，手抄报的标题应该是（ ）

- A. 美苏共同打败法西斯
- B. 冷战和两极格局形成
- C. 社会主义国家的发展
- D. 美国发动阿富汗战争

37. 以下是《二战后联邦德国就业人口比例变化表》。表中数据反映出联邦德国（ ）

	农业	工业	服务业
1950年	23.2%	42.2%	32.4%
1990年	5.1%	40.5%	54.4%

- A. 建立工厂制度
- B. 进入电气时代
- C. 产业结构出现新变化
- D. 经济出现“滞胀”现象

38. 以下是《二战后亚非拉民族独立运动重要史事简表》。表中这些史事说明二战后世界历史的重要变化是（ ）

时间	史事
1947年	印度独立
1956年	埃及总统纳赛尔宣布收回苏伊士运河主权
1960年	非洲17国先后独立，这被称为“非洲年”
1999年	巴拿马从美国手中收回巴拿马运河区的全部主权

- A. 世界殖民体系的瓦解
- B. 欧美国家社会运动高涨
- C. 社会主义阵营的形成
- D. 经济全球化的迅猛发展

39. 进入21世纪，电子商务、移动支付、共享经济等便利了人们的生活，“一部手机走天下”已成为越来越多的人出行时选择的方式。这反映当今世界发展的趋势是（ ）

- A. 社会信息化
- B. 文化多样性
- C. 世界多极化
- D. 区域经济集团化

40. 2014年联合国统计数据显示，全世界最富有的1%人口拥有的资产占人类财富总量的近40%，而最贫困

的 50%人口拥有的资产仅占 1%。2018 年英国一家慈善组织公布的报告显示，全球前 26 个大富豪的资产相当于最贫困的 38 亿人的全部财产。这表明（ ）

- A. 生态环境持续恶化
- B. 粮食安全问题日趋严峻
- C. 贫富分化十分严重
- D. 治理贪污腐败任重道远

第二部分(非选择题)

本部分共 2 小题，共 40 分。

41. 开放·交流·合作

<p>①开元初，栗田（日本使臣）复朝，请从诸儒受经……其副朝臣仲满慕华不肯去，易姓名曰朝衡，历左补阙、仪王友（官职名称），多所该识（掌握众多学识），久乃还。</p> <p style="text-align: right;">——《新唐书》</p>	 <p>②榆林窟壁画《玄奘西行求法》</p>	 <p>③在印度尼西亚打捞的一艘唐代商船中，发现的带阿拉伯人像的长沙窑瓷器</p>
--	---	--

(1) 指出①②③的史料类型，并依据上述史料概括唐代对外交流的特点。

1757 年，清朝将通商口岸缩减至广州一处，对外贸易皆由官府指定的广州“十三行”行商代理。清政府禁止外商在广州过冬，禁止外商雇役华人办事，规定外商平时不能随便走出商馆，只能在每月逢八之日出外游览散步，且人数不得超过十人，对华人出洋船只型制大小、货物品种数量、商贩水手人数、往返期限等，清政府也都有非常严格的规定。

——摘编自张帆《中国古代简史》

(2) 依据材料概述清朝在对外贸易方面采取的措施，并结合所学简析其影响。

况今日和议既成，中外贸易，有无交通，购买外洋器物，尤属名正言顺。购成之后，访募章思之士，智巧之匠，始而演习，继而试造，不过一二年，火轮船必为中外官民通行之物，可以剿发逆，可以勤远略。

——曾国藩《复陈购买外洋船炮折》(1861 年)

(3) 依据材料，概括曾国藩的主张。

序号	事件
①	1953 年，《朝鲜停战协定》签署
②	1955 年，中国参加亚非会议

③	1971年,中华人民共和国恢复在联合国的一切合法权利
④	2001年,中国正式加入世界贸易组织
⑤	2013年,中国提出“一带一路”合作倡议
⑥	2020年,中非团结抗疫特别峰会召开

(4) 从上表中任选两个事件,写出序号,提炼一个主题,结合所学对主题进行说明。

42. 探索·实践·变化

《政府论》是洛克倾注多年的心血之作。在这部著作中,他对近半个世纪英国政治思想领域的斗争进行了清理和总结,为新政权提供了理论论证。

洛克法治思想的突出特点,是强调依法行政,即用法律约束和限制行政权力(即王权)。他指出,在君主专制政体中,君主只是用心血来潮或毫无约束的意志代替法律,而没有任何准绳和规定约束君主的行为。

——摘编自徐大同《西方政治思想史》

(1) 依据材料概括洛克的思想主张。结合所学,用“光荣革命”后的史实说明英国政治变革是如何体现洛克思想主张的。

瓦特在中学学习了法语、希腊语,还自学了德语、意大利语,这使得他有机会接触和看懂更多优秀外文文献。瓦特本人在伦敦学艺期间购买了《数学仪器的制造和使用》。他在格拉斯哥大学工作期间阅读了不少书籍,了解了关于蒸汽机发明的知识,丰富的数学知识和实践经验,有助于瓦特在蒸汽机改良过程中有效地解决一些精准测量与数量化表达的问题。

——摘编自韩玉德、安维复《试论詹姆斯·瓦特的工匠精神》

(2) 依据材料,概括瓦特取得成就的原因。结合所学,说明瓦特改良的蒸汽机广泛应用的影响。

1845—1846年,马克思、恩格斯合写《德意志意识形态》,首次对唯物史观作了较系统的论述,论证了物质生产在人类历史发展中的决定作用,阐述了共产主义取代资本主义的历史必然性。

1848年,马克思、恩格斯起草的《共产党宣言》发表,标志着科学社会主义的诞生。

1867年,《资本论》第一卷出版,创立了剩余价值理论,揭露了资本主义社会内部资产阶级剥削无产阶级的秘密。

在革命实践中,马克思和恩格斯坚决捍卫科学社会主义基本原则,不断扩大科学社会主义在工人运动中的影响,指导国际工人运动健康发展。

——据本书编写组《社会主义发展简史》

(3) 依据材料指出马克思、恩格斯的理论创新。结合所学简述马克思主义诞生的历史意义。

代表人物	主张
[美] 米尔顿·弗里德曼 (1912—2006)	认为“福利国家”巨大的日常开支成为国民经济中沉重的财政负担。实行这种制度,就会有“太多的人终生依赖他

	人生活”，主张废除“福利国家”。
[美] 保罗·萨缪尔逊 (1915—2009)	认为“福利国家”实现了充分就业，实行了公平的财富和收入分配，创办了各种福利设施。断言“福利国家会长期存在下去”。

——摘编自李琮《对“福利国家”的一些认识》等

(4) 依据材料并结合所学，谈谈你对二战后西方“福利国家”的认识。

参考答案

1. 【答案】A

【解析】

【详解】依据材料“仰韶村遗址出土的月牙纹彩陶罐，表面打磨光滑，腹部装饰了一圈类似月牙的纹饰，鼓腹平底，呈红褐色”，可以看出在新石器时代，黄河流域的仰韶文化已经掌握了制作彩绘陶器的技术，A项正确；材料涉及的是掌握制作彩陶的技术，未涉及阶级分化，排除B项；材料未涉及部落之间的状况，排除C项；材料出土的陶罐，不能证明出现早期国家的雏形，排除D项。故选A项。

2. 【答案】A

【解析】

【详解】根据材料及所学，可知战国时期各家学派提出各自的政治社会主张和要求，试图影响现实政治，被称为百家争鸣。A项正确；秦朝实行的焚书坑儒，排除B项；唐朝中期掀起了复兴儒学运动，排除C项；近代中国开始的西学东渐，排除D项。故选A项。

3. 【答案】B

【解析】

【详解】依据材料“实现统一，定都咸阳；设置郡县，统一文字；北击匈奴，修筑长城”，结合所学知识可知是秦的统一以及巩固统一的措施，B项正确；西周时期地方行政制度是分封制，排除A项；唐朝的都城是长安，排除C项；明朝朱元璋定都在南京，明成祖朱棣迁都北京，排除D项。故选B项。

4. 【答案】A

【解析】

【详解】依据材料“为配合对匈奴的战争，汉武帝派遣张骞两次出使西域”，结合所学知识可知汉武帝为了打击匈奴，派遣张骞两次出使西域，客观上促进了西域与中原之间的联系，A项正确；材料涉及的是中原与西域的联系，未涉及与东南亚各国友好往来，未涉及对岭南地区的治理，也没有涉及对东北地区的有效管理，排除BCD项。故选A项。

5. 【答案】B

【解析】

【详解】依据材料“北魏孝文帝拓跋宏采取了迁都洛阳、以汉族服饰取代鲜卑服饰、改鲜卑姓为汉姓等一系列改革措施”，结合所学知识可知，北魏作为少数民族建立的政权，通过改革向中原文化学习，所起到的历史作用是促进了民族融合，B项正确；南朝政权的更迭与孝文帝改革无关，排除A项；孝文帝改革与江南经济开发的关系不大，排除C项；孝文帝改革没有取消士族特权，排除D项。故选B项。

6. 【答案】B

【解析】

【详解】根据材料及所学，可知唐太宗统治期间，国家出现少有的开明政治局面，史称“贞观之治”，他还被草原各族尊奉为“天可汗”。B项正确；汉武帝、宋太祖、康熙帝与材料无关，排除ACD项。故选B项。

7. 【答案】C

【解析】

【详解】根据材料及所学，可知隋唐创立的科举制，使出身社会中下层的读书人通过相对公平的考试参与政权，扩大了统治基础，提高了官员的文化素质，加强了中央集权，C项正确；察举制是汉武帝时期的一种举荐人才的制度，排除A项；九品中正制是魏晋时期的一种举荐人才的制度，排除B项；租庸调制是唐朝的赋役制度，排除D项。故选C项。

8. 【答案】B

【解析】

【详解】根据材料及所学，可知为了削弱唐末五代出现的藩镇割据势力，北宋统治者在地方设立平行的四个路级机构，从不同方面对各州进行监控和控制，其中在地方设置转运司对地方财政进行控制，B项正确；枢密使是中央掌管军权的长官，排除A项；参知政事分割宰相权力的副相，排除C项；宣政院是元朝设立的中央负责管理西藏地区的军政事务的机构，排除D项。故选B项。

9. 【答案】B

【解析】

【详解】根据材料“官分南北，以国制治契丹，以汉制待汉人”可知，辽代实行南北面官制，因地制宜，B项正确；唐朝不属于契丹，排除A项；金朝属于女真族，排除C项；元朝属于蒙古族，排除D项。故选B项。

10. 【答案】A

【解析】

【详解】根据材料及所学，可知唐中叶以来，南方经济逐渐超过北方，全国经济重心逐渐南移到南方，A项正确；材料未涉及门第观念，排除B项；科举制有利于社会成员身份趋于平等，排除C项；明朝中后期美洲白银大量流入中国，排除D项。故选A项。

11. 【答案】B

【解析】

【详解】依据材料“欲印，则以一铁范置铁板上，乃密布字印……若印数十百千本，则极为神速。”，可以看出北宋时期印刷术进一步发展，活字印刷术的发展使得印刷效率更快，B项正确；材料涉及的是印刷术，未涉及造纸术，指南针和火药，排除ACD项。故选B项。

12. 【答案】D

【解析】

【详解】根据材料“罢丞相不设，析中书省之政归六部……而殿阁大学士只备顾问”可知，材料为明朝废丞相，设内阁相关内容，D项正确；西汉时设立中朝分割相权，排除A项；唐朝设立三省六部制，排除B项；宋朝设立二府三司，排除C项。故选D项。

13. 【答案】A

【解析】

【详解】根据材料“形成奏折制度”“设立军机处”“制造文字狱”可知，材料中的内容都属于清朝加强君主专制的措施，因此知识主题是君主专制加强，A项正确；清朝国家疆域奠定主要体现在收复台湾、划定中俄

边境、平定叛乱等措施，排除 B 项；清代商品经济发展表现在工商业的发展情况方面，排除 C 项；清代文学成就主要是小说，排除 D 项。故选 A 项。

14. 【答案】D

【解析】

【详解】根据材料及所学，可知 1900 年 8 月，八国联军占领北京。1901 年 9 月，清政府被迫与列强签订了《辛丑条约》。D 项正确；1842 年清政府与英国签署的《南京条约》，排除 A 项；1856 年清政府与英法美俄四国签署《天津条约》，排除 B 项；1895 年清政府与日本签署《马关条约》，排除 C 项。故选 D 项。

15. 【答案】D

【解析】

【详解】根据所学，1911 年武昌起义，D 项正确；1839 年虎门销烟，A 项排除；1878 年左宗棠收复新疆，排除 B 项；19 世纪末义和团运动，排除 C 项。故选 D 项。

16. 【答案】C

【解析】

【详解】依据材料“1915 年，陈独秀、李大钊等一批先进的知识分子认识到共和制度得不到巩固，根本原因在于缺乏对旧思想、旧文化，旧礼教的彻底批判”，结合所学知识可知在思想文化领域掀起了一场思想解放运动——新文化运动，C 项正确；太平天国运动时间是 1851—1864 年，与材料时间不符，排除 A 项；1911 年 5 月清政府将已归民办的川汉、粤汉铁路收归国有，并将筑路权出卖给外国银行团。广东、湖南、湖北、四川人民掀起保路运动，排除 B 项；一二·九运动的时间是 1935 年 12 月 9 日，与材料时间不符，排除 D 项。故选 C 项。

17. 【答案】A

【解析】

【详解】根据材料“1919 年 5 月”“不认二十一款”可知，巴黎和会中国外交失败，引发了五四运动，A 项正确；1924 年 1 月国民党一大召开，排除 B 项；1926 年北伐战争开始，排除 C 项；东北易帜在 1928 年，排除 D 项。故选 A 项。

18. 【答案】C

【解析】

【详解】结合所学知识可知，井冈山革命根据地道路的开辟标志着“工农武装割据道路”的开辟，C 正确；A 是中共一大的内容，排除；B 是国民党一大的意义，排除；甘肃会宁会师标志着长征的结束，D 排除。故选 C。

19. 【答案】D

【解析】

【详解】根据材料及所学，1937 年 9 月在中国共产党的推动下，国共两党正式合作，标志着抗日民族统一战线正式形成，D 项正确；1937 年七七事变的爆发是中国全面抗战的开始，排除 A 项；1936 年西安事变和平解决，全民族抗战的局面初步形成，排除 B 项；1937 年 8 月，中共中央在陕北洛川召开会议，通过的十大纲领和决定，标志中国共产党全面抗战路线的正式形成，排除 C 项。故选 D 项。

20. 【答案】C

【解析】

【详解】依据材料“中国军队在图中所示战役中取得抗战以来正面战场的最大胜利”，结合图示可知中国军队在图中所示战役中取得抗战以来正面战场的最大胜利是台儿庄战役，是徐州会战的一部分，C项正确；淞沪会战最后的结果是失败了，排除A项；忻口会战属于太原会战，排除B项；武汉会战是抗日战争时期中国军队在武汉地区同日本侵略军展开的一场会战，与图示不符，排除D项。故选C项。

21. 【答案】A

【解析】

【详解】根据材料及所学，可知①是1921中国共产党的成立，②是抗日战争时期中共领导的敌后抗日斗争，③是1935年红军长征中召开的遵义会议，④是1949年4月人民解放军渡江战役。A项正确；BCD项时间排列顺序错误，排除BCD项。故选A项。

22. 【答案】D

【解析】

【详解】依据材料“1949年春，中共在河北平山西柏坡召开了七届二中全会，会上毛泽东指出党的工作重心必须由乡村转移到城市”，结合所学知识可知在中国人民解放战争即将取得全国胜利的前夕，经过充分准备，中国共产党于1949年在河北省平山县西柏坡，召开了第七届中央委员会第二次全体会议，D项正确；北伐战争胜利进军是1926年—1927年，与材料时间不符，排除A项；1935年10月19日，中央红军到达陕北吴起镇，排除B项；1937年卢沟桥事变是全面抗战开始的标志，排除C项。故选D项。

23. 【答案】C

【解析】

【详解】根据材料“人民政府领导我们分到田地”“郁金友分到五亩田地”可知涉及历史事件为土地改革，农民分得土地，C项正确；银元之战是中华人民共和国建国初期，在上海发生的一场经济风波，排除A项；米棉之战与农民分得土地无关，排除B项；抗美援朝与土地无关，排除D项。故选C项。

24. 【答案】D

【解析】

【详解】依据材料“20世纪六十年代，大量先进典型和英雄人物抒写了改天换地的壮丽诗篇，形成了艰苦奋斗、自力更生的时代精神”，结合所学知识可知20世纪60年代，我国正处于全面建设社会主义时期，D项正确；抗日战争的胜利是1945年，与材料时间不符，排除A项；新中国成立，取消了列强在华的特权，排除B项；肃清一切反革命武装属于巩固人民政权的措施，排除C项。故选D项。

25. 【答案】D

【解析】

【详解】结合所学可知，1978年12月，中共十一届三中全会在北京召开。全会作出把党和国家工作中心转移到经济建设上来，实行改革开放的战略决策，实现了新中国成立以来党和国家历史上具有深远意义的伟大转折，开启了改革开放和社会主义现代化建设新时期，D项正确；ABC三项均不符合题意要求，排除ABC项。故选D项。

26. 【答案】D

【解析】

【详解】根据材料及所学，可知改革开放四十多年来取得了巨大成就，中国特色社会主义理论体系形成和发展。中国经济总量跃升至世界第二位。基础设施建设在众多领域走在世界前列。D项正确；1954年社会主义基本制度开始确立，排除ABC项。故选D项。

27. 【答案】A

【解析】

【详解】依据材料“象形文字”，“世界上第一部太阳历”，“金字塔”，“莎草纸”，结合所学知识可知是古埃及文明的成就，处于尼罗河流域，A项正确；②是古代两河流域，与材料不符，排除B项；③是古印度文明，排除C项；④是中华文明，排除D项。故选A项。

28. 【答案】B

【解析】

【详解】根据材料及所学，可知恩格斯评论的封君封臣制度出现于中古时期的西欧，B项正确；古代南亚、古代美洲、中古的西非，都不符合题意，排除ACD项。故选B项。

29. 【答案】C

【解析】

【详解】材料中提到的“租庸调制、三省六部、科举制度”都是中国古代的政治制度，这些制度在日本、高丽、越南推行，说明中华文明影响周边国家，C项正确；材料体现的是亚洲国家，亚非国家间的友好往来无法体现，排除A项；材料没有提到西方文明，排除B项；材料没有提到经济联系，排除D项。故选C项。

30. 【答案】A

【解析】

【详解】古代美洲的主要粮食作物是玉米、甘薯、马铃薯等，而最早种植水稻是中国古代长江中下游居民，A项正确；最早种植水稻是中国古代长江中下游居民，排除B项；最早种植水稻是中国古代长江中下游居民，排除C项；最早种植水稻是中国古代长江中下游居民，排除D项。故选A项。

31. 【答案】D

【解析】

【详解】根据材料及所学，可知新航路开辟以来，西欧殖民者对美洲、非洲殖民掠夺破坏，打破了原本相对平衡的多元文明格局，给当地人民带来了巨大灾难。因此这段话阐述了早期殖民扩张的影响，D项正确；材料与原因、条件、过程都无关，排除ABC项。故选D项。

32. 【答案】C

【解析】

【详解】依据材料“描绘了泰晤士河两岸大大小小的工厂，也展现了工厂烟囱排放着乌黑的浓烟”，结合时间18世纪末，可知是工业革命的推动下，促进了工厂的发展，同时也带来的环境污染问题，C项正确；材料涉及的是工业革命，未涉及奴隶贸易，排除A项；光荣革命发生的时间是1688年，与材料时间不符，

排除 B 项；材料涉及的是工业革命的推动下，生产力的迅速发展，未涉及经济危机，排除 D 项。故选 C 项。

33. 【答案】C

【解析】

【详解】根据题干中的时间可知这一历史事件是第一次世界大战，C 项正确；法国大革命爆发的时间是 1789 年，排除 A 项；德意志统一的时间 1871 年，排除 B 项；第二次世界大战的时间是 1939-1945 年，排除 D 项。故选 C 项。

34. 【答案】B

【解析】

【详解】依据材料“1921 年，面对严重的经济和政治危机，苏俄政府通过粮食税等市场机制建立工农联盟”，结合所学知识可知面对严重的经济和政治危机，苏俄政府实施的经济政策是新经济政策，B 项正确；战时共产主义政策实施的时间是 1918—1920 年，与材料时间不符，排除 A 项；社会主义工业化和农业集体化属于苏联模式的内容，排除 CD 项。故选 B 项。

35. 【答案】C

【解析】

【详解】结合所学知识可知，1942 年《联合国宣言》的发表标志着世界反法西斯联盟的建立，因此 C 正确，ABD 排除。故选 C。

36. 【答案】B

【解析】

【详解】依据材料“杜鲁门主义”，“马歇尔计划”，“德国分裂”，“北约成立”，“华约成立”，结合所学知识可知是冷战的表现，而华约的成立，标志着美苏两极对峙最终形成，B 项正确；材料涉及的是冷战，二战已经结束，排除 A 项；材料没有涉及社会主义国家的发展状况，排除 C 项；美国发动阿富汗战争是两极格局解体之后的事件，排除 D 项。故选 B 项。

37. 【答案】C

【解析】

【详解】根据材料及所学，可知二战后联邦德国的农业和工业人口比例下降，农业比工业下降快，服务业人口比例变化是最高的。随着科技技术的发展所带来的生产力的提高，资本主义国家的社会结构发生了变化，也反映产业结构的变化，C 项正确；第一次工业革命时期建立工厂制度，排除 A 项；第二次工业革命进入电气时代，排除 B 项；二战后 70 年代西方国家出现经济危机即“滞胀”现象，排除 D 项。故选 C 项。

38. 【答案】A

【解析】

【详解】根据材料可知，表格内容为亚非拉国家的民族独立大事件，说明世界殖民体系瓦解，A 项正确；材料中都是亚非拉国家，不是欧美国家，排除 B 项；材料内容与社会主义阵营无关，排除 C 项；民族独立运动不属于经济全球化，排除 D 项。故选 A 项。

39. 【答案】A

【解析】

【详解】依据材料“一部手机走天下”，结合所学知识可知进入 21 世纪，电子商务、移动支付、共享经济等便利了人们的生活，社会信息化趋势明显，A 项正确；材料未涉及文化的多样，排除 B 项；材料涉及的是社会信息化，未涉及世界多极化和区域经济集团化，排除 CD 项。故选 A 项。

40. 【答案】C

【解析】

【详解】依据材料“2014 年联合国统计数据显示，全世界最富有的 1% 人口拥有的资产占人类财富总量的近 40%，而最贫困的 50% 人口拥有的资产仅占 1%……”，可以看出全世界 1% 人口控制了大部分的财富，而最贫困的 50% 人口拥有的资产仅占 1%，可见贫富差距非常大，C 项正确；材料涉及的是贫富差距，未涉及生态环境问题，排除 A 项；材料未涉及粮食安全问题，排除 B 项；材料并没有涉及治理贪腐问题，排除 D 项。故选 C 项。

41. 【答案】(1) 类型：①文献史料，②图像史料，③实物史料。

特点：地域广，包括日本、东南亚、印度、阿拉伯等地区；领域多，涉及政治、文化、宗教、商品贸易等；双向交流，向印度学习佛法，中国的文化影响到日本，商品远销西亚等地。

(2) 措施：一口通商，指定行商代为管理对外贸易事务，限制外商在华活动，限制华人出海贸易。

影响：不利于对外贸易的发展，阻碍了中外交往，使中国逐渐落后于世界潮流。

(3) 主张：购买、试造西方船炮；通过引进西方先进生产技术，维护清朝统治。

(4) 示例：

序号：④⑤

主题：中国推动经济全球化

说明：2001 年，中国正式加入世界贸易组织，使中国更深层地参与经济全球化进程，参与国际规则的制定。

2013 年，中国提出“一带一路”合作倡议，为国际合作提供了新的平台和动力，中国逐渐从经济全球化的积极参与者变成更具影响力的推动者。

【解析】

【小问 1 详解】

类型：根据材料①《新唐书》属于文献史料，②壁画属于图像史料，③长沙窑瓷器属于实物史料。特点：根据材料“栗田（日本使臣）复朝”、“其副朝臣仲满慕华不肯去，易姓名曰朝衡，历左补阙、仪王友（官职名称）”、“榆林窟壁画《玄奘西行求法》”、“唐代商船中，发现的带阿拉伯人像的长沙窑瓷器”，从地域广、领域多、双向交流角度分析。

【小问 2 详解】

措施：根据材料二“一口通商，指定行商代为管理对外贸易事务，限制外商在华活动，限制华人出海贸易。”、“清政府禁止外商在广州过冬，……限制华人出海贸易”，可知清政府的措施是一口通商，指定行商代为管理对外贸易事务，限制外商在华活动，限制华人出海贸易。影响：结合所学，从对外贸易的发展、中外交往等分析说明。

【小问3详解】

主张：根据材料“购买外洋器物”、“购成之后，访募章思之士，智巧之匠，始而演习，继而试造，不过一二年，火轮船必为中外官民通行之物，可以剿发逆，可以勤远略”，可知洋务派购买、试造西方船炮。通过引进西方先进生产技术，维护清朝统治。

【小问4详解】

此问是开放式问题，选择两个相互联系的事件，提出一个主题，以历史阶段划分，新中国成立后50年代、70年代、21世纪。从维护世界和平和发展、推动经济全球化等角度来拟定主题。论述：论述要史实正确且充分，史论结合，逻辑严谨。

42. 【答案】(1) 主张：用法律约束和限制王权。

说明：1689年，英国议会颁布《权利法案》，扩大议会权力，限制王权。1701年，英国议会通过《王位继承法》，规定国王不得为天主教徒，也不能与天主教徒结婚。君主立宪制逐步形成。

(2) 原因：勤于学习，善于汲取他人经验，重视实践应用。

影响：解决了生产动力受自然条件限制的问题，推动了机器的普及；革新了动力技术，催生了交通工具的革命；使人类进入“蒸汽时代”。

(3) 创新：创立了唯物史观、科学社会主义理论和剩余价值学说。

意义：马克思主义的诞生，创造性地揭示了人类社会的发展规律，指导了国际工人运动的开展，推动了马克思主义政党在世界范围内的建立和发展，成为亚洲和美洲民族民主运动的重要思想武器。

(4) 示例：应辩证看待西方“福利国家”。

“福利国家”具有缓和收入分配不平等、稳定社会秩序的积极作用，但“福利国家”没能触动造成不平等和贫困的资本主义生产资料所有制，而且也存在加重国家财政负担等弊端。

因此，应重视发挥“福利国家”的积极作用，同时采取恰当措施，解决其弊端，在提高社会效益和维护社会公平之间寻求新的平衡。

【解析】

【小问1详解】

主张：根据材料“即用法律约束和限制行政权力(即王权)”可得出，用法律约束和限制王权。说明：结合所学可知，1689年，英国议会颁布《权利法案》，扩大议会权力，限制王权。1701年，英国议会通过《王位继承法》，规定国王不得为天主教徒，也不能与天主教徒结婚。君主立宪制逐步形成。

【小问2详解】

原因：根据材料“瓦特在中学学习了法语、希腊语，还自学了德语、意大利语”可得出，勤于学习；根据材料“他在格拉斯哥大学工作期间阅读了不少书籍，了解了关于蒸汽机发明的知识”可得出，善于汲取他人经验；根据材料“丰富的数学知识和实践经验”可得出，重视实践应用。影响：结合所学可知，瓦特改良的蒸汽机解决了生产动力受自然条件限制的问题，推动了机器的普及；革新了动力技术，催生了交通工具的革命；使人类进入“蒸汽时代”。

【小问3详解】

创新：根据材料“首次对唯物史观作了较系统的论述”“标志着科学社会主义的诞生”“创立了剩余价值理论”

可得出，创立了唯物史观、科学社会主义理论和剩余价值学说。意义：根据材料“阐述了共产主义取代资本主义的历史必然性”“指导国际工人运动健康发展”并结合所学可得出，马克思主义的诞生，创造性地揭示了人类社会发展规律，指导了国际工人运动的开展，推动了马克思主义政党在世界范围内的建立和发展，成为亚洲和美洲民族民主运动的重要思想武器。

【小问 4 详解】

根据材料“认为‘福利国家’巨大的日常开支成为国民经济中沉重的财政负担”“认为‘福利国家’实现了充分就业，实行了公平的财富和收入分配，创办了各种福利设施”可得出，应辩证看待西方“福利国家”。根据材料“实现了充分就业，实行了公平的财富和收入分配”“巨大的日常开支成为国民经济中沉重的财政负担”并结合所学知识，从“福利国家”的利和弊两方面进行分析即可。

关于我们

北京高考在线创办于 2014 年，隶属于北京太星网络科技有限公司，是北京地区极具影响力的中学升学服务平台。主营业务涵盖：北京新高考、高中生涯规划、志愿填报、强基计划、综合评价招生和学科竞赛等。

北京高考在线旗下拥有网站门户、微信公众平台等全媒体矩阵生态平台。平台活跃用户 40W+，网站年度流量数千万量级。用户群体立足于北京，辐射全国 31 省市。

北京高考在线平台一直秉承 “精益求精、专业严谨” 的建设理念，不断探索 “K12 教育+互联网+大数据” 的运营模式，尝试基于大数据理论为广大中学和家长提供新鲜的高考资讯、专业的高考政策解读、科学的升学规划等，为广大高校、中学和教科研单位提供 “衔接和桥梁纽带” 作用。

平台自创办以来，为众多重点大学发现和推荐优秀生源，和北京近百所中学达成合作关系，累计举办线上线下升学公益讲座数百场，帮助数十万考生顺利通过考入理想大学，在家长、考生、中学和社会各界具有广泛的口碑影响力

未来，北京高考在线平台将立足于北京新高考改革，基于对北京高考政策研究及北京高校资源优势，更好的服务全国高中家长和学生。



微信搜一搜

北京高考资讯