

北京市西城区 2015 — 2016 学年度第一学期期末试卷

高一历史

2016. 1

试卷满分:120 分 考试时间:100 分钟

A 卷【必修 模块 1】 满分 100 分

题号	1—50	51	52	53	总分
分数					


一、选择题（下列各题的四个选项中，只有一项符合题意。每小题 1 分，共 50 分）

1. 右图是 1974 年在北京房山琉璃河西周遗址中出土的青铜器董鼎，其铭文大意为燕侯派董前往宗周为召公奉献食物，并受到召公赏赐。该考古成果可用于研究

- A. 禅让制 B. 礼乐制
C. 分封制 D. 郡县制



董鼎



董鼎铭文

2. 宗法制是西周的一项重要政治制度。维系宗法制的纽带是

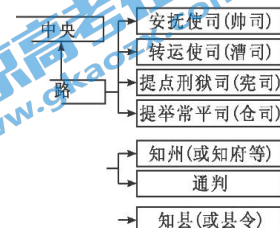
- A. 血缘 B. 地域 C. 信仰 D. 财产

3. 秦朝中央官制中，“执掌奏章，下达诏令，监察百官”的是

- A. 丞相 B. 御史大夫
C. 太尉 D. 治粟内史

4. 右图是一幅残缺的中国古代“地方机构示意图”。请依据留存信息，判断该图反映的朝代是

- A. 汉朝 B. 唐朝
C. 宋朝 D. 元朝



5. 中国古代中央与地方关系的变化，对政治制度影响甚大。下列各项为元朝加强中央集权的措施是

- A. 颁布推恩令 B. 设置节度使
C. 增设三司使 D. 实行行省制

6. 明朝裁撤中书省和丞相，以六部分理全国政务，直接对皇帝负责。此举目的是

- A. 增加六部权力 B. 扩大统治基础
C. 加强专制统治 D. 提高办事效率

7. 古希腊城邦的基本特征是

- A. 多为藩属关系 B. 小国寡民和独立自主
C. 城邦即为城市 D. 建立中央集权的国家

8. 公元前 5 世纪，罗马的《十二铜表法》规定：“如果有病或因年高有障碍，原告应提供车子。”“患重病……承审员、仲裁员或被告应另日诉讼。”这体现了古罗马法

- A. 保护私有财产
B. 维护弱者权益
C. 限制贵族权力
D. 扩大统治基础
9. 罗马法体系最终完成的标志是
A. 习惯法的形成
B. 《十二铜表法》的制定
C. 公民法的形成
D. 《查士丁尼民法大全》的编订
10. 有学者指出，1688年“光荣革命”开始了一个现代化的英国。这里“现代化”指的是
A. 《权利法案》颁布
B. 议会制度出现
C. 君主立宪制确立
D. 责任内阁制形成
11. 为实现“把权力关进制度的笼子里”，美国采取的重要举措是
A. 推行三权分立
B. 建立联邦制
C. 确立民主共和
D. 实行总统制
12. 法国共和政体最终确立的标志是
A. 资产阶级革命的爆发
B. 法兰西第一共和国的建立
C. 法兰西第二帝国建立
D. 《法兰西第三共和国宪法》颁布
13. 1877年，法国一家君主派报纸写道：“我们要把共和国和共和派搞成连猪狗都不吃的烂泥浆。”这段言论反映了法国
A. 地方割据势力强大
B. 共和道路艰难曲折
C. 共和派的力量强大
D. 政治体制不断完善
14. 18世纪德意志诗人席勒写下了这样的诗句：“德意志？它在哪里？我找不到那块地方。”席勒发出这样感叹的原因是
A. 四分五裂阻碍发展
B. 王朝战争破坏统一
C. 君主专制极端强化
D. 党派之争愈演愈烈
15. 俾斯麦在1881、1882年两次演讲中，明确宣称：“在普鲁士、在德国，皇帝代表了真正实际权力。”这主要表现在
① 德意志皇帝由普鲁士国王担任
② 帝国议会由成年男子选举产生
③ 联邦议会与帝国议会的召集、开会、延会、闭会之权属于皇帝
④ 皇帝有任免国家官吏之权，帝国宰相由皇帝直接任命，并对皇帝负责
A. ①②③
B. ①②④
C. ①③④
D. ②③④
16. 有人说，“就一般而言，历史事件随着时光流逝而意义日减。□□战争则不然。它是中国历史的转折，提出了中国必须近代化的历史使命。”这里的“□□战争”是指
A. 鸦片战争
B. 第二次鸦片战争
C. 甲午中日战争
D. 八国联军侵华战争
17. 英国强迫清政府签订不平等条约的内容中，严重破坏中国司法主权的条款是
A. 协定关税
B. 租赁土地
C. 领事裁判权
D. 片面最惠国待遇
18. 右图这对位于西城区文津街国家图书馆古籍馆



大门两侧的石狮，是1929年北平图书馆建馆时移置于此的圆明园残余石刻。1860年劫掠圆明园的主要侵略者是

- A. 俄国军队 B. 英法联军 C. 美国军队 D. 日本军队
19. 下列有关太平天国的史事中，能够体现时代发展潮流的是
- A. 制定《天朝田亩制度》 B. 进行北伐和西征
C. 发生了天京变乱 D. 颁布《资政新篇》
20. 梁启超指出：“吾国……直待台湾既割，二百兆之偿款既输，而鼾睡之声，乃渐惊起。”与文中所涉内容相关的不平等条约是
- A. 《南京条约》 B. 《北京条约》 C. 《马关条约》 D. 《辛丑条约》
21. “天无雨，地焦旱，全是教堂止住天。洋鬼子，尽除完，大清一统靖江山。”这样的标语出现于
- A. 禁烟运动 B. 太平天国运动 C. 义和团运动 D. 辛亥革命
22. 中国近代史上第一部资产阶级性质的民主宪法是
- A. 《钦定宪法大纲》 B. 《中华民国临时约法》
C. 《中华民国约法》 D. 《中华民国宪法》
23. 辛亥革命是中国近代史上重要的里程碑。其主要历史功绩是
- ①结束了君主专制制度 ②建立了资产阶级共和国
③驱逐了列强在华势力 ④终结了半殖民地半封建社会
- A. ①② B. ②③ C. ③④ D. ②④
24. 标志着中国新民主主义革命开端的事件是
- A. 辛亥革命 B. 五四运动 C. 中共“一大” D. 国民党“一大”
25. 想要参观中国共产党的诞生地，我们应该去
- A. 武汉三镇，参观军政府 B. 浙江嘉兴，看南湖游船
C. 贵州遵义，走长征路线 D. 陕北地区，游览瓦窑堡
26. 右图是浙江省杭州市的“血园陵”，这里安葬着北伐战争期间国民革命军第二十一师的阵亡将士，其中既有国民党员，也有共产党员。这座陵园见证了
- A. 黄花岗起义失败
B. 武昌起义的成功
C. 第一次国共合作
D. 长征的伟大胜利
- 
27. 1927年8月1日，周恩来、贺龙等率领革命军在南昌起义的重要历史意义是
- A. 标志着新民主主义革命开始 B. 打响了武装反抗国民党第一枪
C. 反抗外来侵略的第一次胜利 D. 建立了第一个农村革命根据地
28. 20世纪20年代，中国共产党开创了“农村包围城市”的革命道路。这一道路的开端是
- A. 中共“一大”召开 B. 第一次国共合作全面破裂

- A. 二月革命的发生 B. 《四月提纲》的提出
C. 七月事件的发生 D. 彼得格勒起义胜利
37. “天安门上望，城下人如海。举头红五星，共庆山河改。”陈毅这首诗真实记录了
- A. 五四运动 B. 北平和平解放
C. 开国大典 D. “文革”结束
38. 民族区域自治制度所体现的原则，包括
- ① 民族平等 ② 民族团结 ③ 共同繁荣 ④ 互相监督
- A. ①②③ B. ①②④
C. ①③④ D. ②③④
39. 中共十八届三中全强调“发展社会主义民主政治，必须以保证人民当家作主为根本”，更加注重“从各层次各领域扩大公民有序政治参与”。新时期创建的“扩大公民政治参与”的制度是
- A. 人民代表大会制度 B. 基层民主选举制度
C. 民族区域自治制度 D. 政治协商制度
40. 明确提出“一国两制”伟大构想的国家领导人是
- A. 毛泽东 B. 周恩来 C. 邓小平 D. 叶剑英
41. 20 世纪末，“一国两制”构想在我国先后成功实践的地区是
- A. 澳门、香港 B. 台湾、澳门
C. 香港、台湾 D. 香港、澳门
42. 2015 年 11 月 7 日，两岸领导人习近平、马英九在新加坡会面。这是 1949 年以来两岸最高领导人首次直接会面。在双方的致辞中，都不约而同地提到
- A. 坚持一个中国的原则
B. 实现海峡两岸“三通”
C. 台湾改变现有社会制度
D. 开始国共第三次合作
43. 由新中国提出，后来成为解决国与国之间问题基本准则的是
- A. 独立自主和平外交方针
B. 和平共处五项原则
C. 反对霸权维护世界和平
D. “求同存异”的方针
44. 照片记录了历史的瞬间。右图记录的 20 世纪 70 年代的中国外交成就是
- A. 与苏联等国家正式建立外交关系
B. 首次以五大国地位参加国际会议
C. 恢复联合国合法席位
D. 中日关系实现正常化



唐朝三省六部制示意图

(2) 依据所学, 完成唐朝三省六部制示意图。要求: 写出三省职能, 并以箭头线(“→”)标出中央职权部门之间的工作流程。(6分)

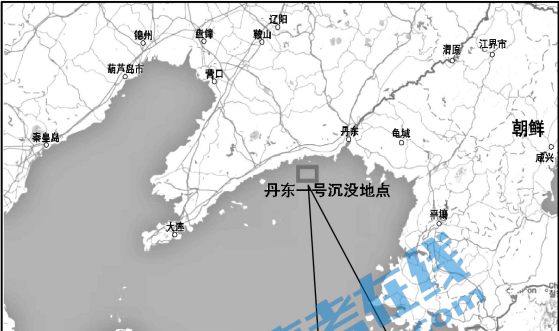

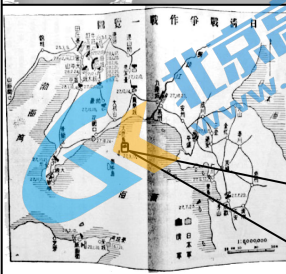

材料三 国初承前明旧制, 机务出纳悉关内阁, 其军事付议政王大臣议奏……雍正年间, 用兵西北, 以内阁在太和门外, 倥偬(官吏值勤)者多, 虑漏泄事机, 始设军需房于隆宗门内, 选内阁中书之谨密者入直缮写。后名军机处。地近宫庭, 便于宣召。为军机大臣者, 皆亲臣重臣。于是承旨出政, 皆在于此矣。

——赵翼《檐曝杂记》卷一

(3) 结合材料三和所学知识, 谈谈你对清朝军机处的认识。(5分)

52. (17分) 中华民族历经磨难, 自强不息, 实现伟大复兴的中国梦是近代以来中华民族的夙愿。阅读材料, 回答问题。

材料一 2013年至2015年, 我国进行了“丹东一号”的水下考古调查。

	 <p>2014年9月17日, 一门110毫米10管格林炮出水, 此与致远舰的装备一致。该炮是英国纽卡斯尔市阿姆斯特朗工厂制造, 被安装在致远和靖远两艘巡洋舰上。</p>
	<p>甲午战争中沉没在此交战海域的战舰有: 致远、致远、超勇、扬威等。</p> <p>考古队2015年获得一张日本所绘海图, 明确标注出致远舰、扬威舰的沉没位置。其中致远舰的位置, 与目前“丹东一号”的位置最为接近, 误差并不大于一千米。</p>  <p>2015年9月17日打捞出—批瓷片, 拼出一个瓷盘状, 瓷盘中心有两个篆字, 上面是“致”, 下面是“远”。最上面一行写着“CHIH Y ü AN”, 下方的半圆写着“THE IMPERIAL CHINESE NAVY”。</p>

(1) 结合材料一和所学知识, 从括号里选出一个适当的判断, 并找出相应的证据。(9分)

2013年, 丹东在开发新港的清淤中发现水下有异常磁力显示, 预测可能存在沉船。

2014年，考古人员发现了一艘体量在1600吨左右的沉船。初步探明，此船为1894年甲午战争中①（丰岛海战、黄海海战、威海卫战役）的沉没战舰，暂命名为“丹东一号”。

判断证据：_____。

2015年，经过考察出水文物和各领域专家的质询、讨论后，确认“丹东一号”沉船应为②。（经远舰、致远舰、超勇舰、扬威舰、靖远舰）

判断证据一：_____。

判断证据二：_____。

判断证据三：_____。

材料二

《民报》	虎门销烟	武昌起义	太平军抗击洋枪队	邓世昌	回民支队
国共北平和谈	淞沪会战	解放军占领南京	远征军赴缅作战	孙中山	三大战役

(2) 阅读上表，从“近代中国反侵略求民主”的某个侧面，选出3个关键词，提炼一个主题；再补充一个符合该主题的关键词。(6分)

要求：主题立意明确；关键词的选择应与主题保持逻辑上的一致性。示例用过的主题不能再用。

示例：主题：晚清抗击外来侵略

关键词：虎门销烟、邓世昌、太平军抗击洋枪队

补充：义和团抗击八国联军

(3) 结合材料一、二，概括近代中国努力实现民族复兴梦想的核心要素。(2分)

53. (18分) “民主政治”包含了很多不同的制度设计。阅读材料，回答问题。

材料一 一种政体如果要达到长治久安的目的，必须使全邦各部分的人民都能参加而怀着让它存在和延续的意愿。

——亚里士多德《政治学》

(1) 希腊_____城邦的民主是后世的典范。结合所学，说明伯利克里执政期间是如何实现“长治久安”。(4分)

材料二 将立法权交予代表民众的议会手中，这是近代英国宪政制度形成的第一步。而要实现真正的民主，避免议会滥用权力……还要把公共权力分散在不同机构和部门之中。

——摘编自魏建国《宪政体制形成与近代英国崛起》

(2) 依据材料二，概括英国宪政制度的特点。(4分)

材料三



美国全国性政府与州政府的权力划分表

全国性政府	州政府
发行货币 处理对外关系 管理州际商业 宣战组建并维持军事力量 建立低于最高法院的法院 接纳新州	管理州内商业 进行选举 维护公共卫生、安全和道德 建立地方政府 批准联邦宪法修正案 建立州民兵

——斯蒂芬·施密特等著《美国政府与政治》

(3) 上图是一位学生画出的对“美国 1787 年宪法”中联邦制的理解。请你结合上表和所学知识，指出这名学生对美国“联邦制”理解存在的问题，并加以解释。(6 分)

材料四 毛泽东说：“我们已经找到新路，我们能跳出这周期率。这条新路，就是民主。只有让人民来监督政府，政府才不敢松懈。只有人人起来负责，才不会人亡政息。”

——1945 年黄炎培《延安归来》

(4) 列举新中国成立后，在民主建设中体现“人民监督政府”的政治制度。(4 分)

B 卷 [学期综合] 满分：20 分

54	(1)	(2)	(3)	总分
分数				

54. (20 分) 历史学科核心素养是指逐步形成的具有历史学科特征的思维品质和关键能力。阅读材料，回答问题。

素养一：时空观念，指对事物与特定时间及空间的联系进行观察、分析的观念



图3 上海合作组织会徽

结盟运动会




图4 巴黎和会中国代表与英国首相会晤

图5 中美建立外交关系

图6 周恩来总理参加日内瓦会议

(1) 某班级制作历史墙报，题目是“现代中国外交风云”。请按时间顺序挑选出符合主题的图片资料，并说明你的理由。(8分)

素养二：历史价值观，指对历史的事实判断与价值判断的辩证统一。

1937年7月7日夜，在北京郊外的卢沟桥，发生了有人向日本军队开枪的事件。第二天，中国方面继续开枪，进入战斗状态。事件本身不过是一个小摩擦，虽然人们希望就地解决，但是与日本方面的冲突事件不断发生，解决变得困难起来。

——(日)扶桑版《新历史教科书》

1937年7月7日在北京郊外的卢沟桥，日本军突然地攻击的中国军。这样，所谓“七七”事变——日本对中国的宣不宣而战的战争——就开始了。”

——(日)井上清《日本的历史》

(2) 比较以上两段材料的不同之处，(4分)并指出不同的原因。(2分)

素养三：历史解释，指以史料为依据，以历史理解为基础，进行理性分析和客观评

断。


(3) 这幅漫画形象地描绘了欧洲的百年历程。结合所学，请你续写对漫画的理解，并为此作品起个适当的题目。(6分)

第一部分：1914年第一次世界大战爆发，欧洲分成协约国和同盟国两大阵营进行混战，遍地战火，欧洲经济受到重创。

第二部分：

第三部分：

题目：_____



北京市西城区 2015—2016 学年度第一学期期末试卷

高一历史参考答案

2016.1

一、选择题（每小题 1 分，共 50 分）

1	2	3	4	5	6	7	8	9	10
C	A	B	C	D	C	B	B	D	C
11	12	13	14	15	16	17	18	19	20
A	D	B	A	C	A	C	B	D	C
21	22	23	24	25	26	27	28	29	30
C	B	A	B	B	C	B	D	C	A
31	32	33	34	35	36	37	38	39	40
D	D	B	C	D	C	C	A	B	C
41	42	43	44	45	46	47	48	49	50
D	A	B	C	A	D	A	C	B	D

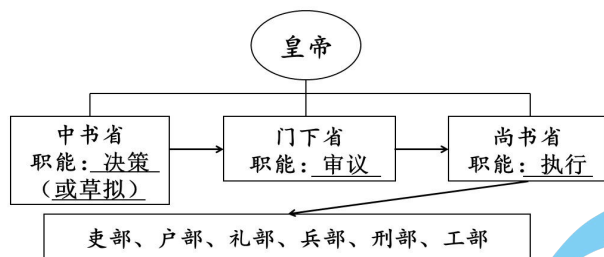
二、综合题（51 题 15 分、52 题 17 分、53 题 18 分，共计 50 分）

51. 答案要点

(1) 措施：任用侍从、秘书、亲戚（或建立内朝），让他们参与军国大事。（2分）

目的：削弱相权，加强皇权。（2分）

(2) (职能每空各 1 分, 箭头线各 1 分)



(3) 认识: 清初仿明朝制度, 奏章票拟由内阁负责, 但军国机要由议政王大臣会议控制, 皇权受到很大限制。雍正为办西北军务, 设军机处。(2 分)

军机处由因事而设变为常设机构, 它使内阁、议政王大臣会议等机构的权力再分化, (1 分) 最终军国大事由皇帝一人裁决, 君主专制达到顶峰, 中央集权进一步巩固。(2 分)

(学生能从军机处的设立背景、职能、作用或影响等多角度谈认识, 即可酌情给分)

52. 答案要点

(1) ①黄海海战。(2 分)

判断证据: “丹东一号”的沉船位置在丹东黄海海域, 这里曾是 1894 年甲午中日战争中

黄海海战的交战区域。(2 分)

②致远舰。(2 分)

判断证据一: 日本所绘海图标识的致远舰沉没地点与发现“丹东一号”的位置最为接近。(1 分)

判断证据二: 2014 年的打捞中发现了一门 11 毫米 10 管格林机关炮, 致远舰和靖远舰配有, 但靖远舰并未沉没在丹东黄海海域。(1 分)

判断证据三: 2015 年再次打捞“丹东一号”, 发现了写有“致远”中英文字款识的瓷盘。

(1 分)

(2) 参考答案: (主题 2 分, 3 个关键词各 1 分, 补充词 1 分)

主题一: 辛亥革命求民主

关键词: 《民报》、武昌起义、孙中山

补充: 中国同盟会

主题二: 全民族抗战

关键词: 淞沪会战、回民支队、远征军赴缅作战

补充: 百团大战

主题三: 新民主主义革命胜利

关键词: 三大战役、国共北平和谈、解放军占领南京

补充：渡江战役

(3) 核心要素：坚持走民主革命的道路；全民族团结一致抵御外敌侵略的决心；爱国主义为核心的民族精神；等等。（答出两点即给 2 分）

53. 答案要点

(1) 城邦：雅典。（1 分）

措施：成年男性公民可以担任几乎一切官职；参加公民大会；扩大五百人议事会职能；

陪审法庭成为最高司法与监察机关；向参政公民发放工资；发放观剧津贴；等等。

（每点 1 分，答出三点即给 3 分）

(2) 特点：代议制民主；分权制衡。（4 分）

(3) 问题：图画仅强调了美国维护统一的重要性，没有表现出联邦制的特点。（2 分）

解释：联邦制国家的特点是中央集权和地方分权相结合，（2 分）联邦政府拥有政治、经济、军事和外交大权，各州在不违背宪法的前提下有一定的自治权，（1 分）联邦权力高

于各州权力。（1 分）

(4) 政治制度：人民代表大会制度、中国共产党领导的多党合作和政治协商制度。（4 分）

54. 答案要点

(1) 符合主题的时间排序：图 1、图 6、图 5、图 3。（2 分）

挑选理由：“现代中国外交”指的是 1949 年到今天的中国外交发展历史，图 1、图 6、

图 5、图 3 符合这一主题要求。（2 分）图 2 不结盟运动，中国虽然奉行不结盟政策，但是没

有正式加入不结盟运动。（2 分）图 4 巴黎和会，涉及的是中国近代外交，（2 分）所以图 2

和图 4 不符合主题要求。

(2) 不同：一方指责中国挑起了战争，推卸日本的战争责任，否定历史；（2 分）另一方则

基于史实，承认是日本发动的侵华战争。（2 分）

原因：不同的价值观，使编写者对事实做出了不同的判断。（2 分）

(3) 第二部分：二战结束后，欧洲陷于美苏的全面“冷战”对峙中，虽然战争最终没有爆发，但加剧了紧张的局势，欧洲国家的关系出现了裂痕。（2 分）

（或：二战后，欧洲国家联系日益紧密，逐渐走上联合的道路，1967 年成立了欧洲共

同体，经济合作不断加强。图中的裂痕表示关系正在愈合）

第三部分：冷战结束后，欧洲的一体化向纵深发展。1993 年欧洲联盟正式成立，欧洲

走向统一。(2分)

题目：“从战争到联合”或“从分裂到联合”。(2分)

(开放性试题，史实准确，逻辑清晰，言之成理即可)



扫描二维码，获取更多期末试题



长按识别关注

