

秘密★启用前

文科综合

注意事项:

1. 答卷前,考生务必将自己的姓名、准考证号等填写在试卷和答题卡指定位置上。

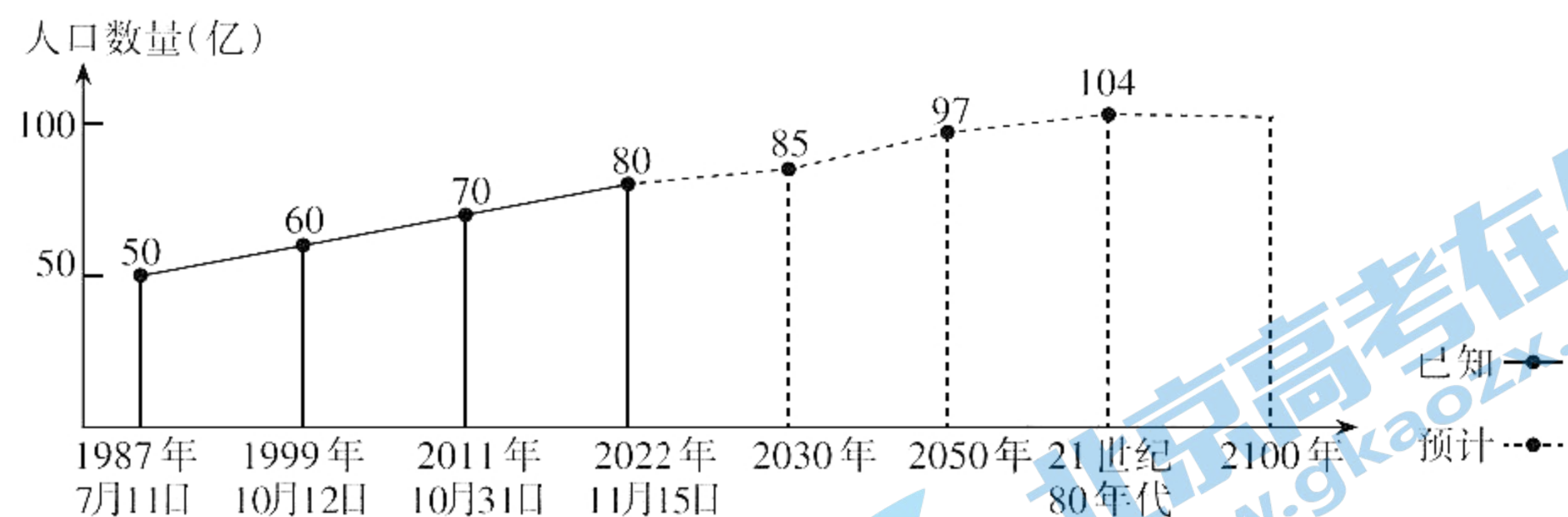
2. 回答选择题时,选出每小题答案后,用2B铅笔把答题卡上对应题目的答案标号涂黑。如需改动,用橡皮擦干净后,再选涂其他答案标号。回答非选择题时,将答案用0.5mm黑色笔迹签字笔写在答题卡上,写在本试卷上无效。

3. 考试结束后,将本试卷和答题卡一并交回。

一、选择题:本题共35小题,每小题4分,共140分。在每小题给出的四个选项中,只有一项是符合题目要求的。

(说明:地理部分为第1~11题,共44分;思想政治部分为第12~23题,共48分;历史部分为第24~35题,共48分)

2022年11月15日全球人口达到80亿,标志着人类发展越过一个重要的里程碑,但也为人类可持续发展带来了压力与考验。联合国早前发布的《世界人口展望2022》报告显示,预计到2030年全球人口将增长至85亿左右,2050年达到97亿,21世纪80年代达到约104亿的峰值,并保持这个水平到2100年。下图示意世界人口增长趋势。据此完成1、2题。



1. 世界人口持续增长的根本原因是

- A. 生产力发展
- B. 自然增长率上升
- C. 资源量增加
- D. 城市化水平提高

2. 2022年11月15日世界人口增至80亿,意味着

- A. 人口红利增大
- B. 人口结构优化
- C. 环境污染加剧
- D. 人均寿命延长

公路运输是我们出行最常用的运输方式。青藏公路是世界上第一条高原公路,平均海拔约4000米。与一般公路不同的是,青藏公路有很多路段两侧立有热棒,有斜插和直插两种,其中地上部分高度为2~4米,地下部分可达8米,且这种路段路面往往起伏不平,被称为“搓板路”。下图示意青藏公路热棒照片。据此完成3~5题。



3. 青藏公路有热棒出现的路段多

- A. 横风
- B. 团雾
- C. 沉降
- D. 滑坡

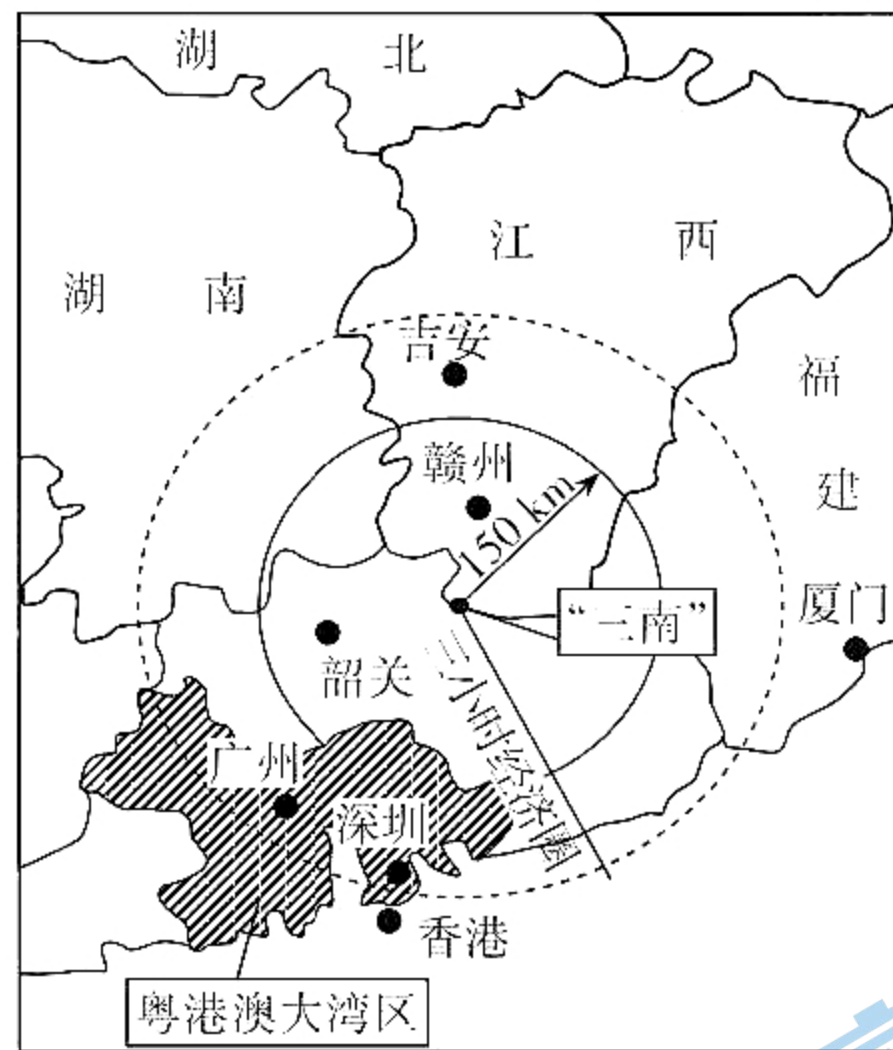
4. 热棒出现的路段路面起伏不平的主要原因是

- A. 升降作用显著
- B. 反复冻融
- C. 风力侵蚀强烈
- D. 车辆碾压

5. 与直插相比,青藏公路热棒斜插的优点是

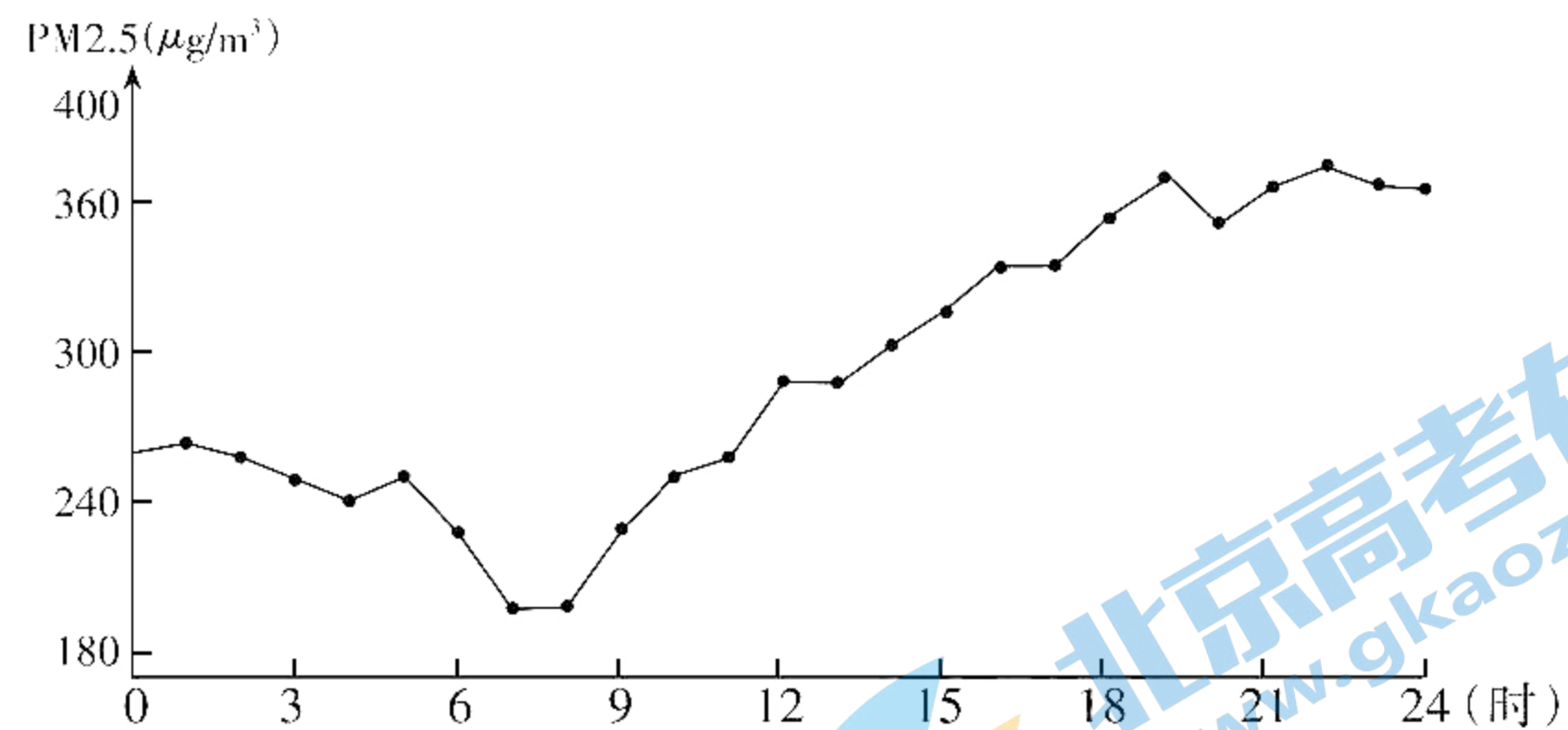
- A. 稳定性强
- B. 防止事故多发
- C. 美观好看
- D. 降温效果明显

“三南”是龙南、全南、定南的简称,地处赣之南、粤之北,是江西对外开放的南大门,处于粤港澳大湾区一小时经济圈内,在稀土发光材料、永磁材料等多种电子信息产业基础性材料加工方面具有优势。在推动“三南”区域一体化发展,承接粤港澳大湾区电子信息产业转移,并融入泛珠三角经济圈、粤港澳大湾区国家发展战略上具有得天独厚的区位优势。下图示意“三南”的地理位置。据此完成6~8题。



6. 影响“三南”地区区域一体化发展的主要区位因素是
- A. 地理位置
B. 产业结构
C. 自然资源
D. 劳动力
7. “三南”地区成为粤港澳大湾区电子信息产业转移的重要承接地的主要原因是
- A. 水陆交通便利
B. 市场需求量大
C. 产业关联性好
D. 科技研发实力强
8. “三南”地区承接粤港澳大湾区电子信息产业可
- A. 提高区域城市等级
B. 平衡劳动力空间分布
C. 改善区域环境质量
D. 实现经济高质量发展

L城市位于山区南部的平原地区。外来污染源的输送及当地山谷风的扩散作用是影响当地PM_{2.5}浓度变化的主要因素。下图示意某年10月7日L市PM_{2.5}浓度的变化情况。据此完成9~11题。




9. 外来污染源位于L城市的
- A. 东部
B. 南部
C. 西部
D. 北部

A

10. 该日7~8时L城市污染浓度最低的主要原因是
- A. 山风扩散了城市污染物
B. 大气对流旺盛
C. 外来污染物排放量较少
D. 山区空气清新
11. 由山风转谷风的时间段是
- A. 3~4时
B. 9~10时
C. 15~16时
D. 21~22时
12. 人民英雄纪念碑基座上八幅浮雕,反映了近代以来中华民族为抵御列强侵略英勇抗争,实现国家独立、民族解放而不屈不挠的斗争精神。其中,反映新民主主义革命时期的是



①金田起义



②武昌起义



③南昌起义



④胜利渡长江

- A. ①②
B. ①③
C. ②④
D. ③④
13. 党的百年奋斗成功道路是党领导人民独立自主探索开辟出来的,马克思主义的中国篇章是中国共产党人依靠自身力量实践出来的,贯穿其中的一个基本点就是中国的问题必须从中国基本国情出发,由中国人自己来解答。这启示我们要坚持
- A. 人民至上
B. 自信自立
C. 守正创新
D. 胸怀天下
14. 2022年9月1日,国资委召开的巩固深化国企改革三年行动补短板强弱项专题推进会指出,加大对上市公司的授权放权力度。国有控股股东按出资比例和公司章程依法合规履行出资人职责,不通过行政方式干预上市公司经营自主权。优先在上市公司全面依法落实董事会各项职权。这样做的依据是
- ①科学的公司治理结构能提高国有资产运行效率
②优化民营企业发展环境和保护民营企业的产权
③国有企业是党执政兴国的重要支柱和依靠力量
④国有经济是中国特色社会主义制度的重要支柱
- A. ①③
B. ①④
C. ②④
D. ③④

15. 世界艾草看中国,中国艾草看蕲春。该县通过“农户+基地”的模式,建设形成246个百亩以上蕲艾连片基地;实施蕲艾科技研发创新工程,逐步完善蕲艾种植、加工、研发、仓储、流通全产业链。2021年蕲艾产值达80.88亿元,带动从业人员30万人,人均可支配收入进一步增加。这表明乡村振兴需要
- ①大力发展乡村特色产业,拓宽农民增收致富渠道
②保障农户的土地所有权,发展农业适度规模经营
③充分利用土地资源,赋予农民更加充分的财产权益
④实施农村产业融合发展,促进就业和推动产业升级
- A. ①② B. ①④ C. ②③ D. ③④
16. 黄文秀,2016年北京师范大学硕士毕业,2018年担任广西百色乐业县百坭村的驻村第一书记。从进村开始,她就努力融入当地生活,挨家挨户走访,学会了桂柳方言,在一年多的时间里,她帮村里引进了砂糖橘种植技术,教村民做电商;协调给每个村建起了垃圾池。在黄文秀任上,百坭村103户贫困户顺利脱贫88户,村集体经济项目收入翻倍。这对共产党员的启示是
- ①践行党的宗旨,发挥先锋模范作用 ②坚定理想信念,坚守共产党员追求
③勇于自我革命,始终走在时代前列 ④坚持民主执政,不忘初心牢记使命
- A. ①② B. ①③ C. ②④ D. ③④
17. 某地积极落实村级重大事项和重要问题“四议两公开”工作机制和村民会议、村民代表会议、“两委”联席会议等制度,推行自然村(屯)“一组两会”、党群议事会等基层民主协商自治机制,保障群众知情权、参与权和决策权。以群众认同、群众参与、群众满意作为根本要求,建立新《村规民约》,为实现乡村治理提供制度保障。这一做法
- ①丰富了基层民主的实践形式,发挥了村民的主体作用
②完善基层直接民主制度体系,加强巩固基层民主政权
③健全基层群众自治机制,推动基层协商民主机制创新
④扩大了公民权利,在村民互动中提高了乡村治理效能
- A. ①② B. ①③ C. ②④ D. ③④
18. 青年强,则国家强。当代中国青年生逢其时,施展才干的舞台无比广阔,实现梦想的前景无比光明。这说明
- ①青年在国家富强的基础上才能发展自己
②青年要抓住机遇,努力学习,增长才干
③青年要脚踏实地,施展才干,在奋斗中绽放青春
④青年要站在时代舞台,怀揣梦想,享受美好生活
- A. ①② B. ③④ C. ①④ D. ②③
19. 2022年11月28日,第四届世界科技与发展论坛发布了“2022年度人类社会发展十大科学问题”。这些重大科学问题,既是国际科技界的共同关注,也是人类可持续发展面临全球性挑战的重要方面。全球科学家共同努力,采取切实有效的行动,能够更好地增进人类福祉。材料说明

- ①文化具有引领风尚、教育人民的功能
②对待传统文化要取其精华、去其糟粕
③文化交流是文化发展的重要动力
④文化发展必须要坚持以人民为中心

A. ①② B. ③④ C. ①④ D. ②③

20. 主要资本主义国家国家元首和政府首脑称谓对比

国家	国家元首	政府首脑
美国	总统	总统
英国	国王	首相
德国	总统	总理
法国	总统	总理

结合图表和所学,可知

- ①只有美国的政体是总统制 ②政府首脑对国家元首负责
③英国和德国都实行议会制 ④德国和法国是相同的政体

A. ①③ B. ①④ C. ②③ D. ②④

21. 第8批赴南苏丹(朱巴)维和步兵营自2021年12月部署至南苏丹任务区以来,全营官兵圆满完成15次长巡、24次短巡、11次武装护卫、216次城巡,累计行驶里程2.7万余公里,开展军民协调活动40余次,妇女儿童权益保护活动30余次,得到联合国驻南苏丹特派团以及当地政府的肯定与赞扬。这表明中国

- ①对外活动的最终目的是维护我国的国家利益
②支持符合《联合国宪章》宗旨和原则的行动
③坚持用和平共处五项原则来处理国际问题
④是维护世界和平与稳定的积极因素和坚定力量

A. ①② B. ①③ C. ②④ D. ③④

22. 2022年12月23日,陕西汉中市场监管局接到群众反映,有人在某短视频平台直播赠药。据了解,之所以选择直播赠药,是因为当事人知晓了目前药品短缺的情况,决定将药品免费赠送给有需要的发热患者。至于所售药品,也都是当事人自行从合法渠道购买。对此事,评价正确的是

- ①该行为是民事违法,应受罚款处罚 ②药品不是普通商品,不得随意赠送
③天下没有免费午餐,需要刑罚处罚 ④当事人赠药的行为,善心值得肯定

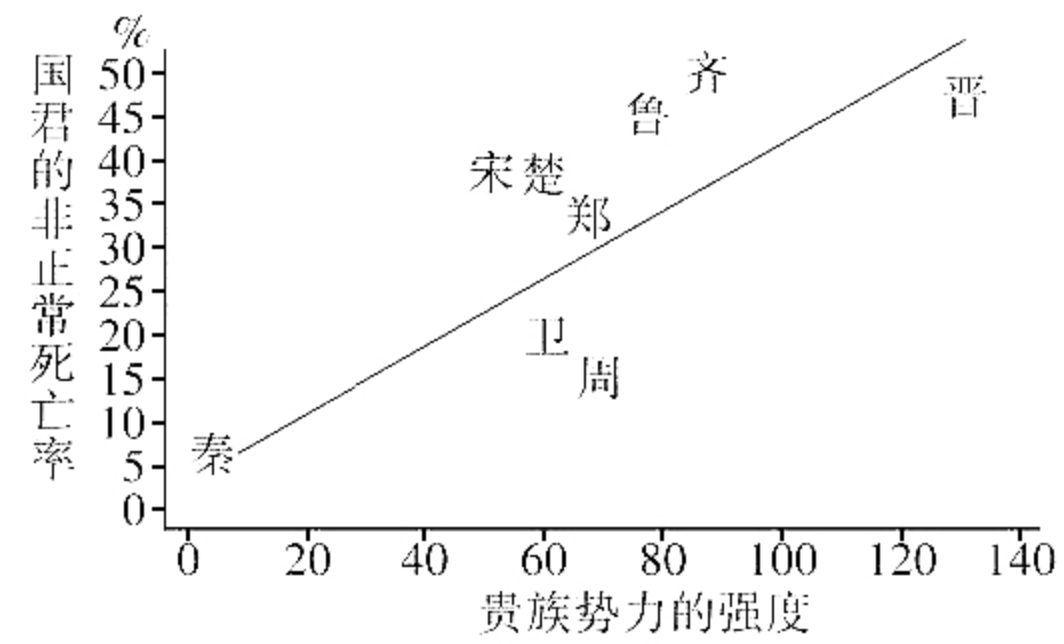
A. ①② B. ①③ C. ②④ D. ③④

23. 长方形是有一个角是直角的平行四边形。这个概念

- ①采用种差加属的定义方法 ②被定义项是长方形
③定义项和被定义项外延全同 ④子项的外延等于母项的外延

A. ①② B. ③④ C. ①④ D. ②③

24. 下图为春秋时期主要国家的国君非正常死亡率与该国贵族势力强度的关系。据此可知,春秋时期



- A. 分封制度得到了充分发展
B. 中央集权制度已经普遍确立
C. 诸侯争霸让位于国内斗争
D. 贵族势力发展加速政治转型
25. 据秦简记载,秦始皇二十八年(前219),贰春乡需要向朝廷上交的岁赋为“白翰”“黑翰”“明渠鸟”“鹭鸟”等若干只,于是乡守令乡吏和刑徒进行捕捉。这说明秦朝
- A. 政府对刑徒的管理较宽松
B. 统治阶级生活奢靡腐化
C. 对基层社会形成有力控制
D. 赋税征收以上特产为主
26. 宋代以前,茶文化几乎是上层人士的专利;宋代饮茶风气极盛,“君子小人靡不嗜也,富贵贫贱无不用也”“茶之为民用,等于米盐,不可一日以无”。这反映了宋代
- A. 茶叶种植已经推广全国
B. 经济发展改变生活方式
C. 文人生活理念逐渐普及
D. 粮食问题基本得到解决
27. 清政府建立了全国性的粮价奏报系统和雨泽奏报系统,而且形成经常奏报和不规则奏报两种形式。经常奏报要经过层层上报的一套程序,不规则奏报则没有固定的奏报人员、程序、时间和格式。上述举措
- A. 有助于提高施政效果
B. 扩大了地方行政权力
C. 完善了农业生产体系
D. 有效解决了民生问题
28. 1895年8月2日,光绪帝下诏:“中国原有局厂经营累岁,所费不貲,办理并无大效;亟应从速变计,招商承办,方不致有名无实。……一切仿照西例,商总其事,官为保护。若商力稍有不足,亦可借官款维持。”由此可知,光绪帝意在
- A. 引进西方的股份制度
B. 大力扶持私营企业的发展
C. 加强对洋务企业控制
D. 变革官办企业的经营方式
29. 中国共产党在敌后抗日根据地开发、改造秧歌戏,工农兵成了舞台的主角,戏中恶徒是日本兵、汉奸及其他妨害政治经济进步的反社会分子,英雄是八路军、民兵和模范工作者等。这一做法的主要目的是
- A. 凝聚团结抗战的力量
B. 配合减租减息土地政策
C. 提升军民的文化水平
D. 打击根据地的恶霸势力

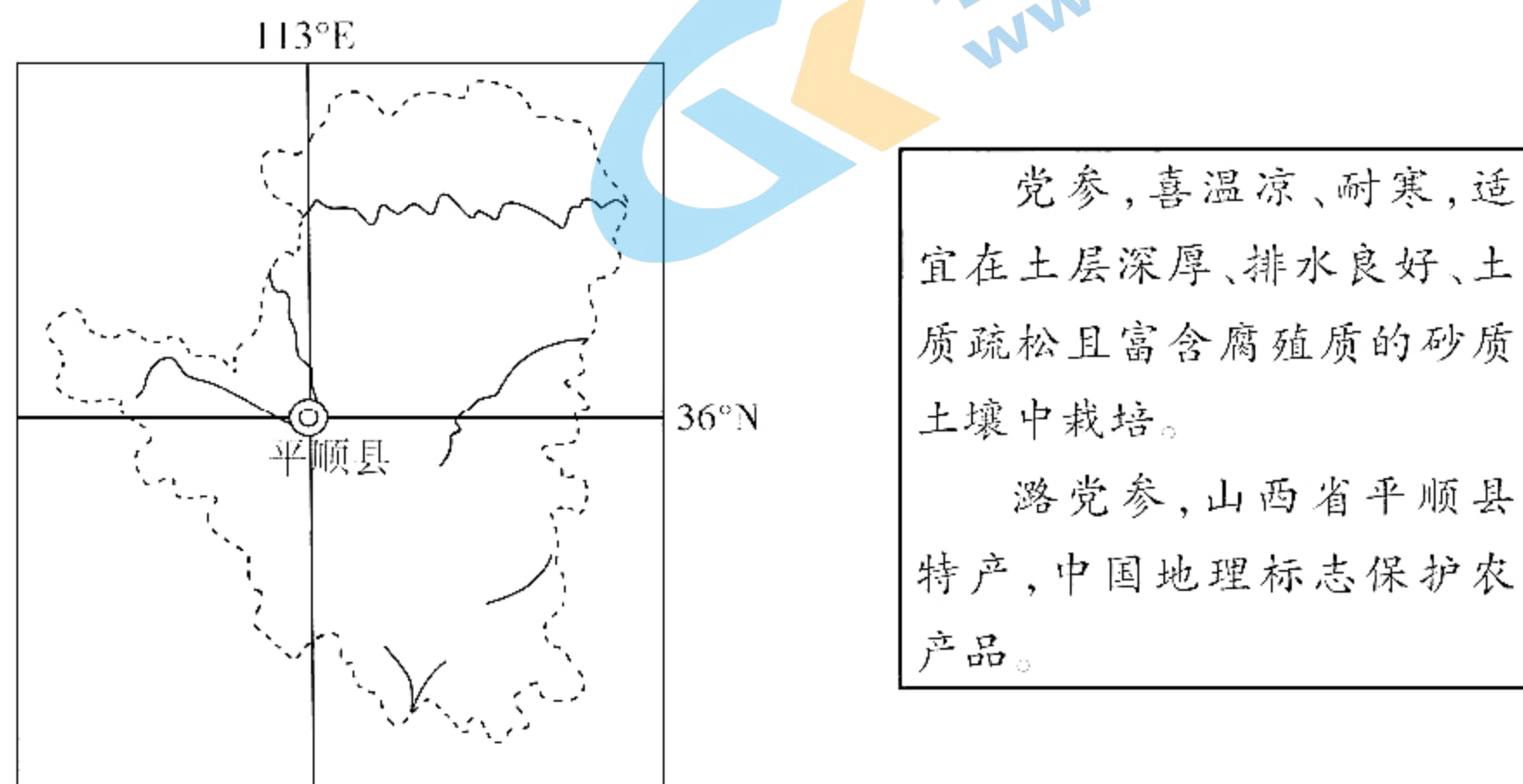
30. 据记载,屋大维(公元前63—公元14)统治期间罗马城的建设活动有39次,其中有5次修建政治性建筑,包括王宫、举行议会的会堂、凯旋门等;有17次修建或修复神庙;有17次基础设施建设,包括浴场、剧场、大道、水渠等。据此可知,当时罗马城的修建
- A. 体现传承与创新的理念
B. 深受民主政治的影响
C. 适应了强化神权的需要
D. 凸显帝国至上的思想
31. 英国启蒙思想家洛克认为,像北美原住民那样的群体,并没有运用理性来劳动的能力,因此他们生存的地方,就理应让当时具有充分劳动能力的英国资产阶级那样的群体去占有。洛克的观点可以说明
- A. 启蒙程度决定历史判断
B. 地域因素制约历史研究
C. 个人立场影响历史认知
D. 文明水平左右历史结论
32. 11—13世纪左右,西欧一些城市的市民组织成立了一系列体育社会团体,如“射手协会”“击剑协会”“骑射协会”等,这些团体组织了保卫城市的军事训练、与职业培训相关的学徒格斗和底层市民的节日狂欢等活动。这些团体的成立
- A. 有利于城市自治运动的发展
B. 使市民获得管理城市的权力
C. 进一步弘扬了欧洲骑士精神
D. 开启了中古欧洲的体育教育
33. 16世纪初的思想家伊拉斯谟在《愚人颂》中写道:“神父们宣称‘草草背出祷告词,就算是合宜地履行了职责’;假如上帝能听到或听懂他们虚弱无力的祷告,我将十分惊讶。”他的著作《基督徒战士手册》号召弱化圣礼的重要性,并为人们的道德生活提供指导。这反映出伊拉斯谟
- A. 改变了基督教的基本教义
B. 揭开了宗教改革运动的序幕
C. 对教会进行人文主义批判
D. 突破了文艺复兴思想的界限
34. 一战后的巴黎和会上,波兰希望恢复第一次被瓜分前的领土,英国首相不同意将当时属于德国的西里西亚无条件割让给波兰,提出该地去留由当地居民投票决定,最终西里西亚由波兰和德国各占一部分。据此推知,英国
- A. 阻扰波兰实现统一
B. 试图维持大陆均势
C. 独掌了国联话语权
D. 践行人民主权学说
35. 世界贸易组织数据显示,1980—2020年,全球服务贸易年均增速达到6.48%,超过货物贸易年均增速约1%,超过全球经济年均增速1.2%。这反映出
- A. 世贸组织垄断国际贸易
B. 民众货物消费能力下降
C. 第三产业产值稳居第一
D. 科技发展影响国际贸易

二、非选择题:本题共10小题,共160分。

(说明:地理部分2题,共56分;思想政治部分5题,共52分;历史部分3题,共52分)

36. 阅读图文材料,完成下列要求。(28分)

山西省平顺县位于太行山南端,境内多山地丘陵,农业自然资源丰富,盛产潞党参,有“潞党参之乡”的美誉。平顺县潞党参种植、加工历史悠久,品质优良,是党参中的精品,有“党参之王”之称。在国家现代农业产业园创建中,平顺县采用“公司+基地+农户”的产业发展模式,立足潞党参的资源禀赋,围绕产品、品牌、营销、联农益农等节点科学攻关,高标准、高起点建设了全国中药材生产基地和全国中医药康养基地,为县域产业振兴乃至乡村振兴提供了强力支撑。

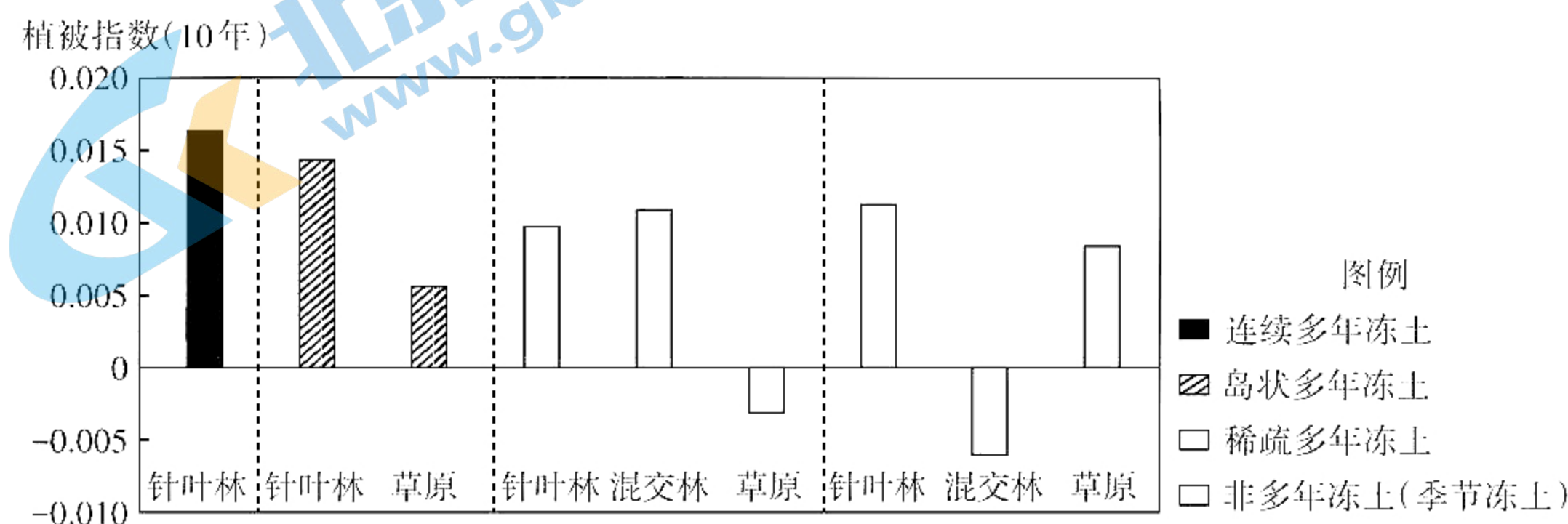


- (1)简述平顺县潞党参生长的自然条件。(6分)
- (2)简析平顺县潞党参成为中国地理标志保护农产品的原因。(6分)
- (3)说出“公司+基地+农户”的发展模式在开发利用潞党参方面的益处。(8分)
- (4)说明平顺县大力发展以潞党参为主的中药材产业推动乡村振兴带来的启示。(8分)

37. 阅读图文材料,完成下列要求。(28分)

植被指数可以监测植被生长状态、植被覆盖度等,不仅反映其环境变化,也反映了不同植被分布范围的变化。一般情况下,植被指数数值越大,表明植被生长状态越好、植被覆盖度越高。1981—2014年,受全球气候变暖的影响,我国东北地区多年冻土破碎化程度逐渐增加,植被指数发生了很大变化。多年冻土区针叶林的植被指数与生长

季温度呈正相关,与生长季降水量呈负相关,针叶林的主要树种大多为浅根系。下图示意我国东北地区不同分区生长季植被指数年际变化率均值。



- (1)描述我国东北地区不同分区生长季植被指数的变化特点。(8分)
- (2)解释季节冻土区草原植被指数较大的理由。(4分)
- (3)简析连续多年冻土区针叶林的植被指数最高的主要原因。(6分)
- (4)说出混交林在稀疏多年冻土和季节冻土区植被指数变化与气候(温度和降水)的相关性。(4分)
- (5)受全球气候变暖的影响,推测我国东北地区针叶林和草原分布的变化。(6分)

38. 阅读材料,完成下列要求。(10分)

G省12348热线是全国首个省级统筹、提供全省覆盖电话法律咨询服务的热线。该省司法厅不断推动热线服务优化升级。实现12348热线与12345政务服务热线话务直接互转,接通率超过95%,通过人工服务主动将37465宗群众诉求引导至“律师服务”“法律援助”“公证办理”等渠道处理,办结率达99.6%。

12348热线积极引导群众通过法律途径解决劳资纠纷,累计为群众提供劳动争议纠纷咨询113.2万次,服务量年均增长23%。同时,将农民工、残疾人、老年人、未成年人、妇女和军人军属、退役军人等作为公共法律服务的重点服务对象,提供精准高效的公共法律服务。上线开通7年816万次服务,服务量年均增长24.5%,群众满意度持续保持在99.4%以上。

结合材料,运用《政治与法治》知识,分析说明12348热线在法治中国建设中的重要意义。

39. 阅读材料,完成下列要求。(10分)

2016年,我国财政部、自然资源部、生态环境部共同发起山水林田湖草沙一体化保护和修复工程,简称“山水工程”。2016—2020年,我国实施了河北京津冀水源涵养区、陕西黄土高原等25个山水工程。这些工程,分布于中国“三区四带”生态安全屏障区域的关键生态节点,通过因地制宜选择保护保育、自然恢复、辅助再生、生态重建的技术模式,保护恢复了多种类型的生态系统。截至2021年底,已累计完成生态保护和修复面积约200万公顷。

结合材料,分析“山水工程”成效显著的哲学原因。

40. 阅读材料,完成下列要求。(10分)

在国际分工条件下,若贸易受到限制就可能被“卡脖子”;若某产品在国际市场供给短缺,而国内又对其存在“刚需”,也容易被“卡脖子”。一些关键核心技术“产品”虽可规模化生产,如西方国家不卖给我们的芯片、光刻机、数控机床等高科技产品,供给并不短缺,但也卡了我国的“脖子”。习近平总书记强调,核心技术、关键技术,化缘是化不来的,只能靠自己拼搏。

有人认为,正是国际分工的存在,产生了“卡脖子”现象,因此,我们不参与国际分工,就能解决这一问题。结合材料,运用《当代国际政治与经济》相关知识评析这一观点。

41. 阅读材料,完成下列要求。(12分)

2018年,14岁的小朱使用他妈妈张某的手机,下载安装了一家网络公司的游戏。在使用过程中,小朱瞒着妈妈,以微信支付的方式,多次充值消费,先后花了九千多元。进行充值消费后,小朱还将扣款通知短信全部删除。2019年10月,张某去银行查询余额时才发现孩子玩游戏充值一事。此后,张某多次与该网络公司沟通要求退款,均被拒绝。最后张某只能向法院起诉。

(1)结合材料,运用《法律与生活》中民事行为能力的知识,分析本案中未成年人利用母亲手机充值消费的钱能否要回。(6分)

(2)结合材料,运用《法律与生活》中维权的知识,分析面对未成年人网络消费纠纷多发的态势,家庭该做些什么。(6分)

42. 阅读材料,完成下列要求。(10分)

中国式现代化是人口规模巨大的现代化、是全体人民共同富裕的现代化、是物质文明和精神文明相协调的现代化、是人与自然和谐共生的现代化、是走和平发展道路的现代化。

推进中国式现代化是一个系统工程。党的领导决定中国式现代化的根本性质,只有毫不动摇坚持党的领导,中国式现代化才能前景光明、繁荣兴盛。

运用《逻辑与思维》知识,分析材料是如何遵循逻辑思维规则的。

43. 阅读材料,完成下列要求。(25分)

材料一 从秦汉开始,药材随着商旅沿着丝绸之路流布世界各地,《马可·波罗行纪》中有肃州生产、贩卖中药材的记载。13世纪的波斯宰相拉什德曾派年轻医生远行中国学习中医学,并用波斯文写成了系统介绍中国科学与医学成就的《唐苏克拉玛》。17世纪40年代来华传教士卜弥格深入研究《黄帝内经》《伤寒论》等中医典籍,著有《中国医药概说》《中国诊脉秘法》等书,全面介绍了中医理论和临床知识。1688年,俄国人到中国学习种痘术,之后传到了西欧,盛行一时。19世纪,《英国医学杂志》相继报道了中国针灸疗法。20世纪,法国人苏理莫昂专门从事针灸临床与教学,著有《真正的中国针灸术》。中医只是西方医疗的补充手段,西方民众只是选择性地接受了具有东方地域特征的药材和针灸。

——摘编自王亚丽等《从中医西传看中西文化交流》

材料二 明朝末年,伴随着耶稣会士的传教活动,具有近代意义的西方医学逐渐进入中国,当时传入的主要是解剖学、生理学知识。19世纪,医学处于蓬勃发展阶段,特别表现在与中医学相较更有实力的外科学上,如白内障手术、乙醚麻醉法等。一些有见识的中医学家已开始了融通中西医的活动。清朝末年,伴随着剧烈的社会变革,中国开始自办医学校,如京师大学堂开设医学科和医学实业馆。医疗保健制度、公共

卫生与防疫等也开始仿效西方施行。到1912年,随着共和政府的建立,万象更新,现代医事制度也随之确立,西医大行其道,传统的中医被屏蔽于这一系统之外。20世纪二三十年代,有人甚至提出“废止中医案”,中医界据理力争,如张锡纯主张中西医理相同,应取长补短,和衷共济。

——摘编自罗曼《西医东渐及其与中医的碰撞》

- (1)根据材料一、二并结合所学知识,比较中医西传与西医东渐的异同。(13分)
- (2)根据材料二并结合所学知识,说明19世纪末20世纪初西医东渐加速的原因。(8分)
- (3)根据材料并结合所学知识,简析中医西传与西医东渐的历史启示。(4分)

44. 阅读材料,完成下列要求。(12分)

材料 新中国成立以来在中国举办的部分国际会议

会议名称	举办时间	参加人员	会议主要议题
亚洲及太平洋区域和平会议	1952年	代表来自中国、苏联、印度、日本、澳大利亚、智利等37个国家	反对美帝国主义扩张,防止日本军国主义复活,维护亚洲及太平洋区域的和平和安全
印度支那人民最高级会议	1970年	越南南北两方、老挝、柬埔寨、中国代表	讨论共同反对帝国主义的重大问题
亚太经合组织领导人非正式会议	2001年	中国、美国、俄罗斯、日本等19个国家或地区的代表	参与、合作,促进亚洲太平洋地区共同繁荣
第三届金砖国家峰会	2011年	中国、印度、俄罗斯、巴西、南非的国家领导人	深化在金融、科技、能源等领域的交流合作,改革全球治理体系,增加新兴经济体和发展中国家的发言权和代表性
第二届世界互联网大会	2015年	代表来自全世界五大洲120多个国家和地区	搭建中国与世界互联互通的国际平台和国际互联网共享共治的中国平台
20国集团杭州峰会	2016年	原八国集团以及其余十二个重要经济体的代表	构建创新、活力、联动、包容的世界经济

——据陈泽炎《国庆70周年:从不同时期我国举办的七场重要国际会议看中国对外交往的不断发展》等

根据材料并结合所学知识,选取至少两次国际会议,从中概括一条历史发展趋势,并予以阐述。(要求:明确列出国际会议,结论准确,持论有据,阐述清晰。)

45. 阅读材料,完成下列要求。(15分)

材料一 唐朝中后期,户籍制度废弛,均田制也遭到破坏。唐德宗时期,宰相杨炎变革赋税制度,实行两税法。他主张“户无主客,以见居为簿;人无丁中,以贫富为差”,除田亩之税仍纳谷米外,租庸调中应纳布帛绢绵等实物的部分改为折钱并入两税计征。原来的庸并入两税后,改以赋税代替徭役,百姓亦可纳钱代役。

——摘编自白寿彝主编《中国通史》

材料二 作为与杨炎同时期的大臣,陆贽坚决反对两税法,认为两税法会鼓励人们“背本趋末”,为了获得货币,农民常常是“有者急卖而耗其半值,无者求假而费其倍酬”。陆贽认为按贫富征税,就打击了勤劳,鼓励了懒惰;反之,按人丁征税,就可以鼓励勤劳,懒惰之人要想完税,也不得不努力劳动。他认为财产数量不易准确测定,财产性质各不相同,实践中不易操作,易滋生腐败。

——据陆贽《均节赋税恤百姓》等

(1)根据材料并结合所学知识,概括指出杨炎与陆贽赋税思想的不同之处。(6分)

(2)根据材料并结合所学知识,评析陆贽的赋税思想。(9分)