

丰台区 2018 年高三年级第二学期综合练习（二）

文科综合

2018.05

注意事项：

1. 答题前，考生务必先将答题卡上的学校、年级、班级、姓名、准考证号用黑色字迹签字笔填写清楚，并认真核对条形码上的准考证号、姓名，在答题卡的“条形码粘贴区”贴好条形码。
2. 本次考试所有答题均在答题卡上完成。选择题必须使用 2B 铅笔以正确填涂方式将各小题对应选项涂黑，如需改动，用橡皮擦除干净后再选涂其它选项。非选择题必须使用标准黑色字迹签字笔书写，要求字体工整、字迹清楚。
3. 请严格按照答题卡上题号在相应答题区内作答，超出答题区域书写的答案无效，在试卷、草稿纸上答题无效。
4. 请保持答题卡卡面清洁，不要装订、不要折叠、不要破损。

第一部分（选择题 共 140 分）

蛇曲是被河流冲刷形成的像蛇一样蜿蜒的地质地貌，一般出现在草原或湿地上。但在青海省称多县的热喔拉山上，能看到通天河的多个连续拐弯，河流穿行在山脉之间，仿佛嵌入岩石深处，展现另类的立体蛇曲之美。读图 1，回答第 1、2 题。



图 1

1. 通天河立体蛇曲景观
  - A. 位于亚热带地区，水域风光独特
  - B. 具有非凡性、可创造性和永续性
  - C. 具有美学价值、历史文化价值以及经济价值
  - D. 形成过程为河流侧蚀—地壳抬升—河流下切
2. 欣赏通天河蛇曲之美，宜
  - A. 把握观赏的时机
  - B. 从高处俯视远眺
  - C. 乘船游览，置身其中
  - D. 领悟自然与人文和谐

2017 年 4 月 1 日，中共中央、国务院决定设立雄安新区。图 2 为雄安新区及周边区域示意图。读图，回答第 3、4 题。

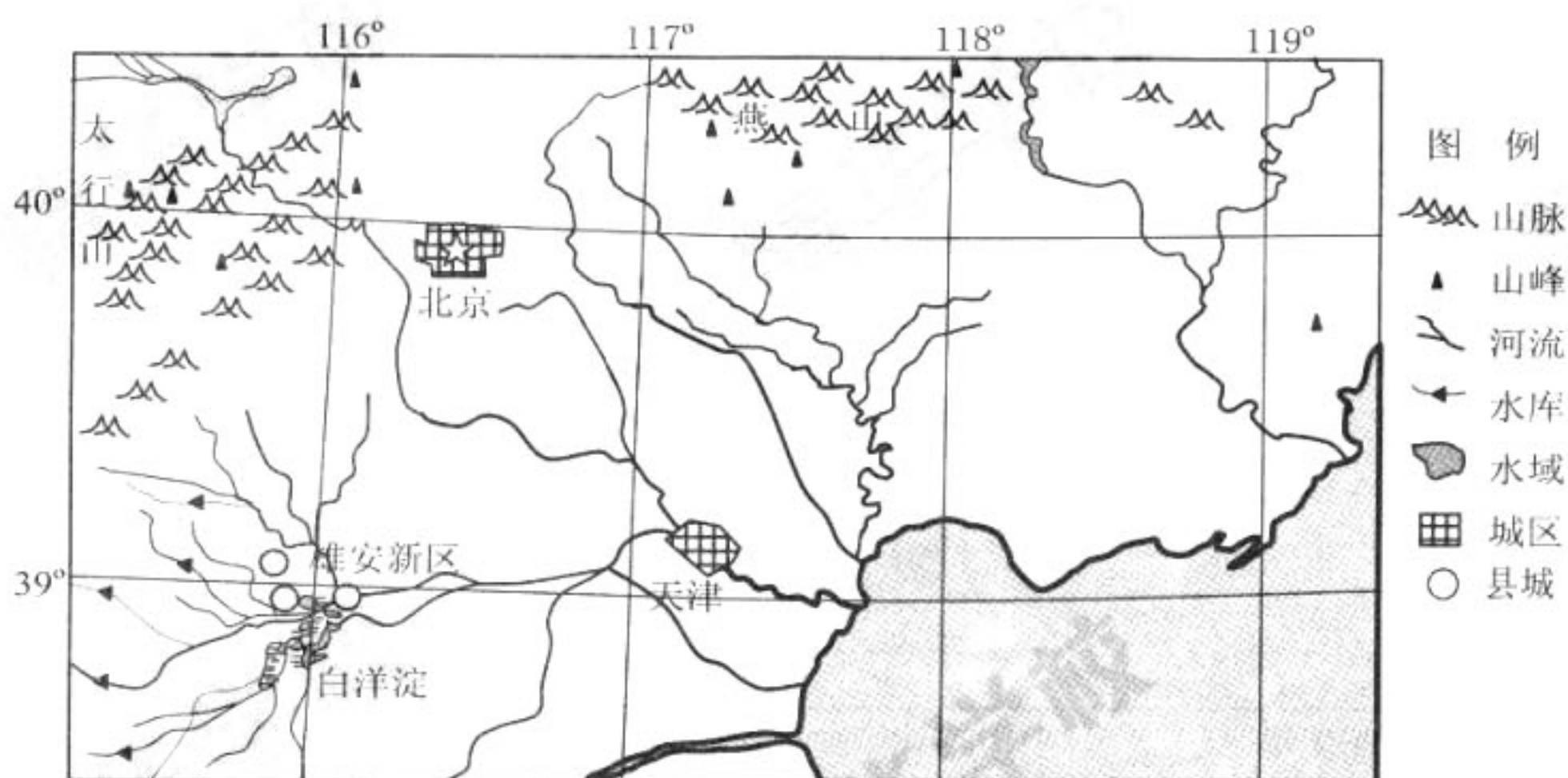
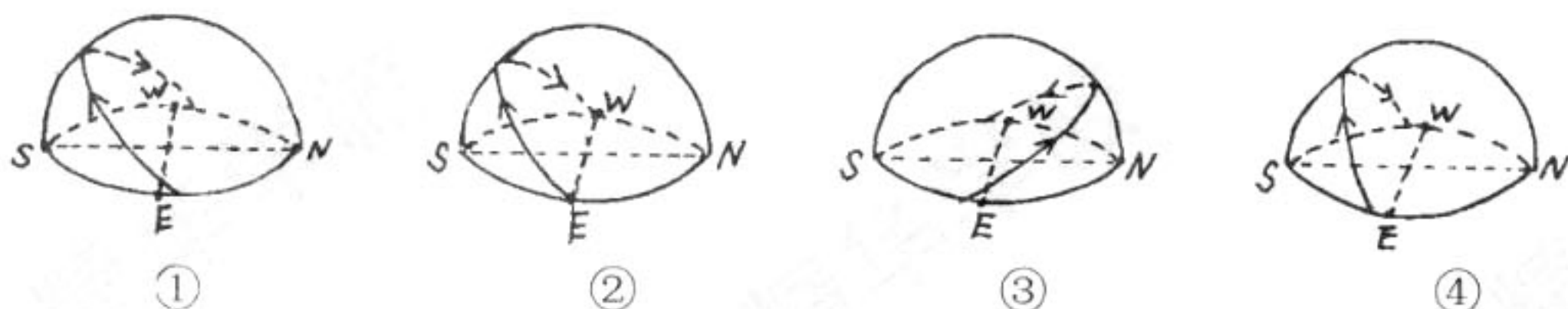


图 2

3. 图中白洋淀成为河北平原唯一常年积水洼地的主要自然原因有
- A. 冬季气温低，蒸发弱
  - B. 夏季降水多，雨水补给量大
  - C. 地势低，多河流注入
  - D. 上游水库较多，调蓄作用强
4. 某中学学生绘制了雄安新区当日太阳视运动轨迹简图。其中正确的是



- A. ①      B. ②      C. ③      D. ④

“山明水净夜来霜，数树深红出浅黄”（唐·刘禹锡）。图 3 为大气受热过程示意图。读图，回答第 5、6 题。

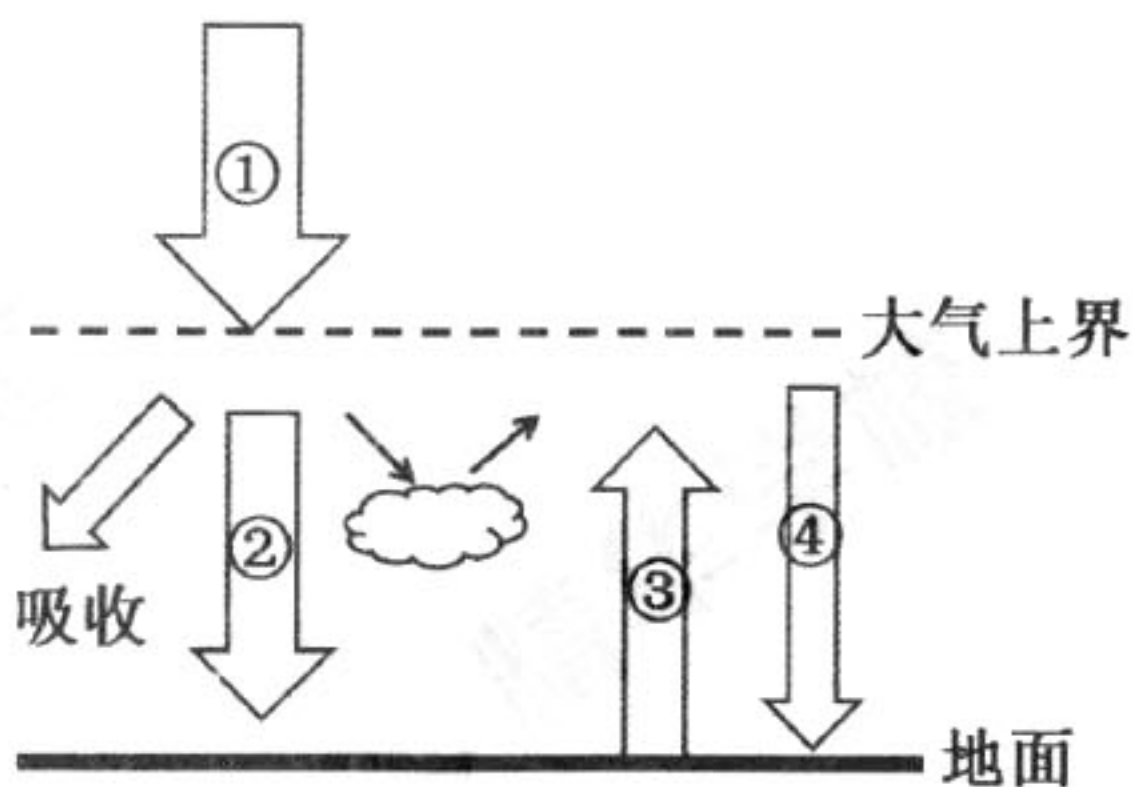


图 3

5. “数树深红出浅黄”的时节，下列说法可信的是
- A. 地球公转速度逐渐变慢
  - B. 我国江南地区草长莺飞
  - C. “雪龙号”科考船前往南极考察
  - D. 美国洛杉矶地区森林火险等级高
6. “夜来霜”的形成原因是

美国宇航局拍到中亚哈萨克斯坦和乌兹别克斯坦之间的咸海东部河床已经消失，令人震撼，当地生态危机严重。图 4 为咸海流域自然、社会水循环示意图及不同年份咸海面积变化图。读图，回答第 7、8 题。

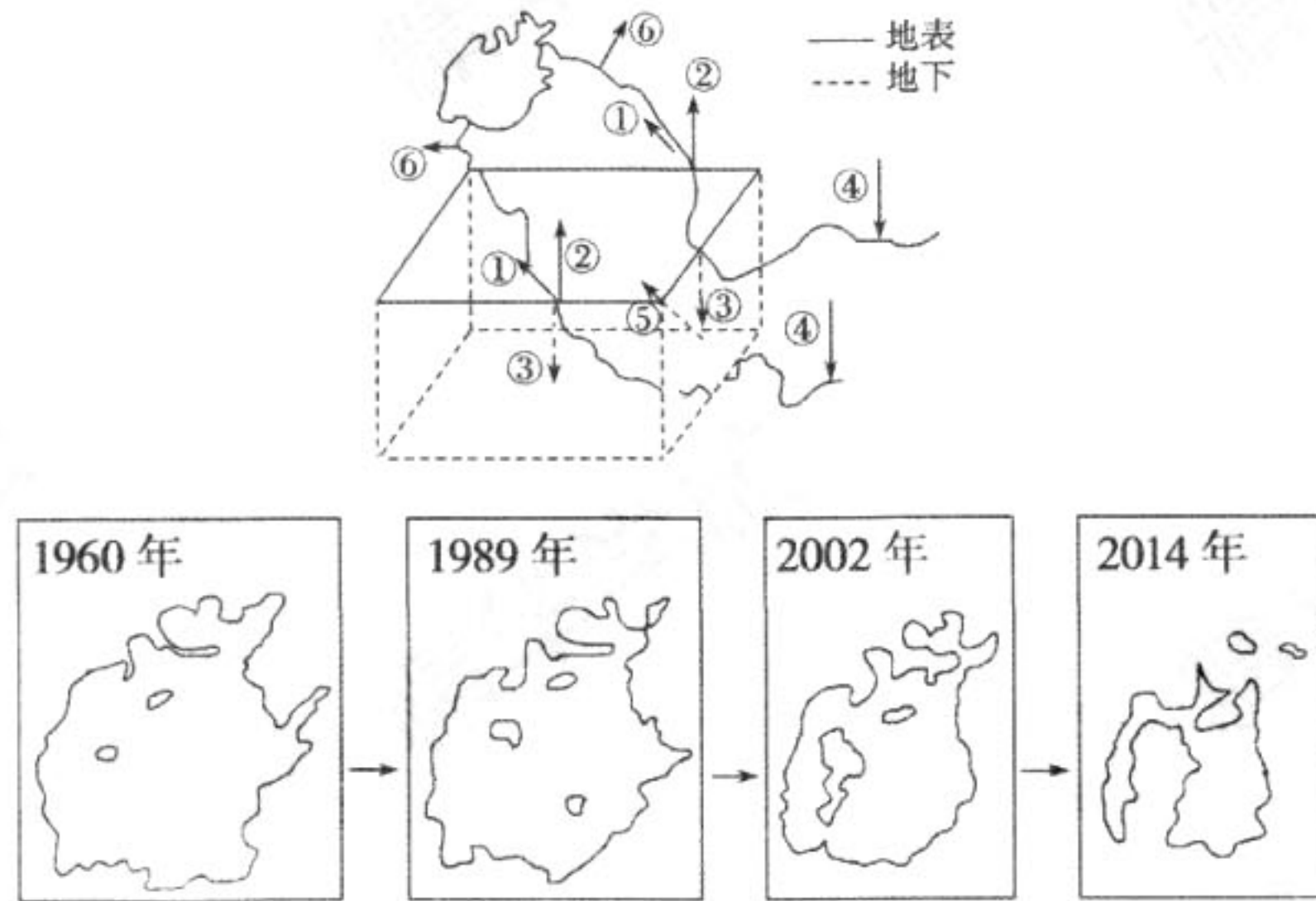
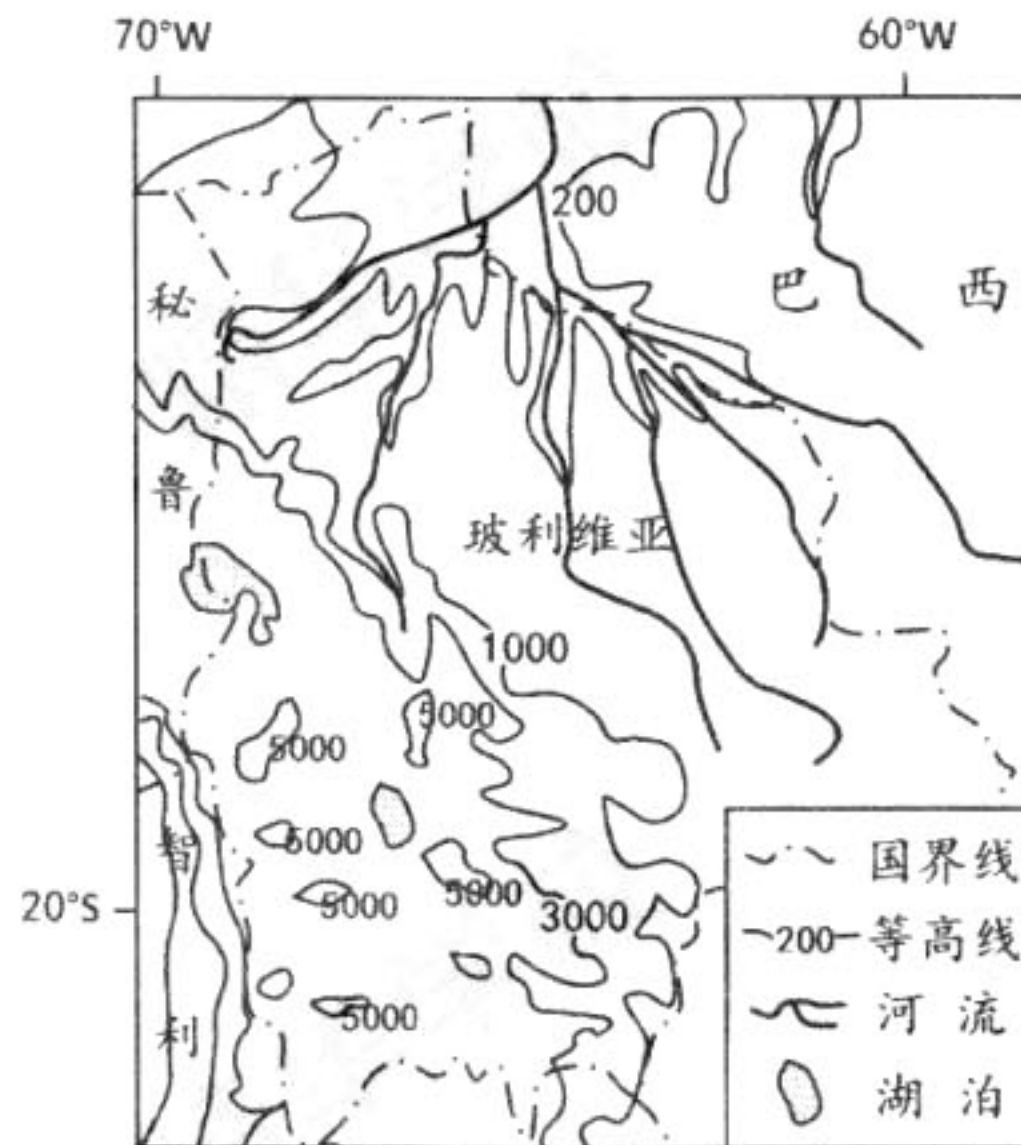


图 4

7. 咸海流域水汽的主要来源及水汽输送的主要动力是
- A. 大西洋 盛行西风
  - B. 太平洋 东南季风
  - C. 印度洋 西南季风
  - D. 北冰洋 极地东风
8. 造成咸海面积缩小的主要原因是
- A. ①增强，④减少
  - B. ②增强，⑤减少
  - C. ③减少，④增强
  - D. ②增强，⑥增强

藜麦，被誉为最适宜人类的全营养食品。藜麦优质食用品种主要种植在安第斯山降雨量 300 毫米以上的高海拔山区，理想生长温度是  $15^{\circ}\text{C} \sim 20^{\circ}\text{C}$ ，玻利维亚西南部是其主要原产区。近年我国引种藜麦并尝试规模化种植。图 5 为南美洲局部区域等高线（单位：米）示意图。读图，回答第 9、10 题。





13. 图 8 为汉武帝后期至东汉末年的行政区划示意图，该图表明汉代

- ①实行郡国并行制
- ②实行内外朝制度
- ③王国问题依然存在
- ④县级单位形式多样

A. ①②      B. ②③      C. ③④      D. ①④

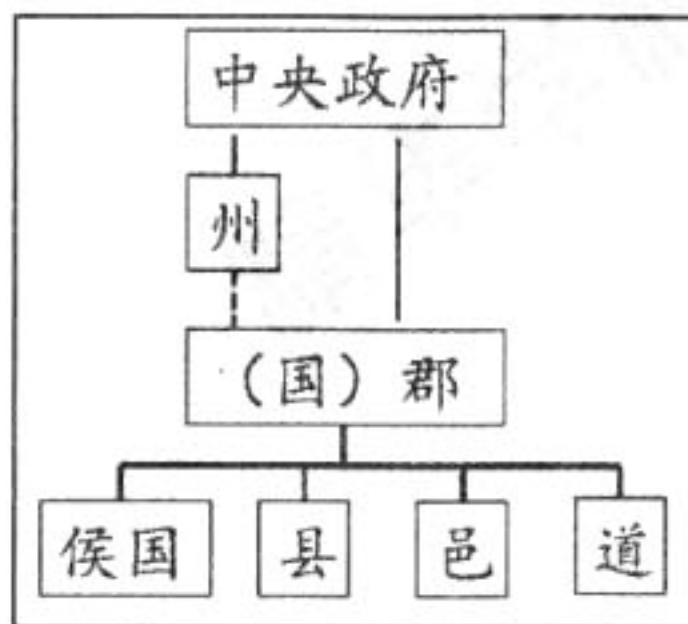


图 8

14. 下列明清时期思想家言论的共同之处是

顾炎武	人君之于天下，不能以独治也。独治之则刑繁矣，众治之而刑措也
黄宗羲	缘夫天下之大，非一人之所能治，而分治之以群工
王夫之	论天下者，必循天下之公，天下非一姓之私也

- A. 抨击程朱理学
- B. 反对君主专制
- C. 继承儒家思想
- D. 倡导经世致用

15. 1872 年，李鸿章在一份奏折中指出，上海各工厂“日需外洋煤铁”极多，“可忧孰甚”。他建议清政府“设法劝导官督商办，但借用洋器洋法，而不准洋人代办……”。对这份奏折解读正确的是

- A. 希望兴办民用工业辅助军工
- B. 希望政府开采煤铁改善民生
- C. 建议增加投入解决资金困难
- D. 建议放宽对民间设厂的限制

16. 图 9 是一幅名为《日本，巨人杀手》的漫画。漫画中，中国巨人狼狈不堪地摔倒在地，小矮人手持军刀，双脚踏在巨人身上。针对漫画中这一现象所引发的民族危机，中国社会



图 9

- A. 地主阶级迈出近代化历程第一步
- B. 农民阶级反抗压迫绘制理想蓝图
- C. 资产阶级初步尝试变革社会制度
- D. 无产阶级承担民主革命领导任务

17. 下表为《新青年》中所关注的部分重大事件统计数据。由此可以看出该杂志

历史事件	提及次数
辛亥革命	47
袁世凯称帝	133
世界大战	448
十月革命	287
巴黎和会	87
五四运动	45

- A. 关注国内外政治局势演变
- B. 宣传主题是马克思主义
- C. 成为近代影响最大的报刊
- D. 关注中国社会生活变迁

18. 在中华人民共和国成立 70 周年即将到来之际，某班决定以“实现中华民族伟大复兴”为主题布置纪念展览。以下是他们准备的部分展览资料，时间排序正确的是
- ①十一届三中全会召开    ②恢复高考制度    ③“双百”方针正式提出  
④邓小平发表南方谈话    ⑤香港、澳门回归祖国    ⑥人民代表大会制度正式确立

- A. ⑥③①②⑤④  
B. ③②⑥①④⑤  
C. ③⑥①②⑤④  
D. ⑥③②①④⑤



图 10

19. 图 10 中①②③④代表四个国家，对其近现代政治发展进程描述正确的是
- A. ①君主立宪制的确立促进国家统一  
B. ②议会产生国家实际最高行政首长  
C. ③通过渐进的制度变革走向共和制  
D. ④通过民主改革赢得了国家的独立

20. 1930 年 3 月美国总统签署了公民保育团计划，参与该计划的年轻人投入到植树造林、建设道路、铁轨、露营地等事业中，每月可挣 30 美元。下列措施中，与这一做法和作用最为相似的是

- A. 向减产农民提供政府补贴    B. 政府拨款进行社会救济  
C. 实行养老和失业保险制度    D. 兴办了田纳西水利工程

21. 欧共体成立于 1967 年，英国于 1973 年加入。下列对英国加入欧共体时国际形势的表述正确的是

- ①世界政治多极化趋势已经出现    ②国际政治新秩序已经形成  
③西欧成为美国的经济竞争对手    ④两大军事集团在欧洲对峙
- A. ①②③    B. ①③④    C. ②③④    D. ①②④

22. 图 11 是“1860-2000 年全球资本流动示意图”。下列对造成 1945-2000 年资本流动状况因素分析正确的是

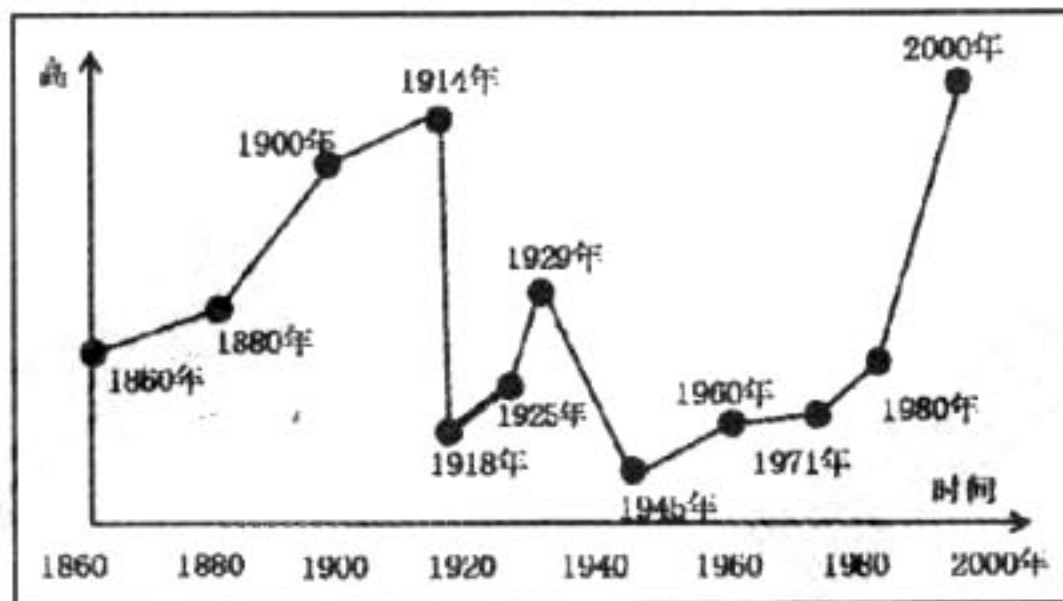


图 11

- A. 国际关系格局的变动影响资本流动速度  
B. 跨国公司的兴起使资本全球化速度加快  
C. 世贸组织的建立消除了资本流动的阻力  
D. 国家干预政策减缓了此时期的资本流动

23. 下列选项中史实与结论之间对应正确的是

	史实	结论
A	民国初《申报》刊登“自由女子之新婚谈”	旧的婚姻观念被社会抛弃
B	1929 年，红色根据地建立邮政系统	开始了中国的通讯近代化
C	牛顿力学的创立为经典物理学、天文学、现代工程力学等奠定了理论基础	标志人类科学时代的开始
D	巴尔扎克创作《人间喜剧》	体现了浪漫主义情怀

24. 我们的时代是英雄辈出的时代，每一个时代楷模就是一面鲜艳的旗帜。中共中央宣传部 2018 年 1 月 25 日授予航天员群体“时代楷模”荣誉称号。他们的先进事迹充分体现了航天员群体“问鼎苍穹心向党”的坚定信念、“敢叫日月换新天”的创业豪情、“矢志一流谋超越”的进取精神、“计利当计天下利”的崇高境界。我们从航天员群体的先进事迹中汲取精神力量
- ①有利于培育民族精神铸造中华民族的精神支柱
  - ②有助于弘扬先进文化发挥强有力的示范导向作用
  - ③有助于发展人民群众喜闻乐见的大众文化
  - ④有利于坚持文化发展方向增强文化创造活力
- A. ①②            B. ①④            C. ②③            D. ③④
25. 2018 年 3 月 17 日，十三届全国人大一次会议第五次全体会议结束后，新当选的国家领导人进行了宪法宣誓。这是自宪法宣誓制度施行以来，首次在全国人民代表大会上举行的宪法宣誓活动。国家领导人带头宣誓，清晰地传递着一种信号
- ①强化宪法信仰，突出宪法是制定其它法律的基础
  - ②领会宪法精神，贯彻权利义务相统一原则
  - ③再大的权力都需要接受宪法法律的约束
  - ④宪法是国家根本法，是治国理政总章程
- A. ①②            B. ①④            C. ②③            D. ③④
26. 宣誓的历史源远流长。在我国《周礼》中早有记载：“作盟诅之载辞，以叙国之信用，以质邦国之剂信。”在各国的宣誓制度中，宣誓的场所和对象各有不同，有的是宪法，有的是国徽国旗，有的是国家元首或议会，还有的是宗教经典等。不同文化、不同历史时期，宣誓形式虽有不同，但往往都意味着“承诺”，代表着责任。这段材料表明
- ①文化具有其自身的传承性
  - ②文化与经济相互影响、相互交融
  - ③烘托文化氛围，铮铮誓言显担当
  - ④文化多样性是发展本民族文化必然要求
- A. ①②            B. ①③            C. ②④            D. ③④
27. “不驰于空想、不骛于虚声。”在 2018 年新年贺词中，习近平主席以李大钊的这句名言，昭示了共产党人求真务实的精神、奋发有为的姿态。下列与此句名言蕴含哲理相同的是
- A. 九层之台，起于累土；千里之行，始于足下
  - B. 道虽迩，不行不至；事虽小，不为不成
  - C. 非天所有，名因人立；名非天造，必从其实
  - D. 履不必同，期于适足；治不必同，期于利民
28. “海水稻”是在海边滩涂等盐碱地生长的特殊水稻，具有不需施肥、抗病虫、耐盐碱的独特生长特性，营养价值高，是天然的绿色有机作物，但普遍存在产量低，米质差等缺点。随着多次多地试种，相关技术难题不断攻克。2017 年秋，袁隆平主持的青岛海水稻研发中心最高亩产达到 620.95 公斤。2018 年海南南繁基地从上千份海水稻材料中挑选出 176 份优良品种，首次在全国五个主要类型的盐碱地试种，在不同的地理条件下检验这 176 份海水稻材料的最终产量和品质。人类研发海水稻的过

程体现了

- A. 改造自然的成功取决于科研人员主观能动性的发挥
- B. 事物运动变化的绝对性和静止相对性是辩证统一的
- C. 人们对一个事物的认识往往要经过多次反复才能完成
- D. 只有被实践证明的认识才能对事物发展起推动作用

29. 习近平总书记在学习贯彻党的十九大精神研讨班开班式上发表重要讲话，提出“时代是出卷人，我们是答卷人，人民是阅卷人”的精辟论述。这一论述有着极为深刻的蕴意。对此理解不正确的是

- A. 新时代带来了发展的新要求、新课题，执政党要与时俱进
- B. 中国共产党是答卷人，要科学执政，牢记初心，不忘使命
- C. 人民群众是推动我国经济社会发展的基本依靠
- D. 这一精辟论述标志着我国进入新时代中国特色社会主义时期

30. 2018年3月17日上午，十三届全国人大一次会议表决通过了国务院机构改革方案。新组建的自然资源部整合了原国土资源部、国家发改委、水利部等八大部委对水、草原、森林、湿地及海洋等自然资源的确权登记管理等方面的职责。同时组建的生态环境部，将原环境保护部的职责及其他六个部委的相关职责整合了起来。此次机构改革方案采用“合并同类项”的办法解决图12问题的意义在于

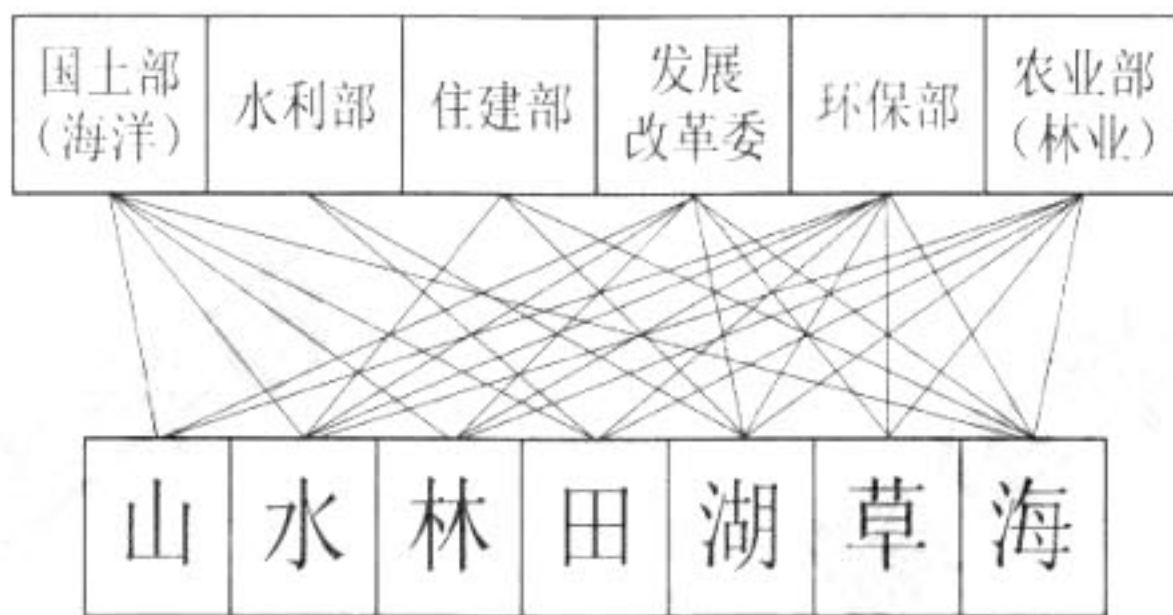


图 12

- A. 优化政府机构设置和职能履行
- B. 强化政府的经济社会管理功能
- C. 注重职能转变，减少市场监管
- D. 审慎行使权力，紧扣民生所需

31. 党的十九大高度重视国家安全工作，将坚持总体国家安全观列为新时代坚持和发展中国特色社会主义的基本方略并写入党章。2018年4月15日，是党的十九大后第一个全民国家安全教育日。某班为此举办了一次主题班会，根据图13信息，选择一个最恰当的主题

图 13

- A. 知危图安，维护国家安全人人有责
- B. 居安思危，巩固国家安全中心地位
- C. 认清形势，加强国际合作确保安全
- D. 捍卫主权，筑牢安邦定国重要基石



32. 一年一度的亚洲博鳌论坛于 2018 年 4 月 8 日拉开帷幕，本次年会的主题为“开放创新的亚洲，繁荣发展的世界”。“开放”再度成为“博鳌声音”的关键词，也成为 2000 年至今博鳌 18 岁成长的深深印记。下列事件与此声音相符的有
- ①2017 年 12 月中泰铁路合作项目一期工程开工建设
  - ②2018 年 3 月美国决定对进口钢铁和铝产品加征关税
  - ③2018 年 4 月宣布尽快放宽汽车行业等制造业外资股比限制
  - ④2018 年 4 月中国将在住房、基建领域建立长期信用机构
- A. ①②      B. ①③      C. ②④      D. ③④
33. 甲国、乙国分别是全球第一大大豆生产国和第一大大豆消费国。如果乙国对甲国大豆加征关税，排出其它因素产生的影响可能有
- ①甲国大豆价格上升会推高豆油价格，豆农获利增加
  - ②甲国豆粕价格上涨会影响养殖成本，抬升猪肉价格
  - ③乙国橄榄油、菜籽油、花生油、葵花籽油需求增多
  - ④乙国国产大豆价格上行，会刺激乙国豆农扩大生产
- A. ①②      B. ①③      C. ②④      D. ③④
34. 十九大报告提出，鼓励勤劳守法致富，扩大中等收入群体，增加低收入者收入，调节过高收入，取缔非法收入，坚持在经济增长的同时实现居民收入同步增长、在劳动生产率提高的同时，实现劳动报酬同步提高。缩小收入分配差距，需要从以下几方面入手
- ①用好财税调节功能，“削峰填谷”，缩小收入差距
  - ②完善社会保障体系，消灭城乡基本公共服务差异
  - ③增加财政支出，提高劳动报酬在初次分配中比重
  - ④加强顶层设计，拓宽劳动收入和财产性收入渠道
- A. ①②      B. ①④      C. ②③      D. ③④

35.

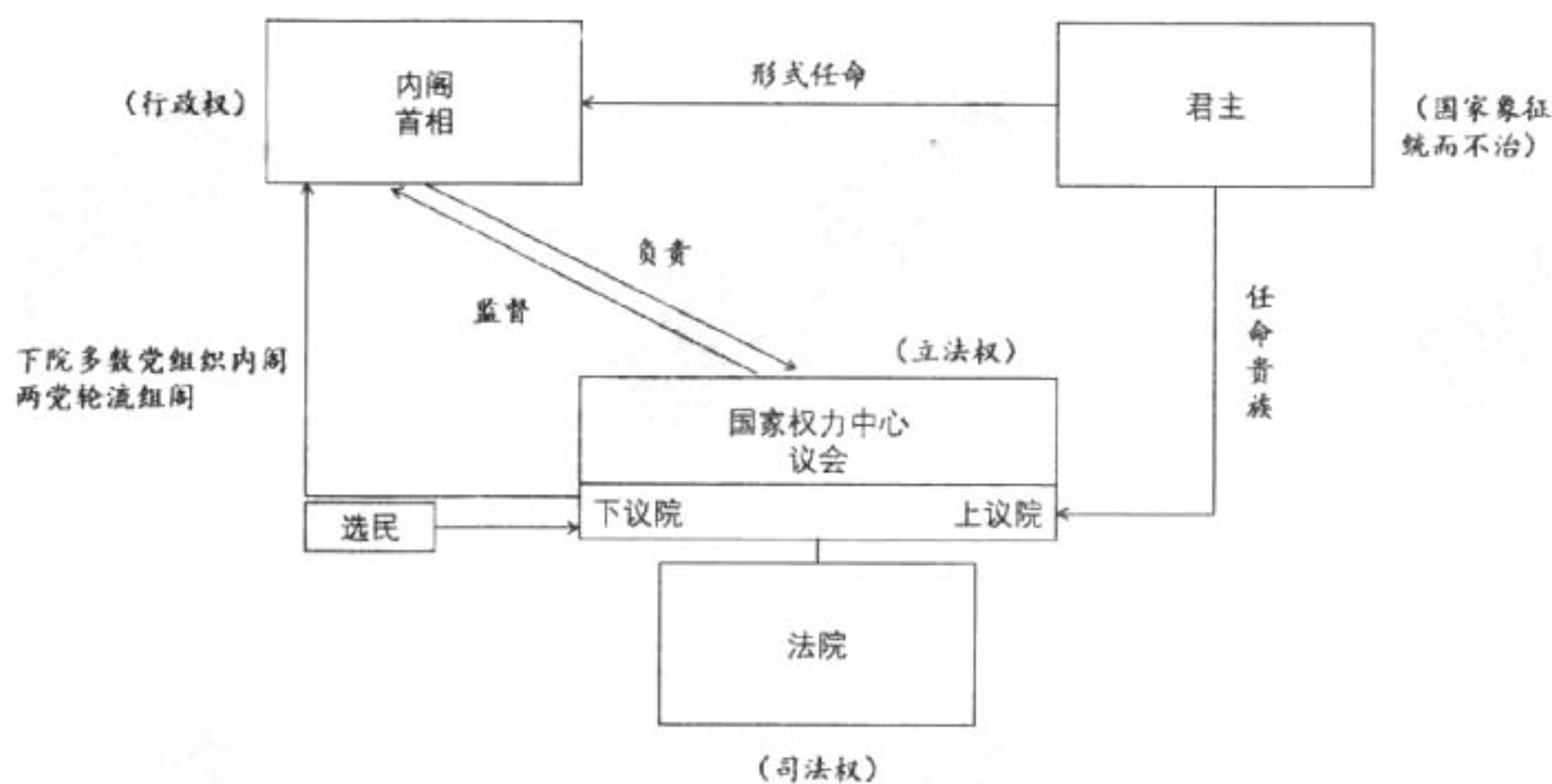


图 14

图 14 是某国国家政体示意图。该国是

- A. 美国      B. 德国      C. 英国      D. 日本

第二部分（非选择题 共 160 分）

36. (36 分) 读图 15, 回答下列问题。

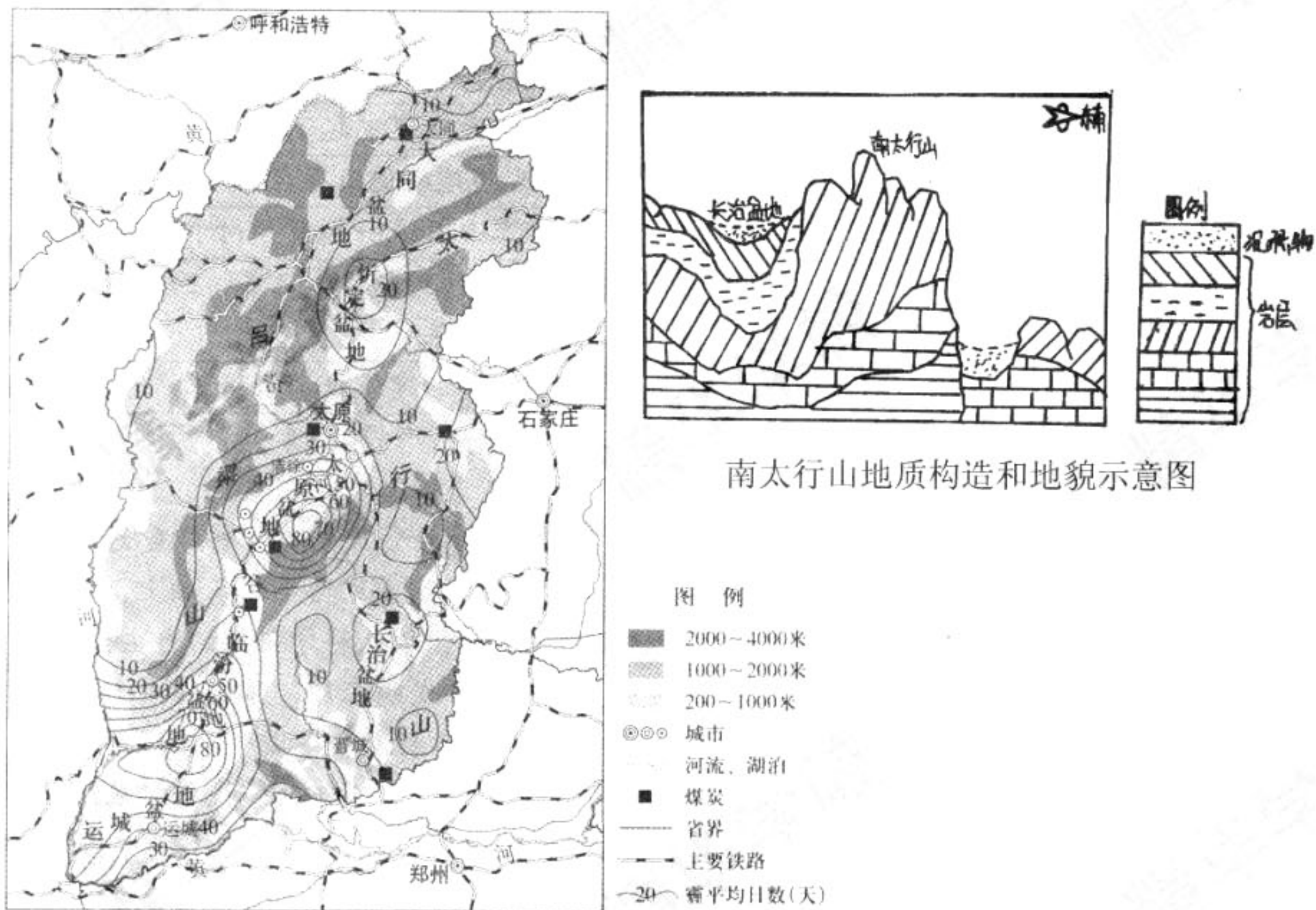


图 15

- (1) 简要说明图中南太行山的形成过程。(6 分)
- (2) 指出山西霾的空间分布特征, 并说明原因。(10 分)

清徐老陈醋是山西省的地方传统名产, 其酿制技艺于 2006 年被列入首批国家级非物质文化遗产名录。老陈醋以当地种植的红高粱为主要原料, 以井水为酿造水源, 经蒸料、发酵、熏醅、水淋而成新醋, 再通过“夏季伏晒”和“冬季抽冰”的陈酿过程, 剔去醋中水分。

- (3) 概述清徐老陈醋生产的有利条件。(10 分)

大同素有“中国煤都”之称, 近年来大同坚持低碳发展, 积极开发新能源, 全力建设国家新能源基地。

- (4) 分析大同从国家煤炭能源基地向新能源基地转变的主要原因。(10 分)

37. (38分) 科技发展促进社会进步。

材料一

宋朝重大科技成就简表(部分)

成就	简介
火药	唐末火药开始用于军事,北宋火药武器广泛使用。13世纪中期,火药和火药武器由阿拉伯人传到欧洲,在西方社会产生巨大震动
指南针	北宋用于航海,南宋时传到欧洲,在地理大发现中起了重要作用
地磁偏角	北宋科学家沈括通过精确测量子午线,发现地磁偏角存在,比欧洲早400年
十二气历	北宋科学家沈括把四季二十四节气和十二个月统一起来,利于农事安排
活字印刷术	平民毕昇11世纪中期发明活字印刷术,东传到朝鲜、日本,西传到埃及、欧洲。欧洲人用活字排版印刷比毕昇晚400年
《营造法式》	北宋建筑学家李诫编著,是我国古代最完整的建筑技术书籍

(1) 依据材料一,概括宋朝科技发展的特点。结合所学,分析形成以上特点的原因。(12分)

材料二 独立战争前,美国科学家富兰克林于1742年在费城创办“科学爱好者俱乐部”,后扩大改称美国哲学学会。1848年,在地质学家和自然学家协会的基础上,杰弗逊政府首次组织大规模的科学考察计划,为科学活动拨专款,承认科学研究的自主性。

1872年,爱迪生建立美国第一个工业实验室,创立“发明工厂”体制模式,把科学研究与生产技术从组织上统一起来。后来,“发明工厂”体制发展形成“工厂中心实验室”体制。科学家跳出纯科学的圈子,走出大学实验室到企业工作,寻找科学应用于技术的道路。在这一时期(1860-1914年),科学活动向组织起来的集体形式发展,全国科学院和政府、工业、大学、私人慈善基金会等系统的各种研究实验室、研究机构相继出现,为美国科技体制发展打下基础。

1914-1945年间,美国成立国家航空咨询委员会、全国科学院国家研究委员会、科学研究与发展局等机构,扩大政府组织科学研究的权限,显示了国家对科技工作的重要协调作用。

战后,政府在原有研究机构的基础上又创设一些重要机构,如1946年成立的原子能委员会,1957年成立的美国国家航空与航天局等。政府实验室数量和类型明显增加。

——摘编自汪凌勇《美国科技体制的历史演变及特点》

(2) 依据材料二,结合所学概括美国科技体制的演变趋势并分析其影响。(10分)

材料三 20世纪80、90年代以来,我国学术界、科技界和企业界针对我国技术引进与自主创新的实际情况,产生了一些讨论:一种观点主张大力进行技术引进;另一种观点则更强调自主创新;也有一种观点提出技术引进和自主创新并不是对立的,而是互补的、相得益彰的。

——摘编自孙建、吴利萍、齐建国《技术引进与自主创新:替代或互补》

(3) ①概述这一科技讨论在中国出现的时代背景。(6分)

②你赞成上述科技讨论中的哪一种观点,运用中外历史发展进程中的重要史实加以论述。(10分)

要求:观点明确,史实充分,史论结合,逻辑清晰。

38. (33分) “老有所养”是十九大提出的重要目标，也是关乎每个人幸福感的民生大事。老人作为曾经的中流砥柱，也为社会做出过贡献，现在年华老去，应当享受老人应有的尊严，正如康德所说，“老年时像青年一样高高兴兴吧！青年，好比百灵鸟，有它的晨歌；老年，好比夜莺，应该有他的夜曲”。

(1) 为老人提供安全、舒适、健康的环境，主动回应老人诉求，使其都能安度晚年，是全社会的责任。运用所学《经济生活》知识，完成下表。(6分)

<p>某企业推出一款养老产品：以“大爱书院式养老”模式为中国长者及其家庭创建全龄层、全配套的亲情健康社区。通过“医疗、养生、健康评估、定制护理、书院课程、千亩农场”六大板块、1700项特色养老服务，使入住的长者“人人享有美好社区、人人享有养老服务、人人享有医疗保障、人人享有文化滋养”，享受一站式无忧养老生活。</p>	<p>①分析该款养老产品的市场前景。(2分)</p>
<p>一些社会资本纷纷试水养老产业。迪安诊断与阿里健康建立长期战略合作关系，共同探索“智慧养老运作模式”；海尔U-home智慧养老配套方案在北美小镇项目落地；TCL推出了老人手机“晚美”系列产品；美的携手安川进军智慧养老市场，计划明年推出医用康复型机器人。</p>	<p>②浅析社会资本试水养老产业的原因。(2分)</p>
<p>某企业引入以色列先进的健康养老服务理念和运营模式，整合国内外医疗服务资源，为中国用户提供一站式智慧医养解决方案。其服务体系包含四个组成部分：居家养老服务、智能看护服务、远程医疗服务、慢病管理服务，覆盖十分全面。</p>	<p>③结合材料，拟定一个新闻标题。(2分)</p>

(2) 某企业做了一个养老小镇的商业计划书。这份计划书中，充分体现了该企业项目的核心价值和竞争优势，有效地吸引了风险投资者还有很多有养老需求的老人关注。图16是该计划书中的一个模拟沙盘。(7分)

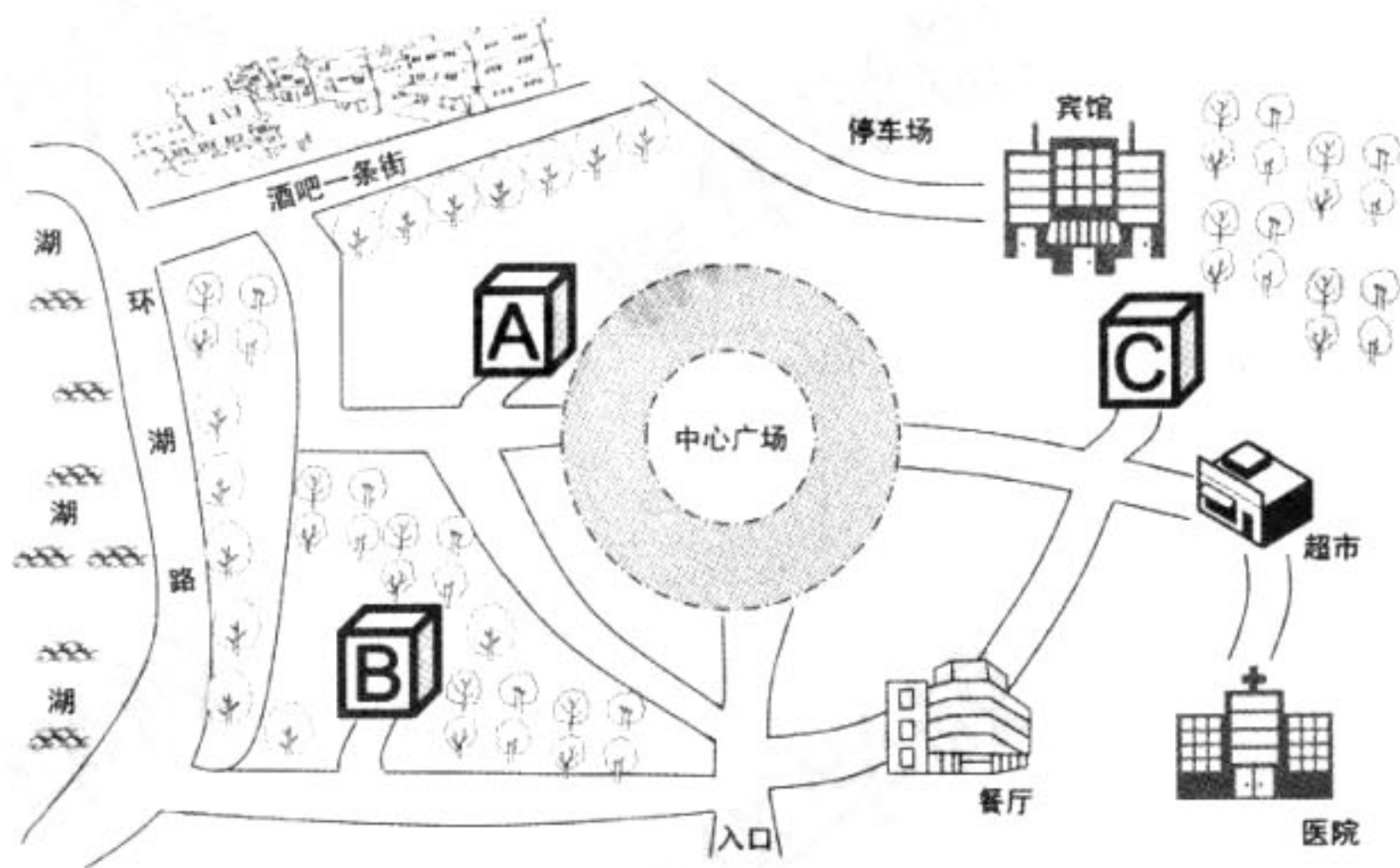


图 16

①观察图 16，判断 A、B、C 哪个更适合自理型老年人居住并说明理由。（3 分）

②请你为该沙盘的合理规划提出两条方法论建议。（4 分）

**材料一** “养儿防老，积谷防饥”，千百年来，中国人一直秉承这样的养老理念，嗣在传统文化中意义重大，意味着老有所养、老有所依。现如今，我国社会发生巨大变革，很多传统的观念和做法已经失去了原有的生长土壤，由于少子化的人口结构、思想观念的转变、就业的流动性、生存压力等种种原因，传统的亲情养老变得难以依赖，在这种情况下，探求多种形式的幸福养老迫在眉睫。

**材料二** 老年人的孤单感还来自于社会媒体营造的氛围，如提醒儿女常回家看看类型公益广告中塑造的父母，不是做好饭等子女回来吃，就是守在电话前等子女来电；影视剧中塑造的父母的角色，往往是退休后无所事事，把所有的精力都放在了子女的身上，不是在“催婚”就是在“催生”。

传统面临挑战，惯例面临冲破，绝不意味着我们就不能幸福养老了，只是幸福养老的方式可能不同而已。

(3) 结合材料，从《生活与哲学》的角度，谈谈怎样实现对幸福养老的追求？（6 分）

“哦，岁月如梭你陪我长大，却慢慢花白你头发；哦，信息时代飞速地变化，让你不像曾经强大；是视频通话，给你些迷茫；是移动支付，让你有些慌；是网约车，带给你悲伤；是自助挂号，让你彷徨……”

网络购物、移动支付、预约出行、自助挂号，“互联网+”已经渗透到方方面面，在年轻人尽情享受科技带来的便利时，一些对新生事物的理解和接受程度慢了一拍的老人，却时常有些迷茫。

(4) 运用所学知识，分析“互联网+”社会如何对老年人更友好？（6 分）



图 17

重阳节，又称重九节、晒秋节、“踏秋”，为每年的农历九月初九日，是中国传统节日。庆祝重阳节一般包括出游赏秋、登高远眺、观赏菊花、遍插茱萸、吃重阳糕、饮菊花酒等活动。重阳节，早在战国时期就已经形成，到了唐代被正式定为民间的节日，此后历朝历代沿袭至今。

(5) 近年来，将重阳节定为法定假日的呼声越来越高。请你提供支持将重阳节作为法定节假日的文化依据。（8 分）

39. (14分) 2018年是一个重要的年份,我们将迎来改革开放40周年。

1978年以来历次三中全会中心议题表

会议	召开时间	中心议题
十一届三中全会	1978年12月	提出“把全党工作的着重点转移到社会主义现代化建设上来的建议”
十二届三中全会	1984年10月	通过《中共中央关于经济体制改革的决定》
十三届三中全会	1988年9月	通过《关于价格、工资改革的初步方案》和《中共中央关于加强和改进企业思想政治工作的通知》
十四届三中全会	1993年11月	通过《中共中央关于建立社会主义市场经济体制若干问题的决定》
十五届三中全会	1998年10月	通过《中共中央关于农业和农村工作若干重大问题的决定》
十六届三中全会	2003年10月	通过《中共中央关于完善市场经济体制若干问题的决定》
十七届三中全会	2008年10月	通过《中共中央关于推进农村改革发展若干重大问题的决定》
十八届三中全会	2013年11月	完善和发展中国特色社会主义制度,推进国家治理体系和治理能力现代化
十九届三中全会	2018年2月	通过《中共中央关于深化党和国家机构改革的决定》和《深化党和国家机构改革方案》

(1) 回顾改革开放四十年的历程,最显著的特征就是改革开放与解放思想、理论创新相伴而行。从认识论的角度分析“改革开放与解放思想、理论创新相伴而行”。(6分)

对企业而言,改革开放的进程,就是企业逐步走向市场、转变观念,成为充满生机与活力的市场竞争主体的进程。

从1984年开始,H企业每隔7年就有一次变革。五次变革让其完成了名牌战略、多元化战略、国际化战略、全球化品牌战略、网络化战略。

(2) 请根据图18信息,在①~④的空白处分别填入相应的战略。(2分)

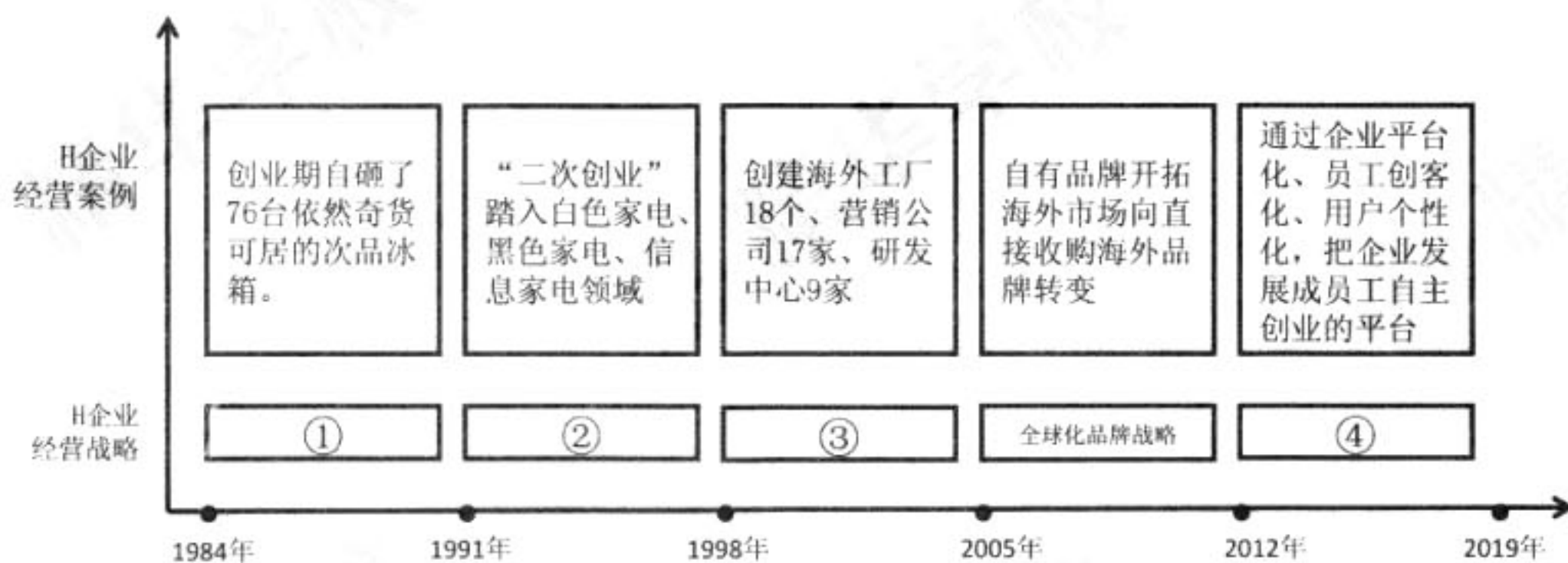


图18

(3) 结合材料,围绕主题——没有成功的企业,只有时代的企业,所谓成功只不过是踏准了时代的节拍,自拟题目,运用《经济生活》知识撰写一篇小论文。(6分)

要求:字数150。

40. (16分) 北京某中学准备组织部分学生暑期赴俄罗斯游学。行前, 学生们收集了大量有关俄罗斯的资料。

圣彼得堡名称演变

1703年	为防备瑞典军队进攻, 控制波罗的海, 俄国皇帝彼得一世在涅瓦河口建立彼得要塞, 后扩建为城, 称圣彼得堡
1712年	彼得大帝将首都从莫斯科迁到圣彼得堡, 圣彼得堡作为首都一直持续200多年
1914年	第一次世界大战爆发, 俄德对立为交战国, 因为圣彼得堡的“堡”字源自德语发音, 圣彼得堡更名为彼得格勒
1917年	彼得格勒发生二月革命和十月革命
1924年	为纪念列宁, 彼得格勒改名为列宁格勒
1941年	列宁格勒遭德军围困800多天, 1944年苏军反攻取得胜利
1991年	恢复圣彼得堡旧名

——摘编自达即至《圣彼得堡忆象》

(1) 圣彼得堡见证了俄国历史上的重要社会转型, 请结合所学加以说明。(8分)

学生们发现俄罗斯亚洲部分河流众多, 且海岸线漫长, 但水路运输并不发达。读图19, 回答问题。

(2) 简析俄罗斯亚洲部分水路运输不发达的原因。(8分)

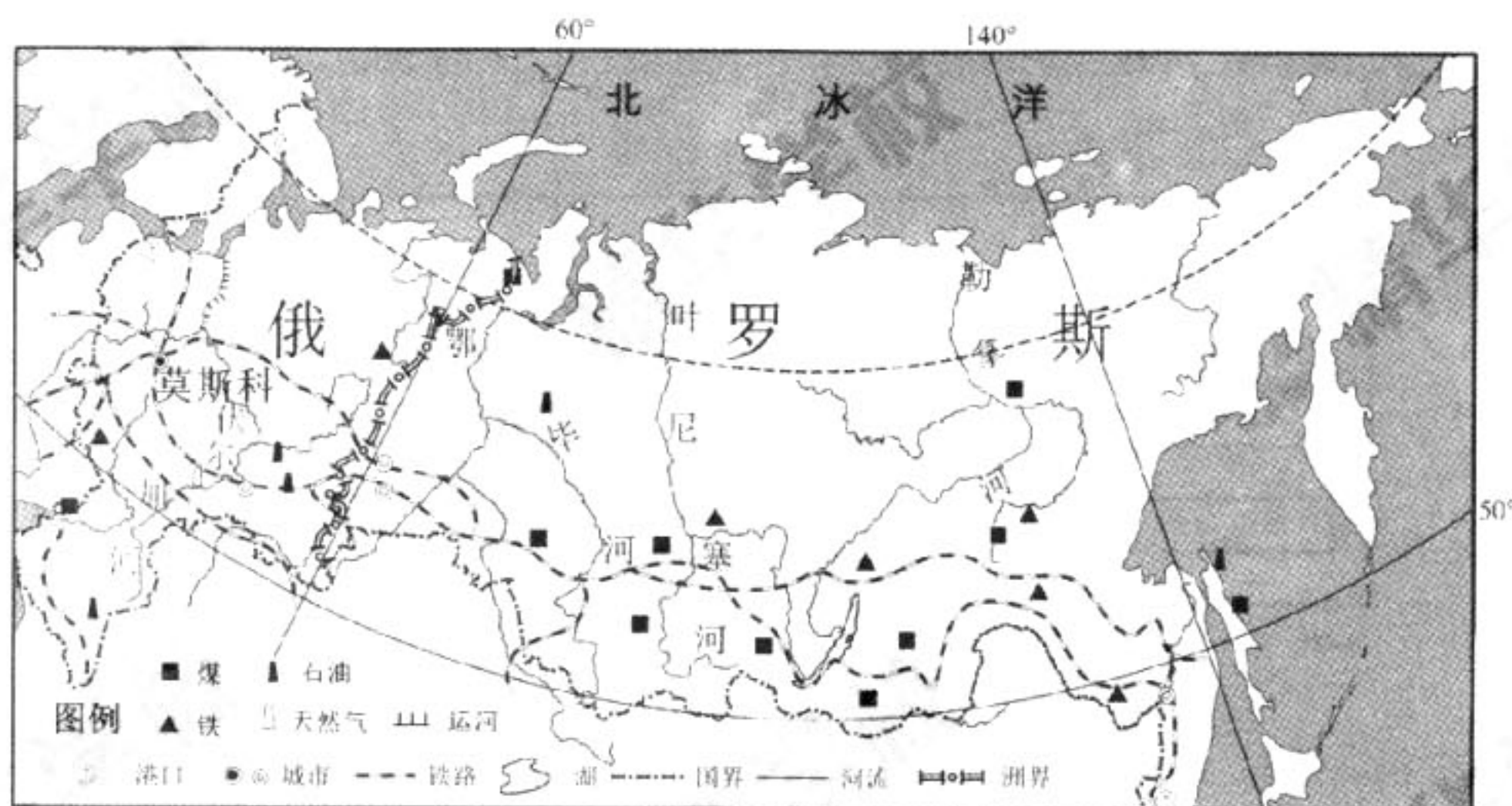


图19

丰台区 2018 年高三年级第二学期综合练习（二）

文科综合参考答案

一、选择题

题号	1	2	3	4	5	6	7	8	9	10	11	12
答案	D	B	C	A	C	D	A	D	B	A	D	C
题号	13	14	15	16	17	18	19	20	21	22	23	24
答案	D	B	A	C	A	D	B	D	B	A	C	A
题号	25	26	27	28	29	30	31	32	33	34	35	
答案	D	B	B	C	D	A	A	B	D	B	C	

二、非选择题

36. 共 36 分

(1) (6 分)

地壳运动导致岩层弯曲变形，形成褶皱（2 分）；岩层断裂，岩块相对上升形成山脉（2 分）；后又经外力的风化、侵蚀作用（2 分）。

(2) (10 分)

山西霾日数具有地区分布不均匀特点：盆地（或谷地）多、山区少；中南部多、北部少；（三点答出其中两点给 4 分）高值区出现霾的平均天数在 80 天以上，位于运城盆地、临汾盆地、太原盆地。（2 分）

原因：谷地城市人口集中，工业生产生活排污量大；（2 分）谷地地形较为封闭，不利于污染物的扩散。（2 分）（或山地、高原人类活动少，污染物排放少；地势高，利于污染物扩散）

(3) (10 分)

原料丰富；水质优良；年降水量较少，晴天多，夏季高温、日照时间长，有利于发酵和蒸发水分；冬季寒冷，有利于“抽冰”，剔去醋中水分；工艺独特，历史悠久；当地人饮食偏好。（答出 5 点即可）

(4) (10 分)

煤炭资源减少，开采成本升高；煤炭开发利用过程污染严重；  
太阳能、风能等新能源资源丰富；清洁可再生；  
开发利用技术日益成熟；环境保护的需要增强；国家对新能源产业的支持力度增大；我国能源消费结构不断优化。

（答出 5 点即可）

37. (38 分)

(1) (12 分)

特点：世界领先；影响深远；实用性强；多领域成就突出。（6 分）

原因：经济上：农耕文明的繁荣，奠定物质基础。（海外贸易发展—指南针用于航海；农业发展—历法）  
政治上：中央集权制度的强化，提供政权保证。（民族政权并立—火器发展）  
文化上：重文轻武，学术自由，提供宽松环境。（文教事业发展—活字印刷术）  
前代科技文化的积累，奠定良好基础。（6 分）

(2) (10 分)

趋势：由民间组织到国家机构演变；科学研究与生产技术不断结合；政府对科技干预不断增强；国防科学研究不断强化。（6 分）

影响：推动美国科技发展与生产力进步，对第二次工业革命后，美国工业总产值跃居世界第一起推动作用；为二战后美国成为世界超级大国奠定基础。（4 分）

(3) (16 分)

背景：实行改革开放政策，引进国外资金及先进技术；20 世纪 90 年代，提出“科教兴国”战略；第三次科技革命发展，国际竞争的加剧；20 世纪 90 年代以来经济全球化进程加速。（6 分）

论述：赞成第一种观点，赞成技术引进。（2 分）洋务运动引进西方技术设备—中国近代化开端；日本



明治维新殖产兴业—实现经济现代化；新中国建国初期引进苏联资金和技术发展科技；清政府及日本幕府统治时期闭关锁国—落后挨打。（运用中外三个事例论证即给6分）总之，技术引进利于科技和工业进步，利于实现工业现代化。（2分）

赞成第二种观点，赞成科技自主创新。（2分）英国工业革命重要发明—成为世界工厂；第二次工业革命美国和德国科技发明—跃居世界前列；苏联优先发展重工业—实现工业化；中国在中苏关系恶化后自主研发核武器—巩固国防。（运用中外三个事例论证即给6分）总之，自主创新推动生产力发展，增强国家实力。

赞成第三种观点，即赞成技术引进和自主创新互为补充。（2分）美国和德国既引进第一次工业革命的先进成果又在第二次工业革命中积极自主创新—跃居世界前列；中国改革开放以来既有技术引进又注重自主创新—航空航天、巨型计算机等领域成就突出。（运用中外三个事例论证即给6分）总之，技术引进和自主创新相结合，既推动民族科技进步增强国家实力，又能保证民族发展的自主性与创新性。（2分）

38. (33分)

(1) (6分)

① (2分) 具有良好市场前景。理由：顺应国家宏观政策导向，开发新兴市场，优化产品结构，提供个性化、多样化、定制化产品及服务。（如果选择该产品市场前景一般，能够自圆其说，理由充分合理也可以适当给分，比如该产品要求消费群体收入水平较高，市场培育还不够成熟，不能形成大规模推广价值等）

② (2分) 投资朝阳产业，具有可观的收益和市场前景，价值规律的作用，市场优化资源的配置。

③ (2分) “引进来”，助力智慧医养模式。（途径：引进来，结果：智慧医养经营模式）

(2) (7分)

① (3分) B点靠近湖畔，环境优雅安静，适应户外活动锻炼，周边设施完善。（选择C，理由充分合理也可给分）

② (4分) 坚持一分为二，全面看问题，兼顾物质和精神需求；

坚持系统优化方法，用综合的思维方式规划区域布局；

坚持具体问题具体分析，养老社区的规划要符合老年人的需求和特点。

（每个方法论建议2分，共4分）

(3) (6分)

社会存在决定社会意识的性质和变化发展，基于社会发展探索多样的养老模式；坚持正确价值判断的导向作用，树立正确的养老观念；充分发挥主观能动性，主动适应社会变迁，努力创造属于自身的幸福养老生活。

（必答主观与客观辩证关系角度，其他角度言之有理即可给分。）

(4) (6分) 可从个人（公民）、企业、国家（政府）、社会组织等角度作答。

政府引导相关企业开发适用于老年人应用的具有信息化产品或者平台；政府出台有关的政策，或者政策倾斜，来鼓励相关的经营单位，保留人工服务，让老人接触社会没有后顾之忧。不要忘记我们家庭对老人来拥抱这些新技术也有一定的责任，年轻人要尽可能帮助老人尽快学习掌握新的技术；社区也应该能发挥更大的作用，把我们的培训或者老人大学开到家门口。

(5) (8分) 文化对人影响的来源、特点，优秀文化塑造人生；

民族节日是一个民族历史文化的长期积淀，是民族文化的集中展示，是民族情感的集中表达；

继承发展优秀传统文化，取其精华、古为今用，更好的保护优秀传统文化；

国家加强精神文明建设，推动优秀文化发展，满足人民美好生活向往；

思想道德建设是文化发展的中心环节，提高公民思想道德修养，注重家庭美德和社会公德，以法律权威性保障社会道德建设。

39. (1) (6分)

实践是认识的基础，中国改革开放的实践推动了认识的产生和深化，在改革的浪潮中认识发现真理、检验发展真理，这就要求我们要不断解放思想、理论创新，与时俱进。

认识对实践具有反作用，没有思想的解放，没有理论的创新，就没有改革开放，正是在解放思想和创新理论的过程中，我们党坚持把马克思主义与中国的实际结合起来，不断用新思想、新观点、新论断丰富

和发展了中国特色社会主义理论体系，开辟了中国特色社会主义道路，推动了改革开放取得了瞩目的伟大成就。

(2) (2分)

①品牌化 ②多元化 ③国际化 ④网络化

(3) (6分) 评分标准：

等级	等级描述
水平4 (5-6分)	观点明确，能够运用辩证思维分析问题，从多个角度展开论证，阐释观点，逻辑严密；能够准确运用学科知识，术语表述科学。
水平3 (3-4分)	观点比较明确，能够从多个角度展开论证，阐释观点，前后逻辑比较一致；能够比较准确地运用学科知识，论述基本合理，但不够完整或内容有瑕疵。
水平2 (1-2分)	观点不够明确，能够从某一角度展开论证；能够简单运用学科知识阐述观点，语义不完整、不连贯，堆砌不相关知识。
水平1 (0)	重复试题内容；应答与试题无关或没有应答。

40. (16分)

(1) (8分)

说明：圣彼得堡见证1861年农奴制改革，俄国迈向近代化；见证十月革命，俄国走上社会主义道路；见证1991年苏联解体，社会制度发生重大变化。(8分)

(2) (8分)

纬度高，北冰洋沿岸封冻期长；河流结冰期较长，通航期短；河流流向与资源主要流向不一致；区域内人口(城市)稀少，经济欠发达，对交通运输需求小。

41. (23分)

(1) (6分)

该竹简作为一手史料，可以为研究战国和秦朝初期农田耕作和山林保护的相关法律制度提供直接证据；竹简律文提出了一系列自然保护措施，体现秦人重视自然保护观念和决策者的自然平衡意识；对今天可持续发展，环境保护有一定借鉴意义。(6分)

(2) (12分)

扩大规模、集聚发展，降低成本，提高效益；  
加强与陶瓷相关产业的分工与协作，提升专业化水平；  
加强技术投入，提高产品质量与档次；  
加强宣传，扩大品牌知名度；  
稳定国内市场，开拓新的国际市场；  
保护和传承陶瓷工艺文化，重视创新设计；  
完善社会化服务体系；  
合理利用资源，保护生态环境。

(3) (5分)

例，自觉自律：在我国，公民的权利和义务是统一的。在享受绿色美丽的自然环境同时，一切单位和个人都有保护环境的义务，保护环境、人人有责。在西藏生活的人们，不仅要低碳生活，不破坏自然环境，还要充当环保卫士，自觉履行宣传和监督的义务。去西藏旅游者，也要文明旅游，保护自然生态环境，遵守法律和规定。