



2023 届高三考试 文科综合试题

考生注意：

1. 本试卷分第 I 卷(选择题)和第 II 卷(非选择题)两部分,共 300 分。考试时间 150 分钟。
2. 请将各题答案填写在答题卡上。
3. 本试卷主要考试内容:地理:必修 1、必修 2、选修 3、选修 6。政治:必修 1,必修 2 第 1~4 单元。历史:中国古代史,世界史、近代史,选修。

第 I 卷 (选择题 共 140 分)

本卷共 35 小题,每小题 4 分,共 140 分。在每小题所给的四个选项中,只有一项最符合题目要求。

百度指数是指以海量网民行为数据为基础的数据分析平台,能够反映出搜索词汇的空间信息。每个词汇的百度指数代表该词汇的搜索频次,搜索词汇频次越高,该词汇的百度指数就越高。下表示意“滑雪”的百度指数省市排名。据此完成 1~2 题。

排名	省级行政区
1	京
2	粤
3	鲁
4	冀
5	浙
6	苏
7	沪
8	豫
9	辽
10	川

1. 黑龙江、吉林冰雪资源自然禀赋较好,但“滑雪”的百度指数未进入前十名,主要原因可能是
A. 人口流失多 B. 滑雪场少 C. 经济较落后 D. 网络不畅
2. 根据“滑雪”的百度指数推测,为满足我国冰雪运动的需求,最适宜在
A. 北京新建大量高品质滑雪场
B. 东北地区关停部分滑雪场
C. 长江流域建设人工补雪滑雪场
D. 广东建设高山自然滑雪场

都市区是由高度集中的中心城市和与之紧密联系的外围地区结合而成的空间综合体,都农关系从对立走向融合是都市区发展的必然趋势。下表示意日本东京都市区 1960~2020 年农业生产指标变化。目前,东京都市圈的特色水果、蔬菜、花卉产业发达。据此完成 3~5 题。

年份	耕地面积/ 公顷	农户/户	经营规模占比/%				劳动力年龄分布/人	
			<1公顷	1~3公顷	3~5公顷	>5公顷	15~65岁	65岁以上
1960	31140	51724	80.93	19.01	0.06	0.00	87645	21473
1970	19299	38400	87.40	12.52	0.07	0.01	41502	16456
1980	12413	38688	90.69	9.08	0.15	0.08	30597	10632
1990	10037	20679	81.94	17.21	0.63	0.23	17900	8169
2000	7415	15460	81.69	17.20	0.76	0.34	10715	9000
2010	5826	13099	80.73	18.48	0.38	0.41	6055	6910
2020	4058	9567	83.99	15.11	0.19	0.71	6099	6317

3. 1960~2020年,表中下列东京都市区农业生产指标变化幅度最大的是

- A. 农户户数
B. 小规模地块比重
C. 耕地面积
D. 高龄劳动力数量

4. 东京都市区农业经营规模占比结构发生变化,主要是因为

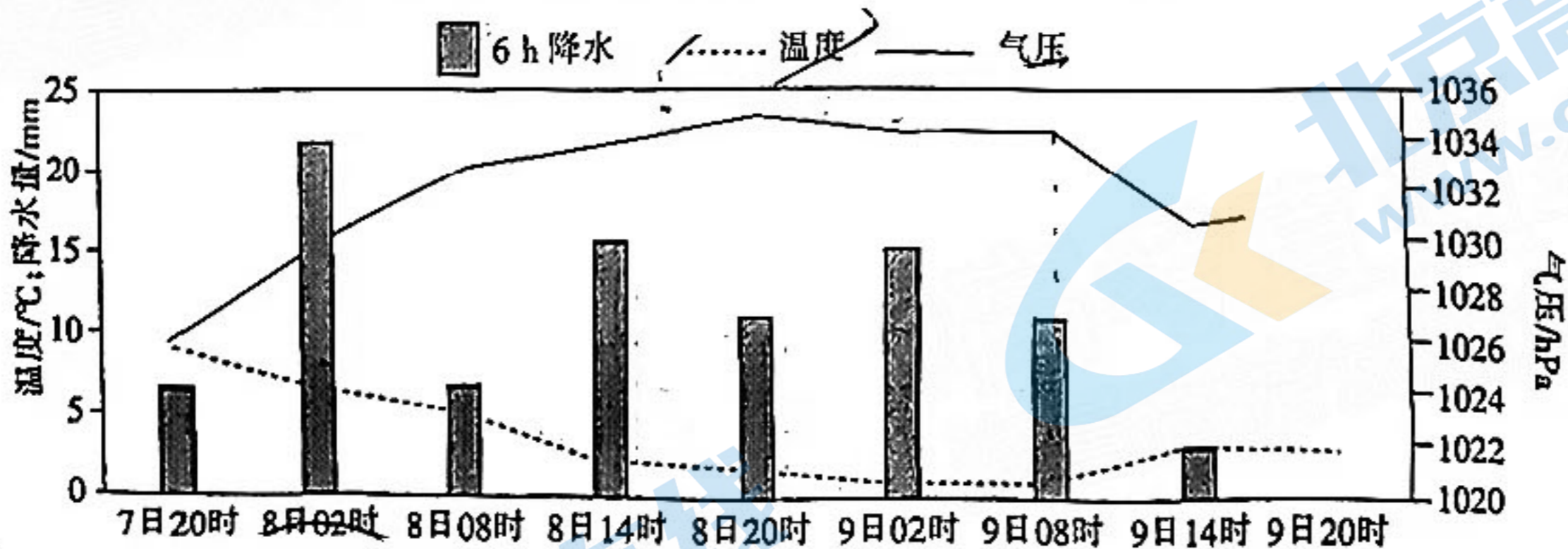
①机械生产推广 ②市场需求多样 ③劳动力年轻化 ④土地流转整合

- A. ①③
B. ①④
C. ②③
D. ②④

5. 为促进都农关系从对立走向融合,当地应该

- A. 严守都市区耕地面积红线
B. 引导人口向第一产业流动
C. 推动都市区农业产品单一化
D. 鼓励半闲置农地向果园转化

鄂西南山区某地 2016 年 11 月由于冷锋过境带来降水,并逐渐由降雨向降雪转变,持续时间较长。下图示意本次降水过程的天气要素变化。据此完成 6~8 题。



6. 8日下午由降雨转向降雪主要是因为

- A. 上升气流增强
B. 冷气团持续侵袭
C. 水汽含量下降
D. 降水量波动上升

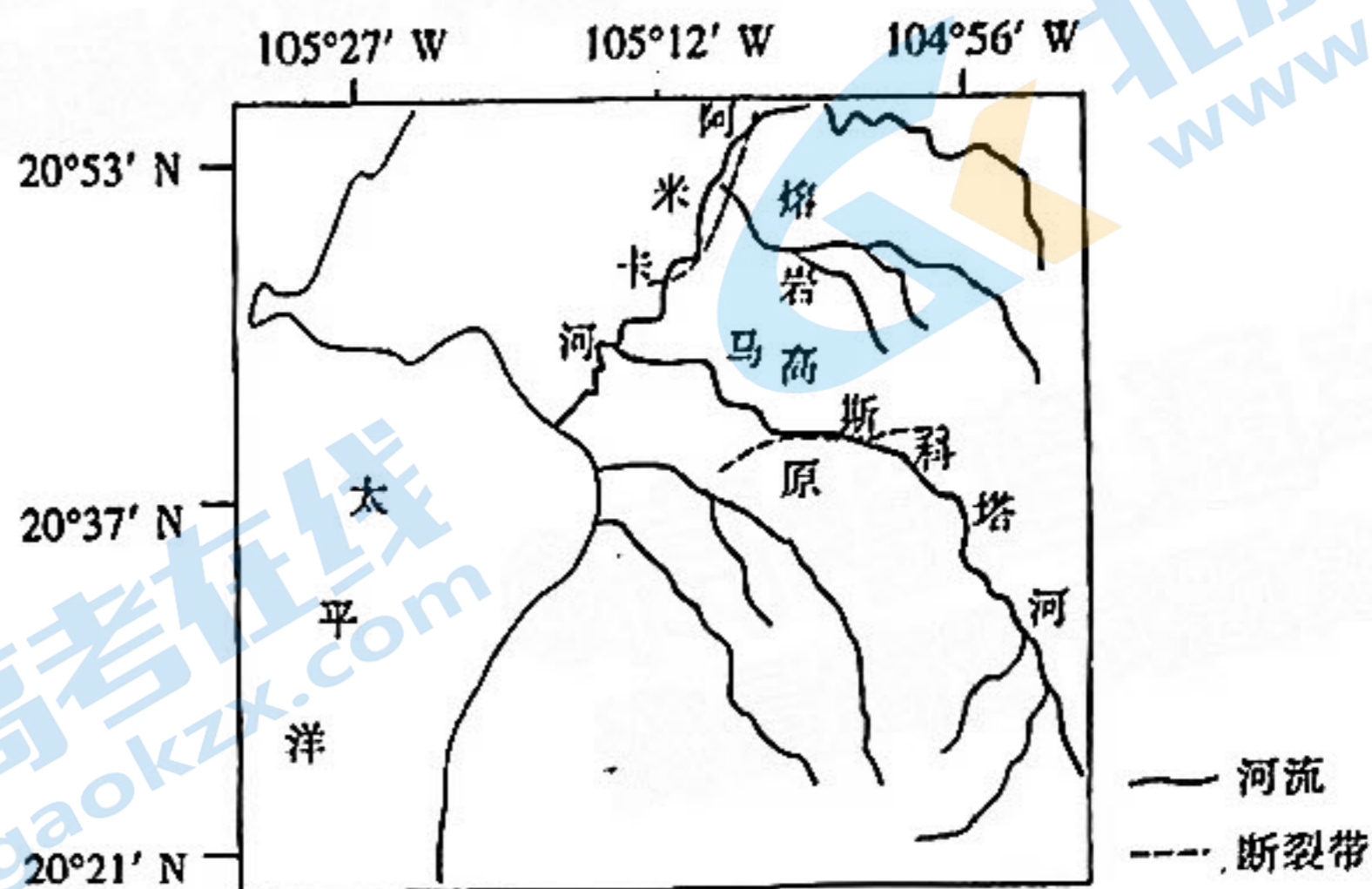
推测冷锋过境的时间大约是在

- A. 7日14时~20时
B. 7日20时~8日02时
C. 8日8时~14时
D. 9日8时~14时

8. 与8日相比,9日

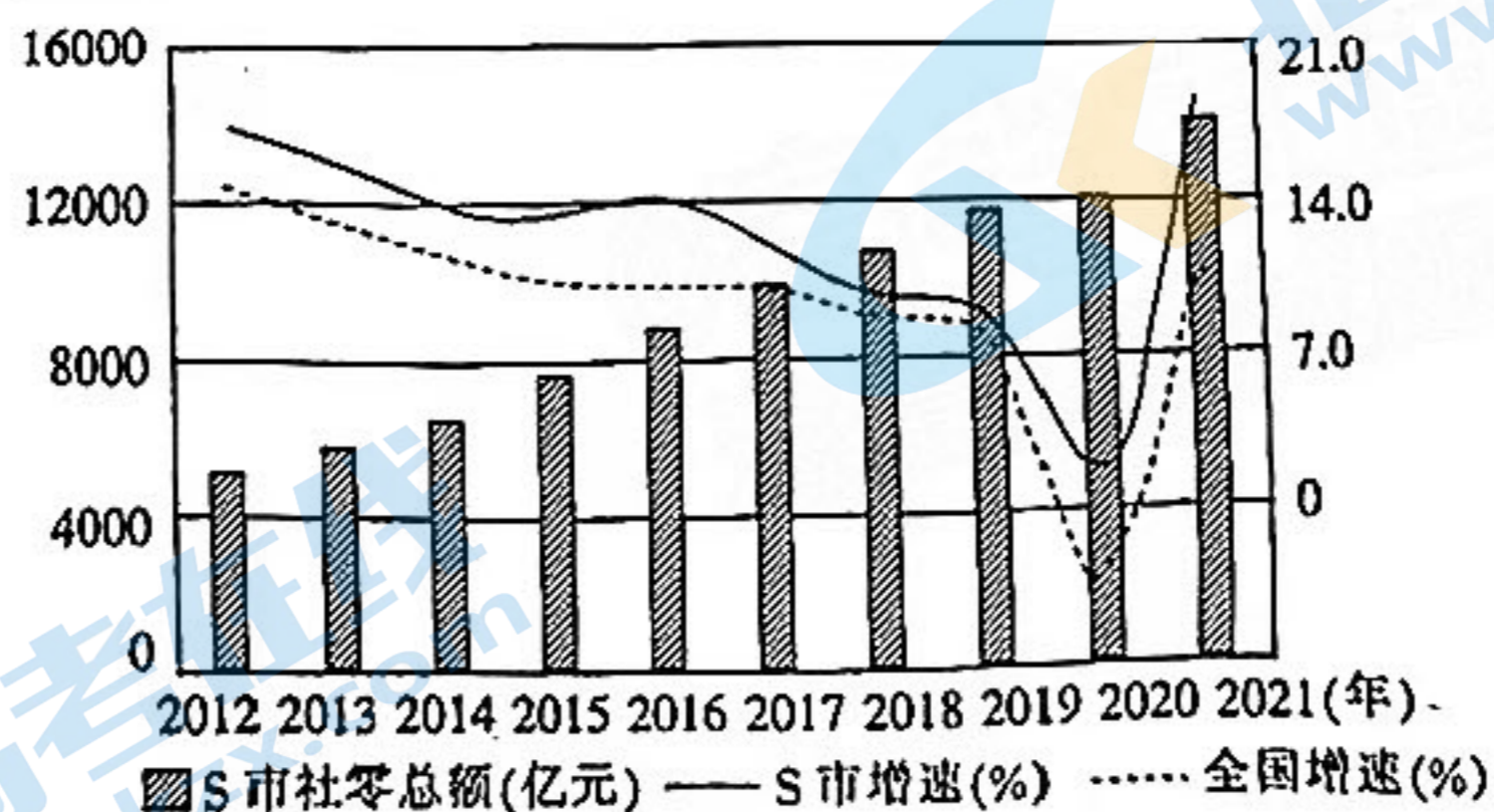
- A. 气温下降明显
B. 平均风速较大
C. 空气质量较好
D. 午后对流较强

阿米卡河和马斯科塔河流域原本为地堑,流水在地堑中切割古沉积层发育河道。上新世时期,岩浆沿着地堑薄弱地带溢出,形成平坦的熔岩高原。岩浆活动期间,大量火山碎屑进入河道,河流侵蚀速率暂时减缓。当熔岩高原形成后,阿米卡河和马斯科塔河上游地势抬升,水系形态发生了较大的变化。下图示意阿米卡河和马斯科塔河流域。据此完成9~11题。



9. 该熔岩高原位于
- A. 厄瓜多尔高原
B. 墨西哥高原
C. 埃塞俄比亚高原
D. 帕米尔高原
10. 岩浆活动期间,河流侵蚀速率减缓,主要是因为
- A. 河流径流量减小
B. 河道坡度变缓
C. 河流含沙量增大
D. 河流频繁改道
11. 熔岩高原形成后,对阿米卡河和马斯科塔河流域产生的影响是
- A. 溯源侵蚀增强
B. 多向心状水系
C. 河流落差减小
D. 干流长度缩短

12. 以下是2012年以来S市社会消费品零售总额及其增速。



下列有助于保持上述变化趋势的合理举措是

- ①鼓励市民信贷消费,改善市民当前生活水平和质量
②实施电商直播带货专项工程,打造产地直播基地
③打造国际消费中心城市,大力推动消费扩容提质
④发展夜间经济,提高食品消费在家庭消费中的占比

A. ①②

B. ①④

C. ②③

D. ③④

13. 2022年,某品牌小家电企业推出行业首款0涂层电饭煲,研发出不锈钢材质的内胆,并采用原创的水润膜技术,让内胆不需要增加涂层也容易清洗。这款0涂层电饭煲不仅做出来的米饭口感好,还消除了消费者对于内胆涂层脱落的担忧,上市至今一直保持销量领先,成为“叫好又叫座”的产品。由此可见

- ①立足市场需求创新才能激发传统品类消费活力
- ②企业坚持差异化经营有利于增强自身竞争优势
- ③企业成功经营必须坚持走与众不同的创新道路
- ④丰富品牌组合是企业参与市场竞争的有效手段

A. ①② B. ①③ C. ②④ D. ③④

14. 从推动人才管理职能部门简政放权到分类推进人才评价机制改革,从深化人才激励机制改革到科研经费使用管理改革……党的十八大以来,以习近平同志为核心的党中央坚持深化人才发展体制机制改革,着力破除人才培养、流动、使用、发挥作用中的各种障碍。此举产生的预期影响的传导路径正确的是

- ①我国的人才优势持续转化为经济社会高质量发展的红利
- ②构建科学规范、开放包容、运行高效的人才发展治理体系
- ③最大程度地激发我国人才创新创业创造的积极性和主动性
- ④促进人才规模、质量、结构与经济社会相适应,相协调

A. ③→④→②→① B. ②→④→③→①
C. ②→③→①→④ D. ④→①→②→③

15. 2022年8月,国家发展改革委等6部门印发通知,阶段性调整社会救助和保障标准与物价上涨挂钩联动机制,加大对困难群众物价补贴力度。同时,将领取失业补助金人员和低保边缘人口等两类群体,阶段性新增纳入价格补贴联动机制保障范围。国家此举

- ①旨在通过第三次分配保障居民基本生活稳定
- ②发挥了财政改善民生、促进社会公平的作用
- ③创新扶贫方式,能增加低收入群体可支配收入
- ④坚持以人民为中心,坚决兜住兜牢民生底线

A. ①③ B. ①④ C. ②③ D. ②④

16. 2022年以来,世纪疫情、国际地缘政治冲突相互交织,经济发展环境的复杂性、严峻性、不确定性上升,超预期因素引发的风险增大。我国不少地方财政收入下滑幅度较大,而刚性支出不减,收支矛盾有所加大,超出了一些地方的年初预期。对此,地方可以采取的合理措施有

- ①盘活存量财政资金,提高财政资金使用效率
- ②优化财政支出结构,实现财政收支基本平衡
- ③适度增发地方政府债券,弥补财政收支缺口
- ④深化财税体制改革,增加国有企业上缴利润

A. ①③ B. ①④ C. ②③ D. ②④

17. 2022年7月,覆盖粤、桂、滇、黔、琼五省区的南方区域电力市场启动试运行。在区域电力市场中,电能交易直接由买卖双方商定,电网公司不再作为购电主体,而是充当起配送商的角色

色。这意味着水力资源禀赋强的云南、贵州等地可以把丰水期多发的电卖到广东等用能大省。建设区域电力市场的意义是

- ①便利市场主体交易,更大范围优化电力资源配置
- ②落实区域协调发展理念,解决经济发展内外联动问题
- ③彰显电力的商品属性,使电价更好反映电能的供需关系
- ④建设全国统一电力市场体系,弥补市场自发性调节的缺陷

A. ①② B. ①③ C. ②④ D. ③④

18. 当前,我国制造业对各类资源要素的吸聚力正在不断增强,越来越多外资主动投向先进制造、高新技术、节能环保等重点领域。中国德国商会、中国美国商会的报告指出,超七成德资企业、超六成美资企业计划增加在华投资,多家知名跨国企业围绕低碳领域加大在华布局,这表明

- ①中国制造业立足外资转变经济发展方式
- ②外国在华企业看好中国经济的发展前景
- ③外资企业成为拉动经济增长的首要因素
- ④中国优化外资结构,实现高水平对外开放

A. ①② B. ①③ C. ②④ D. ③④

19. 2022年前8个月,西部陆海新通道海铁联运班列累计运输货物49.86万标准箱,同比增长26.8%。目前,该联运班列已辐射16个省份、59个城市、111个站,运输品类由最初的陶瓷、板材等十几种增加至现在的电脑配件、新能源汽车配件等640多种,货物通达全球113个国家和地区的335个港口。可见,开行该班列能够

- ①拉动西部地区经济发展,增强我国发展的整体性
- ②为经济全球化提供强有力的载体,发展国际贸易
- ③促进供应链稳定畅通,构建国内国际双循环格局
- ④发挥贸易双方比较优势,深化生产领域的国际分工

A. ①③ B. ①④ C. ②③ D. ②④

20. 为了做好《中华人民共和国网络安全法》与相关法律法规的衔接协调,完善法律责任制度,保护个人、组织在网络空间的合法权益,维护国家安全和公共利益,2022年9月,国家网信办会同相关部门起草了《关于修改〈中华人民共和国网络安全法〉的决定(征求意见稿)》并向社会公开征求意见。由此可见

- ①我国公民可以参与最为广泛而深刻的民主实践
- ②我国公民个人利益与国家利益具有内在一致性
- ③我国的法律是人民群众利益和意志的集中体现
- ④积极参与民主决策是公民对国家的责任和义务

A. ①② B. ①④ C. ②③ D. ③④

21. 为进一步缩短纪检监察机关与群众之间的距离,为群众举报搭建一个更加方便、快捷、直接的监督平台,“廉洁成都”微信专门研发了“一键拨号”功能,群众只要打开微信就可以让自己的监督举报、诉求“一键直达”纪委。这一举措

- ①发挥了社会舆论对权力监督的独特作用
- ②为公民行使监督权提供了制度保障
- ③尊重了人民群众在国家治理中的主体地位
- ④体现了社会主义民主政治的本质和核心

A. ①② B. ①④ C. ②③ D. ③④

22. 某地举办“政企茶叙会”，会上，个体工商户代表们畅所欲言，围绕商户经营中存在的各方面困难提出相应诉求。工作人员就相关政策进行讲解，并就个体工商户所提出的相关事项一一作详细记录，会后将对反映的问题进行梳理后推送至各职能部门予以处理，并跟踪督办。“政企茶叙会”模式

- ①搭建了公民与政府之间良性互动的平台
- ②畅通了公民参与政府决策的民主渠道
- ③创新了政府管理社会公共事务的方式
- ④可以提高政府管理和服务的能力和水平

A. ①③ B. ①④ C. ②③ D. ②④

23. 《中华人民共和国行政处罚法》明确规定，违法行为轻微并及时改正，没有造成危害后果的，不予行政处罚。国务院常务会议指出：“规范交通、税务、应急等领域执法，科学制定裁量基准，对轻微交通违法、一般交通违法初犯偶犯等更多采取警告方式，慎用或不适用罚款，在税务执法领域研究推广‘首违不罚’清单制度。”国务院此举

- ①把权力关进制度的笼子，杜绝了权力的滥用
- ②旨在限制行政权力行使，增强公众自律意识
- ③表明政府严格依法行政，优化营商环境
- ④契合了尊崇法治与彰显执法温度统一的要求

A. ①② B. ①④ C. ②③ D. ③④

24. 孟子有言：“诸侯有行(周)文王之政者，七年之内，必为政于天下。”韩非却针锋相对地指出，“故(周)文王行仁义而王天下，偃王行仁义而丧其国”，“仁义用于古而不用于今”，并认为“万乘之主、千乘之君所以制天下而征诸侯者，以其威势也”。两人的言论实质上体现了

- A. 无为与有为之争 B. 王道与霸道之争
- C. 民主与专制之争 D. 复古与革新之争

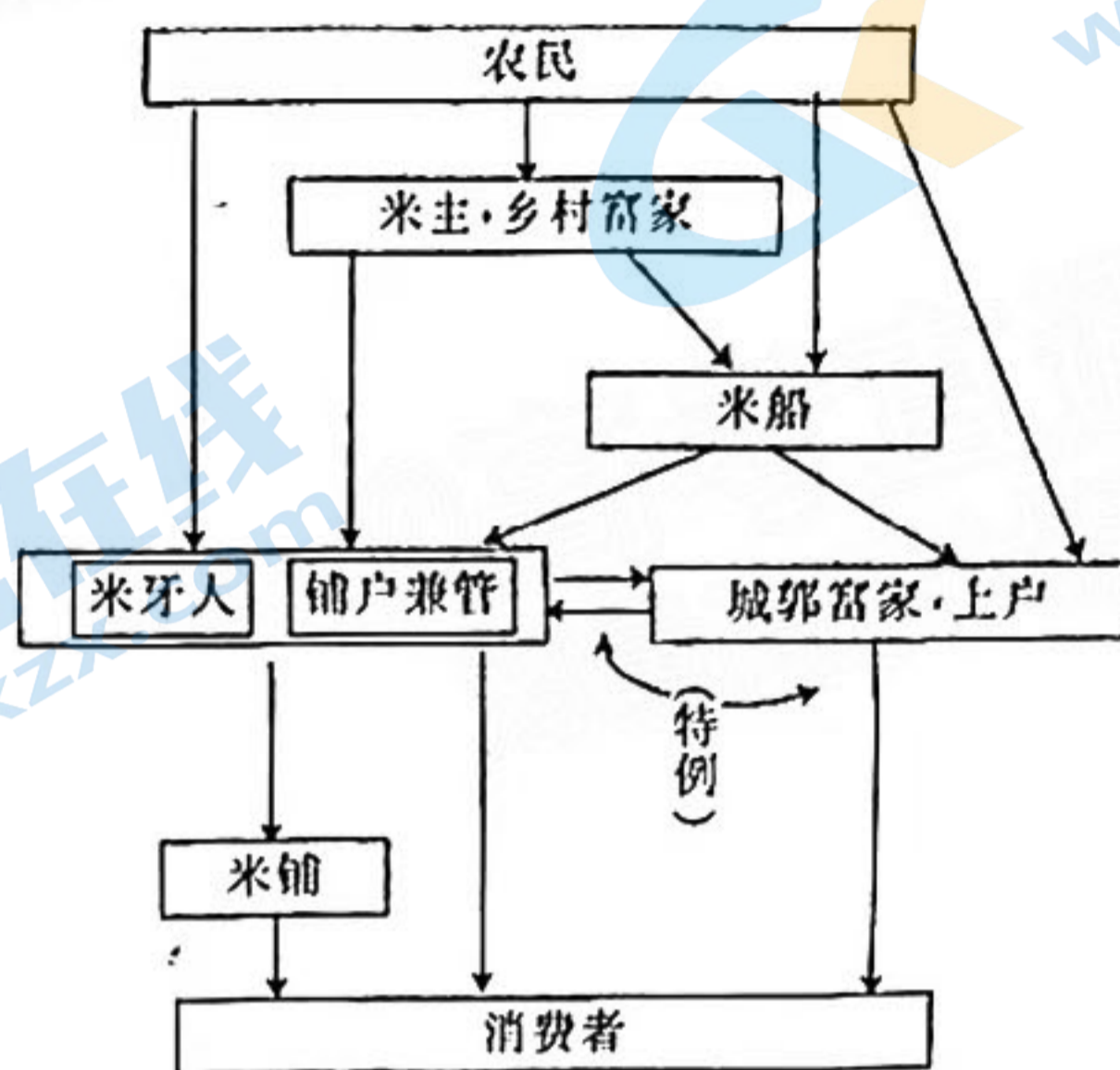
25. 东汉初年，官府手工业作坊还有相当大的规模，盐铁业仍然为国家所掌握。到和帝(79—106年)时，政府被迫下令盐铁开禁，只设官收税。东汉后期，崔寔在《政论》中写道：“刀牟悉钝，故边民敢斗健士，皆自作私兵，不肯用官器。”这一变化出现的重要原因是

- A. 重农抑商政策的废弛 B. “工商食官”制的衰落
- C. 地主庄园经济的发展 D. 地方王国势力的膨胀

26. (南朝)梁初无中正制，“州置州重、郡置郡崇、乡置乡豪各一人，专典搜荐，无复膏粱寒素之隔”，“随才试吏”。北周武帝选官“不限资荫，唯在得人”，“罢门资之制”。据此可知，南北朝后期

- A. 寒士获得同等入仕机会 B. 科举取士初显成效
- C. 士族子弟丧失任官资格 D. 中央集权有所强化

27. 韩愈在《送高闲上人序》中写道：“张旭善草书，不治他技……天地万物之变，可喜可愕，一寓于书。故旭之书，变动犹鬼神，不可端倪。”由此可知，张旭的书法风格
- A. 反映了宏大开放的时代气象
B. 彰显了统一法度的社会要求
C. 体现了安民济世的士人情怀
D. 适应了市民阶层的审美观念
28. 有学者在研究基础上绘制了南宋米市场的结构示意图(如下图所示)。对图中信息解读正确的是，南宋



- A. 自然经济趋于瓦解
B. 自耕农经济地位提升
C. 政府放松抑商政策
D. 城市经济稳定性增强
29. 明代前期，督抚官员以行使监察职能为主，此外还处理地方特定事务；到明代中后期，督抚逐渐演变为中央派驻地方的最高军政长官，监察职能已不再是其主要职能，但在行政序列上，督抚依然隶属于都察院系统。这一变化反映了明代
- A. 地方监察效能的提升
B. 中央与地方关系的调整
C. 君主专制制度的演进
D. 基层治理体系日益完善
30. 罗马共和国后期，万民法逐渐兴起。罗马帝国初期，以盖尤斯为代表的法学家认为万民法就是自然法。有的法学家还提出“自然法是自然教导一切动物(包括人)的法律，而公民法仅是一族的特殊法律”。这说明当时
- A. 罗马居民地位趋于平等
B. 罗马社会的危机不断暴露
C. 万民法地位高于公民法
D. 自然法与公民法存在冲突
31. 16世纪末，荷兰人先后出版了《葡萄牙在东方航行的旅程记述》和《林斯乔坦到东方和葡属印度的航海志》，系统讨论了东印度群岛及其物产等。此外，书中还指出爪哇是葡萄牙人很少到的地方，是建立贸易中心的理想地点。由此可见，当时
- A. 东西方经济联系进一步加强
B. 荷兰确立“海上马车夫”地位
C. 欧洲国家殖民方式发生变化
D. 亚洲是欧洲殖民的主要目标
32. 在18世纪的欧洲，公开的音乐会逐渐代替了由贵妇人组织的小型沙龙。音乐不再被认为是“上帝的恩赐，只能用来歌颂上帝”，而开始如卢梭所说的，“模仿一种原始的说白歌曲，一种人类自然的语言”。这反映了

- A. 妇女地位的下降
B. 浪漫主义音乐的兴起
C. 宗教迷信的破除
D. 人文主义思想的发展

38. 19 世纪中期,英国爆发了工人宪章运动,其间出现三次高潮,其情况如下表所示。据此可知,英国工人宪章运动

	1839 年	1842 年	1848 年
工人请愿书的大致内容	年满 21 岁的男子都有普选权,选举投票应秘密进行,废除议会候选人的财产资格限制,国会每年举行一次改选,平均分配选区	不仅提出了政治要求,还提出包括缩短工作日、改善车间劳动条件、提高工资等经济要求	号召“向暴君手里夺取自由”“决不再作驯服的奴隶”
请愿书上签名的工人数量	约 125 万	约 331 万	约 500 万

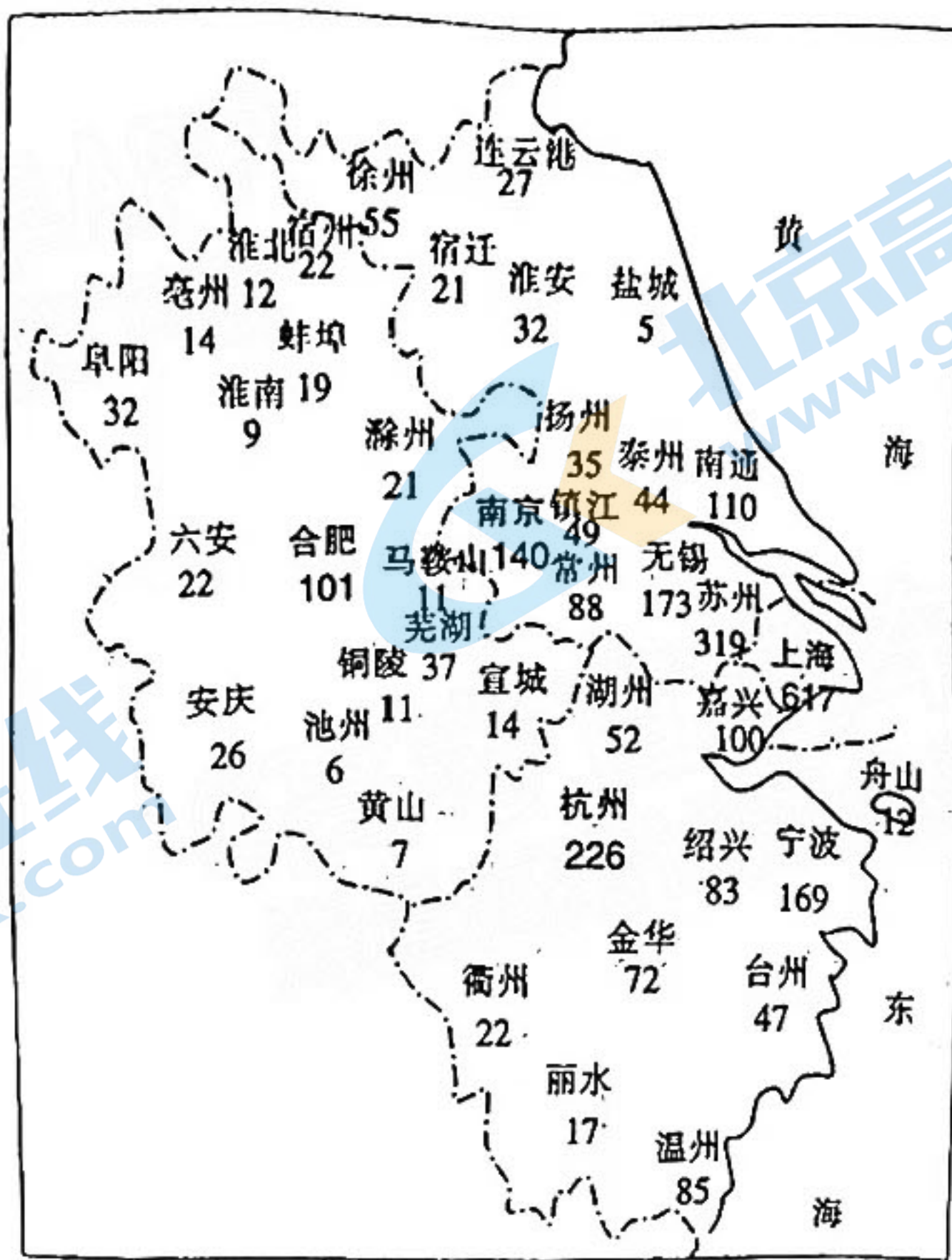
- A. 以科学革命理论为指导
B. 体现出工人阶级觉悟的提高
C. 高举社会主义民主旗帜
D. 把斗争矛头指向了专制君主
34. 有学者指出,德意志帝国的皇帝无法建立真正的皇权统治,他只是联邦主席;联邦会议不能把帝国改造成邦联,帝国里存在一家独大的普鲁士王国;帝国议会不能推翻帝国建立人民共和国,它没有完整的立法权,甚至连弹劾帝国宰相都做不到。该学者旨在说明,德意志帝国的建立
- A. 强化了中央集权
B. 沿袭了历史传统
C. 体现了务实精神
D. 违背了民主潮流
35. 爱迪生创办了美国第一个工业实验室,这个实验室被戏称为发明工厂,后来发展成为美国通用电气公司。从 1868 年到 1910 年,以爱迪生的名字命名的新发明就有 1300 多项。这一发展历程表明
- A. 经济发展动力发生转变
B. 美国率先进入电气时代
C. 工业革命助推科技创新
D. 现代工厂制度加快确立

第 II 卷 (非选择题 共 160 分)

本卷包括必做题和选做题两部分。第 36~42 题为必做题,每道试题考生都必须作答。第 43~47 题为选做题,考生根据要求作答。

36. 阅读图文材料,完成下列要求。(24 分)

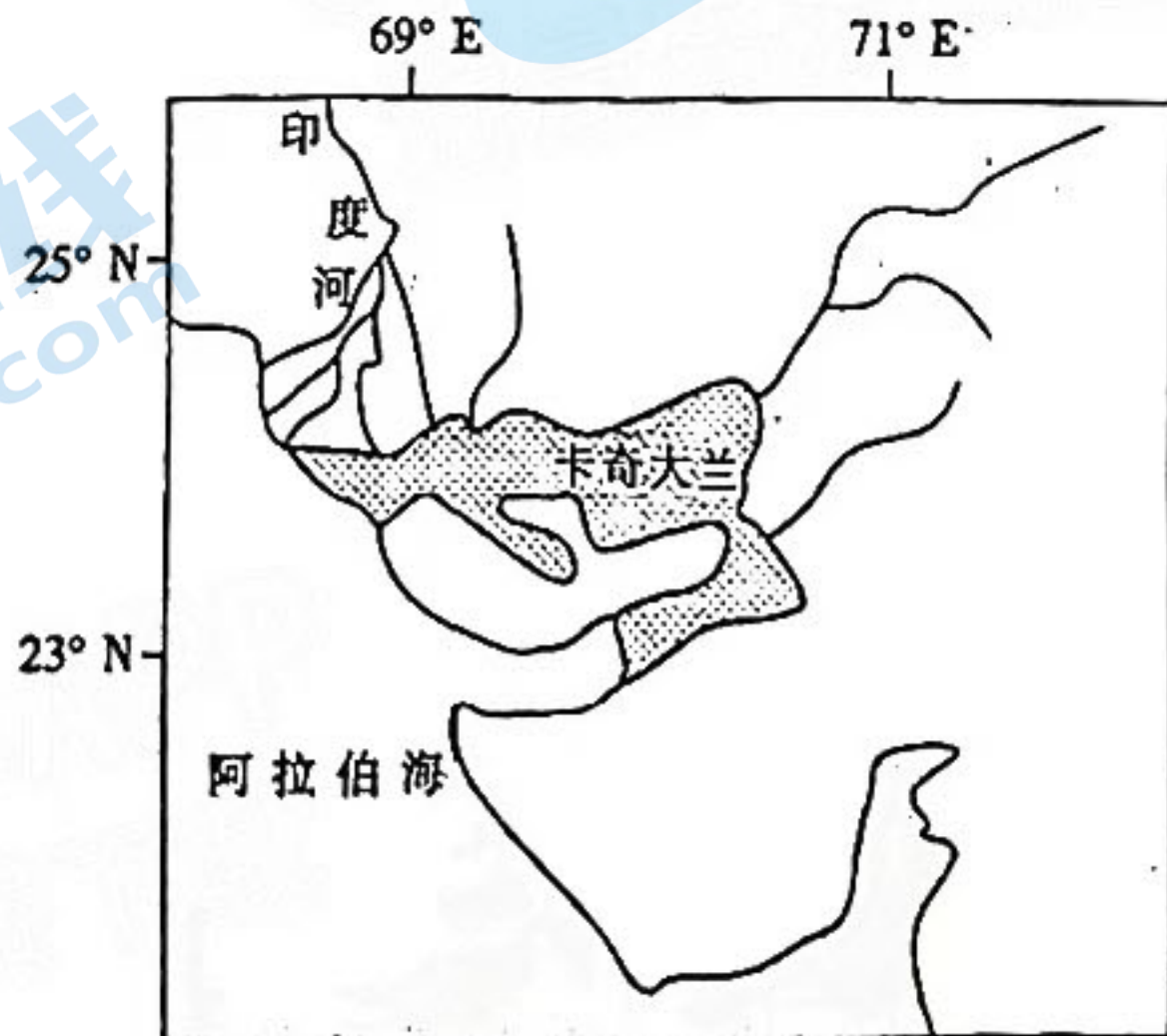
某养车品牌于 2011 年在上海成立,为个人和企业提供轮胎更换、汽车保养、汽车维修、美容洗车、紧急救援等一系列养车用车服务。2016 年该品牌开创以数字化能力为基础的汽车养护门店,2020 年起全面推广“智慧门店”,智能货品采购协助门店做好库存分析,智能客户管理可通过大数据进行客户档案分析,智能门店管理实现了线上对各门店进行实时垂直可视化的管理。目前,在全国该品牌门店已经超过 3500 家,主要分布在长三角地区,各城市门店数量差异较大。该品牌在上海设有 617 家门店,已经超过多数专家判断的当前市场容量,但其仍然在扩张。下图示意该品牌在长三角地区各城市的门店数量。



- 简述该品牌养车门店在长三角各城市数量的分布特征。(6分)
- 分析该品牌在上海开设的门店数量超过当前市场容量的原因。(6分)
- 说明该品牌推广“智慧门店”对降低运营成本的积极作用。(6分)
- 有专家对该品牌优化空间布局提出两点建议,请任选其一,并说明理由。(6分)
 建议①:侧重向黄山、丽水等旅游城市扩展。
 建议②:侧重向省会城市扩展。

37. 阅读图文材料,完成下列要求。(22分)

卡奇大兰地处印度河河口,年均降水量约 200 mm;地质历史时期为古海湾。1819 年附近的强烈地震改变了地表形态和河流流向,该地泥沙淤积,地势高于高潮位。目前,卡奇大兰每年在沼泽、干滩、盐漠之间转换。出现沼泽期间,印度野驴、火烈鸟等野生动物丰富而干滩期间野生动物更加集中,易于拍摄。每年特定的两个月,卡奇大兰出现盐漠,此时野生动物的生存威胁较大。下图示意卡奇大兰的位置。



(1)分析该地多发地震的原因。(4分)

(2)说明卡奇大兰出现沼泽期间,野生动物活动面临的主要威胁。(6分)

(3)简述卡奇大兰出现干滩期间,野生动物更易于拍摄的原因。(6分)

(4)指出卡奇大兰出现盐漠的季节,并简述理由。(6分)

38. 阅读材料,完成下列要求。(8分)

二手车是汽车全生命周期承上启下的重要一环。根据国际上汽车消费的普遍规律,当一国汽车保有量达到一定程度后,二手车市场就开始放量。当前我国汽车保有量已超过3亿辆,位居全球第一,但我国二手车交易量不到汽车保有量的6%,远低于国际成熟汽车市场比例。新车国六排放标准在全国范围实施以来,少数地方对二手车“政策加码”,不允许外地国五排放标准车辆迁入。同时,还有部分地方限制符合在用车排放标准的二手车迁入,严重阻碍了二手车市场的发展。

2022年5月,国务院印发的《扎实稳住经济的一揽子政策措施》明确要求,全面取消二手车限迁政策。6月1日开始,河北、江苏、天津、浙江、广东等地陆续落实取消国五排放标准二手车限迁政策,这些地方的用户在某二手车电商平台的可选车源范围扩大了约6倍,平台异地车源流通占比也由此前的35%提升至80%,带动了平台车商销量的增长,部分手握较多国五库存车的车商加大折扣力度,加快清库。

结合材料,运用经济生活知识,说明全面取消二手车限迁政策的经济效益和社会效益。

39. 阅读材料,完成下列要求。(12分)

M市拟出台非机动车安全管理条例,强化非机动车安全管理。S小区是该市基层立法联系点之一,小区人口密度大,公共空间有限,若出台条例可能让非机动车充电难上加难。在该市条例草案立法征询座谈会上,小区居民与职能部门各抒己见,围绕“不集中充电就要处罚”等问题展开了激烈的讨论,居民认为小区条件有限,偶尔违规应以批评教育为主或轻罚,且目前集中充电设施数量远远低于非机动车保有量。但相关执法人员则从安全角度考虑,建议重罚以杜绝安全隐患。最终大家提出了充分利用辖区公共空间增加灵活便捷的公共充电桩来破解难题的建设性意见。随后在该社区充电需求集中的路段,一座座“花坛式”充电桩悄然出现,实现了社区居民充电无忧的同时,还成为该地街区一道亮丽的风景线。

结合材料,运用政治生活知识,说明协商民主在M市基层社会治理中发挥的作用。

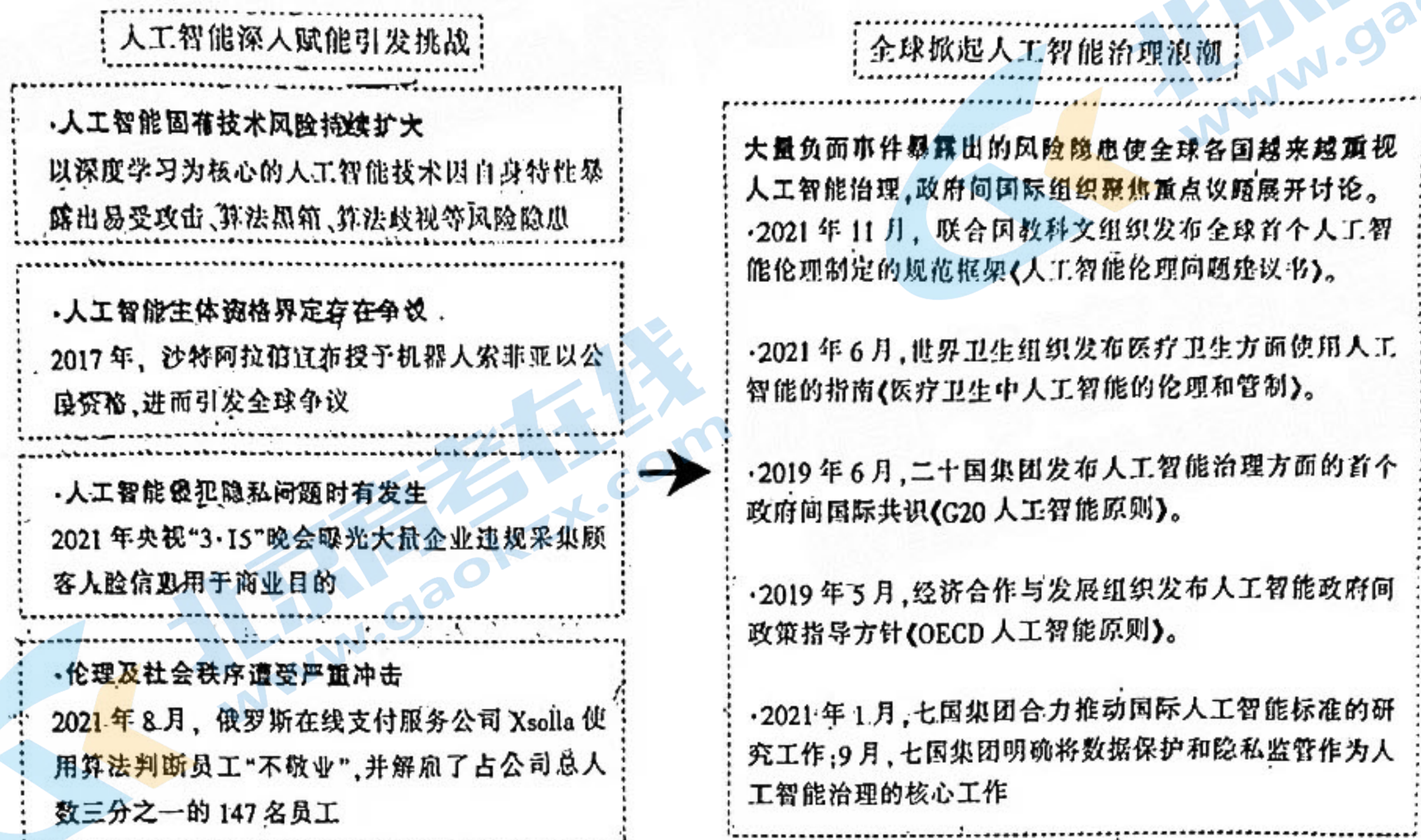
40. 阅读材料,完成下列要求。(32分)

材料一

从人脸识别的逐步应用,到方兴未艾的自动驾驶,人工智能正在越来越多领域发挥作用。据测算,我国人工智能核心产业规模超过4000亿元,企业数量超过3000家。得益于海量数据处理带来的旺盛需求、丰富应用场景提供的试验土壤,我国在计算机视觉、语音识别等领域走在世界前列。2022年8月,科技部发布《关于支持建设新一代人工智能示范应用场景的通知》,支持建设包括智慧农场、智能港口在内的10个人工智能示范应用场景,为牵引推动人工智能落地营造良好的政策环境。

材料二

人工智能在广泛赋能的同时,引发的问題也不断给人类社会带来冲击和挑战,人工智能治理议题引发国际关切,全球掀起人工智能治理浪潮。



材料三

芯片产业是信息技术产业的核心,是支撑经济社会发展的战略性、基础性、先导性产业,也是全球各国在高科技竞争中的必争之地。据业界统计,一些先进芯片的生产包括上千道工序,需要超过70次跨境合作来完成。目前,我国已经成为全球芯片产业中的重要一环。随着近两年人工智能新一轮的爆发,我国人工智能芯片市场规模不断扩大,然而其中90%的芯片依赖于进口,国产芯片只能自供8%左右。

2022年9月,美国商务部发布《2022芯片和科技法案》芯片部分的实施战略,强行给科技领域“筑墙”,人为推动产业“脱钩”。美国商务部部长声称,美国将在半导体领域设立“护栏”,接受政府资助的美国芯片企业至少10年内不能在中国或其他“令人担忧的国家”进行新的高科技投资。

- (1)结合材料一,运用经济生活知识,说明我国助力培育人工智能应用场景的理由。(12分)
- (2)结合材料二,运用政治生活知识,说明我国政府应如何防范人工智能发展带来的风险隐患。(12分)
- (3)结合材料三,运用经济生活知识,批驳美国强行给科技领域“筑墙”,人为推动产业“脱钩”的行径。(8分)

41. 阅读材料,完成下列要求。(25分)

材料一

雅典的公民政治在政治文化方面主要体现为公共性的价值。公共性是指权力运行以公共利益为目的。在古雅典,由于城邦是公共事务和公共利益的载体,所以公共性以公民亲身参与城邦政治的形式呈现出来。公民参与城邦事务既是公民们所应具备的美德,也是获得公民身份的前提条件,它使公民得以接受城邦的权威,形成了公民对城邦共同体的政治认

同。从个人与城邦的关系的角度来看,即表现为个人从属于城邦,个人利益服从于城邦利益,个人自由应当屈从于城邦整体之下。

——摘编自胡琦《古代雅典民主中的公民政治:源流与内涵》

材料二

中国古代虽然没有国家制度的民主,但有丰富的民主思想的论述,有些政治制度也体现了民主思想。尧舜禹时代“天下为公”的禅让制强调“选贤与能”,这是世界历史上最早提出并实践了民主选拔人才管理国家事务的制度。公元841年的国人暴动缘于周厉王压制舆论,体现了民众坚持捍卫言论自由的立场;孔子的“天下有道,则庶人不议”,郑子产的“不毁乡校(郑人讨论国事的地方)”则是保障舆论自由的民主作风的体现。民主的核心内容是对政治权力的制约和监督。唐代三省六部制下的各部门之间相互制衡、决策的程序化也具有鲜明的民主色彩。但是,由于高度集权的封建皇帝专制统治及小农经济的分散落后,我国古代社会基本上没有国家制度上的民主制度,历史发展长期停留在王朝更迭的循环中。

——摘编自李均宏《中国古代民主思想探索》

(1)根据材料一,概括古代雅典公民政治的文化内涵,并结合所学知识简要评价古代雅典民主政治。(12分)

(2)根据材料一、二,比较中国古代民主思想与雅典民主思想的异同,并结合所学知识分析中国古代民主思想未能发展成民主制度的原因。(13分)

42. 阅读材料,完成下列要求。(12分)

材料

近代以来,煤炭成为人类主要能源之一。下表所示是史学界关于煤炭与工业革命研究的三个维度:

维度	概述
社会—经济史 维度	英国工资相比于其他国家较高,且英国拥有十分丰富且廉价的煤炭,于是社会兴起了利用煤炭带动机械以取代人工劳动从而节省成本的热潮,这最终促进了蒸汽机的广泛使用。煤炭被广泛运用于生活,还推动了城市化进程
生态—环境史 维度	工业革命之前的英国经济主要是以依赖动物、植物等有机物能源为主的“有机经济”,但有机物能源依赖土地供应,因此“有机经济”的发展是有限度的;煤炭作为一种矿物能源,在英国不仅丰富廉价,而且能比有机燃料提供更多的热量,煤炭在工业中的广泛使用提高了动力的效率,降低了成本,还推动了英国工业革命的兴起,使英国进入“无机矿物经济”的时代;但煤炭的使用也不可避免地带来了一系列生态环境问题
全球史维度	明清时期,中国南方经济发达,但煤炭主要分布在西北地区,煤炭资源分布远离工业中心;英国煤炭资源丰富,廉价的煤炭为蒸汽动力的普及提供了条件,这使英国最先开展并完成了工业革命,成为“世界工厂”

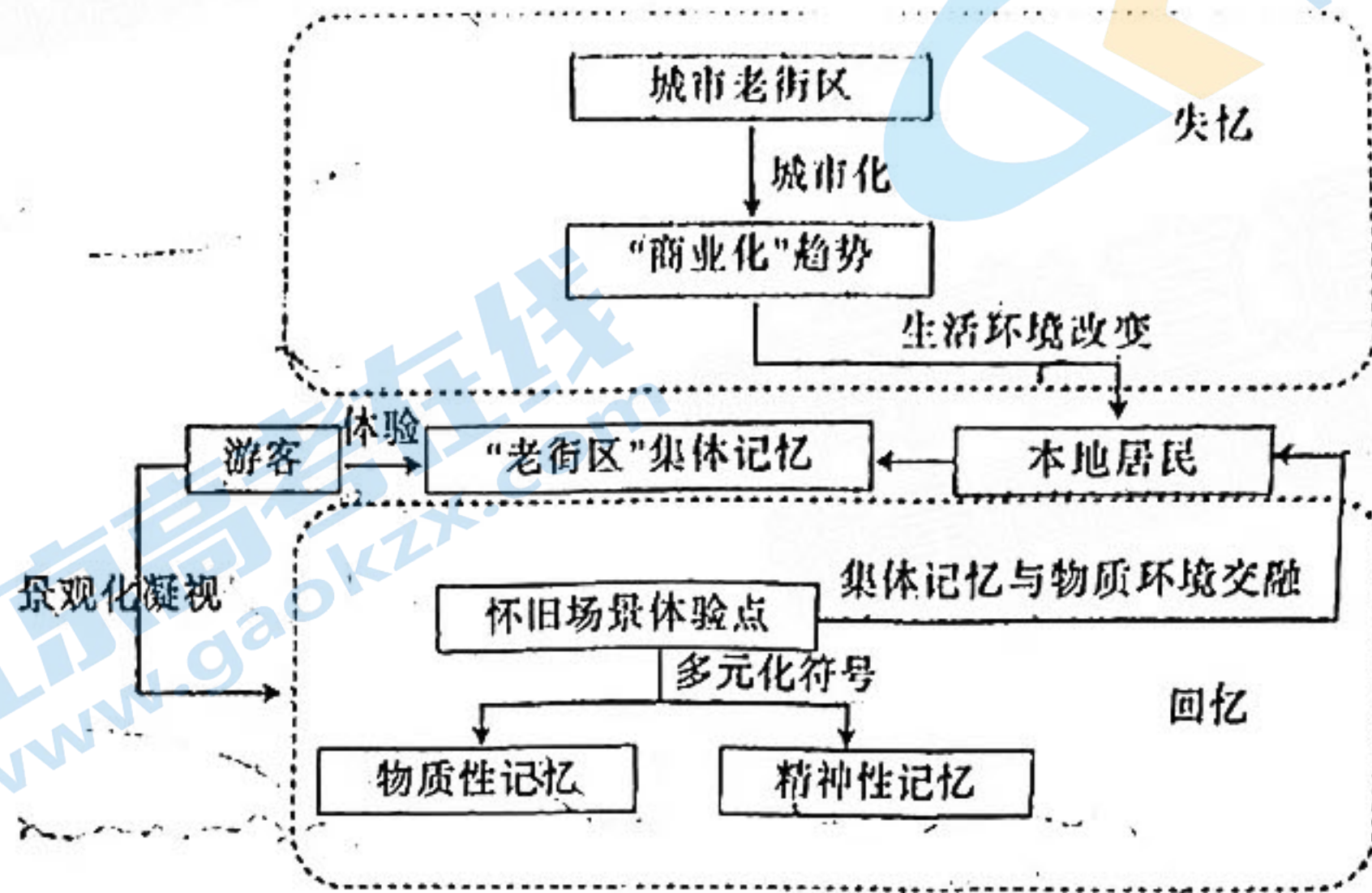
——整理自裴广强《工业革命史煤炭问题研究中的三个维度》

请选择其中的一个维度,围绕“煤炭与工业革命”提炼观点并结合世界近代史的相关史实进行阐述。(要求:观点明确,史论结合,论述清晰。)

请考生从2道地理选考题、3道历史选考题中每科任选一题作答。如果多做,则按所做的第一题计分。

43. [地理——选修3:旅游地理](10分)

某怀旧体验地位于长沙市中心商圈内,以20世纪80年代长沙城为样本,打造成了集餐饮、娱乐、观光等功能于一体的综合旅游目的地。访谈研究表明,“老长沙”集体记忆的追寻与体验是该怀旧体验地的核心吸引力。下图示意该地集体记忆重构模式。



分析该怀旧体验地旅游资源的独特性,并为该类场所重构集体记忆提出合理性建议。

44. [地理——选修6:环境保护](10分)

在土壤中,蚯蚓是动物生物量的最大组成部分,在土壤结构改善中起着重要作用,通常被称为生态系统工程师,但蚯蚓易受土壤中物理、化学和生物因素变化的影响。伊朗北部某地位于冲积平原,年平均降水量1186 mm,年平均气温17.5℃。近年来,当地农民大量引种美洲黑杨作为经济树种。下表示意该地不同林下土壤性质及蚯蚓生物量的差异。

样地类型	蚯蚓生物量/(g·m ⁻²)	pH值	有机碳含量/%
油柴柳(天然林)	4	7.98	1.61
高密度美洲黑杨	13	7.85	2.41
中密度美洲黑杨	21	7.82	2.85
低密度美洲黑杨	9	7.94	1.70

分析引种美洲黑杨提高蚯蚓生物量的理由,并简述当地引种美洲黑杨应注意的问题。

5. [历史——选修1:历史上重大改革回眸](15分)

材料

贞观初,“以法理天下,尤重宪官,故御史复为雄要”,“御史为风霜之任,弹纠不法,百僚震恐,官之雄峻,莫之比焉”。台院侍御史以弹奏为基本职责,重点在纠弹职位较高的官员。察院监察御史在御史台中品秩虽低,但职务繁杂,百司畏惧,其“分察百僚,巡按郡县,纠视刑狱,肃整朝仪”,此外还掌祭祀、监南选、监司射、监决狱、分察尚书省六部等。贞观年间,全国被划为十道监察区,由监察御史十人分巡州县,监察御史以六条巡按州县,分巡时威仪显赫,“州县祇请相望,道路牧宰祇候,僮仆不若”。《贞观政要》中记载:“(太宗)深恶官吏贪浊,有

枉法受财者,必无赦免,在京流外有犯赃者,皆遣执奏,随其所犯,置以重法。”同时,唐太宗也对清廉官员和清正之举大加褒奖弘扬。

——摘编自吴毅《唐朝贞观年间防治贪腐的政策举措释析》

- (1)根据材料,概括唐太宗吏治改革的主要内容。(6分)
- (2)根据材料并结合所学知识,简析唐太吏治改革的历史作用。(9分)

46. [历史——选修 3:20 世纪的战争与和平](15 分)

材料

1945年8月17日,印尼宣布独立。同年10月,荷兰返回印尼,力图重建殖民统治。1947年7月,荷兰对印尼共和国采取警察行动。次年1月,荷兰、印尼在美国“伦维尔”号军舰上签订有利于荷兰维护其殖民权力的《伦维尔协定》。1948年9月,印尼共和国政府镇压了共产党领导的茉莉芬起义。同年12月,荷兰攻占印尼共和国首都日惹。1949年3月29日,美国明确主张支持印尼独立,并希望印尼尽快建立民族主义者领导的政府。之后,美国转而向荷兰施压,支持联合国关于停火、释放政治犯、荷军撤出印尼的决议。4月起,美国积极介入荷兰、印尼谈判。7月,印尼政府重建,荷兰与印尼停火。11月,荷兰、印尼在海牙签订《圆桌会议协定》,规定荷兰于当年12月30日向印尼联邦移交主权,结束荷兰对印尼长达三个半世纪的殖民统治。

——摘编自刘莲芬《论杜鲁门时期的美国东南亚政策》

- (1)根据材料并结合所学知识,指出美国在印尼问题上政策的变化及原因。(9分)
- (2)根据材料并结合所学知识,说明美国在印尼问题上政策转变的影响。(6分)

47. [历史——选修 4:中外历史人物评说](15 分)

材料

王国维(1877—1927),中国近代学者、教育家。王国维早年追求新学,接受了资产阶级改良主义思想。他曾留学日本,归国后先后在通州师范学校和苏州师范学堂担任第一批教员,任教期间积极谋求改善教育方式,堪称近代师范教育的先驱。他还翻译诸多教科书,为当时急需教师和教材的教育界作出了突出的贡献。在中国教育史上,王国维最早提出德、智、体、美四育并举以培养“完全之人物”的教育宗旨。他主张大兴高等教育,实行“贵族主义”的兴学政策。他认为大学应承担培养年轻一代理论学术人才的责任,学术应提倡自由和独立。王国维在教育方面的著述甚丰,撰有《叔本华之哲学及其教育学说》《论教育之宗旨》《欧洲大学小史》《法兰西之教育》等。

——摘编自谢维扬等《王国维全集》

- (1)根据材料,概括王国维对中国近代教育的贡献。(8分)
- (2)根据材料并结合所学知识,简析王国维能作出教育贡献的原因。(7分)

关于我们

北京高考在线创办于 2014 年，隶属于北京太星网络科技有限公司，是北京地区极具影响力的中学升学服务平台。主营业务涵盖：北京新高考、高中生涯规划、志愿填报、强基计划、综合评价招生和学科竞赛等。

北京高考在线旗下拥有网站门户、微信公众平台等全媒体矩阵生态平台。平台活跃用户 40W+，网站年度流量数千万量级。用户群体立足于北京，辐射全国 31 省市。

北京高考在线平台一直秉承 “精益求精、专业严谨” 的建设理念，不断探索 “K12 教育+互联网+大数据” 的运营模式，尝试基于大数据理论为广大中学和家长提供新鲜的高考资讯、专业的高考政策解读、科学的升学规划等，为广大高校、中学和教科研单位提供 “衔接和桥梁纽带” 作用。

平台自创办以来，为众多重点大学发现和推荐优秀生源，和北京近百所中学达成合作关系，累计举办线上线下升学公益讲座数百场，帮助数十万考生顺利通过考入理想大学，在家长、考生、中学和社会各界具有广泛的口碑影响力

未来，北京高考在线平台将立足于北京新高考改革，基于对北京高考政策研究及北京高校资源优势，更好的服务全国高中家长和学生。



微信搜一搜

北京高考资讯