

2024 北京海淀高一（上）期末

历史

学校_____ 班级_____ 姓名_____

| | |
|------|--|
| 考生须知 | 1. 本试卷共 8 页，共两部分，共 32 道题。满分 100 分。考试时间 90 分钟。 2. 在试卷和答题纸上准确填写学校名称、班级名称、姓名。 3. 答案一律填涂或书写在答题纸上，在试卷上作答无效。 4. 在答题纸上，选择题用 2B 铅笔作答，其余题用黑色字迹签字笔作答。 5. 考试结束，请将本试卷和答题纸一并交回。 |
|------|--|

第一部分

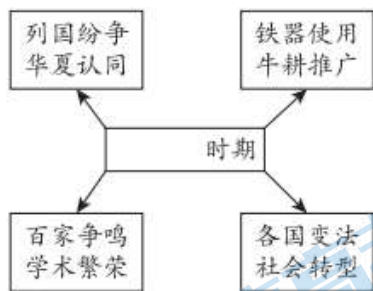
本部分共 30 题，每题 2 分，共 60 分。在每题列出的四个选项中，选出符合题目要求的一项。

1. 《史记》记载：“周武王之灭纣，封召公于北燕。”2021 年，北京琉璃河西周燕国墓葬遗址新出土了刻有“太保（召公）墉（筑城）燕”的青铜卣。由此可知（ ）



- ①铭文印证了《史记》记载
②青铜卣铭文实证北京建城历史
③燕国是西周分封的诸侯国
④召公通过修建城墙对抗商纣王
- A. ①②③ B. ①②④ C. ①③④ D. ②③④

2. 有同学在学习某一时期历史时，绘制了思维导图（下图），这一时期是（ ）



- A. 西周时期 B. 春秋战国
C. 秦汉时期 D. 魏晋隋唐
3. 西汉司马迁认为：“明法度，定律令，皆以始皇起。”他肯定了秦朝的（ ）
- A. 世袭制 B. “焚书坑儒”

C. 中央集权制

D. 严刑峻法

4. 孝文帝迁都中原后，积极吸收中原先进文化和制度。尊孔子，为群臣“班赐冠服”，并“亲祠孔子庙”，依汉律制定礼乐刑罚。上述措施的影响是（ ）

A. 加快了江南地区的经济开发

B. 开始确立儒家学说的正统性

C. 促进了民族交融与文化认同

D. 削弱了门阀士族的政治特权

5. 《唐摭言》记载：“缙绅虽位极人臣，不由进士者终不为美。”与此现象有关的制度是（ ）

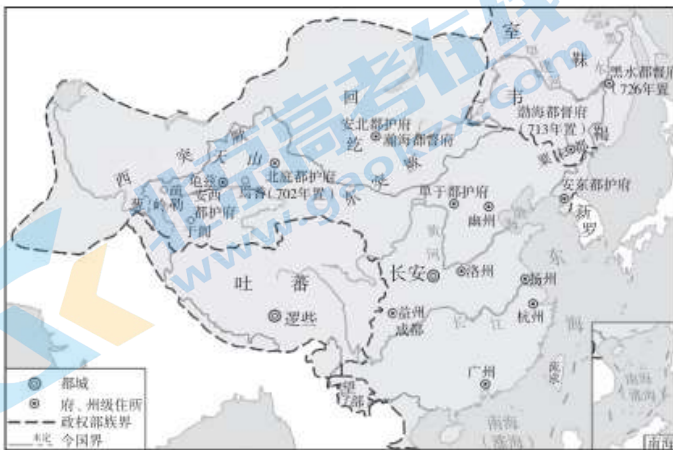
A. 宗法制

B. 察举制

C. 九品中正制

D. 科举制

6. 下图所反映的历史时期应该是（ ）




A. 秦朝

B. 汉朝

C. 西晋

D. 唐朝

7. 下图为敦煌壁画《张议潮统军出行图》（局部），描绘的是敦煌地区的张议潮接受唐朝廷敕封为河西节度使后统军出行的浩大场面，其可以用来研究唐代（ ）



①绘画艺术

②河西地区的治理

③车马仪仗

④中央官职的设置

A. ①②③

B. ①②④

C. ①③④

D. ②③④

8. 北宋开国之初，就对地方官实行任期制，通常是一年一考，三年一任。在任满之后，官员必须离开任职地，回京师重新参加新职的选任。地方官员任期制的实施（ ）

A. 导致古代贵族政治结束

B. 有利于中央集权的加强

C. 源于王安石变法的首创

D. 导致财政状况日益恶化

9. 辽朝开国皇帝耶律阿保机下诏在各地修建孔庙，此后辽朝境内的“华夷”都共同尊孔子为“大圣人”；

西夏开国君主元昊把《孝经》《尔雅》《四言杂字》等翻译为西夏文。辽和西夏的这些做法（ ）

- ①结束了辽、西夏与宋的并立局面 ②造成了不同民族地区的矛盾激化
③有利于统一的多民族国家的发展 ④推动了少数民族地区文化的发展
- A. ①② B. ①④ C. ②③ D. ③④

10. 以下关于中国古代赋税的史实和推论对应正确的是（ ）

| | 史实 | 推论 |
|---|---|-------------|
| A | 汉武帝推行“初算商车”（商贾拥有车船者须缴纳车船税）和“初算缗钱”（对商贾积存的现钱课税） | 有利于汉朝工商业的发展 |
| B | 北魏孝文帝颁布均田令，规定一夫一妇每年纳粟为租，纳帛或布为调，受田农民承担定额租调 | 促进了北魏经济的发展 |
| C | 唐两税法规定“资产少者其税少，资产多者其税多”；地税则按亩征粟，土地多的纳粟多，土地少的纳粟少 | 抑制了唐朝的土地兼并 |
| D | 宋高宗上谕曰：“市舶（海外贸易）之利最厚，若措置合宜，所得动以百万计，岂不胜取之于民。” | 带来了宋朝农业的发展 |

11. 明朝内阁大学士叶向高说道：“祖宗设立阁臣，不过文学侍从，而其重亦止于票拟。其委任之权力，与前代宰相绝不相同。”对此理解正确的是（ ）

- A. 内阁的权力通过票拟体现 B. 朱元璋设置了内阁机构
C. 内阁属于中央的行政机构 D. 内阁大学士掌管决策权

12. 明末清初思想家唐甄在《富民》中认为，“陇右牧羊，河北育豕，淮南饲鹜，湖滨缫丝，吴乡之民编蓑织席”等并非一般农民副业，而是“操一金之资，可致百金之利”。由此可知，唐甄（ ）

- A. 轻视农副业的生产发展 B. 主张因地制宜发展粮食生产
C. 批评地主对农民的剥削 D. 倡导农副产品的商业化经营

13. 从明朝后期起，商人、工匠、市井游民和普通妇女经常成为小说的主人公。这一现象出现的原因是（ ）

- A. 商品经济的繁荣发展 B. 官府放松了对思想的控制
C. 妇女的社会地位提高 D. 士农工商的社会等级瓦解

14. 下图为某著作的目录节选，该目录横线处可以补充的标题是（ ）

第X节_____

- 一、前期的统治政策
二、边疆管理与多民族国家的巩固和发展
三、思想控制与百年“文字狱”

- A. 内陆边疆治理与明清易代 B. 明清时期经济社会的发展
C. 西学东渐下的明清新思想 D. 暗藏危机的“康雍乾盛世”

四、国力由盛入衰的逐渐转化

15. 19世纪四五十年代，面对民族危机，一些士大夫以满腔热情去研究世界及边疆的史地之学，初步提出

了向西方学习以求自强的主张。下列著作属于这一时期的是（ ）

- A. 《海国图志》 B. 《新学伪经考》 C. 《变法通议》 D. 《革命军》

16. 洋务学堂简况表

| 类别 | 时间 | 数量（所） | 地点 |
|------|-----------|-------|-----------------------|
| 外语学校 | 1862-1864 | 3 | 北京、上海、广州 |
| 军事学校 | 1874-1894 | 9 | 上海、天津、广州、南京、旅顺、威海、刘公岛 |
| 技术学校 | 1867-1896 | 16 | 福州、上海、天津、广州、武昌、南京、台湾 |

对上表内容解读正确的是（ ）

- ①洋务运动发生在 19 世纪 60-90 年代
 ②洋务运动主张学习西方的军事技术
 ③洋务学堂都分布在沿海的通商口岸
 ④洋务运动是中国早期现代化的尝试

- A. ①②③ B. ①②④ C. ①③④ D. ②③④

17. 以下内容是一位历史人物的部分经历，这位历史人物是（ ）

| 时间 | 1852-1864 年 | 1866 年 | 1875 年 | 1877 年 |
|----|-------------|------------------|------------------|--------------|
| 事件 | 参与镇压太平天国的起义 | 在福州建立了中国第一个近代造船厂 | 被清政府任命为收复新疆的钦差大臣 | 收复除伊犁以外的新疆领土 |

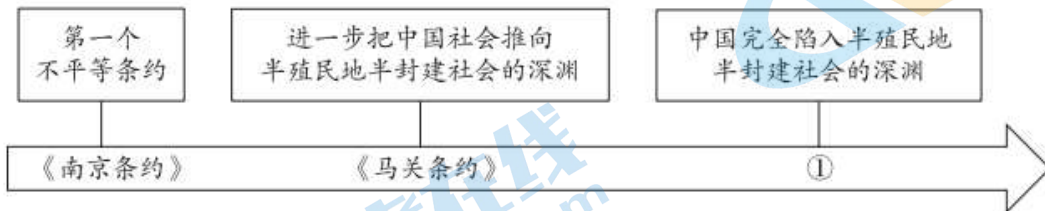
- A. 林则徐 B. 左宗棠 C. 冯子材 D. 邓世昌

18. 学者们在研究义和团运动时，发现其除了“扶清灭洋”的口号外，一些地方还打出了“捉拿洋教，振兴中国”“扶保中华，逐去外洋”“一概鬼子都杀尽，大清一统庆升平”“大清亡，中国强”“杀了东洋鬼，再跟大清闹”等口号。这些口号可以说明义和团运动（ ）

- ①倡导政治制度的变革 ②具有反帝爱国倾向
 ③领导阶级的理论先进 ④存在盲目排外行为

- A. ①② B. ②③ C. ①③ D. ②④

19. 以下不平等条约反映了中国近代民族危机的不断加深，其中①处应为（ ）



- A. 《璦琿条约》 B. 《天津条约》 C. 《北京条约》 D. 《辛丑条约》

20. 1912 年梁启超曾感慨：“去秋_____，不数日而国体丕变，成功之速，殆为中外古今所未有。”横线处事件应为（ ）

- A. 维新变法 B. 义和团运动 C. 武昌起义 D. 二次革命

21. 欧战前后农商部注册工业公司年别表

| | 注册的工业公司 | 资本总额 |
|---------------|---------|------------|
| 1914年8月前 | 146个 | 41148205元 |
| 1914年8月至1920年 | 272个 | 117434500元 |

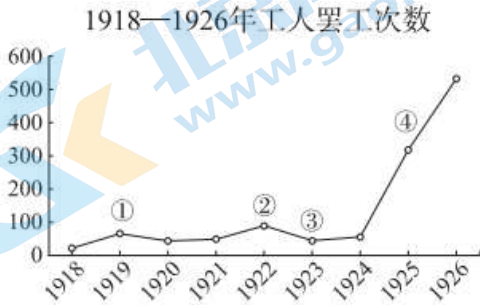
能够解释上表历史现象的原因有（ ）

- ①北洋政府鼓励民间兴办实业 ②西方列强忙于第一次世界大战
③清政府凭借权力聚敛财富 ④群众性反帝爱国斗争此起彼伏
- A. ①②③ B. ①②④ C. ①③④ D. ②③④

22. 某学者评价某历史事件：“这一次对封建主义旧思想、旧文化、旧礼教的批判，其尖锐彻底的程度、所向无前的气势，远远超过辛亥革命时期……确实起了振聋发聩的思想启蒙作用。”该事件是（ ）

- A. 护国战争 B. 新文化运动
C. 五四运动 D. 国民革命

23. 阅读“1918-1926年工人罢工次数”图表，对图表中数据变化节点解读正确的有（ ）



- ①五四运动推动工人阶级登上政治舞台
②中国共产党的成立推动罢工运动的展开
③国民党的残酷镇压导致了革命的低潮
④革命统一战线的建立促进工人运动高涨
- A. ①②③ B. ②③④ C. ①②④ D. ①③④

24. 下表为某学习小组围绕研究的主题搜集的资料

| 时间 | 史事 |
|-----------|-------------------------|
| 1927年8月1日 | 打响了武装反抗国民党反动派的第一枪 |
| 1927年8月7日 | 确定实行土地革命和武装反抗国民党反动派的总方针 |
| 1927年10月 | 创立了第一个农村革命根据地 |

据此判断，该组研究的主题是（ ）

- A. 中国新民主主义革命的开端 B. 北伐战争推翻北洋军阀统治
C. 国共两党实现第一次合作 D. 中国共产党开辟革命新道路

25. 下图是著名版画家胡一川1940年创作的木刻版画《军民合作》，受到抗日根据地老百姓的广泛欢迎。

该作品重在（ ）



- A. 宣传木刻版画的艺术和色彩 B. 倡导军民广泛开展土地革命
C. 激励军民团结合作抗击日寇 D. 动员抗日根据地实行三三制

26. 解放战争时期的某战役，共歼国民党军 43 万多人，解放了南京、杭州、上海、武汉等大城市和苏、浙、赣、皖、闽、鄂广大地区，加速了全国的解放。该战役是（ ）

- A. 百团大战 B. 孟良崮战役 C. 平津战役 D. 渡江战役

27. 毛泽东思想是马克思主义中国化的第一次历史性飞跃。以下内容按时间排序正确的是（ ）

- ① “全党同志和全解放区军民，必须团结一致，彻底粉碎蒋介石的进攻，建立独立、和平、民主的新中国。”
② “我们一定要努力把党内党外、国内国外的一切积极的因素，直接的、间接的积极因素，全部调动起来，把我国建设成为一个强大的社会主义国家。”
③ “边界红旗子始终不倒，不但表示了共产党的力量，而且表示了统治阶级的破产，在全国政治上有重大的意义。”
④ “中国不可避免地要走一段艰难的路程，抗日战争是持久战而不是速决战，”

- A. ①②④③ B. ②③①④ C. ③④①② D. ④③②①

28. 下图为 1956 年 1 月 15 日，在首都各界群众 20 多万人参加的一次庆祝大会上，工商界代表向毛泽东同志呈送喜报的场景。该次庆祝活动上的喜报内容可能是（ ）



- A. 土地改革在全国的完成 B. 社会主义改造的初步胜利
C. 家庭联产承包制的推广 D. 三线建设改善了工业布局

29. 某学生进行新中国的外交专题学习，梳理了以下时间轴（部分），其中①应该填写（ ）



- A. 提出“求同存异”的方针
- B. 倡导并推动建立“中国—东盟自由贸易区”
- C. 举办亚太经合组织第九次领导人非正式会议
- D. 提出并全面阐述人类命运共同体内涵

30. 以下图片来自某班级的微信公众号的推文，据此判断这篇推文的主题应该是（ ）

| | | | |
|---------------------|--------------------|----------------------|---------------------|
| | | | |
| 2006年河北农民自铸的“告别田赋鼎” | 2019年我国自主研发的工业机床部件 | 2021年中国空间站发射的天和核心舱模型 | 2023年积水潭医院的3D打印骨科技术 |

- A. 医疗技术的进步
- B. 社会主义工业化的完成
- C. 国际影响力的扩大
- D. 综合国力的不断提升

第二部分

本部分共 2 题，共 40 分。

31. (20 分) 铸牢中华民族共同体意识

“汉人”称谓始见于楚汉相争之时，其指汉王刘邦一方人员之统称，还不具有族属和文化含义。随着西汉政治、文化和族源历史整合的推进，到汉武帝时代，与“诸侯人”相对而言的狭义的“汉人”完全被融政治、文化、血缘和族群于一体的广义的“汉人”所取代。在整体意义上完全具有族别功能的“汉人”认同产生的同时，“中国一体”的国家意识也开始凸显。

——刘志平《汉代的“汉人”称谓与“汉人”认同》

(1) 依据材料，指出“汉人”含义的变化，结合所学分析变化的原因。(6分)

以行政区划而言，元朝统一后，边疆和内地在管理上存在差异，但又有相通之处。内地设立州县，云南也实行州县制，但普遍用土官任职；藏族地区未采取行省制度，而由中央宣政院直辖，有实在行政管理，包括设官命职、开辟道路、建立驿站、清查户籍等等。汉、唐等前代中原王朝尽管一度也拥有广袤的版图，但是这样的版图维持时间并不长久，控制手段的不足和外患的存在加剧了边疆离心倾向。而元朝未发生过某一地区脱离统治的情形，它稳定统治了中原和边疆一百多年，始终保持辽阔的版图。



——摘编自张帆《元朝的多民族统一与国家认同》

(2) 依据材料，概括元朝大一统国家的治理特点并分析其作用。(4分)

①经西昌、泸沽，进入彝族同胞聚居的地方。我们坚定地执行毛主席规定的民族政策，与沽基族首领

结盟修好；并使老五族中立；对受蒋介石特务支持利用，不断袭击我们的罗洪族，则反复说明我们是帮助少数民族求解放的。就这样依仗党的民族政策，顺利地通过了彝族地区，赶到安顺场渡口。

——《刘伯承回忆录》（1981年）

| | | | |
|---|--|--|---|
|  | <p>②1935年5月，为顺利通过彝族区，中革军委印制的《中国工农红军布告》。布告中写道：“中国工农红军，解放弱小民族；一切彝汉平民，都是兄弟骨肉……今已来到川西，尊重彝人风俗。军纪十分严明，不动一丝一粟；粮食公平购买，价钱交付十足。”</p> |  | <p>③长征亲历者黄镇于1935年5月创作《红军彝族游击队》，描绘了红军长征进入彝族地区，得到彝族沽基家族的支持，成立了中国红军彝民支队，共同反对国民党反动统治。</p> |
|---|--|--|---|

(3) 分别指出①②③的史料类型。依据史料，说明其反映的共同历史信息（6分）

以下表格是改革开放以来，中国共产党和人民政府在新疆和西藏地区开展的民族工作。

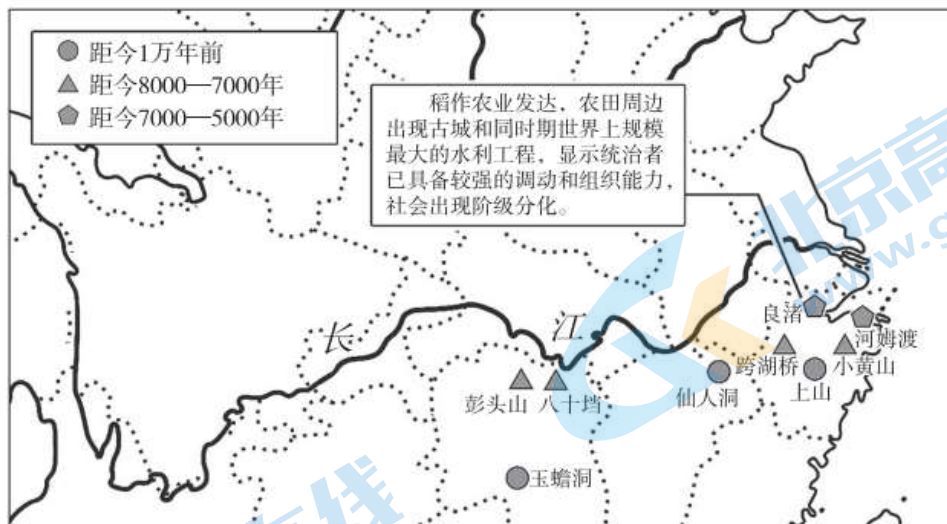
序号 史事

| | |
|---|--|
| ① | 2006年，藏族史诗《格萨尔王传》由国家整理出版，被列入第一批国家级非物质文化遗产名录 |
| ② | 1978年，新疆仅有1个民航机场、9条区内航线。2014年，已建成运营16个民航机场，开辟了155条航线，成为中国拥有机场数量最多，开通航线最长的省区 |
| ③ | 截至2014年底，19个援疆省市共拨付援疆资金536亿元，实施援疆项目4906个，依托援疆省市累计引进各类合作项目6482个，到位资金8277亿元 |
| ④ | 截至2015年9月，新疆现有全国文物保护单位113处、自治区级文物保护单位550处 |
| ⑤ | 2012年至2022年，在中央支持下，西藏接待旅游人数从1058.39万人次增加到3002.76万人次，旅游收入从126.48亿元增加到407.07亿元 |
| ⑥ | 截至2023年11月，西藏累计建成5G基站超8700个，发展5G用户184万户，实现所有乡镇5G网络全覆盖，达到全国平均水平 |

(4) 从上表中任选两个史事，写出序号，提炼一个主题，并对主题进行说明。（4分）

32. (20分) 长江是中华文明的发祥地之一，是中华民族发展的重要支撑

20世纪70年代以前，“稻作起源于公元前7000年左右的印度”的观点在世界农业起源研究领域长期处于主导地位。20世纪70年代以来，我国考古学者在以下遗址中分别发现了栽培稻谷：



——依据郑云飞《中国考古改变稻作起源和中华文明认知》

(1) 依据上图，指出这些栽培稻谷遗址分布的时空特点，并分析稻谷考古的历史价值。(4分)

书院是古代一种民间的文化教育组织，它萌芽于唐中叶至五代之时，绝大部分都分布在长江流域的浙江、福建、江西、湖南、四川等省。北宋时期，书院兴办出现热潮。长江流域造纸业发达，江南成为重要的产纸地。纸业的发达，又促进了印刷业的发展，全国有四个雕版印书的中心，三个中心均分布在长江流域，这些都使得长江流域的书院的数量远超其他地区。到了南宋，由于政治、军事形势的急剧变化，江南地区的书院建设出现一个新的高潮。长江流域各地纷纷创办书院，理学家纷纷利用书院展开学术讨论，如著名理学家朱熹主持江西白鹿洞书院。整个宋代的书院建置数目表明，长江流域的书院数量已占全国总数的74.43%，黄河流域仅占3.25%。

——摘编自朱汉民《长江流域书院与长江文化》

(2) 依据材料，结合所学，分析宋朝长江流域书院发展的原因。(6分)

1914年，卢作孚第一次乘船去上海，发现宽阔的长江上来来往往的大小轮船几乎都悬挂着外国国旗，却很少看见中国国旗，心里很不平静。1925年，他在重庆创办民生公司，开始在长江流域与外国航运公司展开竞争，1935年就迫使外国航运势力退出了长江上游。

1938年10月武汉失守后，距武汉仅300公里的宜昌便成了通过长江三峡撤往大后方，关系国家存亡的关键之地。从南京、武汉等地转运到宜昌的8万吨物资、10万难民急待入川。这些难民中，有不少科学家、工程师、企业家、艺术家、医生和在校师生；堆满两岸码头的机器设备都是从上海、南通、南京、武汉等地工厂企业拆迁转运到此的。为完成宜昌撤退任务，卢作孚亲自坐镇指挥，调集民生公司所有船舶，冒着日机轰炸危险，经过40天昼夜兼程，抢在宜昌沦陷前完成了撤退。

——摘编自周凝华《民生公司在抗战中的作用》等

(3) 依据材料，结合所学，说明卢作孚在长江流域创办民生公司的原因，并分析卢作孚在长江流域发展航运业的历史意义。(6分)

长江经济带覆盖沿江11省市，横跨我国东中西三大板块，是我国综合实力最强、战略支撑作用最大的战略区域之一。某班同学围绕长江经济带开展项目学习，搜集到以下邮票：

| | | |
|---|--|--|
|  <p>① 《武汉长江大桥》</p> |  <p>② 《上海浦东》</p> |  <p>③ 《长江经济带》</p> |
| <p>1955年，武汉长江大桥正式开工，中国建桥工人和技术人员攻克无数技术难关，1957年建成通车。为庆祝武汉长江大桥建成通车，中国邮政于1957年发行以上纪念邮票。</p> | <p>1990年，上海浦东开发区建立。为展示浦东的建设成就，1996年，中国邮政发行大套特种邮票。以上邮票的“上海浦东金桥出口加工区”，主要用于接特纳国外投资者兴办各类制造业。</p> | <p>2016年，习近平指出，要坚持生态优先、绿色发展，推动长江经济带高质量发展。2018年中国邮政发行《长江经济带》种邮票，以上邮票主题为“共抓大保护”。</p> |

(4) 任选两张邮票(写出序号即可)，结合时代背景，说明长江流域在不同历史阶段的发展。

(4分)

参考答案

第一部分（共 60 分）

| | | | | | | | | | | |
|----|----|----|----|----|----|----|----|----|----|----|
| 题号 | 1 | 2 | 3 | 4 | 5 | 6 | 7 | 8 | 9 | 10 |
| 答案 | A | B | C | C | D | D | A | B | D | B |
| 题号 | 11 | 12 | 13 | 14 | 15 | 16 | 17 | 18 | 19 | 20 |
| 答案 | A | D | A | D | A | B | B | D | D | C |
| 题号 | 21 | 22 | 23 | 24 | 25 | 26 | 27 | 28 | 29 | 30 |
| 答案 | B | B | C | D | C | D | C | B | A | D |

第二部分（共 40 分）

31. (20 分)

(1) 变化：由地域性的人群称谓到民族含义的称谓。(2 分)

原因：汉武帝颁布“推恩令”，成功削弱了诸侯王的势力，维护了国家统一；汉武帝接受董仲舒的建议，尊崇儒术，儒学成为主流意识形态，加强了“汉人”认同；汉武帝将全国划分为 13 个州部，分设刺史；汉武帝在稳固边疆的基础上积极开拓疆域，对匈奴的军事征服，也加强了新的整体性的“汉人”认同。

(4 分)

(2) 特点：兼顾大一统和因俗而治，对内地和边疆都加强了行政管理，边疆管理与内地一体化。(2 分)

作用：巩固了统一多民族国家，为大一统中国边疆治理作出了巨大贡献，促进了多民族的交往交流交融，促进了边疆地区的开发和发展。(2 分)

(3) 史料类型：①口述史料，②文献史料，③图像史料 (2 分)

历史信息：红军长征路过彝族地区，对彝族同胞实行平等团结的民族政策，赢得了彝族同胞的支持，彝族同胞和红军共同反抗国民党的统治。(4 分)

(4) 答案示例一：

序号：①④ (1 分)

主题：中国共产党和人民政府注重保护和传承少数民族的优秀传统文化 (1 分)

说明：《格萨尔王传》属于非物质文化遗产，对该史诗的整理储备，有利于弘扬和发展藏族的文化事业。文物保护单位的设置，有利于新疆文物的保护。(2 分)

答案示例二：

序号：②⑥ (1 分)

主题：中国共产党和人民政府积极推进少数民族的基础设施建设 (1 分)

说明：新疆机场的建设和航线的开通，便利了当地人民的生活，促进了新疆和其他地区的联系。西藏地区 5G 基站的建设 and 网络的发展，促进了人们的沟通交流，推动了西藏地区数字信息技术的发展。(2 分)

答案示例三：

序号：③⑤ (1 分)

主题：中国共产党和人民政府推动少数民族经济发展（1分）

说明：1992年，国家充分发挥新疆地区向西开放的区位优势，同周边国家进行以资源互补为主的深层次合作，通过举办乌鲁木齐对外经济贸易洽谈会，促进新疆地区经济发展。西藏地区在人民政府支持下，注重发展地方特色旅游业，提升自身经济竞争力，促进了当地人民生活水平的提高（2分）

32.（20分）

（1）特点：历史悠久，最早可追溯到1万年前，主要分布在长江中下游。（2分）

历史价值：表明长江流域具有万年以上的水稻栽培的历史，证明了长江流域是稻作的起源地。农业是文明产生的物质基础，长江流域是中华文明的发祥地。（2分）

（2）原因：宋朝经济重心逐渐南移，长江流域造纸术和印刷业发达；宋朝时期，北方战乱，南方相对安定，大量的北民南迁，长江流域的人口众多；南宋的都城位于浙江杭州；宋朝科举制度发达，理学受到官方推崇，理学家利用书院开展讲学活动，进一步推动了长江流域书院的发展。（6分）

（3）原因：西方列强通过与清政府签订系列不平等条约，取得了长江航运特权，卢作孚希望夺回中国的内河航运权，维护国家主权和经济利益，抵制西方列强对中国的侵略。（2分）

历史意义：民生公司在长江流域的运营，某种程度上抵制了西方对中国的经济侵略；卢作孚指挥的宜昌撤退，为抗战大后方保存了大量物资和工厂设备，为抗日战争的胜利提供有力的物质保证，促进了战时大后方的文化教育事业的发展。（4分）

（4）答案示例：

邮票①：第一个五年计划期间，我国开始有计划地开展社会主义经济建设，武汉长江大桥体现了我国社会主义建设的成就。（2分）

邮票②：随着改革开放的深入，长江流域的上海成为对外开放的窗口，希望通过上海浦东带动整个长江流域经济的发展。（2分）

邮票③：中国特色社会主义进入新时代，生态文明建设得到党中央的高度关注，长江大保护上升到国家战略高度，体现了生态优先、绿色发展的理念，推动长江经济带高质量发展。（2分）

北京高一高二高三期末试题下载

京考一点通团队整理了【**2024年1月北京各区各年级期末试题&答案汇总**】专题，及时更新最新试题及答案。

通过【**京考一点通**】公众号，对话框回复【**期末**】或者点击公众号底部栏目<**试题专区**>，进入各年级汇总专题，查看并下载电子版试题及答案！



微信搜一搜

京考一点通

