

# 2020 北京延庆初二（上）期中

## 历史

考 生 须 知	1. 本试卷共 12 页，两道大题，24 道小题。满分 80 分。考试时间 90 分钟。 2. 在试卷和答题卡上准确填写学校名称、姓名和学号。 3. 试题答案一律填涂或书写在答题卡上，在试卷上作答无效。 4. 在答题卡上，选择题用 2B 铅笔作答，其它试题用黑色字迹签字笔作答。
------------------	--

### 第一部分 选择题（共 30 分）

本部分共 20 小题，每小题 1.5 分，共 30 分。在每小题列出的四个选项中，选出最符合题目要求的一项。

1. 1839 年，一位在广东的外国人说，鸦片是在彻底的手段下被销毁了……全部事务的处理，在人类历史上必将永远是一个最为卓越的事件。他所说的事件是

- A. 戚继光抗倭
- B. 太平天国运动
- C. 虎门销烟
- D. 义和团运动

2. 观察下表，分析表中税率的变化与《南京条约》直接相关的内容是

1843 年前后中英两国进出口货物税率变化表

货物	旧税率 (%)	新税率 (%)
棉花	24.19	5.56
棉纱	13.38	5.56
斜纹布	14.92	5.56

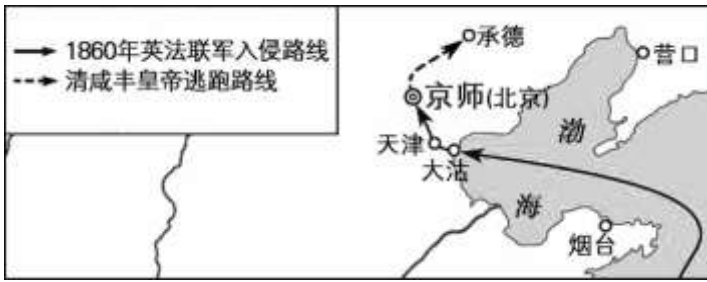
- A. 中英协定关税
- B. 割让香港岛
- C. 赔款 2100 万元
- D. 开放五口通商

3. 中国近代史以鸦片战争为开端,主要是因为

- A. 中国长期遭受大规模的外来侵略
- B. 社会性质开始发生根本变化
- C. 长期闭关锁国的状况被打破

D. 民族矛盾取代了阶级矛盾

4. 与以下地图所反映的历史事件直接相关的史实是



A. 签订中英《南京条约》

B. 改总理衙门为外务部

C. 甲午战争中清军战败

D. 英法联军火烧圆明园

5. 有人说：“在第二次鸦片战争中，俄国不需花费一文一钱，不必动用一兵一卒，而能比任何一个国家得到更多的好处。”这里“更多的好处”指

A. 得到巨额赔款

B. 割占中国 150 多万平方公里土地

C. 强迫清政府开放数处通商口岸

D. 从中国抢走无数珍宝

6. 第一手史料指接近或直接在历史事件发生时所产生和记录的原始资料。以下适用于研究太平天国运动的第一手史料是

A. 《天朝田亩制度》

B. 《洪秀全传》

C. 《太平天国兴亡史》

D. 《太平天国研究论文集》

7. 太平天国运动遇到了中国历史上任何农民起义都不曾遇到过的新情况是

A. 失去农民的支持

B. 内部叛乱削弱了实力

C. 清军与地主武装联合镇压

D. 中外反动势力联合绞杀

8. 奕沂在一个奏折中提到：要抵抗外国侵略，“探源之策，在于自强”。洋务派在“自强”的口号下创办的军事工业有

- ① 轮船招商局
- ② 湖北织布局
- ③ 江南制造总局
- ④ 福州船政局

- A. ①②      B. ①③      C. ③④      D. ②④

9. 下图是漫画《如此“修墙”》，描绘的是一位清朝官员用一张纸条(上面写着“西方先进技术”)粘在墙上(封建专制制度)。下列内容与该漫画的讽喻意义一致的是



- A. 镇压太平天国运动      B. 开展洋务运动  
C. 签订《南京条约》      D. 签订《马关条约》

10. “上海轮船招商局创办三年内（1872~1875年），外轮就损失1300万两（白银）；官办织布局开办后，江南海关每年洋布进口减少10万匹。”与这一现象出现直接作用的是

- A. 抵制外国资本主义的经济侵略
- B. 捍卫了国家领土主权的完整
- C. 有利于民族资本主义的产生
- D. 促进了近代交通事业的发展

11. 2015年度“全国十大考古新发现”之一的辽宁“丹东一号”清代沉船(致远舰)水下考古调查有了新进展,发现了一枚刻有“云中白鹤”的印章,专家认为该印章是致远舰管带的私人物品。该印章的主人是



- A. 刘步蟾                      B. 林永升  
C. 邓世昌                      D. 丁汝昌

12. 在某次战争之后，列强欣喜若狂，声称“第二次发现了中国”。英国一家报纸评论道：“中国为东方一团太物，势已动摇……今欧洲之人，虽田夫野老，无不以瓜分中国为言者。”这次战争是

- A. 鸦片战争                      B. 第二次鸦片战争  
C. 甲午中日战争                D. 八国联军侵华战争

13. 下列戊戌变法的各项内容中，对当时读书人这一群体影响最大的一项是

- A. 废除八股，改试策论，开办新式学堂  
B. 裁撤冗官冗员，允许官民上书言事  
C. 鼓励私人兴办工矿企业，发展农工商业  
D. 裁减绿营，训练新式军队

14. 有人曾这样评价戊戌变法：“作为一场政治运动，百日维新短命而败，但作为一场更广阔意义上的社会文化运动，自有其成功之处”。这里的成功之处主要指戊戌变法运动


- A. 阻止了民族危机继续加深                      B. 在社会上起了思想启蒙作用  
C. 改革了君主专制政体                              D. 动摇了儒家思想的正统地位

15. 下列《辛丑条约》的内容中与漫画《扯线木偶》的寓意相吻合的是



- A. 清政府拆毁大沽炮台  
B. 清政府赔款白银 4.5 亿两  
C. 划定北京东交民巷为使馆界  
D. 清政府保证严禁人民参加反帝活动

16. 构建历史知识结构示意图是学习历史的一项技能。下面是某同学编制的历史知识结构示意图。对该示意图，解读正确的是



- A. 中国逐步走出半殖民地半封建社会的过程
  - B. 中国民族工业艰难曲折的发展过程
  - C. 中国逐步沦为半殖民地半封建社会的过程
  - D. 中国新民主主义革命的发展历程
17. 他从甲午中日战争时期就开始从事武装反清斗争，屡败屡起，百折不挠，使民族民主革命成为波涛汹涌的时代潮流。他是
- A. 秋瑾
  - B. 章炳麟
  - C. 陈天华
  - D. 孙中山
18. 1911年10月15日，法国报刊刊载了一篇题为《中国的革命，崛起的国家》的新闻报道。其中图片有剃头店铺、起义者和武昌风光鸟瞰等。报道中的“中国的革命”指的是
- A. 太平天国运动
  - B. 义和团运动
  - C. 北伐战争
  - D. 辛亥革命

19. 下图是《清帝退位诏书》，这一实物资料充分佐证了辛亥革命推翻了



《清帝退位诏书》影印本

- A. 封建帝制
  - B. 封建制度
  - C. 资本主义
  - D. 帝国主义
20. 面对北洋政府的黑暗统治，以孙中山为首的资产阶级革命党人进行了一系列捍卫革命成果的斗争，其中包括
- ①武昌起义
  - ②二次革命
  - ③护国运动
  - ④广州起义
- A. ①②
  - B. ②③
  - C. ③④
  - D. ①④

## 第二部分 材料分析题（共 50 分）

21. (13分) 中国近代史既是一部屈辱史, 又是一部探索史, 抗争史。

材料一 1840年至1901年短短几十年间, 中国屡遭西方欺凌, 被迫签订了一系列丧权辱国的不平等条约, 清政府逐步沦为帝国主义统治中国的工具。

(1) 1840年至1901年, 西方列强对中国发动了大规模的侵华战争, 请你列举两次战争及签订的条约(除示例外)(4分)

示例: 第二次鸦片战争 《天津条约》

材料二



江南制造总局

福州船政局

汉阳铁厂

(2) 材料二中的企业是在中国近代史上的什么运动中出现的?(1分) 该运动在中国近代化进程中处于什么地位?(1分)

材料三 福州船政学堂课程设置(部分)

类目	前学堂制造专业	后学堂驾驶专业	后学堂管轮专业
外文	法文	英文	英文
基础理论	算术、几何、微积分、物理、机械等	算术、几何、代数、直线和球面三角等	算术、几何、代数、三角、物理等
专业实践课	蒸汽机的制造与操作、舰体制造	航海天文学、航海理论、气象学、地理等	蒸汽机安装调试、仪表功能与使用、操纵轮机规则等

除上述“西学”课程之外, 学堂每日还要讲读《圣谕广训》《孝经》由此可以看出, 学堂不仅注重“西学”的传授, 而且重视“中学”的教育。

——摘编自纪录片《船政学堂》

(3) 依据表格材料, 概括福州船政学堂课程设置的特点(3分)

材料四 1898年初, 康有为向清帝建议: “大抵欧美三百年而造成治体, 日本效欧美, 以三十年而摹成治体。若以中国之广土众民, 近采(采纳、学习)日本……十年而霸图定矣。”6月, 清帝颁布诏书, 戊戌变法遂起。

(4) 依据材料四, 请说出康有为主张“近采日本”的原因? (1分) 材料中的“清帝”指的是谁? (1分)

材料五 1896年, 梁启超在《时务报》上发表《变法通议》, 强调“法者, 天下之公器也; 变者, 天下之公理也”。关于救国之策, 在当时还有保守与洋务两派思维方式作为选项。保守派...“主张“立国之道, 尚礼义不尚权谋; 根本之图, 在人心不在技艺”, 任何学习西洋的改革均是: “离经叛道”, 不宜施行。洋务派...理念是“中学为体, 西学为用”, 并不赞成国家制度也转变为西洋模式。这两种主张, 在当时是缙绅士大夫(注: 官员和读书人)的主要思想, 持维新改革理念的人反而不占多数。是以, 光绪与康、梁无法转移庞大的缙绅力量支持维新运动, 各省督抚在慈禧反扑时大多不声援光绪, 当是因为他们大多只是持洋务派的观点, 还不能接受维新之论。

——摘编自许倬云《万古江河》

(5) 依据材料五及结合所学, 概括戊戌变法失败的原因 (2分)

22. (15分) 史料是通往历史认识的桥梁, 我们可以运用多种史料研究和学习历史。

**【史料类别】**

(1) 史料一般包括文献史料、实物史料、口述史料三大类, 它是我们发现历史、解释历史的依据。请你判断下列史料所属的类别。(3分。只填字母代号)

A. 虎门炮台 B. 汉阳造步枪 C. 《中华民国临时约法》 D. 《曾国藩家书》

①实物史料: \_\_\_\_\_; ②文献史料: \_\_\_\_\_; ③口述史料: \_\_\_\_\_。

**【史料解读】**

材料一

鸦片流毒中华, 每年外溢金银致千万, 漏卮(盛酒的器皿)不塞, 足以贫民。吸烟者众, 上自官府缙绅, 下至工商优隶, 以及妇女僧尼道士, 随在吸食, 痼癖(难治愈的癖好)不除, 足以弱种。英吉利以此毒物贻祸中华, 其肉不足食矣。余为国为民, 坚守此志, 不扫除毒卉, 誓不甘休。外夷虽狡, 余总不惧。

——《林则徐家书》

(2) 依据材料一, 归纳鸦片的大量输入给中国造成的危害。(2分) 说出能够佐证林则徐“为国为民, 坚守此志, 不扫除毒卉, 誓不甘休。外夷虽狡, 余总不惧”的历史事件。(1分)

材料二 阅读地图, 提取信息, 论证观点



(3) 观察右面地图。请写出第一次鸦片战争的起止时间？从地图找出从南到北开放的五处通商口岸？（6分）

材料三 学生收集到洋务企业的经营状况

①江南制造总局开设的译书馆，在不到十年的时间里，翻译了自然科学、军事技术等 98 种西洋著作。
②轮船招商局创办后，在三年多时间里使外国轮船公司损失 1300 多万两白银，五年后又收购了美国旗昌轮船公司。
③福州船政局附设的船政学堂，将首批留学生送入英国格林威治皇家海军学院学习航海技术。
④开平煤矿投产十年后产量逐年增加，因此天津市场上的洋煤进口从原来的将近 20 万吨降至 120 余吨
⑤福州船政局人员的“薪水工食”占全部经费的 80%，企业生产成本

(4) 运用上述材料，完成下表。（3分）

材料序号	可论证的观点
	观点一：洋务运动传播西学，培养军事科技人才
②④	观点二：
	观点三：洋务企业在经营管理方面存在弊端

23. (12分) 辛亥革命实现了近代中国一次历史性巨变。阅读材料，回答问题：

材料一





- ①总统誓词      ②武昌起义军胸章      ③《民报》

(1) 材料一中的图片是小明在研究辛亥革命历史时搜集到的。请写出其出现的先后顺序（只写出序号即可）。（1分）

材料二 驱除鞑虏，恢复中华，创立民国，平均地权。 ——同盟会革命纲领

(2) 孙中山对材料二的内容在《民报》发刊词中作了怎样的概括？这一纲领的制定有何意义？（2分）

材料三 倾覆满洲专制政府，巩固中华民国，图谋民生幸福，此国民之公意，文（孙中山）实遵之，以忠于国，为众服务。

——《大总统誓词》（1912年）


余致力国民革命凡四十年，其目的在求中国之自由平等。积四十年之经验深知欲达到此目的，必须唤起民众及联合世界上以平等待我之民族，共同奋斗。

——《孙中山遗嘱》（1925年）

(3) 依据材料三，说出孙中山的革命目标有哪些？（2分）

(4) 孙中山为了追求民族独立和民主自由作了哪些努力？请你至少列举三例史实。（3分）我们从他身上可以学到哪些精神？（2分）

材料四



《清朝宣统皇帝退位诏书》



袁世凯剪掉辫子



身着中山装的孙中山

(5) 结合材料四和所学知识，说出辛亥革命具有哪些历史意义？（2分）

24. (10分) 某校开展“找寻“活着”的历史”的实践探究活动，请你也参与其中。

【第一组：来到北京】

材料一 近代北京大事记

序号	史实
①	1860年，圆明园等皇家园林被焚毁
②	1862年，京师同文馆成立
③	1898年，设京师大学堂
④	1900年，拳民在北京放火烧掉一些教堂和一切与西洋有关的事物
⑤	1901年，与西方八国签《辛丑条约》，东交民巷为使馆区，中国人不得居住，外国可驻兵
⑥	1916年，提倡“民主”和“科学”思想的运动中心转移到北京
⑦	1919年，北京青年学生发起“拒绝和约”签字等口号
⑧	1937年，卢沟桥守军顽强抗争

(1) 依据材料一并结合所学，自拟一个主题，找出能说明此主题的历史史实（两个即可），要求：写出的史实序号需与历史事件名称对应，依照示例，完成表格。（3分）

示例：

主题	序号	历史事件	主题	序号	历史事件
教育发展	②	洋务运动			
	③	戊戌变法			

【第二组：走进博物馆】

同学们参观首都博物馆时，收集了以下4处物质文化遗产的解说词。

物质文化遗产①:

迄今已发现从 500 万年前至 1 万年前的古动物化石，其中人类化石的时代范围在 70 万年前至 2.7 万年前，是世界范围内唯一保存了纵贯 70 万年的史前人类活动遗迹的宝

物质文化遗产②:

是战国以及后世不断完善所筑的工程，东临渤海、西至甘肃大漠，绵延 6300 多公里。明代抗倭名将戚继光主持修筑北京段工程，使其成为一个由城墙、城台、烽火台、关口、城堡等多种工事构



物质文化遗产③:

明清两代的皇宫，座落在北京城中轴线上，是古代皇宫建筑群，珍藏着上百万件文物。南北长 961 米，东西宽 753 米，占地 72 万多平方米，现存房屋 9000 余间，四周环绕着高约 10 米的城墙和宽约 52 米的护城河。

物质文化遗产④:

位于永定门内，是明清帝王祭天祈谷的场所，主体建筑由座落在内坛中轴线南北两端的祈谷坛与圜丘坛，及分布于两坛四周的附属建筑组成。北墙高大呈半圆形；南墙较低呈方形，体现了“天圆地方、天高地低”的传统天文观。

(2) 以上内容是北京的世界文化遗产介绍节选，阅读后任选一处物质文化遗产（示例除外），结合所学写出其名称和其作为世界文化遗产的理由。（3分）

示例：物质遗产④是天坛

是我国保存最完整的祭祀建筑群，是世界上规模最大的祭天建筑群。体现高超的建筑艺术，并与祭祀功能、礼制和谐地结合，蕴涵着深刻的中华传统文化内涵。

【第三组：整理展示】

材料二 学生在进行中国近代史学科实践过程中，制成了如下表格。

**主题：共和之路**

驱除鞑虏，恢复中华，  
建立民国，平均地权。



孙中山



参加武昌起义的革命军

A

**主题：**

变则存  
不变则亡



康有为



梁启超



京师大学堂

B

**主题：洋务之路**

必先富而后能强



李鸿章



江南制造总局

C

**主题：启蒙之路**

我们现在认定只有这两位先生（德、赛先生），可以救治中国政治上、道德上、学术上、思想上的一切黑暗。



陈独秀

D

(3) 请你来帮助完成以下展板内容。（3分）

①文字材料“师夷长技以自强”应放入\_\_\_\_\_展板。

②谭嗣同的照片应放入\_\_\_\_\_展板。

③展板 B 的主题应是\_\_\_\_\_之路。

(4) 你认为该如何向学习西方学习？（1分）

# 2020 北京延庆初二（上）期中历史

## 参考答案

一、选择题（在每小题列出的四个选项中，只有一项符合题目要求，请把正确的选项填在答题卡内。每题 1.5 分，共 30 分）

题号	1	2	3	4	5	6	7	8	9	10
答案	C	A	B	D	B	A	D	C	B	A
题号	11	12	13	14	15	16	17	18	19	20
答案	C	C	A	B	D	C	D	D	A	B

二、综合能力题（共 50 分）

21. （13 分）

(1) 鸦片战争《南京条约》；甲午中日战争《马关条约》八国联军侵华战争《辛丑条约》（列举两个即可）  
(4 分)

(2) 洋务运动（1 分）标志中国近代化的开始（1 分）

(3) 设置科目多；重视外文；理论与实践相结合；注重中西结合（任意三点即可，3 分）

(4) 改变国家落后状况，挽救民族危机（1 分）光绪帝（1 分）

(5) 清政府内部支持人数少；皇帝没有实权；顽固派的阻挠；维新派的软弱妥协；没有发动人民群众；变法不符合中国国情（任意两点即可，2 分）

22. （15 分）

(1) ①AB ②C ③D（3 分）

(2) 吏治腐败；白银外流、国库空虚；危害人民身体健康；军队战斗力削弱；国家面临危机；（任意两点即可，2 分）虎门销烟（1 分）

(3) 1840——1842 年（1 分）广州、厦门、福州、宁波、上海（5 分）

(4)

材料序号	可论证的观点
①③	

	观点二：促进民用工业的发展
⑤	

23. (12分)

(1) ③②① (1分)

(2) 三民主义；成为孙中山领导资产阶级革命的指导思想 (2分)

(3) 推翻清政府统治，建立自由平等的中华民国 (2分)

(4) 创办革命团体兴中会、同盟会；提出革命纲领三民主义；领导辛亥革命；出任中华民国临时大总统；领导二次革命；领导护国运动 (任选三点即可，3分) 爱国；探索、创新精神；社会责任感强烈；自我牺牲精神 (2分)

(5) 推翻清朝的统治，结束了我国两千多年的封建帝制；移风易俗，推进社会进步。 (2分)

24. (10分)

(1) 主题：列强侵略；序号：①⑤ 历史事件：火烧圆明园、八国联军侵华战争

主题：近代化探索；序号：②③⑥ 历史事件：洋务运动、戊戌变法、新文化运动

主题：民族抗争；序号：④⑦⑧ 历史事件：义和团运动、五四运动、卢沟桥事变 (主题1分，序号与事件一致1分，3分)

(2) 名称：①北京人遗址；②长城；③紫禁城。理由略，言之有理即可 (3分)

(3) ①C；②B ③变法图强或强国之路 (3分)

(4) 言之有理即可 (1分)

# 关于我们

北京高考资讯是专注于北京新高考政策、新高考选科规划、志愿填报、名校强基计划、学科竞赛、高中生涯规划的超级升学服务平台。总部坐落于北京，旗下拥有北京高考在线网站（[www.gaokzx.com](http://www.gaokzx.com)）和微信公众平台等媒体矩阵。

目前，北京高考资讯微信公众号拥有30W+活跃用户，用户群体涵盖北京80%以上的重点中学校长、老师、家长及考生，引起众多重点高校的关注。  
北京高考在线官方网站：[www.gaokzx.com](http://www.gaokzx.com)

北京高考资讯 (ID: bj-gaokao)  
扫码关注获取更多



关注北京高考在线官方微信：[北京高考资讯 \(ID:bj-gaokao\)](https://www.gaokzx.com)，获取更多试题资料及排名分析信息。