

2023届安徽A10联盟最后一卷文科综合试题

2023.5.18

第I卷 选择题 (共140分)

一、选择题(本大题共35小题,每小题4分,共140分。在每小题给出的四个选项中,只有一项是符合题目要求的)

中美两国的城市社会空间结构差异显著,图1示意中美两国某城市社会空间结构及演变。其中,美国城市以低阶层邻里扩张为主要特征,同时出现了高阶层群体向历史悠久的城市中心城内核回流;中国城市则体现为以中等收入邻里空间扩张和低收入阶层空间收缩为主要特征,同时伴随中心城内核少许高收入居民外流。据此完成1~2题。

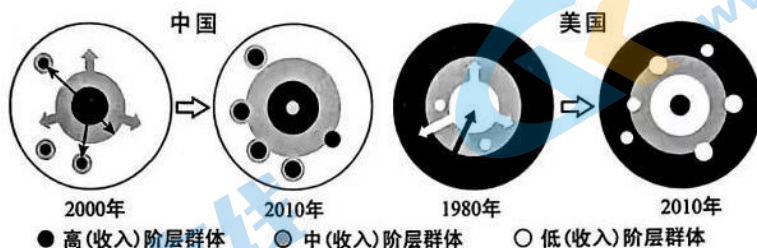


图 1

1. 导致中美两国城市社会空间结构差异的直接因素是

- A. 城市化水平 B. 基础设施 C. 产业结构 D. 人口规模

2. 1980年美国部分高阶层群体开始向大城市中心城内核回流,反映了这类城市正在出现

- A. 逆城市化 B. 再城市化 C. 城市空洞化 D. 郊区城市化

近年来,我国海上风电装机容量持续增长,海上风电产业逐渐走向深远海并与海洋油气产业融合发展。2023年1月2日,中国首个深远海浮式风电平台完成主体工程建设,标志着由中国自主研发、设计和建造的全球首座水深超百米、离岸距离超百公里的海上风电项目建设取得重要进展,3月26日该风电平台离开珠海安放在前往目的地海域进行固定和调试(图2)。据此完成3~5题。




图 2

3. 近年来,我国海上风电产业逐渐走向深远海是因为我国

- ①深远海风能资源更丰富 ②近海风能资源开发趋于饱和
③深远海能源需求量大 ④近海海况更加复杂

- A. ①② B. ①③ C. ③④ D. ②④

4. 该平台未在目的地海域直接进行主体工程建设主要是因为

- A. 原料运输难 B. 劳动力不足 C. 施工难度大 D. 海洋污染重

5. 该平台安装后将运抵距海南文昌136千米海上油田海域,其主要目的是为海上油田

- A. 缩短输气距离 B. 减轻海风危害 C. 降低输电能耗 D. 就近提供电能

县城是指我国所有县级行政区域,不含市辖区。近年来,受县城区位优势、人口政策及新型城镇化快速推进的影响,我国县城人口流动成为县城经济发展重要推力。图3示意2000~2020年我国县城范围内人口流动年龄结构分布。据此完成6~8题。

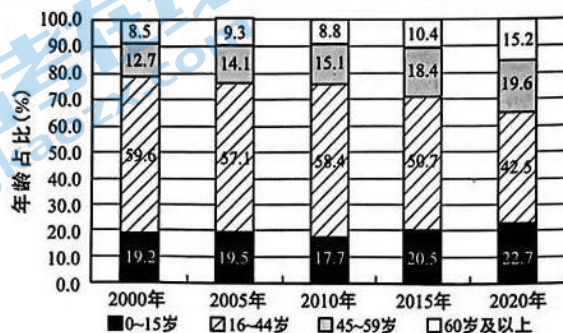


图 3

6. 自2000年以来我国县城范围内流动人口

- A. 0~15岁儿童人口流动占比波动下降 B. 16~44岁青壮年人口流动占比明显上升
C. 45~59岁中年人口流动占比不断下降 D. 60岁及以上老年人口流动占比波动上升

6. 自2000年以来我国县域范围内流动人口
- A. 0~15岁儿童人口流动占比波动下降
B. 16~44岁青壮年人口流动占比明显上升
C. 45~59岁中年人口流动占比不断下降
D. 60岁及以上老年人口流动占比波动上升
7. 推测我国县域范围内青壮年劳动力流动人口占比变化的主要原因是为了
- A. 获得先进的教育资源
B. 寻求理想的人生伴侣
C. 寻求更高的经济收入
D. 享受优美的宜居环境
8. 影响2000年以来我国县域范围内儿童和老年人流动占比变化的社会因素最可能是
- A. 教育和家庭
B. 法律和政策
C. 交通和医疗
D. 娱乐和购物

图4为某年6月30日山东半岛北部某自动气象站探测到的近地面气象要素的时间演变。读图完成9~11题。

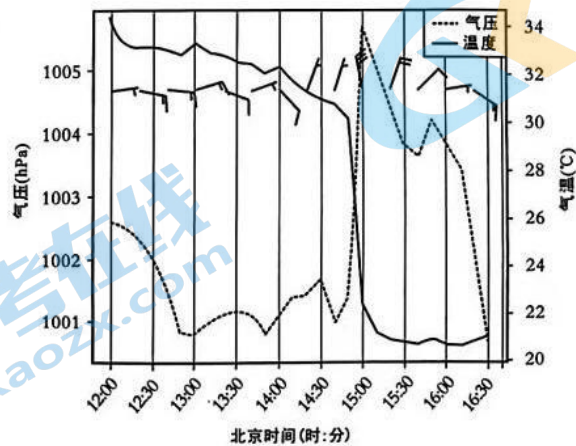
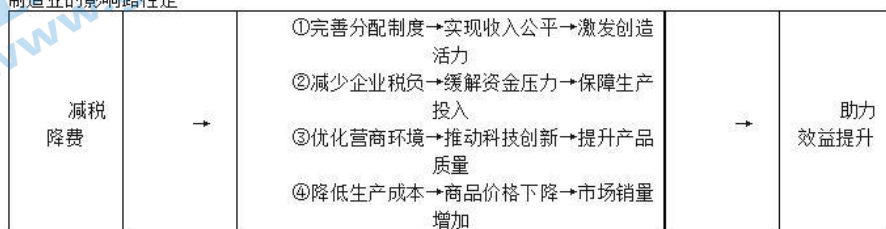


图4

9. 推测此时影响山东半岛北部地区的天气系统是
- A. 暖锋
B. 冷锋
C. 准静止锋
D. 锢囚锋
10. 该自动气象站在14时40分至15时15分的天气状况是
- A. 狂风大雪天气
B. 以偏南风为主
C. 伴随雷电冰雹
D. 晴空万里无云
11. 该自动气象站位于某低压中心的
- A. 西北部
B. 东北部
C. 东南部
D. 西南部
12. 以举国体制攻克关键核心技术，是世界科技强国的通行做法。2023年2月政治局第三次集体学习指出，健全新型举国体制，强化国家战略科技力量。我国新型举国体制的关键在“举国”，即强化党领导下的国家科技动员；特点在“新型”，即主动适应新形势，立足于我国进入构建新发展格局、推动高质量发展、全面推进中国式现代化的新发展阶段。可见
- ① 科学社会主义只有在中国才能焕发出强大活力
② 新型举国体制体现中国特色社会主义制度的优势
③ 社会基本矛盾相同决定各国走相同的科技强国之路
④ 各国实现科技强国的进程既有统一性，也有多样性
- A. ①③
B. ①④
C. ②③
D. ②④
13. 某地为深入学习贯彻党的二十大精神，推动党的二十大精神在基层落地生根，激发广大党员干部群众积极投身新时代社会主义现代化建设，决定开展“中国梦·新时代·新使命”百姓宣讲活动。下列演讲提纲适合于此次宣讲活动的是
- A. 扎实推动全体人民同步富裕取得实质性进展
B. 坚持分两步走全面建成社会主义现代化强国
C. 为实现党的第一个百年奋斗目标而戮力同心
D. 改革从农村迈向城市，企业改革迈出新步伐
14. 2023年，山西省推出《向民间资本推介项目长效机制》，首批面向民间资本推介100个项目，计划引入民间资本1057亿元。其中制造业项目14个，涵盖新一代电子信息制造、高端装备制造、新材料等重点领域，民间资本可以通过股权投资、债权投资、合作经营等多种方式参与。此举有利于人
- ① 促进民营经济发展壮大，保障公共物品有效供给
② 放宽市场准入，提高虚拟经济服务实体经济能力
③ 营造公平竞争环境，推动制造业高端化、智能化
④ 进一步构建高标准市场体系，激发民间投资活力
- A. ①②
B. ①③
C. ②④
D. ③④
15. 自2018年以来，下调制造业等领域的增值税税率、率先提高制造业研发费用加计扣除比例、加大制造业增值税留抵退税的力度等“重磅”措施接续推出，制造业累计新增减税降费及退税缓税缓费超3.5万亿元。在系列支持政策的共同作用下，2018至2022年，制造业企业销售收入年均增长9.4%。减税降费对制造业的影响路径是



- A. ①②
B. ①④
C. ②③
D. ③④

16. 中共中央政治局2023年3月30日召开会议，决定从今年4月开始，在全党自上而下分两批开展学习

16. 中共中央政治局2023年3月30日召开会议, 决定从今年4月开始, 在全党自上而下分两批开展学习贯彻习近平新时代中国特色社会主义思想主题教育。4月3日, 学习贯彻习近平新时代中国特色社会主义思想主题教育工作会议在北京召开。在全党开展这项主题教育活动旨在

- ①加强组织建设, 巩固群众基础
 - ②继承革命传统, 坚定信仰信念
 - ③统一全党思想, 汇聚奋进力量
 - ④推进自我革命, 践行初心使命
- A. ①②B. ①④C. ②③D. ③④

17. 为破解异地诉讼不便的难题, 福建省泉州市中级人民法院依托人民法院在线服务平台, 深度整合全市法院和法庭资源, 让群众在就近的法院或法庭就能实现异地立案。近年来, 泉州中院又将跨区域办事项从立案拓展到庭审、取证、保全、执行等全流程, 真正为群众提供了“家门口”式诉讼服务。泉州中院的系列举措

- ①诠释着中国特色社会主义法治的价值底色
 - ②在厘清不同法院权力界限中守护司法正义
 - ③为依法独立行使审判权提供了重要的依据
 - ④对提升司法速度、力度和温度有重要意义
- A. ①②B. ①④C. ②③D. ③④

18. 近日, 国家主席习近平复信参加“艺汇丝路”访华采风活动的阿拉伯知名艺术家代表, 鼓励艺术家创作更多体现中阿友好的艺术佳作, 为增进中阿人民友谊作出新的贡献。复信在阿拉伯国家引发热烈反响。多国艺术家表示, 习近平主席的复信鼓舞人心, 将激励他们创作出更多艺术佳作。习近平主席复信的意义在于

- ①赋予中阿艺术创作新的呈现形式和时代内涵
 - ②促进中阿文明交流互鉴、中阿人民心灵相通
 - ③推动中阿文化渐趋一致, 构建中阿命运共同体
 - ④推动文化创新, 让更多人感受中阿文化的魅力
- A. ①②B. ①③C. ②④D. ③④

19. 调查研究是谋事之基、成事之道。没有调查, 就没有发言权, 更没有决策权。国务院总理李强在出席十四届全国人大一次会议记者会回答中外记者提问时说: “坐在办公室碰到的都是问题, 深入基层看到的全是办法, 高手在民间。” 基层调研的哲学依据是

- ①矛盾的普遍性与特殊性是相互联结的
 - ②人民群众是社会历史的主体和创造者
 - ③在实践中形成的认识才是真理性认识
 - ④认识获取要依赖于一定的物质性活动
- A. ①②B. ①③C. ②④D. ③④

20. 2023年1月1日起, 中国对1020项商品实施低于最惠国税率的进口暂定税率。7月1日起, 中国还将对62项信息技术产品的最惠国税率实施第八步降税。调整后中国关税总水平将从7.4%降至7.3%。近年来, 中国接连降低相关商品进口关税, 助推全球好物进入中国市场。降低进口关税有利于

- ①坚持互利共赢, 建设包容型世界经济
 - ②转变发展方式, 彰显生产全球化发展
 - ③优化供给结构, 推动构建新发展格局
 - ④消除贸易摩擦, 建设开放型经济体系
- A. ①②B. ①③C. ②④D. ③④

21. 云南省昆明长水国际机场改扩建工程列入利用亚洲基础设施投资银行贷款备选项目规划。为加快推进项目贷款申报, 2023年2月27日至3月3日, 亚投行项目团队专家针对该项目招投标管理、绿色机场建设、环境和社会影响评价、财务管理等重点方面进行了为期5天初步审查。项目团队专家对初审结果一致认可。从材料可看出, 亚投行

- ①通过资金支持推进亚洲地区基础设施建设
 - ②专家审查活动体现亚投行的运作原则和目标
 - ③已成为新兴市场国家加强团结合作的重要平台
 - ④开创的合作新模式已成为当今世界区域合作的典范
- A. ①②B. ①④C. ②③D. ③④

22. 张某莲系某小区业主, 因小区游乐设施较少, 在征得小区物业公司同意后, 自费购置一套儿童滑梯(含配套脚垫)放置于小区公共区域, 供儿童免费玩耍。该区域的卫生清洁管理等工作由小区物业公司负责。柳某途经此处时, 踩到湿滑的脚垫而滑倒摔伤, 造成十级伤残。后柳某将张某莲和小区物业公司诉至法院, 要求共同赔偿各项损失近20万元。下列认识正确的是

- ①柳某向法院起诉小区物业属于行政诉讼
 - ②张某莲系无过错方, 无需承担赔偿责任
 - ③小区物业如果疏于管理, 应承担主要赔偿责任
 - ④柳某系完全民事行为能力人, 应对自己行为负全责
- A. ①②B. ①④C. ②③D. ③④

23. 对于西方国家来说, 世界近代史就是一部霸权史。“国强必霸”, 这是500年来西方大国崛起的历史逻辑。西班牙、葡萄牙、荷兰、英国、法国、德国、日本、苏联、美国等9个国家强大起来后纷纷扮演霸王或图谋扮演霸王的角色。据此, 有西方学者认为, 中国也将无法摆脱“国强必霸”的历史逻辑。该观点

- ①把逻辑作为研究的出发点, 背离科学思维的客观性
 - ②错在对两类属性完全不同的对象进行了“机械类比”
 - ③由于归纳推理的前提不涉及全部对象, 故是不可靠的
 - ④从“国强必霸”妄断中国也不例外, 错在推理的前提失真
- A. ①②B. ①④C. ②③D. ③④

24. 孔子说: “古者祖有功而宗有德, 谓之祖宗者, 其庙皆不毁”。自汉代起, “祖宗功德”成为历代帝王庙号制定的基本原则, 但“曹魏有三祖, 朱棣为成祖, 福临(清顺治帝)为世祖, 玄烨(康熙帝)为圣祖”的现象也曾频频出现。这说明庙号的制定意在

- A. 凸显专制皇权的威严
- B. 传承儒家的礼乐制度
- C. 塑造君主的开明形象
- D. 彰显以德治国的理念

25. 西汉政府曾下令禁止宰杀耕牛, 规定杀牛、盗牛者受重刑, 但封国王侯以牛肉为奖赏赐予臣属的现象屡屡发生, 在西汉初年长沙国丞相利苍及其家属的墓葬(今马王堆汉墓)出土的菜谱中亦记载丰富的牛

25. 西汉政府曾下令禁止宰杀耕牛，规定杀牛、盗牛者受重刑，但封国王侯以牛肉为奖赏赐予臣属的现象屡屡发生，在西汉初年长沙国丞相利苍及其家属的墓（今马王堆汉墓）出土的菜谱中亦记载丰富的牛肉菜品，如牛肉羹、烤牛肉等。这种现象反映出当时

- A. 法律制度流于形式
- B. 自耕农生产遭遇了困境
- C. 中央权威面临挑战
- D. 豪强地主势力日益膨胀

26. 图5是宋人米友仁的《潇湘奇观图》（作于1135年），该图用淋漓水墨画江上云山，云雾变幻的奇境，山峰、江水、树木并未作具体细致的描绘，深得其“变态万层”之“真趣”。由此可见，《潇湘奇观图》



图5

- A. 体现了士大夫阶层的情趣
- B. 呈现了文化下移的趋势
- C. 表达了名教即自然的思想
- D. 受到了心学思潮的影响

27. 清军入关后的历代统治者都强调盛京为“龙兴之地”，并“监往代两都之制”尊盛京为留都，其辖区内的制度建设遵循了“参汉（汉族）酌金（后金）”的原则。这些做法

- A. 分散了清王朝的中央政治权力
- B. 形成了边疆与内地治理一体化
- C. 吸取了明朝亡于两京制的教训
- D. 推动了统一多民族国家的发展

28. 1894年，郑观应在《盛世危言》中说今日中国之西学不过是“中学流徙而入于泰西”的结果，在《西学》篇中详细列举了“西学中源”的种种表现，认为学习西学是“以中国本有之学还之于中国”。这种说法

- A. 奠定了维新变法的理论基础
- B. 体现了对洋务派主张的认同
- C. 动摇了儒家思想的正统地位
- D. 促进了近代西学东渐的进程

29. 1939年，昆明市商会出台禁囤货物办法：“凡存货商人务须依据低价及运费数目取加若干之利，随时出售，不得囤积居奇操纵价值；若是违反规定，一经查处，第一次按照货物总值处以罚金四分之一，第二次则按照货物总值处以罚金四分之三，第三次则没收全部囤货。”这体现出当时的昆明

- A. 战时统制经济体制执行乏力
- B. 民间组织发挥了社会治理职能
- C. 民营企业市场环境明显改善
- D. 工商业经济发展水平显著提高

30. 亚述帝国时期，“专业法官”和代表地方势力的基层机构被排除在法庭之外，国王和行政官员掌握裁判权；案件往往由一两位官员裁决，官员充当的兼职法官所做判决堪比行政决定；当事人可以上诉，但只有国王有权处理上诉案件。这种现象说明亚述帝国

- A. 行政官员成为审判主体
- B. 政治专制色彩浓厚
- C. 司法审判缺乏相应程序
- D. 治理体系较为混乱

31. 英王爱德华四世统治时期（1442—1483年），得到了英格兰大多数贵族群体的拥护。对王室的忠诚服务被广泛地视为贵族地位和权力的正当理由，同时，爱德华选择将郡的统治权交给贵族，依靠贵族的忠诚来管理地方，并在需要时由贵族为其提供军队。据此可知，当时英国

- A. 贵族垄断政治特权
- B. 中央与地方矛盾激化
- C. 封建王权有所强化
- D. 封君封臣制发生异变

32. 16世纪中叶，西班牙王室官员在西属美洲建立起了巨大的白银采矿业，为了满足矿业和城市的需求，农业和畜牧业也随之发展起来，但殖民当局却严格限制当地发展制造业的尝试。这体现出当时的西属美洲

- A. 移植了宗主国发展模式
- B. 殖民地经济缺乏自主性
- C. 资本原始积累速度加快
- D. 民族独立运动遭遇挫折

33. 西方工艺美术大师威廉·莫里斯在《我是如何成为社会主义者的》（1894年出版）一文中说“我一生最主要的激情就是对现代文明的痛恨”，机器生产的产品是如此的粗制滥造、毫无美感，“这完全毁灭了劳动唯一能得到的安慰——艺术”。据此可知，威廉·莫里斯

- A. 反思了工业文明的弊端
- B. 揭示了资本主义的本质
- C. 否定了工厂制劳作方式
- D. 批判了资产阶级的庸俗

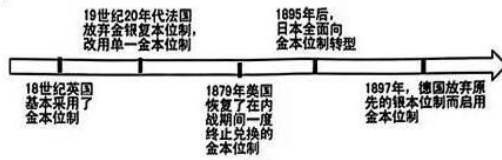
34. 图6是18世纪—19世纪末西方货币制度的演变示意图。该图可以用来说明这一时期



图6

A. 英镑逐渐丧失了世界货币霸权 B. 国家货币开始丧失本质的地位

34. 图6是18世纪—19世纪末西方货币制度的演变示意图。该图可以用来说明这一时期



- A. 英镑逐渐丧失了世界货币霸权
 B. 国家实力决定本币的地位
 C. 西方货币制度演变带有趋同性
 D. 黄金成为主流的储备货币

35. 表1为美国《(禁止)就业年龄歧视法》相关内容规定。这表明美国

时间	保护对象
1967年	40—65岁之间
1978年	40—70岁之间
1986年	取消了大多数劳动者的年龄上限
当前	劳动者范畴为40岁以上的劳动者(求职者 and 在职者)

- A. 奉行劳动至上的价值取向
 B. 强化了对劳动力市场的干预
 C. 解决了经济“滞胀”危机
 D. 削减了“福利国家”的规模

二、非选择题(本大题共10小题,共160分)

36. 阅读图文材料,完成下列要求。(26分)

奥地利是欧洲中部的内陆国和永久中立国,是欧洲交通枢纽。国土面积仅8.4万 km^2 ,人口902.8万人,目前60岁以上人口占总数的23%。奥地利是老牌工业国,矿产资源消耗殆尽;科技发达,科研教育投入多;工业经济实力强,国有企业控制了95%的基础工业和85%以上的动力工业,产值、职工人数及研发资金投入均占其总量的70%。机械工业是奥地利最大的产业,约有企业1900家,产值约占工业产值的1/4。工业在向上游转移的同时,奥地利依托高山冰雪和众多湖泊,调整耕地短缺劣势,农业服务业实现了向旅游度假(度假及滑雪相关设备等)、高端种植业和加工业(如葡萄酒、原奶、南瓜籽油等)成功转型。图7示意奥地利位置。

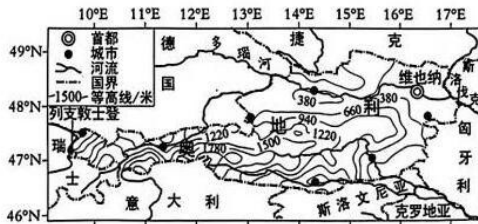


图7

- (1) 说明奥地利工业经济实力强的主要原因。(6分)
 (2) 有人判断奥地利是目前世界上最依赖国有经济的国家之一,请指出他判断的依据。(8分)
 (3) 机械工业是奥地利最大的产业。推测奥地利机械工业发展的劣势。(6分)
 (4) 推测奥地利农业服务业成功转型的有利支撑条件。(6分)

37. 阅读图文材料,完成下列要求。(30分)

冰点是水的凝固点,当水中含有杂质时,冰点会降低,海水的冰点低于淡水。漂浮在海面的海冰和冰山是海洋航行中常见的威胁,大型冰山寿命可达数十年。与北极相比,我国南极科考船更容易遭遇极地东风导致的天气突变进而被海冰围困的险境。随着气候变暖,北极海冰基本呈减少趋势,但南极海冰规模在2016年以前一度略有增长。图8示意南极海域海冰面积变化(左图)及冰山的形成过程(右图)。2022年10月,中国第39次南极科考队分别乘坐“雪龙”号和我国自主研发的“雪龙2”号科考船从上海出发,围绕南大洋重点海域对全球气候变化的响应与反馈等重大科学问题进行调查研究,历时163天,行程6万余海里顺利完成各项任务。“雪龙”号于2023年4月3日,“雪龙2号”于2023年4月6日凯旋返回上海国内基地码头,标志着中国第39次科学考察圆满完成任务。

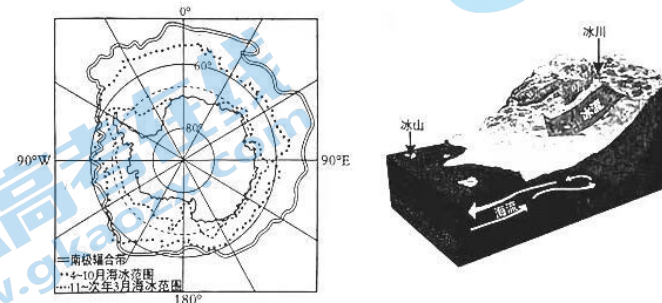


图8

- (1) 与北极相比,分析南极海域冰山一般更难融化的原因。(6分)
 (2) 说明我国南极科考船在南极海域考察经常遭遇险境的原因。(8分)
 (3) 推测2016年以前南、北极海冰变化差异的原因。(8分)
 (4) 结合中国第39次南极科考任务,从以下角度任选其二发表你的感想。(8分)
 感想①: 围绕海—气相互作用说明南大洋对稳定全球气候的意义。
 感想②: 南大洋高纬海域海冰融化与气候变暖的关系。
 感想③: 南大洋漂浮的大量冰山对人类造成的影响。

38. 阅读材料,完成下列要求。(10分)

38. 阅读材料，完成下列要求。(10分)

党的二十届二中全会审议通过了《党和国家机构改革方案》，同意将其中涉及国务院机构改革的内容提交十四届全国人大一次会议审议。

2023年2月28日，中共中央举行民主协商会，就改革方案向各民主党派中央、全国工商联和无党派人士代表通报情况，听取意见。民主党派、工商联和无党派人士一致认为，方案是在深入研究论证、广泛征求意见、充分酝酿协商基础上形成的，关系新时代新征程党和国家事业发展，表示坚决拥护，并就深化党和国家机构改革提出意见和建议。

2023年3月10日，十四届全国人大一次会议表决通过了关于国务院机构改革方案的决定，批准了这个方案。

结合材料，运用《政治与法治》的相关知识，说明国务院机构改革方案的出台过程是如何体现中国特色社会主义制度优势的。

39. 阅读材料，完成下列要求。(10分)

近年来，安徽省黄山市黟县立足徽文化资源优势，以古建筑古民居为载体，以田园风光为基底，大力发展特色民宿。黟县民宿突破基础的住宿功能，注重对徽文化和田园生活的深度体验，融居住、休闲、疗养为一体，为游客打造了全环境的休闲住所。当地政府通过政策引导、产业扶持、成立行业协会、深化文旅融合等举措，促进民宿与其它产业的融合，发展以民宿经济为核心的新型乡村经济模式，助力乡村振兴。目前，全县挂牌民宿、乡村客栈等有900余家，包括西递、宏村等8个民宿集群，形成全域乡村民宿集群发展态势。

结合材料并运用联系观知识，说明黄山市黟县是如何借助乡村民宿推动乡村振兴的。

40. 阅读材料，完成下列要求。(10分)

2023年是习近平总书记向国际社会提出构建人类命运共同体理念10周年。十年来，中国以务实行动推动人类命运共同体构建取得一系列重大成果。无论是在G20、七十七国集团等国际组织中，还是在亚太经合组织、RCEP等区域合作框架下，中国与许多国家都密切合作。十年来，高质量共建“一带一路”得到了世界上超过3/4的国家和数十个国际组织的积极支持，形成了3000多个合作项目，投资规模近一万亿美元。十年来，理念和实践的深入发展使人类命运共同体的影响力不断提升，越来越多的国家希望参与其中，并表达了他们对人类命运共同体的无限厚望。

有观点认为：构建人类命运共同体理念已成为世界各国的普遍践行。根据所学《当代国际政治与世界经济》知识对上述观点加以评析。

41. 阅读材料，完成下列要求。(12分)

2020年3月，陈某想购买一套二手房，经过房产中介和李某顺利签订了《售房协议》，协议上写明，陈某已对此房充分了解，自愿以49万元的价格购买。陈某向李某支付首付款20万元，剩余房款一周后付清。如有违约，违约方向对方赔付房屋总价20%的违约金。随后，按照协议的约定，陈某支付了李某20万元的首付款。但是在办理过户手续时，陈未得知自己购买的房子已被抵押不能过户，便找到了李某协商，希望李某能将房子撤出抵押，并协助自己办理过户手续。两人多次协商未果。无奈的陈某将李某告到法院，请求法院依法判决李某返还20万元购房款，并赔偿违约金。

(1) 陈某与李某签订的协议是否有效？为什么？(6分)

(2) 陈某的主张是否能够得到法院的支持？为什么？(6分)

42. 阅读材料，完成下列要求。(10分)

统一的小桥流水、青砖白墙黛瓦、红灯笼；无论哪个古镇都有卖丝绸的、卖钥匙扣的、卖手工首饰的；甚至连“特色小吃”都变得千篇一律，臭豆腐、烤肠、糍粑……不知何时起，古镇渐渐“长得”越来越像，相似性渐渐取代了每个古镇的独特性，全国各地古镇的“套重率”令人瞠目结舌。

“千镇一面”的根源，在于古镇过度商业化开发。管理者缺乏长远规划，在开发设计时急于求成，热衷模仿、照搬商业化运营成功的古镇，同时对商业业态缺乏统筹管理，未能有效规划商家，忽略了对古镇独特性的保存。有关部门在开发古镇时应制定长远的统筹规划方案，避免重复建设，保持古镇的宜居性和文化环境，方能保留住每个古镇独特的文化特色和历史记忆。

运用“创新思维要善于联想”的有关知识，说明如何有效破解“千镇一面”的发展困局。

43. 阅读材料，完成下列要求。(25分)

材料一 欧阳修做过礼部侍郎，他对已有的薛居正著《五代史》甚不满意，决意重修。他主张就用“春秋笔法”对“干戈兴，学校废，而礼义衰，风俗源坏”的乱世加以扬善惩恶。他在这部私修史书中专门立《一行传》《唐帝家人传》《义儿传》等，以表彰乱世中的忠臣义士；同时，对于一生事四姓、历十君还恬称“长乐老”的冯道大加贬斥：“予读冯道《长乐老叙》，见其自述以为荣，其可谓无耻者矣。”因“褒贬”需要，欧阳修严格使用词语，甚至出现笔削史料的现象。

——摘编自杨华《中国古代的家礼撰作及其当代价值》

材料二 在共产国际的指导下，1928年中共六大将中国社会性质确定为半殖民地半封建社会，这解决了中国革命“向何处去”的困扰，但也由此引发了一场关于中国社会性质的论战大规模展开。中国社会史论战则由现实诉求引到历史问题，争论的实质是中国历史发展阶段与马克思主义所总结的人类历史发展基本规律是否一致。论战在1937年基本结束，经过论战，近代中国的半殖民地半封建社会性质得到广泛认同。在此次论战中，马克思主义被广泛地应用于对中国现实和历史问题的研究中。

——摘编自李娟《中国社会史大论战的来龙去脉》

(1) 根据材料一并结合所学知识，概括欧阳修著《五代史》的做法及其影响。(10分)

(2) 根据材料二并结合所学知识，分析中国社会史论战的特点及其兴起的背景。(10分)

(3) 根据材料并结合所学知识，简要说明史学的重要功能。(5分)

44. 确定历史的发展主线并加以研究是认识历史发展的重要方法。阅读材料，完成下列要求。(12分)

材料 世界一体化是近代历史发展的一条线索，在这一过程中伴随着出现许许多多不合理、不平等和非正义的现象，带来剧烈的动荡、混乱和各种痛苦。因此，世界近代史中便充满了各种各样反抗奴役压迫、争取自由平等的斗争，这成为世界近代史发展的另一条线索。这些斗争虽然带来了全球性的对抗与分裂，表现为一种与一体化相悖的离心倾向，但它有助于纠正世界一体化过程中出现的不合理、不平等、非正义的现象，从而使世界日趋公平和谐。因此，一体化与合理化这两条线索贯穿于世界近代史，世界历史也因此在这两大板块的互动中循序渐进地向前发展。

——摘编自王玮主编《世界近代史》，山东大学出版社2000年

根据材料，结合所学世界近现代史知识，确定两条历史发展线索，就这两条线索之间的联系拟定一个论题并加以阐释。(要求：所定线索不得与材料重复，论题明确，史论结合，逻辑清晰)

45. 阅读材料，完成下列要求。(15分)

材料 1984年，国务院发布《关于农民进入集镇落户问题的通知》，要求各地应支持有经营能力和有技术专长的农民进入集镇经营工商业，准予其落常住户口，统计为非农业人口。农民凭借“经营能力”和“技术专长”，获得非农业户口，户口制度迈出了从强制禁止到条件许可的第一步。1985年，公安部颁布《关于城镇暂住人口管理的暂行规定》，决定对流动人口实行《暂住证》和《寄住证》制度，允许暂住人口在城镇居留。同年，全国人大常委会通过了《中华人民共和国居民身份证条例》，规定凡16周岁以上的城乡公民均须申请身份证，标志着人口管理理念开始发生从户口管理向身份管理的转变，打上明显地域和职业特征的户口管理出现淡化的趋势。1983年“农转非”人口约为200万，1989年增至3000万，年均增长约500万。

——摘编自尹旦萍《城乡之间：当代中国户口的变革历程》

(1) 根据材料，概括20世纪80年代户口制度改革的原因。(6分)

(2) 根据材料并结合所学知识，简评20世纪80年代户口制度改革。(9分)

1号卷·A10联盟2023届高三高考最后一卷文科综合能力测试(地理)参考答案

一、选择题(本大题共11小题，每小题4分，共44分)

A B A C D D C A B C D

1. 美国城市是“社会中心”的社会阶层空间分布模式。处于游猎城市化阶段并有两城并立的特征

1号卷·A10联盟2023届高考最后一卷（自测卷）

文科综合能力测试（思想政治）参考答案

一、选择题（本大题共12小题，每小题4分，共48分。在每小题给出的四个选项中，只有一项是最符合题目要求的）

题号	12	13	14	15	16	17	18	19	20	21	22	23
答案	D	D	B	C	C	A	C	D	D	B	A	B

12. D 生产力的发展不是经济危机爆发的必然因素，①排除。经济发展会激发阶级斗争，②排除。通过材料可知，资本主义经济危机是资本主义社会自身所无法消除的，③正确。资本主义经济危机存在的根源在于生产社会化与资本主义私人占有之间的矛盾，只要私有制存在，经济危机就不可能避免，④正确。
13. D 新时代十年取得伟大成就得益于习近平新时代中国特色社会主义思想的指导，说明科学社会主义的强大生命力，③④正确。进入新时代，中华民族迎来了从站起来、富起来到强起来的伟大飞跃，没有实现，①错误。中国人民的主动精神属于精神力量，不是新时代十年取得伟大成就的根源，②错误。
14. B 民营经济在经济发展中的作用不断显现，但在国民经济中的地位没有逐步提升；国有经济是推进国家现代化、保障人民共同利益的重要力量，②④错误。“五六七八九”的特征更趋明显，表明民营经济是现阶段社会主义市场经济的重要组成部分，成为创业就业的主要领域、技术创新的重要主体，①③正确。
15. C 民生保障标准不断提高得益于我国经济社会的持续发展，也体现了政府的人民立场，②符合题意。城乡低保、特困人员和孤儿保障属于社会救助，社会救助被称为筑牢保障社会成员生存权利的最后一道防线，④符合题意。社会救助不需要个人筹集资金，保障的是社会成员的最低生活水平，①排除。③描述的是商业保险，排除。
16. C 中国共产党的领导是中国特色社会主义的最本质的特征，①排除。材料中人民通过多种途径和方式参与民主生活，②正确。越来越多的群众意见转化为党和政府的重大决策体现了人民民主和国家意志相统一，③正确。全过程人民民主是社会主义民主政治的本质属性，其本身不是制度载体，④排除。
17. A 中国共产党就经济形势听取民主党派意见，体现了民主党派同中国共产党是通力合作的亲密友党，体现了我国发挥民主党派优势、凝聚社会共识，①③符合题意。材料没有体现各民主党派坚持党的政治领导，②排除。材料主体是民主党派，而不是人民政协，④不符合题意。
18. C 将传染病从“乙类甲管”调整为“乙类乙管”，是根据对病原体、疾病的性质和危害性的认识，根据人群免疫力和卫生健康系统的抵抗力，根据疫情现状和未来走向，聚集专家的智慧、借鉴国内外经验，综合考虑各方面的因素才能做出决策，②④符合题意。材料没有涉及到感性认识上升到理性认识的问题，①不选。在同一条件下人们对同一对象的真理性认识只能有一个，③表述不妥。
19. D 材料强调，实现人生价值必须做好准备走曲折路的准备，必须要砥砺自我，发扬顽强拼搏、自强不息的精神，②④符合题意。①③表述正确但与题意不符。
20. D 议会制国家，政府首脑一般是由议会多数党领袖担任，①错误。西班牙属于议会制君主立宪制政体，②排除。议会制国家，当议会对政府不信任时，政府必须集体辞职，③正确。当议会对政府不信任时，政府首脑可以提请国家元首解散议会，重新进行选举，④正确。
21. B 联合国安理会负有维护国际和平与安全的主要责任，②错误。联合国是目前世界上代表性最广泛、最权威的综合性的国际组织，但不是凌驾于国家之上的领导各国治理的重要组织，③错误。材料反映了联合国在世界和平方面的积极作用，①④符合题意。
22. A 材料中的劳动合同中规定“本人的病，伤，残，亡等企业均不负责”违反了劳动法，侵犯了劳动者的合法权益，①③符合题意，②排除。劳动争议发生后必须经过仲裁程序，不能直接去法院起诉，④错误。
23. B 充分假言推理中的前件真，后件就一定真，①正确。充分假言推理中，前件假，后件不一定就假，②错误。充分假言推理中，后件真，前件不一定真，③错误。充分假言推理中，后件假，前件一定假，你过不好日子，所以，你不肯动脑子，不愿动身子，④正确。

二、非选择题（本大题共 5 小题，共 52 分）

38.（10 分）

- ①通过各种培训，提高村级组织党员干部队伍的整体素质，充分发挥党员干部的先锋模范作用；（2 分）
- ②充实“两委”班子，整合人力资源，构建联防体系，进而完善乡村基层治理体系；（2 分）
- ③提高乡村治理数字化水平和基层公共服务能力，广泛接受村民监督，实现农村治理智能高效；（3 分）
- ④提高农村民主管理水平，创新村民自治方式，充分激发村民参与乡村治理的内生动力，构建自治、法治、德治“三治”融合、共建共治共享的乡村治理新格局。（3 分）

39.（10 分）

- ①矛盾的普遍性和特殊性的关系，也就是矛盾的共性和个性、绝对和相对的关系。矛盾普遍性和特殊性相互联结，在一定条件下相互转化；任何事物都是普遍性和特殊性的对立统一。这要求我们重视矛盾普遍性对特殊性的指导作用，坚持两者具体的历史的统一；（4 分）
- ②相对于人类现代化历程，中国式现代化、西方化都属于矛盾特殊性。西方宣传“现代化=西方化”，用矛盾特殊性取代矛盾普遍性。打破“现代化=西方化”迷思，就是打破西方对现代化理论的话语垄断，使包括中国在内的广大发展中国家在现代化理论指导下，探索适合本国国情的现代化道路；（3 分）
- ③打破“现代化=西方化”迷思，有利于广大发展中国家借鉴中国方案，拓展发展中国家走向现代化的路径选择，为解决人类问题贡献了中国智慧和方案，在人类社会发展史上具有重大意义。（3 分）

40.（10 分）

- ①联合国是多边主义理念的产物，也是践行多边主义最佳场所；（3 分）
- ②《联合国宪章》确立了当代国际关系的宗旨和基本原则，为实践多边主义提供了根本遵循；（3 分）
- ③联合国是实现世界和平与发展的核心机制和平台，是集体应对各种威胁和挑战的有效平台。全体会员国共同维护联合国权威，巩固联合国在国际事务中的核心地位，有利于推动各国共同捍卫多边主义，维护和平，推动发展，捍卫全人类的共同利益。（4 分）

41.（12 分）

- （1）应该承担责任。（2 分）不可抗力，是指不能预见、不能避免并不能克服的客观情况。A 运输公司疏于履行对天气预报的注意义务，并怠于履行采取防雪措施的义务，因此，这次大雪天气不属于不可抗力范畴。运输公司没有如期将货物运达指定地点，属于单方违约行为，应该承担赔偿责任。（4 分）
- （2）不能。（2 分）王先生与李先生签订的苹果购买合同，王先生与运输公司之间不存在合同关系。李先生没有履约，属于违约行为，应该由其承担对王先生的赔偿责任。（4 分）

42.（10 分）

- ①辩证的否定观，既包含着肯定，同时又具有比肯定更为丰富的内容。自动驾驶地图在继承传统导航电子地图的基础上，实现了精度更高、更新更快、内容更丰富；（3 分）
- ②发散思维要求从不同角度、不同方向寻求解决问题的答案。自动驾驶地图能够与地理信息与汽车、信息通信、电子、交通运输、信息安全、密码等行业领域实现深度融合；（3 分）
- ③超前思维要求从事物发展的现实情况出发，认识和把握事物的发展状态，运用合理的推理和想象，判断事物未来发展趋势。根据我国智能汽车产业发展状态及产业支持政策的实施，可以预测，未来自动驾驶将有“图”可依。（4 分）

1号卷·A10联盟2023届高考最后一卷(自测卷)

文科综合能力测试(历史)参考答案

一、选择题(本大题共12小题,每小题4分,共计48分)

题号	24	25	26	27	28	29	30	31	32	33	34	35
答案	C	B	A	C	D	C	A	A	B	C	A	D

24. C 从材料信息看,西周致力于开拓和平定西部,先是征讨,后又分封,由此巩固西周对西部的统治,故选C项;西周对西部地区进行分封,分封属于间接统治,排除A项;姬姓封国主要分封在经济发达地区和战略要地,排除B项;材料体现了西周对周边民族的征伐,没有体现华夏认同,排除D项。
25. B 根据材料并结合所学可知,贞观诗坛在北方文人的基础上,对当时的文风进行了扬弃,可谓“取其精华、去其糟粕”,从而推动了贞观诗歌创作的发展,故B项正确。材料并未提及唐太宗的人才措施,A项错误;材料强调对当时文风的扬弃,并不能说明南方经济文化影响力的上升,C项错误;材料主旨并非儒家伦理思想对唐代诗歌创作的影响,D项错误。
26. A 根据材料并结合所学可知,明代举荐制度在一定程度上有利于人才的选拔,因此具有一定的合理性,故A项正确。材料并未提及九品中正制,B项错误;材料的主旨在于举荐制度的价值,没有提及八股取士的弊端,C项错误;明朝选人权力始终掌握在以皇帝为代表的中央手中,并未出现下移趋势,D项错误。
27. C 由表格数据可知,滇西南地区新进入的汉族人户越来越多,这是由于改土归流的实行,取消了土司世袭制度,强化了中央对少数民族地区的管理,使得更多汉族人口进入少数民族地区,促进了农耕文明的传播,故选C项,排除B项。A项表述与史实不符,排除;俄国的侵略主要是在西北和东北地区,D项排除。
28. D 根据材料并结合所学可知,孙中山论述了法美两国革命的成功并非拿破仑、华盛顿的个人之功,而是民众集体意志的结果,故D项正确。材料并未提及孙中山反对法国大革命和倡导美国式的共和政体,A、B两项错误;孙中山作为资产阶级革命派的领导人并未接受唯物史观,且材料的信息也不能说明孙中山接受了唯物史观,C项排除。
29. C 根据材料可知,中华苏维埃政权承认资本家对企业的所有权,鼓励商业贸易,是根据当时根据地的实际情况,需要商业活动以保证根据地的经济秩序,故C项正确。苏维埃的决议没有改变新民主主义革命的性质,A项排除;国民革命是1924—1927年,B项排除;从1931年可知,抗日民族统一战线尚未建立,D项排除。
30. A 本题主要考查古代的文明。从材料可以看出,亚历山大在东征过程中,先后建立起几十座以他的名字命名的希腊化文明城市,而且大量的希腊手工匠师、商人、学者、医生、冒险家纷纷涌入东方城市,极大地扩大了希腊文明对东方的影响,而东方的风格传统也日益渗进了希腊人的日常生活之中,故A项正确。B项从材料信息难以得出,也不符合史实,排除;C项与材料主旨不符,排除;亚历山大连年征战,虽然一度建立了地跨亚非欧的大帝国,但并不持久,排除D项。
31. A 制定并完善法典,体现查士丁尼对现实社会的关注,对法治的重视,不随意进行统治,体现国家治理的理性化,选A项。材料不涉及东正教,排除B项;法典完善不等于社会矛盾尖锐,排除C项;罗马共和国时期的《十二铜表法》就是成文法,排除D项。
32. B 中国茶文化盛行儒雅作秀之风,而俄罗斯文化受到俄罗斯地域的影响,比较趋于饮食本身,体现了文化传播的变异性,故选B项。材料看不出时代对俄罗斯的影响,排除A项;材料看不出俄罗斯茶文化对中国的影响,排除D项。“重构”说法夸大,排除C项;
33. C 从材料信息看,19世纪上半期,英国对土耳其的出口急剧增长,结合所学知识可知,这一时期,英国基本完成工业革命,对外进行商品输出,开拓市场,市场成为资本主义发展的重要因素,故选C项。土耳其是西方列强的半殖民地,排除A项;材料中更多的是英国对土耳其贸易的顺差,排除B项;材料没有体现黑海的地位,排除D项。

34. A 根据材料并结合所学可知，美国工人运动的“例外”说明美国工人的阶级觉悟落后于欧洲，这也说明美国的工人更关注个体的利益，这种情况与当时美国盛行个人主义、鼓吹个人奋斗有着密切的关系，故 A 项正确。随着两次工业革命地开展，美国的生产力水平并不低下，B 项错误；工人阶级本身就是先进的领导阶级，C 项错误。D 项表述与材料主旨不符，排除。
35. D 依据材料并结合所学可知，受过高等教育的人进入到文官队伍之中，且文官队伍人数的增加，说明当时政府社会管理职能的增加，即积极干预社会经济的发展，故 D 项正确。A、B、C 三个选项与材料问题无关，排除。

二、非选择题（本大题共 3 小题，共 52 分）

43. (25 分)

(1) 特点：行政权和自治权并存，官民共治；族权在乡村日常生活中的作用和影响大，认同性强；士绅成为乡村社会的直接统治者；大量民间组织成为农村社会运转的保障。（1 点 2 分，4 点 8 分，意思相近即可，共 8 分）

原因：中央政府力图将乡村社会置于行政权控制之下，维系大一统社会的基本秩序；小农经济具有很强的分散性，造成统治成本高，国家政权担负不起；人们的宗法观念根深蒂固，形成极具宗法伦理色彩的族权。（1 点 2 分，3 点 6 分，意思相近即可，共 6 分）

(2) 特点：坚持党的领导是前提；以国家法律和制度作保障；由点到面、由示范到全面推开；成为全过程人民民主的重要组成部分。（1 点 2 分，3 点 6 分，意思相近任答 3 点即可，共 6 分）

意义：基层民主建设是一场历史性的变革，是社会主义民主政治建设的重大成果；有利于推动国家治理体系和治理能力的现代化；有助于推动美丽乡村建设。（1 点 2 分，2 点 4 分，3 点 5 分，言之成理即可，共 5 分）

44. (12 分)

参考示例

论题：构建“人类命运共同体”是世界文明发展的大同之道。（2 分）

论述：新航路开辟后，世界逐渐连为一个整体。西欧国家通过殖民掠夺等野蛮的手段，积累了大量财富，构建了以西方国家为中心的世界体系，传播了西方式的文明，客观上促进了文明的传播。但这种文明的传播的代价则是被殖民、奴役的国家的原有文明发展进程被打断，原有种族的文化变异甚至消失。20 世纪的两次世界大战都与欧洲国家脱不开关系，西方国家妄图以战争为手段，解决矛盾，反而给自己乃至整个人类文明带来了浩劫。纵观 16 世纪以来的世界文明史，西方主导这一进程中，使得东西方文明最终均付出了极其巨大的代价。因此，在全球化迅速发展，人类面临诸多挑战面前，构建“人类命运共同体”，以合作为主，通过交流、互鉴共同发展，共同享有人类文明发展的成果才是世界文明发展的大同之道。（10 分）

（以上“参考示例”仅供阅卷参考，不是唯一标准答案。如学生从战争与文明、交流与文明发展等角度自拟论题，论述合理亦可赋分）

45. (15 分)

(1) 背景：汉末以来，政治黑暗、分裂割据、战乱频繁，自然灾害导致人生变化无常；知识分子对现实的不满；佛道思想的传播和魏晋玄学的兴起；儒学伦理受到冲击；九品中正制下，门阀政治大行其道；士大夫群体自我意识的增强。（1 点 2 分，3 点 6 分，意思相近任答 3 点即可，共 6 分）

(2) 审视：从政治文明的角度客观看待西方的近代民主政治；从物质文明的角度审视西方“以商为本”的近代化经济；从“船坚炮利”的角度审视西方先进的近代化军事；以平等的地位看待西方与中国的诸多联系。（1 点 2 分，3 点 6 分，任答 3 点即可，共 6 分）

意义：引导国人抛弃“天朝上国”的陈腐观念，向西方学习，寻求强国御侮之道；对近代民族观念的形成具有一定的启蒙作用。（1 点 2 分，2 点 3 分，言之成理即可，共 3 分）

1号卷·A10联盟2023届高考最后一卷（自测卷）

文科综合能力测试（地理）参考答案

一、选择题（本大题共 11 小题，每小题 4 分，共 44 分）

题号	1	2	3	4	5	6	7	8	9	10	11
答案	C	D	B	D	C	A	B	A	D	C	A

- C 由图可知，龙山时期多数聚落在黄河中游及支流沿线分布，并不在黄河上游沿线，其分布也未呈现出带状分布；南部聚落分布较多，自北向南密度增加；聚落总体呈分散，但多数呈团块状分布。
- D 由图可知，庙底沟二期至龙山时期，聚落和城址分布重心南移，反映气候变冷，人类向低纬度地区迁移以满足农作物的种植条件；龙山时期城址向河流下游及黄河干流移动，反映出气候变干，水患减少，取水需求增大。
- B 由上题可知，龙山时期该区域气候趋于冷干，气候条件变差，生态资源减少，人地矛盾加剧。为了应对大规模南迁带来的部落冲突，先民们普遍建设城垣、环壕加强防御，从而使得城址数量不断增加，规模不断扩大；材料无法体现龙山时期的生计模式；拥有城垣、环壕等防御设施的城址增加，说明聚落功能更加复杂；城址普遍据险而设，高墙深壕，主要为应对当时部落之间因资源竞争和争夺而产生的冲突，但与自然灾害关系不大。
- D 该灭火方式要求人工点燃火线向林火区域迅速移动，当林火强度大，森林上空气团受热急剧上升形成局地低压，在这一水平梯度下，地面将有来自周边的风吹向林火区域，此时若在周边适宜的位置人工点燃火线，会被地面的风引导烧向自然林火，使结合部骤然缺氧失去燃烧条件，从而实现灭火效果。
- C 该灭火方式在更大区域的背景风力较弱且风向稳定时，自然林火的温差形成的局地环流才能发挥主导作用，从而使人工点火按计划的方向和规模前行。
- A 我国森林主要分布于季风气候区，夏秋多雨，冬春少雨，且多数森林分布于南方地区，冬季无积雪覆盖，有利于山火的形成。
- B 汤加海沟属于板块交界处的消亡边界，澳大利亚板块与太平洋板块碰撞挤压，太平洋板块俯冲到澳大利亚板块之下，澳大利亚板块抬升出现岛弧链，太平洋板块俯冲区出现海沟。
- A 当火山喷发的时候，滚烫的岩浆从火山内部喷涌而出，这是一个不断降温的过程，因此岩浆会快速冷却凝固，由于压力骤然减小，导致岩浆内部的气体膨胀逃逸形成了具有密集气孔的浮石。
- D 由图示可以看出，该区域范围较小，地形起伏很小，气候类型一致，所以土壤类型也相同；植被有喜湿生环境的芦苇，还有耐旱的盐爪爪、白刺等，其根系集中分布区深浅不同，所以判断影响植被分异的因素为水分，自然地理要素为水文。
- C 该区域的青土湖沿岸气候干旱，蒸发旺盛，所以浅层土壤水大部分以蒸发蒸腾的形式散失。土壤水部分以地下径流的形式侧向流动，部分存留在植物体内，极少部分向深层下渗。
- A 依据图示，随着地下水埋深的加大，浅层土壤可利用水分减少，所以物种间的水分竞争加剧，植物根系在垂向方向上分层现象逐渐增强；芦苇属于喜湿植物，其主要水源在地表及浅层土壤，地下水埋深加大会造成芦苇分布减少；该区域气候干旱，湿生植物种类少，随着水分的减少，湿生植物向旱生演替，耐盐碱的荒漠植被增加，从芦苇单物种群落过渡到芦苇+白刺群落，最后变为梭梭+白刺+芦苇群落，生物多样性增加。

二、非选择题（共 2 小题，56 分。）

36.（26 分）

- (1) 形成过程：河流携带泥沙入鄱阳湖，流速减慢泥沙沉积；（2 分）由于湖底高低不平及泥沙沉积不均，部分地区沉积作用强形成洲滩，洲滩间沉积作用弱形成洼地；（2 分）夏季，鄱阳湖进入汛期，水位高，淹没洼地；（2 分）秋冬季，鄱阳湖进入枯水期，水位降低，洼地积水、蓄水形成碟形湖。（2 分）形态特征：面积较小、水深较浅。（2 分）
- (2) 碟形湖水体较浅，数量多，生存空间广；位于水生和陆生生态系统交错区，生存环境类型多样；鱼、虾、螺、蟹、水草等食物种类多样（没有写出鱼、虾、螺、蟹、水草等，只要答出食物种类多样就可得分）；湖间洲滩植被茂盛，为鸟类栖息提供隐蔽环境；这些都利于减少生物间的过度竞争。（任答三点得 6 分）
- (3) 鄱阳湖冬季水位上涨，水陆交错湿地规模减少；水域变深，食鱼鸟类捕食难度增大；阻止鱼类洄游，湿地生物多样性受影响。（任答两点得 4 分）
- (4) 降水增多：夏季鄱阳湖水位上涨，湖水深度增加，底部光照减弱、深水植物产量降低；秋冬季湖水深度增加，候鸟觅食困难；秋冬季浅滩减少，越冬候鸟食物短缺，加剧候鸟间生存空间竞争。（6 分）降水减少：夏季鄱阳湖水位降低，碟形湖数量减少、水量减少；鱼类、底栖生物及水生植物减少，越冬候鸟食物短缺；加剧候鸟间生存空间竞争。（6 分）

37.（30 分）

- (1) 巴基斯坦种植业产值占比低于畜牧业产值占比。（2 分）
原因：巴基斯坦气候较为干旱，降水较少，草场资源丰富，适宜发展畜牧业；山地、丘陵面积广，不利于发展种植业，适宜发展畜牧业；气候干旱，土壤发育差，较贫瘠，不宜发展种植业；地表水缺乏，限制种植业规模发展。（8 分）
- (2) 设施联通：加强中巴经济走廊的电力、道路、通信等基础设施建设；贸易畅通：推动资源开发、产业转移合作、加强商贸往来；资金融通：依托中巴金融机构合作筹集资金，加大我国企业对巴投资；民心相通：加强中巴合作区域周边的产业发展，加强经济文化交流，提高就业率，造福当地人民。（8 分）
- (3) 从我国新疆至瓜达尔港运输距离较长；中巴经济走廊货物运输需求量大，农矿产品多；铁路运输运量大，运输效率高，高速公路运量小，运输成本高，而且耗时长，相比之下，铁路更具成本优势。（6 分）
- (4) 立法并监督，减轻煤、石油、天然气开采过程中造成的生态破坏；加大技术投入，在发电过程中提高资源利用效率，减少废弃物的排放；完善废弃物处理措施，做到废弃物达标排放。（6 分）