

2017 年普通高等学校招生全国统一考试

文科综合（北京卷）

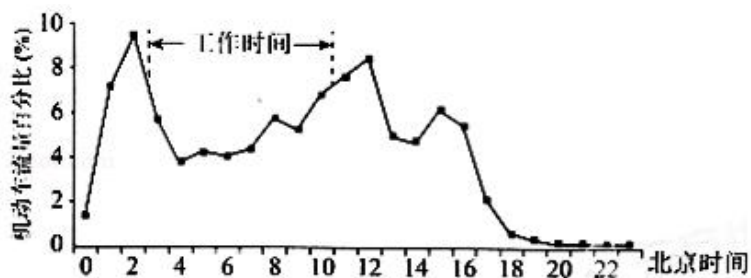
本试卷共 18 页，共 300 分，考试时长 150 分钟，考生务必将答案答在答题卡上，在试卷上作答无效，考试结束后，将本试卷和答题卡一并交回。

第一部分（选择题 共 140 分）

本部分共 35 小题，每小题 4 分，共 140 分。在每小题列出的四个选项中，选出最符合题目要求的一项。

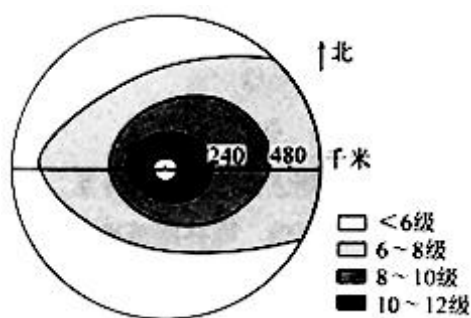
1. （4 分）大数据显示，城市机动车流量变化在一定程度上可体现城市的生活节奏。机动车流量百分比是指某时段机动车流量占当日机动车总流量的比例。如图为甲城市工作日机动车流量变化图。读图，回答问题。

甲城市所处时区是（ ）



- A. 西二区                      B. 西十区                      C. 东十区                      D. 东二区

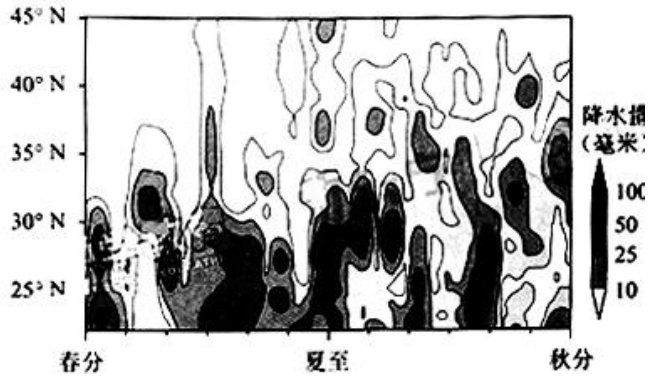
2. （4 分）如图为影响我国的某台风海面风力分布示意图。读图，回答第 2 题。



该台风（ ）

- A. 夏季生成于我国黄海海面  
B. 小于 6 级风的范围降水最强  
C. 气压值最低处风速最大  
D. 西北侧的风向为偏北风

如图为某年内我国地跨 10 个经度区域的降水量变化图。读图，回答第 3~5 题。



3. 据图可知，（ ）

- A. 清明节之前各地阴雨连绵
- B. 5 月起雨带开始向北移动
- C. 35° N 以南地区秋高气爽
- D. 35° N 以北地区伏旱严重

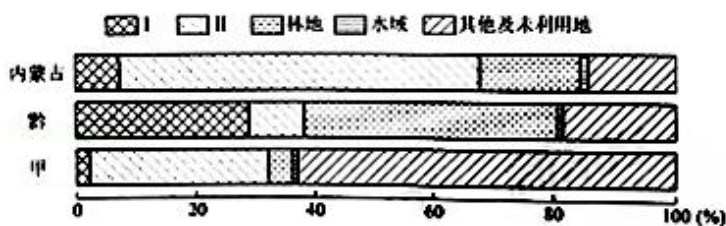
4. 该区域（ ）

- A. 位于地势二、三级阶梯
- B. 绝大部分属于内流区
- C. 东部降水受暖流影响大
- D. 人口密度北部大于南部

5. 芒种至小暑期间，（ ）

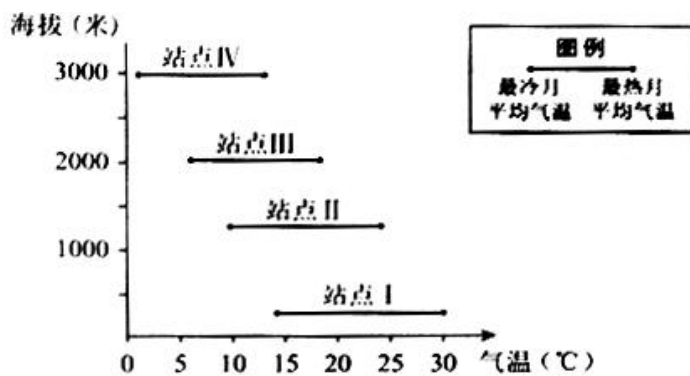
- A. 该区域南北气温差异大
- B. 塔里木河蒸发量大，出现断流
- C. 白昼时间北京比上海大
- D. “雪龙号”科考船抵达南极大陆

如图为我国的三个省级行政区土地利用结构图。读图，回答第 6、7 题。



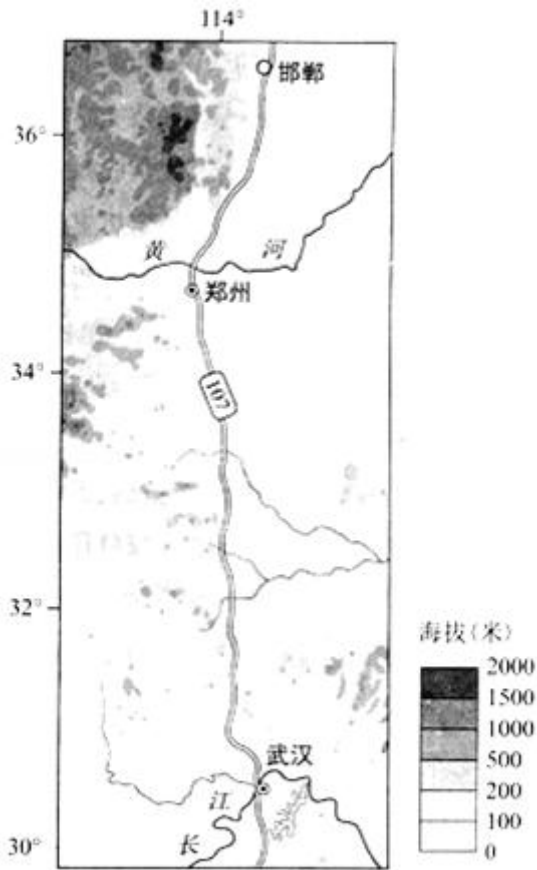
6. 甲和土地利用类型 I、II 分别为（ ）

- A. 新, 耕地、牧草地
  - B. 滇, 耕地、居民点及工矿用地
  - C. 川, 交通运输用地、牧草地
  - D. 藏, 牧草地、居民点及工矿用地
7. 内蒙古 ( )
- A. 水域面积大, 水能资源丰富
  - B. 受降水影响, 森林覆盖率东部大于西部
  - C. 地势平坦, 宜大幅度提高城市建设用地比例
  - D. 其他及未利用地面积比黔少, 后备土地资源不足
8. (4分) 如图表示喜马拉雅山脉某区域不同海拔四个站点的最冷、最热月平均气温。读图, 回答第8题。



- 该山地 ( )
- A. 海拔 3000 米左右积雪终年不化
  - B. 气温年较差随海拔升高递增
  - C. 位于喜马拉雅山脉南坡
  - D. 地处板块的生长边界

如图为 107 国道邯郸 - - 武汉段及其附近区域简图。读图, 回答第 9~11 题。



9. 该段国道能够 ( )

- ①增加沿线商业网点数量
- ②促进沿线地区人口流动
- ③缓解陇海铁路运输压力
- ④促使省会城市空间形态呈带状分布.

A. ①②                      B. ③④                      C. ①③                      D. ②④

10. (4分) 图示区域内, ( )

- A. 地形复杂多样, 风能资源丰富
- B. 以水田农业为主, 水稻播种面积大
- C. 国道以西公路建设难度小, 路网密度大
- D. 南部水资源丰富, 可跨流域向北部调水

11. 图中黄河以北部分地区将生产冬小麦的土地休耕, 种植雨热同季的春玉米. 该做法可以 ( )

- ①提高太阳辐射利用率    ②缓解地下水紧张状况

③增强农作物抗旱能力 ④调整农业种植结构。

- A. ①②                      B. ③④                      C. ①③                      D. ②④

12. (4分) 2016年,在北京市通州区发掘出汉代渔阳郡路县城址和800余座战国至汉代墓葬。出土了钱币及大量陶屋、陶仓等随葬品。这些考古发现,有助于研究( )

①秦汉时期郡县的设置状况 ②本区域古代农业发展状况

③汉代手工业和商业发展情况 ④大运河对本区域交通的影响。

- A. ①②③                      B. ①②④                      C. ②③④                      D. ①③④

13. (4分) 北宋名臣包拯清正廉洁、刚正不阿,民间尊称他为“包相爷”。他曾担任过转运使、兵部员外郎、开封府知府和枢密副使等职务,其中“位同宰相”的是( )

- A. 转运使                      B. 兵部员外郎                      C. 知府                      D. 枢密副使

14. (4分) 唐代思想家、文学家柳宗元虽仕途失意,但在唐宋时期,他的思想和文学成就均得到极高评价。明代“唐宋八大家”提法出现后,世人则多将他视为文学家,对其思想成就关注较少。据此得出的认识,正确的是( )

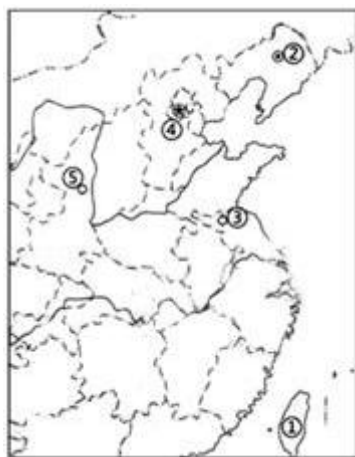
- A. 对其思想评价受明代通俗文学左右  
B. 政治成败决定了对其文学成就的评价  
C. 对其成就评价受制于特定历史条件  
D. 明代对其成就的评价比唐宋更加全面

15. (4分) 猜谜语是民众喜闻乐见的娱乐形式。表格所列谜语出现于晚清,其内容( )

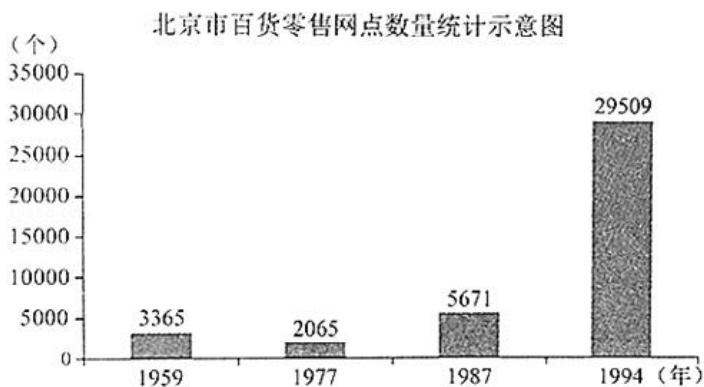
| 谜面      | 谜底  |
|---------|-----|
| 生涯在镜中   | 照相处 |
| 海军      | 浜   |
| 成汤国旗    | 商标  |
| 为他人作寄书邮 | 达尔文 |
| 唐顺宗传位太子 | 立宪  |

- A. 折射出民众接触的西方文化元素趋于多样

- B. 表明了西方文化的影响仅停留在器物层面
- C. 反映了中国古典文化受到广大民众的冷落
- D. 可佐证全盘西化观念盛行于大众日常生活
16. (4分) 毛泽东曾说：“本人信仰共产主义，主张无产阶级的社会革命。惟目前的内外压迫，非一阶级之力所能推翻，主张用无产阶级、小资产阶级及中产阶级左翼合作的国民革命，实行中国国民党之三民主义。”这一论述（ ）
- A. 阐明了孙中山的新三民主义理论
- B. 说明了建立革命统一战线的理由
- C. 指明了工农武装割据的革命道路
- D. 提出了抗日民族统一战线的纲领
17. (4分) 有同学以 14 年抗战为题材，制作了“抗战史事示意图”，其中五个序号代表五个事件，按时间先后顺序排列正确的是（ ）
- ① “宝岛回归”
- ② “家园沦陷”
- ③ “血战台儿庄”
- ④ “全民族抵抗的枪声”
- ⑤ “中共七大召开”



- A. ①②④③⑤      B. ④③⑤①②      C. ②③④⑤①      D. ②④③⑤①
18. (4分) 据图判断，下列选项正确的是（ ）



- A. 工商业社会主义改造导致服务网点锐减
- B. 第一个五年计划推动了北京服务业发展
- C. 经济体制改革极大激发了北京市场活力
- D. 加入世贸组织使北京商品供应更加多样

19. (4分) 下列选项中史实与结论之间逻辑关系正确的是 ( )

|   | 史实                 | 结论                |
|---|--------------------|-------------------|
| A | 李时珍写成药物学巨著《本草纲目》   | 明代科技水平全面提高        |
| B | 康熙帝向西方传教士学习数学、天文知识 | 清初全社会关注西方自然科      |
| C | 1905年京剧《定军山》被拍摄为电影 | 近代科技使传统戏剧获得新的传播形式 |
| D | 联合国向世界推广袁隆平培育的杂交水稻 | 成功解决了世界粮食短缺问题     |

- A. A                      B. B                      C. C                      D. D

20. (4分) 雅典和罗马是西方古典文明的杰出代表, 对后来西方的历史和文化影响深远, 二者都有 ( )

- A. 皇帝制度              B. 司法陪审制              C. 完备法典              D. 陶片放逐法

21. (4分) 图取材于欧洲画家斯泰达努斯的画作《新发现》(NOVA REPERTA). 图中所描绘的新发现 ( )



- A. 有助于罗马帝国的海外扩张
- B. 密切了世界各地之间的联系
- C. 宣告了人文主义思想的诞生
- D. 标志着英国海上霸权的确立

22. (4分) 图取材于1949年美国报纸的一幅漫画，题为“他终于上道了”。图中①处应填写( )



- A. 罗斯福新政
- B. “铁幕”演说
- C. 马歇尔计划
- D. 欧洲煤钢联营

23. (4分) 美国黑人民权运动领袖马丁·路德·金认为，争取权利的最佳方式“不是对罪恶的消极的不抵抗”，而是“对罪恶的积极的非暴力抵抗”。下列历史人物与他有类似主张的是( )

- A. 华盛顿
- B. 孙中山
- C. 凯末尔
- D. 甘地

24. (4分) 下面为某报刊登的一则新闻，对该新闻理解正确的有( )

### 中学生庙会练摊 创意萌鸡热销

所有收入将作为奖学金提供给西部贫困地区某中学

**本报讯** 蜜蜂鸡、民族鸡、粉萌鸡、项链鸡……50余种，近2000只造型各异的超萌玩偶鸡在鸡年庙会上格外受欢迎，卖到火热，而卖这些玩偶的庙会

摊主是一群中学生，原来这是某校学生的公益集市“搬”进了庙会，学生们在北京传统庙会上玩创意、做公益，吸引了很多人的关注


- ①根据市场需求设计产品体现了同学们对市场动态的把握
- ②文化创新的源泉是同学们对市场动态的把握
- ③同学们的成功体现了思想道德修养在个人成长中的首要作用
- ④同学们在奉献社会中锻炼了能力，实现了自己的价值。

- A. ①③
- B. ①④
- C. ②③
- D. ②④



25. (4分) 在中国水墨画里, “墨分五色” 中的 “五色” 常指 “焦、浓、重、淡、清”, 即使只用水墨, 也可使画面产生视觉效果的变化, 阴阳明暗、凹凸远近、苍翠秀润、动静巨微, 尽在 “五色” 之妙。下列认识正确的有 ( )

- ① “墨分五色” 在墨色运用上丰富多变, 是辩证思维的体现
- ② 墨色浓淡的变化表现出无穷境界, 蕴含着丰富的文化内涵
- ③ 墨作为一种独特的文化载体, 是中华民族精神的集中表现
- ④ 追求内敛、含蓄、崇尚飘逸、空灵, 是时代精神的典型特征。



- A. ①②                      B. ①③                      C. ②④                      D. ③④

26. (4分) 经济全球化曾经被人们视为阿里巴巴的山洞, 现在又被不少人看作潘多拉的盒子……世界经济的大海, 你要还是不要, 都在那儿, 是回避不了的。想人为切断各国经济的资金流、技术流、产品流、产业流、人员流, 让世界经济的大海退回到一个一个孤立的小湖泊、小河流, 是不可能的。这是因为 ( )

- A. 经济全球化与人们对它的认识是同步发展的
- B. 经济全球化是不以人的意志为转移的自在事物的联系
- C. 经济全球化不可避免地存在缺陷, 需要人们从一开始就揭示出它的本质
- D. 经济全球化是生产力发展导一定阶段的产物, 也是生产力进一步发展的要求

27. (4分) 熊猫光伏电站 (如图) 属于联合国开发计划署的推广项目, 是根据一位中学生的独特创意设计的。收个熊猫电站正在中国山西打通建设, 该电站主题外观被设计成熊猫图案, 由黑色的单晶硅太阳能电池和白色的薄膜太阳能电池组合而成。这启示我们 ( )

- ① 抓住事物的特点, 有助于发现清洁能源推广的新形式
- ② 青少年关心和思考现实问题能够激发他们的创造性
- ③ 充分发挥能动性, 能使人们的实践活动获得无限自由
- ④ 思维创新是青少年实现人生价值的根本途径。



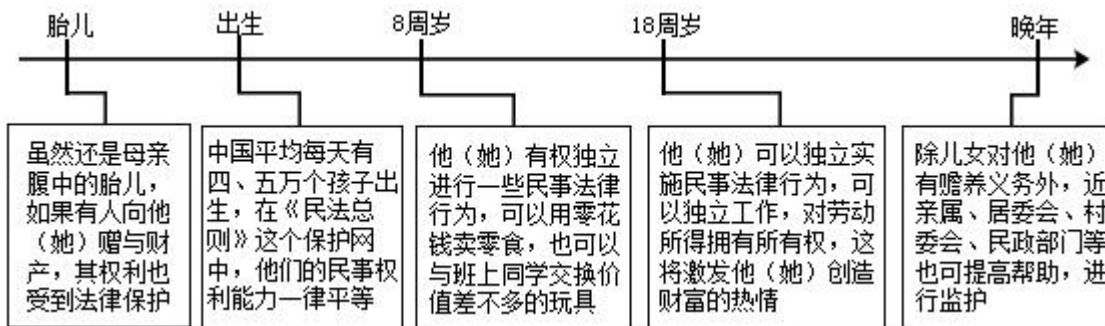
山西大同熊猫电站鸟瞰效果图

- A. ①②                      B. ①④                      C. ②③                      D. ③④

28. (4分) 太空科技助力“健康中国”。“天舟一号”上开展的太空干细胞实验，旨在更细致地解释人体干细胞定向分化为骨细胞的过程，该研究有助于老年人骨质疏松的治疗。医学科技的探索不局限与地球表面，也能在太空中开展，这表明（ ）

- A. 人类意识来源于可观对象，他不是无缘无故产生的
- B. 真理最基本的属性是主观性，但需要依赖于客观实践
- C. 实践是认识的基础，实践发展能为认识深化提供新条件
- D. 掌握和运用系统优化的方法，才能促成认识的发展

29. (4分) 作为民法典的开篇之作，《中华人民共和国民法总则》（以下简称《民法总则》）将于2017年10月1日起正式实施。《民法总则》与每个人的一生息息相关。



下列关于《民法总则》的评论，正确的有（ ）

- ①对胎儿民事权利的保护，体现了对公民民主权利的尊重
- ②对未成年人的特别保护，不符合法律面前一律平等的原则
- ③人身和财产权利会得到更多保障，有利于激发社会活力
- ④《民法总则》的颁行，是全面推进依法治国的重大举措。

- A. ①②                      B. ①④                      C. ②③                      D. ③④

30. (4分) 国务院印发的《“十三五”生态环境保护规划》强调要把生态环境保护纳入本地区国民经济和社会发展规划。以下是近年来国家生态环境保护的部分政策和法律文件。

| 相关文件                                    | 核心内容                                    |
|---|---|
| 《控制污染物排放许可制实施方案》                        | 环境保护部门通过对企事业单位发放排污许可证并依证监管控制污染物排放       |
| 《关于全面推行河长制的意见》                          | 全面建立省、市、县、乡四级河长体系，建立健全河湖管理保护监督考核和责任追究制度 |
| 《最高人民法院、最高人民检察院关于办理环境污染刑事案件适用法律若干问题的解释》 | 对特定情形的环境污染犯罪行为酌情从重处罚                    |

下列选项正确的是 ( )

- A. 政府明确生态环境保护责任，扩大权力范围
- B. 政府发放排污许可证是运用市场手段控制企业污染
- C. 政府适应生态环境保护的要求，创新行政管理方式
- D. 政府行政执法，加大对环境污染犯罪行为的审批力度

31. (4分) “两会”是观察和了解中国的重要窗口，也是中国展示制度自信和道路优势的重要平台。下面是某同学搜集的“两会”资料

各位代表：现在，我代表国务院，想大会报告政府工作，请予审议，并请全国政协各位委员提出意见。

- - - 摘自 2017 年《政府工作报告》

要勤勉履职尽责，紧扣经济社会发展献计出力，真诚协商、务实监督、深入议政，多建诤言，共谋良策，推动中共中央大政方针落地见效，促进人民福祉不断改善。

- - - 摘自《在全国政协十二届五次会议闭幕会上的讲话》

坚决维护党中央权威和集中统一领导，切实把党的路线方针政策和党中央决策部署贯彻落实到实际工作中，不断推进伟大事业、伟大工程、伟大斗争取得新的伟大胜利。

- - - 摘自《在第十二届全国人民代表大会第五次会议上的讲话》

下列选项正确的有 ( )

①人民代表大会和政治协商会议都要坚持中国共产党的领导

②“请予审议”意味着全体与会代表和委员可以对《政府工作报告》进行审议

③参政议政、建言献策是人大代表和政协委员的共同职责

④“两会”同步进行体现了具有中国特色的民意表达互补结构。

- A. ①③                      B. ①④                      C. ②③                      D. ②④

32. (4分) “90后、英语专业八级、基层一线执法执勤单位的军事骨干……”简单的勾勒，让这样一只队伍显得“高冷”而神秘，这正是中国组建的联合国首支常备维和警队。为支持改进和加强维和行动，中国加入新的联合国维和能力待命机制，并率先组建常备成建制维和警队。这一举措说明（     ）

- A. 联合国集体安全机制发生了根本变革  
B. 中国组建维和警队是国家行使自卫权的需要  
C. 中国通过联合国坚持以双边主义的方式实现共同安全  
D. 中国组建维和警队体现了国家利益和国际责任的统一

33. (4分) “移动互联网+手机支付+自行车租赁”催生了共享单车这一崭新的行业，共享单车正成为经济生活的一抹亮色，小橙车、小黄车、小蓝车……彩虹般的色彩装点了街巷。共享单车改变了许多人的出行方式，与城市公交和地铁共同构成了绿色、便利的交通网络。关于共享单车，下列判断正确的有（     ）

- ①在使用过程中，自行车与手机是互补品  
②凭借信用分可以免押金租用，说明诚信能降低企业成本  
③减轻了高峰期公交系统的压力，表明其对公交车、地铁有一定的替代作用  
④其发展为自行车制造企业带来大量订单，这反映了产业链中上、下游企业的竞争关系。

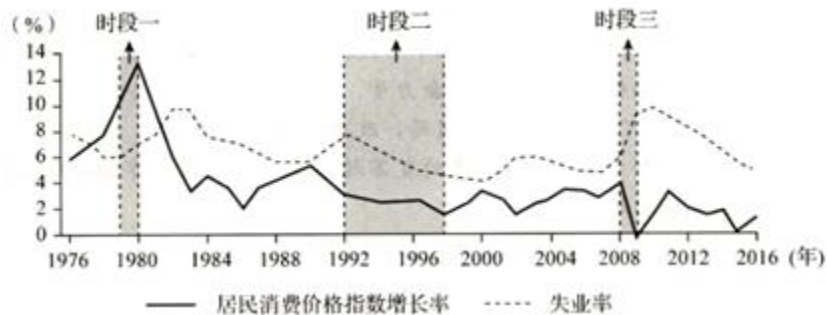
- A. ①②                      B. ①③                      C. ②④                      D. ③④

34. (4分) “马太效应”指一种强者愈强、弱者愈弱的两极分化现象。在市场竞争中，由于需求方的因素导致企业“马太效应”式分化的是（     ）

- A. 大而不倒 - - 大型企业金融机构的倒闭会给国民经济带来重大风险，因此政府在其面临危机时常会出手援助，而对小型金融机构可能坐视不管  
B. 规模经济 - - 规模更大的企业可以以更低的平均成本进行生产，从而比小企业更有竞争优势  
C. 网络效应 - - 聊天工具、在线游戏等网络产品，影响其吸引力的重要因素是已有用户数量的多少，因此用户数量较多的企业更能吸引新用户

D. 劣币驱逐良币 - - 当缺乏透明、公正的市场规则时，侵权盗版的企业可能大行其道，积极研发、依法经营的企业却难以立足

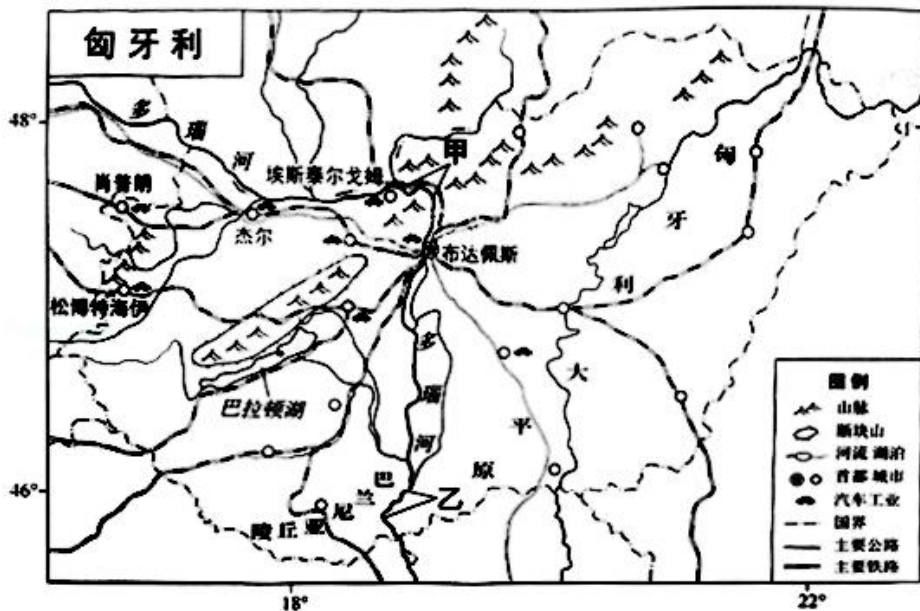
35. (4分) 如图反映了某国1976年~2016年期间的经济运行情况，下列判断正确的是 ( )



- A. 凯恩斯主义可以解释时段一的经济困境
- B. 按照新自由主义的主张，在时段二应该加强政府管制
- C. 该国在时段三陷入了“滞胀”的困境
- D. 在时段三可以通过扩张性财政政策拉动经济增长

第二部分 (非选择题 共 160 分)

36. (36分) 读图，回答下列问题。



- (1) 概述匈牙利的地形特征。
- (2) 简述巴拉顿湖形成的主要过程。
- (3) 与甲河段相比，说明乙河段的水文特征及形成原因。

匈牙利的汽车工业历史悠久。杰尔是全国重要的汽车工业城市，拥有多家与汽车工业相关的研发和教育机构。近年来，杰尔、肖普朗，埃斯泰尔戈姆和松博特海伊等城市吸引了诸多跨国汽车公司和零部件供应商投资建厂，80%以上的产品用于出口。

(4) 说明匈牙利汽车工业分布特点和原因。

37. (38分) 儿童：成长、保护与发展

材料一 孔子曰：“不学礼，无以立。”

| 年龄段         | 称谓 | 称谓由来（摘自《礼记》等）         |
|-------------|----|-----------------------|
| 1 - 3岁      | 孩提 | 孩提之童，吾不知爱其亲者          |
| 10岁以前       | 孺子 | 孺子早寝晏起，唯所欲，食无忧        |
| 满10岁        | 幼学 | 人生十年曰幼，学              |
| 13 - 15岁（男） | 舞勺 | 十有三年，学乐，诵诗，舞《勺》（一种文舞） |
| 15岁左右（男）    | 束发 | 束发而就大学，学大艺焉，履大节焉      |
| 15岁（女）      | 及笄 | 十有五年而笄（笄礼）            |
| 15 - 20岁（男） | 舞象 | 成童，舞《象》（一种武舞），学射、御    |
| 满20岁（男）     | 弱冠 | 二十曰弱，冠（冠礼）            |

(1) 礼乐制度是维护宗法社会的重要基础。表中能够反映礼乐制度对儿童要求的称谓有哪些？简析在先秦社会礼乐制度是如何渗透到儿童成长过程中的。

材料二 大约在17、18世纪，新的儿童观念逐渐形成。卢梭认为：“在自然的秩序中，所有的人都是平等的。”“儿童时代有属于它自己的独特观察、思维、感知方式。”

18世纪末，童工约占西方工人总数的1/10，平均每天工作13 - 14小时，1821年，法国爆发了反对雇佣童工的抗议。19世纪，英法等国先后颁布一系列法律，限定童工的最低工作年龄及工作时间，并规定儿童要接受教育。1884年，伦敦防止虐待儿童协会成立。在此前后，英法等国先后制定法律，保护儿童免受肉体及精神侵害；剥夺虐待儿童的家长的监护权。

1904年，法国设立儿童福利部，1908年，英国设立儿童法庭。1924年，第一份《儿童权利宣言》提出儿童应受特殊保护。1946年，联合国设立儿童基金组织。1989年《国际儿童公约》确认每个儿童均有生存权、受保护权、发展权和参与权。现已有196个国家签署该公约。

(2) 阅读材料，概括 18 - 19 世纪儿童保护方面取得的成就，并结合所学分析其背景；概括 20 世纪以来儿童保护的新特点。

材料三 古人云：孝者，“百行之本”“始于事亲，中于事君”“孝，德之本也，教之所由生”。

材料四 三纲之根本义，阶级（等级）制度是也。所谓名教，所谓礼教，皆以拥护此别尊卑、明贵贱之制度者也。近世西洋之道德政治，乃以自由、平等、独立之说为大原。

- 陈独秀《吾人最后之觉悟》（1916 年）

父子母子不必有尊卑的观念，却当有互相扶助的责任。同为人类，同做人事，没有什么恩，也没有什么德。要承认子女自有人格，大家都向“人”的路上走。

- - 吴虞《说孝》（1920 年）

材料五 未成年人享有生存权、发展权、受保护权、参与权等权利，国家根据未成年身心发展特点给予特殊、优先保护，保障未成年人的合法权益不受侵犯。

父母或者其他监护人应当创造良好、和睦的家庭环境，依法履行对未成年人的监护职责和抚养义务。

- - 《中华人民共和国未成年人保护法》

“孝亲尊师善待人”

- - 《中小学生守则》

(3) 阅读上述材料，对“孝”这一观念的历史演变进行解读。

38. （34 分）践行“创新、协调、绿色、开放、共享”的新发展理念，谋划首都未来可持续发展的新蓝图。

材料一 2017 年 5 月 17 日，中共北京市委十一届十四次全会召开，一致同意将《北京城市总体规划（2016 年 - 2030 年）（送审稿）》（以下简称《总体规划》）按程序上报党中央、国务院审定。在《总体规划》编制过程中，市委市政府共开展了 38 项重点专题研究，召开了 40 余次专家研讨会，并通过网络留言、邮件、信件、现场留言等方式征集公众意见，共吸纳了 5200 余条意见建议。下面是部分市民的留言：

春光灿烂：今天参观了规划展览，心情很激动，相信北京会越来越好！

我爱北京：我设计了一款手机软件，请大家标出你家附近的积水情况，上传给政府网站，可以为政府提供参考信息，共建规划中的“海绵城市”。

清风送爽：规划里还有个“城市体检”，你这款软件还可以用来监督市政排水设施维护状况。

见贤思齐：规划里也提到了绿色出行，我关心政府未来有什么具体措施。

五月和弦：社区服务、留白增绿、历史文化名城保护……规划中涉及到这么多市民关心的问题，方方面面都要考虑到，还要加以解决，真心不容易，大家群策群力吧！

南城笑笑：要是我们的建议能得到政府的及时反馈，就更好了！

(1) 某高中生根据上述材料，拟撰写一篇论文。请运用《政治生活》相关知识，帮他完成论文提纲及要点。

城市规划过程中的公民参与政府回应

一、城市规划过程中公民参与的主要特点

1. 公民参与意识日益增强

2. \_\_\_\_\_

二、城市规划过程中政府对公民参与的回应

1. 回应的主要形式：政府对公民意见建议的吸纳、反馈

2. 回应的意义：\_\_\_\_\_

三、政府多措并举，解决公民关心的问题

1. 问题：③\_\_\_\_\_（要求：在市民留言中，选取一个与城市规划相关的问题）

2. 措施：④\_\_\_\_\_（要求：针对选取的问题作答）

材料二

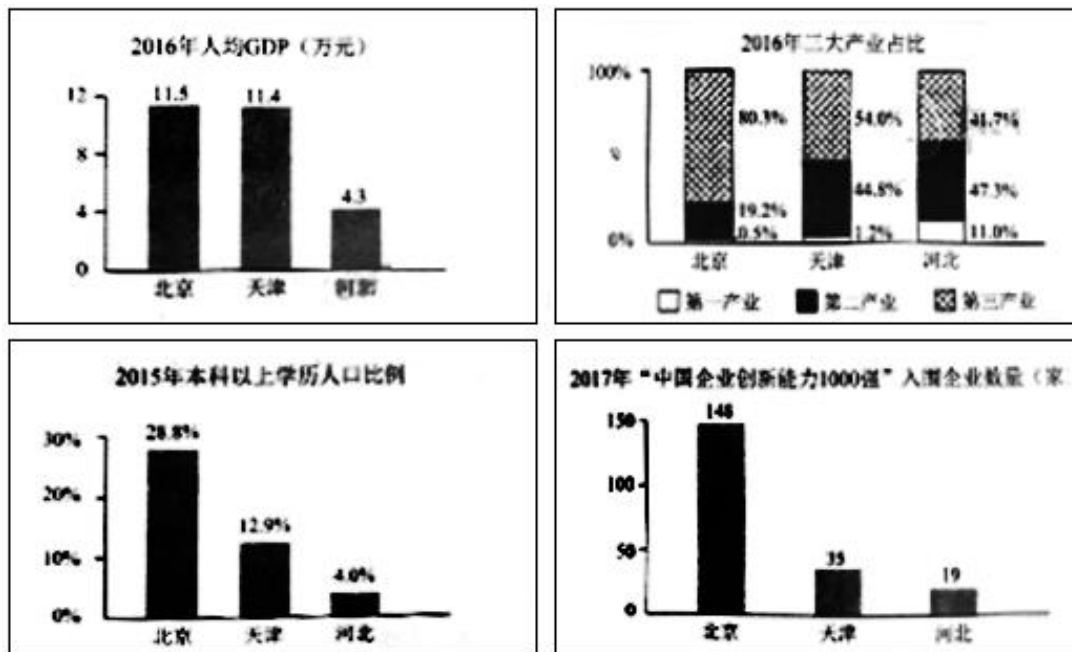


图 京津冀发展状况

材料三 国务院印发的《“十三五”现代综合交通运输体系发展规划》，提出要“构建京津冀协同发展的一体化网络”，其中要求重点加强城际铁路建设，强化干线铁路与城际铁路、城市轨道交通的高效衔接，加快构建内外疏密有别、高效便捷的轨道交通网络。



材料四 京津冀协同发展战略实施以来，河北省累计签约引进北京市商户 23140 户，吸引 1350 多家京津冀高新技术企业落户。一些商业批发、制药行业的企业进行了整体搬迁，一些电子商务企业和高端装备制造企业把他们的物流基地和生产基地外迁到河北。2016 年，河北省从京津引进项目 4100 个，资金 3825 亿元。

(2) 中心城市的人才、产业的技术等优势辐射和输出，能够带动周边区域以济发展，产生“外溢效应”。

在“破解非首都功能、推动京津冀协同发展”的背景下，结合材料，运用《经济生活》相关知识，谈谈如何理解北京的“外溢效应”。

材料五 一部城市的发展史，就是一部人类向着美好生活前行的历史。城市生机勃勃，予人无限可能。关于首都北京未来的设想，有“和谐北京”“宜居北京”“智慧北京”“人文北京”“创新北京”……

(3) 运用《生活与哲学》相关知识，谈谈怎样绘就我们五彩缤纷的未来北京。

要求：观点鲜明；可以就某一点深入分析，也可以全面论述；知识运用准确、贴切；论述合乎逻辑，条理清晰。

39. (10 分) 近几年，外卖成为人们的用餐新宠，某青年打算开办一家外卖餐厅，为此进行市场调研。

(1) 为了解消费者的需求弹性及其主要影响因素，该青年应该关注下面消费者调查问卷中的问题\_\_\_\_\_和\_\_\_\_\_，你选择这两个问题的理由是什么。

**消费者调查问卷**

①您的职业是  
 在校学生     在校人员     离退休人员     其他

②选择外卖时，您可以接受的最远距离是  
 < 1 千米     < 3 千米     < 5 千米     不考虑距离远近

③外卖平台或店家进行的价格促销活动，会影响你的消费选择吗？  
 影响很大     有一些影响     没有影响

④您得到外卖商家信息的主要途径是  
 外卖平台的推销     朋友圈介绍     纸质宣传单     看到过实体店铺     其他

(2) 分析如图的调查结果，据此你认为该青年在开办餐厅时应该注意哪些问题？




图1

图2

(3) 除了进行消费者一方的调研外，你认为该青年还需要理解哪些方面的信息？

40. (10分) 博物馆是一个城市乃至一个国家的文化符号, 承载了丰富的文化内涵. 联合国规定每年的5月18日是国际博物馆日.

北京故宫博物院是在明清两代皇宫及其收藏的基础上建立起来的综合性博物馆, 建筑艺术精湛, 是中国最大的古代文化艺术博物馆.

(1) 阐述北京故宫博物院的主要旅游价值, 列举故宫博物院在对公众开放游览方面应采取的环境保护措施.

博物馆是一个城市乃至一个国家的文化符号, 承载了丰富的文化内涵. 联合国规定每年的5月18日是国际博物馆日.

马克思诞生于德国历史文化名城特里尔. 1947年, 他的故居被辟为博物馆, 其中两个展室的主体分别为“转折点1848年”和“卡尔·马克思思想的世界影响”.

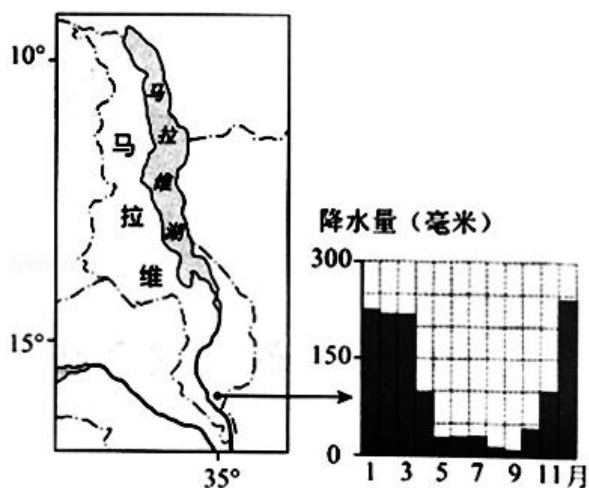
(2) (8分) 在①和②两个问题中任选其一作答.

①为什么1848年是马克思思想的“转折点”? 简要说明理由.

②简述20世纪初马克思主义理论在中国传播的情况.

41. 伴随着古代陆上和海上丝绸之路的开通, 东西方交往不断增加. 在海上丝绸之路沿线的东非国家中, 马拉维具有独特的自然景观. 读图, 回答问题.

(1) 说出该国自然带的类型, 并在1月和7月中任选其一, 说明该自然带的景观特点和成因. (10分)



在埃及、伊朗、巴基斯坦等地, 发现了大量唐代瓷器碎片, 其中包括唐三彩、邢州白瓷、越州黄褐釉瓷等. 在我国海南岛东南部海滩和西沙群岛海域, 也发现了成捆叠堆的唐宋时期瓷器.

唐宋时期, 广州出现几种新行业: 和香 (把舶来的香料制成香品)、解犀 (把舶来的象牙和犀牛角进行切割)、译人 (翻译) 和舶牙 (舶来品交易经纪人). 每年进入广州的外国人约一万人次, 广州出现了供外国人居住、经商的“蕃坊”.

(2) 结合所学, 概述海上丝绸之路对唐宋社会经济的影响. (6分)

(3)

### 元青花传奇

元青花“浣翠淌蓝逸海韵”的艺术特色，是在漫长的过程中逐渐形成的。

元代景德镇的青花瓷，一开始是为西亚地区制造的，订购外销瓷的是波斯和叙利亚的商人。

中国元代以前的彩绘瓷，普通疏朗，写意手法居多。但元青花以一种伊斯兰式的标准手法，将中式动植物造像予以扁平化、抽象化，得以无尽



元青花纹饰中的汉族文化元素



元青花纹饰中的伊斯兰文化元素

连续重复，几乎看不到留白。

受伊斯兰文化影响的中国青花瓷，发展到15世纪已经非常成熟，并成为埃及、叙利亚与波斯陶工模仿的对象。

这些穆斯林国家的陶工们，慢慢地采取了更自由、解放的手法，增加了律动和空间感，他们的图案逐渐开放，融入中式特有的某些生命力和自发性。

“元青花传奇”体现了“丝绸之路”文化“通”“融”“荣”的特点。请从以上特点中任选一个或多个，结合材料，运用《文化生活》相关知识，谈谈你的认识。

参观学习手册

## 文综试题答案

1. **【分析】** 每相邻的时区区时相差一小时。

**【解答】** 解：本题主要考查区时计算，意在考查考生获取和解读信息的能力。读图可知，该城市在北京时间 2 时（东八区区时），机动车流量百分比达到最高值，说明正值上班时间。北京时间 2 时，可算出西二区为昨日 16 时，西十区为昨日 8 时，东十区为 4 时，东二区为昨日 20 时。显然，西十区的 8 时为城市的正常上班时间，也是机动车流量高峰时段，故可判断甲城市位于西十区。

故选：B。

**【点评】** 本题主要考查时区和区时的计算，关键是根据图中的工作时间然后即可计算得出答案。

2. **【分析】** 气旋的近地面气流在水平方向上由四周向中心辐合，中心气流上升。空气在上升过程中温度降低，其中的水汽容易成云致雨。因此，气旋过境时，常常出现阴雨天气。夏秋季节，我国东南沿海地区常出现的台风天气，就是热带气旋强烈发展的结果。

**【解答】** 解：北半球气旋水平方向上气流逆时针由四周流向中心，台风是气旋，北半球气旋气流运动方向是逆时针辐合，台风北部的风向是东北风，西部是西北风，南部是西南风，东部是东南风；台风主要形成于热带、副热带洋面，我国黄海纬度较高，不能形成台风，A 错；台风中心为低压中心，以气流的垂直运动为主，风平浪静，天气晴朗；台风眼附近为漩涡风雨区，风大雨大。BC 错。

故选：D。

**【点评】** 本题难度较小，主要考查了常见的天气系统，解题的关键是从图中获取信息和调用相关知识进行解答。

3. **【分析】** 我国主要降雨类型为锋面雨，锋面雨带的推移规律：4 - 5 月份在，南岭一带，华南雨季；约 6 月份雨带随锋面推移至长江流域，在江淮地区停留 1 个月左右，形成阴雨连绵梅雨季节；7 - 8 月份雨带北移至华北、东北地区；9 月份雨带迅速南撤，10 月份夏季风从我国大陆上退出，雨季结束。

**【解答】** 解：读图可知，5 月起雨带开始向北移动，35° N 以北地区秋高气爽，伏旱位于 35° N 以南的长江中游地区。

故选：B。

**【点评】** 本题难度适中，主要考查了锋面雨带的推移，解题的关键是从图中获取信息并调用相关知识进行解答。

4. **【分析】** 根据图可知，该区域的降水主要集中在的夏至前后。

**【解答】** 解：根据分析可知，该区域的降水集中在夏季，可知该区域位于我国的东部季风区，主要位于地势的第二三阶梯，A 正确；

绝大部分属于外流区，B 错；

东部降水受锋面雨带影响大，C 错；

人口密度南部大于北部，D 错。

故选：A。

**【点评】** 本题主要根据图中四个节气的降水差异，来分析该区域的特征，关键是根据降水分布的季节差异来判断。

5. **【分析】** 芒种位于夏至前，时间大约为 6 月 7，8 日左右，小暑在夏至后一个节气，日期大约为 7 月 7，8 日前后。

**【解答】** 解：根据分析可知芒种至小暑期间太阳直射点位于北半球，北半球为夏季，南北温差小，A 错；

该时段气温高，塔里木河冰雪融水量大，水量大，B 错；

太阳直射北半球，北半球纬度越高昼越长，因此白昼时间北京比上海大，C 正确；

到南极大陆考查的最佳时间为南半球的夏季，此时段为南半球的冬季，D 错。

故选：C。

**【点评】** 本题主要考查芒种至小暑期间的地理现象，关键是找到该时段内太阳直射点的位置，然后进行分析即可。

6. **【分析】** 土地利用类型：指的是土地利用方式相同的土地资源单元，是根据土地利用的地域差异划分的，是反映土地用途、性质及其分布规律的基本地域单位。是人类在改造利用土地进行生产和建设的过程中所形成的各种具有不同利用方向和特点的土地利用类别。主要分为耕地、草地、林地等。

**【解答】** 解：根据内蒙古草场比重最大，可知 II 为牧草地，贵州耕地比重大，I 为耕地，甲地区草地和其他未利用地比重大是新疆。

故选：A。

**【点评】** 本题主要考查我国不同区域的土地利用类型，应理解掌握主要主要地区的土地利用类型及形成原因。

7. **【分析】** 内蒙古自治区地域广袤，所处纬度较高，高原面积大，距离海洋较远，降水量由东北向西南递减，内蒙古东北部的草甸草原土质肥沃，降水充裕，牧草种类繁多；中部和南部的干旱草原降水较为充足，牧草种类、密度和产量不如东部草甸草原；西部的荒漠草原，气候干燥，牧草种类贫乏，产草量低。

**【解答】** 解：内蒙古水域面积小，水能资源不丰富，受降水影响，森林覆盖率东部大于西部，西部离海洋远降水量少。

故选：B。

**【点评】** 本题主要考查内蒙古降水量的空间分布规律及对植被的影响，需理解记忆。

8. **【分析】** 地理环境的地域分异规律主要有纬度地带性分异规律，经度地带性分异规律，山地的垂直地带性分异规律。

**【解答】**解：读图可知海拔 3000 米气温大于  $0^{\circ}$ ，A 错；

气温年较差随海拔升高递减，B 错；

位于喜马拉雅山脉北坡是青藏高原，海拔 4000 米左右，所以山地位于喜马拉雅山脉南坡，C 正确；

喜马拉雅山脉地处板块的消亡边界，D 错。

故选：C。

**【点评】**本题主要考查学生的读图分析能力，关键是读图，从图中找到选项涉及的内容，然后运用排除法得出答案。

9. **【分析】**交通运输业是指利用各种运输工具，促使客、货沿特定路线实现空间位移的生产部门。它起着联结产业之间、区域之间、城乡之间的纽带作用。在经济社会发展的过程中，交通运输业具有先行发展的特征。

**【解答】**解：107 国道沿线地区交通便利，增加沿线商业网点数量，促进沿线地区人口流动；陇海铁路线垂直国道线，对缓解陇海铁路运输压力没有影响。

故选：A。

**【点评】**本题考查交通运输业修建的意义，理解解答即可。

10. **【分析】**结合可知，该区域穿越河北、河南和湖北省。

**【解答】**解：根据分析可知 图示区域内位于为河北、河南和湖北省，地形以平原为主，A 错；

湖北以水田农业为主，水稻播种面积大，河北河南主要播种小麦，B 错；

国道以西地势较高，公路建设难度大，路网密度小，C 错；

南部湖北省水资源丰富，可跨流域向北部调水，D 正确。

故选：D。

**【点评】**本题主要考查区域特征，关键是结合图中的城市判断得出省市以及地形区，然后即可完成。

11. **【分析】**华北缺水应对措施：南水北调；修建水库；控制人口数量，提高素质；减少水污染；减少浪费，提高利用率；限制高耗水工业的发展；发展节水农业；采用滴灌、喷灌农业灌溉技术，提高利用率；实行水价调节，树立节水意识；海水淡化等。

**【解答】**解：黄河以北部分地区将生产冬小麦的土地休耕，种植雨热同季的春玉米，调整农业的种植结构；黄河以北部分地区大部分地区缺水，春玉米种植雨热同季，减少对利用地下水，缓解地下水紧张状况。

故选：D。

**【点评】**本题主要考查华北缺水的原因及应对措施，需理解记忆。

12. **【分析】** 本题主要考查历史研究的基本方法，重点考察考古发现对历史事实的印证作用，要求学生结合战国时期到汉朝时期的社会政治经济思想发展的基本史实。

**【解答】** ①材料涉及到的是从战国到汉代的墓葬，中间包括秦国，可以作为研究秦汉时期郡县设置情况的基本资料。

②材料的考古发现有助于研究，战国到汉代北京地区的农业发展的情况。

③出土的陶仓钱币等有助于了解汉代手工业和商业发展的基础知识。

④大运河是隋唐时期开始修建的，与材料时代不符。

故选：A。

**【点评】** 学生在做题时要知道历史史实的验证和研究有一个基本的方法，叫做二重论证法，也就是把考古发现的文物，与历史文献，结合印证，历史事实的正确性，还原当时的社会现实。材料中的考古发现有助于我们了解从战国到秦汉时期的社会面貌。

13. **【分析】** 本题考查宋朝加强君主专制的措施。需要掌握宋朝的二府三司制。解题的关键是对题干材料的解读，结合宋朝的二府三司制解答即可。

**【解答】** 依据题干材料，结合所学可知，宋朝为了分割相权，增设参知政事分割宰相的行政权；设枢密使分割宰相的军权；设三司使分割宰相的财权，因此“位同宰相”的是枢密副使，故 D 项正确。

转运使是地方的管理财政的官员，不符合题意，故 A 项错误。

兵部员外郎是六部中的官员，不符合题意，故 B 项错误。

知府是地方的行政官员，不符合题意，故 C 项错误。

故选：D。

**【点评】** 本题以北宋名臣包拯的事迹为切入点考查对宋朝的二府三司制的把握，考查学生准确解读材料、运用所学知识解决问题的能力。

14. **【分析】** 本题主要考查历史基本研究方法中对人物评价的方法，评价历史人物会受到时代的影响，学生要结合唐代和现代社会现实来理解材料。

**【解答】** A. 材料并未涉及明代通俗文学，表选项表述不准确。

B. 项与材料信息“虽仕途失意，但……得到极高评价”不符。

C. 从材料可以看出唐代的思想家文学家，柳宗元其思想和文学的成就，在唐宋时期得到了极高的评价。唐宋时期是一个相对开放的时代，兼容并蓄。到明代，专制主义中央集权制度得到进一步加强，文化专制主义盛行，世人多关注柳宗元的文学成就，而较少关注其思想成就。对柳宗元思想和文学成就的评价，受制于特定的历史条

件。明朝对柳宗元的评价在很大程度上受到唐宋八大家这一说法的影响，可以看出，历史评价是当时的社会现实密切相关。受当时社会现实条件的制约。

D. 从材料“明代……对其思想成就关注较少”，可知 D 项明显错误。

故选：C。

**【点评】**评价历史人物要掌握的原则：

- (1) 全面性原则：坚持两点论和一分为二的观点，应从积极性和消极性、主观动机和客观效果方面全面评价。
- (2) 阶段论和纵横联系的原则：在纵的关系方面，历史人物有阶段上的划分，从不同阶段上作出不同的评价；在横的关系方面，历史人物又具有多重性，如有的人是英雄与暴君集于一身，评价时应采用方面论的方法。
- (3) 发展性和长远性的原则：从整个人类历史发展角度去评价，从是否顺应历史进步潮流、是否体现历史发展的必然趋势角度去评价。
- (4) 主流性原则：要分清历史人物的主流与支流，政治活动与个人生活方面的差别，不能以偏概全，不能以个人道德标准代替历史进步的标准。
- (5) 适度性原则：评价历史人物不能标新立异，不能违背主流学术观点，不能违背一般人的善恶标准。
- (6) 阶级性原则：运用马克思主义关于阶级的观点与阶级分析的方法，但反对贴阶级标签，反对苛求古人。
- (7) 实践的原则：从是否有利于社会进步，有利于生产力发展，实践效果好坏及对社会历史发展所起的作用等角度评价。

15. **【分析】** 本题考查西方文化传入中国。需要掌握西方文化传入中国的影响。解题的关键是对题干表格的解读与分析，注意表格中的谜面与谜底内容。

**【解答】** 依据题干表格中的谜面与谜底内容可以看出民众接触的西方文化元素趋于多样，故 A 项正确。

依据题干表格中“立宪”可知，西方文化的影响除了器物层面，还有制度层面，故 B 项错误。

C 项不能从表格中得出，应排除。

全盘西化观念不能从表格中得出，故 D 项错误。

故选：A。

**【点评】** 本题以猜谜语的表格形式考查对西方文化传入中国的影响的把握，考查学生准确解读表格、分析理解的能力。

16. **【分析】** 本题考查国民大革命。需要掌握革命统一战线建立的原因。解题的关键是对“非一阶级之力所能推翻，主张用无产阶级、小资产阶级及中产阶级左翼合作的国民革命”的分析理解。



**【解答】**依据题干“非一阶级之力所能推翻，主张用无产阶级、小资产阶级及中产阶级左翼合作的国民革命”可以看出毛泽东主张建立革命统一战线，故 B 项正确。

AC 两项在材料中没有体现，应排除。

D 项与“国民革命”不符，应排除。

故选：B。

**【点评】**本题以毛泽东的言论为背景材料考查对革命统一战线建立的原因的把握，考查学生抓住关键信息、分析理解的能力。

17. **【分析】**本题考查 抗日战争。需要掌握抗日战争时期重大事件的时间。需要掌握台湾光复、东北沦陷、台儿庄战役、卢沟桥事变、中共七大的时间的识记。

**【解答】**依据题干图示，结合所学可知，①是 1945 年 10 月；②是 1931 年；③是 1938 年；④是 1937 年；⑤是 1945 年 4 月，因此先后顺序是②④③⑤①，故 D 项正确。

故选：D。

**【点评】**本题以图示的形式考查对抗战时期重大事件的时间的把握，考查学生对基础知识的识记、运用能力。

18. **【分析】**本题考查经济体制改革。需要掌握城市经济体制改革的成效。解题的关键是对题干图示的解读与分析，注意图示中的时间和变化状况。

**【解答】**依据题干图示可知，从 1987 年 - 1994 年北京市百货零售网店数量增长迅速，结合所学可知，1987 年 - 1994 年处于改革开放时期，经济体制改革极大激发了北京市场活力，故 C 项正确。

工商业社会主义改造是 1953 - 1956 年，与题干图示不符，故 A 项错误。

一五计划是 1953 - 1957 年，与题干时间不符，故 B 项错误。

加入世贸组织是 2001 年与题干时间不符，故 D 项错误。

故选：C。

**【点评】**本题以图示的形式考查对城市经济体制改革的成效的把握，考查学生准确解读图示、分析理解、运用所学知识解决问题的能力。

19. **【分析】**本题考查近代中国大众传媒的发展。需要掌握近代中国电影事业的发展。解题的关键是对表格中的史实的分析，得出正确的结论。

**【解答】**依据题干表格可知，李时珍写成药物学巨著《本草纲目》只能体现明代医学成就，不能说明科技水平全面提高，故 A 项错误。

康熙帝向西方传教士学习数学、天文知识只能体现康熙帝关注西方自然科学，不能说明清初全社会关注西方自然科学，故 B 项错误。

1905 年京剧《定军山》被拍摄为电影说明近代科技使传统戏剧获得新的传播形式，故 C 项正确。

联合国向世界推广袁隆平培育的杂交水稻缓解了世界粮食短缺问题，不能说明成功解决了世界粮食短缺问题，故 D 项错误。

故选：C。

**【点评】** 本题以表格形式考查对近代中国电影事业的发展的把握，考查学生准确解读表格、分析理解的能力。

20. **【分析】** 本题考查古希腊罗马的政治制度。需要掌握雅典和罗马政治制度的相同点。解题的关键是雅典和罗马政治制度的识记和比较。

**【解答】** 雅典是民主政治制度，故 A 项错误。

陪审制度是指国家审判机关吸收普通公民参与案件审判的一种司法制度。它的雏形最早出现于奴隶制的雅典和罗马时代，古罗马的陪审团制度类似于雅典，故 B 项正确。

罗马才有完备的法典，故 C 项错误。

陶片放逐法是古希腊雅典等城邦实施的一项政治制度，故 D 项错误。

故选：B。

**【点评】** 本题考查古希腊罗马的政治制度。考查对雅典和罗马政治制度的相同点的把握，考查学生对基础知识的识记、比较、运用能力。

21. **【分析】** 本题考查新航路开辟。需要掌握新航路开辟的影响。解题的关键是对题干图示的解读，得出关键信息是美洲的发现和罗盘针判断出与新航路开辟有关，结合新航路开辟的影响解答即可。

**【解答】** 依据题干图示可知，描述的是美洲的发现和罗盘针，由此可知，反映的是新航路的开辟，结合所学可知，新航路的开辟打破了世界相对隔绝的状态，使得世界各地之间的联系密切，故 B 项正确。

ACD 三项均不符合题意，应排除。

故选：B。

**【点评】** 本题以欧洲画家斯泰达努斯的画作《新发现》为切入点考查对新航路开辟的影响的把握，考查学生准确解读图示、获取有效信息、分析理解、运用所学知识解决问题的能力。

22. **【分析】** 本题主要考查马歇尔计划基本知识，要求学生结合二战结束以后的欧美社会分析漫画。

**【解答】** A. 材料反映的是 1949 年的时间，而罗斯福新政是 20 世纪 30 年。

- B. 从材料中可以看出，①处有益于欧洲走向自立，而且应该是美国的举措，铁幕演说是英国丘吉尔的反共演说，主要是要求美国承担起反共的历史任务，选项不符合漫画意思。
- C. 材料中体现了美国纳税人帮助欧洲走向自立向前发展，结合所学知识，我们可知，计划就是用经济手段来控制欧洲，选项符合材料的意思。
- D. 欧洲煤钢联营是 50 年代的事情，材料反映的是 1949 年的历史。

故选：C。

**【点评】**战后美苏之间在国家利益意识形态等方面的矛盾不断加剧，美国提出了杜鲁门主义，推行马歇尔计划扶持和控制西欧并且成立了北约组织，对社会主义苏联和东欧国家，进行冷战，以苏联为首的社会主义阵营，成立了情报局，经互会，华约组织，最终形成了两极格局。材料漫画反映的正是美国马歇尔计划的特征。

23. **【分析】**本题主要考查印度著名革命领导人甘地的革命思想内容，要求学生结合非暴力不合作运动的知识来回答。

**【解答】**A. 结合所学知识，我们可知华盛顿是美国独立战争的领导人，没有主张非暴力抵抗的思想。

- B. 孙中山的主要思想是三民主义，主张用暴力方式推翻清政府的统治。
- C. 凯末尔是土耳其革命的领导人，用武装力量推翻了，土耳其苏丹王朝的统治，打败了英法，干涉军的侵略。
- D. 甘地一生的主要思想体现在非暴力不合作运动中，他主张对在英国殖民者采取，非暴力和不合作的方式，争取印度的独立。

故选：D。

**【点评】**甘地非暴力不合作思想的主要内容：拒绝英国授予的爵位、封号和名誉职位，学生退出英办学校；立法机关、法院及政府中服务的人员离职；家家户户恢复手工纺织，提倡国货，抵制英货；在运动最后阶段拒绝纳税。

24. **【分析】**本题考查：实现人生价值

- ①积极投身社会实践，在劳动和奉献中创造价值；（根本途径）
- ②正确处理个人与社会、集体和他人的关系，在个人与社会的统一中实现；
- ③在砥砺自我中走向成功。要发挥主观能动性，有顽强拼搏、自强不息的精神；要全面提高个人素质；要有坚定的理想信念，正确价值观的指引。

**【解答】**①符合题意，材料中“蜜蜂鸡、民族鸡、粉萌鸡、项链鸡，50 余种、近 2000 只造型各异的超萌玩偶鸡在鸡年庙会上格外受欢迎，学生们在北京传统庙会上玩创意，做公益，吸引了很多人的关注”表明根据市场需求设计产品体现了同学们对市场动态的把握；

- ②表述错误，文化创新的源泉是社会实践；

- ③不合题意，材料中该学生的创意设计与活动与该同学的思想道德修养无关；

④符合题意，材料中学生通过庙会练摊，所有收入将作为奖学金提供给西部贫困地区某中学，体现了同学们在奉献社会中锻炼了能力，实现了自己的价值。

故选：B。

**【点评】**考查学生提取信息、调动所学知识理解和解决问题的能力。注意：一方面要把握材料要阐明的主旨、关键词句，并和所学哲理知识对应起来，另一方面运用排除法去除不合题意或错误的选项。

25. **【分析】** 本题考查：辩证思维的含义及特征；文化的内涵与特点

### 1. 辩证思维的含义及特征

是指以变化发展视角认识事物的思维方式，通常被认为是与逻辑思维相对立的一种思维方式。在逻辑思维中，事物一般是“非此即彼”、“非真即假”，而在辩证思维中，事物可以在同一时间里“亦此亦彼”、“亦真亦假”而无碍思维活动的正常进行。

最主要的特征是，事物普遍联系的观点、发展变化的观点和对立统一的观点。

### 2. 文化的内涵与特点

文化是相对于经济、政治而言的人类全部精神活动及其产品。它既包括世界观、人生观、价值观等具有意识形态性质的部分，又包括自然科学和技术、语言和文字等非意识形态的部分。

文化是人类社会特有的现象。纯粹“自然”的东西不能称为文化，文化是人们社会实践的产物。

**【解答】**①正确，中国水墨画里“五色”融于一起，产生阴阳明暗、凹凸远近、苍翠秀润、动静巨微的视觉效果，体现了对立统一的观点，因此，“墨分五色”在墨色运用上丰富多变，是辩证思维的体现；

②正确，墨色浓淡的变化可使画面产生视觉效果的变化，阴阳明暗、凹凸远近、苍翠秀润、动静巨微，尽在“五色”之妙，是人们在长期的绘画实践中得来的，墨色浓淡的变化表现出无穷境界，蕴含着丰富的文化内涵；

③错误，墨作为一种独特的文化载体，是中国传统文化所特有的，具有鲜明的民族性；

④错误，与时俱进，因时而变是时代精神的典型特征；

故选：A。

**【点评】** 本题考查学生获取解读信息，调动应用知识能力，难度一般。我们做每一道政治选择题都是运用已有的知识，对题干提供的材料、信息进行分析、甄别、遴选，平时要注意夯实基础，培养能力。

26. **【分析】** 本题考查：经济全球化的影响 - 积极影响：

经济全球化是生产力发展的产物，同时又推动了生产力的发展，经济全球化促进了生产要素在全球范围内的流动、国际分工水平的提高以及国际贸易的迅速发展，从而推动了世界范围内资源配置效率的提高、各国生产力的发展，为各国经济提供了广阔的发展空间。

【解答】A 表述错误，经济全球化是生产力发展的产物，而不是随人们认识发展而发展的；

B 表述错误，经济全球化是人为事物的联系；

C 不合题意，材料强调的是经济全球的出现是必然趋势，而不是强调其缺陷和要揭露其本质；

D 符合题意，“想人为切断各国经济的资金流、技术流、产品流、产业流、人员流，让世界经济的大海退回到一个孤立的小湖泊、小河流，是不可能的”强调了经济全球化的发展不以人的意志为转移，因为它是它生产力发展一定阶段的产物，也是生产力进一步发展的要求。

故选：D。

【点评】本题考查考生对材料的分析理解能力，考生在分析题肢的时候，要结合材料进行思考，排除题肢中与材料无关以及本身说法错误的，从而筛选出正确的选项。解答本题的关键在于对材料的理解和把握。

27. 【分析】本题考查：用联系的观点看问题

联系是事物之间以及事物内部诸要素之间相互影响、相互制约和相互作用。整个世界是一个普遍联系的整体。

这就要求我们要用联系的观点看问题，反对用孤立的观点看问题。

【解答】①正确，熊猫光伏电站的独特创意设计，启示我们要善于抓住事物的特点，发现事物之间的联系，有助于发现清洁能源推广的新形式；

②正确，“熊猫光伏电站的设计创意独特，外观被设计成熊猫图案，由黑色的单晶硅太阳能电池和白色的薄膜太阳能电池组合而成”，启示我们青少年关心和思考清洁能源的使用和推广这一现实问题，能够激发他们的创造性；

③错误，夸大了人的主观能动性的作用，“人们的实践活动获得无限自由”说法错误，人们的实践活动受到主客观条件的制约；

④错误，积极投身到为人民服务的实践中去是青少年实现人生价值的根本途径；

故选：A。

【点评】本题考查学生获取解读信息，调动应用知识能力，难度一般。我们做每一道政治选择题都是运用已有的知识，对题干提供的材料、信息进行分析、甄别、遴选，平时要注意夯实基础，培养能力。

28. 【分析】本题考查：实践是认识的基础

实践是认识发展的动力：

①人们在实践中不断遇到的新问题、产生的新要求，推动着人们去进行新的探索和研究。

②实践的发展为人们提供日益完备的认识工具，这些工具延伸了人类的认识器官，促进了人类认识的发展。

③实践锻炼和提高了人的认识能力。

**【解答】**A 不合题意，材料不涉及意识的来源；

B 表述错误，真理最基本的属性是客观性；

C 符合题意，实践的发展为人们提供日益完备的认识工具，这些工具延伸了人类的认识器官，促进了人类认识的发展。材料中在“天舟一号”上开展的太空干细胞实验，推动了人们对医学的认识，说明实践是认识的基础，实践发展能为认识深化提供新条件；

D 表述错误，材料主旨不涉及系统优化的内容，且促成认识发展的不仅仅是要掌握和运用系统优化的方法。

故选：C。

**【点评】**考查学生提取信息、调动所学知识理解和解决问题的能力。注意：一方面要把握材料要阐明的主旨、关键词句，并和所学哲理知识对应起来，另一方面运用排除法去除错误的选项。

29. **【分析】** 本题考查：全面推进依法治国

第一，全面推进依法治国是完善中国特色社会主义制度，推进国家治理体系现代化的需要；

第二，全面推进依法治国是增强国家核心竞争力和软实力的需要；

第三，全面推进依法治国是全面深化改革的迫切需要；

第四，全面推进依法治国是提高党的执政能力和执政水平的需要。

**【解答】**①错误，民事权利不等同于民主权利，公民民主权利是指宪法和法律规定公民有权参加国家政治生活的民主权利，及政治上表达个人见解和意见的自由。包括选举权和被选举权，言论、出版、集会、结社、游行、示威的自由、监督权等，民事权利主要是指财产权和人身权；

②错误，法律面前一律平等的原则，不是指立法上的平等，而是指适用法律、实施法律上的平等，因此，对未成年人的特别保护，符合法律面前一律平等的原则；

③正确，《民法总则》主要涉及民事方面的权利与义务，财产权和人身权与每个人的一生息息相关，因此，《民法总则》的实施使人身和财产权利会得到更多保障，有利于激发社会活力；

④正确，《中华人民共和国民法总则》的制定与实施，有法可依，有利于全面推进依法治国进程；

故选：D。

**【点评】** 本题考查学生获取解读信息，调动应用知识能力，难度一般。我们做每一道政治选择题都是运用已有的知识，对题干提供的材料、信息进行分析、甄别、遴选，平时要注意夯实基础，培养能力。

30. **【分析】** 本题考查：生态文明建设

加强生态文明制度建设。保护生态环境必须依靠制度。要把资源消耗、环境损害、生态效益纳入经济社会发展评价体系，建立体现生态文明要求的目标体系、考核办法、奖惩机制。

建立国土空间开发保护制度，完善最严格的耕地保护制度、水资源管理制度、环境保护制度。深化资源性产品价格和税费改革，建立反映市场供求和资源稀缺程度、体现生态价值和代际补偿的资源有偿使用制度和生态补偿制度。

积极开展节能量、碳排放权、排污权、水权交易试点。加强环境监管，健全生态环境保护责任追究制度和环境损害赔偿制度。

**【解答】**A 错误，“扩大权力范围”，说法错误；

B 错误，政府发放排污许可证是运用行政手段控制企业污染；

C 正确，从上述国家生态环境保护的部分政策和法律文件的具体内容来看，政府适应生态环境保护的要求，不断转变职能，创新行政管理方式；

D 错误，司法部门加大对环境污染犯罪行为的处罚力度；

故选：C。

**【点评】** 本题考查学生获取解读信息，调动应用知识能力，难度一般。我们做每一道政治选择题都是运用已有的知识，对题干提供的材料、信息进行分析、甄别、遴选，平时要注意夯实基础，培养能力。

31. **【分析】** 本题考查：中国特色社会主义政治制度

人民代表大会制度是我国的根本政治制度。

中国共产党领导的多党合作和政治协商制度是具有中国特色的政党制度，是我国的一项基本政治制度。

我国的民族区域自治制度，是我国的一项基本政治制度。

基层民主自治制度。

坚持和完善人民代表大会制度，就要更好地把坚持党的领导、人民当家作主和依法治国统一于发展社会主义民主政治的实践。

**【解答】** ①说法正确，从材料中“推动中共中央大政方针落地见效，促进人民福祉不断改善”，“坚决维护党中央权威和集中统一领导，切实把党的路线方针政策和党中央决策部署贯彻落实到实际工作中”，这些信息可以得出人民代表大会和政治协商会议都要坚持中国共产党的领导；

②说法错误，全国政协各位委员可以对《政府工作报告》提出意见，但无权进行审议；

③说法错误，参政议政是政协委员的职责，不是人大代表的，政协委员的职责不包括建言献策；

④说法正确，“两会”同步进行，广泛发扬民主，从不同渠道征求民意，集中民智，体现了具有中国特色的民意表达互补结构；

故选：B。

**【点评】** 本题考查学生获取解读信息，调动应用知识能力，难度一般。我们做每一道政治选择题都是运用已有的知识，对题干提供的材料、信息进行分析、甄别、遴选，平时要注意夯实基础，培养能力。

32. **【分析】** 本题考查：维护世界和平

①和平与发展是时代的主题，维护和平符合中国人民和世界人民的根本利益。

②中国是维护世界和平与稳定的积极因素和坚定力量，是促进世界经济发展的重要力量，在国际事务中的代表性和话语权进一步增强，发挥着重要的建设性作用。

**【解答】** A 表述错误，联合国集体安全机制没有发生根本变革；

B 表述错误，中国组建维和警队是为了维护世界的和平与发展；

C 表述错误，中国主张以多边主义实现共同安全；

D 符合题意，“为支持改进和加强维和行动，中国加入新的联合国维和能力待命机制，并率先组建常备成建制维和警队”说明中国组建维和警队体现了国家利益和国际责任的统一。

故选：D。

**【点评】** 考查学生提取信息、调动所学知识理解和解决问题的能力。注意：一方面要把握材料要阐明的主旨，并和所学知识对应起来，另一方面运用排除法去除错误的选项。

33. **【分析】** 本题考查：共享经济

共享经济是指拥有闲置资源的机构或个人有偿让渡资源使用权给他人，让渡者获取回报，分享者利用分享他人的闲置资源创造价值。

**【解答】** ①正确，“移动互联网+手机支付+自行车租赁”催生了共享单车这一崭新的行业，由此可见，在使用过程中，自行车与手机是互补品；

②错误，凭借信用分可以免押金租用，说明诚信能降低使用单车的消费者的使用成本；

③正确，“共享单车改变了许多人的出行方式，与城市公交和地铁共同构成了绿色、便利的交通网络”，从中可以看出共享单车对公交车、地铁有一定的替代作用，有利于减轻了高峰期公交系统的压力；

④错误，共享单车的发展会为自行车制造企业带来大量订单，这反映了产业链中上、下游企业的合作共赢的关系；

故选：B。



**【点评】** 本题考查学生获取解读信息，调动应用知识能力，难度一般。我们做每一道政治选择题都是运用已有的知识，对题干提供的材料、信息进行分析、甄别、遴选，平时要注意夯实基础，培养能力。

34. **【分析】** 本题考查供给与需求。

供给指一个生产者在其他条件不变，一定时间之内，能够并愿意在一定价格向市场提供的产品数量。

需求是一个消费者在其他条件不变，一定时间之内，能够并愿意在一定价格购买的产品数量，供给与需求相互影响，相互制约。

**【解答】** A 不合题意，“大而不倒”是因国家宏观政策的保护而产生的企业“马太效应”式分化，而不是由需求方的因素导致企业“马太效应”式分化；

B 不合题意，“规模经济”是因生产规模、成本而产生的企业“马太效应”式分化，而不是由需求方的因素导致企业“马太效应”式分化；

C 符合题意，“网络效应”是指信息产品存在着互联的内在需要，因为人们生产和使用它们的目的就是更好地收集和交换信息。这种需求的满足程度与网络的规模密切相关，因此用户数量较多的企业更能吸引新用户，从而又促使网络的规模的扩大，出现由需求方的因素导致企业“马太效应”式分化；

D 不合题意，“劣币驱逐良币”现象的产生是突破基本底线的恶性竞争、没有透明、公正的市场规则，规范的市场秩序造成的，由此而出现企业“马太效应”式分化，但不是由需求方的因素导致企业“马太效应”式分化；

故选：C。

**【点评】** 本题考查学生获取解读信息，调动应用知识能力，难度一般。我们做每一道政治选择题都是运用已有的知识，对题干提供的材料、信息进行分析、甄别、遴选，平时要注意夯实基础，培养能力。

35. **【分析】** 本题考查：财政政策

(1) 经济增长滞缓、需求不足时，采取扩张型财政政策（积极的财政政策），增加财政（经济建设）支出，减少税收，（增发国债、适度增加赤字）刺激总需求的增长，降低失业率，拉动经济增长。

(2) 经济过热、物价上涨时，采取紧缩型财政政策，减少财政支出，增加税收，（减发国债、压缩赤字规模）抑制总需求的增长，稳定物价，给经济降温，促进经济平稳运行。

**【解答】** A 不合题意，凯恩斯主义主张政府对经济的积极干预，突出了政府赤字支出对总需求的扩张作用，认为在总需求不足，即经济陷入产出水平远远低于潜在产出水平的状况下，如果政府增加其购买量，总需求就会增加。图表中时段一显示居民消费价格指数上涨，说明总需求过旺而不是不足，因此凯恩斯主义不可以解释时段一的经济困境；

B 表述错误，新自由主义强调的是自由放任的市场经济，不需要政府的管制；

C 不合题意，时段三显示居民消费价格指数呈下降趋势，可能出现通货紧缩的现象而不是陷入了“滞胀”的困境；

D 符合题意，时段三显示居民消费价格指数呈下降趋势，失业率提高，因此可以通过扩张性财政政策拉动经济增长。

故选：D。

**【点评】** 本题考查考生对图表的分析理解能力，考生在分析题肢的时候，要结合图表进行思考，排除题肢中与材料无关以及本身说法错误的，从而筛选出正确的选项。解答本题的关键在于对图表的理解和把握。

36.

**【分析】** (1) 区域地形特征的描述从地形类型和分布，以及地势起伏状况角度分析。

(2) 据图和图例可知，巴拉顿湖周边为断块山，所以该湖泊的形成应从内力作用角度分析。

(3) 河流的水文特征应从流速、流量、水位变化、含沙量、结冰期等方面分析。应结合所在区域的地形和气候特征分析。

(4) 据图可知，匈牙利汽车工业主要分布在以杰尔为中心的周边城市。原因从与汽车工业相关的研发和教育机构、工业集聚效应好、汽车工业分布城市交通便利等方面进行分析。

**【解答】** 解：(1) 据图可知，匈牙利境内大半范围为东部的匈牙利大平原，中部为山脉和巴兰尼亚丘陵；全境地势起伏较小。

(2) 据图和图例可知，巴拉顿湖周边为断块山，所以该湖泊的形成应从内力作用角度分析，即地壳下沉雨水汇集而成的湖泊。

(3) 据图可知，甲河段流经山区，落差大，河流流速快；流域面积小；流量小；且纬度高，结冰期较长；而乙河段流经平原，河流流速慢；流域面积大；支流多，汇水量大，流量大；且纬度低，结冰期短。

(4) 据图可知，匈牙利汽车工业主要分布在以杰尔为中心的周边城市。据材料可知，杰尔是全国重要的汽车工业城市，且拥有多家与汽车工业相关的研发和教育机构，工业集聚效应好，规模效益大，可加强企业间的信息交流和联系。同时据图可知，汽车工业分布城市交通便利，有铁路、公路通过，便于运输。

故答案为：

(1) 匈牙利全境以平原为主，属多瑙河中游平原；多瑙河以东的匈牙利大平原，还有西北部的小平原；在多瑙河以西、小平原和巴拉顿湖之间，是阿尔卑斯山脉东延余脉；南部有巴兰尼亚丘陵。地势起伏小。

(2) 巴拉顿湖周边属于断块山，是经地壳运动形成的，地震使得沉积的地表变成了一个个盆地，盆地中不断聚集的雨水逐渐形成了湖泊。

(3) 甲河段流经山区，落差大，河流流速快；流域面积小；流量小；且纬度高，结冰期较长；而乙河段流经平原，河流流速慢；流域面积大；支流多，汇水量大，流量大；且纬度低，结冰期短。

(4) 匈牙利汽车工业分布比较集中，主要分布在杰尔周边的城市，且交通便利的地方。因为杰尔是国家重要的汽车工业城市，且有众多与汽车生产相关的研发和教育机构，工业集聚效应好；且有公路、铁路通过，交通便利，便于原材料的进口和产品的出口。

**【点评】** 本题难度适中，主要考查了区域自然和人文地理特征，解题的关键是从图文中获取信息并调用相关知识进行解答。

37.

**【分析】** (1) 本题考查中国早期政治制度的特点。具体考查先秦社会礼乐制度对儿童的影响。根据材料知识回答。

(2) 本题考查启蒙运动。具体考查 18 - 19 世纪儿童保护方面的成就以及 20 世纪以来儿童保护的新特点。根据材料结合所学知识回答。

(3) 本题考查儒家思想的发展演变。具体考查对“孝”历史演变的解读。根据材料结合所学知识回答。

**【解答】** (1) 第一问的重点是反映“对儿童要求”，幼学要求“学”以此类推，根据表格后面的“称谓由来”即可知。如何渗透到儿童成长过程中的根据表格的信息总结即可，根据儿童的生理、心理特点，将礼乐制度的内容掺入到儿童的教育过程中；礼乐制度的教育贯彻在儿童从出生开始的成长全过程；根据儿童的性别，施于不同的教育内容；根据儿童的成长时间段，施于不同的教育内容。

(2) 概括 18 - 19 世纪儿童保护方面取得的成就根据材料“1821 年法国爆发了反对雇佣童工的抗议…英法等国先后颁布一系列法律…1884 年，伦敦防止虐待儿童协会成立…保护儿童免受肉体及精神侵害；剥夺虐待儿童的家长的监护权”即可知。其背景根据时间内的大事件分析即可。20 世纪以来儿童保护的新特点根据材料“1904 年，法国设立儿童福利部…1946 年，联合国设立儿童基金组织。1989 年《国际儿童公约》确认每个儿童均有生存权、受保护权、发展权和参与权”总结即可。

(3) 阅读上述材料即可知对“孝”的含义、要求、意义，按历史时间轴的顺序进行了解读，可以从历史的纵向历史演变，分析总结出一个观点，然后结合材料、所学知识分析即可。

故答案为：

(1) 称谓：幼学、舞勺、束发、舞象。

渗透：根据儿童的生理、心理特点，将礼乐制度的内容掺入到儿童的教育过程中；礼乐制度的教育贯彻在儿童从出生开始的成长全过程；根据儿童的性别，施于不同的教育内容；根据儿童的成长时间段，施于不同的教育内容。

(2) 成就：维护儿童权益的斗争兴起；儿童保护的法律建立并完善；儿童保护的社会组织建立；儿童在工作、家庭等方面的权益得到关注和保护。

新特点：政府部门建立专门的行政机关和司法机关维护儿童权益；儿童保护问题得到国际社会的广泛认同和支持；儿童的权利逐渐明确化、法律化；儿童保护的国际组织机构建立，儿童保护成为国际问题。

(3) 在不同的社会历史条件下，“孝”被赋予不同的要求和作用。

在封建主义社会，社会等级严格，“孝”还要求“忠”；在近代中国，思想逐渐近代化，开始关注自由、平等的观念；在现代中国，人民当家作主，儿童享有合法的权益，国家、社会、家庭有义务保护儿童的权益和成长。

**【点评】** 本题考查中国早期政治制度的特点和儒家思想的发展演变。重点考查阅读和获取信息、调动和运用知识、描述和阐释事物以及论证和探讨问题的能力。注意儒家思想的发展演变的背景、主要过程、影响。

38.

**【分析】** (1) 本题要求运用《政治生活》相关知识，帮材料中的某高中生完成论文提纲及要点。依据材料中的关键词和考查方向可以做如下解答：第一空，考生要整合材料，从材料中概括答案：公民参与民主决策的过程中，提出了多种建设性的意见，说明公民参与政治生活的水平和素养越来越高。第二空，考生调动民主决策的意义可作答：政府对公民意见建议的反馈，能够激发公民的参与兴趣，进一步提高公民参与政治的积极性，推动我国民主政治的发展。第三空，此题较开放，针对网友“见贤思齐”的意见，可以提出问题：政府将对绿色出行出台什么具体措施。第四空，此题为上一问的深层次回答，考生上一问提出什么样的问题，这一空就提出针对性的措施即可：政府拥有提供社会公共服务的职能，政府需要履行建设公共基础设施，优化生态环境，防止污染等职能。减少私家车出行，能够防治大气污染，保护环境。

(2) 本题要求结合材料，运用《经济生活》相关知识，谈谈如何理解北京的“外溢效应”。此为分析说明类试题，根据材料二的图表，北京的人均GDP、第三产业比重、高学历人数以及创新型企业数量在京津冀地区均遥遥领先，所以北京的这些优势资源应该向周边输出，带动周边经济，统筹地区发展。而河北充分利用北京的优势资源，实现自身发展，体现了北京的“外溢效应”的积极作用。北京第三产业比重高，向河北输出一部分第三产业，有助于进一步优化双方的产业结构，推动周边地区的产业转型与升级。

(3) 本题要求运用《生活与哲学》相关知识，谈谈怎样绘就我们五彩缤纷的未来北京。此为措施类的论述题，结合材料可从以下角度分析说明：首先，规律是事物运动过程中固有的本质，规律是客观的，人们如果违背自然规律，会受到自然的惩罚，建设美丽的北京，需要遵循自然规律，保护自然环境，维护我们的家园；同时，人们在自然规律的面前不是无能为力的，我们应该要充分发挥主观能动性，利用规律，建造适宜人类居住的家园。其次，事物发展的前途是光明的，过程是曲折的，在建设未来北京的过程中，必然会遇到各种挫折和困难，未来的北京属于新事物的范畴，具有远大的前途和强大的生命力，终将取代旧事物，新的五彩缤纷的北京终将诞生。最后，在建设北京的过程中，要面对各种各样的矛盾，在这些矛盾中，一定有一种矛盾是最关键的，最主要的；同时，同一矛盾的两个面也有主次之分，建设北京需要把握矛盾的主要方面，但也要顾及矛盾的次要方面。主要矛盾和次要矛盾的辩证关系原理告诉我们，必须坚持两点论与重点论的统一，在绘就我们未来北京的过程中，要抓住主要矛盾，集中力量解决最关键的问题；同时，要分清主流和支流，把握主流的同时不忽视支流。

**【解答】** (1)

①主要特点：参与民主决策的水平与素养不断提高。

②意义：体现了我国人民民主的真实性，体现了对人民民主权利的尊重，能够提高公民参与政治生活的积极性，推动民主决策和科学决策。

③相关问题：政府将对绿色出行出台什么具体措施。

解决措施：针对共享单车的发展出台相关法律法规，提倡减少私家车的使用，乘坐公共交通工具出行。

(2)

①北京的人均 GDP、第三产业比重、高学历人口比例、创新企业数量均占有绝对优势，北京向周边地区输出人才、技术，带动周边地区发展，是贯彻落实科学发展观的具体措施，科学发展观的根本方法是统筹兼顾，“外溢效应”是统筹京津冀地区同步发展的体现。

②河北从京津地区引进了项目和资金，利用了京津地区的优势，推动河北地区的经济发展，让北京的资源不断“溢出”，带动河北地区的经济发展。

③新形势下，我国要加快转变经济发展方式，推进经济结构战略性调整，继续实施区域发展总体战略，北京的“外溢效应”体现了北京与周边地区产业结构的转型与升级。

(3) 答案示例：

①规律是事物运动过程中固有的本质，规律是客观的，建设美丽的北京，需要遵循自然规律，保护自然环境，维护我们的家园；同时，要充分发挥主观能动性，利用规律，建造适宜人类居住的家园。

②事物发展的前途是光明的，过程是曲折的，在建设未来北京的过程中，必然会遇到各种挫折和困难，但旧事物必将被新事物所取代，新的五彩缤纷的北京终将诞生。

③主要矛盾和次要矛盾的辩证关系原理告诉我们，必须坚持两点论与重点论的统一，在绘就我们未来北京的过程中，要抓住主要矛盾，集中力量解决最关键的问题；同时，要分清主流和支流，把握主流的同时不忽视支流。

**【点评】** (1) 本题实则有四小问。

第一小空考查考生获取和解读信息的能力，这项能力是高考考核目标与要求之一，我们应学会从材料中提取有效信息和核心信息，对其进行分析整合，得到答案。本题难度适中。

第二小空实则考查学生调动和运用基础知识解决问题的能力，目的是让学生通过书本知识来反思所学的内容，以此来加深知识的掌握程度。

第三小空和第四小空为开放性试题，真正体现了以学生为主体的精神，极大地激发了学生的学习兴趣，增强了探究性，而且对于培养学生的发散性思维 and 创新能力具有重要作用。

(2) 回答分析说明类问题，主要按以下思路进行：

第一步，精析材料，把握主题。这是解题的基础，可有效避免“文不对题”、“答非所问”的现象。

第二步，围绕主题，回归教材。以试题反映出的问题为中心与教材联系，找出材料与教材的“结合点”。

第三步，紧扣题意，合理作答。通常，我们只要将教材中的基本原理与材料一一对应，用理论分析材料即可。

(3) 同学们在答论述题时要注意以下问题：

- 1、审题。其实论述题要做成小论文，我们就要把题目当作作文题目来审，同学们尤其要注意，特别是对自己熟悉的论题，但也要找准角度，对不熟悉的论题，想到也肯定是用课本相关的知识。审题时要注意明确是往往明确规定了答案的层面（是什么、为什么、怎么办），答题的角度（政治、经济、哲学）和答题的范围（特殊指向性是强调党、国家、还是人民还是三方面都有所强调）是论述主体的作用还是它们的相互关系。
- 2、论述。有一些观点找对了，但是不会论述，这是很遗憾的。同学们可以把握一点在论述的时候，首先，你可以用相关的知识点进行展开。其次，同学们在相关论述完成之后，一定要找到与主题的内在联系，要说明你的知识是可以用来为主题服务的。
- 3、材料。这是目前同学们最有缺陷的，其实简单的说就像同学们写议论文一样，你要举例说明，同学们的材料来源首先目标是题目的背景材料，其次是热点新闻材料，最后还可以引用生活中的材料，但也不要观点和材料两张皮，最好能对引用的材料加以说明，说明他能为你的论题服务。

39.

**【分析】**（1）本题要求为准备开办一家外卖餐厅的青年出谋划策，说明该青年应该关注下面消费者调查问卷中的哪两个问题，并说明这样选择的理由。此题虽然有两个设问，实则原因类试题，因为在选择问题的过程中就已经考虑了这么选择的理由。依据材料中的关键词和考查方向可以做如下解答：

在第一个设问中，题干问的是应该关注消费者调查问卷中的什么问题。首先，材料中的消费者问卷主要的问题有以下几点：距离、价格和信息途径。结合消费者的需求弹性可知，外卖的距离和价格促销是主要影响因素。

在第二个设问中，如果外卖距离过远，会影响送餐的时间，如果外卖距离过近，则外面的便捷性得不到体现。消费者的需求对外卖的价格非常敏感，消费者需要的是物美价廉的商品，因此应该关注价格促销活动。

（2）本题要求分析如图的调查结果，并据此说明你认为该青年在开办餐厅时应该注意哪些问题。此题虽然有两个设问，但跟第一问一样，实则在分析调查结果的过程中自然而然就能明白开办餐厅时应该注意的问题。

在“选择外卖时，能够接受的最远的距离”这一问题中，60%的人不能接受外卖距离超过3千米，因此该青年在开办餐厅时应该注意距离问题；

在“得到外卖信息的主要途径”这一问题中，选择“外卖平台的推销”和“朋友圈介绍”的人最多，因此，该青年在开办餐厅时应该注意外卖平台的推销工作。

（3）本题要求说明除了进行消费者一方的调研外，你认为该青年还需要理解哪些方面的信息。此题为开放性试题，没有标准答案，考生只要联系生活即能得出答案：如：需要了解工商等政策信息：该青年要开办餐厅就要接受相关部门的监督和管理，因此需要了解工商等政策信息。如需要了解店面房租信息：该青年开办餐厅要重点考虑餐厅位置等问题，因此需要关注店面和房租信息，找到最佳的开店场所，以便降低开店成本等等。

**【解答】** (1)

选择②；理由：外卖的距离影响消费便捷程度；

选择③；理由：物价是影响消费的重要因素。

(2)

①通过“选择外卖时，您可以接受的最远距离是”这一幅图可知，该青年在开办餐厅时应该注意餐厅的位置；

②通过“您得到外卖商家信息的主要途径”这幅图可知，该青年在开办餐厅时应该注意餐厅的信誉和形象。

(3)

①工商等政策信息；

②店面房租情况；

③商品供求等。

**【点评】** (1) 本题实为原因类试题，解答本题，需要联系课本分析原因。当我们看到一个“原因”类设问，第一个应该想到的问题就是课本上关于这个问题具体有哪些内容，联系课本是分析原因的最基本的角度，很多问题通过联系课本内容就能够得到解决的。

(2) 本题的解答是建立在对于调查的结果的分析，因此，本题考查考生获取和解读信息的能力，这一能力是高考考核目标与要求之一，我们应学会从材料中提取有效信息和核心信息，对其进行分析整合，得到正确的答案。本题难度适中。

(3) 本题为开放性试题，真正体现了以学生为主体的精神，极大地激发了学生的学习兴趣，增强了探究性，而且对于培养学生的发散性思维和创新能力具有重要作用。

40.

(1) **【分析】** 旅游资源的价值主要有：美学价值，经济价值，历史文化价值等。

**【解答】** 解：北京故宫博物院的主要旅游价值主要体现在历史文化价值和美学价值，采取的环境保护措施主要包括合理规划、限制游客数量、制定法律法规等。

故答案为：价值：北京故宫博物院作为皇家宫殿，本身就具有历史文化价值。建筑艺术精湛，具有美学价值。博物院通过门票、广告收入等实现了经济价值。

措施：合理规划旅游路线；制定合理的游客数量；通过广播等多手段宣传环境保护的有关规定及法律法规；设置废弃物回收箱，方便垃圾回收等。

**【点评】** 本题主要考查北京故宫博物馆的价值和保护措施，关键是找到价值，然后结合所存在的问题采取相关的措施。

(2) **【分析】** 本题考查国际共产主义运动。考查 1848 年是马克思思想的“转折点”原因；20 世纪初马克思主义理论在中国传播的情况。需要掌握《共产党宣言》发表的意义；20 世纪初马克思主义中国化的过程。

**【解答】** (1) 本小问的原因及其理由，实际上考查《共产党宣言》发表的意义，结合所学可知，1848 年《共产党宣言》发表，阐述了共产党的性质和特点，科学的阐明了无产阶级解放的物质条件和伟大历史使命，标志着马克思主义的诞生。

(2) 本小问的情况，实际上考查 20 世纪初马克思主义中国化的过程，结合所学可知，情况是在俄国十月革命影响下，马克思主义开始在中国传播，经过五四运动，逐渐形成强大的社会思潮。1918 年李大钊先后发表了《庶民的胜利》、《布尔什维主义的胜利》等文章，用马克思主义观点分析和歌颂俄国十月革命。1920 年上海、北京、武汉等地相继建立了共产主义小组，使马克思主义的宣传开始有组织地进行。之后，《共产党宣言》等中译本也相继出版。1921 年 7 月 1 日，在上海召开了中国共产党第一次代表大会，马克思主义政党——中国共产党诞生。

故答案为：

(1) 1848 年《共产党宣言》发表，《共产党宣言》第一次完整，系统地阐述了马克思主义的基本原理，《共产党宣言》阐述了共产党的性质和特点，科学的阐明了无产阶级解放的物质条件和伟大历史使命。这标志着马克思主义的诞生。因此 1848 年是马克思思想的“转折点”

(2) 在俄国十月革命影响下，马克思主义开始在中国传播，经过五四运动，逐渐形成强大的社会思潮。1918 年李大钊先后发表了《庶民的胜利》、《布尔什维主义的胜利》等文章，用马克思主义观点分析和歌颂俄国十月革命。1920 年上海、北京、武汉等地相继建立了共产主义小组，使马克思主义的宣传开始有组织地进行。之后，《共产党宣言》等中译本也相继出版。1921 年 7 月 1 日，在上海召开了中国共产党第一次代表大会，马克思主义政党——中国共产党诞生。

**【点评】** 本题考查国际共产主义运动。考查对《共产党宣言》发表的意义；20 世纪初马克思主义中国化的过程的把握，考查学生对基础知识的识记、运用能力。

41. (1)

**【分析】** 东非高原由于海拔高，气温相对较低，对流较弱，形成热带草原气候。

**【解答】** 解：据图可知：该国大部分地区地处  $10^{\circ} \text{S} - 15^{\circ} \text{S}$  之间的区域，结合降水柱状图不难判断，该地气候类型主要为热带草原气候，这种气候条件下发育了典型的热带草原景观。每年 1 月份，由于气压带和风带的南移，赤道低气压带控制这里，因此盛行上升运动，降水多，因此到处稀树高草，呈现一派草木葱绿的景象，斑马、长颈鹿等无忧无虑的生活在这里。

7 月，信风带控制这里，受信风的影响，风从陆地吹响海洋，降水少形成干季，到处草木枯萎，呈现一派萧瑟的景象。

故答案为：热带草原带。



1月份：草木葱绿，受赤道低气压带控制，气流盛行上升运动，降水多，形成湿季；

7月份：草木枯黄，受信风带控制，风从陆地吹向海洋，降水少，形成干季。

**【点评】** 本题主要考查东非高原的气候和植被，结合所学知识和图文材料即可得出答案。

(2)

**【分析】** 本题考查丝绸之路。考查海上丝绸之路对唐宋社会经济的影响。需要掌握海上丝绸之路的影响。

**【解答】** 本小问的影响，注意限定信息“唐宋社会经济”，结合所学可知，海上丝绸之路有利于提升唐宋经济在世界经济中的地位，提高国际影响力；有利于引进外国丰富的物品和多样的文化，促进唐宋时期文化的多元化、开放化、融合化；有利于传播中国的传统文化，提升中国文化的影响力；有利于形成多元思想交融的局面，繁荣唐宋时期的思想、手工业等领域；有利于促进唐宋时期的国际交流，融入国际社会。

故答案为：

影响：有利于提升唐宋经济在世界经济中的地位，提高国际影响力；有利于引进外国丰富的物品和多样的文化，促进唐宋时期文化的多元化、开放化、融合化；有利于传播中国的传统文化，提升中国文化的影响力；有利于形成多元思想交融的局面，繁荣唐宋时期的思想、手工业等领域；有利于促进唐宋时期的国际交流，融入国际社会。

**【点评】** 本题考查丝绸之路。考查对海上丝绸之路的影响的把握，考查学生对基础知识的识记、分析理解能力。

(3) **【分析】** 本题要求从“丝绸之路”文化“通”、“融”、“荣”的特点中任选一个或多个，结合材料，运用《文化生活》相关知识，谈谈认识。本题为开放性试题，考生可自选一个角度或多个角度来说明，但无论是哪个角度都需要遵循三点：第一点要解释各个特点的含义，第二点要联系《文化生活》的相关知识点，第三点要结合材料。如果从“通”的角度作答。首先解释“丝绸之路”文化的“通”的含义。“丝绸之路”文化的“通”是指通过丝绸之路上的商业贸易，使沿线国家的文化得以相互交流，相互沟通。接着联系《文化生活》知识对“通”的特点继续进行说明，“通”强调的是沟通，商业贸易是文化交流的重要途径，丝绸之路首先是条贸易之路，通过商业贸易沟通起了沿线国家之间的文化交流。从材料中找出与“通”的特点相关的语句。元代景德镇的青花瓷，一开始是为西亚地区制造的，订购外销瓷的是波斯和叙利亚的商人，通过商业贸易，造就了不同文化的沟通，成就了“元青花传奇”。其他特点均可按照这个思路进行作答。

**【解答】** 答案示例一：“通”的角度

①“丝绸之路”文化的“通”是指通过丝绸之路上的商业贸易，使沿线国家的文化得以相互交流，相互沟通。

②商业贸易是文化交流的重要途径。丝绸之路首先是条贸易之路，通过商业贸易沟通起了沿线国家之间的文化交流。

③元代景德镇的青花瓷，一开始是为西亚地区制造的，订购外销瓷的是波斯和叙利亚的商人，通过商业贸易，造就了不同文化的沟通，成就了“元青花传奇”。

答案示例二：“融”的角度

- ① “丝绸之路”文化的“融”是指“丝绸之路”文化是融合了沿线不同国家的文化特色而成就的一种个性鲜明的文化。
- ② 无论是在文化传承的过程之中，还是在文化的创新过程之中，都会有意无意的融入不同文化，最后创造出区别于以前的文化，这种文化就是融合的结果。
- ③ 中国元代以前的彩绘瓷，普通疏朗，写意手法居多，但元青花以一种伊斯兰式的标准手法，将中式动植物造像予以扁平化、抽象化，得以无尽连续重复，几乎看不到留白。因此，元青花融合了中国传统瓷器文化和伊斯兰文化，最终成就了“元青花传奇”。

答案示例三：“荣”的角度

- ① “丝绸之路”文化的“荣”是指通过丝绸之路的文化传播，助推了沿线国家不同文化的繁荣。
- ② 文化在交流中传播，在交流中繁荣。如果一种文化“闭门造车”不与其他文化交流是不会繁荣发展的，只有在交流中文化才能扩大影响范围，获得繁荣发展。
- ③ 受伊斯兰文化影响的中国青花瓷，发展到 15 世纪已经非常成熟，并成为埃及、叙利亚与波斯陶工模仿的对象。这些穆斯林国家的陶工们，慢慢地采取了更自由、解放的手法，增加了律动和空间感，他们的图案逐渐开放，融入中式特有的某些生命力和自发性。就是在文化交流之中，元青花获得了繁荣发展，成就了“元青花传奇”。

答案示例四：全面理解

- ① “一带一路”促进了沿线国家文化的交流与融合；
- ② 促进了中华文化“走出去”，增强中华文化的影响力；
- ③ 促进了包含多种文化内涵特征的新文化的产生，丰富了世界文化，促进了世界文化的繁荣发展。

**【点评】** 本题为开放性试题，真正体现了以学生为主体的精神，极大地激发了学生的学习兴趣，增强了探究性，而且对于培养学生的发散性思维和创新能力具有重要作用。