

# 文科综合

2019.4

## 第一部分（选择题）

高达 528 米的“中国尊”大厦于 2018 年全面竣工。读图 1“建设中的中国尊”和图 2“中国尊大厦所在区域电子地图”，回答 1~3 题。



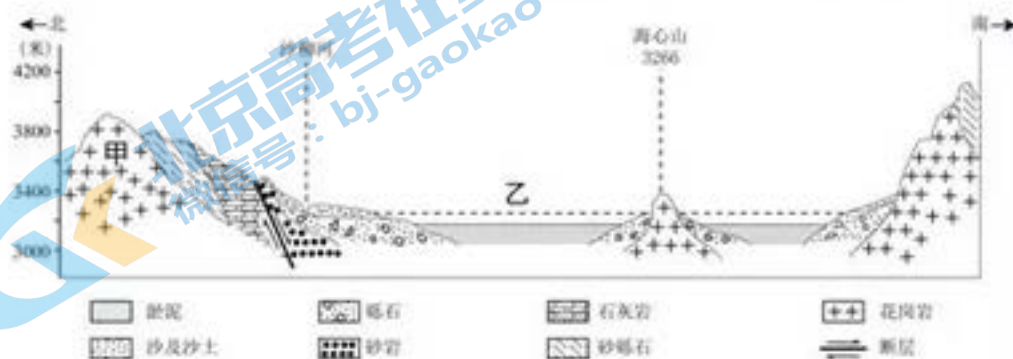
图1



图2

- 图1 照片的拍摄时间（北京时间）最可能介于
  - 4:00~6:00
  - 10:00~12:00
  - 12:00~14:00
  - 17:00~19:00
- 若图1 照片拍摄当日，天安门升旗时间为 4:46，则该日北京
  - 日出东南方向
  - 正午日影较长
  - 正值秋高气爽
  - 处于夏至前后
- 图 2 所示城市功能区
  - 位于北京市的中心
  - 早晚人口流动量大
  - 土地利用效率比较低
  - 多高新技术制造业

图 3 是我国青海湖的湖盆地形、地质剖面图。读图回答第 4、5 题。



- 图中
  - 甲岩层形成于断层发生后
  - 乙处是一个背斜谷地
  - 海心山是火山活动形成的
  - 湖盆因断裂陷落而成

- 5、当地特产的“湟鱼”生长极慢，有“一年长一两”之说，是因为该湖泊
- A. 水量大，盐度低，饵料丰盛
  - B. 流域封闭，周边无河流，少天敌
  - C. 气候高寒，水温低，冰期长
  - D. 水位季节变化大，且含沙量较大

图4是四个城市的纬度及气压年变化示意图。读图回答第6、7题。

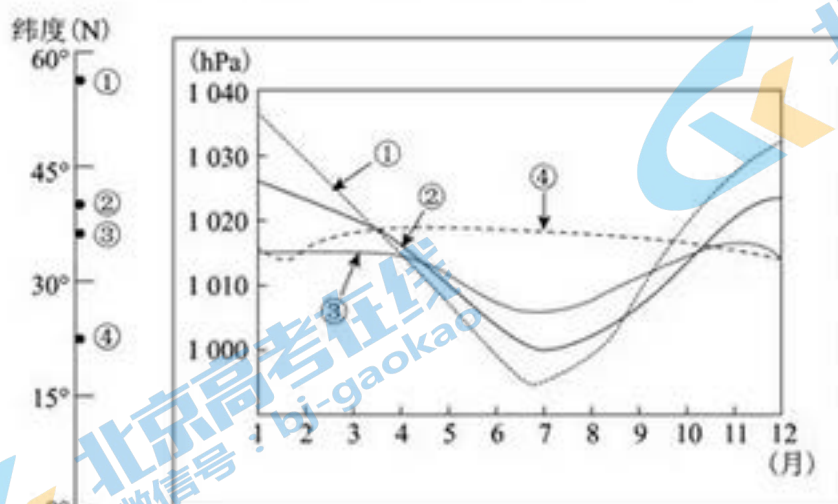


图4

- 6、图中四城市
- A. ①气温年较差较小
  - B. ②盛行东北信风
  - C. ③比②更接近内陆
  - D. ④可能位于海岛
- 7、年均降水量少，但森林资源和淡水资源都丰富的城市可能是
- A. ①
  - B. ②
  - C. ③
  - D. ④

改革开放以来，我国正经历一场世界上规模最大、速度最快的城镇化进程。与此同时，流动人口的规模也持续加大。读图5和图6，回答第8、9题。



图5

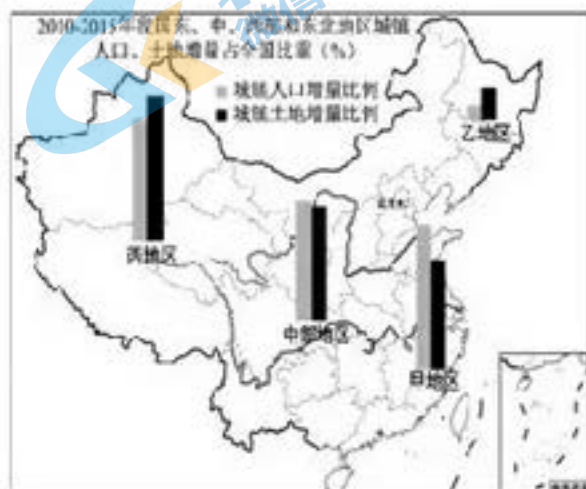


图6

- 8、据图5分析，我国2011-2015年
- A. 天津市年均净迁入人口数量最多
  - B. 迁入人口比迁出多的省区占多数
  - C. 沿海省区对迁入人口较具吸引力
  - D. 西部省区因经济因素人口净迁出

- 9、图6中各地区
- A. 城镇人口和土地增长比较均衡

- B. 甲地区应控制中小城市的规模



C. 乙地区的资源型城镇面临转型

D. 丙地区的人口环境承载力较大

开普敦是南非著名港口和旅游城市。其南侧有座“桌山”，海拔 1087 米，因山顶如削平的桌面而得名；山顶上荒凉的戈壁滩与植被茂密的洼地形成鲜明对比，且终年云雾缭绕。据图文资料，回答第 10、11 题。

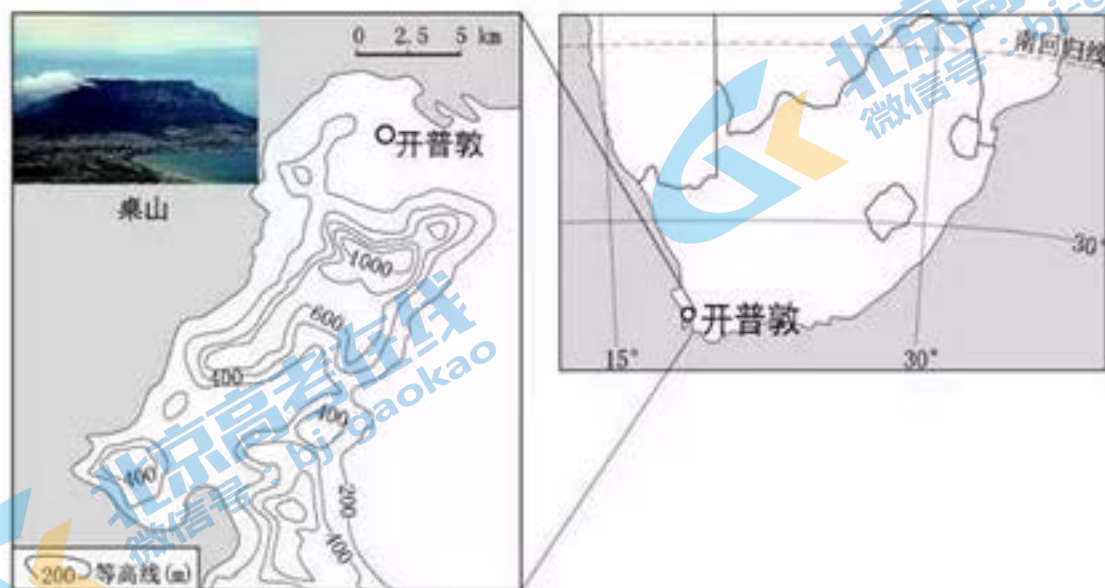


图7

10. 开普敦港

- A. 12月至2月是旅游业淡季  
B. 4至9月泊船受海浪影响大  
C. 地处印度洋和太平洋衔接处  
D. 西北因寒暖流交汇形成渔场

11. 桌山山顶

- A. 受地形阻挡难以俯瞰开普敦港湾  
B. “桌面”形态是受内力作用而成  
C. 云雾是湿润气流遇地形抬升而成  
D. 植被景观的差异受热量因素主导

12. 今本《孔子家语》是一部记录孔子及弟子言行的著作，曾一度被怀疑是晋魏时期所作伪书。1977年安徽双古堆汉墓中发掘出一批简牍，其内容大多能在今本《家语》中见到，如“孔子之匡”“孔子将西游至宋”等。这批简牍的价值在于

- ①近明了孔子思想在西汉时期开始流传  
②为判断今本《家语》真伪提供新证据  
③丰富了研究《孔子家语》的相关资料  
④内容与今本不完全相同，但可以互证
- A. ①②③  
B. ①②④  
C. ①③④  
D. ②③④

13. 有学者指出，华夏民族大一统的伟业，到汉武帝时代完成了从地理空间到精神空间的整合与凝聚。其中，与汉武帝相关的措施是

- A. 建立第一个统一多民族国家，统一文字和货币  
B. 颁布“推恩令”，实行“罢黜百家，独尊儒术”  
C. 实施开明的民族政策，思想上尊道、礼佛、崇儒  
D. 平定三藩之乱，将四书五经作为科举考试内容

14. 纵观中国历史，经济的发展经历了从内陆地区为中心到运河为中心，再到晚清以沿海为中心的演变。下列对此现象的述评，准确的是

阶段	中心	史实	结论
第一阶段	内陆	①以长安为中心的关中地区，农业经济较发达	④经济中心的转移主要取决于政治中心的变动
第二阶段	运河	②大运河的开通，促进洛阳、扬州成为商业都会	
第三阶段	沿海	③受工业文明冲击，上海等沿海新型城市兴起	

- A. ①②③  
B. ①②④  
C. ①③④  
D. ②③④
15. 9世70—80年代，清朝外交官郭嵩焘抨击西方对中国进行侵略“其势日逼、其患日深，同时指出“西洋立有本有末，其本在朝廷政教，其末有商贾、造船、制器，相辅以益其强”，并呼吁“得其道而顺用之，亦足为中国之利”。此思想

- A. 代表了洋务运动时期的主流认识  
B. 直接指导光绪帝实行戊戌变法



C. 反映出对待西方文明的理性态度 D. 与义和团运动提出的主张一致

16. 右图纪念邮票中的“伊敦号”是轮船招商局初创时从英国购置，1873年首航日本神户、长崎，开创了我国商轮驶入国际航线的历史。此举标志着中国



- A. 自然经济开始解体 B. 近代造船工业诞生  
C. 近代海军初具规模 D. 航运业进入新阶段

17. 习近平总书记在纪念刘少奇同志诞辰 120 周年座谈会上指出：“刘少奇同志的英名，同中国人民、中国共产党、中华人民共和国波澜壮阔的奋斗历史紧密相连。”下列事迹按时间先后排序准确的是

- ①积极投身反对“二十一条”的斗争，写下“誓雪国耻，毋忘国耻”  
②制定《中国土地法大纲》为解放战争胜利提供物质力量和群众基础  
③代表党中央科学分析社会主义制度基本建立后我国社会的主要矛盾  
④在中共七大上做的报告对“毛泽东思想”作出完整概括和系统阐述

- A. ①②④③ B. ①④②③ C. ②①④③

18. 右图为中国驻法国使馆额收藏品——1964 年 1 月 28 日的法国《世界报》，它刊登了中法建交公报。中法建交体现了



- A. 中国已打破长期的外交僵局 B. 中国开始实行对外开放政策  
C. 两大阵营之间展开激烈斗争 D. 两国奉行独立自主外交政策

19. 下方表格反映了欧洲某次重大事件前后城邦权力的变化。此事件是

权力	变化
决策权	长老会议 → 公民大会、四百人会议
行政权	首席执政官 (长老任命) → 9 名执政官 (选举产生)
司法权	贵族法庭 → 公民陪审法庭

- A. 梭伦改革 B. 克里斯提尼改革 C. 伯利克里改革 D. 《十二铜表法》颁布

20. “民族国家”指在同一政府治理下，有共同历史、文化和生活习惯的民众共同体。在欧洲历史上，促进民族国家形成的事件有

- ①文艺复兴促进各民族文化形成 ②黑船事件引发日本民族危机  
③宗教改革推动各民族意识高涨 ④国际工人联合会在伦敦成立
- A. ①② B. ①③ C. ②④ D. ③④

21. 18 世纪的欧洲，最畅销的小说是卢梭的《新爱洛漪丝》、孟德斯鸠的《波斯人的信札》和伏尔泰的《老实人》等。这些哲人小说大受欢迎是因为

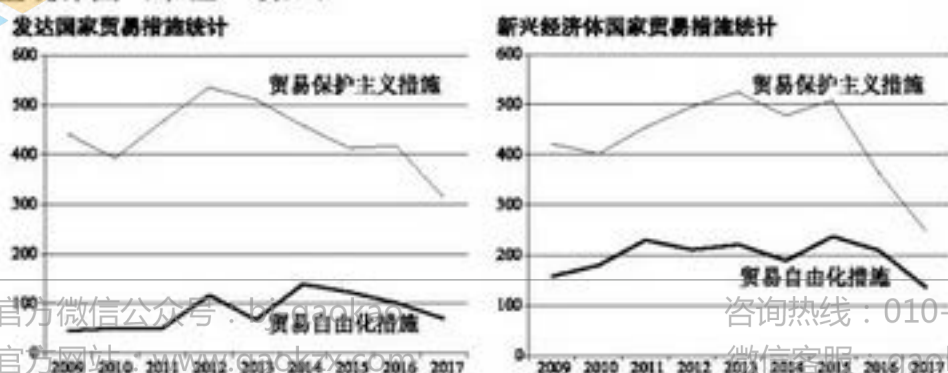
- A. 关注焦点由神转向人，从实际出发，洞察宇宙，探索人生  
B. 提倡追求自由、享受现实生活，鼓励发财致富和冒险精神  
C. 借助于通俗的文学形式，提出改造社会以保证人权的方案  
D. 采用现代主义的表现手法，突出表现自我，反传统和理性

22. 右边漫画《来吧，山姆！又该看我们的了！》出自 1947 年的英国杂志。该漫画反映出



- A. 布雷顿森林体系的建立稳定了战后世界经济秩序  
B. 马歇尔计划的实质是借助复兴西欧维护美国利益  
C. 欧美国家加强合作成立北约组织以保护自身安全  
D. 西欧各国通过创建福利国家制度来解决战后困境

23. 下图为 2009—2017 年世界主要发达国家和新兴经济体国家出台的贸易自由化措施与保护主义措施数量统计图（单位：项）。





基于此进行的推断，表述准确的是

- A. 经济全球化下，发达国家大力推进贸易自由化 B. 经济区域集团化导致各国加大贸易保护的力度  
C. 新兴经济体国家在促进自由贸易方面更为主动 D. 急需建立世界性经济组织以规范协调国际贸易

24. 2019 年新春伊始，中央广播电视总台连续播出快闪活动——新春唱响“我和我的祖国”。在各地，演员与围观群众同唱，“我和我的祖国，一刻也不能分割。无论我走到哪里，都流出一首赞歌……”以下分析正确的是

- ①爱国赞歌能表达对祖国的热爱和依恋之情  
②传统文化是凝聚中华儿女精神力量的重要纽带  
③爱国主义深藏于中国人民的心底  
④文化自信来自于全面建成现代化强国

- A. ①③ B. ①④ C. ②③ D. ②④

25. “坛”是中国古代建筑的重要类型，也是“礼制”的内容，主要供祭祀之用。在坛上举行的重大仪式有取得天地作证的意思。北京有天坛、地坛、社稷坛、祈谷坛、先农坛、太岁坛、天神坛、日坛、月坛、先蚕坛等，明清皇家在这些地方举行祭祀仪式，祈祷风调雨顺、五谷丰登。以下认识正确的是

- ①坛建筑是中华优秀传统文化的重要载体  
②坛文化中渗透着人定胜天的朴素自然观念  
③坛文化在本质上是服务于农业社会生产方式的  
④坛文化通过消解自然的神秘性以实现人与自然和谐相处

- A. ①② B. ①③ C. ②④ D. ③④

26. 京剧《沙家浜》里的两句唱词“垒起七星灶，铜壶煮三江”，是从苏东坡的诗“大瓢贮月归春瓮，小勺分江入夜瓶”变化而来的。我们的许多语言，都脱胎于前人的语言。因此，可以这样说

- A. 寒窗苦读，发挥意识能动性，能避免下笔枯竭  
B. 有言之不尽的生活题材，能积累大量的间接经验  
C. 把历代名篇作为主观认识的来源，能笔走龙蛇  
D. 学问上有量的足够积累，厚积薄发，能触处成文

27. 人类历史上的第一张照片诞生于 19 世纪 20 年代。此前，记录形象的任务主要由绘画来承担。随着照相术的产生和普及，许多画家不得不放弃拍照式的古典画法，另外选择道路，从侧重描绘客观对象形态转向侧重表现人的内心世界。有人形容说，是照相术叩开了现代绘画的大门。这表明

- A. 现代绘画的追求在于使主观映象符合客观对象  
B. 内在矛盾的发现和解决是传统绘画实现变革的根据  
C. 照相术作为新事物产生，则绘画作为旧事物消亡  
D. 技术是从事摄影和绘画的艺术家们推崇的信条

28.

①	②	③	④	⑤
某学者为了照顾 3 个月大的儿子，利用自己从事流体力学研究的专业优势，研究起了蚊子	经观察发现，即使是须天，蚊子也能轻松穿越比自己重 50 倍的雨滴组成的“枪林弹雨”，成功钻入室内叮咬小朋友	最初，他和学生在野外研究中被淋成落汤鸡，还叮了一身包，并没拍到什么东西。不过，也算验证了蚊子确实可以在雨中自由飞行	后来，他们将蚊子赶进容器，用水枪模拟雨滴，用高速摄像机记录蚊子的飞行动作。视频显示，当蚊子遇到雨滴时，会从雨滴旁边滑过	最后得出结论：蚊子因体重较轻，能在雨滴的碰撞中得以生存

上述趣味十足的研究表明

- ①主体需要是价值实现活动的动力  
②科学实验是来自需要的认识活动  
③可以通过相对静止来研究绝对运动  
④探索真理的过程是谬误积累的过程

- A. ①③ B. ①④ C. ②③ D. ②④

官方微信公众号：bj-gaokao

官方网站：www.gaokzx.com

咨询热线：010-5751 5980

微信客服：gaokzx2018

29. 价格听证会是改进政府对垄断程度较高行业的管制，提高社会总福利的一种重要方法。在下列设计中，有利于提高听证质量的是
- ①采取现场召开听证会的方式，避免因网络听证增加工作成本
  - ②消费者参加人由消费者自愿报名、随机选取和相关群众组织推荐相结合的方式产生
  - ③鼓励第三方机构、专业人士、旁听人员等第三方参与听证会
  - ④关于听证会内容、听证会参与人员信息等，听证会工作人员必须对外界保密
- A. ①②      B. ①④      C. ②③      D. ③④

30.

**基层干部，被哪些形式主义困扰**

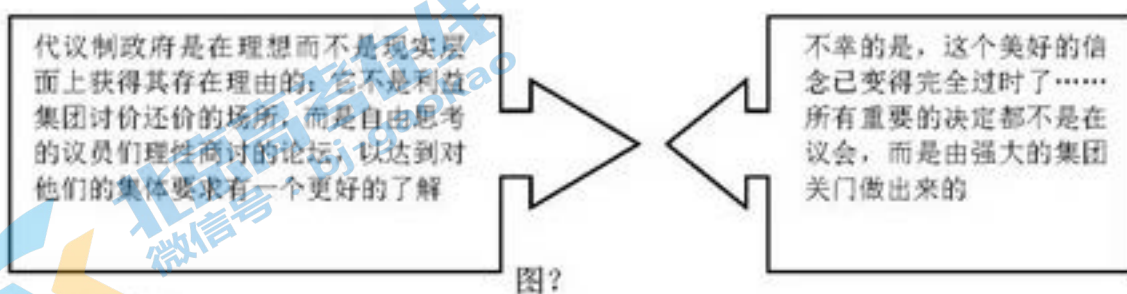
晒晒你身边的形式主义：

- 一天接待几个部门检查，有的考评成了走过场
- 很多考核只看痕迹，一检查就翻材料
- 有的事项一不小心就要扣分，并被严肃问责
- 光开会每个村干部每周至少要往乡里跑两次

摘自《人民日报》(2019年03月21日)

要解决上述困扰基层的形式主义问题，建立长效机制，应该

- A. 让领导机关党政干部体验群众生活冷暖
  - B. 依靠领导机关党政干部自我反省、自我约束
  - C. 由国家监察机关对领导机关党政干部进行监督
  - D. 把对基层管理服务水平作为领导机关党政干部考核内容
31. 某班中学生发现在王府井、什刹海、南锣鼓巷等知名景点或附近，有大量号称“老北京炒面”、“老北京虾棒”、“老北京美式炸鸡”、“老北京布鞋”等商品，其实这些与老北京没有任何关系。在同学们的提议中，合理的是
- ①拨打市工商行政管理局电话，行使公民监督权，对其进行质询
  - ②通过市文化和旅游局网站提出对旅游市场秩序执法检查的意见
  - ③向市人大代表反映情况，请人大代表提出有关的市场监管建议
  - ④向市政协委员提出宏观调控建议，通过政协发挥参政议政作用
- A. ①②      B. ①④      C. ②③      D. ③④
32. 西方议会制度是西方民主制度的核心要素。图? 摘自国外某学者的《反自由主义剖析》。



以上论述表明

- A. 议会不是资产阶级民主的化身，而是利益集团的代表
  - B. 利益集团影响公共政策，西方议会制度具有虚伪性
  - C. 西方国家的政府体制，具有权力相互制约的机制
  - D. 假如代议制是社会最佳的选择，则在野党与民主无缘
33. 供给弹性是指供给量相对价格变动的反应程度，即某种商品价格上升或下降的百分比，带来的该商品供给量增加或减少的百分比。不同商品的供给弹性不同，下列文字描述与商品供给曲线图正确对应的是

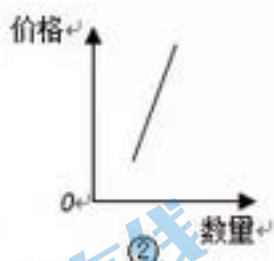


像明代成化斗彩鸡缸杯这样的孤品作为商品，供给无弹性



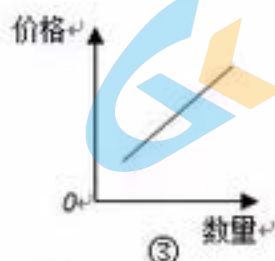
①

鲜肉等易腐变质的商品，供给弹性小



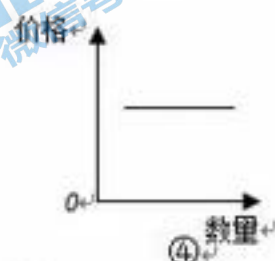
②

高铁列车等生产周期长的商品，供给弹性大



③

第五代移动通信技术（5G）等新技术，供给弹性无限大



④

- A. ①②      B. ①④      C. ②③      D. ③④

34. 在市场中，卖方比买方更了解有关商品的各种信息，各类人员对有关信息的了解是有差异的。以下有利于降低市场上大多数消费者的选择成本的是

- ①企业利用大数据向消费者推荐无差异化信息
- ②实体零售商到互联网零售平台上销售经营
- ③购房者大幅增加与房地产开发企业交易的频度
- ④产品技术要求高的制造企业实施品牌战略

- A. ①③      B. ①④      C. ②③      D. ②④

35. 公共物品是消费者可以共同消费或共同享用的物品。一旦把这种公共物品提供给消费者，便难以防止其他人消费或享用。以下关于公共物品的判断和解释都正确的是

- A. 教育属于公共物品——公共物品由政府提供，私人物品由私人提供
- B. 枪支弹药属于公共物品——在市场上它们不能自由买卖
- C. 消防属于公共物品——消防具有竞争性，不同消费者不能共享同一消防资源
- D. 城市绿化属于公共物品——每增加一位城市居民，政府不用追加城市绿化投入

### 第二部分（非选择题）

36. (36分)“渤海粮仓”是2013年启动的一项大型农业科技工程项目，计划通过对环渤海地区4000多万亩中低产田和1000多万亩盐碱荒地的改造，实现到2020年增粮100亿斤的目标。读图13，回答下列问题。



图 13

- (1) 描述“渤海粮仓”工程计划改造土地的分布状况，并指出其中盐碱地的自然成因。(12分)

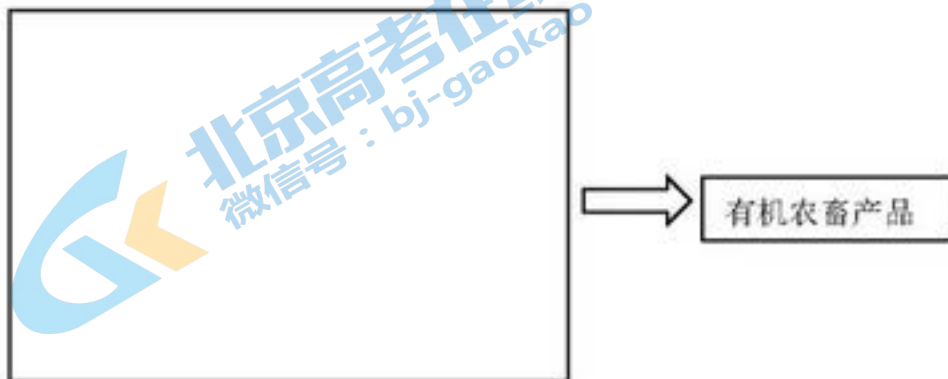
五年来，“渤海粮仓”科技示范工程项目通过示范推广十余种主体技术模式，扬长避短，共推动区域增粮 209.5 亿斤，节水 43.5 亿方。部分模式及分布区如下表所示。

技术模式	说明	示范区
雨养旱作	指通过种植制度调整、抗旱品种及早作技术配套，实现不需要灌溉、完全利用自然降水从事农业生产的目标。	河北示范区
微咸水补灌	为了弥补干旱年份使用淡水灌溉农业的不足，充分利用地下微咸水进行安全补灌的综合技术。	天津示范区 山东示范区
棉改增粮	改良滨海中、重度盐碱地，种植棉花；在传统一年一熟棉区，构建棉花—小麦—玉米两年三熟模式，实现粮棉双丰收。	
增温改土	通过温室大棚、地膜和秸秆覆盖、耕作培肥等措施增加地温、改良土壤，促进水稻和玉米增产。	辽宁示范区

- (2) 指出表格中四种技术模式分别利用或改造的自然区位条件。(8分)

该项目还建立了农牧结合循环模式。通过“种养联盟”，促进种植业成果转化和养殖业的饲料供给；通过养殖业废弃物无害化处理和农作物有机种植，助力“渤海粮仓”绿色增产和增效。

- (3) 有一家河北省的奶牛企业加入了“种养联盟”。试从循环经济的角度，为其设计一个生产流程方案。(提示：文字、示意图表达均可)(8分)



环渤海高铁(图 13)计划在 2021 年完工通车，助力环渤海经济圈快速发展。

- (4) 概述该高铁建设对环渤海地区社会经济发展的影响。(8分)



37. (36分) 首都：文明·创新·示范

**材料一** 十五年，“经始明堂，改营太庙（改变了鲜卑族的祖先崇拜观念）”。十六年，“告谥孔庙”。十七年，“车驾发京师，南伐……仍定迁都之计”。十九年，“诏不得以北俗之语言于朝廷”。二十年，“诏改姓为元氏”。

——摘自《魏书·高祖纪下》

**材料二** 孝文帝在魏晋都城的旧址上，遵从《周礼》的规划格局营建洛阳城，改变了秦汉以前宫殿、苑囿的分散布局，将其集中建在中轴线上，此格局显示出皇权至高无上的地位，为唐、宋、元、明、清的都城规划所沿用，还首创了里坊制的布局形制。 ——摘编自《华夏文明的核心——古代都城》

**材料三** 北魏时期的壁画



左图山西大同汉人宋绍祖墓壁画中的人物服饰，垂裙帽、圆领或交领长褶，束腿裤为胡服特点；右图河南龙门石窟《帝后礼佛图》中，鲜卑贵族身穿宽袍大袖为汉服特点。

(1) 依据材料指出 3 项孝文帝的改革措施，概括北魏时期中华文明发展的特点。(8分)

**材料四** “首都”与“资本”在英文里是同一个词。1694年，世界上最早的股份制银行——英格兰银行在伦敦诞生；1848年，《共产党宣言》第一版在伦敦发表。1862年，世界第一家百货公司在法国巴黎开业。诗人普希金长期生活在俄国首都圣彼得堡，1833年他创作了《青铜骑士》，将首都作为民族精神和意志的代表。亚历山大二世则在此颁布了《国民教育部女子学校章程》，第一次规定建立女子学校。

(2) 有学者提出，一个国家的首都往往是最富有活力的地方，人类历史上许多创新发生于此。依据材料四，结合 17-19 世纪欧洲史，论证上述观点。(10分)

要求：选择一个国家的首都，从多角度进行论述，史论结合，论证充分。

**材料五** 右图为 1929-1932 年农村革命根据地分布示意图。1931 年 11 月至 1934 年 10 月，江西瑞金是中华苏维埃共和国临时中央政府所在地，《关于土地斗争中一些问题的决定》《为粉碎五次“围剿”紧急动员令》等文件在此发布。



(3) 简述中国共产党在瑞金地区的革命探索实践。(4分)

材料六 由于北京有 800 年建都史，依托东北地区的工业，背靠政权巩固的北方地区等诸多原因，中华人民共和国成立时，它是建都的首选城市。

时间	1949-1980 年	1980-20 世纪末
城市定位	全国政治、文化、经济中心，强大的工业基地和科学技术中心	全国政治、文化中心，国际交往中心，提出发展“首都经济”
补充材料	1957 年北京市工业总产值达 46 亿元，实现了由消费城市向生产城市的转变。北京市工业总产值 1980 年为 1952 年的 44 倍，北京成为北方最大的工业城市。	1980 年煤炭消耗量为 1952 年的 30 倍，钢材为 14 倍，水泥为 321 倍。1980 年工业用水量和城市生活用水量分别为 1952 年的 45 倍和 40 倍。
	《长江日报》社论：向北京看齐（1956 年 1 月 18 日） 北京社会主义改造的伟大胜利…… 我们已经在学习北京的经验……	首都经济的核心是以知识经济为方向，发展高新技术产业并用高新技术优化和提升第二产业，同时大力发展第三产业。

——整理自《北京：由传统国都到中国式世界城市》《北京经济发展与地理环境的研究》等

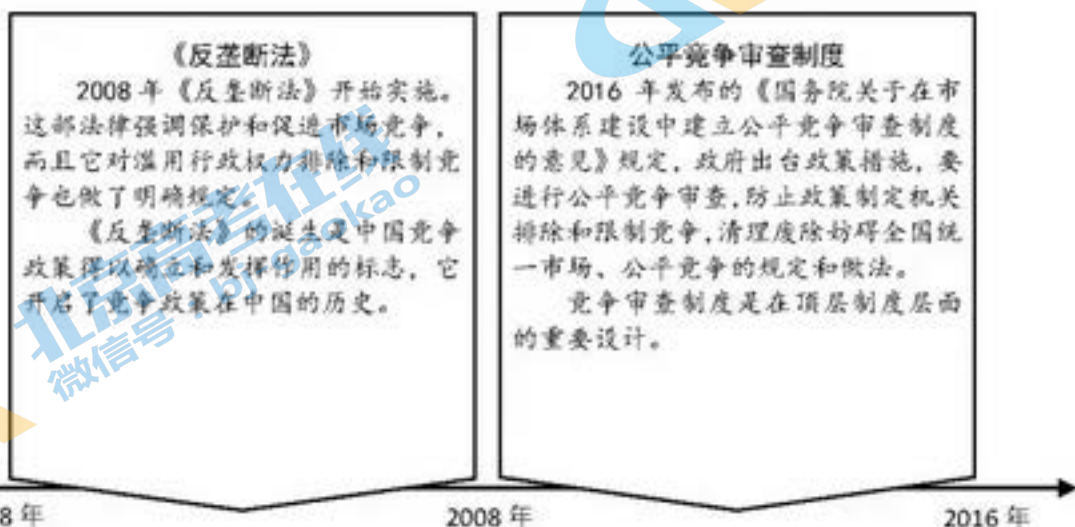
(4) ①概括 20 世纪后半期，北京城市定位的调整情况。(4 分)

②围绕“北京城市定位”，结合国内外形势，在延续和变化两方面各选一项定位进行解读。

要求：提取信息准确，解释完整，逻辑清晰。(10 分)

38. (32 分) 中国改革开放 40 多年是政府不断向市场让渡权力的过程。竞争政策是保护和促进市场竞争的政策总和。促进经济高质量发展，就要发挥竞争政策的基础性作用。

材料一



图? 中国竞争政策的发展历程

(1) 结合材料，从经济角度说明我国改革必须发挥竞争政策的作用。(12 分)

材料二 我国经济要走高质量发展之路，有些人认为这是政府的事，随之采取了大量提升企业产品质量的行政措施。后来发现效果并不明显，于是将问题归咎于市场失灵，进而采取了更多的行政措施，但效果依然不佳。

(2) 结合材料，说明市场竞争会让消费成为产品质量进步的驱动力。(8 分)



(3) 社会上凡有稀缺必有竞争，而竞争要有决定胜负的准则。请从哲学角度来谈谈“竞争”。(12分)

39. (12分) 某居民住宅小区建成十几年来，频繁更换了好几家物业管理公司（指从事商品房小区专业化管理的公司），最短的一次，物业公司只干了20多天就被业主们（指商品房的所有权人）炒掉了，还发生过业主持盾牌与老物业对峙事件。物业公司管不好，业主自己管不了，社区居委会工作力量有限。与此同时，现在的物业公司也有苦衷：小区体量大，有7000多户，人多事杂；业主交的物业费就这么多，还常常收不齐，很多事不是公司不想干，而是没有能力干。

居民甲：听说有的地方开展“社区有我”活动，号召大家从我做起，共建美好家园，搞得有声有色，还上了“春晚”。

居民乙：咱们社区的业主委员会和居委会自己管自己了，可没用呀！还是打“12345”政府服务热线，让政府管管吧！

居民丙：政府不能管社区吧。咱们社区居住的党员不会少。在职党员都要到自己住的社区党组织报到，参与志愿服务等活动。党员能出一份力吗？

从政治学角度，分析该社区走出市场失灵、自治失效困境的有效办法。(12分)

40. 人类制造业经历了若干发展阶段，中国制造业正面临转型。



(1) 上图《从1.0至4.0》反映了人类制造业的历程和未来趋势，填写序号代表的相关信息，结合史实，简要分析制造业和运输业的进步对世界市场的影响。(8分)

40、我国制造业正面临转型（史地）

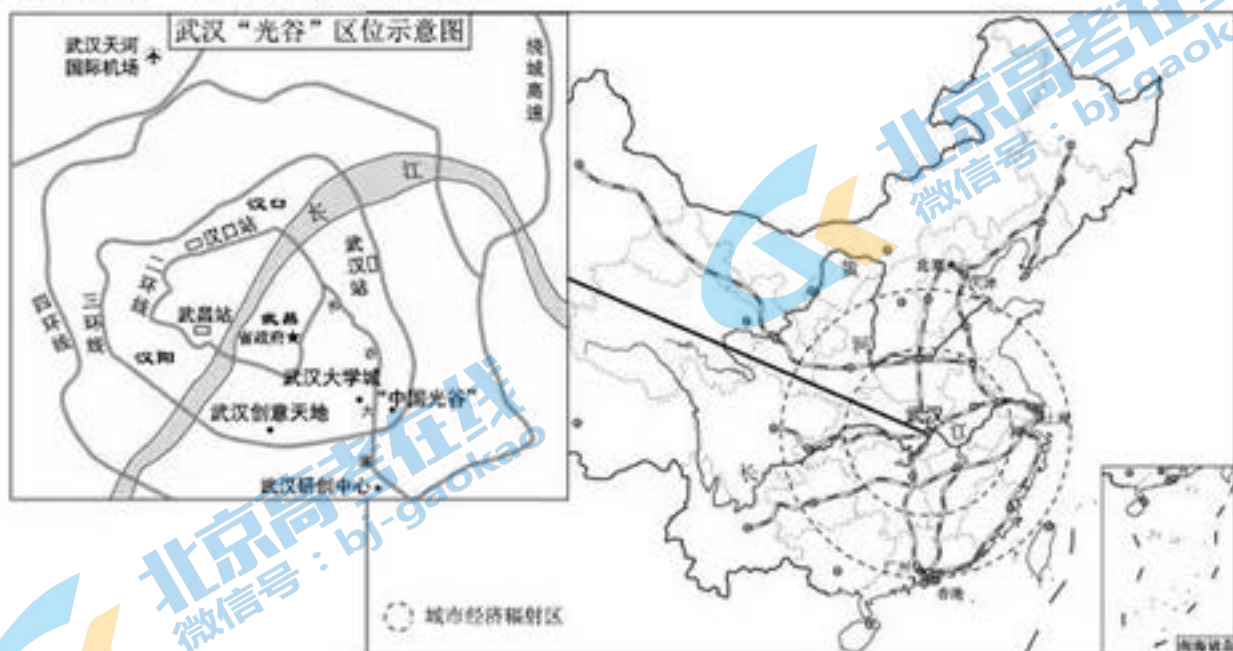


图 18

改革开放以来，中国电子及通信设备制造企业多集聚在东南沿海地区。2016-2018 年，以华为、小米为代表的多家知名电子及通信设备企业，陆续将其研发中心及生产环节迁至武汉，主要集中在武汉东湖新技术产业开发区（别称“中国光谷”）“十三五”期间，武汉将推进“互联网+先进制造业”，加快新一代信息技术与制造业、制造业与服务业深度融合。

(2) 读图 18，说明我国通信设备产业从沿海地区向武汉转移的主要原因。(10 分)

41. 世界文化遗产具有突出的文化价值，在全球范围内产生影响。

1901 年创刊的《国民报》，在第 1 期首次全文刊出《独立宣言》和“独立厅”的图片。

（独立厅）为美人脱英自立起点之地……美人今日拥国民之公权，食自由之幸福……（当时北美人民）万死一生，以争此国民之权利也……（今日中国）独受人羁轭（意为控制）如美昔日之国……四百余州，四万万人……岂竟无一华盛顿其人者耶？

——摘编自《国民报》第 1 期《独立厅图记》

(1) 结合《独立宣言》的内容，解释《国民报》刊登宣言、介绍独立厅之用意。(8 分)





41、世界文化遗产（文综）

世界文化遗产吴哥窟所在的吴哥古城拥有 400 平方千米的引水和排水沟渠、大量的池塘或蓄水池，并能通过工程控制水流分配到田野，是当时世界最先进的水利系统。如今，当地居民和游客用水需求不断增长，而古城及其水利系统却面临塌陷，亟待修复。



图 20

(2) 结合吴哥古城的地理环境特征，说明古城水利系统的作用和修复意义。(10 分)

41. 世界文化遗产具有突出的文化价值，在全球范围内产生影响。

(给地理学科) 世界文化遗产吴哥古迹曾遭受自然和社会的破坏。

在柬埔寨王国政府和联合国教科文组织的努力下，一项跨国遗产保护行动正在柬埔寨持续开展，中国等 30 多个国家和国际组织参与其中。

从 20 世纪 90 年代开始，中国文物修复团队向柬埔寨无偿提供援助，并向当地同行传授相关理念和技术，双方人员结下了真挚友谊。文物修复项目在当地雇工、采购原材料，带动旅游业发展，拓宽了民生发展渠道。基于信任，柬埔寨政府又将吴哥古迹最核心的部分——王宫遗址交给中国团队修复。



图 X 中国“文物医生”在吴哥

(3) “在如今这个相互交融的世界，文化无疑拥有改变社会的力量。”结合材料，说明你对这一观点的认识。(8 分)

# 地理参考答案及评分标准 2019.4

## 一、选择题（共 44 分）

题号	1	2	3	4	5	6	7	8	9	10	11
答案	D	D	B	D	C	D	A	C	C	B	C

## 非选择题(共 56 分)

36. (36 分)

(1)(12 分)

分布在环渤海地区，主要在河北省东南部（河北省面积最大），及天津市、辽宁省南部和山东省北部沿海（或海河流域、辽河下游和黄河三角洲/华北平原东北部、辽河平原南部）(6 分)

滨海地区地势低平易积水；春季降水少，气温回升快，蒸发旺盛；有海水倒灌。(6 分)

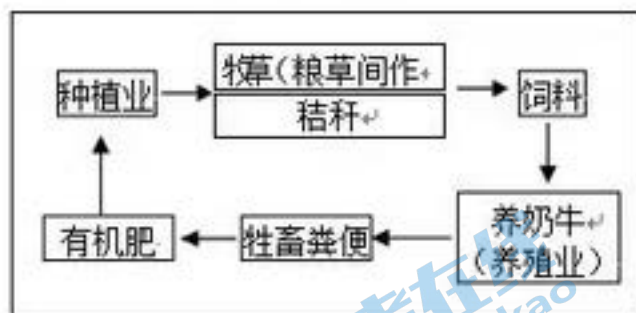
(2)(8 分)

雨养旱作：利用雨热同期，降水集中的气候条件。微咸水补灌：利用地下微咸水丰富。

棉改增粮：利用较充足的热量（可两年三熟）；或改造盐碱地。

增温改土：改造低温（热量不足）条件、改良土壤肥力；利用较充足的水分条件（有灌溉水源）

(3)(8 分)（答出至少六个环节，逻辑表达正确，即可得分）例：



(4)(8 分)

改善区域交通条件；拉近区域间的时空距离（节约时间，促进地区间联系）；促进乡村城镇化；带动相关产业（如旅游业、房地产开发）；增加就业。

40. (10 分)

武汉是我国中部的交通枢纽，地理位置优越、交通便利；比沿海地区更便于开拓国内市场；地价、工资水平较低，降低了生产成本；“光谷”依托大学城，科技力量雄厚（人才众多）；配套设施较完善，具集聚效应；政策吸引。

官方微信公众号：bj-gaokao

官方网站：www.gaokzx.com

咨询热线：010-5751 5980

微信客服：gaokzx2018



41. (10 分)

全年降水量大，分旱雨两季（降水季节变化大）；濒临河、湖，易发洪水；泛滥平原是水稻种植区。蓄水、抗旱、排洪、灌溉。（8 分）

政治 2019.4

第一部分共 35 小题，每小题 4 分，共 140 分。

24.A 25.B 26.D 27.B 28.A 29.C 30.D 31.C 32.B 33.A 34.D 35.D

第二部分共 5 大题，共 160 分。

38. (32分)

(1) 只有有效竞争，价格才能随供求变化而波动，市场在价值规律基础上，发挥提升经济运行效率、激发企业活力、增进民众福利的作用。实施竞争政策能营造公平、开放、有序的市场环境，保障市场在资源配置中起决定性作用，促进经济发展。完善社会主义市场经济体制要确立竞争政策的基础性地位，政府管理方式要向维护公平竞争的市场秩序转型。（12分）

（其他合理回答可酌情给分）

(2) 质量是市场竞争、消费者选择的结果，不是政府选择和培育的结果。企业盈利的重要条件是满足消费者需求。无数消费者在市场上比较和选择，能有效筛选优质产品和劣质产品。竞争促使企业优胜劣汰、改善生产经营管理，消费对生产有导向作用，所以，竞争是让消费成为产品质量进步的动力。（8分）

(3) 本题可选择以下角度作答：系统优化、联系、实践、按客观经济规律办事、探索真理的认识过程、价值及其判断和选择、推动事物发展的矛盾动力、社会存在和社会意识的关系等。（12分）

等级水平	等级描述
水平 4	观点鲜明，能辩证分析问题，显示出独立思考与批判的精神；紧扣问题，就问题的某一点深入分析，或全面展开论述；知识运用恰当、准确；逻辑严密，条理清晰
水平 3	观点比较明确，能表达自己的见解；能扣住问题全面展开论述，或就问题的某点进行分析；知识运用比较恰当、准确；逻辑性较强，有条理
水平 2	观点不明确；论述不能集中指向问题，罗列知识；知识运用不正确；表述缺乏逻辑，条理性差
水平 1	应答与试题无关；或重复试题内容；或没有应答

39. (12 分)

坚持党对一切工作的领导。在上级党委指导下，社区党组织和物业公司党组织回应群众关切，发挥基层党组织作用。党员发挥先锋模范作用，带动居民自治。居民、居委会、业委会和物业公司等各利益相关方民主协商，建立共建共治共享机制，完善社区治理，重构社区关系。

（如答“政府补齐公共服务供给短板”“建立党代会代表、人大代表、政协委员联系社区制度”等可酌情给分）

41. (26 分)

(3) 本题可选择以下角度作答：（8分）

①政治角度：构建人类命运共同体、联合国、国际合作、国家间共同利益、中国外交政策、承担大国责任等。

- ②文化角度：世界文化遗产保护和知识传播、文化多样性保护、文化与政治经济相交融、文化对社会的影响、文化对人的影响、（国际理解）教育的作用等。  
③哲学角度：价值观导向、认识指导实践、观念对社会发展的促进、联系构成发展等。

等级水平	等级描述
水平 4	观点鲜明，能明确表达自己的见解；紧扣问题，就问题全面展开论述，或就问题的某点深入分析；知识运用恰当、准确；逻辑严密，条理清晰
水平 3	观点比较明确，能表达自己的见解；能扣住问题全面展开论述，或能就问题的某点进行分析；知识运用比较恰当、准确；逻辑性较强，有条理
水平 2	观点不明确；论述不能集中指向问题，罗列知识；知识运用不正确；表述缺乏逻辑，条理性差
水平 1	应答与试题无关；或重复试题内容；或没有应答

## 历史

2019. 4

12	13	14	15	16	17	18	19	20	21	22	23
D	B	A	C	D	B	D	A	B	C	B	C

37.

(1)措施：尊崇儒家文化，继承汉族礼制；迁都洛阳；遵从《周礼》营建洛阳城；移风易俗等。（4分）

特点：交融；以汉族文化为主体；继承和发展。（4分）

(2)评分标准：（10分）

水平	等级描述
水平 3	能够从 3 个角度，运用 3 个史实进行论述，史论结合，论证充分。
水平 2	能够从 2 个角度，运用 2-4 个史实进行论述，史论结合，论证较充分。
水平 1	只能从 1 个角度，运用 1-2 个史实进行论述，史论结合，论证较充分。

(3)1931 年，召开中华苏维埃第一次全国代表大会，成立中华苏维埃共和国，通过《中华苏维埃共和国宪法大纲》；实践“工农武装割据”理论，开展土地革命，打退敌人的“围剿”，巩固了农村革命根据地。（4分）

(4)①坚持政治、文化中心不变（2分，或答科技中心不变）；新增国际交往中心；（1分）不再作为全国经济中心，转为发展首都经济。（1分）

②评分标准：（10分）

水平	等级描述
水平 3	能够从两方面进行解读，分析原因能够联系背景，取得的成就表述全面，认识提升到位。
水平 2	能够从两方面进行解读，分析原因能够联系背景，或取得的成就表述全面，认识提升到位。
	只能从其中一方面进行解读，分析原因能够联系背景，且论述相关定位的影响较准确，有认识提升。
水平 1	只能从其中一方面进行解读，或仅列出相关史实。

40.

(1)①蒸汽动力；②电力；③信息技术；（3分）

影响：蒸汽驱动的机械取代手工劳动，火车、轮船等运输业的进步推动资本主义世界市场基本形成；电力驱动，大批量自动化生产的出现，汽车和飞机等交通工具的发明，推动资本主义世界市场完全形成；以信息技术为核心的第三次工业革命推动经济全球化迅速发展，世界市场联系日益紧密。（5分）



41.

(1)《独立宣言》阐明了天赋人权、自由、独立、平等的思想；意在挽救中国严重的民族危机；呼吁中国人行动起来，争取民族独立；希望中国能够推翻封建专制，建立自由、民主之制度。(8分)

修复利于考古研究、文物保护、旅游业发展及满足当地居民和游客用水需求。(任答两点，2分)

