

秘密 ★ 启用前 【考试时间：2023 年 11 月 1 日上午 9:00—11:30】

绵阳市高中 2021 级第一次诊断性考试

文科综合能力测试

注意事项:

1. 答卷前, 考生务必将自己的班级、姓名、考号填写在答题卡上。
2. 回答选择题时, 选出每小题答案后, 用铅笔把答题卡上对应题目的答案标号涂黑。如需改动, 用橡皮擦干净后, 再选涂其它答案标号。回答非选择题时, 将答案写在答题卡上。写在本试卷上无效。
3. 考试结束后, 将答题卡交回。

一、选择题: 本卷共 35 个小题, 每小题 4 分, 共 140 分。在每小题给出的四个选项中, 只有一项是符合题目要求的。

中国拥有广阔的海域空间和悠久的开发历史, 很早就按照方位、水文特征、周边地理事物等对海域空间进行了命名。战国时期就有“九州—四海”学说, 但“海”的空间指代较为模糊。宋代开始, 海洋实践和海洋知识使“海洋”指代逐渐清晰。据此完成 1~3 题。

1. 战国时期的“九州—四海”学说中的“四海”意指
 - A. 中国大陆濒临的四大海
 - B. “九州”以外的地域空间概念
 - C. 环绕七大洲的四大洋
 - D. 存在于“九州”内的四大湖泊
2. 下列海域得名于周边岛礁、沙洲的是
 - A. 东海
 - B. 分水洋
 - C. 黄海
 - D. 伶仃洋
3. 我国先民对黄海、东海、伶仃洋等众多海域命名, 主要是为了
 - A. 航行定位定向
 - B. 掌握海水运动
 - C. 了解海水性质
 - D. 区别海洋物产

图 1 示意世界某区域白天不同等压面下大气温度从近地面到高空的四季分布。该区域 200hpa 气压面上空气温度昼夜差异不大。读图完成 4~6 题。

4. 该区域最可能是
 - A. 巴西高原
 - B. 蒙古高原
 - C. 青藏高原
 - D. 东非高原
5. 图中①②③④四条曲线, 代表夏季气温的是
 - A. ①
 - B. ②
 - C. ③
 - D. ④
6. 该区域 200hpa 气压面白天温度和夜晚气温差异不大, 主要因为该气压面
 - A. 气温低, 保温作用弱
 - B. 大气辐射散失较慢
 - C. 气温低, 大气逆辐射弱
 - D. 受地面辐射影响弱

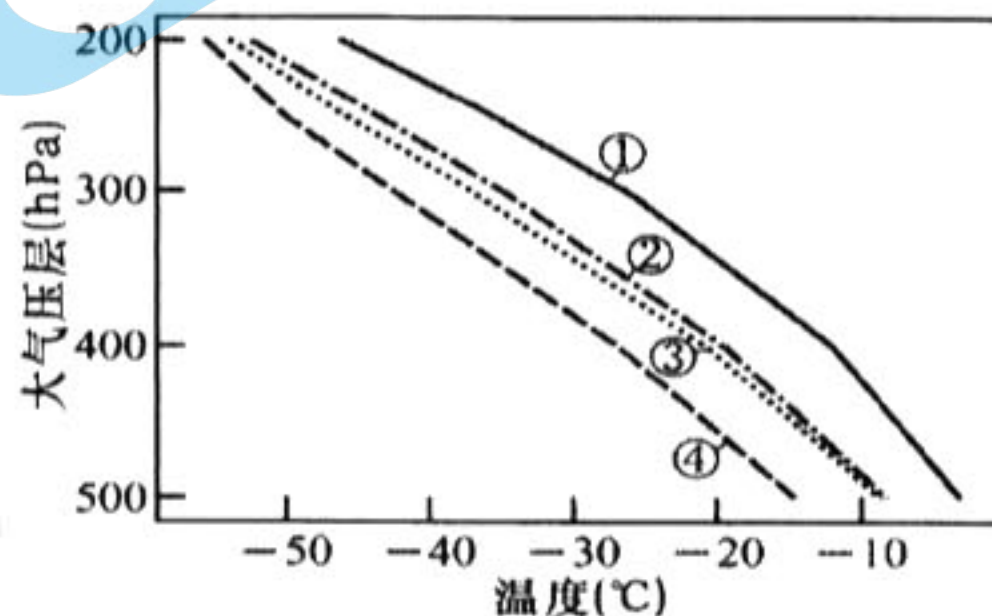


图 1

图 2 示意祁连山东段某地地质剖面，距今 4.5 亿年的中奥陶统地层逆冲上覆在距今约 2 千万年的新近系地层上。据此完成 7~9 题。

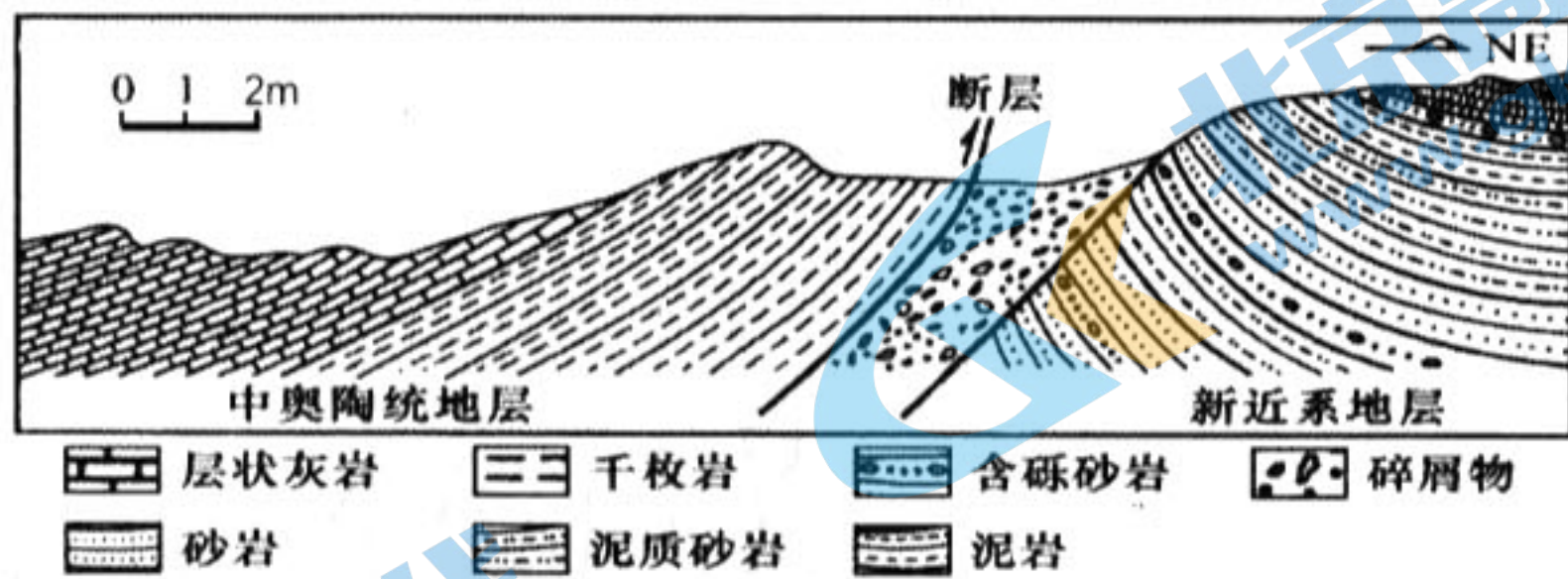


图 2

7. 断层东北侧的构造地貌是

- A. 背斜山
- B. 断块山
- C. 向斜山
- D. 死火山

8. 剖面显示区域地质事件发生的先后顺序为

- A. 岩层褶皱→断层作用→地层沉积
- B. 断层作用→岩层褶皱→地层沉积
- C. 地层沉积→断层作用→岩层褶皱
- D. 地层沉积→岩层褶皱→断层作用

9. 图中最晚形成的是

- A. 层状灰岩
- B. 碎屑物带
- C. 泥质砂岩
- D. 砂岩

地质历史时期若尔盖盆地曾经是一个内流湖，后转化为外流湖。欧拉—柯生河段所处区域曾是分水岭，古黄河源头位于分水岭西北侧，欧拉—玛曲河段自西北向东南流入古湖泊。图 3 为若尔盖盆地剖面沉积与地貌情况。据此完成 10~11 题。

10. 若尔盖由内流湖变为外流湖主要是因为

- A. 盆地河流溯源侵蚀
- B. 四周下沉湖盆抬升
- C. 河流堆积抬高湖盆
- D. 冰川的大规模侵蚀

11. 根据沉积物可知该区域的地势整体为

- A. 西北高，东南低
- B. 北高南低
- C. 南高北低
- D. 东北高，西南低

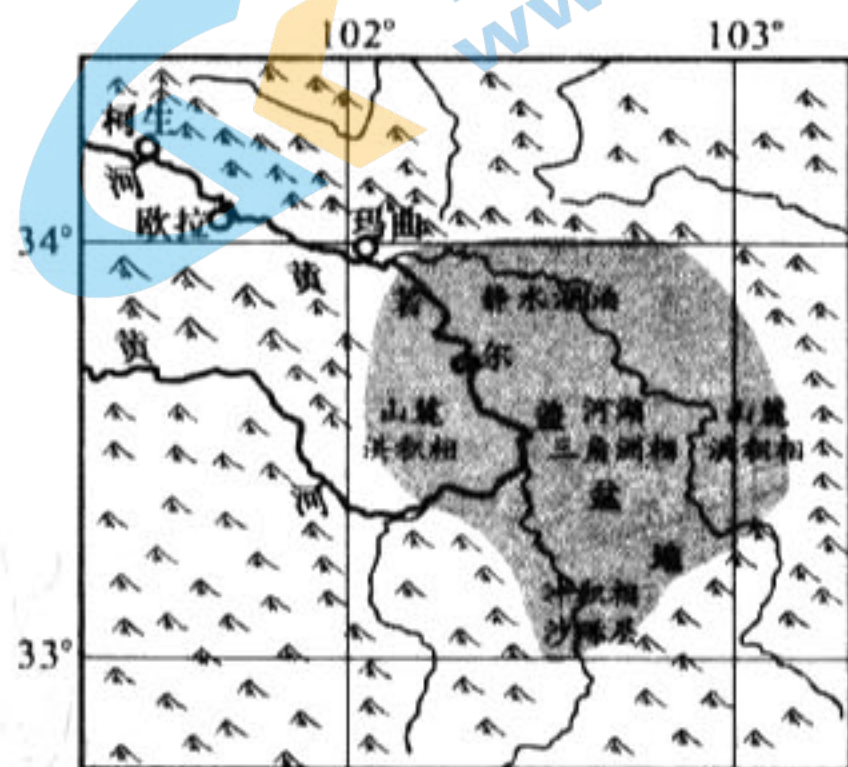


图 3

12. 经过多年发展，我国新能源汽车行业研发设计、生产制造劳动生产率不断提高，截至 2023 年 6 月，我国新能源汽车产销量均创历史新高，我国新能源汽车行业迈入规模化、全球化的高质量发展新阶段。不考虑其他因素，下列图 4 能正确反映我国新能源汽

车市场变化的是

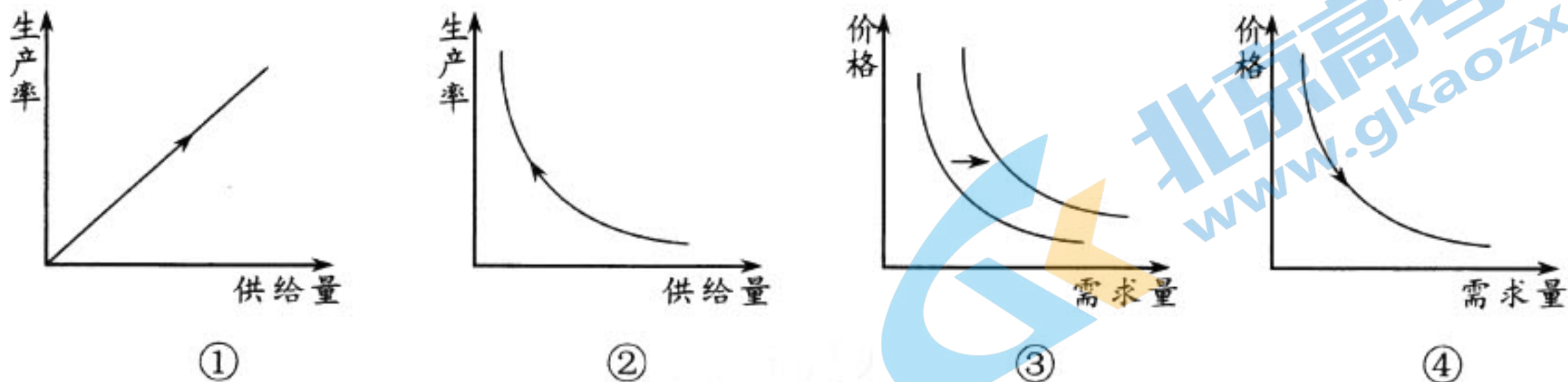


图 4

- A. ①③ B. ①④ C. ②③ D. ②④

13. 当前，反向消费作为一种新的消费趋势在年轻人中流行起来。年轻人不再像以往一样追求奢侈品和高端享受，相反，他们更注重节俭、环保和可持续性消费，更倾向于购买二手货、共享产品等。这表明

- ①年轻人的消费行为越来越理性
②社会的整体消费需求受到了抑制
③年轻人的社会责任意识不断增强
④求实消费已经成为年轻人的共识

- A. ①③ B. ①④ C. ②③ D. ②④

14. 2023年9月，党中央、国务院印发的《深化集体林权制度改革方案》提出，积极稳妥推进集体林权制度改革，确保集体林地承包关系长期稳定，放活林地经营权、保障林木所有权。依法保护农民和林业经营者的集体林权益，不断完善生态产品价值实现机制和生态补偿制度。这有利于

- ①明晰林地产权关系，发展林业适度规模经营
②提高农民经营林地的积极性，增加林地面积
③完善农村基本经营制度，拓宽农民增收渠道
④保障农民林地所有权，增加农民财产性收入

- A. ①② B. ①③ C. ②④ D. ③④

15. 2023年8月，国家有关部门联合发布《关于降低存量首套住房贷款利率有关事项的通知》，此次调整预计将存量首套住房贷款利率平均降0.8个百分点，涉及的客户超过4000万，涉及调整的贷款规模达25万亿元。下列关于降低存量首套住房贷款利率带来的影响推导正确的是

- ①实行积极财政政策→增强市场货币流动性→刺激市场需求
②降低居民的利息负担→增强居民消费能力→拉动经济增长
③减少银行利息收入→降低银行贷款意愿→抑制房地产投机行为
④减少提前还贷→减轻对银行利息收入影响→缓解银行经营压力

- A. ①③ B. ①④ C. ②③ D. ②④

16. 个税递延型养老保险是一种个人投保可享受一定个税优惠政策的商业养老保险，保费可在税前列支，并在养老金积累阶段免税，领取养老金时再行缴税。开展个税递延型养老保险能够

- ①满足个性化养老需求，提高居民养老水平

- ②减免居民个税，鼓励居民购买养老保险
- ③拓宽养老途径，构建多层次社会保障制度
- ④提高个人养老积极性，完善养老保障体系

A. ①③ B. ①④ C. ②③ D. ②④

17. 2023年9月7日，习近平总书记在新时代推动东北全面振兴座谈会上强调，积极培育新能源、新材料、先进制造、电子信息等战略性新兴产业，积极培育未来产业，加快形成新质生产力，增强发展新动能。下列关于培育新质生产力的说法正确的是

- ①新质生产力的形成依靠于生产要素的叠加
- ②科技创新在形成新质生产力中起重要作用
- ③形成新质生产力的关键在培育发展新产业
- ④经济的发展只能依赖于新质生产力的形成

A. ①③ B. ①④ C. ②③ D. ②④

18. 今年以来，世界经济复苏总体乏力，全球贸易低迷。2023年前7个月，我国进出口总额同比增长0.4%，出口占全球出口市场的份额总体稳定。我国对其他金砖国家进出口2.38万亿元，同比增长19.1%，其中，锂电池、电动载人汽车出口成倍增长，增速分别为129.5%和601.3%。据此可以判断我国

- ①对外贸易总额稳中有增，外贸的韧性持续不断显现
- ②不断深化金砖国家间务实合作，国际收支渐趋平衡
- ③大力发展高新技术产业，使我国出口结构不断优化
- ④创新对外投资的方式，逐步形成了出口竞争新优势

A. ①③ B. ①④ C. ②③ D. ②④

19. 习近平总书记强调，推进强国建设、民族复兴伟业，妇女是重要力量，儿童是未来生力军。党的十八大以来，党对妇女儿童工作的领导全面加强，妇女儿童权益保障法治体系不断健全，妇女儿童发展环境持续优化，中国特色社会主义妇女儿童发展道路越走越宽。这表明

- ①我国不断提高妇女儿童的政治地位
- ②我国公民均享有同样的权利和义务
- ③社会主义的民主是最广泛和最真实的民主
- ④党的领导是妇女儿童工作取得成效的保障

A. ①② B. ①④ C. ②③ D. ③④

20. 针对公证事项办理存在“难、繁、慢”问题，司法部发布《关于进一步做好公证证明材料清单管理工作的指导意见》，通过梳理共规范33类81项公证事项，删减非必要证明材料116项，减轻了群众证明负担。这表明

- ①司法部坚持从群众中来到群众中去的工作作风
- ②司法部致力于提升公证事项办理的便民利民水平
- ③政府深化“放管服”改革解决群众急难愁盼问题
- ④司法机关优化办理公证业务事项以切实提高工作质量

A. ①③ B. ①④ C. ②③ D. ②④

21. 今年以来，不少地方组织党员干部对新业态进行体验式调研，穿上外卖服，戴上黄头

盔，骑上电动车，全程体验外卖配送员送餐工作，倾听他们在个人发展、权益保障等方面遇到的难题，切实推动问题解决、提升调研成效。党员干部体验式调研旨在

- ①更好地倾听群众呼声，厚植党的执政基础
- ②坚持求真务实，解决人民群众的“真问题”
- ③锻炼党员干部队伍，优化党员干部队伍结构
- ④改进调研方式，保证决策的科学性和民主性

A. ①② B. ①③ C. ②④ D. ③④

22. 安全生产法是安全生产依法治理最重要的依据。9月12日至14日，全国人大常委会执法检查组在甘肃检查安全生产法实施情况，听取甘肃省贯彻实施安全生产法的情况汇报，并督促有关方面进一步推动法律全面有效实施。这表明全国人大常委会

- ①通过行使质询权，督促地方政府依法行政
- ②压实安全生产责任，为安全生产保驾护航
- ③坚持民主集中制，正确处理中央与地方关系
- ④通过履行民主监督职能，完善行政监督体系

A. ①③ B. ①④ C. ②③ D. ②④

23. 新疆是我国边境省区口岸最多的省份。共建“一带一路”倡议提出以来，新疆从内陆腹地走向开放前沿，着力打造“口岸经济带”。2023年上半年，新疆外贸进出口总值达1496.2亿元人民币，同比增长65.2%，增速位居全国第一。进入新时代，新疆外贸取得的成就主要得益于

- ①新疆地区良好的自然条件和区位优势
- ②党的富民兴疆、长期建疆等治疆方略
- ③自治区党和政府机关充分行使自治权
- ④自治区抓住机遇制定正确的发展政策

A. ①③ B. ①④ C. ②③ D. ②④

24. 司徒是西周时期周王室和诸侯国掌管民众并兼管军队、土地、赋税的官员。春秋时期，司徒的地位逐渐上升。战国时期，司徒的职权逐渐弱化，地位也渐趋下降。司徒地位的沉浮，反映出当时

- A. 贵族政治的消亡
- B. 社会变革的潮流
- C. 经济发展的停滞
- D. 君主集权的反复

25. 汉至晋初的文章，倾向于将多种实用文体写成小短文，一般仅长数十字或百余字，文字简约。东晋南朝以来，文士将注意力倾注到布局谋篇，长文逐渐增多。这一变化得益于

- A. 书写载体的变化
- B. 门阀士族的推动
- C. 世俗文学的繁荣
- D. 选官制度的变革

26. 宋朝强化了父母给女儿准备嫁妆的义务，以及女儿嫁到夫家后依然有支配嫁妆的权利。如果妻子和丈夫离婚，可以取回嫁妆。这折射出宋朝

- A. 市民兴起瓦解传统伦理
- B. 经济发展影响传统观念
- C. 尊富尚利意识蔚然成风
- D. 女性社会地位空前提高

27. 明清时期一个有趣的语言现象是，较后开发交通不便的西南山区及其延展地带，发展出了共通的西南官话；而开发较早、交通便捷的东南地区，却并未形成广泛共通的方言。

能够解释这种差异的主要因素是

- A. 文化整合程度
- B. 经济发展水平
- C. 移民流入数量
- D. 自然条件制约

28. 康熙五十五年（1716），康熙帝在谈到海防时曾说，“天下事未有不由小而至大。小者犹不可忽，大者益宜留心……即如海防，乃今日之要务，朕时加访问”，预言：“通海口子甚多，此时无碍，若干百年后，中国必受其害矣”。这表明康熙帝

- A. 初具近代海权意识
- B. 认识到学习西方文化的迫切性
- C. 深入了解西方文化
- D. 感受到西方殖民者东来的压力

29. 近代中国钢铁进口量、值统计表

年代	重量（吨）	价值（海关两）
1876	19650	749269
1877	27971	906235
1878	32715	958629
1879	49008	1380569
1880	52233	1546065

据此推知，当时中国

- A. 民间设厂高潮出现
- B. 列强加剧资本输出
- C. 致力调整工业结构
- D. 国防实力有所提升

30. 1899年和1900年，美国曾两次发布“门户开放”宣言，提倡要维护中国的领土与行政实体。但也正是在庚子事变时，美国努力想要重新获得天津美租界，建立鼓浪屿公共租界，并在中国占领一个海军基地。这反映出

- A. 列强瓜分中国的狂热性
- B. 形成了列强宰割中国的同盟
- C. 美国对华政策的两面性
- D. 美国对外政策逐渐走向成熟

31. 张之洞认为：“国之智者，势虽弱，敌不能灭其国；民之智者，国虽危，人不能残其种”；康有为提出：“以国民之愚，而人才之乏也，非别制造新国之才，不足以救国”。据此可知，他们都认同

- A. 变法维新，救亡图存
- B. 学习西方，改革教育
- C. 教育救国，振兴中华
- D. 中体西用，隆兴国运

32. 在古希腊学校，体操意在使学生有强壮的体格，以适应未来劳动和作战的需要；诗歌承载着希腊人的文化理想，传达着关于城邦、道德、友谊、爱情和生活的观念。这反映出古希腊教育

- A. 推动希腊人文精神的产生
- B. 奠定了民主政治的基础
- C. 强化了公民对城邦的认同
- D. 激发了公民参政积极性

33. 1619年，英国国王授予温·布德殖民地烟草采购专利权。同年宣布，国王将烟草的采购和运输权集中到有能管理烟草的专利者手中，其他任何人不得以任何形式购进烟草，若有违者，一经发现，将没收之。此举旨在

- A. 积累资本发展产业革命
- B. 重商富国争夺霸权
- C. 控制私有经济强化王权
- D. 规范商业竞争秩序

34. 图 5 为 1878 年英国讽刺漫画。图中文字为“农业——真正的‘不受保护的女性’”。该漫画旨在强调。



图 5

- A. 政府不重视农业技术改造
 - B. 自由贸易政策影响农业发展
 - C. 农业落后影响了经济发展
 - D. 国民经济比例有失衡的风险
35. 19 世纪后期，西方某学者指出：应对亚洲文明在艺术和科学的贡献心存感激。如今西方大步发展，亚洲却衰落了，而帮助亚洲的方式就是“研究”他们的文化历史，“以期通过他们可以接受的方式复兴他们的文化”。这可以用来说明
- A. 工业发展推动文化输出
 - B. 亚洲古典文明优于欧洲
 - C. 列强希望复兴亚洲文化
 - D. 殖民侵略方式的隐蔽性

二、非选择题：本卷包括必考题和选考题两部分，共 160 分。第 36~42 题为必考题，每个试题考生都必须作答。第 43~46 题为选考题，考生根据要求作答。

(一) 必考题：135 分

36. 阅读图文材料，完成下列要求。(22 分)

监测显示，南疆 2022 年 5 月上旬大部山区积雪较历年同期偏多，8 月平均降水量较常年同期偏多 105%，夏季平均高温日数较常年偏多 7.6 天。10 月塔里木河流域尉犁县河段出现“沙漠湖泊”景观(图 6)。距平是某一系列数值中的某一个数值与平均值的差，分正距平和负距平。图 7 为 1960 年以来我国气温距平折线图和西北地区降水距平柱状图。

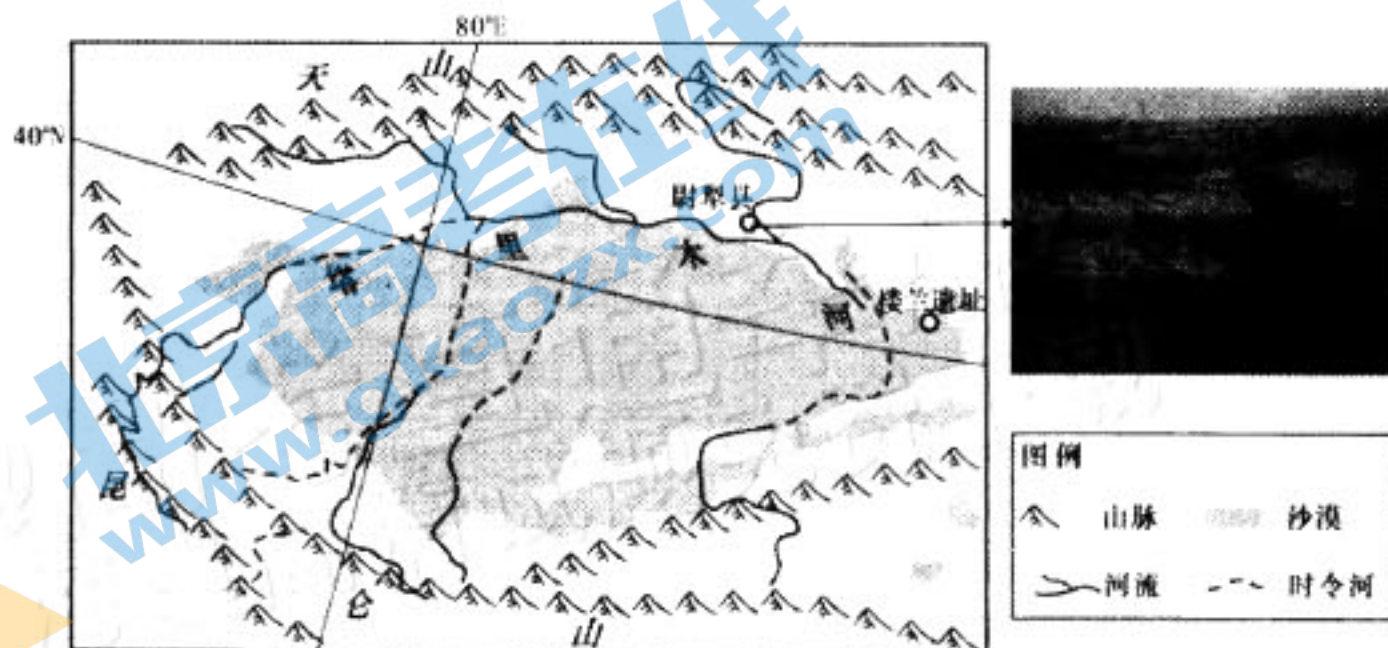


图 6

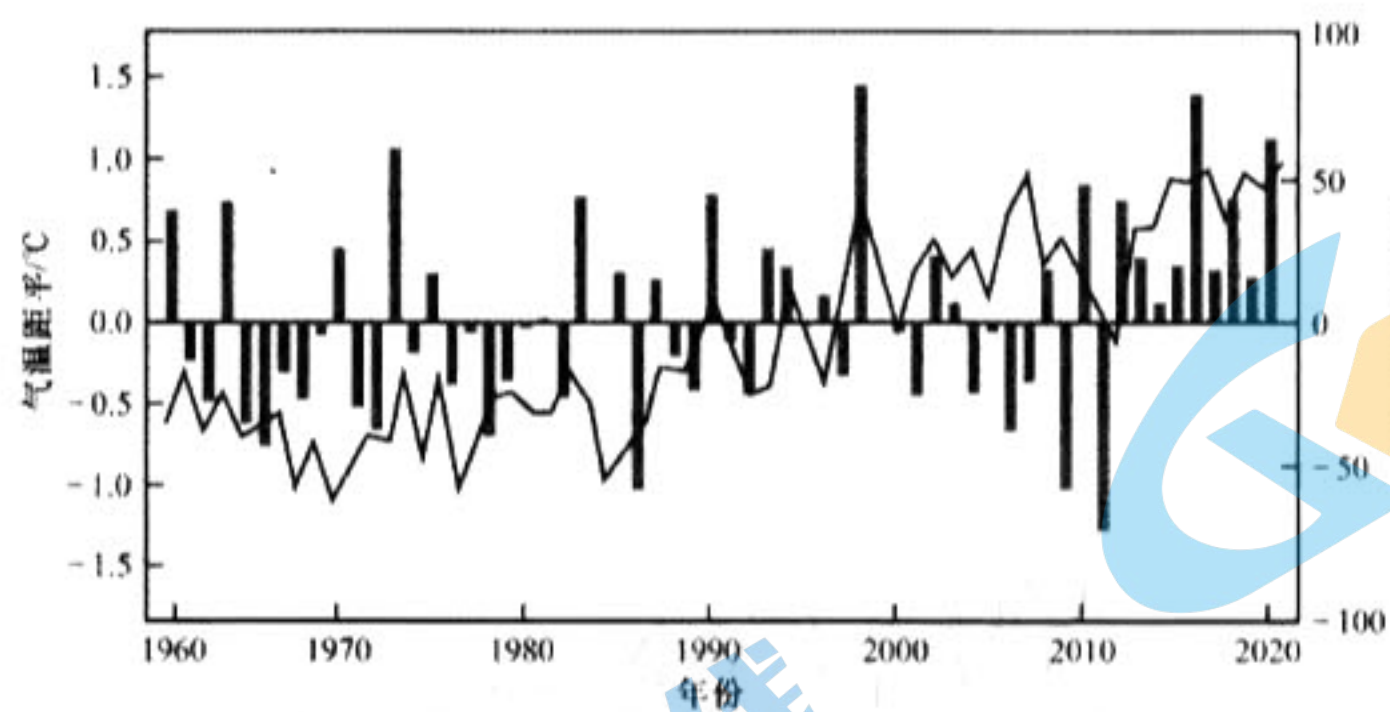


图 7

- (1) 分析尉犁县河段“沙漠湖泊”景观是如何形成的。(8分)
- (2) 说明这些“沙漠湖泊”很难成为真正湖泊的原因。(6分)
- (3) 有观点指出“沙漠湖泊”的出现或将是“楼兰绿洲”恢复前兆。试从水气系统角度反驳该观点。(8分)

37. 阅读图文材料，完成下列要求。(24分)

黄土高原生态环境脆弱，新中国成立后国家实施生态建设，植被覆盖度由1999年的31.6%提高到2017年的65%，发挥了消洪抗旱减灾的作用。在气候变化和生态建设共同影响下，黄河中游水循环和水文—泥沙—植被演变过程，呈现显著的时空变化(图8)。

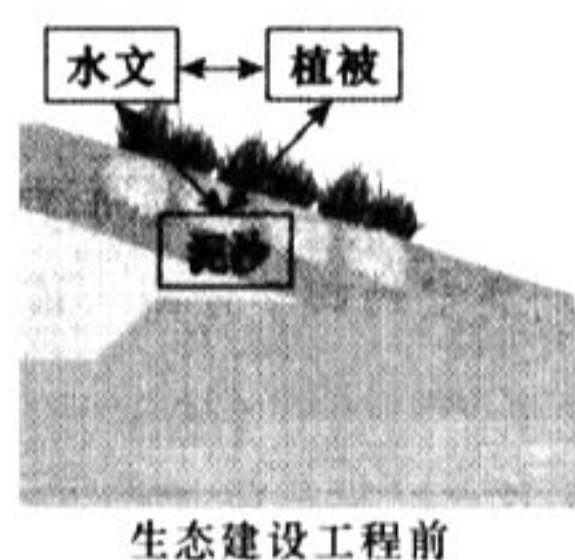


图 8a



图 8b



图 8c

- (1) 据图 8a 和图 8b，说出区域生态建设主要采取的措施。(4分)
- (2) 数据显示黄土高原生态建设后其土壤含水量减少，从水循环角度分析。(6分)
- (3) 结合图 8b，分析生态建设对消洪抗旱减灾的作用。(6分)
- (4) 若生态建设长期疏于维护，将出现图 8c 所示现状。利用自然环境整体性原理探讨该状态下区域各自然要素的演变。(8分)

38. 阅读材料，完成下列要求。（14分）

材料一

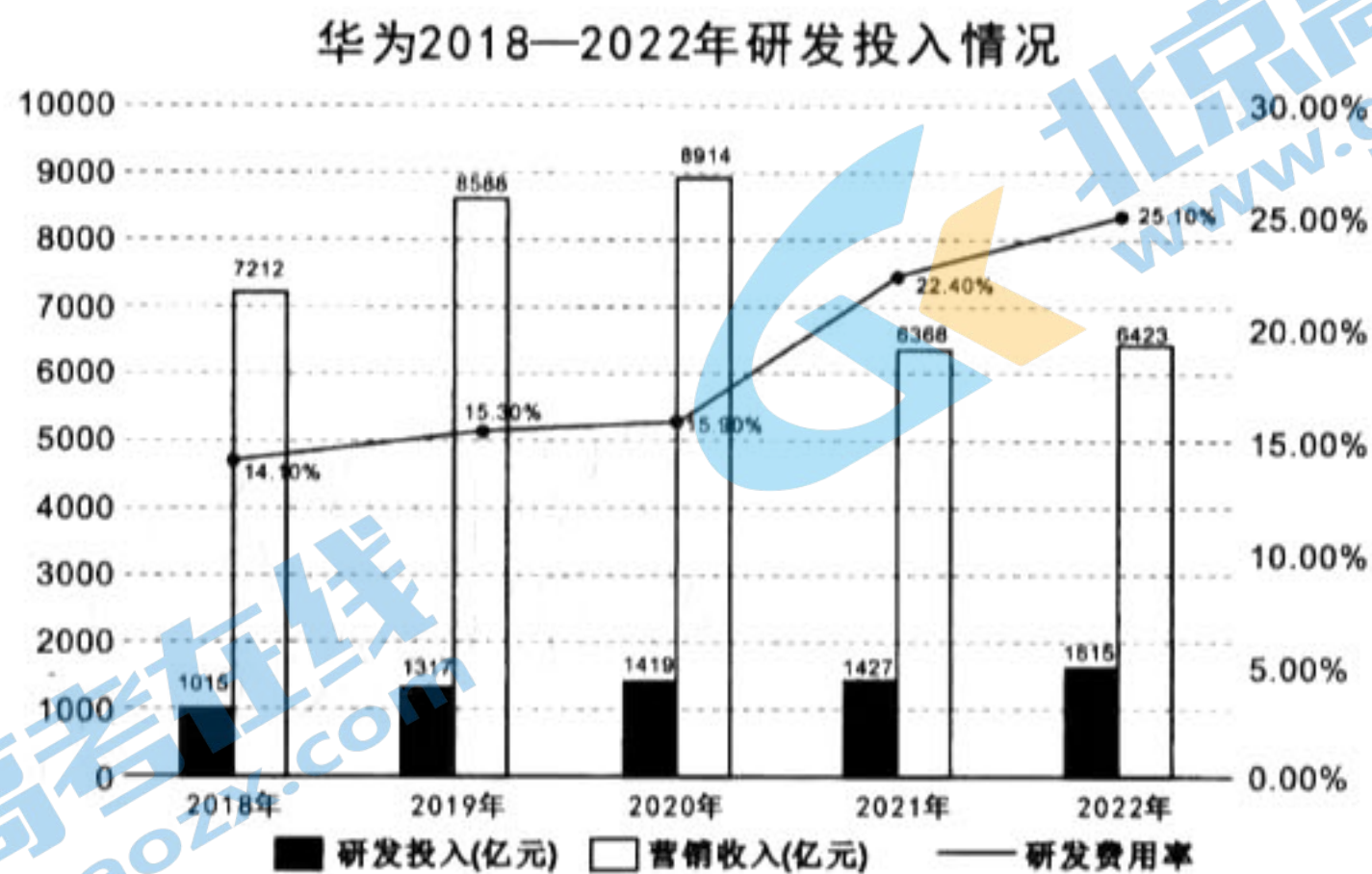


图9

注：1. 研发费用率为研发投入占营销收入的比重。

2. 华为在2023年上半年实现销售收入3109亿元人民币，较去年同期增长3.1%，净利润率为15.0%，同比提升10个百分点。

材料二 近年来，华为公司在电信设备和信息技术领域不断创新发展，打破了西方国家长期的技术封锁，成为了全球领先的科技公司之一。

在面对外部压力的情况下，该公司聚焦关键技术的自主创新，不断加大研发投入，推动技术突破，逐步摆脱对西方产业链供应链的依赖。2023年9月该公司发布了新款手机，标志着5G芯片取得了突破，新款手机发布引起海内外轰动，首批预售上线后“秒光”。供货的上下游几十上百家，甚至于更多的企业都处于全力运转的状态，预计将创造1000万个就业岗位。该企业在不断提升自身竞争力的同时，为我国产业链和经济发展做出了巨大贡献。

(1) 解读材料一反映的经济信息。（4分）

(2) 结合材料二并运用经济知识，分析说明核心技术的突破对促进国内经济高质量发展的作用。（10分）

39. 阅读材料，完成下列要求。（12分）

长期以来，民营经济在稳定增长、促进创新、增加就业等方面发挥了积极作用，但近年来，民营经济发展环境发生了一些变化，不少民营企业发展面临问题和困难。

2023年，我国政府促进民营经济的政策举措频出，进一步激发了民营经济的活力。2023年7月中共中央、国务院出台了关于促进民营经济发展壮大的意见。为深入贯彻落实这一重大决策部署，国务院办公厅开通“互联网+督查”平台，公开向社会征集阻碍民营经济发展壮大的问题线索和意见建议，并督促有关地方和部门研究处理。2023年8月国家发改委密集与民营企业座谈，为有针对性的解决民营企业具体诉求，推出《关于实施促进民营经济发展近期若干举措的通知》。2023年9月国家发改委内部正式设立民营经济发展局，作为促进民营经济发展壮大的专门工作机构。

结合材料并运用政治生活知识，分析政府是如何多措并举激发民营经济活力的。（12分）

40. 阅读材料，完成下列要求。（26分）

二十年前，时任浙江省委书记的习近平同志开启“千村示范、万村整治”工程，推动万千乡村的美丽蝶变，推动了乡村整体变革和全面振兴，打造出一份中国式现代化的乡村样本。

“千万工程”以环境整治为“先手棋”，通过农村人居环境整治，盘活生态资源，将生态环境优势转化为生态农业、生态工业、生态旅游等生态经济的优势。以“美丽乡村+农业、旅游、文化”推动旅游强村，做到了“田园变公园、村庄变景区、农房变客房、村民变股东”，以土地入股、环境入股、资产入股等推动村庄经营，走出“以美丽生态引进美丽项目、以美丽项目助推美丽乡村、以美丽乡村反哺美丽生态”的美丽共富之路。

“千万工程”实施以来，浙江坚持加强农村基层党组织建设，大力构建党建统领的现代乡村治理体系，进一步理顺村党支部、村委会、村务监督委员会、村经济合作社以及村民代表大会等组织的关系。坚持村里的事情大家商量着办，以村民自治制度为本，迭代创新“枫桥经验”，推广民主恳谈、五议两公开、村民票决制等民主自治形式。将民主法治示范村创建作为基层依法治理工作的载体和法治浙江的基础工作，自觉将民主法治示范村创建与文明村等创建结合起来，逐步实现基层政治、经济、文化事业、社会事务管理的法治化与社会的全面进步。

(1) 结合材料和所学经济知识，总结实施“千万工程”助力乡村产业振兴的成功经验。（10分）

(2) 结合材料和所学政治生活知识，说明浙江省在推进“千万工程”中是如何提升基层治理能力的。（12分）

(3) 民族要复兴，乡村必振兴。某村正实施“千万工程”，为动员村民积极参与“千万工程”建设，请你写两条宣传标语。（4分）

要求：突出主题，文字优美，具有宣传和鼓动性，每条不超过20个字。

41. 阅读材料，完成下列要求。（25分）

材料一 鸦片战争爆发后，《中国丛报》即刊载了五口通商口岸的史地知识。1850年，传教士郭实猎向英国皇家学会呈递关于西藏史地和自然资源的报告。《天津条约》以后，西方传教士和领事官员便发文介绍了北京、苏州、杭州、汉口等地的史地资料。1875年，罗约翰撰文将中国东北地区的重大史事按编年进行勾勒。除此以外，来华西人还着眼于中国的生活、习俗、文学、艺术、科技，在内容建构上，逐渐呈现出综合的书写倾向。随着中外时局的变动，来华西人的中国历史书写改变了“中华文明西源说”，把中国视为了一个独立的文明单位。

——摘编自崔华杰《从历史理解中国：近代来华西人的中国历史书写及其路径演进》

材料二 道光以降，海禁大开，部分文人士大夫将传教士介绍到中国的世界史地知识梳理成系统，撰《海国图志》、《瀛寰志略》等著作，介绍西方政治、地理、科技，徐图寻求“制夷”之法。同光年间，“史学经世”的观念流行，读者群体也不断扩大。1874年王韬创办《循环日报》，并发文评介西方政治、经济、历史、文化、交通，鼓吹变法自强。1876年，郭嵩焘将出洋考察日记汇编为《使西纪程》，对西方的政教、工业、海防、外交做了相对客观的记载。甲午战败后，世界历史书写和评价的著作剧增，最具代表性的是王先谦所著的《日本源流考》《外国通鉴》《五洲地理志略》，不仅将“中国”纳入“世界”进行书写，还为后人了解各国的政局、物产、民俗等提供了重要史料。

文科综合试题第10页（共12页）

——摘编自邢科《晚清至民国时期中国“世界史”书写的视角转换》等

(1)根据材料一并结合所学知识,分析近代以来西方书写中国历史的背景和演进特点。(10分)

(2)根据材料二并结合所学知识,分析与近代西人书写中国史相比,中国人书写“世界史”有何不同之处,并分析近代中国“世界史”书写活动的意义。(10分)

(3)综合上述材料,归纳影响历史书写的主要因素。(5分)

42. 阅读材料,完成下列要求。(12分)

材料 3—6世纪,中西都经历了政治分裂、新起民族政权的挑战和新宗教的冲击,但在历史现象层面的相似背后,蕴含着深刻的同中之异。中国历史和文明历经危机而得以连续发展,西方历史和文明则在危机中断裂,这个结局并非偶然,而是由双方的政治、民族及文化等结构差异所决定的。

——摘编自刘家、刘林海《3—6世纪中西历史及文明发展比较研究》

上述材料是学者对3—6世纪中西发展进程的比较。据此,结合所学知识,另选19世纪以前某一历史时期,比较中西文明发展的“同中之异”,并进行阐释。(要求:明确时间段和同中之异,史论结合,史实准确,逻辑清晰。)

(二) 选考题:共25分。请考生从2道地理题、2道历史题中每科任选一题作答。如果多做,则按所做的第一题计分。

43. 【旅游地理】(10分)

玉龙雪山处于滇西北横断山区和滇东高原区的交界地带,是欧亚大陆距赤道最近的现代冰川区,与高山峡谷、森林草甸自然环境和纳西族文化共存,拥有优越的地理优势与客源市场条件。但该地旅游形式仅限于冰川观光旅游,少涉及体验。在全球气候变暖和旅游业的快速发展下,玉龙雪山地区由1957年的19冰川缩减为13条,总面积由11.6平方千米分别减小为5.30平方千米,冰川表面已陆续发育一系列规模较大的冰裂隙,诱发了冰川的崩塌。

为应对气候变化,试就玉龙雪山冰川旅游可持续发展提出措施

44. 【环境保护】(10分)

图10为碳中和目标下的鄱阳湖湖域地区城镇化活动对碳收支作用示意图。

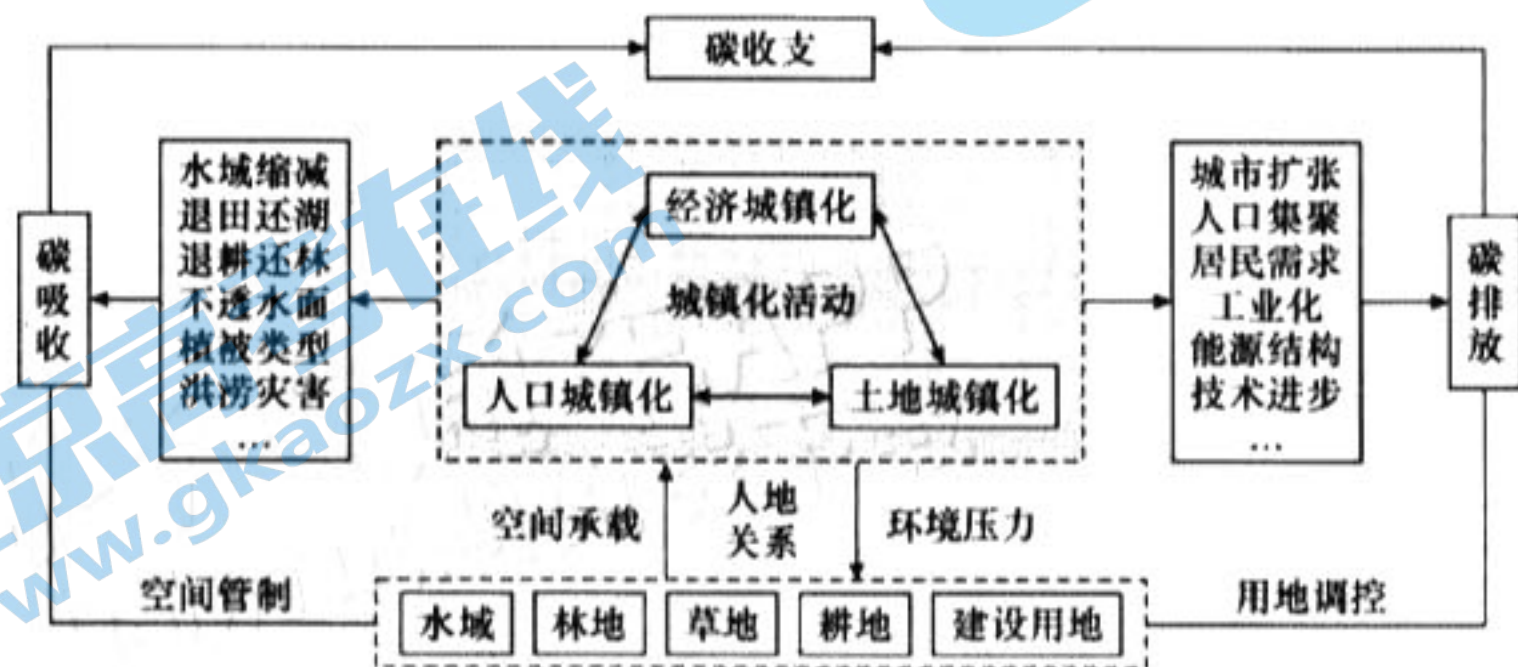


图10

分析鄱阳湖湖域地区城镇化活动对碳吸收和碳排放的影响。

45. 【历史——选修1：历史上重大改革回眸】（15分）

材料 从英国革命开始一直到美国独立战争、法国大革命，其动因主要来源于“无承诺、不纳税”或“无代表、不纳税”的公正、公平观念。在日本与权力精英相对应，非权力精英要求通过立法机关（议会）影响政府决策，以扩大或保护自己的利益。他们之所以争取参政权，是因为意识到作为国民的义务和权利，即纳税和选举权的关系。正是从这一理论出发，他们发起了自由民权运动。1873年地税改革以后，土地所有者直接向国家纳税，因而在自由民权运动者的眼中，国家赋予了土地所有者参政权。1874年4月，板垣退助等人组成“立志社”，大力提倡“天赋人权”，呼吁建立民选议会、制定宪法。1875年2月，组成统一的政治团体——“爱国社”。该政治团体主张“各伸张其自主之权利，尽人类本分之义务，小则保全一身一家，大则维持天下国家”。

——摘编自王新生《日本明治时期近代化的得与失》

- (1) 根据材料及所学知识，概括日本自由民权运动的基本特点。（8分）
- (2) 根据材料及所学知识，归纳日本自由民权运动兴起的原因。（7分）

46. 【历史——选修4：中外历史人物评说】（15分）

材料 颜元（1635—1740），字易直，河北博野人。出身贫寒，曾学医养家。24岁时，从事教学工作，一直持续五十余年。颜元讲了一段王学，两年后得朱子《性理大全》，改奉朱学。35岁时，思想转变，认为理学空虚无用，非周孔正道，但也反对汉代章句之学，提出以“实”为核心的教育思想体系。他批判两千余年来重文轻实的教育传统，他认为教育有“安天下”、“成个性”双重作用。主张恢复尧舜周孔之道，倡导用“三事”、“六府”、“三物”来培养经世致用的人才。颜元晚年主办漳南书院，把书院分为“文事斋”、“武备斋”等六斋，将教育思想付诸实践。颜元认为教人为学要主动，通过练习和实行来获取知识。颜元的思想反映了资本主义萌芽下市民阶层的利益，在中国古代教育思想史上具有重大意义。

——摘编自施克灿《中国教育思想史》

- (1) 根据材料，概括颜元的教育贡献。（8分）
- (2) 根据材料并结合所学知识，分析影响颜元教育思想形成的因素。（7分）