

本试卷共 8 页，10 分。考试时长 90 分许。考生务必将答案答含在答题卡上，在试卷上作答无效。考试结束后，将本试卷和答题卡一并交回。

第一部分

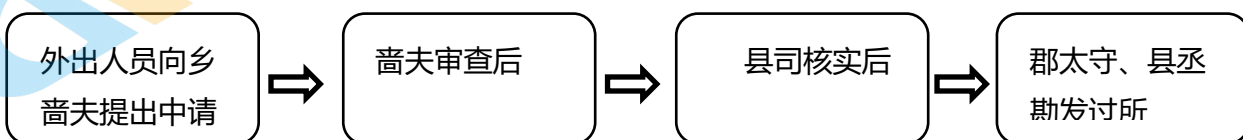
本部分共 15 题，每题 3 分，共 45 分。在每题列出的四个选项中，选出最符合题目要求的一项。

1. 右图为河南安阳出土的商朝虎纹石磬。它是迄今为止发现的形体最大的商磬，共有 5 个音阶，可奏出不同的音调，为祭天地山川时所使用。此文物可以证明

- A. 原始音乐随着人类定居生活而产生
- B. 金石并用是商朝生产力水平的特征
- C. 商朝石刻艺术和石磬制作水平高超
- D. 商朝时期形成了“敬天保民”的思想



2. 两汉至宋朝，官员或百姓外出均须使用通关凭证“过所”。下图呈现了两汉时期“过所”的勘发程序。它体现出汉朝



①“过所”制度流程清晰规范

②采取郡县与分封并行制

③乡啬夫与郡县长官相互牵制

④基层组织管理分工明确

A. ①②

B. ①④

C. ②③

D. ③④

3. 中国五大粮食作物中的小麦，玉米、马铃薯、甘薯四种来自国外，五大油料作物中的花生、芝麻、向日葵三种来自国外，古代中国最重要的纺织原料棉花也来自国外。这说明

- A. 中国是世界农业的起源中心之一，同时具有一定的开放性
- B. 外来作物的引种改变了中国的农业技术体系和劳作方式
- C. 外来作物取代本土作物成为中华农业文明的重要组成部分
- D. 外来作物传入后引发过度的垦荒造田，导致了水土流失

4. 金世宗时创建女真进士科，金章宗时加试骑射。河南发现的《女真进士题名碑》用女真文字记录“十五试策，十七日试论、诗”。这表明金朝科举制度

- A. 由女真人独创后来推广至中原
- B. 推动汉人学习和使用女真文字
- C. 以程朱理学的解释作答题标准
- D. 模仿汉制但是保留其民族特色

5. 康熙时期设置巡台御史例度，都察院每年派遣满、汉御史各一人前往台湾，监督地方官员的政务执行情况，兼管文化教育。清政府此举意在

- ①使皇帝能广泛获取信息帮助决策
- ②维护中央政府对台湾的有效管辖
- ③促进台湾地区文化教育的发展
- ④对边疆地区采取因地制宜的政策

A. ①③ B. ②③ C. ②④ D. ③④

6. 1876年，天津机器局建成第一座铅室法硫酸厂，成为中国化学工业的开端，此后各类化工厂陆续建成，如下表所示。永利碱厂的纯碱赢得国际金奖，合成氨厂的产品为农业提供化肥。对材料解读准确的是

时间	地点	工厂名称	时间	地点	工厂名称
1889年	唐山	启新水泥厂	1918年	大连	染料厂
1895年	上海	无烟火药厂	1924年	天津	永利碱厂
1905年	陕西	延长石油官厂	1925年	石家庄	焦化厂
1915年	上海	开林油漆厂	1934年	南京	合成氨厂

- ①中国化学工业起步于洋务运动时期
- ②中国化工厂都设在沿海和通商口岸
- ③中国某些化工产品已达到世界水平
- ④中国的化工产品推动了农业近代化

A. ①②③ B. ①②④ C. ①③④ D. ②③④

7. 五四运动后孙中山经常谈论“中华民族”。他说：“汉族……当与满、蒙、回、藏之人民相见于诚，合为一炉而治之，以成一中华民族之新定义。”此话反映出孙中山

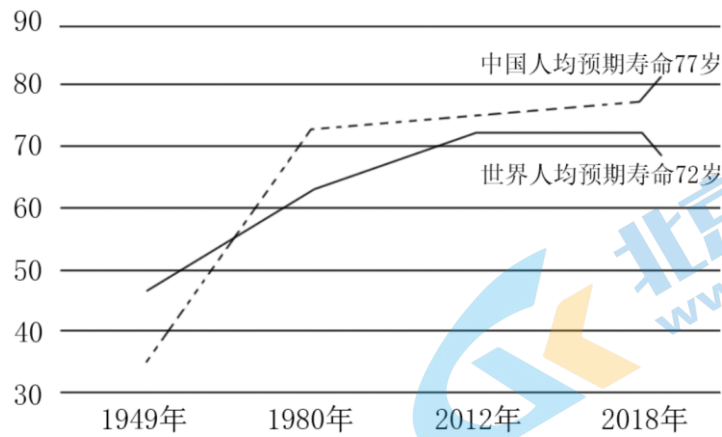
- A. 从五四运动中看到无产阶级的巨大力量
- B. 主张推翻清政府的统治并建立共和政体
- C. 建议采用“五色旗”以象征“五族共和”
- D. 已确立起各民族真正平等的中华民族观

8. 以下中国共产党的教育方针，按提出先后排列准确的是

- ①“以抗日救国为目标……提高人民民族觉悟程度”
- ②“教育必须为社会主义现代化建设服务、为人民服务”
- ③“教育为人民服务，……为当前的革命斗争与建设服务”
- ④“中华苏维埃政权以保证工农劳苦民众有受教育的权利为目的”

A. ①③④② B. ③①②④ C. ④①③② D. ④③②①

9. 下图为1949-2018年中国与世界人均预期寿命数据图。此阶段中国人均寿命的变化得益于



- ①西医开始传入中国，西式医院建立
- ②持续广泛开展群众性爱国卫生运动
- ③中国基本医疗卫生体系的建立和完善
- ④中国特色社会主义保障制度的逐步建立

A. ①②③ B. ①②④ C. ①③④ D. ②③④

10. 2022年北京冬奥会期间，中央电视台将赛事转播等信息系统迁移至云平台，采用“奥运转播云”向全球转播；冬残奥会还提供全流程智能化数字人手语生成服务。以上新现象体现了

- A. 信息技术促进人类文化共享
- B. 奥林匹克文化融合中国文化
- C. 中华文化不断向外辐射传播
- D. 冬奥会贯彻可持续发展理念

11. “腓尼基商人和工匠从美索不达米亚人和埃及人那里学来了书写符号并把它作为记账和立法的工具。在此基础上，这些城市居民发明了一种更加简单的书写系统。这些字母文字成为以后希腊和拉丁字母的基础。”这表明

- A. 腓尼基字母为当地商人和工匠们所独创
- B. 各地的文字均因商业活动的需要而产生
- C. 商人比他人更多地推动了文化的创新
- D. 腓尼基字母因实用性强被其他文明得鉴

12. 右图漫画《联合则生，分裂则亡》中，作者将北美13个州比喻为支撑美利坚合众国的13根支柱，并按批准宪法的先后排序排列。漫画折射出美国实行的是

- A. 三权分立原则
- B. 联邦共和制度
- C. 中央集权制度
- D. 君主立宪制度



13. 19世纪三四十年代，欧洲三大工人运动分别提出以下口号：“工作不能生活，毋宁战斗而死”“没有给面包，就要革命”和“宁愿做自由人死在绞架上，。而不愿过着奴隶生活”，这些口号反映出欧洲工人运动 A. 受到启蒙思想和工业革命的影响义

- B. 提出了推翻资产阶级政权的要求
- C. 得到马克思主义科学理论的指导

D. 从各国自发斗争走向了联合斗争

14. 右图为 2019 年联合国发行的邮票。甘地头像旁用英语写着他在 20 世纪 20 年代初的一句话：“我希望各地的文化之风都尽情地吹到我的家园，但是我不能让它把我连根带走。”以下解读准确的是



- ①此话提出的背景是二战后民族意识的觉醒
- ②甘地批判文化侵略，主张维护民族文化
- ③甘地提出以爱、真理和非暴力争取印度自治
- ④联合国发行此邮票旨在提倡文化的多样性

A. ①② B. ②③ C. ②④ D. ③④

15. 下列选项中，史实与结论相符的提

	史实	结论
A	南部非洲文明的代表大津巴布韦遗址被列入世界文化遗产名录	非洲文明与其他地区文明同步发展
B	古希腊全体成年男性出席的村社大会是村社最高权力机关	村社大会有权决定国家法律和政策
C	20 世纪末，拉丁美洲使用最多的语言是西班牙语和葡萄牙语，其次是法语，仅少数人讲印第安语	二战后拉美国家形成了本土文化与西方文化相结合的新文化
D	1875 年世界城市化比率不到 10%，1950 年接近 30%，到 2015 年则超过 50%	世界城市化进程呈现加速发展的总趋势

第二部分

本部分共 5 题、共 55 分

16. (13 分) 史料与历史解释

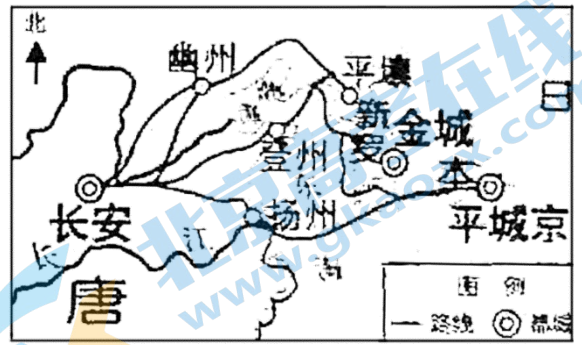
材料一 19 世纪末，德国学者李希霍芬把古代中国与中亚、印度间以丝绸贸易为媒介的这条交通道路命名为“丝绸之路”。后来中国学者对此历史概念做了如下解释：

丝绸之路：以古代中国长安（今西安）为起点，经甘肃、新疆到中亚、西亚，并连接地中海各国的陆上通道。因中国西运的货物以丝绸制品影响最大，故得名。通过丝绸之路，古代亚欧国家和人民互通有无，友好往来。

材料二 3 世纪，中国书籍传到日本。《旧唐书》记载“开元初又遣使来朝”，“所得锡赀（指钱币）”则“尽市文籍”。遣唐使的使命不尽相同，但购书一直是其主要任务。随着宋明之际民间贸易往来的增加，大量中文图书输往日本。

(1) 有学者发现，在史料中几乎没有找到遣唐使大量进口丝绸的记录，主张将唐代中国与日本等东亚国家之间的交通道路另行命名。请你依据材料二为此交通道路拟一个名称。（1 分）并参照材料一进行解释。4 分）

材料三 元朝对西南少数民族首领施行“参用其土人”的制度，且“世官、世土、世民”。明朝沿大为拓展《明史·上司传》记载“分别司郡、州、县，额以赋税没、，听我驱调”。“明政府制定了授职、承袭、升迁，奖等法规，完善朝贡、纳赋之制，顾行征调测土兵办法。土司制席是建立在奴隶制度农奴制经济基础之上。明中期以后，封建经济逐渐发展起来。明末一些土司纷争仇杀，拼命朝廷。给人民带来巨大灾难，康熙，雍正两朝进行大规模改土细流，。随之展开清查户口，核实赋税等工作。上司势力大大削弱。



唐朝与东亚各国交往主要路线示意图

——摘编自龚荫编著《中国土司制度简史》

(2) 阅读材料三并结合所学，评析土司制度的兴衰。(8分)

17. (8分) 英国王权的演变

英国王权在历史上经历过多次演变，大致分为四个阶段。前三个阶段在全欧洲都大体一致，真正的差异出现在第四阶段。

第二阶段最著名的战争是诺曼登陆和英法百年战争。此时国王与贵族的关系，是“一种相互的忠诚义务，除敬重之外，封臣对封君应尽的臣服并不比封君对封臣所持的领主权更多”。

在此期间英国议会君主制形成。第三阶段大致从都铎王朝建立(1485年)至英国革命。“这个时代的特点趋向于建立民族的君主专制制度，也就是建立使资本主义生产有可能顺利发展的形式”。第四阶段，英国的王权成功地适应了近代社会转型并被留存下来。

- 第一阶段：野蛮人的军事领袖
- 第二阶段：封建贵族中的第一人
- 第三阶段：主权的君主、国家的化身

——摘编自钱乘旦《英国王权的发展及文化与社会内涵》

阅读材料，提取信息，结合所学，从以上四个阶段中任选两个连续的阶段，阐释英国王权是如何适应时代变化的。

(8分)

要求：信息提取充分，史论结合，逻辑清晰。

18. (6分) 体育观念的形成

人类历史上“体育”观念是不断发展演变的，其形成带有鲜明的时代烙印。16-17世纪，欧洲自然科学的发展为人们打开了一扇认识“自我”的窗口。机器和工厂大量出现，庄园体育、乡村体育随农村人口一同进入城市，“身体”获得解放的普通人有了娱乐时间。当时的狂欢节流行绕圈赛、赛马和竞走比赛，体育成为“去身份化”的大众项目。17-18世纪，学校引入打猎、游泳、爬山、赛跑、跳跃等体育活动。进入19世纪，学校加入更多项目，建立起“体育是以身体活动为手段的教育”的新观念。

我国古代没有“体育”的概念，它作为专门术语是在甲午战争之后从日本引入的。当时常与“体操”混用。1912年的《普通教育暂行办法》提出“体操课应注意兵式”，即军事训练。北京四存中学每周安排2学时体操课。1923年，中学课程中的“体操”改称“体育”。中国大众传媒广泛报道各类体育活动，其价值主要定位在“增强体质健康”与“为国增光”。


——摘编自刘桂海《“体育是什么”：一个概念史的考察》等

体育观念的形成带有时代烙印。结合材料有关欧洲或中国的史实，谈谈你的看法。（6分）

19. （14分）从江汉关到进博会

材料一 明末清初，汉口得以居中得水、九省通衢的区位优势，成为全国四大名镇之一，是全国性的大型内陆商埠。

1862年，江汉关设立。1867年对外贸易额仅3500万海关两，1902年达10.32亿海关两，外贸总额长期居全国第二。汉口“集中土货，运沪出口，收纳洋货，散消（销）内地。”20世纪初，在汉口的外商工厂达40余家，涉及制茶、打包业等门类。到抗战前夕，共有中外400多艘轮船在此经营国内外68条航线。



19世纪后期汉口码头情景：
近处为木帆船，远处为蒸汽船

——摘编自“江汉关博物馆”《风雨沧桑江汉关》等

（1）阅读材料一，简述江汉关设置后汉口商业贸易发生的变化。（6分）

材料二 纵观国际经贸发展史，深刻验证了“相通则共进，相闭则各退”的规律。各国削减壁垒、扩大开放，国际经贸就能打通血脉；如果以邻为壑、孤立封闭，国际经贸就会气滞血瘀，世界经济也难以健康发展。

——习近平《共建创新包容的开放型世界经济——在首届中国国际进口博览会开幕式上的主旨演讲》（2018年11月5日）

材料三 中国加入世界贸易组织20周年（部分）成就数据表

类别	2001年	2020年
货物出口占全球份额	4.3%	14.7%
制造业增加值	3.5万亿元	26.6万亿元
服务出口额	3243亿元	1.9万亿元
对外直接投资额	570亿元	1.1万亿元

（2）国际经贸发展史是如何验证“相通则共进，相闭则各退”这一规律的？选择20世纪以来的典型史实进行论述。（8分）

要求：观点理解准确，史实充分，史论结合，结构完整。

20. （14分）中国的对外援助

材料一 1950年，中国向朝鲜和越南两国提供援助，从此开启对外援助的序幕。万隆亚非会议后，中国开始向非洲国家提供援助。20世纪五六十年代，中国向21个正在争取和维护民族独立的亚非拉国家提供了援助。1964年，中国政府宣布以平等互利、不附带条件为核心的经济技术援助的八项原则。在其指导下，中国与许多非洲国家签订合作协定，双边经济贸易往来迅速发展。

——摘编自《中国对外援助的历史进程与国家利益分析》等

材料二 2010年至2012年，中国对外援建49个农业项目，派遣1000多名农业技术专家，并提供大量农业机械、良种、化肥等物资。

三年中，中国向发展中国家无偿提供了60批抗疟药、甲流疫苗及霍乱疫苗，并开展传染病防治培训。

中国援建了60余个信息化项目，包括光缆电信传输网、电子政务网以及广播电视调频发射台等。

中国在非洲援建了105个清洁能源和供水项目。2012年，中国启动援建自动气象观测站、高空观测雷达站等设施，提供森林保护设备。

2009年，中国提供经费4000万元人民币，用于柬埔寨吴哥古迹茶胶寺的保护与修复工程，共同参与吴哥古迹的国际保护行动。

——摘自《中国的对外援助（2014）白皮书》等

- (1) 阅读材料一并结合所学，分析20世纪五六十年代中国进行对外援助的意义。（6分）
- (2) 阅读材料二，任选3个视角，说明中国对外援助为解决全球问题做出的贡献。（8分）

参考答案

第一部分共 15 题，每题 3 分，共 45 分。

1.C 2.B 3.A 4.D 5.B 6.C 7.D 8.C 9.D 10.A 11.D 12.B 13.A 14.C 15.D

第二部分共 5 题，共 55 分。

16. (13 分)

(1) (5 分) 参考答案要点

①书籍之路

②以古代中国长安（今西安）为起点，往东经陆路到朝鲜半岛或由海路到日本的通道。因中国东输的物品以书籍影响最大，故得名。通过书籍之路，中国古代的先进文化东传并深刻影响东亚国家，东亚各国的文化也传入中国，促进文明交流互鉴。

(2) (8 分) 参考答案示例

土司制度指元明清时期，在西南少数民族地区，中央政府任命其首领为地方官，土官承担交纳赋役等义务的制度。

为使边疆地区得以有效统治，增添贡赋，稳定社会秩序而实施。此后该地区未出现分裂割据的地方民族政权，土司制度对于统一多民族国家的巩固，发挥了重要作用。

土司制度建立在奴隶制或农奴制经济基础之上，随着封建经济的发展，土司制度的弊端严重地影响了统治的稳固，清王朝采取改土归流的政策，强化了对西南地区的管理，加强了中央集权，改变了这些区域的闭塞状态，有利于该地区经济文化的发展和民族交流。

土司制度的兴衰是一定历史发展时期的产物，反映出统一多民族国家的巩固和治理能力的提升。

17. (8 分) 参考答案示例

都铎王朝时期，随着地理大发现、欧洲资本主义迅速发展、民族国家的兴起，英王集立法、行政、司法、军事大权于一身，变成了主权的君主，成为民族国家的化身，英王采取一系列措施强化国家权力，推动殖民扩张、商业贸易和奴隶贸易等，维护“民族”利益，王权与议会的利益诉求一致，起到社会稳定和促进资本主义发展的作用。

随着资本主义经济的发展，专制王权越来越阻碍国家发展。光荣革命后，君主立宪制逐步形成。议会成为国家最高立法机关和权力机关，内阁掌握行政权，对议会负责。国王仍是国家元首，是民族团结与统一的象征。英国王权成功适应了近代社会的转型，推动英国社会进步，对欧洲和世界影响极大。

英国王权的演变是其历史传承、文化传统、经济社会发展相互影响的反映。

18. (6 分) 参考答案示例

示例一：欧洲体育观念的形成是其近代化的产物。近代科学的发展加深了对人的认识；工业社会为体育从农村到城市的发展提供了空间，启蒙运动和大众文化的崛起创造了自由的社会环境，体育从贵族活动发展为大众娱乐活动；随着学校教育进一步普及。体育的内容包括游泳、赛跑等项目，并增加育人功能。

示例二：近代中国体育观念的形成带有半殖民地半封建社会的特征。19 世纪末中国民族危机空前严重，向西方学习的背景下体育一词引入，随着新式学校的建立和大众传媒而普及；体育名称最初与“体操”混用，内容以军事训练为主，功能上与民族救亡、国家利益联系在一起。

19. (14 分)

(1) 参考答案要点

①商贸地位从四大名镇之一的内陆商埠上升成为对外贸易的第二大口岸；②贸易规模迅速扩大；③贸易种类从传统商品到出口农副土特产品、销售工业制成品；④为商贸服务的近代企业大量兴起；⑤运输工具从传统的车船到近代的轮船转变，涉及国内外众多航线。

(2) 参考答案示例

“相通则共进，相闭则各退”意为国际经贸往来植根于各国互通有无的需要，合作共赢，否则就会导致倒退。

1929-1933年经济危机中，资本主义各国一方面提高关税，限制进口，另一方面货币贬值，加大出口，造成恶性竞争，激化各国矛盾，国际货币体系崩溃，加剧国际社会动荡，最终导致二战爆发。而中国积极加入世界贸易组织，主动向世界开放市场，扩大货物出口，丰富外贸的内容；一方面带动中国经济迅速发展和制度的完善；另一方面成为促进全球贸易和世界经济增长的强有力引擎。可见，开放带来进步，封闭必然落后。

20. (14分) (1) (6分) 参考答案要点

①对于中国来说，保家卫国，创造有利的国际环境；向经济困难国家提供援助，赢得这些国家的友谊和信任，中国出现了与亚非民族独立国家建交为特点的建交高潮；获得了良好的国际声誉，在广大发展中国家的支持下，中国恢复了在联合国的一切合法权利。

②增强受援国反殖反帝的力量；增强亚非拉国家自主发展的能力，开展经济和社会建设，改善民生。

③推动发展中国家在国际政治舞台上发挥作用；中国提出的不附带条件的援助原则推动公正合理的国际秩序的建立。

(2) (8分) 参考答案示例

中国通过援建项目、派遣专家和提供农用物质等手段，帮助发展中国家提高农业生产能力、减少贫困，为缓解世界粮食危机提供中国方案。

2022 北京高三各区一模试题下载

北京高考资讯公众号搜集整理了【**2022 北京各区高三一模试题&答案**】，想要获取试题资料，关注公众号，点击菜单栏【**高三一模**】—【**一模试题**】，即可**免费获取**全部一模试题及答案，欢迎大家下载练习！

还有更多**一模排名**等信息，考后持续更新！



微信搜一搜

北京高考资讯

The screenshot shows the WeChat public account interface for '北京高考' (Beijing Gaokao). On the left, there is a vertical menu with the following items: '一模试题' (highlighted with a red box), '二模试题', '高考真题', '期末试题', and '各省热门试题'. To the right of the menu, there is a QR code with the text '识别二维码查看下载 北京各区一模试题&答案' (Scan the QR code to view and download Beijing's first mock exam questions and answers). At the bottom of the menu, there are three icons: a grid icon, '高三一模' (highlighted with a red box), '热门资讯' (Popular News), and '福利资料' (Welfare Materials). On the right side of the screenshot, there is an illustration of a student sitting at a desk with books, and a speech bubble that says '这里有最新热门试题' (Here are the latest popular exam questions). Below the illustration, another speech bubble says '考后最快更新分享' (Share the fastest updates after the exam).