

# 2023 北京丰台高一（下）期中

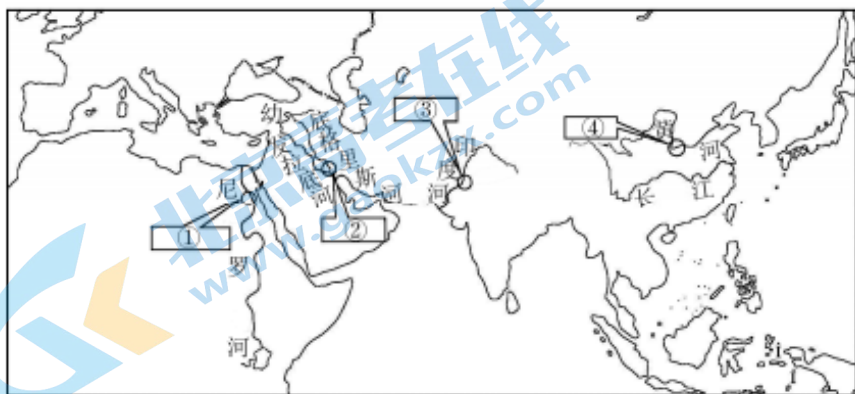
## 历史（B卷）

考试时间：90 分钟

### 第 I 卷（选择题共 60 分）

一、选择题（每小题 1.5 分，共 60 分。在每小题给出的四个选项中，只有一个是正确的。）

1. 世界古代某一地区的文明成就包括“象形文字”“世界上第一部太阳历”“金字塔”“莎草纸”。这一地区位于下图中的



- A. ①                      B. ②                      C. ③                      D. ④

2. 下列关于古代农业起源的叙述中正确的是

- A. 西亚最早培植了大麦、芋头和豆类                      B. 中南美洲最早种植了玉米和南瓜  
C. 中国最早种植了水稻、豆类和小麦                      D. 东南亚最早种植了芋头和玉米

3. 公元 2 世纪的阿利斯提德对罗马城商品汇聚地的描述：“所有的货物，所有现存的和曾经存在的东西，贸易、航海、农业、金属加工，任何曾经创造出来或者生长出来的东西，都在这里汇合。”可能出现在这一时期罗马的商品有

- ①丝绸和象牙                      ②罗盘和望远镜                      ③番茄和甘薯                      ④铁器和马匹  
A. ①②                      B. ②③                      C. ③④                      D. ①④

4. 右图为《西欧封建庄园示意图》，该图所反映的西欧封建庄园的特点是

- A. 等级森严  
B. 市民自治  
C. 中央集权  
D. 自给自足



5. 5 世纪后期，欧洲开始进入封建社会，西欧封建社会的基本特征是

- ①封君封臣制度                      ②庄园与农奴制度                      ③王权高于教权                      ④资本主义萌芽产生  
A. ①②                      B. ②③                      C. ①③                      D. ③④

6. 下列内容是某学生所做的学习笔记，其学习的主题应是

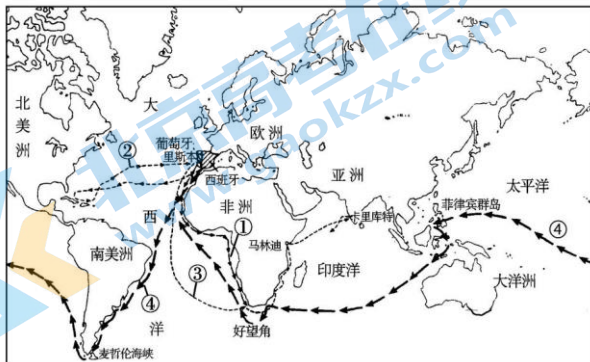
- 646年，日本大化改新，实行租庸调制
- 10世纪，高丽王朝在中央设三省六部
- 11世纪，越南引进科举制度

- A. 亚非国家间的友好往来                      B. 东西方文明间相互交融  
C. 中华文明影响周边国家                      D. 亚洲各国经济联系加强

7. 10-11世纪起，西欧各地兴起了众多城市。以下关于西欧城市兴起的表述，正确的是

- ①主要居民是手工业者和商人                      ②城市完全独立于各地区的封建主  
③城市兴起促使西欧大学兴起                      ④城市兴起有利于国王的统一事业
- A. ①②③                      B. ①③④                      C. ②③④                      D. ①②④

8. 下图中④是某位航海家开创的新航路，该航海家是



- A. 迪亚士                      B. 哥伦布                      C. 达·伽马                      D. 麦哲伦

9. 有学者制作了1600年运入欧洲部分商品的统计表，对此表解读正确的是

	经好望角	经地中海
胡椒	100万~200万磅	300万~400万磅
丁香、靛蓝、肉豆、药品	35万~65万磅	70万~100万磅

- A. 传统商路仍发挥重要的作用                      B. 世界贸易中心转移到了地中海  
C. 商业革命引发交易商品改变                      D. 欧洲与亚洲经贸联系更加紧密

10. 早期殖民扩张中断了美洲和非洲原有的社会发展进程，打破了原本相对平衡的多元文明格局，给当地人民带来了巨大灾难。这段话阐释的是早期殖民扩张的

- A. 原因                      B. 条件                      C. 过程                      D. 影响

11. 随着海外市场的不断开拓，大量贵金属源源不断流入欧洲，导致货币贬值、物价上涨。这一现象

- ①造成美洲原有社会的瓦解                      ②加速了封建制度的解体  
③使商业资产阶级实力上升                      ④搅乱了传统的经济关系
- A. ①②③                      B. ①②④                      C. ①③④                      D. ②③④

12. 达·芬奇的《最后的晚餐》取材于《圣经》，但画中人物包括耶稣等都没有圣光，取而代之的是自然光，所有人的形态与常人无异。这体现了

- A. 希腊罗马古典文化  
C. 人文主义核心思想
- B. 上帝绝对的精神权威  
D. “天赋人权”的原则
13. 下列符合马丁·路德思想主张的是
- ①人的灵魂获救依靠自己的信仰  
②建立独立的民族教会和俭教会  
③教权应高于世俗统治者的权力  
④力主采用民族语言进行宗教活动
- A. ①②④  
B. ②③④  
C. ①③④  
D. ①②③
14. 牛顿取得的物理学成就彰显了人类理性的伟大, 促使人们形成对自然规律的崇拜, 进而发展出探寻人类社会客观规律和构想未来理想社会的热忱。这说明
- A. 科学革命对于启蒙运动的推动  
B. 哥白尼的“日心说”具有充分合理性  
C. 宗教改革推动民族国家的形成  
D. 宗教改革促使了信徒的信仰更加坚定
15. 以下关于英国资产阶级革命、美国独立战争、法国大革命共同点的描述正确的是
- A. 处死了本国国王  
B. 打败了外国的武力入侵干涉  
C. 推翻了专制制度  
D. 促进了本国资本主义的发展
16. 美国宪法规定“总统可否决国会通过的法律”“国会可以以三分之二多数通过总统否决的法律”。这体现的原则是
- A. 联邦制原则  
B. 主权在民原则  
C. 权力制衡原则  
D. 中央集权原则
17. 某同学开展自主学习, 研究了俄国农奴制改革、美国南北战争、德意志帝国建立、日本明治维新等历史事件, 他所研究的历史主题是
- A. 近代民族国家开始形成  
B. 资本主义在全球范围内扩展  
C. 第二次工业革命的开展  
D. 近代科学兴起促进思想解放
18. 1871年《德意志帝国宪法》颁布, 该宪法体现出德国政治制度的特点是
- ①专制主义的色彩浓厚  
②帝国皇帝掌握国家最高权力  
③国家元首“统而不治”  
④宰相不对议会而对皇帝负责
- A. ①②③  
B. ②③④  
C. ①③④  
D. ①②④
19. 从1750年到1850年间, 英国的城市化水平从10%提高到了50%。1861年, 全英国已经有16个城市人口超过了10万。这一状况出现的原因是
- A. 市民阶层的兴起  
B. 自由主义思想的传播  
C. 文化教育的发展  
D. 机器生产的广泛使用
20. 1859年, 巴黎进行了大规模城市改造和建设, 建成了环城道路, 大小街道都用煤气灯照明, 修建了许多新古典主义风格的广场、住宅区、图书馆、公园、医院、火车站及公共雕塑等, 并建造城市下水道和供水网。与巴黎城市面貌改变相关的因素有
- ①休闲娱乐时间的增加  
②第二次工业革命开展  
③人们文化素养的提高  
④交通等科学技术发展
- A. ①②③  
B. ①②④  
C. ①③④  
D. ②③④

21. 有学者认为，19 世纪后半期逐步出现了技术进步的制度化。更多的先进工业企业不再满足于接受技术创新并利用它们，而是通过精心的有计划的试验来追寻这种技术创新。这反映了第二次工业革命的特点是

- A. 科学技术与生产紧密结合                      B. 技术发明主要由工匠完成  
C. 机器制造业实现了机械化                      D. 社会分裂为两大对立阶级

22. 马克思指出，圣西门、傅立叶、欧文等人“看到了阶级对立，但看不到无产阶级方面的任何历史主动性。他们拒绝……一切革命行动，想通过和平途径达到自己的目的。”为此，马克思

- ①强调阶级斗争的重要作用                      ②揭露资产阶级剥削的秘密  
③宣告无产阶级的历史使命                      ④批判资本主义制度的弊端

- A. ①②                      B. ①③                      C. ①④                      D. ②④

23. 巴黎某公墓的一面墙上刻写着“纪念 1871 年 5 月 21-28 日公社牺牲者”。其所纪念事件的历史意义在于

- A. 它是无产阶级建立政权的第一次尝试                      B. 它标志着欧洲工人阶级登上历史舞台  
C. 它建立了世界上第一个社会主义国家                      D. 它使社会主义理论从空想发展到科学

24. 19 世纪后期，欧洲主要列强都制定了侵略非洲的计划：英国妄图建立一个北起开罗，南至开普敦，纵贯非洲大陆的庞大殖民地；法国要从西非的佛得角向东非的索马里扩张；德国希望在赤道两侧建立自己的殖民地。这些计划反映了

- A. 欧洲殖民者开始入侵非洲                      B. 三国达成了瓜分非洲的协议  
C. 列强争夺非洲的矛盾加剧                      D. 列强纷纷深入非洲腹地探险

25. 多角度观察历史现象有助于形成全面、客观的认识。19 世纪末 20 世纪初，资本主义世界殖民体系最终形成。这个体系

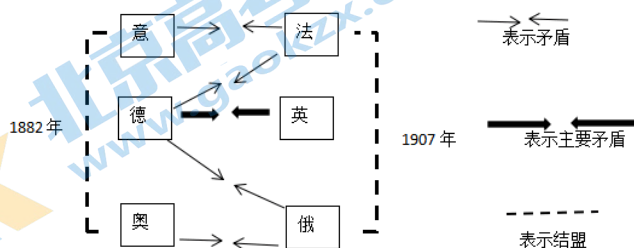
- ①推动世界越来越紧密地连成一个整体                      ②促进西方列强资本主义经济飞速发展  
③改变世界土地资源分布的不合理状态                      ④给殖民地半殖民地人民带来深重灾难

- A. ①②③                      B. ①②④                      C. ①③④                      D. ②③④

26. 1905 年印度人民反英斗争出现新高潮，1905-1911 年伊朗发生了立宪革命，1911 年中国爆发了辛亥革命。这些事件表明

- A. 各国民族革命的胜利                      B. 无产阶级登上政治舞台  
C. 古老的亚洲开始觉醒                      D. 第三世界国家走向联合

27. 绘制历史示意图有助于认识历史。下列示意图呈现的是





- A. 第一次世界大战的背景  
B. 国际联盟内部隐藏的矛盾  
C. 第二次世界大战的经过  
D. 冷战形势下的对抗和冲突
28. 1922年，华盛顿会议签订《九国公约》，其中第四款规定，各缔约国不得因中国状况，乘机营谋特别权利，而减少友邦人民之权利，并不得奖许有害友邦安全之举动。该条款签署的目的是
- A. 废止德、奥在华租界和侵略特权  
B. 维护“门户开放”“机会均等”原则  
C. 纠正巴黎和会对中国主权的侵犯  
D. 取消日本在中国山东攫取的各项特权
29. 1920年，国大党通过甘地起草的新党章，规定“用一切合法和平的手段，以争取实现自治”。在这一纲领指导下，印度出现的民族民主运动是
- A. 护宪运动  
B. 武装起义  
C. 民主改革  
D. 非暴力不合作运动
30. 1918年下半年，苏俄失去了主要的粮食产地，四分之三的领土落入国内反革命势力之手，“社会主义祖国在危急中！”在此背景下，列宁
- A. 领导了十月革命  
B. 实行战时共产主义政策  
C. 开始农业集体化  
D. 领导俄国坚决退出一战
31. 1921年，苏俄政府调整国家与农民的关系，通过粮食税等市场机制建立工农联盟，同时允许私营企业有一定程度的发展，并以租让制等形式在某些经济部门引入外国资本。这表明苏俄政府正在实施
- A. 战时共产主义政策  
B. 新经济政策  
C. 社会主义工业化  
D. “苏联模式”
32. 右图是讽刺20世纪30年代某一历史事件的漫画，漫画中戴礼帽的人物代表英法两国，后面的观看者代表美国，小旗上写的是“去东方”，盘中肉上写的是“捷克斯洛伐克”。据此推断，漫画反映的历史事件是
- 
- A. 意大利入侵埃塞俄比亚  
B. 德国撕毁条约突袭苏联  
C. 《联合国宣言》发表  
D. 《慕尼黑协定》的签署
33. 20世纪爆发了两次世界大战，之后分别形成了凡尔赛—华盛顿体系和雅尔塔体系。下列关于这两个国际体系相同点的认识，正确的是
- ①都宣称维护国际和平与安全  
②都形成了有效制裁侵略的机制  
③都带有大国强权政治的色彩  
④都实现了国际格局中心的转移
- A. ①②  
B. ①③  
C. ①④  
D. ②③
34. 某国际组织规定：“维护和平的任务主要交给安全理事会执行……所有实质性问题的决议必须5个常任理事国一致同意（再加上两个非常任理事国的赞成票）才能通过。”由此可知，该国际组织是
- A. 国际联盟  
B. 联合国  
C. 欧洲共同体  
D. 独联体
35. 《世界经济史》写道：随着马歇尔计划的实施，到1949年，西欧的工业产量已超过第二次世界大战前1937年的水平。与1948年相比，英国、法国等18国制造业产出总额1949年增加13%，1952年增加39%。这段记载能说明马歇尔计划

- A. 帮助战后西欧恢复经济  
B. 拉开美苏“冷战”序幕  
C. 推动欧洲加强政治联盟  
D. 加强美国对西欧的控制

36. 下表是《二战后联邦德国就业人口比例变化表》。表中数据反映出联邦德国

	农业	工业	服务业
1950年	23.2%	42.2%	32.4%
1990年	5.1%	40.5%	54.4%

- A. 建立工厂制度  
B. 产业结构出现了新变化  
C. 进入电气时代  
D. 经济出现“滞胀”现象

37. 二战后，苏联领导人赫鲁晓夫、勃列日涅夫和戈尔巴乔夫都试图对旧体制进行改革。其共同点为

- A. 改变了农业、轻工业落后的局面  
B. 建立了社会主义市场经济体制  
C. 对计划经济体制进行了一定调整  
D. 导致了局势失控和国家的解体

38. “在世界许多地方，普遍的商业化和通过外来影响对国家或地区文化的重塑，刺激人们寻找回归，寻求他们本身的传统和价值。”作者意在强调，在全球化进程中应重视

- A. 传统文化的价值  
B. 文化理念的趋同  
C. 商业的文化功能  
D. 外来文化的影响

39. 在当前的全球化进程中，存在着全球市场震荡、大宗商品价格波动、能源危机、粮食问题；在人类生产中也出现了生态问题、气候问题、环境问题和过度开发带来的各种全球性问题。这反映出

- A. 世界形势动荡不安  
B. 世界多极化趋势加强  
C. 全球治理问题凸显  
D. 经济全球化进程缓慢

40. 20世纪90年代以来，经济领域的全球化速度大大加快。对其原因的表述正确的有

- ①两极格局的瓦解为经济全球化扫清障碍  
②世贸组织仲裁彻底消除了各国经济纠纷  
③跨国公司成为经济全球化的有力推动者  
④新型交通和通讯方式提供基本技术手段

- A. ①②③  
B. ①②④  
C. ①③④  
D. ②③④

## 第II卷（非选择题共40分）

本部分共两大题，共40分。

41.(20分)多元·联系·整体。

材料一：

各个古代文明独立发展，因此在文化上也表现出百花齐放、百家争鸣的特点，大体说来，印度人重视宗教，中国人重视伦理教化，希腊人追求理性，罗马人注重实用，埃及人讲求来世。当然，这些特点不是绝对的，有些是各文明所具有的，有些则相互渗透。如佛教传入中国、东南亚、日本和朝鲜，希腊人曾统治埃及和西亚，罗马人曾领有东地中海和高卢等地区，并给这些地区的历史发展以巨大影响。不过，所有这些对当地原有的文明来说，很难说具有决定性的意义。占统治地位的，仍然是当地原有的文化。

——摘编自晏绍祥《世界上古史》

(1) 依据材料一，概括古代文明的特点。(3分)

材料二：



15 世纪的世界地图

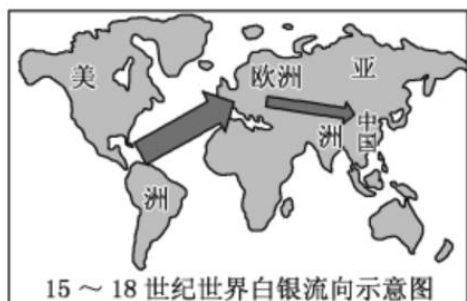


16 世纪的世界地图

说明：15 世纪的世界地图有欧洲、非洲、亚洲的地理方位，没有美洲；  
16 世纪的世界地图有了美洲，且各大洲、大洋的方位更加明晰，人们对世界地理的认识与今天已经相差不多。

(2) 指出上述史料的类型。结合所学，谈谈其在新航路开辟研究中的价值。(5分)

材料三：



1400 年到 1800 年间……中国不仅是亚洲纳贡贸易体系的中心，而且在整个世界经济中即使不是中心，也占据支配地位……它吸引和吞噬了大约世界生产的白银货币的一半。

——贡德·弗兰克《白银资本》

(3) 依据材料三，结合所学，对 15—18 世纪世界白银的流向及其原因进行说明和解释。(6分)

材料四：

18 世纪 60 年代产生了真正意义上的国际分工。这一时期，从欧洲输出的商品，主要是工业制成品，其中又以棉织品为大宗，这些产品主要输往落后国家和殖民地，殖民地则主要出口农矿原料，其中又以棉花和羊毛出口增长最快，这些原料主要出口到欧洲国家，特别是英国。19 世纪中期后，工业制成品、原料、食品等大宗商品在世界市场上的贸易额大幅度增长。工业国已经不再是英国一个国家，还包括欧洲和北美各国，还有亚洲的日本，而原料的供应地也不再是少数殖民地，而是世界所有落后的地区。



(4) 依据材料四，概括 18 世纪中后期至 19 世纪末世界经济的变化，结合所学分析变化的原因。(6 分)

42. (20 分) 近代以来，国际格局风云变幻。

材料一：

1763 至 1914 年这一时期是欧洲直接或间接地成为全球主人的时期，在世界历史上具有突出地位。欧洲的霸权不仅在政治领域——以大殖民帝国的形式——表现得很明显，而且在经济和文化领域也表现得很明显。

到 1914 年时，欧洲已称霸全球。这是一个漫长过程的顶峰，这一漫长过程从 500 年前葡萄牙船长开始沿非洲海岸摸索前进时就开始了。随着权力的史无前例的集中，欧亚大陆的一个半岛已成为世界的中心。

——摘编自斯塔夫里阿诺斯《全球通史》

(1) 依据材料一，概括 18 世纪中期到 20 世纪初国际格局的特点，结合所学从政治、经济角度加以说明。(5 分)

材料二

美国历史学家杰弗里·巴勒克拉夫说：“可以毫不夸张地说，美国于 1917 年参战是历史发展的转折点，它标志了欧洲政治时代向全球政治时代转变中的决定性阶段。”

美国总统威尔逊的顾问豪斯上校在 1919 年 3 月 22 日写道：“每天都有不满的呼声。人民需要和平。布尔什维克主义正越来越为各地的人们所接受。”

第一次世界大战使欧洲工业遭到严重破坏，并失去了大量的海外投资，海外市场也由于在战争中发展起来的美洲和亚洲的工业竞争而不断萎缩。到 1929 年美国的工业产量占世界总产量的 42.2%，这一产量是包括苏联在内的所有欧洲国家的总和。

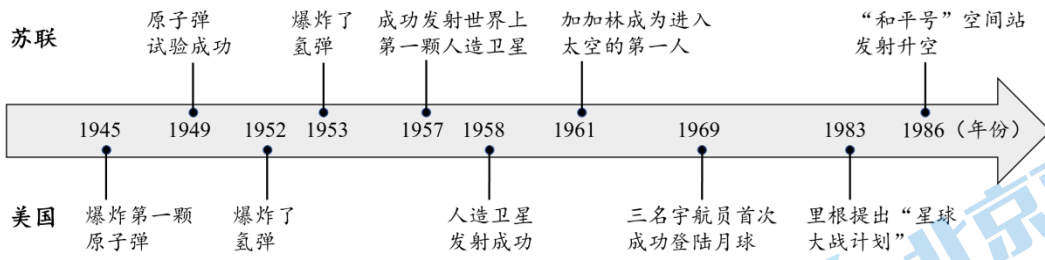
法国驻印度支那总督于 1926 年写道：“这场把欧洲浸润在血泊中的战争已经……唤醒了远离我们的土地上人民的独立意识……过去几年里，一切都变了。不论是人还是思想，连亚洲本身都改变了。”

——摘自徐蓝《20 世纪国际格局的演变——一种宏观叙述》

(2) 依据材料二，结合所学，概述第一次世界大战前后国际秩序的变化。(4 分)

材料三





根据联合国的估计，全世界用于研究与发展的入力物力资源中，军事方面的研究与发展占 20—25%，每年约 700—900 亿美元，其中美苏两国共占 85%。全世界从事军事研究与发展的科学家和工程师约 50 万，大多数集中在美苏两国。

——俞行《战后美苏军备竞赛的不断升级及其原因和影响》

(3) 依据材料三，结合所学，概括战后美苏竞争的特点，并进行简要评价。(6 分)



①1955 年万隆会议



②1961 年首届不结盟会议



③1971 年 中国恢复联合国合法席位



④1991 年 12 月 25 日，苏联国旗从克里姆林宫上空降落



⑤1993 年 欧盟建立

材料四：

(4) 指出以上图片共同反映的历史发展趋势，任选一幅图片，为所选图片写一份简短的解说词。(5 分)

# 参考答案

## 第I卷（选择题 共60分）

题号	1	2	3	4	5	6	7	8	9	10
答案	A	B	D	D	A	C	B	D	A	D
题号	11	12	13	14	15	16	17	18	19	20
答案	D	C	A	A	D	C	B	D	D	C
题号	21	22	23	24	25	26	27	28	29	30
答案	A	B	A	C	B	C	A	B	D	B
题号	31	32	33	34	35	36	37	38	39	40
答案	B	D	B	B	A	B	C	A	C	C

## 第II卷（非选择题 共40分）

41.

(1) 特点：独立发展、各具特色、相互渗透。(3分)

(2) 图像史料。从两幅地图的变化可以印证新航路开辟以后，探险家陆续进行的海上探险的基础之上，人类的地理知识更加丰富，对世界了解的更加全面。各大洲相对孤立状态被打破，世界开始连成一个整体。(5分)

(3) 从材料中可以看出白银由美洲流向欧洲，原因是新航路开辟及早期殖民扩张，促进了资本主义经济的发展。流入欧洲的白银有一部分流向亚洲，特别是中国。原因是中国明清时期农业、手工业、商业较为发达，丝、茶、瓷器等商品对外国有吸引力，使中国在整个世界经济中处于重要地位。(6分)

(4) 世界贸易额大幅增长；世界市场范围扩大，涵盖了工业国和世界所有落后地区。(每点1分，共2分)

原因：主要资本主义国家完成工业革命，生产能力大大提高；资本主义国家凭借强大的经济和军事实力竭力在全世界拓展市场，抢占原料产地，扩大了世界贸易范围；世界殖民体系的建立，将越来越多的国家纳入资本主义市场之中；交通工具的进步便捷了世界各地的联系。(任意2点即可，共4分)

42.

(1) 特点：欧洲称霸全球，逐渐成为世界的中心。(1分)

说明：政治上，建立了资本主义世界殖民体系，形成人类历史上由少数资本主义国家奴役和控制世界上绝大部分土地和人口的极不合理的状态；经济上，西欧的工业革命影响世界，其它地区卷入资本主义世界经济体系，成为资本主义国家的原料产地、商品市场和投资场所。(4分)

(2) 变化：一战动摇了欧洲的世界优势地位，开始改变以欧洲为中心的国际格局；十月革命后，资本主义和社会主义两种社会制度并存与竞争的局面出现；美国实力和国际地位提升；战后民族解放运动斗争高涨，沉重打击了帝国主义殖民体系。(4分)

(3) 特点：延续时间长；双方投入大；主要集中在核武器和空间技术的探索方面；竞争不断升级等。(任

意 2 点，给 2 分)

评价：二战后，美苏两国为了谋求世界霸权，展开了激烈的竞争。美苏竞争加剧了冷战，使人类面临核战争的危险，人类的生存和发展受到严重威胁；核威慑有效防止了美苏两个核大国之间的军事冲突，一定程度上维持了世界的和平；造成了人力、物力、财力和科学资源的巨大浪费；客观上促进了科学技术的快速发展。(4 分)

(4) 世界多极化趋势。(1 分)

①1955 年，第一次在没有西方殖民国家参加的情况下，亚非国家和地区举行了万隆会议，诞生了和平共处的“万隆精神”，为第三世界崛起奠定了基础。

②1961 年，首届不结盟会议的召开，是发展中国家以独立的政治力量登上国际政治舞台的重要标志，冲击了两极格局，促进了多极化的发展。(4 分)

③1971 年，中国恢复联合国合法席位，中国国际地位提高，成为国际社会不可忽视的政治力量，冲击了两极格局，促进了多极化的发展。(4 分)

④1991 年苏联解体，标志两极格局瓦解，多极化趋势快速发展。(4 分)

⑤1993 年，欧盟在欧洲共同体基础上成立，在国际舞台上发挥重要的作用，促进了多极化的发展。(4 分)

## 关于我们

北京高考在线创办于 2014 年，隶属于北京太星网络科技有限公司，是北京地区极具影响力的中学升学服务平台。主营业务涵盖：北京新高考、高中生涯规划、志愿填报、强基计划、综合评价招生和学科竞赛等。

北京高考在线旗下拥有网站门户、微信公众平台等全媒体矩阵生态平台。平台活跃用户 40W+，网站年度流量数千万量级。用户群体立足于北京，辐射全国 31 省市。

北京高考在线平台一直秉承 “精益求精、专业严谨” 的建设理念，不断探索 “K12 教育+互联网+大数据” 的运营模式，尝试基于大数据理论为广大中学和家长提供新鲜的高考资讯、专业的高考政策解读、科学的升学规划等，为广大高校、中学和教科研单位提供 “衔接和桥梁纽带” 作用。

平台自创办以来，为众多重点大学发现和推荐优秀生源，和北京近百所中学达成合作关系，累计举办线上线下升学公益讲座数百场，帮助数十万考生顺利通过考入理想大学，在家长、考生、中学和社会各界具有广泛的口碑影响力

未来，北京高考在线平台将立足于北京新高考改革，基于对北京高考政策研究及北京高校资源优势，更好的服务全国高中家长和学生。



微信搜一搜

北京高考资讯