

参考答案

一、选择题共 10 小题，每小题 4 分，共 40 分.在每小题列出的四个选项中，选出符合题目要求的一项.

1. 【答案】B

【分析】由直线的斜率与倾斜角的关系可得.

【详解】设直线倾斜角为 α ，

A 选项，直线 $y = -2x + 1$ ，斜率 $k = \tan \alpha = -2 < 0$ ，即倾斜角为钝角；

B 选项，直线 $y = x + 1$ ，斜率 $k = \tan \alpha = 1 > 0$ ，倾斜角为 45° ，是锐角；

C 选项，直线 $y = 1$ ，斜率 $k = \tan \alpha = 0$ ，即倾斜角为 0° ，不是锐角；

C 选项，直线 $x = 2$ ，斜率不存在，即倾斜角为 90° ，是直角不是锐角.

故选：B.

2. 【答案】A

【分析】应用向量线性运算及数量积的坐标表示求 $\vec{a} \cdot (\vec{b} + \vec{c})$ 的值.

【详解】由题设 $\vec{b} + \vec{c} = (2, 2, 5)$ ，则 $\vec{a} \cdot (\vec{b} + \vec{c}) = (2, -3, 1) \cdot (2, 2, 5) = 4 - 6 + 5 = 3$.

故选：A

3. 【答案】B

【分析】由直线的方向向量与斜率的关系求得直线斜率，根据点斜式建立直线方程，化简为直线的一般式方程即可得解.

【详解】解：∵ l 的方向向量为 $(1, -2)$ ，

∴ 直线 l 的斜率 $k = \frac{-2}{1} = -2$ ，

又∵ 直线 l 过点 $(-3, -2)$ ，

∴ 直线 l 的方程为： $y + 2 = -2(x + 3)$ ，即 $2x + y + 8 = 0$.

故选：B.

4. 【答案】A

【分析】

计算直线平行等价于 $a = 1$ 或 $a = -2$ ，根据范围大小关系得到答案.

【详解】直线 $l_1: ax + 2y = 0$ 与直线 $l_2: x + (a + 1)y + 4 = 0$ 平行，则 $a(a + 1) = 2$ ， $a = 1$ 或 $a = -2$ ，验证均不重合，满足.

故“ $a = 1$ ”是“直线 $l_1: ax + 2y = 0$ 与直线 $l_2: x + (a + 1)y + 4 = 0$ 平行”的充分不必要条件.

故选：A.

关注北京高考在线官方微信：[京考一点通](#)（微信号：[bjgkzx](#)），获取更多试题资料及排名分析信息。

【点睛】 本题考查了充分不必要条件，意在考查学生的计算能力和推断能力.

5. 【答案】 D

【分析】 根据 $\vec{a}, \vec{b}, \vec{c}$ 列方程，根据空间向量坐标的线性运算求解出 z 的值.

【详解】 由于 $\vec{a}, \vec{b}, \vec{c}$ 共面，所以存在 λ, μ ，使得 $\vec{a} = \lambda\vec{b} + \mu\vec{c}$ ，即

$$(1, 0, 1) = (-2\lambda, 2\lambda, \lambda) + (3\mu, 4\mu, z\mu) = (-2\lambda + 3\mu, 2\lambda + 4\mu, \lambda + z\mu),$$

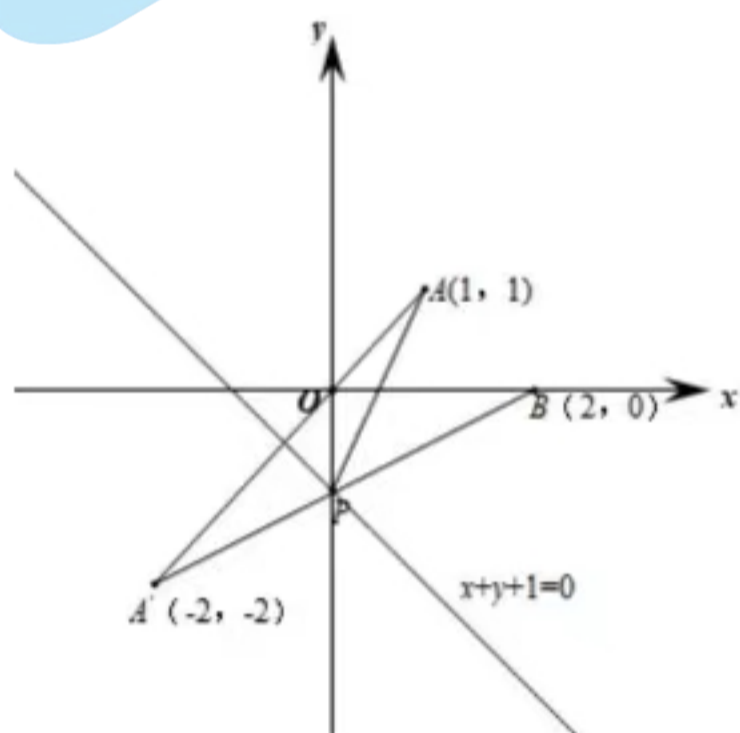
$$\text{所以 } \begin{cases} 1 = -2\lambda + 3\mu \\ 0 = 2\lambda + 4\mu \\ 1 = \lambda + z\mu \end{cases}, \text{ 解得: } \mu = \frac{1}{7}, z = 9, \lambda = -\frac{2}{7}, \text{ 所以 } z = 9.$$

故选: D.

6. 【答案】 D

【分析】 由 $\sqrt{(x-1)^2 + (y-1)^2} + \sqrt{(x-2)^2 + y^2}$ 表示直线 $x+y+1=0$ 上一动点 $P(x, y)$ 到定点 $A(1, 1), B(2, 0)$ 的距离之和，利用数形结合法求解.

【详解】 解: $\sqrt{(x-1)^2 + (y-1)^2} + \sqrt{(x-2)^2 + y^2}$ 表示直线 $x+y+1=0$ 上一动点 $P(x, y)$ 到定点 $A(1, 1), B(2, 0)$ 的距离之和，如图所示:



设点 $A(1, 1)$ 关于直线 $x+y+1=0$ 的对称点为 $A'(x_0, y_0)$,

$$\text{则 } \begin{cases} \frac{y_0 - 1}{x_0 - 1} = 1 \\ \frac{x_0 + 1}{2} + \frac{y_0 + 1}{2} + 1 = 0 \end{cases}, \text{ 解得 } \begin{cases} x_0 = -2 \\ y_0 = -2 \end{cases},$$

所以对称点为 $A'(-2, -2)$ ，则 $|A'B| = \sqrt{(-2-2)^2 + (-2-0)^2} = 2\sqrt{5}$

由图知: $\sqrt{(x-1)^2 + (y-1)^2} + \sqrt{(x-2)^2 + y^2}$ 的最小值为 $2\sqrt{5}$,

故选: D

7. 【答案】 C

【分析】根据题意，可得 $\overrightarrow{DC} = \overrightarrow{DB} + \overrightarrow{BA} + \overrightarrow{AC}$ ，再由空间向量的模长计算公式，代入计算，即可得到结果。

【详解】由二面角的平面角的定义知 $\langle \overrightarrow{BD}, \overrightarrow{AC} \rangle = 120^\circ$ ，

$$\therefore \overrightarrow{BD} \cdot \overrightarrow{AC} = |\overrightarrow{BD}| |\overrightarrow{AC}| \cos \langle \overrightarrow{BD}, \overrightarrow{AC} \rangle = 2 \times 2 \times \cos 120^\circ = -2,$$

由 $AC \perp l, BD \perp l$ ，得 $\overrightarrow{AC} \cdot \overrightarrow{BA} = 0, \overrightarrow{BD} \cdot \overrightarrow{BA} = 0$ ，又 $\overrightarrow{DC} = \overrightarrow{DB} + \overrightarrow{BA} + \overrightarrow{AC}$ ，

$$\begin{aligned} \therefore |\overrightarrow{DC}|^2 &= (\overrightarrow{DB} + \overrightarrow{BA} + \overrightarrow{AC})^2 = \overrightarrow{DB}^2 + \overrightarrow{BA}^2 + \overrightarrow{AC}^2 + 2\overrightarrow{DB} \cdot \overrightarrow{BA} + 2\overrightarrow{DB} \cdot \overrightarrow{AC} + 2\overrightarrow{BA} \cdot \overrightarrow{AC} \\ &= 2^2 + 2^2 + 2^2 - 2\overrightarrow{BD} \cdot \overrightarrow{AC} = 12 - 2 \times (-2) = 16, \end{aligned}$$

所以 $|\overrightarrow{DC}| = 4$ ，即 $CD = 4$ 。

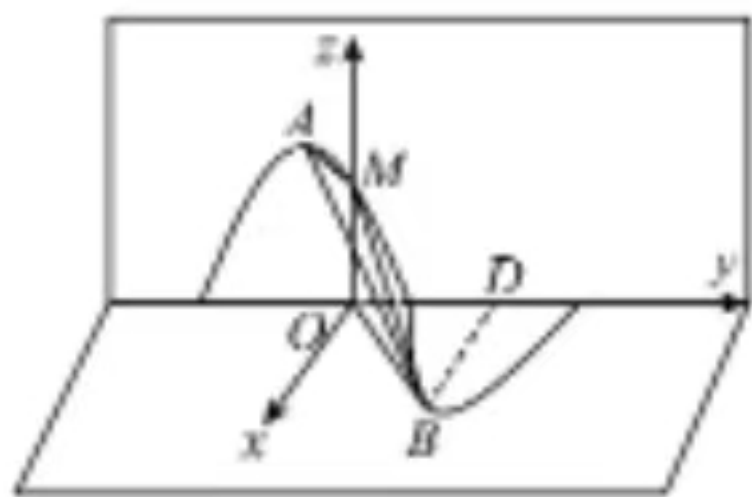
故选：C。

8. 【答案】C

【分析】根据给定条件，求出图1中点 A, B, D, M 的坐标，建立空间直角坐标系，求出图2中点 A, B, D, M 的坐标，再逐项判断作答。

【详解】在图1中，由 $f(x) = \sin\left(\pi x + \frac{5\pi}{6}\right)$ ，得 $A\left(-\frac{1}{3}, 1\right)$ ， $B\left(\frac{2}{3}, -1\right)$ ， $D\left(\frac{2}{3}, 0\right)$ ， $M\left(0, \frac{1}{2}\right)$ ，

在图2中，建立如图所示的空间直角坐标系 $O-xyz$ ，



则 $A\left(0, -\frac{1}{3}, 1\right)$ ， $B\left(1, \frac{2}{3}, 0\right)$ ， $M\left(0, 0, \frac{1}{2}\right)$ ， $D\left(0, \frac{2}{3}, 0\right)$ ，

则 $\overrightarrow{AB} = (1, 1, -1)$ ，得 $|\overrightarrow{AB}| = \sqrt{3}$ ，A 正确。

设平面 ABM 的法向量为 $\vec{n} = (x, y, z)$ ， $\overrightarrow{AM} = \left(0, \frac{1}{3}, -\frac{1}{2}\right)$ ，

$$\text{则 } \begin{cases} \vec{n} \cdot \overrightarrow{AB} = 0 \\ \vec{n} \cdot \overrightarrow{AM} = 0 \end{cases}, \text{ 即 } \begin{cases} x + y - z = 0 \\ \frac{1}{3}y - \frac{1}{2}z = 0 \end{cases}, \text{ 取 } y = 3, \text{ 则 } z = 2, x = -1,$$

所以平面 ABM 的一个法向量 $\vec{n} = (-1, 3, 2)$ ，

所以点 D 到平面 ABM 的距离为 $\frac{|\overrightarrow{DB} \cdot \vec{n}|}{|\vec{n}|} = \frac{1}{\sqrt{14}} = \frac{\sqrt{14}}{14}$ ，B 正确。

取 $\vec{a} = \overline{DB} = (1, 0, 0)$, $\vec{u} = \frac{\overline{AB}}{|\overline{AB}|} = \frac{\sqrt{3}}{3}(1, 1, -1) = \left(\frac{\sqrt{3}}{3}, \frac{\sqrt{3}}{3}, -\frac{\sqrt{3}}{3}\right)$,

则 $\vec{a}^2 = 1$, $\vec{a} \cdot \vec{u} = \frac{\sqrt{3}}{3}$, 所以点 D 到直线 AB 的距离为 $\sqrt{\vec{a}^2 - (\vec{a} \cdot \vec{u})^2} = \frac{\sqrt{6}}{3}$, C 错误.

平面 OBD 的一个法向量为 $\vec{m} = (0, 0, 1)$,

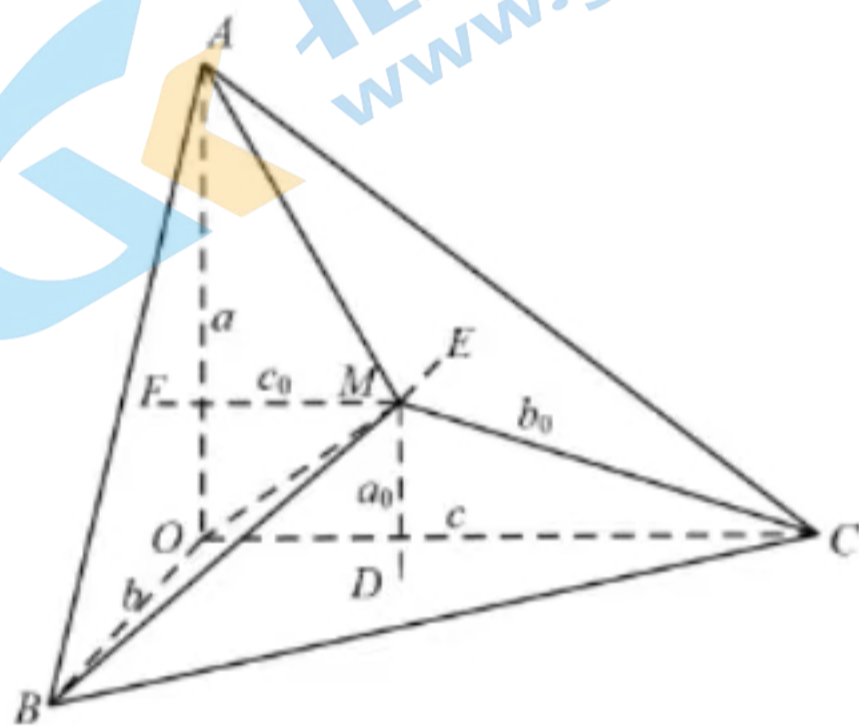
则平面 OBD 与平面 ABM 夹角的余弦值为 $\frac{|\vec{m} \cdot \vec{n}|}{|\vec{m}| |\vec{n}|} = \frac{2}{1 \times \sqrt{14}} = \frac{\sqrt{14}}{7}$, D 正确.

故选: C.

9. 【答案】D

【分析】根据 $V_{O-ABC} = V_{M-OBC} + V_{M-OAC} + V_{M-OAB}$, 利用等体积法即可求得答案.

【详解】如图, 设点 M 到平面 OBC , 平面 OAC , 平面 OAB 的投影点分别为 D, E, F , 连接 $MD, ME, MF, MA, MB, MC, MO$, 则 $V_{O-ABC} = V_{M-OBC} + V_{M-OAC} + V_{M-OAB}$.



而 $V_{O-ABC} = \frac{1}{3} \times \frac{1}{2} \times abc = \frac{1}{6} abc$,

$V_{M-OBC} = \frac{1}{3} \times \frac{1}{2} \times bca_0 + \frac{1}{3} \times \frac{1}{2} \times abc_0 + \frac{1}{3} \times \frac{1}{2} \times acb_0 = \frac{1}{6} (bca_0 + abc_0 + acb_0)$,

所以 $\frac{1}{6} abc = \frac{1}{6} (bca_0 + abc_0 + acb_0)$,

则 $\frac{a_0}{a} + \frac{b_0}{b} + \frac{c_0}{c} = 1$, 则 $2\left(\frac{a_0}{a} + \frac{b_0}{b} + \frac{c_0}{c}\right) = 2$,

故选: D.

10. 【答案】B

【分析】点 $(0, 2)$ 到直线系 $M: x \cos \theta + (y - 2) \sin \theta = 1 (0 \leq \theta \leq 2\pi)$ 中每条直线的距离

$d = \frac{1}{\sqrt{\cos^2 \theta + \sin^2 \theta}}$, 直线系 $M: x \cos \theta + (y - 2) \sin \theta = 1 (0 \leq \theta \leq 2\pi)$ 表示圆 $x^2 + (y - 2)^2 = 1$ 的切线

的集合. 从切线的角度逐一判断各个命题即可得到答案.

【详解】因为点 $(0,2)$ 到直线系 $M: x \cos \theta + (y-2) \sin \theta = 1 (0 \leq \theta \leq 2\pi)$ 中每条直线的距离

$$d = \frac{1}{\sqrt{\cos^2 \theta + \sin^2 \theta}},$$

直线系 $M: x \cos \theta + (y-2) \sin \theta = 1 (0 \leq \theta \leq 2\pi)$ 表示圆 $x^2 + (y-2)^2 = 1$ 的切线的集合.

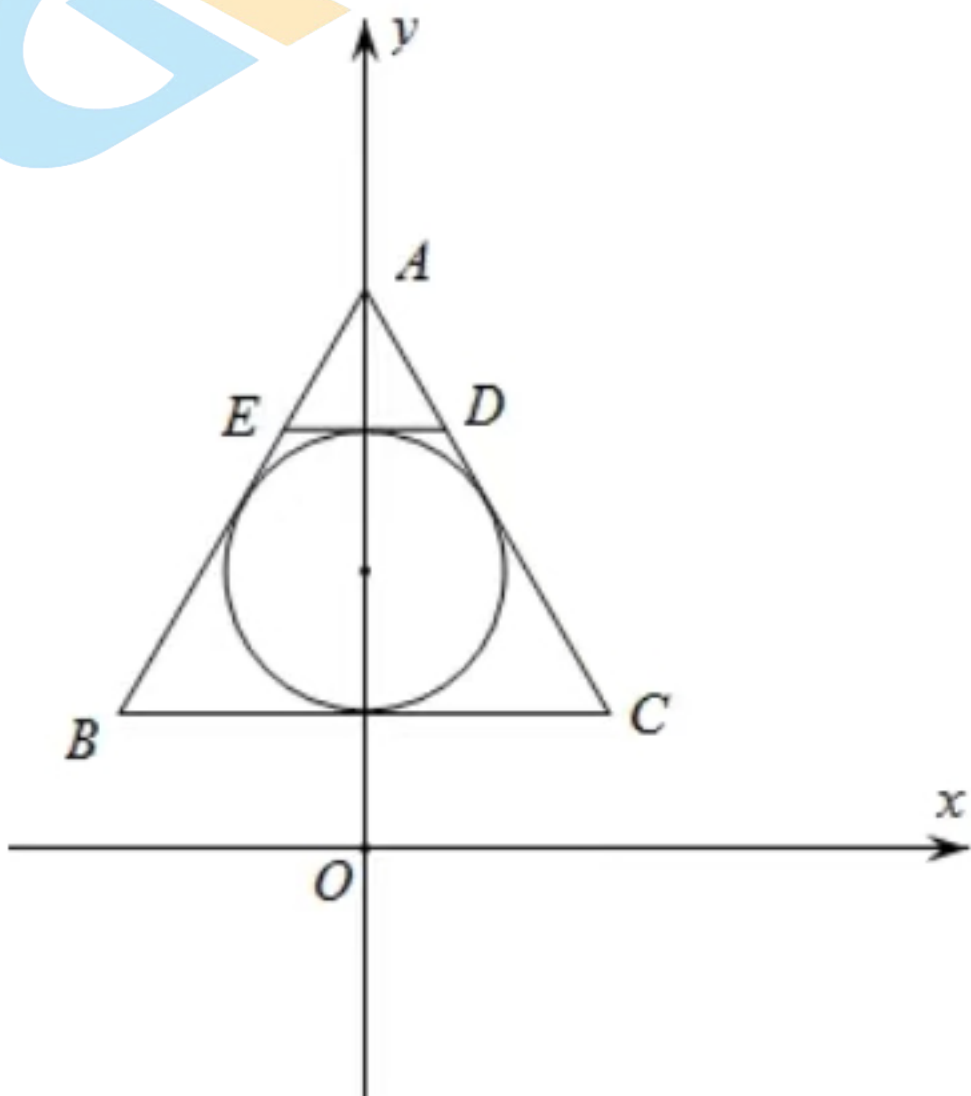
①: 由于直线系表示圆 $x^2 + (y-2)^2 = 1$ 的所有切线, 其中存在两条切线平行, M 中所有直线均经过一个定点不可能, 故①不正确;

②: 直线系表示圆 $x^2 + (y-2)^2 = 1$ 的所有切线, 故圆内部的点不在 M 中的任一条直线上, 所以存在无数个不在 M 中的任一条直线上, 故②正确;

③: 由于圆的所有外切正多边形的边都是圆的切线, 所以对于任意整数 $n (n \geq 3)$, 存在正 n 边形, 其所有边均在 M 中的直线上, 故③正确;

④: 如图, M 中的直线所能围成的正三角形有两类, 其一是如 $\triangle ABC$ 是圆的外切三角形, 此类面积都相等, 另一类是在圆同一侧, 如 $\triangle ADE$ 型, 此类面积相等, 但两类之间面积不等, 所以面积大小不一定相等, 故④不正确.

故选: B.



二、填空题共 5 小题, 每小题 5 分, 共 25 分

11. 【答案】 $\frac{21}{2}$ ##10.5

【分析】由向量平行可设 $m = tn$, 可得
$$\begin{cases} 8 = 2bt \\ 3 = 6t \\ a = 5t \end{cases}$$
, 解方程即可得解.

【详解】由 $\vec{m} // \vec{n}$ 设 $m = tn$ ，则
$$\begin{cases} 8 = 2bt \\ 3 = 6t \\ a = 5t \end{cases}, \text{解得} \begin{cases} b = 8 \\ a = \frac{5}{2} \end{cases}$$

所以 $a+b = \frac{21}{2}$ ，

故答案为： $\frac{21}{2}$ 。

12. 【答案】 2

【分析】根据平行直线间距离公式可直接求得结果。

【详解】由平行直线间距离公式可得： l_1, l_2 之间的距离 $d = \frac{8+2}{\sqrt{3^2 + (-4)^2}} = 2$ 。

故答案为：2。

13. 【答案】 $\left[0, \frac{3}{4}\right]$

【分析】已知等式变形后得到圆方程，找出圆心和半径，令 $t = \frac{y-2}{x-4}$ ，得到 $tx - y - 4t + 2 = 0$ ，根据直线和圆有公共点列式求解即可。

【详解】令 $t = \frac{y-2}{x-4}$ ，即 $tx - y - 4t + 2 = 0$ ，表示一条直线，

又方程 $x^2 + y^2 - 2x - 2y + 1 = 0$ 可化为 $(x-1)^2 + (y-1)^2 = 1$ ，表示圆心为 $(1,1)$ ，半径为 1 的圆，

由题意可知圆与直线有公共点，

所以圆心到直线的距离 $d = \frac{|t-1-4t+2|}{\sqrt{t^2+1}} \leq 1$ ，解得 $0 \leq t \leq \frac{3}{4}$ ，

即 $\frac{y-2}{x-4}$ 的取值范围是 $\left[0, \frac{3}{4}\right]$ ，

故答案为： $\left[0, \frac{3}{4}\right]$

14. 【答案】 ①. $\frac{11\sqrt{5}}{5} + 4$ ②. $3\sqrt{2}$

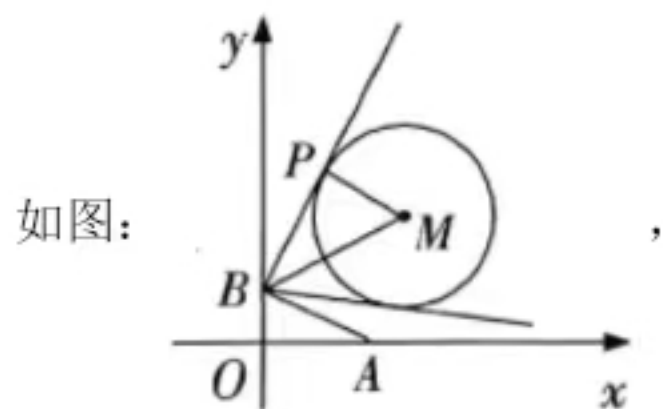
【分析】先求出直线 AB 的方程，由圆心到直线的距离加上半径可得最大值；找到当 $\angle PAB$ 最大时 P 点所在的位置，再结合勾股定理可得 $|BP|$ 的值。

【详解】由题意可得 AB 的直线方程为 $\frac{x}{4} + \frac{y}{2} = 1$ ，即 $x + 2y - 4 = 0$ ，

圆的圆心坐标为 $(5,5)$ ，半径为 4，

圆心(5,5)到直线 AB 的距离为 $\frac{|5+2 \times 5-4|}{\sqrt{1+4}} = \frac{11\sqrt{5}}{5}$,

所以点 P 到直线 AB 的距离的最大值为 $\frac{11\sqrt{5}}{5} + 4$,



当 $\angle PAB$ 最大或最小时, 直线 PB 与圆相切, 上图的 P 点位置满足 $\angle PAB$ 最大的情况,

$$|BM| = \sqrt{(0-5)^2 + (2-5)^2} = \sqrt{34}, \quad |PM| = 4, \quad \text{所以 } |BP| = \sqrt{34-16} = 3\sqrt{2},$$

故答案为: $\frac{11\sqrt{5}}{5} + 4; 3\sqrt{2}$.

15. 【答案】②③

【分析】①问题化为对于任意点 H , 是否存在点 P , 使面 $AHP \perp$ 面 A_1B_1C , 由已知证面 $A_1B_1C \perp$ 面 BB_1C_1C , 结合面面垂直判定判断存在性即可; ②将 $\triangle ABC$ 绕 BC 翻折到平面 BB_1C 内, 证 $\triangle AB_1C$ 为等边三角形, 进而确定 $f(x,y)$ 的最小值; ③ P 为 CB_1 的中点, H 为 $\triangle AB_1C$ 的重心, 平面 BCC_1B_1 中, 延长

HP 交 B_1C_1 于点 M , 取 B_1M 的中点 Q , N 为 A_1C_1 的中点, 证过点 A, H, P 的三棱柱的截面为梯形

$AHMN$, 根据已知求其面积; ④由 $HB \geq \frac{\sqrt{15}}{2}$ 时, $AH \geq \frac{3\sqrt{3}}{2}$, 进而得到 $AH + HR \leq f(x,y) \leq 2AH$,

几何法确定不等式两端的范围, 即可判断.

【详解】①因为三棱锥 $ABC - A_1B_1C_1$ 为直三棱锥, 所以 $BB_1 \perp$ 面 $A_1B_1C_1$, 又 $A_1B_1 \subset$ 面 $A_1B_1C_1$,

所以 $BB_1 \perp A_1B_1$, 又 $\angle ABC = 90^\circ$, 所以 $\angle A_1B_1C_1 = 90^\circ$, 所以 $A_1B_1 \perp B_1C_1$,

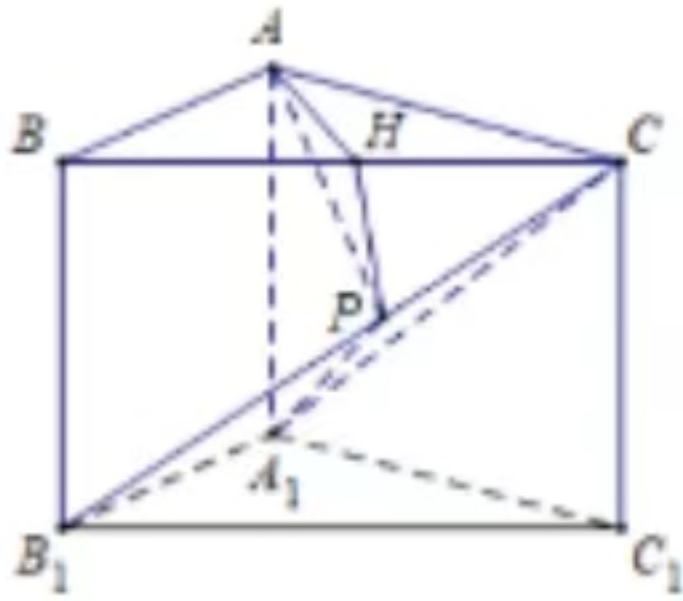
由 $BB_1 \cap B_1C_1 = B_1$, $BB_1, B_1C_1 \subset$ 面 BB_1C_1C , 故 $A_1B_1 \perp$ 面 BB_1C_1C , $A_1B_1 \subset$ 面 A_1B_1C ,

所以面 $A_1B_1C \perp$ 面 BB_1C_1C , 而 $H \in BC, P \in CB_1$ 且都在面 BB_1C_1C 内,

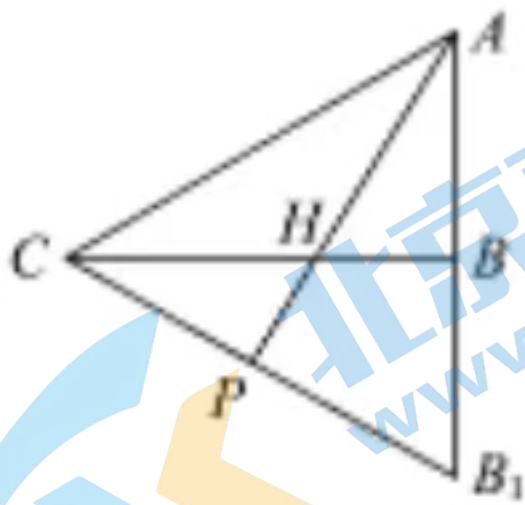
由于面 A_1B_1P 即为面 A_1B_1C , 要使面 $AHP \perp$ 面 A_1B_1P , 只需面 $AHP \perp$ 面 A_1B_1C ,

综上, $HP \perp$ 面 A_1B_1C 时, $HP \subset$ 面 AHP , 此时面 $AHP \perp$ 面 A_1B_1C , 即面 $AHP \perp$ 面 A_1B_1P ,

对于任意点 H , 只需对应 HP 平行于 $\triangle BCB_1$ 中 CB_1 边上的高时, 均满足要求, 错;



②将 $\triangle ABC$ 绕 BC 翻折到平面 BB_1C 内, 则 $AH + HP$ 的最小值为点 A 到直线 CB_1 的距离, 又 $AB = BB_1 = \sqrt{3}$, $BC = 3$, $\angle ABC = \angle B_1BC = 90^\circ$, 所以 $AC = CB_1 = AB_1 = 2\sqrt{3}$, 所以 A 到直线 CB_1 的距离为 3, 所以 $f(x, y)$ 的最小值为 3, 对;



③当 $f(x, y)$ 取最小时, P 为 CB_1 的中点, 因为 $\triangle AB_1C$ 为等边三角形, B 为 AB_1 的中点,

所以 H 为 $\triangle AB_1C$ 的重心, 故 $BH = \frac{1}{3}BC$,

在平面 BCC_1B_1 中, 延长 HP 交 B_1C_1 于点 M ,

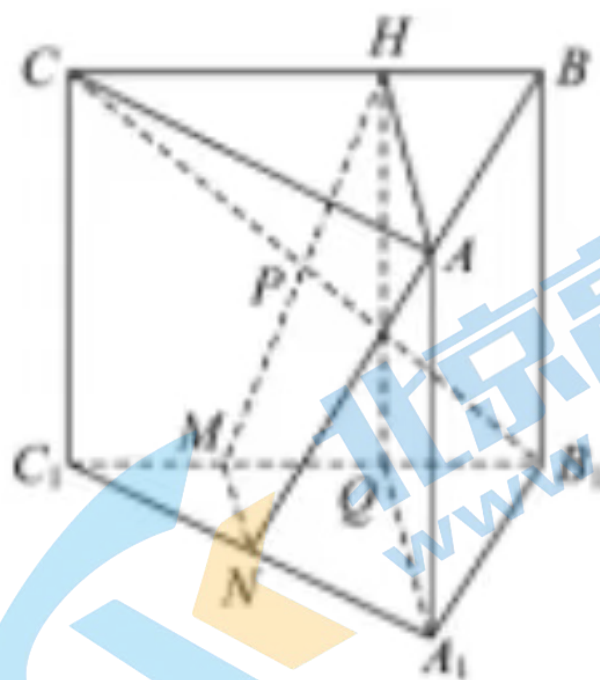
因为 $PC = PB_1$, $\angle PB_1M = \angle PCH$, $\angle B_1PM = \angle HPC$, 所以 $\triangle PB_1M \cong \triangle PCH$, 故 $B_1M = CH = \frac{2}{3}$,

取 B_1M 的中点 Q , N 为 A_1C_1 的中点, 则 $MN \parallel A_1Q$,

因为 $BH \parallel B_1Q$, $BH = B_1Q$, 所以四边形 BB_1QH 为平行四边形, 则 $HQ \parallel BB_1$, $HQ = BB_1$,

又 $AA_1 \parallel BB_1$, $AA_1 = BB_1$, 所以 $A_1Q \parallel AH$, 所以 $MN \parallel AH$,

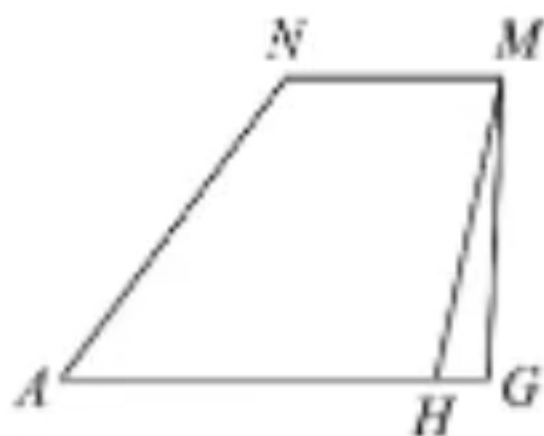
故过点 A, H, P 的三棱柱的截面为梯形 $AHMN$,



$$AH = \frac{2}{3}\sqrt{AC^2 - PC^2} = 2, \quad MN = \frac{1}{2}A_1Q = 1, \quad MH = \sqrt{MQ^2 + HQ^2} = 2,$$

$$AN = \sqrt{A_1A^2 + A_1N^2} = \sqrt{6},$$

如下图，过 M 作 $MG \perp AH$ ，设 $HG = x, MG = y$ ，



因为 $MH^2 = HG^2 + MG^2, AN^2 = (AG - MN)^2 + MG^2$ ，则
$$\begin{cases} x^2 + y^2 = MH^2 = 4 \\ (x+1)^2 + y^2 = 6 \end{cases}$$

所以 $x = \frac{1}{2}, y = \frac{\sqrt{15}}{2}$ ，则梯形 $AHMN$ 的面积为 $\frac{1}{2}(MN + AH) \cdot MG = \frac{3\sqrt{15}}{4}$ ，错；

④当 $HB \geq \frac{\sqrt{15}}{2}$ 时， $AH \geq \frac{3\sqrt{3}}{2}$ ，结合题设知 $AH + HP \leq AH + HB_1 = 2AH$ ，

在下图中过点 H 作 $HR \perp BC$ ，垂足为 R ，则 $AH + HP \geq AH + HR$ ，

综上， $AH + HR \leq f(x, y) \leq 2AH$ ，

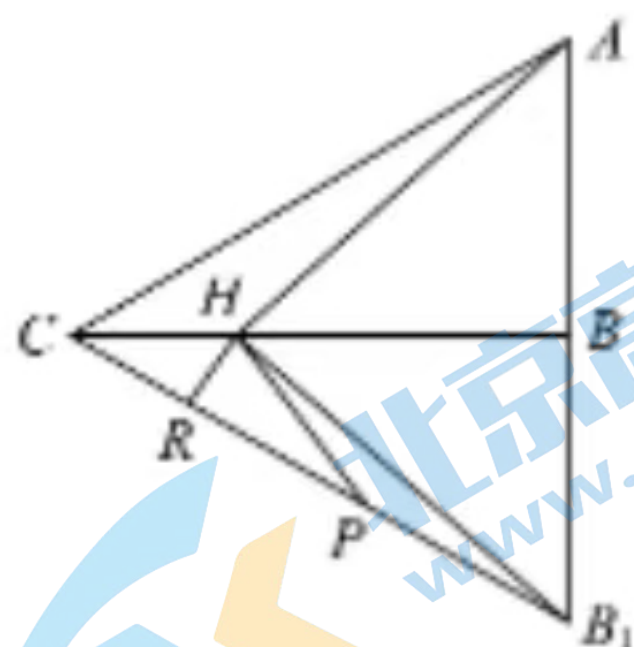
又 $AH + HR < AH + HC < AC + BC - BH < 2\sqrt{3} + 3 - \frac{\sqrt{15}}{2} < 3\sqrt{3}$ ， $2AH \geq 3\sqrt{3}$ ，

(对于 $2\sqrt{3} + 3 - \frac{\sqrt{15}}{2} < 3\sqrt{3}$ ：只需 $3 - \frac{\sqrt{15}}{2} < \sqrt{3}$ ，只需 $6 < \sqrt{12} + \sqrt{15}$ ，

即 $36 < (\sqrt{12} + \sqrt{15})^2 = 27 + 12\sqrt{5}$ ，则 $3 < 4\sqrt{5}$ 显然成立.)

故对于任意的点 H ，当 $HB \geq \frac{\sqrt{15}}{2}$ 时，都存在对应的点 P ，满足 $AH + HP = 3\sqrt{3}$ ，

故满足 $f(x, y) = 3\sqrt{3}$ 的点 P 有无数个，对；



故答案为：②③

【点睛】关键点点睛：③利用平面基本性质找到截面并证明其为梯形，求出相关线段长为关键；④注意取

$HB \geq \frac{\sqrt{15}}{2}$ 时, $AH \geq \frac{3\sqrt{3}}{2}$, 过点 H 作 $HR \perp BC$, 垂足为 R , 并得到 $AH + HR \leq f(x, y) \leq 2AH$ 为关键.

三、解答题共 5 小题, 共 55 分. 解答应写出文字说明、演算步骤或证明过程.

16. 【答案】(1) 详见解析

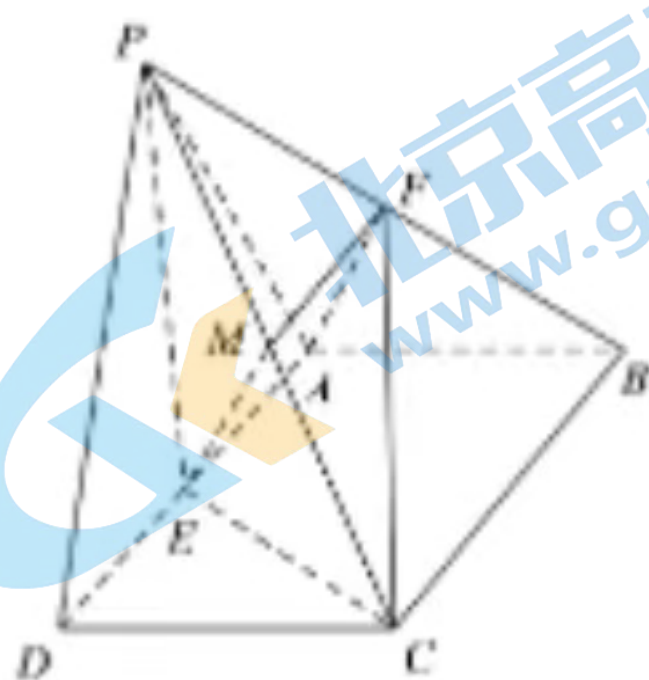
(2) $\frac{\sqrt{26}}{13}$

【分析】(1) 作出辅助线, 证明线线平行, 进而证明出线面平行;

(2) 建立空间直角坐标系, 利用空间向量求解线面角;

【小问 1 详解】

取 PC 的中点 M , 连接 MF , ME ,



因为 F 是 PB 的中点, 所以 MF 是三角形 PBC 的中位线, 所以 $MF \parallel BC$, 且 $MF = \frac{1}{2}BC$,

因为底面 $ABCD$ 为矩形, E 是 AD 的中点, 所以 $AE \parallel BC$, $AE = \frac{1}{2}BC$, 所以 $MF \parallel AE$, 且 $MF = AE$,

所以四边形 $AFME$ 是平行四边形, 故 $AF \parallel ME$,

因为 $AF \not\subset$ 平面 PCE , $ME \subset$ 平面 PCE , 所以 $AF \parallel$ 平面 PCE .

【小问 2 详解】

因为侧面 PAD 是正三角形, E 是 AD 的中点, 所以 $PE \perp AD$, 又因为侧面 $PAD \perp$ 底面 $ABCD$, 交线为 AD , 所以 $PE \perp$ 底面 $ABCD$,

以 E 为坐标原点, ED 所在直线为 x 轴, 取 BC 中点 H , EH 所在直线为 y 轴, EP 所在直线为 z 轴建立空间

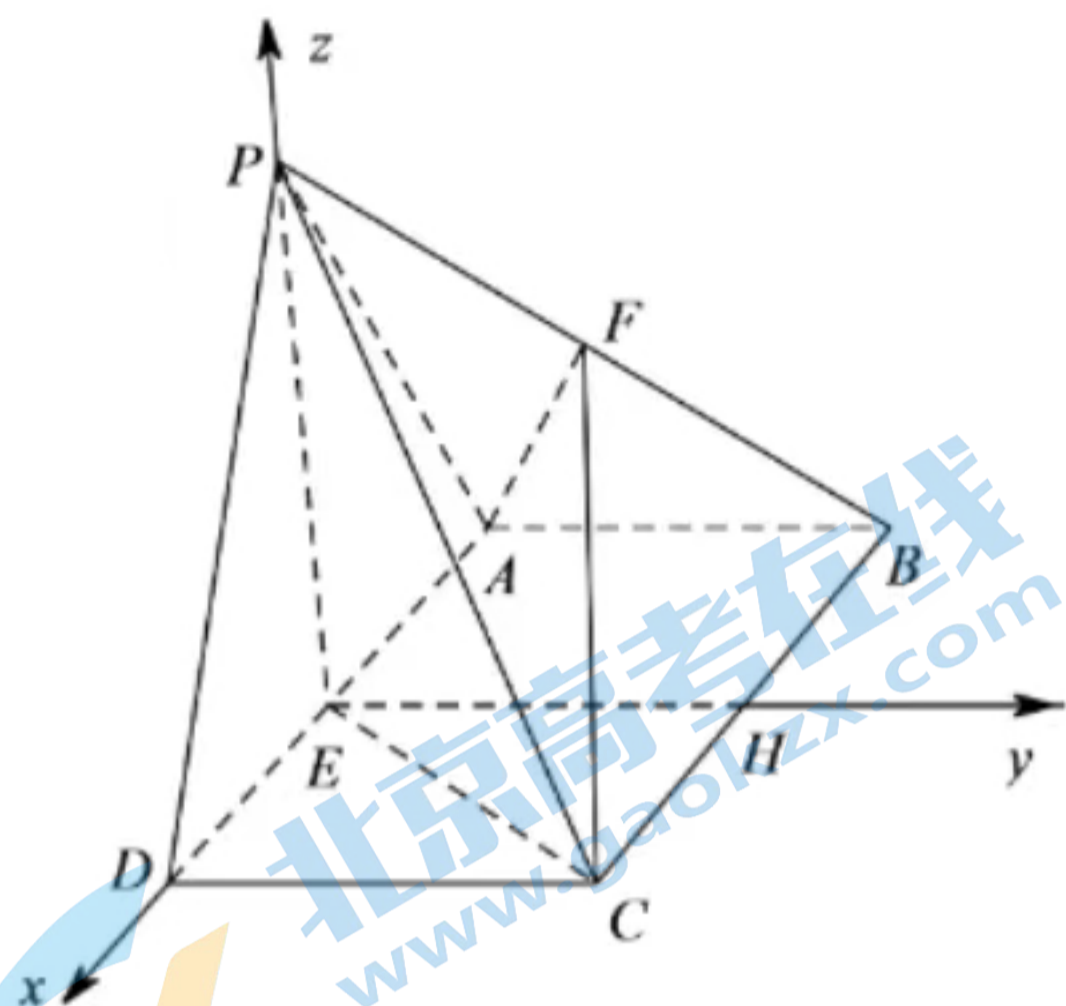
直角坐标系, $C(1,1,0)$, $P(0,0,\sqrt{3})$, $B(-1,1,0)$, $F(-\frac{1}{2}, \frac{1}{2}, \frac{\sqrt{3}}{2})$, $E(0,0,0)$,

设平面 PEC 的法向量 $\vec{m} = (x_1, y_1, z_1)$, 则 $\begin{cases} \vec{CE} \cdot \vec{m} = -x_1 - y_1 = 0 \\ \vec{EP} \cdot \vec{m} = \sqrt{3}z_1 = 0 \end{cases}$, 解得: $z_1 = 0$,

令 $x_1 = 1$ 得: $y_1 = -1$, 所以 $\vec{m} = (1, -1, 0)$, $\vec{CF} = (-\frac{3}{2}, -\frac{1}{2}, \frac{\sqrt{3}}{2})$,

设直线 CF 与平面 PCE 所成角为 α ，故 $\sin \alpha = \left| \cos \langle \overrightarrow{CF}, \overrightarrow{m} \rangle \right| = \frac{|\overrightarrow{CF} \cdot \overrightarrow{m}|}{|\overrightarrow{CF}| |\overrightarrow{m}|} = \frac{\sqrt{26}}{13}$ ；

所以直线 CF 与平面 PCE 所成角的正弦值为 $\frac{\sqrt{26}}{13}$ 。



17. 【答案】(1) AB 中点 $(1, 2)$ ， $C: (x-1)^2 + (y-2)^2 = 2$

(2) $l: x + y - 1 = 0$

【分析】(1) 根据中点坐标公式即可求得 A, B 的中点，即圆心坐标，利用两点间距离公式可求得直径 AB ，即可写出圆 C 的方程；

(2) 根据直线和圆的位置关系可得切线 l 的斜率，再利用点斜式方程即可求得切线 l 的方程。

【小问 1 详解】

由点 $A(0, 1)$ 和点 $B(2, 3)$ 是圆 C 直径的两个端点，

可得 AB 的中点即为圆心 C ，根据中点坐标公式可得 $C(1, 2)$ ，

即线段 AB 的中点坐标为 $C(1, 2)$ ，根据两点间距离公式得直径 $AB = \sqrt{(2-0)^2 + (3-1)^2} = 2\sqrt{2}$ ，

所以圆 C 的半径为 $r = \sqrt{2}$ ，

则圆的方程为 $C: (x-1)^2 + (y-2)^2 = 2$

【小问 2 详解】

根据题意可知直线 AB 与切线 l 垂直，直线 AB 的斜率为 $k_{AB} = \frac{3-1}{2-0} = 1$ ，

设切线 l 的斜率为 k ，满足 $k \cdot k_{AB} = -1$ ，得 $k = -1$ ；

又切线 l 过点 A ，利用直线的点斜式方程得 $l: y - 1 = -1 \times (x - 0)$ ；

即切线 l 的方程为 $l: x + y - 1 = 0$ 。

18. 【答案】(1) 见解析 (2) $\frac{2\sqrt{51}}{17}$

(3) 不存在, 理由见解析

【分析】(1) 根据面面垂直的性质即可得出结论;

(2) 如图, 以 D 为原点, 建立空间直角坐标系, 分别求出两个平面的法向量, 利用向量法即可得出答案;

(3) 假设存在, 设此时 $BF = \lambda BC$, 分别求出 $\overline{MF}, \overline{PC}$, 根据 $MF \parallel PC$, 可得存在唯一的实数 μ , 使得 $\overline{MF} = \mu \overline{PC}$, 列出方程组, 解得即可得出结论.

【小问 1 详解】

证明: 因为平面 $ABCD \perp$ 平面 PCD , 平面 $ABCD \cap$ 平面 $PCD = CD$, $AD \perp DC$, 所以 $AD \perp$ 平面 PCD ;

【小问 2 详解】

解: 作 z 轴 \perp 平面 $ABCD$, 则 z 轴在平面 PCD 中,

如图, 以 D 为原点, 建立空间直角坐标系,

则 $P(0, -1, \sqrt{3}), D(0, 0, 0), A(2, 0, 0), B(2, 1, 0), C(0, 2, 0)$,

则 $\overline{DA} = (2, 0, 0), \overline{DP} = (0, -1, \sqrt{3}), \overline{PC} = (0, 3, -\sqrt{3}), \overline{BC} = (-2, 1, 0)$,

设 $\vec{m} = (x_1, y_1, z_1)$ 为平面 PAD 的法向量, $\vec{n} = (x_2, y_2, z_2)$ 为平面 PBC 的法向量,

则有 $\begin{cases} \vec{m} \cdot \overline{DA} = 2x_1 = 0 \\ \vec{m} \cdot \overline{DP} = -y_1 + \sqrt{3}z_1 = 0 \end{cases}$, 可取 $\vec{m} = (0, \sqrt{3}, 1)$,

同理, 可取 $\vec{n} = (1, 2, 2\sqrt{3})$,

则 $\cos \langle \vec{m}, \vec{n} \rangle = \frac{\vec{m} \cdot \vec{n}}{|\vec{m}| |\vec{n}|} = \frac{2\sqrt{3} + 2\sqrt{3}}{2 \times \sqrt{17}} = \frac{2\sqrt{51}}{17}$,

所以平面 PAD 与平面 PBC 夹角的余弦值为 $\frac{2\sqrt{51}}{17}$;

【小问 3 详解】

解: 假设存在, 设此时 $BF = \lambda BC$,

$M\left(1, -\frac{1}{2}, \frac{\sqrt{3}}{2}\right)$,

$\overline{BF} = \lambda \overline{BC} = (-2\lambda, \lambda, 0)$, $\overline{MA} = \left(1, \frac{1}{2}, -\frac{\sqrt{3}}{2}\right)$,

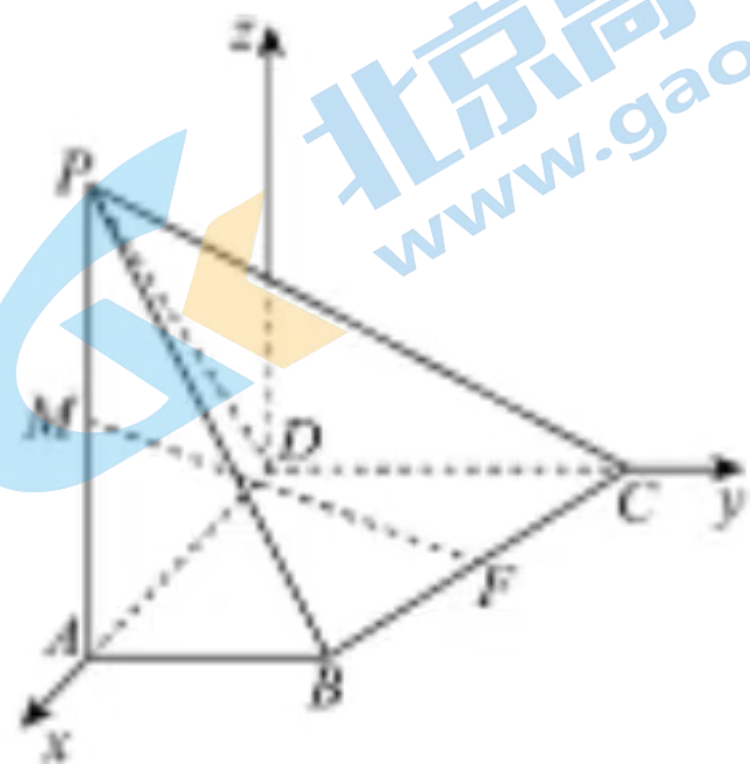
则 $\overrightarrow{MF} = \overrightarrow{MA} + \overrightarrow{AB} + \overrightarrow{BF} = \left(1-2\lambda, \frac{3}{2} + \lambda, -\frac{\sqrt{3}}{2}\right)$,

因为 $MF \parallel PC$, 则 $\overrightarrow{MF} \parallel \overrightarrow{PC}$,

所以存在唯一的实数 μ , 使得 $\overrightarrow{MF} = \mu \overrightarrow{PC}$, 即 $\left(1-2\lambda, \frac{3}{2} + \lambda, -\frac{\sqrt{3}}{2}\right) = (0, 3\mu, -\sqrt{3}\mu)$,

所以 $\begin{cases} 1-2\lambda = 0 \\ \frac{3}{2} + \lambda = 3\mu \\ -\frac{\sqrt{3}}{2} = -\sqrt{3}\mu \end{cases}$, 方程组无解, 与题设矛盾,

所以不存在一点 F , 使 $MF \parallel PC$.



19. 【答案】 19. $x^2 - x + y^2 = 0$ 或 $x^2 + y^2 - 5x - 4y + 4 = 0$

20. 存在; $x^2 + y^2 = 5$

【分析】 (1) 根据圆的一般方程确定圆心和半径, 由题意列出方程, 即可求得答案;

(2) 先求出点 M 的坐标, 假设符合题意的圆存在, 当直线斜率存在时, 设出直线的方程并和圆的方程联立, 可得根与系数的关系, 结合 $\angle ANM = \angle BNM$ 得出 $k_{NA} + k_{NB} = 0$, 即 $\frac{y_1}{x_1 - 5} + \frac{y_2}{x_2 - 5} = 0$, 利用根与

系数的关系化简求值, 结合验证直线 AB 的斜率不存在时是否适合题意, 即可得出结论.

【小问 1 详解】

由已知圆 $C: x^2 - (1+a)x + y^2 - ay + a = 0$ 知圆心为 $\left(\frac{1+a}{2}, \frac{a}{2}\right)$,

半径为 $R = \frac{\sqrt{(1+a)^2 + a^2 - 4a}}{2} = \frac{\sqrt{2a^2 - 2a + 1}}{2}$,

由于圆 C 与 y 轴相切, 故 $\left|\frac{1+a}{2}\right| = \frac{\sqrt{2a^2 - 2a + 1}}{2}$, 即 $a^2 - 4a = 0$,

解得 $a = 0$ 或 $a = 4$,

故圆 C 的方程为: $x^2 - x + y^2 = 0$ 或 $x^2 + y^2 - 5x - 4y + 4 = 0$;

【小问 2 详解】

当 $a = 5$ 时, 圆 C 方程为 $x^2 - 6x + y^2 - 5y + 5 = 0$,

令 $y = 0$, 则 $x^2 - 6x + 5 = 0$, 解得 $x = 1$ 或 $x = 5$,

故 $M(1, 0), N(5, 0)$,

假设存在圆 $O: x^2 + y^2 = r^2$, 使得过点 M 的任一条直线与该圆的交点为 A, B , 都有

$\angle ANM = \angle BNM$,

则必有 M 点在圆 $x^2 + y^2 = r^2$ 内, 即 $r > 1$;

当直线 AB 与 x 轴不垂直时, 设其方程为 $y = k(x - 1)$, 联立 $x^2 + y^2 = r^2$,

得 $(1 + k^2)x^2 - 2k^2x + k^2 - r^2 = 0$, 由于直线 AB 经过点 M , M 在圆 $x^2 + y^2 = r^2$ 内,

则必有 $\Delta > 0$,

设 $A(x_1, y_1), B(x_2, y_2)$, 则 $x_1 + x_2 = \frac{2k^2}{1 + k^2}, x_1x_2 = \frac{k^2 - r^2}{1 + k^2}$,

由 $\angle ANM = \angle BNM$ 可知 $k_{NA} + k_{NB} = 0$, 由题意知 $\angle ANM = \angle BNM$ 不可能为直角,

故 $x_1 \neq 5, x_2 \neq 5$, 故 $\frac{y_1}{x_1 - 5} + \frac{y_2}{x_2 - 5} = 0$,

即 $\frac{k[(x_1 - 1)(x_2 - 5) + (x_2 - 1)(x_1 - 5)]}{(x_1 - 5)(x_2 - 5)} = 0$,

即 $(x_1 - 1)(x_2 - 5) + (x_2 - 1)(x_1 - 5) = 2x_1x_2 - 6(x_1 + x_2) + 10 = 0$

即 $2 \times \frac{k^2 - r^2}{1 + k^2} - 6 \times \frac{2k^2}{1 + k^2} + 10 = \frac{10 - 2r^2}{1 + k^2} = 0$, 则 $r^2 = 5$,

当直线 AB 与 x 轴垂直时, A, B 关于 x 轴对称, 显然 $\angle ANM = \angle BNM$, 符合题意,

综上所述, 存在圆 $x^2 + y^2 = 5$, 使得过点 M 的任一条直线与该圆的交点为 A, B , 都有 $\angle ANM = \angle BNM$.

【点睛】关键点睛: 本题考查圆的方程的应用以及直线和圆的位置关系中的探索问题, 解答的关键是假设探索性问题的结论存在, 由此利用直线和圆的方程联立, 结合根与系数的关系, 由 $\angle ANM = \angle BNM$ 得 $k_{NA} + k_{NB} = 0$, 进而列方程化简求解, 即可得出结论.

20. 【答案】(1) A_4 具有性质 $P, T_4 = \{(2, 4)\}, A_5$ 不具有性质 P

(2) 见解析 (3) $n - 3$

【分析】(1) 根据性质 P 的定义判断 A_4, A_5 是否满足题意, 同时根据 T_n 的定义写出 T_n ;

(2) 利用反证法证明 $(1, 3), (2, 4)$ 至少有一个在 T_4 中, $T_4 \neq \emptyset$ 即可得证;

(3) 设 T_n 中元素个数最小为 d_n , 根据新定义可知 $d_n \geq d_{n-1} + 1$, 以此类推可得 $d_n \geq d_4 + n - 4$, 由 (2)

知 $d_4 \geq 1$, 则 $d_n \geq n-3$, 再进行证明即可.

【小问 1 详解】

解: 由题知 $A_4: 1, 0.1, -0.2, 0.5$, 即 $a_1=1, a_2=0.1, a_3=-0.2, a_4=0.5$,

因为 $|a_1 - a_0| = |a_1 - a_4| = 0.5 \leq 1, |a_2 - a_1| = 0.9 \leq 1, |a_3 - a_2| = 0.3 \leq 1, |a_4 - a_3| = 0.7 \leq 1$,

所以 A_4 具有性质 P ,

又因为 $T_n = \{(i, j) \mid |a_i - a_j| \leq 1, 2 \leq j-i \leq n-2 (i, j=1, 2, \dots, n)\}$,

所以当 $n=4$ 时, $2 \leq j-i \leq 4-2$, 即 $j-i=2$,

所以可得 $|a_1 - a_3| = 1.2 > 1, |a_2 - a_4| = 0.4 \leq 1$, 所以 $T_4 = \{(2, 4)\}$;

又由题知 $A_5: 1, 2, 0.7, 1.2, 2$, 即 $a_1=1, a_2=2, a_3=0.7, a_4=1.2, a_5=2$,

因为 $|a_3 - a_2| = 1.3 > 1$, 所以 A_5 不具有性质 P ;

所以 A_4 具有性质 $P, T_4 = \{(2, 4)\}$, A_5 不具有性质 P .

【小问 2 详解】

证明: 要证 $T_4 \neq \emptyset$, 即证: $(1, 3), (2, 4)$ 两个元素至少有一个在 T_4 中,

假设 $(1, 3), (2, 4)$ 两个元素均不在 T_4 中, 则 $|a_1 - a_3| > 1, |a_2 - a_4| > 1$,

不妨设 $a_1 \leq a_2$, 若 $a_2 > a_3$, 则 $-1 \leq a_1 - a_2 \leq 0, 0 < a_2 - a_3 \leq 1$,

又由 $a_1 - a_3 = a_1 - a_2 + a_2 - a_3$, 则 $-1 < a_1 - a_3 \leq 1$,

与 $|a_1 - a_3| > 1$ 矛盾, 所以 $a_2 \leq a_3$, 同理可得: $a_3 \leq a_4$,

所以 $a_1 \leq a_2 \leq a_3 \leq a_4$, 所以 $|a_1 - a_0| = |a_1 - a_4| = a_4 - a_1 = a_4 - a_2 + a_2 - a_1 \geq a_4 - a_2 > 1$,

这与 A_4 具有性质 P 矛盾, 所以假设不成立, 即 $T_4 \neq \emptyset$ 得证.

【小问 3 详解】

设 $a_k = \min\{a_1, a_2, \dots, a_n\}, (2 \leq k \leq n-1)$,

规定 $k=1$ 时, $a_{k-1} = a_n$, $k=n$ 时, $a_{k+1} = a_1$,

则 $a_{k-1}, a_{k+1} \in [a_k, a_k + 1]$, 所以 $|a_{k+1} - a_{k-1}| \leq 1$,

考虑数列 $B_3: a_{k-1}, a_k, a_{k+1}$, $C_{n-1}: a_1, a_2, \dots, a_{k-1}, a_{k+1}, \dots, a_n$,

由题设可知, 他们均具有性质 P , 设 T_n 中元素个数最小为 d_n ,

则可得 $d_n \geq d_{n-1} + 1$, 所以 $d_n \geq d_{n-1} + 1 \geq d_{n-2} + 2 \geq \dots \geq d_4 + n - 4$,

由 (2) 知 $d_4 \geq 1$, 则 $d_n \geq n - 3$,

当 $n = 2m + 1$ 时, 令 $a_i = i (i = 1, 2, \dots, m)$, $a_{m+i} = m + \frac{3}{2} - i (i = 1, 2, \dots, m + 1)$,

当 $n = 2m$ 时, 令 $a_i = i (i = 1, 2, \dots, m)$, $a_{m+i} = m + \frac{1}{2} - i (i = 1, 2, \dots, m)$,

此时均有 $d_n = n - 3$, 所以 T_n 中元素个数的最小值为 $n - 3$.

【点睛】 思路点睛: 此题考查数列与集合结合的新定义问题, 属于难题.

关于新定义题型的思路有:

- (1) 找出新定义有几个要素, 找出要素分别代表什么意思;
- (2) 根据已知条件和所求, 通过分析把所求转化为数学语言;
- (3) 将已知条件代入新定义要素中;
- (4) 最后结合所学数学知识进行规范的解答.



北京高一高二高三期中试题下载

京考一点通团队整理了【**2023年10-11月北京各区各年级期中试题 & 答案汇总**】专题，及时更新最新试题及答案。

通过【**京考一点通**】公众号，对话框回复【**期中**】或者点击公众号底部栏目<**试题专区**>，进入各年级汇总专题，查看并下载电子版试题及答案！

