

北京市朝阳区 2018 ~ 2019 学年度第一学期高三年级期中统一检测

思想政治试卷

2018. 11

(考试时间 90 分钟 满分 100 分)

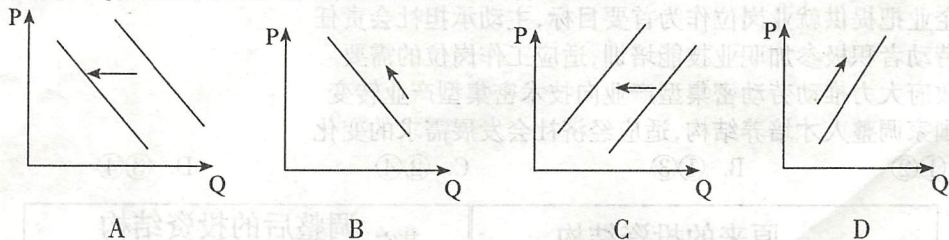
本试卷共 8 页,共 100 分。考试时长 90 分钟。考生务必将答案答在答题卡上,在试卷上作答无效。考试结束后,将本试卷和答题卡一并交回。

第一部分(选择题 共 48 分)

本部分共 24 小题,每小题 2 分,共 48 分。在每小题列出的四个选项中,选出最符合题目要求的一项。

苹果作为一种大众水果,深受消费者欢迎,是秋冬季节的主力水果之一,其价格的变动深受关注。回答 1、2 题。

- 受气候、地域、生产条件等因素影响,今年我国一些苹果主产地苹果产量有所下滑,一些地区的苹果收购价、批发价、零售价都有所上涨。下列说法正确的是
  - 苹果的最终销售价格由气候和地域决定
  - 供求关系的变化导致了苹果价格的上涨
  - 苹果种植者和经销商的收益都将会减少
  - 政府应限定苹果最高价以维护市场稳定
- 专家指出,尽管现货市场和期货市场上苹果的价格都持续走高,但不会出现像前几年大蒜价格那样大的波动。苹果价格上涨,会影响其消费量,进而影响果农收入。下列图示(P 代表价格,Q 代表需求数量)中,能反映这种经济现象的是



- 截至 2018 年 1 月末,人民币位列全球第 5 大支付货币,市场占有率为 1.66%。截至 2018 年 3 月末,全球超过 34.9 万家企业和 386 家银行开展了人民币跨境业务,境外 137 个国家(地区)的银行在我国境内开立同业往来账户 5028 个。这表明
  - 人民币国际使用的范围有所扩大
  - 人民币的支付货币功能不断增强
  - 增加人民币发行可避免通货膨胀
  - 人民币被纳入各国官方外汇储备

A. ①②      B. ①③      C. ②④      D. ③④
- 小明和同学到古都西安游学,亲身体验了书本知识在现实生活中的具体运用。活动内容丰富,活动形式多样,学习成果丰硕。下列选项中,对同学们的行为解释正确的有
  - 凭身份证免费参观陕西历史博物馆——经营性文化企业提供了公益服务
  - 网上购票后,到华清池观看历史舞剧《长恨歌》——网络支付助力文化消费
  - 在古城门外用手机扫码购买多种纪念品——移动支付比现金支付更安全
  - 参观名胜古迹,在留言簿上提出建设性意见——为改善旅游环境建言献策


A. ①②      B. ①③      C. ②④      D. ③④

5. 国庆假期,都市休闲、红色旅游、乡村旅游等旅游消费非常活跃;美食、景区门票两种品类的交易金额接近翻番;品质化、个性化、体验式消费引领潮流。消费领域呈现的增量提质趋势反映出

- ①人民的生活水平不断提高
  - ②人们的消费品质逐步提升
  - ③共同富裕的目标已经实现
  - ④城乡经济实现了平衡发展
- A. ①②      B. ①④      C. ②③      D. ③④

6. 在买买买的声浪中,新租赁经济悄然兴起。以往,说到“租”,多少带有一点“买不起”的意思。现在,人们的消费观念有了很大转变,不少人逐渐抛开了“买不起才租”的观念,在买得起商品的情况下仍然愿意选择“租”,其原因在于

- A. 租赁来的商品使用价值更高
- B. 租赁能够提高承租人的信用
- C. 租赁物所有权不明晰,方便灵活使用
- D. 租赁者认为“租”要比“买”更划算



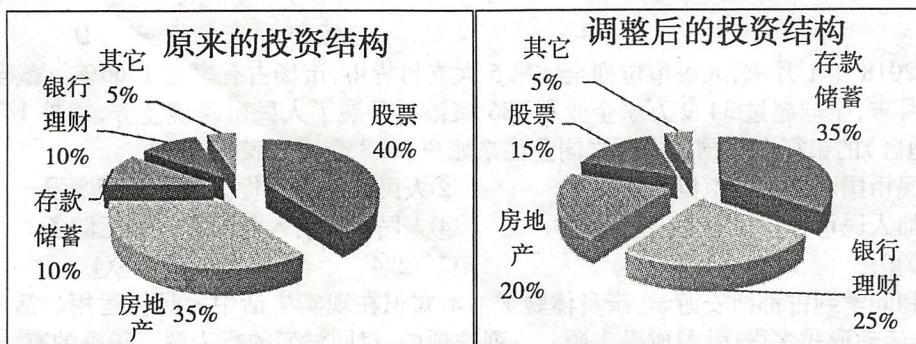
7. 随着上市公司2018年半年报相继公布,人们发现,一度陷入低谷的方便食品又火了。一些方便食品企业通过产品的多元化、高端化,抓住了中国百姓消费升级的市场机遇,实现成功逆袭。这给企业发展带来的启示有

- ①通过企业改制,实现规模经营
  - ②调整产品结构,满足消费需求
  - ③遵循价值规律,调整经营策略
  - ④承担道德责任,树立品牌效应
- A. ①②      B. ①④      C. ②③      D. ③④

8. 受经济结构转型升级、教育培训体制改革滞后等因素影响,当前和今后一段时期,我国结构性就业矛盾依然比较突出:劳动力就业市场“招工难”与“就业难”并存,人力资源结构与产业结构不协调,“硕博博士满街跑,高级技工难寻找”。实现更高质量和更充分的就业需要

- ①企业把提供就业岗位作为首要目标,主动承担社会责任
- ②劳动者积极参加职业技能培训,适应工作岗位的需要
- ③政府大力推动劳动密集型产业向技术密集型产业转变
- ④国家调整人才培养结构,适应经济社会发展需求的变化

- A. ①②      B. ①③      C. ②④      D. ③④




9. 如上图所示,根据经济形势和资本市场的变化,小张在2018年1月份调整了自己的投资组合,支撑小张作出调整的理由最有可能是

- ①小张的投资趋于更加稳健和谨慎
- ②小张预期存贷款利率将连续下调
- ③小张对上市公司业绩前景不乐观
- ④小张看好房地产行业的发展前景

- A. ①②      B. ①③      C. ②④      D. ③④

10. 背街小巷被称为城市的“毛细血管”，其环境好坏、品质优劣，直接关系到居民幸福感。为把北京打造成美丽宜居、和谐幸福的首善之区，解决城市精细化管理“最后 100 米”的难题，有关部门拆除私搭乱建、取缔违章经营、查处乱停乱放……一场力度空前的街巷治理在全市展开。下列说法正确的有



- ①首善之区的建设离不开居民公共参与  
②背街小巷整治多做“加法”，少做“减法”  
③居委会等政权机关有责任打造宜居空间  
④城市的精细化管理有助于建设首善之区
- A. ①②      B. ①④      C. ②③      D. ③④
11. 国家发展改革委员会在门户网站上开设“我为建立完善重点国有景区门票价格机制建言献策”专栏，就景区门票价格问题向社会公开征求意见，问需于民、问计于民，在此基础上形成了相关指导意见。发改委的做法
- A. 能鼓励公民参与，保障公民有效行使决策权  
B. 可汇集各界智慧，提高政策科学性和针对性  
C. 提供了交流平台，保证公民有效行使质询权  
D. 扩大了公民权利，利于意见表达和民智集中
12. 十三届全国人大常委会第四次会议，表决通过了全国人大常委会关于全面加强生态环境保护依法推动打好污染防治攻坚战的决定。决议指出，生态文明建设关系中华民族永续发展，关系亿万中国人民的福祉。这体现了
- A. 国家健全法制维护人民根本利益  
B. 全国人大常委会依法行使监督权  
C. 政府机关协同推进生态文明建设  
D. 国家权力机关的执法能力得到增强
13. 2018 年 7 月 6 日，中央全面深化改革委员会第三次会议要求，针对当前政府购买服务存在的问题，积极引入第三方机构对购买服务行为的经济性、规范性、效率性、公平性开展评价。推进政府购买服务第三方绩效评价，目的在于
- ①依法惩戒失信评价机构      ②完善政府内部监督体系  
③规范政府购买服务行为      ④提高政府购买服务质量
- A. ①②      B. ①③      C. ②④      D. ③④
14. 医疗转诊和医保费用异地结算是影响看病难、看病贵的重要因素。某市医保部门坚持以人民为中心的理念，借助互联网积极推进分级诊疗：患者在初级卫生院诊断后确需转诊上级医院，可以通过登录“分级诊疗转诊协作平台”，实现快速转诊，减少了盖章、跑路环节。对此，下列解读正确的是
- ①减少盖章环节弱化了政府职能      ②该市医保部门做到了求真务实  
③医疗保障要注重社会公平正义      ④公民政治权利得到了物质保障
- A. ①②      B. ①④      C. ②③      D. ③④

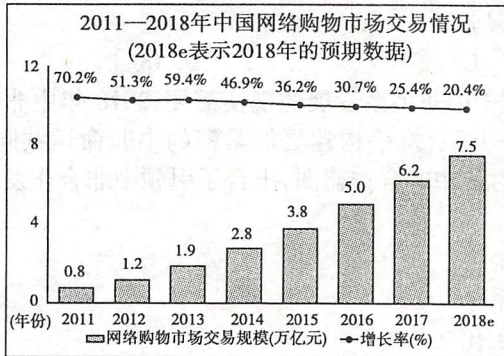
15. 设计和发展国家政治制度,必须注重历史和现实、理论和实践、形式和内容有机统一。要坚持从国情出发、从实际出发,既要把握长期形成的历史传承,又要把握走过的发展道路、积累的政治经验、形成的政治原则,还要把握现实要求、着眼解决现实问题,不能割断历史,不能想象突然就搬来一座政治制度上的“飞来峰”。上述论断所聚焦的主题是
- A. 国家根本政治制度应由谁来设计      B. 国家政治制度应该包括哪些基本内容  
C. 国家怎样才能建立好的政治制度      D. 如何发挥一个国家政治制度的优越性
16. 2018年北京市两会,某民主党派提交了《关于治理过度包装,促进绿色消费的提案》,提案建议力戒奢靡之风、倡导绿色生活,呼吁针对过度包装立法,引导消费者的绿色生活方式。北京市发改委等政府部门及北京包装协会相关负责同志对提案进行答复座谈,并表示将周密安排、抓好落实。这表明
- ①民主党派积极参政议政、建言献策  
②民主党派行使提案权,积极推进相关制度的完善  
③北京市政府对民主党派负责,推动生态文明建设  
④民主党派积极参加社会主义现代化建设,承担社会责任
- A. ①②      B. ①④      C. ②③      D. ③④
17. 党的十九大要求“全党要深刻领会新时代中国特色社会主义思想的精神实质和丰富内涵,在各项工作中全面准确贯彻落实”。这说明中国共产党
- ①坚持执政为民,在国家政治制度中处于最高法律地位  
②加强自身建设,以保持先进性和巩固执政地位为宗旨  
③不断推进理论创新,具有与时俱进的理论品质和执政能力  
④遵循社会发展规律,用科学的战略思想指导经济社会建设
- A. ①②      B. ①③      C. ②④      D. ③④
18. 2013年以来,我国提出的共建“一带一路”倡议得到了越来越多的国家响应。共建“一带一路”正在成为我国参与全球开放合作、改善全球经济治理体系、促进全球共同发展繁荣、推动构建人类命运共同体的中国方案。下列说法正确的有
- ①共建“一带一路”符合世界各国的根本利益  
②参与全球开放合作有利于提升我国的综合国力  
③促进全球共同发展繁荣体现我国外交政策的立场  
④构建人类命运共同体离不开相互尊重和平等协商
- A. ①③      B. ①④      C. ②③      D. ②④
19. 十三届全国人大常委会第五次会议,通过了关于修改中华人民共和国个人所得税法的决定。该决定首次增加子女教育支出、继续教育支出、大病医疗支出、住房贷款利息和住房租金等专项附加扣除,使纳税人实实在在地享受到减税的红利。个人所得税法的修订
- ①让税收的收入分配调节作用更加精细精准  
②最大可能为民生让利,有利于消除收入差距  
③牵涉到理顺部门关系,需要部门之间的协作  
④表明我国已经实现国家治理能力的现代化
- A. ①③      B. ①④      C. ②③      D. ②④

20. 建立企业职工基本养老保险基金中央调剂制度;居民基本医保人均财政补助标准再增加 40 元;着力解决中小学生学习负担过重问题,加强对儿童托育全过程监管;加快建立多主体供给、多渠道保障、租购并举的住房制度等,以上内容成为 2018 年国务院政府工作报告中的亮点。上述材料表明
- ①国家财政具有促进国民经济平稳运行的作用  
②国家财政可以促进社会公平、改善人民生活  
③我国正在深化机构改革有利于转变政府职能  
④政府加强社会建设提供更多基本公共服务
- A. ①②                      B. ①③                      C. ②④                      D. ③④
21. 根据中非合作论坛非方成员的愿望,着眼于中非关系发展的现实需要,2018 年中非合作论坛峰会在北京召开。本次峰会以“合作共赢,携手构建更加紧密的中非命运共同体”为主题,共商中非友好合作大计,规划新时代中非合作蓝图,出台了引领中非合作发展的重大举措。中非合作
- ①以维护非洲利益、推进非洲发展为前提  
②体现出中国与非洲国家的战略结盟关系  
③有利于推动世界多极化和国际关系民主化  
④有利于建立公正合理的国际政治经济新秩序
- A. ①②                      B. ①③                      C. ②④                      D. ③④
22. 国内某汽车公司推出一项个性化定制方案。无论车型还是内饰,都可以在 4S 店或网络平台上进行自定义选择:动力系统选择哪个品牌?座椅选择哪种材质?车身内饰选择什么颜色?设计平台由中国企业研发,但零部件来自于全球,以满足客户的高端需求和个性化需要,这说明
- ①国际贸易更深刻地体现为全球合作                      ②中国制造逐步融入到全球产业链中  
③贸易参与国都有着自己的绝对优势                      ④参与国际分工均可给本国带来利益
- A. ①②                      B. ①④                      C. ②③                      D. ③④
23. 德国《明镜周刊》刊出一张印有中文汉语拼音“xing lai!”(“醒来!”)的红色特别封面。这期封面文章以“觉醒的巨人”为题,从多个领域对中国给予详细介绍,并称中国的崛起正在改变世界格局。美国《时代》周刊公布的杂志封面,用中文和英文两种语言写上“中国赢了”。下列关于中国、美国和德国的说法正确的是
- A. 日益崛起的中国在国际事务中发挥着主导作用  
B. 德国无处不在的社会保障削弱了人们的工作积极性  
C. 美国的市场经济模式束缚多,不利于激发企业活力  
D. 中、德、美三国政体不同,但国家结构形式是相同的
24. 上海合作组织青岛峰会于 2018 年 6 月在山东青岛举行,成员国领导人签署了《上海合作组织成员国元首理事会青岛宣言》,批准了《〈上海合作组织成员国长期睦邻友好合作条约〉实施纲要(2018—2022 年)》等一系列决议,青岛峰会成为上合组织发展进程中一座新的里程碑。上海合作组织
- A. 作为世界性国际组织促进了人类和平与进步  
B. 通过推进成员国合作实现了区域政治一体化  
C. 已经成为世界一体化程度最高的区域性组织  
D. 在维护本地区繁荣稳定方面作出了巨大贡献

第二部分(非选择题 共52分)

25. (16分) 互联网技术日益广泛的应用, 不仅为经济发展提供了新动力, 而且也不断改变着人们的生活方式。

材料一 某学生社团开展关于网络购物的社会实践项目, 调查中他们获得下列信息:



目前, 相当多的在校大学生热衷于网购, 年年关注“双十一”。大学生每月网购花费少则数百元, 多则近千元, 有人有时甚至会花光一个月的生活费。而买来的商品却往往长期闲置不用。此类现象在中学生中也不鲜见。

据12315互联网平台受理投诉数据显示, 2017年服务类质量问题投诉中, 非现场购物类投诉数量最多, 达5.04万件, 占比44.1%。

(1) 请简要描述以上左图所反映的信息。结合材料一, 运用《经济生活》相关知识, 说明如何推进网络购物市场健康发展。(8分)

材料二 2018年9月9日, 北京互联网法院正式挂牌成立, 该院电子诉讼平台正式对社会公众开放。

互联网法院是紧随互联网大背景应运而生的。网上的纠纷就在网上解决, 互联网法院开庭时, 原告、被告以及法官都通过视频连线的方式出席, 通过在线交易记录提取证据, 调解、宣判等也直接在网上进行, 诉讼全程网络化, 只要有网络有电脑, 足不出户就能打官司。



司法审判乘上“互联网+”的东风, 使网络维权插上了翅膀, 路途遥远、时间漫长不再成为阻碍。网络维权将像网购一样方便, 这有利于节约司法资源, 提高审判效率。网络维权步伐加快, 将倒逼商家和网民规范网上行为, 促进互联网健康生态的形成, 让互联网更好地服务于经济社会发展。

(2) 结合材料二, 运用《政治生活》相关知识, 分析互联网法院成立的意义。(8分)



长按识别关注

26. 东北老工业基地曾是新中国工业的摇篮,为建成独立、完整的工业体系和国民经济体系,为国家的改革开放和现代化建设作出了历史性的重大贡献。

2018年9月27日,习近平总书记来到辽阳市,视察了中国石油辽阳石化公司以及辽宁忠旺集团。这两家企业,一家是国有企业,一家是民营企业。在辽阳石化公司,总书记强调,国有企业地位重要、作用关键、不可替代,是党和国家的重要依靠力量。在忠旺集团,总书记强调,党中央历来支持和鼓励民营企业发展,十八大以来党中央出台了一系列扶持民营经济发展的改革举措,要坚持“两个毫不动摇”,为民营企业发展营造良好的法治环境和营商环境,依法保护民营企业权益,鼓励、支持、引导非公有制经济继续发展壮大。

民营经济在整个经济体系中具有重要地位,贡献了50%以上的税收,60%以上的GDP,70%以上的技术创新,80%以上的城镇劳动就业,90%以上的新增就业和企业数量。如果没有民营企业的发展,就没有整个经济的稳定发展;如果没有高质量的民营企业体系,就没有现代产业体系,支持民营企业发展就是支持整个国民经济的发展。

有人认为:大力发展民营经济会削弱公有制经济的主体地位。结合上述材料,谈谈你的认识。(6分)

27. (16分)生态文明建设是关系中华民族永续发展的根本大计。阅读材料,回答问题。

荒漠化地区生态系统的恢复和管理是世界普遍性难题。位于内蒙古鄂尔多斯的我国第七大沙漠库布其沙漠经过几十年努力,转变为全球沙漠“生态经济示范区”。

库布其人千方百计调动各类主体的积极性,探索出一条“党委政府政策性主导、企业产业化投资、农牧民市场化参与、科技持续化创新”四轮驱动的“库布其沙漠治理模式”。该模式成功的关键,一是“市场化治沙”——没有市场化,企业的积极性就难以得到发挥;没有产业化,也不可能把沙漠治理持续下去。正是市场化,解决了“钱从哪里来”“利从哪里得”“如何可持续”等老大难问题。二是极大地激发了群众参与的活力,使当地群众特别是农牧民,成为治沙事业最广泛的参与者、最坚定的支持者和最大的受益者。实现了“增绿又增收,治沙又治穷”,生动诠释了“绿水青山就是金山银山”的理念。

- (1)依据材料,运用《政治生活》相关知识,分析库布其沙漠治理模式成功的因素。(8分)

- (2)库布其的绿色传奇,为中国生态文明建设树起一面旗帜,向世界提供了防治荒漠化的中国经验。运用所学《经济生活》知识,说明库布其沙漠治理模式是如何体现我国新发展理念的。(8分)

28. (14分) 关税是国家调控经济运行的重要手段。阅读材料, 回答问题。


《国务院关税税则委员会关于降低部分商品进口关税的公告》

自2018年11月1日起, 降低部分工业品等商品的最惠国税率

降税商品共1585个税目  
约占我国税目总数的19%  
平均税率由10.5%降至7.8%  
平均降幅为26%



本次降税  
主要涉及




- 纺织品
- 石材、陶瓷、玻璃制品
- 部分钢铁及贱金属制品
- 机电设备及零部件, 如金属加工机械、纺织机械、工程机械、输变电设备、电工器材、仪器仪表等资源性商品及初级加工品, 如非金属矿、无机化学品、木材及纸制品、宝玉石等

同时

随着关税总水平尤其是药品、日用消费品进口关税的下调

相应下调进境物品进口税(俗称行邮税)的税目税率



从国务院关税税则委员会了解到

2018年以来, 经过连续多次自主调整, 我国关税总水平将由上年的9.8%降至7.5%, 平均降幅达23%

(1) 阅读上图材料, 阐述本次关税调整将怎样影响我国经济发展。(6分)

在我国降低关税的同时, 一些国家通过高筑关税壁垒和非关税壁垒, 限制别国商品进入本国市场, 由此会引起一系列报复和反报复措施。这种逆全球化的行为, 将会阻碍世界贸易的发展, 延缓世界经济复苏的势头, 也给我国经济的发展带来一定的负面影响。

(2) 依据材料, 运用国际社会相关知识, 分析我国应该如何为经济发展创造良好的外部环境。(8分)



北京市朝阳区 2018~2019 学年度第一学期高三年级期中统一检测

思想政治学科参考答案

2018.11

第一部分 (选择题 共 48 分)

题号	1	2	3	4	5		6	7	8	9	10
答案	B	B	A	C	A		D	C	C	B	B
题号	11	12	13	14	15		16	17	18	19	20
答案	B	A	D	C	C		B	D	D	A	C
题号	21	22	23	24							
答案	D	A	B	D							

25. (1) 2011—2018 年我国网络购物市场交易规模持续增长, 但增速有所下降。(2 分)

网购可能会带来一定的资金和资源浪费, 需要消费者树立正确消费观, 量入为出、适度消费, 以促进网络经营可持续发展。(2 分)

网购可能会带来一些对商品或服务质量问题的投诉, 需要网络运营商等相关企业诚信经营, 加强自律, 兼顾经济效益和社会效益。同时需要国家进行科学宏观调控, 建立和完善信用制度, 促进网络购物市场健康发展(4 分)

(其他角度作答, 言之成理, 酌情给分)

(2) ①互联网法院的出现, 使维权更加方便快捷, 有助于提高公民的法律意识和维权意识, 形成人人学法、懂法、用法、守法的社会氛围, 带动全社会尊重法律、推进依法治国。(2 分)

②诉讼全程网络化, 有利于保障公民的知情权和监督权, 推动司法公开, 维护司法公平, 让司法权力在阳光下运行。(2 分)

③司法审判乘上“互联网+”的东风，有利于降低司法审判成本，提高司法效率，加快司法体制改革，实现公正司法。（2分）

④网络维权步伐加快，将督促商家和网民规范网上行为，利于公民坚持权利和义务相统一的原则，促进互联网健康生态的形成。（2分）

（其他角度作答，言之成理，酌情给分）

26.①公有制经济和非公有制经济都是社会主义市场经济的重要组成部分，都是我国经济社会发展的重要基础，大力发展民营经济有利于促进经济增长、扩大就业、增加税收、促进创新。（2分）

②公有制是社会主义经济制度的基础，国有资产在社会总资产仍占优势，在关系国民经济命脉的重要行业和关键领域，国有经济仍占支配地位。（3分）

③公有制经济和非公有制经济相辅相成、相得益彰，大力发展民营经济不会削弱公有制经济的主体地位。（1分）

（其他角度作答，言之成理，酌情给分）

27（1）国家治理体系和治理能力现代化程度不断推进。（2分）中国共产党坚持人民主体地位，坚持立党为公、执政为民，不断提高领导和执政能力。（2分）政府在充分调研的基础上科学民主决策，把人民群众利益作为工作的出发点和落脚点。（2分）人民群众、相关企业积极参与决策和治理过程，增强了社会责任感，有利于沙漠治理。（2分）

（其他角度作答，言之成理，酌情给分）

（2）库布其沙漠治理模式强调“科技持续化创新”，发挥现代科技在治沙中的作用，体现出创新是引领发展的第一动力。（2分）

该模式实现了荒漠化地区生态系统的恢复和自然环境的改善，体现出要坚持绿色发展理念，走可持续发展之路，解决好人与自然的和谐共生问题。（2分）

人民群众成为治沙事业的最大受益者，发展成果惠及全体人民，不断满足人民群众日益增长的美好生活需要。（2分）

库布齐沙漠治理有利于改善当地环境，促进当地经济社会协调发展，促进我国区域平衡发展。（2分）

（其他角度作答，言之成理，酌情给分）

28（1）下调部分工业品的进口税率使部分工业品价格降低，从而降低企业的成本，有利于企业统筹利用国际国内两种资源，推进国内供给侧结构性改革，促进国内相关产业优化升级。（2分）

药品、日用消费品进口关税下调可以降低相关消费品的价格，利于满足群众多层次、多样化的消费需求。（2分）

关税总水平的降低有利于促进我国对外贸易平衡发展，推进更高水平的对外开放。（2分）

（其他角度作答，言之成理，酌情给分）

（2）坚持独立自主，增强以经济和科技实力为基础的综合国力，争取国际市场上的话语权。（2分）  
积极掌握、运用国际规则，不屈从于任何外来压力，坚定维护我国的国家利益和发展权益。（2分）

在和平共处原则的基础上加强国际合作，不断拓宽国际市场，防止对单一市场的依赖。（2分）

基于国家之间的共同利益，凝聚共识，推动构建人类命运共同体，为我国发展创造良好的国际环境。（2分）

（其他角度作答，言之成理，酌情给分）

北京高考在线是长期为中学老师、家长和考生提供新鲜的高考资讯、专业的高考政策解读、科学的升学规划以及实用的升学讲座活动等全方位服务的升学服务平台。自 2014 年成立以来一直致力于服务北京考生，助力千万学子，圆梦高考。

目前，北京高考在线拥有旗下拥有北京高考在线网站和北京高考资讯微信公众号两大媒体矩阵，关注用户超 10 万+。

北京高考在线\_2018 年北京高考门户网站

<http://www.gaokzx.com/>

北京高考资讯微信：bj-gaokao

## 北京高考资讯

### 关于我们

北京高考资讯隶属于太星网络旗下，北京地区高考领域极具影响力的升学服务平台。

北京高考资讯团队一直致力于提供最专业、最权威、最及时、最全面的高考政策和资讯。期待与更多中学达成更广泛的合作和联系。

长按二维码 识别关注



微信公众号：bj-gaokao

官方网址：www.gaokzx.com

咨询热线：010-5751 5980