

## 高一思想政治

2024.1

本试卷共 12 页,100 分。考试时长 90 分钟。考生务必将答案答在答题卡上,在试卷上作答无效。考试结束后,将本试卷和答题卡一并交回。

### 第一部分 选择题

本部分共 24 题,每题 2 分,共 48 分。在每题列出的四个选项中,选出最符合题目要求的一项。

1. 党的二十大提出党在新时代新征程的中心任务并作出战略安排。这一中心任务是  
A. 推动中国特色社会主义进入新时代,夺取中国特色社会主义伟大胜利  
B. 深入推进党的建设新的伟大工程,确保党始终走在时代前列  
C. 团结带领全国各族人民全面建成小康社会,实现第一个百年奋斗目标  
D. 团结带领全国各族人民全面建成社会主义现代化强国、实现第二个百年奋斗目标,以中国式现代化全面推进中华民族伟大复兴
2. 某学习小组在一次研究性学习中搜集了以下资料。

◇1516 年,英国人文主义者托马斯·莫尔发表《乌托邦》一书,描述了一个没有压迫、人人平等的理想社会。

◇1824 年,英国思想家罗伯特·欧文出资在美国买下一块地,进行“新和谐公社”的共产主义新村实验。在当时的社会环境下,“新和谐公社”很快就宣告破产。

◇1848 年 2 月,马克思、恩格斯共同撰写的《共产党宣言》发表。这部经典著作犹如黑暗中高擎起的一束火炬,照亮了人类前行的方向,改变了人类的历史进程。

据此推断,该小组本次的研究主题最有可能是

- A. 人类社会发展的一般历史进程
  - B. 社会主义由空想到科学的飞跃
  - C. 社会主义从一国到多国的实践
  - D. 中国为什么选择社会主义道路
3. 位于东城区沙滩后街的北大二院旧址(原北大数学系楼)是中国近代第一所现代化高等教育学校——京师大学堂建筑遗存,是北京社会主义青年团等早期组织的重要活动地,见证了李大钊、陈独秀等先辈们救亡图存的觉醒历史。馆内布设“伟大开篇——中国共产党早期组织专题展”。在此参观时,你最可能听到的解说是  
A. 中国人民掌握了国家的权力,成为国家和自己命运的主人  
B. 中华民族有史以来最为广泛而深刻的社会变革  
C. 在马克思列宁主义同中国工人运动的紧密结合中,中国共产党应运而生  
D. 这是改革开放以来党的全部理论和实践的主题

4.《中华人民共和国爱国主义教育法》自 2024 年 1 月 1 日起施行。该法将党的指导思想,中国共产党史、新中国史、改革开放史、社会主义发展史,中国特色社会主义制度,革命文化和社会主义先进文化等列为爱国主义教育的重要内容。该法的出台

- ①为传承和弘扬爱国主义精神提供法治保障
- ②有助于坚定“四个自信”,铸牢中华民族共同体意识
- ③确保中国人民把爱国热情转化为新时代的奋斗实践
- ④标志着中华民族伟大复兴进入关键时期

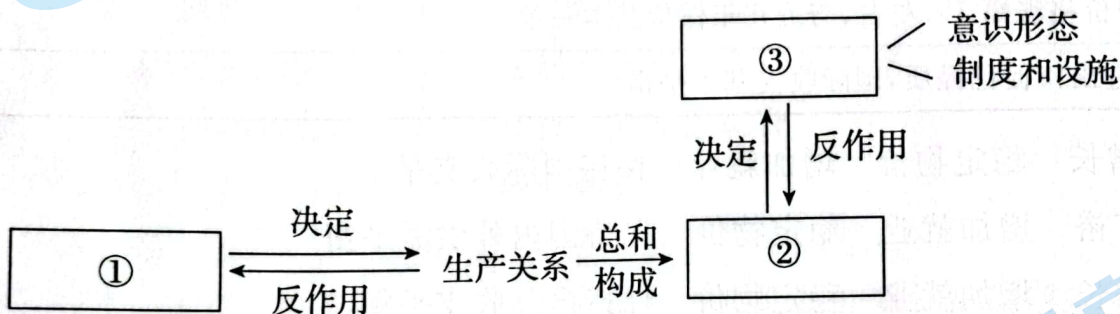
A. ①②                      B. ①④                      C. ②③                      D. ③④

5.现代化,人类文明发展与进步的显著标志。铁路进青藏、公路密成网、高峡出平湖、港口连五洋、“天宫”驻太空……中国共产党带领中国人民走出了一条中国式现代化新道路。中国式现代化的成功推进和拓展

- ①成功跨越社会主义初级阶段,打破了现代化发展的统一标准
- ②是由中国独特的文化传统、独特的历史命运和独特的基本国情决定的
- ③彰显了中国共产党与时代共同进步的先进性本色
- ④丰富和发展了人类文明新形态,是改变中国命运的关键一招

A. ①②                      B. ①④                      C. ②③                      D. ③④

6.下图形象揭示了人类社会的基本矛盾和客观规律。



下列选项与图中序号对应的是

- A. 经济基础    生产力    上层建筑
- B. 生产力    生产资料所有制    经济体制
- C. 生产力    生产资料所有制    分配制度
- D. 生产力    经济基础    上层建筑

7.科学技术在不断发展,我们要重视传统生产要素土地、劳动力、资本在新型工业化中的重要作用,更要及时发现新生产要素在科技创新中的新功能。相对传统生产力,新质生产力呈现出颠覆性创新驱动、产业链条新、发展质量高等一般性特征。下列不属于发展新质生产力的是

- A. 100 项 10 万核心量级超大任务完成,超算中心助力科研成果转化
- B. “钢铁穿山甲”打通“最后一环”,大型盾构机“掘”胜制造升级
- C. 严守 18 亿亩耕地红线,藏粮于地,助力农业发展
- D. 新技术链接“高能”动脉,新能源“碳”路绿色未来

8. 历经十余年国际民航组织相关技术验证,2023年11月,北斗系统正式加入国际民航组织(ICAO)标准,成为全球民航通用的卫星导航系统。北斗系统的高精度定位、短报文通信等特色服务,将为民航领域带来更多创新和应用。这也是中国民航首次以自身团队为核心,成功推进我国自主创新的复杂系统纳入 ICAO 标准。北斗正式加入 ICAO

- ①为全面推进北斗航空应用奠定了坚实基础
- ②凸显国有企业的主体地位,主导国民经济的发展
- ③有利于推动民航高质量发展和交通强国建设
- ④表明我国自主知识产权技术标准成为国际标准

A. ①②                      B. ①③                      C. ②④                      D. ③④

9. 下面表格左栏的内容是《政府工作报告》提出的 2023 年国民经济和社会发展的主要预期目标,右栏与之对应依次填写的宏观调控目标是

国民经济和社会发展的主要目标	宏观调控目标
国内生产总值增长 5%左右	
城镇新增就业 1200 万人左右,城镇调查失业率 5.5%左右	
居民消费价格涨幅 3%左右,与近几年保持基本一致	
进出口促稳提质,国际收支基本平衡	

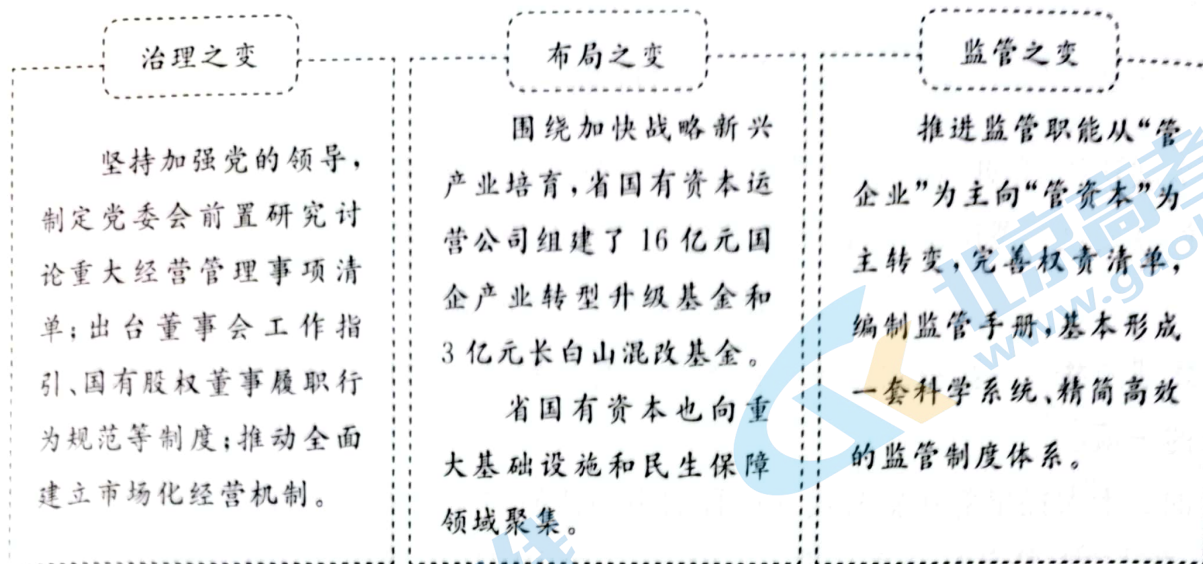
- A. 促进经济增长    稳定物价    增加就业    保持国际收支平衡
- B. 促进共同富裕    增加就业    稳定物价    保持国内外供需平衡
- C. 促进经济增长    增加就业    稳定物价    保持国际收支平衡
- D. 促进共同富裕    增加就业    稳定物价    促进进出口平衡

东北地区,新中国工业的摇篮。2023 年是东北老工业基地振兴战略实施 20 周年。据此完成 10、11 小题。

10. 20 年来,中央给辽宁、吉林和黑龙江累计转移支付近 11 万亿,资金主要用于推进东北地区的重大项目,东北地区的经济有所恢复。这主要体现我国政府的经济职能与作用是

- A. 加强市场监管,规范市场经济秩序
- B. 强化公共服务,提高经济增长速度
- C. 实施科学的货币政策,保持经济运行在合理区间
- D. 实施重大发展战略和区域政策,推进协调发展

11. 抓好国企改革发展,是实现吉林全面振兴的重要抓手。



吉林国企的改革行动

- ① 引导国有资本更多投向关键行业和重要领域,服务国家战略目标
- ② 不断探索中国特色现代企业制度,提升企业活力与效率
- ③ 推动国有资本布局优化与结构调整,提高国有资本赢利能力
- ④ 国有资本监管体制更加健全,扩大了国有资本的支配领域

A. ①②                      B. ①④                      C. ②③                      D. ③④

12. 土地零散、耕地撂荒,青壮年进城务工,村集体经济年收入不足5万元……面对这一情况,村党支部带头创办村集体股份经济联合社,采取“党支部+合作社+农户”模式,流转土地1700余亩,集中连片发展玉米种植项目。连续两年村集体经济收入超过100万元。该村的做法对乡村振兴的启示有

- ① 深化产权制度改革,扎实推进乡村组织振兴
- ② 改变农村集体经济性质,发展混合所有制经济
- ③ 调整农业生产模式,促进农村一二三产业融合发展
- ④ 培育新型农业经营主体,发展农业适度规模经营

A. ①②                      B. ①④                      C. ②③                      D. ③④

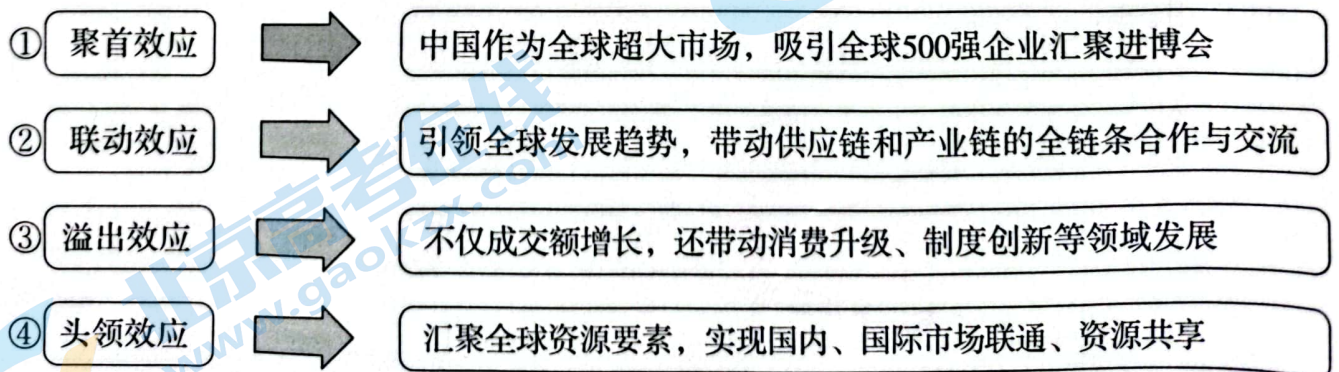
3. 登录北京价格网站,可看到这样一组数据(见下图)。

每日菜价		每日粮油价格	每日肉蛋水产价格		采价日期: 2023-11-26
品类	批发成交量 (万公斤)	批发价格 (元/斤)	农贸零售价格 (元/斤)	超市零售价格 (元/斤)	
大白菜	137.82	0.37	0.61	0.54	

下列推测正确的是

- A. 大白菜价格完全由市场决定,批发价格低,菜农亏损
- B. 农贸市场零售价格高于超市零售价格,表明市场失灵
- C. 农贸和超市零售价格不同,大白菜市场体系需要统一
- D. 超市进货批量、销售量大,降低了销售成本,所以超市零售价格低

14. 新闻：浙江一家新能源科技企业通过办理“先用后转”保险产品，免费试用了浙江大学研发的两项专利。对企业来说，本来使用专利要缴纳几万元保证金，现在只需要缴纳 600 元保费。对高校而言，提高了科技成果转化，也可避免企业试用后违约享受“免费午餐”的风险。若为该新闻添加一个标题，下列最適切的是
- A. 科技保险，低成本的专利技术  
B. 保险理赔，“免费午餐”不免费  
C. 科技成果转化助力产业化发展  
D. 让科技金融成为科技创新加油站
15. 某班同学围绕“如何正确理解高质量发展的内涵”议题展开讨论。下列观点正确的是
- A. 高质量发展只是对经济发展的要求，主要表现为人民收入水平的提高  
B. 高质量发展就是从“有没有”转向“好不好”，是体现新发展理念的发展  
C. 高质量发展是对经济发达地区的要求，在经济发展缓慢地区无法实现  
D. 高质量发展是针对我国经济增长速度下降的情况提出的阶段性要求
16. 北京推出《北京数据基础制度先行区政策清单》，主要涉及数据供需高效匹配、数据要素生态聚集、包容审慎监管、资金支持等一系列先行先试政策支持，助力数据先行区范围内企业数据要素业务的开展。该政策清单的出台
- A. 充分发挥政府在数据要素配置中的决定性作用  
B. 通过放宽市场监管，调动企业开展数据业务的积极性  
C. 有助于构建数据基础制度，更好发挥数据要素作用  
D. 有助于完善数据要素收益分配制度，让人民共享数字经济发展成果
17. 作为全球首个以进口为主题的国家级展会，进博会成为国际采购、投资促进、人文交流、开放合作的重要平台，成为全球共享的国际公共产品。以下对进博会四大效应解读正确的是



- A. ①③                      B. ①④                      C. ②③                      D. ②④

18. 从服装、家电、家具等为代表的“旧三样”，到如今的电动载人汽车、锂电池、太阳能电池的“新三样”，我国企业正加速“出海”。2023年上半年，我国“新三样”产品合计出口增长61.6%，拉动出口整体增长1.8个百分点，以“新三样”为代表的我国对外贸易，正由“中国制造”向“中国创造”“中国引领”转变。这一转变
- ①反映我国外贸结构的新变化，是我国外贸提质升级的生动写照  
 ②以扩大内需为战略基点，体现国内市场需求对供给的牵引作用  
 ③需要借助人才和科技要素提质增效，在创新中提升产品竞争力  
 ④说明我国正在吸引大量优质外资流入，推动国际产能高效合作
- A. ①②                      B. ①③                      C. ②④                      D. ③④

19. 老张是一家外资企业的普通员工，除工资外，他还持有公司股票。年终，他汇总了自己的收入情况(如图)。透过账单可以看出，他的收入

年收入账单	
工资纯收入:	58736元
公司股票年终分红:	6073元
银行存款及国债收益:	8762元
合计收入:	73571元

- ①来源多样化                      ②属于按劳分配  
 ③以劳动性收入为主              ④含有经营性收入
- A. ①③                      B. ①④                      C. ②③                      D. ②④

20. 2023年，许多省份陆续提高了最低工资标准。以下对最低工资标准上调的影响分析正确的是

- ①改善低收入劳动者的生活质量，维护社会公平  
 ②增加企业的劳动力成本，促使企业提高劳动生产率  
 ③提高劳动者劳动技能，直接有效地促进就业  
 ④导致物价上涨，直接引发通货膨胀

- A. ①②                      B. ①③                      C. ②④                      D. ③④

21. 国务院印发《关于提高个人所得税有关专项附加扣除标准的通知》，决定提高3岁以下婴幼儿照护、子女教育、赡养老人个人所得税专项附加扣除标准。

- ◇ 3岁以下婴幼儿照护专项附加扣除标准，由每个婴幼儿每月1000元提高到2000元。  
 ◇ 子女教育专项附加扣除标准，由每个子女每月1000元提高到2000元。  
 ◇ 赡养老人专项附加扣除标准，由每月2000元提高到3000元。

上述调整

- ①意味着纳税人应纳税所得额减少，减轻家庭育儿养老负担  
 ②提高居民的工资性收入，有利于完善个人收入分配秩序  
 ③使得居民可支配收入增加，从而提高消费意愿和能力  
 ④有利于扩大纳税人规模，对低收入群体的影响尤为明显

- A. ①②                      B. ①③                      C. ②④                      D. ③④

22. 社会保险经办服务是社会保险体系的“最后一公里”，是社保政策和社会公众的一个连接点。社会保险经办领域首部行政法规《社会保险经办条例》于2023年12月1日起施行，标志着社保经办工作法治化、规范化、精细化迈上新台阶。该《条例》的施行有利于

- A. 提高社保基金的利用效率和经济效益
- B. 提升社会公众依法行使参保缴费权利的意识
- C. 促进政府依法履职，提升社会保险经办服务水平
- D. 统筹经办基本养老保险、商业养老保险等国家规定的社会保险

23. 我国慈善法修订草案首次将个人求助行为与网络平台纳入慈善法规范，新增应急慈善专章，规定政府依法建立协调机制，及时有序引导开展募捐和救助活动，鼓励慈善组织、志愿者等在政府协调引导下依法开展或者参与慈善活动。该法的修订

- A. 表明传承乐善好施的优良传统是每个公民的法定责任
- B. 充分发挥政府作为慈善主体的作用，规范网络慈善秩序
- C. 能够有效避免慈善活动失信行为和善款流向不明等问题
- D. 有利于发挥慈善在第三次分配中的作用，推进共同富裕

24.

- ◇ 小吴拥有3项国家专利，改进过43项设计工艺和23种工艺设备，获得多种奖励，成为公司里的技术骨干。
- ◇ 在公司工作的小张，爱好旅游、摄影。她应某网站约请开设个人专栏，分享旅途风光与见闻，受到网友欢迎，收入不菲。
- ◇ 小马听说传销赚钱快，就做起了传销，结果不仅没有发家致富，反而债台高筑，并因触犯法律而受到制裁。

以上三人的经历启示我们

- ① 只有体力劳动才是社会财富的源泉
- ② 劳动者要通过辛勤、诚实劳动致富
- ③ 通过劳动才能创造更加美好的生活
- ④ 劳动是每个人获得收入的唯一途径

A. ①②

B. ①④

C. ②③

D. ③④

## 第二部分 非选择题

本部分共 5 题,共 52 分。

25. (5 分)“凡将立国,制度不可不察也。”人类社会发展史表明,任何一种社会,任何一个国家,要保持长治久安、纲维有序,就必须有一套稳定成熟的制度体系。制度优势是一个国家的最大优势。中国特色社会主义制度是党和人民在长期实践探索中形成的科学制度体系,是具有强大生命力和巨大优越性的制度体系。

从中国特色社会主义制度体系中任选一项制度,结合生活具体实例,谈谈该项制度的优势所在。

26. (6 分)民营经济是推进中国式现代化的生力军。促进民营经济发展壮大,从中央到地方重要政策相继出台。

◇《中共中央 国务院关于促进民营经济发展壮大的意见》发布。国家发展改革委内部设立民营经济发展局,发挥统筹协调、综合施策、促进发展的功能。

◇中国人民银行等八部门推出 25 条举措,明确金融服务民营企业目标和重点,逐步提升民营企业贷款占比,开发适合民营企业的信用类融资产品,支持民营企业注册发行科创债券、绿色债券等。

◇浙江推进公平竞争审查立法,坚持对各类所有制企业在权益保护等方面一视同仁。深圳进一步放宽电信、能源电力、数据要素等领域市场准入,依法公开监管标准和规则,加强监管标准化规范化建设。

结合材料,运用所学经济知识,分析这些政策措施在促进民营经济发展壮大中的作用。



27. (16分) 先进制造业集群,指在先进技术、工艺和制造业领域,地理相邻的大量企业、科研与服务机构通过相互合作与交流共生形成的复杂网络结构和产业组织形态,是产业分工深化和集聚发展的高级形式,是制造业高质量发展的主要标志。

材料一

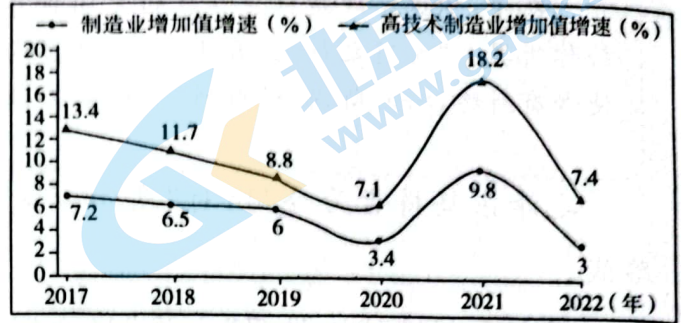
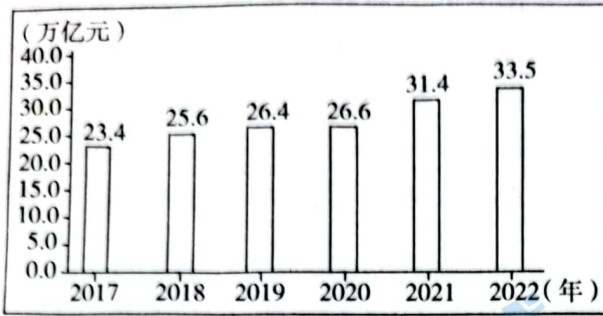


图1 2017—2022年我国制造业增加值情况

图2 2017—2022年我国制造业增加值增速情况

材料二 2022年,工信部公布了45个国家先进制造业集群,总产值超20万亿元,建设了18家国家级制造业创新中心,拥有国家级技术创新载体1700余家。

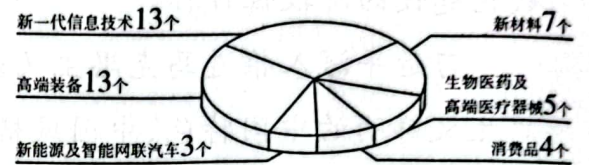


图3 45个国家先进制造业集群分布领域

(1) 概括材料一、二所反映的经济信息。(3分)

材料三 党的十九大报告提出促进我国产业迈向全球价值链中高端,培育若干世界级先进制造业集群。党的二十大报告指出坚持把发展经济的着力点放在实体经济上,推动战略性新兴产业融合集群发展。中共中央、国务院印发的《扩大内需战略规划纲要(2022—2035年)》强调推动先进制造业集群发展,建设国家新型工业化产业示范基地,培育世界级先进制造业集群,推动供需在更高水平上实现良性循环。2023年5月,国务院常务会议审议通过关于加快发展先进制造业集群的意见,强调要把发展先进制造业集群摆到更加突出位置。

(2) 结合材料三,运用《经济与社会》知识,分析党和国家为什么重视发展先进制造业集群。(7分)

材料四 打造世界级先进制造业集群,京津冀具备良好条件。

北京拥有众多一流高等院校和科研机构,天津拥有北方最大的综合性港口,河北自然资源丰富,劳动力供给相对充裕,经济体量比较大。

北京培育形成新一代信息技术、科技服务两个万亿元级产业集群,以及智能装备、人工智能、节能环保等五个千亿元级产业集群;天津的电子及通信设备制造、医药制造等产业发展较快;河北高端装备制造、新材料、生物医药、新能源等新兴产业不断壮大。

三地协同能力不断提升,179个政务服务事项“同事同标”,231个事项线上通办。5G网络共建共享不断深化,建成5G基站20.5万个,所有地级市城区和县城城区均已有5G网络覆盖。“轨道上的京津冀”加速形成,三地主要城市1至1.5小时交通圈已基本形成。三地技术、资金流动、人员往来日益频繁。

(3)结合材料四,分析京津冀三地如何利用上述良好条件打造世界级先进制造业集群。(6分)

28. (13分)“最美不过夕阳红”。安享幸福美满的晚年生活,是每位老年人的期盼,也是每个家庭的关切。同学们围绕“养老”问题进行了调查探究。

材料一

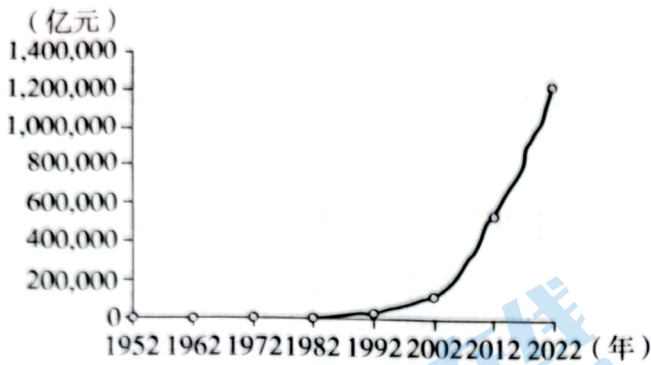


图4 1952—2022年我国GDP情况

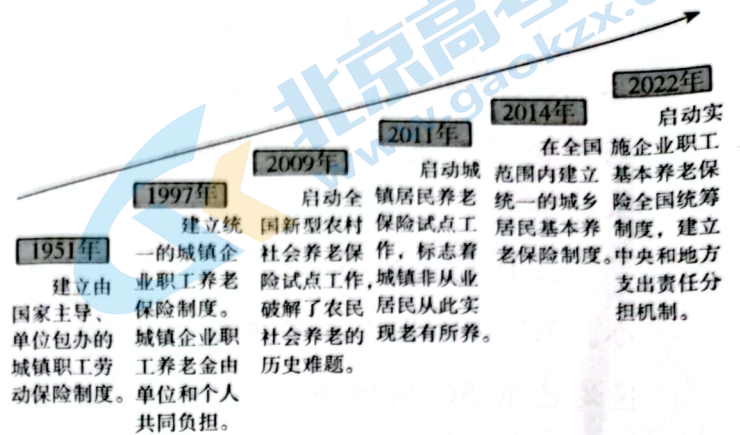


图5 我国城乡居民养老保险制度不断完善

(1)结合材料一,谈谈我国城乡居民养老保险制度是如何不断完善,实现社会公平的。(6分)

材料二 2022年末,我国60岁及以上人口达到2.8亿,养老服务需求增加。很多地方都在探索养老服务新模式,打造“15分钟养老服务圈”,扩大养老服务有效供给。



任奶奶

社区食堂花样多,味道好,刷卡还有优惠,价廉物美,很好地解决了我的吃饭问题!

老伴买了长期护理保险,政府每月补贴近千元,护理师傅上门服务,长期护理保险真是太好了!



老杨



养老机构张经理

公司参与了城企联动普惠养老行动,中央预算给予每张床2万元投资补贴,政府提供闲置物业,租金给了较大优惠。

养老服务市场也存在一些如服务质量不高、价格不实等问题,另外老年人收入有限,养老消费意愿低。



民政局陈主任

(2)同学们认为:让亿万老年人获得买得到、买得起、用得好的养老服务,需要政府、企业、个人多方共同努力。结合材料二,运用《经济与社会》知识,谈谈你对这一观点的认识。(7分)

29. (12分) 跨越时空,当马克思与孔子相遇,会碰撞出怎样的思想火花?

马克思:我的理想的世界,是我们生存在这里面,万人要能和一人一样自由平等地发展他们的才能,人人都各能尽力做事而不望报酬,人人都各能得生活的保障而无饥寒的忧虑,这就是我所谓“各尽所能,各取所需”的共产社会。

孔子:你这个理想社会和我的大同世界竟是不谋而合。你请让我背一段我的旧文章给你听罢。“大道之行也,天下为公,选贤与能,讲信修睦;故人不独亲其亲,不独子其子,使老有所终,壮有所用,幼有所长,矜寡孤独废疾者皆有所养……是谓大同。”

——摘自郭沫若《马克思进文庙》

毛泽东坚持古为今用,对“实事求是”作出新的阐释,推动形成实事求是的思想路线。

邓小平创造性地借用“小康”这个富有中国传统文化意味的概念来描绘我国现代化建设的阶段性目标。

习近平深入推进马克思主义基本原理同中华优秀传统文化相融相通,赋予马克思主义鲜明的中国特色、中国风格、中国气派。如,将马克思群众观同中华优秀传统文化中的民本思想相结合,提出“江山就是人民、人民就是江山”;将马克思主义自然观与中华优秀传统文化中“天人合一”观念相结合,提出人与自然生命共同体;等等。

(1) 马克思和孔子的“相遇”并非偶然,而有其历史必然性。结合材料,综合运用所学,谈谈你对这一历史必然性的理解。(7分)

(2) 高擎真理火炬,方能洞见前路。不忘“从哪里来、往哪里去”,才能坚持“道不变、志不改”。结合材料,谈谈在中国特色社会主义新时代,青年学子如何担当使命,共同建设中华民族现代文明。(5分)

# 东城区 2023—2024 学年度第一学期期末统一检测

## 高一思想政治参考答案及评分标准

2024.1

### 第一部分 选择题

本部分共 24 题,每题 2 分,共 48 分。

题号	1	2	3	4	5	6	7	8	9	10	11	12	13	14	15
答案	D	B	C	A	C	D	C	B	C	D	A	B	D	D	B
题号	16	17	18	19	20	21	22	23	24						
答案	C	A	B	A	A	B	C	D	C						

### 第二部分 非选择题

本部分共 5 题,共 52 分。

25. (5 分)可从党的领导、基本经济制度、统筹城乡的民生保障制度等角度作答。要求制度优势分析准确,并结合实例具体分析。
26. (6 分)《意见》发布及设立民营经济发展局,为民营经济发展提供更加有力政策支持和组织保障。加大对民营企业的金融支持力度,畅通融资渠道,激发民营企业投资活力。通过放开市场准入、加强市场监管,维护公平竞争,为民营经济营造良好的市场环境。
27. (16 分)
- (1)制造业实现量的增长和质的有效提升,新型工业化不断推进,实体经济根基进一步巩固。(3 分)
- (2)发展先进制造业集群,是推动产业迈向中高端、提升产业链供应链韧性和安全水平的重要抓手,有利于形成协同创新、人才集聚、降本增效等规模效应和竞争优势。推动制造强国建设,发展壮大实体经济,为全面推进中国式现代化奠定坚实基础。激发扩大内需和供给侧结构性改革相结合的内生动力,畅通国内大循环,构建新发展格局,推动高质量发展。(7 分)
- (3)发挥三地产业比较优势,发挥科技创新和人才等高端要素集聚作用,完善三地科技成果转化政策体系,推动数实融合,加强重点制造业空间集聚。通过长期规划和连续性政策落实协同发展战略,推动“同事同标”等三地协同长效机制,促进三地资源要素合理流动和交易成本降低,营造世界级先进制造业集群良好成长环境。(6 分)
28. (13 分)
- (1)我国城乡居民养老保险制度是在经济发展的基础上不断完善的。与经济发展水平相适应,养老保险范围逐步扩大,在全国范围内逐步建立公平统一的基本养老保险制度,公平对待城乡居民的保障权益。逐步完善责任分担机制,推动养老保险覆盖全民、安全规范、可持续。(6 分)
- (2)巨大的养老服务市场需要企业发挥市场主体作用,增加养老服务供给。养老服务市场也存在一些问题,需要政府加强市场监管,也需要企业坚持经济效益与社会效益的统一。老年人收入有限,养老消费意愿低,企业进入养老服务市场面临一定的成本压力,需

要政府运用财政政策等手段为养老服务提供支持,激发养老企业活力,也需家庭付出,各方合理分担责任,持续保障老年人的幸福生活。(7分)

29. (12分)

(1)可从马克思主义中国化时代化,中国特色社会主义的创立、发展和完善,习近平新时代中国特色社会主义思想等角度作答。

等级水平	等级描述	分值
水平 4	观点鲜明,能明确表达自己的见解;紧扣问题,综合运用所学知识展开论述;逻辑严密,条理清晰	6~7分
水平 3	观点比较明确,能表达自己的见解;能扣住问题展开论述,知识运用比较准确;逻辑性较强,有条理	3~5分
水平 2	观点不明确;论述不能集中指向问题,罗列知识;知识运用不正确;论述缺乏逻辑,条理性差	1~2分
水平 1	应答与试题无关;或重复试题内容;或没有应答	0分

(2)可从坚定理想信念、坚定文化自信、担当时代责任等角度作答。

等级水平	等级描述	分值
水平 4	观点鲜明,能明确表达自己的见解;紧扣问题,综合运用所学知识展开论述;逻辑严密,条理清晰	5分
水平 3	观点比较明确,能表达自己的见解;能扣住问题展开论述,知识运用比较准确;逻辑性较强,有条理	3~4分
水平 2	观点不明确;论述不能集中指向问题,罗列知识;知识运用不正确;论述缺乏逻辑,条理性差	1~2分
水平 1	应答与试题无关;或重复试题内容;或没有应答	0分

# 北京高一高二高三期末试题下载

京考一点通团队整理了【**2024年1月北京各区各年级期末试题&答案汇总**】专题，及时更新最新试题及答案。

通过【**京考一点通**】公众号，对话框回复【**期末**】或者点击公众号底部栏目<**试题专区**>，进入各年级汇总专题，查看并下载电子版试题及答案！



 微信搜一搜

 京考一点通

