

2022 北京房山高 二（上） 期末

历 史

本试卷共 12 页，共 100 分，考试时长 90 分钟。考生务必将答案答在答题卡上，在试卷上作答无效。考试结束后，将答题卡交回，试卷自行保存。

第一部分

本部分共 25 小题，每小题 2 分，共 50 分。在每题列出的四个选项中，选出最符合题目要求的一项。

1. 分析下表古代不同地区培育农作物和饲养家畜的情况，可以得出农耕和畜牧的起源

西亚	东亚	中南美洲
小麦、大麦、山羊、绵羊、牛	水稻、粟、黍、大豆、猪、狗、鸡	玉米、马铃薯、南瓜、辣椒、甘薯、骆马

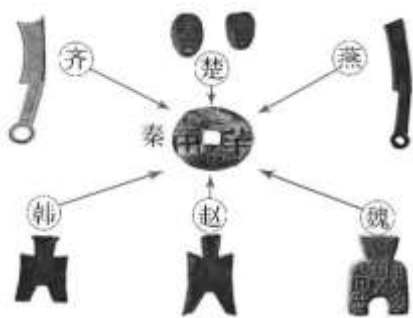
①具有多个中心 ②体现出多样性 ③有明显相似性 ④时间呈现一致性

- A. ①② B. ①④ C. ②③ D. ②④

2. 1950-1952 年在河南辉县固围村魏墓遗址共出土铁器 95 件，其中农具有 58 件；1953 年在河北兴隆战国冶铸遗址中出土一批铁范，共 40 副 87 件，器形有锄、镰、镢、斧、凿、车具等，其中 60% 为农具范。这些考古发现说明当时

- A. 河北兴隆是当时最大的冶铁中心 B. 铁犁牛耕成为我国主要耕作方式
C. 铁农具使农民生活水平显著提高 D. 在北方一些地区广泛使用铁农具

3. 战国时期，各国分别使用布币、刀币、圜钱、蚁鼻钱等多种样式的铜铸币，后秦朝在圜钱基础上将货币统一为圆形方孔钱（如下图），这种变化反映出



秦朝统一货币示意图

- A. 铸铜技术的进步 B. 商品交易的需要
C. 审美观念的改变 D. 国家完成了统一

4. 从西域传入的粉食方法，东汉时已普及，文献中的汤饼，即今日的面条。大麦、小麦与黍稷稻逐渐成为我国北方的主要食品。引发这一饮食文化革命的特定历史条件是

- A. 北方气候变化 B. 丝绸之路开通
C. 人口经常流动 D. 食品种类繁多

5. 秦汉时期的什伍组织，以五家为伍，十家为什，百家为里，相互监督；据《清朝文献通考》记载：“直省各州县乡村，每户岁给门牌。十户为牌，立牌长；十牌为甲，立甲长。士民公举诚实识字及有身家之人报官点充。……凡甲内有盗窃、邪教、赌博……聚会等事，及面生可疑、行迹诡秘之徒，责令专司查报。”这表明

- A. 中国古代各地区实现了地方基层组织自治
- B. 基层组织承担社会治理和征收赋税的职能
- C. 政府注重基层民众的自我管理和相互监督
- D. 基层组织的相关管理人员由皇帝直接任命

6. 东汉张仲景说：“感往昔之沦丧，伤横夭之莫救，乃勤求古训，博采众方……为《伤寒杂病论》合十六卷。”唐朝孙思邈在《大医精诚》中说：“若有疾厄来求救者，不得问其贵贱贫富……普通一等，皆如至亲之想；亦不得……自虑吉凶，护命惜身。”这些论述

- A. 推崇理论与实际紧密结合
- B. 批判了社会政治的黑暗
- C. 体现了医者济世救民情怀
- D. 开启了勤恳踏实的学风

7. 右图是在中国北魏墓葬中出土的拜占庭帝国时期的金币，从1897年中国境内出土第一枚拜占庭帝国的金币算起，迄今为止，各地累计出土有50多枚。据此可以推测



拜占庭帝国的金币

- A. 南北朝时期中国与拜占庭帝国有商贸往来
- B. 拜占庭金币在中国市场上可以自由的流通
- C. 在丝绸之路的贸易中金币的交换最为兴盛
- D. 东西方的商贸往来改变了中国的货币形态

8. 隋朝正仓和军仓的租谷，提供官禄、军费等支出，义仓提供赈济。隋炀帝置含嘉诸仓，便于转输。唐朝仓储系统日益完善，含嘉仓被称为“天下第一粮仓”。到唐朝后期，加强了水路交汇处转运仓的建设，漕运路线向东南转移，使关中储粮充实。可见隋唐仓储系统



河南省洛阳市含嘉仓遗址

- ①供应朝廷粮食
- ②进行社会赈济
- ③保障地方支出
- ④调节国内市场

- A. ①②③
- B. ①②④
- C. ①③④
- D. ②③④

9. 观察并分析以下隋朝大运河和元朝大运河示意图，可知大运河的开凿与整修



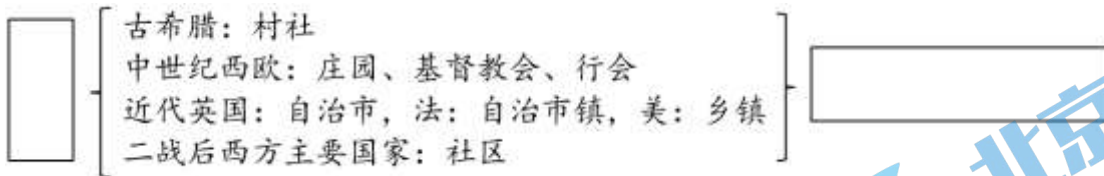
隋朝大运河



元朝大运河

- A. 主要为解决沿岸灌溉问题
- B. 解决了北方水源不足问题
- C. 体现农耕文明的外向特征
- D. 反映古代政治中心的变迁

10. 以下是某位学生的历史课堂笔记，据此判断其学习的主题与其特点是



- A. 社会保障 稳定社会 B. 基层治理 基层自治
C. 政府机构 民主自治 C. 经济组织 自我管理

11. 据记载北宋可能已有人痘接种预防天花方法的出现。明代隆庆年间，安徽宁国府太平县已有人痘接种中心。到了清代，在康熙帝的提倡推广下，人痘接种术传到欧洲，英国的医生琴纳将之改造成接种牛痘术，催生了现代免疫学。对此解读正确的是

- A. 中国古代的人痘接种术能有效治疗天花
B. 明清时期中国用人痘接种术消灭了天花
C. 牛痘术的出现标志着现代免疫学的诞生
D. 中西医之间的交流推动了医疗技术发展

12. 《明太祖实录》有一条圣旨：“今天下已定，而民数未核实，其命户部籍天下户口，每户给以户帖。”右图户帖原件现藏于中国社会科学院历史研究所，颁发于1371年，上面除了刊印朱元璋的白话圣旨外，还登记了汪寄佛一家的人口、田地、房屋等内容。这说明



徽州府祁门县汪寄佛户帖

- A. 实录为正史，记载的内容更加真实可信
B. 户帖为实物史料，比文献史料更有价值
C. 两则史料均是口述史料，更具有历史真实性
D. 两则史料可以互证明朝初年实行的户籍制度

13. 明朝万历年间的《歙志》（安徽省歙县）记载：“成、弘以前，民间……重土著，勤穡事，敦愿让，崇节俭。而今家弦户诵，夤缘（攀附）进取，流寓五方，轻本重末。”当地甚至出现一些士大夫纷纷外出经商的现象，“人庶仰贾而食，即闾闾家，不惮为贾”。材料表明

- A. 封建小农经济逐渐解体
B. 商品经济影响人们观念
C. 重农抑商政策出现松动
D. 经世致用思想广泛流行

14. 1602年，荷兰的大商人集股组成的东印度公司，垄断了从好望角到麦哲伦海峡之间广阔区域的贸易权，这一时期荷兰的人均GDP年增长率均高于同时代的其他国家，被称为“海上马车夫”。荷兰高增长得益于

- ①世界市场拓展
②世界工厂地位的确立
③海外殖民掠夺
④第二次工业革命发生

- A. ①② B. ①③ C. ①④ D. ③④

15. 依据下表中的信息，确定恰当的主题是

时间	历史事件
1785 年	瓦特改良蒸汽机
1875 年	法兰西第三共和国宪法颁布
1890 年	汉阳铁厂修建
1897 年	大清邮局创办

- A. 工业革命加速了城市化进程
- B. 工业文明推动民主化进程
- C. 工业文明推动了近代化进程
- D. 技术变革改变了社会生活

16. 下列对表中信息解读合理的是

地区 \ 时间	中国	印度	欧洲	非洲撒哈拉以南	拉丁美洲
1400 年	70	74	52	60	36
1600 年	110	145	89	104	10
1800 年	330	180	146	92	19

- A. 新航路开辟使世界各地人口呈上升的趋势
- B. 近代殖民活动影响了拉丁美洲的人口结构
- C. 撒哈拉以南人口变化的根源是传染病入侵
- D. 殖民侵略导致亚非拉人口下降与生产破坏

17. 19 世纪 30 年代中国茶叶出口量每年为 5000 万磅，1843 年增至 7000 万磅，1851 年将近 1 亿磅。由于对外贸易中茶叶需求量大增，湖南、福建、浙江等地茶叶种植迅速发展，还专门设立茶厂加工制作适合外国人口味的茶叶。材料反映出

- A. 茶叶成为当时中国出口最多的商品
- B. 中国已完全沦为列强的原料供应地
- C. 中国南方的农产品商品化程度提高
- D. 中国南方的自然经济已经完全解体

18. 鸦片战争后，中国开始丧失关税自主权，此后的不平等条约使中国的关税自主权进一步遭到破坏；1928 年，国民政府掀起“改订新约”运动，与美国、英国、法国等国缔结了新的关税条约。中国维护关税自主权的斗争取得了进展，但仍不能完全自主地制定税率；直到中华人民共和国成立，中国才真正收回关税自主权。对此认识正确的是

- A. 《北京条约》签订标志着中国关税自主权的丧失
- B. 实行统一的国境关税是“改订新约”运动的内容
- C. 国民政府通过“改订新约”运动实现贸易平等化
- D. 实现民族独立是维护国家关税自主权的前提保障

19. 下列对表中信息分析正确的是

1870年、1913年主要资本主义国家在世界贸易中的占比					
年份	国家				
	英国	美国	德国	法国	俄国
1870年	22%	8%	13%	10%	—
1913年	15%	11%	13%	8%	4%

- A. 英国贸易垄断地位被打破，形成多中心的新格局
B. 世界贸易的中心发生转移，美国成为世界的霸主
C. 德国和法国在第二次工业革命之后逐渐走向衰落
D. 俄国进行农奴制改革后所占比重整体呈下降趋势

20. 第二次世界大战期间，美国将原子弹投在广岛和长崎是原子动力首次用于军事目的。今天，原子动力已用于其他许多目的，如核动力船、生物医学研究、医学诊断和治疗以及核动力厂。这表明核技术

- ①改变了人们的生活 ②为诸多领域提供动力
③给人类带来了灾难 ④改善医学研究与医疗

- A. ①②③ B. ①②④ C. ①③④ D. ②③④

21. 美国经济学家布朗博士曾提出“21世纪谁来养活中国人？”这一命题。我们的回答是“中国人用自己创造的高科技养活自己”。中国不仅能养活自己，而且还是维护世界粮食安全的重要力量。中国能有这样的贡献主要在于

- A. 运用科技手段在世界范围内首创研制杂交水稻
B. 有效解决我国粮食安全和世界粮食供给的问题
C. 袁隆平杂交水稻为缓解粮食短缺贡献中国方案
D. 中国制定了一系列保障粮食安全的法律和法规

22. 新中国成立后个人所得税的起征点先后历经5次调整。1980年全国人大通过的《中华人民共和国个人所得税法》规定个人所得税起征点为每月800元，此后分别调至每月1600元、2000元、3500元，至2018年调至每月5000元，并进行包括子女教育、大病医疗、住房贷款利息、赡养老人等在内的专项附加扣除。这些变化表明

- A. 个税征收呈下降的趋势 B. 个税征收制度更加完善
C. 国民生产总值极大增长 D. 居民贫富差距基本消除

23. 2008年12月，四川发生特大地震，全国参加地震灾区医疗防疫人员达10万人次，救治伤病员164万人次。2019年末新冠疫情在湖北武汉发现，为救治感染患者，武汉的火神山、雷神山医院从方案设计到交付使用仅用了10天；全国各地的医疗机构在政府的统一调配下，各地医护人员迅速分批赶往湖北、支援武汉，为夺取抗疫胜利提供了重要保障。材料说明中国的现代医疗卫生体系在防疫抗灾上

- ①把人民的生命安全和身体健康放在首位
②充分体现了全国协作抗疫上的制度优势
③没有重视灾后的防疫和疫情方面的控制
④基础医疗建设为抗灾防疫提供物质支持

- A. ①②③ B. ①②④ C. ①③④ D. ②③④

24. 有人说：“21 世纪，不是一场技术的革命，也不是一场产品的革命，而是一场观念的革命……用电脑延伸人脑，用邮件延伸人腿，用语音延伸人嘴；光的速度、零的距离、海的容量，瞬间传导全世界。”材料意在说明互联网

- A. 推动了科学技术的深入发展
B. 重新阐释了传统的价值观念
C. 代替了传统产业和已有产品
D. 深刻改变了人们的交流方式

25. 近年来，从首次火星探测任务“天问一号”探测器成功发射到北斗三号全球卫星导航系统正式开通，从“奋斗者”号全海深载人潜水器成功完成万米海试并胜利返航到“九章”量子计算原型机全球领先，我国科技创新取得重大进展。这说明中国

- ①已经掌握登陆火星的技术
②现代科学技术的发展迅速
③科技发展得益于国力增强
④科技竞争力居世界第一位

- A. ①②
B. ①④
C. ②③
D. ③④

第二部分

本部分共 4 题，共 50 分。

26. (16 分) 赋税制度的变迁

材料一

赋役之法：每丁岁入租粟二石。调则随乡土所产，绌绢絁（一种粗绸）各二丈，布加五分之一。输绌绢絁者，兼调绵三两；输布者，麻三斤。凡丁，岁役二旬。若不役，则收其佣，每日三尺。

——《旧唐书·食货志上》

(1) 依据材料一，概括唐朝前期赋役制度的内容，结合所学，简要分析其意义。(4 分)

材料二

康熙帝说：“致治之道，民为最要，凡是与民生有益，即益行之。”于是在 1712 年，他以康熙五十年丁册为准，宣布“滋生人丁，永不加赋”，此后“勿增勿减，永为定额”。雍正时，又实行“摊丁入亩”，把丁税平均摊入到田赋中，征收统一的地丁银，成为清朝统一的赋税制度。

——摘编自李剑农《中国经济史稿》

(2) 依据材料二，指出清朝康熙年间到雍正年间赋税制度的变化，结合所学，简述唐朝到明清时期赋税制度的发展趋势。(6 分)

材料三

新中国成立后，农业税在相当长时期内，一直是国家财政的重要来源，为我国建立完整的工业体系和国民经济体系、推动工业化城市化作出了巨大贡献。改革开放以来，国家财政实力不断增强，农业税在国家财政收入中的比重逐渐下降。从 1990 年起，国家开始抓减轻农民负担工作，并取得一定成效。2000 年，国家决定安徽省为农村税费改革试点地区。2003 年，农村税费改革全面推开。2004 年，国家决定逐步降低农业税税率，并提出五年内全面取消农业税的目标。2005 年，第十届全国人大决定自 2006 年 1 月 1 日起国家不再针对农业单独征税。一个在中国存在了 2600 多年的古老税种宣告终结。

——摘编自人民日报《新中国成就档案：正式取消农业税》

(3) 依据材料三，结合所学，简要评析中国取消农业税这一历史现象。(6分)

27. (8分) 美洲农作物外传



16世纪中叶德国学者绘制的番茄植株和果实图

材料一

番茄：一名六月柿，茎似蒿，高四五尺，叶似艾，花似榴，一枝结五实或三四实，一树二三十实，缚作架，最堪观。火伞火珠，未足为喻。草本也，来自西番，故名。

——王象晋《二如亭群芳谱》(1621年)

(1) 指出材料一中两则材料的类型。阅读两则材料能得出哪些史实?(4分)

材料二

邑境山多田少，居民倍增，稻谷不足以给，则于山上种包谷、洋芋、荞麦、燕麦或蕨蒿之类。深林剪伐殆尽，巨阜危峰，一望皆包谷也。

——袁景晖(清)《建始县志》

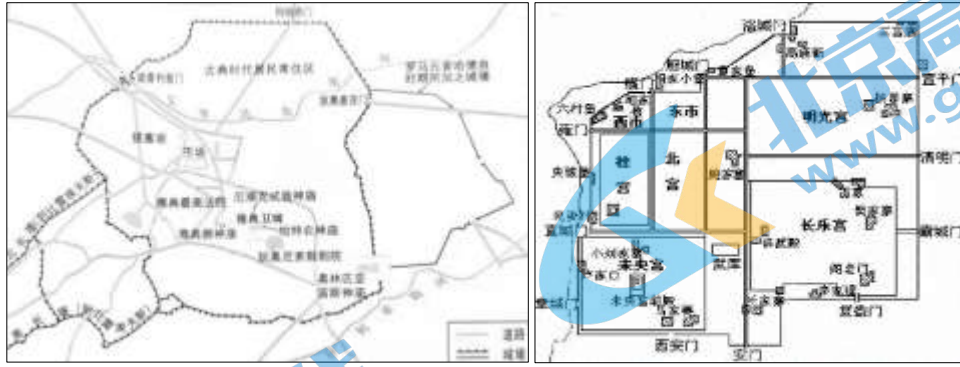


玉米、甘薯传入中国的路线示意图

(2) 依据材料二，结合所学，简要说明玉米、甘薯传入对明清社会产生的影响。(4分)

28. (12分) 城市与城市化

材料一

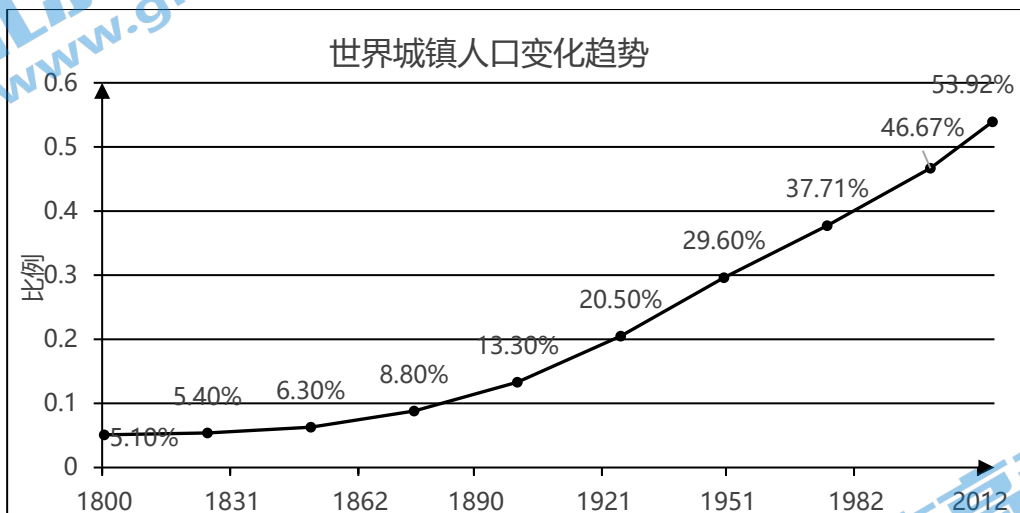


雅典城市平面示意图

汉朝长安城平面示意图

(1) 观察并分析材料一中的两幅城市平面示意图，结合所学，概括雅典城和长安城布局的异同。(4分)

材料二



(2) 依据材料二，指出世界城镇人口的变化趋势，结合所学，分析其原因。(4分)

材料三

巴黎……也配套建设了放射状的新道路，把火车站与商业中心连接起来，给人以一种处于新的秩序、清洁高效和美观标准控制之下的印象。超过 165 公里的新街道——宽敞、笔直，并配有人行道、排水系统、照明设备和新种植的树木，街旁点缀着纪念性的新教堂、市场和行政办公楼。私人建筑、公寓住宅增加了六倍，其精致优雅前所未见，既具有外貌的端庄，也具有内部的舒适，很快就在林荫大道两旁鳞次栉比地拔地而起。一个世纪以前的改革者所梦寐以求的城市，现在如此完整地沐浴在一种进步的神采当中，甚至城市的下水道，也在特殊设计的观光车中，向游人开放。

——[美]巴里·伯格多尔《1750—1890年的欧洲建筑》

(3) 依据材料三，结合所学，简述巴黎城市化对人们生活的影响。(4分)

29. 交通与社会变迁（14分）

材料一

传统交通工具靠人力、畜力等自然力，效能低下并具有等级制色彩。19世纪中叶开口通商后，西方近代机械交通工具开始传入，中国的交通近代化也由此起步。近代以来，火车、轮船逐步代替了车马和木帆船，大量能够满足人们生活需要的商品也得以运进来，给人们带来了前所未有的变化。1881年中国人自建的第一条铁路唐胥铁路通车，全长11公里。到1911年，全国铁路近1万公里。自20世纪初汽车输入中国后，通行汽车的公路在中国发展起来。1908年3月5日，上海第一条有轨电车线路正式通车营业，意味着上海现代公共交通工具的起步。……清末民初，像上海、天津等大商业城市已经基本完成了交通工具的新旧交替，在北京、汉口及各地省会等大中城市，则形成以新式工具为主、以传统工具为辅的并行交通结构。大城市周边以至边远城镇及广大乡村，交通工具的新旧交替呈阶梯性递减，边远乡村则仍然以传统交通工具为主。

——摘编自李长莉《近代交通进步的社会文化效应对国人的生活影响》

(1) 依据材料一，归纳中国近代前期交通发展的特点。（4分）

材料二

时间	新中国的交通成就（部分）
1950年	中国民用航空正式开航
1956年	中国制造的第一辆解放牌汽车出厂
1957年	武汉长江大桥建成
1969年	北京地铁建成通车，全长23.6公里，属于战备工程，不对公众开放
1981年	北京地铁正式对外运营
1982年	中国首次按国际标准建造并交付了出口船舶，中国造船企业正式进入世界造船市场
1988年	中国建成大陆第一条高速公路--上海沪嘉高速
2008年	京津城际铁路通车运营，中国进入高铁时代
2018年	世界上最长的跨海大桥--港珠澳大桥正式开通
2019年	北京大兴机场正式通航
2020年	中国高速公路里程、高铁运营里程，位居世界第一

(2) 阅读上表，结合所学，对新中国的交通成就进行解读。（10分）

北京高一高二高三期末试题下载

北京高考资讯整理了【2022年1月北京各区各年级期末试题&答案汇总】专题，及时更新最新试题及答案。

通过【北京高考资讯】公众号，对话框回复【期末】或者底部栏目<试题下载→期末试题>，进入汇总专题，查看并下载电子版试题及答案！

