

2023 北京延庆初三一模

历史

考试须知：1. 本试卷共 10 页，共两部分，24 道小题。满分 70 分，考试时间 70 分钟。

2. 在试卷和答题卡上准确填写姓名、准考证号、考场号和座位号。

3. 试题答案一律填涂或书写在答题卡上，在试卷上作答无效。

4. 在答题卡上，选择题用 2B 铅笔作答，其他试题用黑色字迹签字笔作答。

5. 考试结束，将本试卷、答题卡和草稿纸一并交回。

第一部分

本部分共 20 题，每题 1.5 分，共 30 分。在每题列出的四个选项中，选出最符合题目要求的一项。

1. 目前，中国境内已发现的新石器时代文化遗存有 1 万多处，且分布广泛，奠定了多元一体的发展基础。

研究这些文化遗存的主要依据是（ ）

- A. 史书记载 B. 神话传说 C. 考古发掘 D. 学术论著

2. 小华同学在参观山西博物院举办的商周文物展览时，拍摄了一组青铜器的图片。从中不能得到的历史信息是（ ）



商代酒器鸛卣 西周叔矢方鼎内铭文 西周乐器晋侯稣钟 春秋水器

- A. 青铜铸造业规模宏大，组织严密 B. 青铜器种类繁多，用途广泛
C. 青铜器物具有重要的史料价值 D. 青铜铸造业的工艺水平高超

3. 中国古代，“衣服有制”，正朔服色，向来被视为国家根本之所系，是传统礼仪制度的重要内容……变易服饰，往往是古代社会制度和风俗习尚变迁的一个标记。下列哪位帝王的统治措施可体现这一特点（ ）

- A. 秦始皇 B. 汉武帝 C. 北魏孝文帝 D. 隋文帝

4. 英国人威尔斯在他的《世界简史》中写道：“当西方人的心灵为神学所缠迷而处于蒙昧黑暗之中，中国人的思想却是开放的，兼收并蓄而好探求的。”据此判断该历史时期是（ ）

- A. 夏商西周 B. 春秋战国 C. 隋唐 D. 明清（1840 年）

5. 宋代时“坊市制”已经瓦解，商民们竞相开设商铺，各种“违章建筑”层出不穷，面对城市秩序混乱，宋朝政府专门设立“街道司”；为适应蓬勃发展起来的街市，宋政府还在街道两旁测量距离，竖立“表木”；政府正式征收“侵街房廊钱”。这说明宋朝


- A. 市打破了时间和空间上的限制 B. 商业的发展推动了城市管理的变化
C. 为增加收入巧立名目收取杂税 D. 商业发展不再受重农抑商政策限制

6. 据《元史百官志三》记载：“(至元)二十五年(公元1288年)，因唐制吐蕃来朝见于宣政殿之故，更名宣政院。”由此判断，宣政院所辖之地位于下图中的



- A. ① B. ② C. ③ D. ④

7. 1965年考古学家在中亚的丝路古城撒马尔罕发掘出大量大使厅壁画，据学者考证，北墙所绘为唐高宗猎豹和武则天泛龙舟图(见如图)，这与唐代杜佑在《通典》中记载的“北壁绘华夏天子”的内容一致。以上材料说明()



- ①图像史料与文献史料相互印证 ②丝绸之路促进了东西方的文化交流
③盛唐文化对中亚地区影响深远 ④端午节划龙舟是撒马尔罕特有习俗


- A. ①②③ B. ①②④ C. ①③④ D. ②③④

8. 下列中国古代科技成就，按时间先后顺序，排列正确的是()

- ①蔡伦改进造纸术
②毕昇发明活字印刷术
③贾思勰写成《齐民要术》
④李时珍编著《本草纲目》

- A. ①③②④ B. ②①④③ C. ③②④① D. ④③①②

9. 20世纪20年代的最后几年，在中国革命史上可谓是“多事之秋”。下面图示中的事件所反映出的共同主题是()



- A. 从国共合作到国共对立 B. 抗日民族统一战线的形成

C. 中国共产党已走向成熟

D. 毛泽东开辟井冈山道路

10. 日军占领北平后，面对日军的骚扰，70多岁的齐白石闭门谢客，在大门上贴上“白石老人心病复发，停止见客”“停止卖画”等纸条。这体现了艺术老人的（ ）

A. 民族气节

B. 孤芳自赏

C. 精益求精

D. 性格怪异

11. 1953-1956年，我国基本上完成了对农业、手工业和资本主义工商业的社会主义改造，其意义是（ ）

①实现了生产资料私有制向社会主义公有制转变

②社会主义基本制度在我国建立起来

③为社会主义民主政治建设奠定了基础

④我国从此进入社会主义初级阶段

A. ①②③

B. ①②④

C. ②③④

D. ①③④

12. 下列四幅图片反映了新中国成立后各个领域的成就。按其先后顺序排列正确的是（ ）



①中国人民志愿军跨过鸭绿江



②公私合营后工商业界代表向毛主席报喜



③我国第一颗原子弹爆炸



④日本首相田中角荣访华

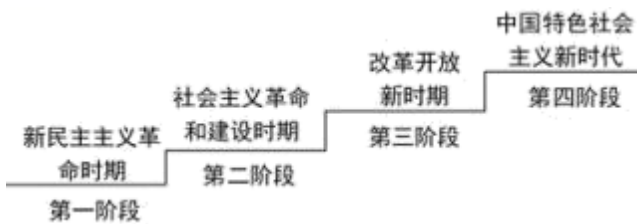
A. ①②③④

B. ②①④③

C. ③①②④

D. ③②①④

13. 下图反映了中国共产党百年发展的历程。开启第三阶段的标志性事件是（ ）



A. 中华人民共和国的成立

B. 社会主义改造的完成

C. 十一届三中全会的召开

D. 中共十九大的召开

14. 2012年中共十八大以来，我国在许多方面取得历史性成就。下列成就属于这一时期的有（ ）

①第一颗人造地球卫星发射成功

②“神威·太湖之光”超级计算机研制成功

③国产民用大飞机 C919 试飞成功

④港珠澳大桥顺利通车

A. ①②③

B. ①②④

C. ①③④

D. ②③④

15. 下图所示为小史同学整理的知识卡片，该卡片内容体现其探究历史的方法是（ ）

知识卡片

人物：哥伦布

史实 1：1492 年发现美洲。

史实 2: 1492 年到 1890 年, 印第安人被屠杀人数在 9500 万到 1.14 亿之间, 仅剩不到 25 万印第安人。
结论: 哥伦布给印第安人带来灾难。

- A. 史料实证法 B. 经验总结法 C. 唯物辩证法 D. 比较研究法

16. 1905 年印度人民反英斗争出现新高潮, 1905—1911 年伊朗发生了立宪革命, 1911 年中国爆发了辛亥革命。这些事件表明 ()

- A. 各国民族革命取得胜利 B. 无产阶级登上政治舞台
C. 古老的亚洲已开始觉醒 D. 第三世界国家走向联合

17. 某校在参观博物馆时, 一位同学看到了下边几幅图, 请问他参观的内容与以下那个主题相关 ()



亚历山大二世 林肯 明治天皇

- A. 资产阶级改革 B. 资本主义制度的扩展
C. 封建社会的转变 D. 资本主义制度的初步确立

18. 如下图是 18 世纪中期和 19 世纪 70 年代发生的两次工业革命, 对其解读正确的是 ()



①火车机车 ②碳丝灯泡 ③赛璐珞技术 ④早期汽车

- A. ①④代表的工业革命把人类带入了蒸汽时代
B. ②③代表的工业革命把人类带入了电气时代
C. ①代表的工业革命开始的标志是瓦特发明蒸汽机, 极大提高了生产力
D. ①的动力机器是蒸汽机, ④的动力机器是内燃机

19. 下图为某历史人物传记目录的节选, 该传记名为 ()

第一章 青年时代……
第五章 亡命布鲁塞尔……
(四) 历史唯物主义……
(八) 《共产党宣言》……

- A. 《牛顿传》 B. 《华盛顿传》 C. 《拿破仑传》 D. 《马克思传》

20. 世界殖民体系崩溃是 20 世纪重大变化之一，是人类历史的巨大进步。下列历史事件中，加速了世界殖民体系崩溃的是（ ）

①英国“光荣革命” ②印度独立 ③埃及收回苏伊士运河主权 ④阿尔及利亚独立

A. ②③④

B. ①②④

C. ①③④

D. ①②③

第二部分

本部分共 4 题，共 40 分

21. 青春·中国。

材料一 青春孕育无限希望，青年创造美好明天。一个民族只有寄望青春、永葆青春，才能兴旺发达……一批又一批仁人志士为救国救民而苦苦追寻，一大批先进青年在“觉醒年代”纷纷觉醒。伟大的五四运动……标志着中国青年成为推动中国社会变革的急先锋。

——摘自习近平《在庆祝中国共产主义青年团成立 100 周年大会上的讲话》

(1) 依据材料一并结合所学，分析五四运动爆发的背景及其历史意义。

材料二 陈独秀生平大事年表（部分）

时间	事件
L8L6 年	①生于安徽安庆。自幼丧父，随祖父修习四书五经
L869 年	②考中秀才
L86L 年	③入杭州中西求是书院学习，接受和阅读《时务报》，与维新人士交往
L60L 年	④因反清宣传活动，受清政府通缉，逃亡日本，入东京高等师范学校学习
L60V 年	⑤在芜湖创办《安徽俗话报》，宣传资产阶级民主革命思想
L6LL-L6Lt 年	⑥辛亥革命后不久，任安徽省都督府秘书长……参加讨伐袁世凯的二次革命，失败后被捕入狱
L6Lg-L6LL 年	⑦在上海创办《青年杂志》（后改名为《新青年》）……受聘为北京大学文科学长，《新青年》编辑部随之迁到北京
L6L8 年	⑧与李达创办《每周评论》，宣传马克思主义
L6L6 年	⑨发表 L 篇文章和 tt 篇《随感录》，为学生运动摇旗呐喊
L6Z0 年	⑩在共产国际的帮助下，在上海成立中国共产党早期组织，同时与其他各地的先进分子联系，发起成立中国共产党
L6ZL 年	⑪在中共“一大”上，当选为中央局书记

——以上资料整理自《陈独秀全传》

(2) 依据材料二，陈独秀早期思想的重大跨越有三次，请你写出其中的一次。结合所学，分析此次思想

跨越的原因。

(3) 选择材料二中相互关联的史实，结合所学，自定一个你想论述的观点，加以阐述或说明。(要求：观点正确，史论结合，条理清楚)

材料三 中共“一大”的十二个代表，年龄最长的四十五岁，最轻的十九岁，平均二十八岁，作为湖南代表之一的毛泽东还没有满二十八岁……参加会议的这些代表都是社会上还不知名的“小人物”。这些年轻人以改天换地的豪迈气概，一心要在中国这块古老的国土上创立一个崭新的合理的社会。

——摘自金冲及《二十世纪中国史纲》

(4) 依据材料三，概括中共“一大”代表的特征。结合所学，分析中共“一大”召开的历史意义。

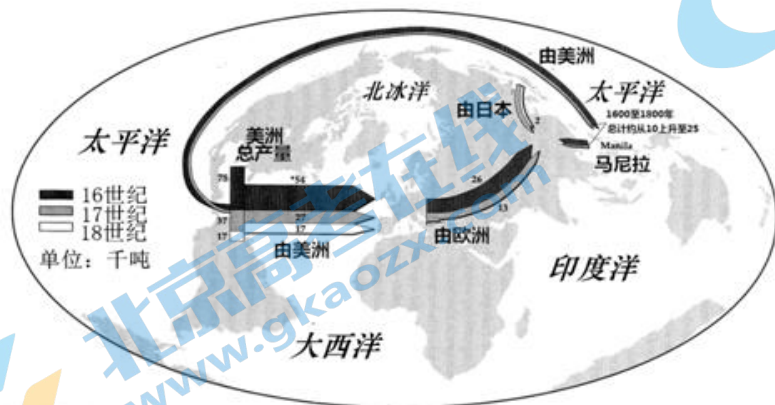
22. 币的发展是经济发展的缩影，货币体系的演变反映了时代的变化。

材料一 中国古代货币的发展与演变简表

时期	概况
商周	①以海贝作为主要货币
春秋	②铜币逐渐成为主要货币
战国	③各诸侯国自行铸币，货币的标准、形状、价值等多种多样
秦朝	④以圆形方孔半两钱作为标准货币，在全国流通
西汉	⑤汉武帝把铸币权收归中央，统一铸造五铢钱
唐朝	⑥唐高祖“废五铢，行开元通宝”。以后历代货币以它为范式
两宋	⑦出现纸币“交子”“会子”

(1) 依据材料一，概括有关中国古代货币演变的规律。结合所学，加以阐述或说明。(要求：史论结合，条理清楚)

材料二



16—18 世纪世界白银的生产、出口和接受示意图

16 世纪中期到 18 世纪中期世界白银流入中国的记载：

1545年到1800年，从海外流入中国的白银大约有6万吨，约1/3到1/2的美洲白银，最终流向了中国。

——摘编自弗兰克著《白银资本》18世纪中期，每年由外国商船运到欧洲的中国茶叶约2000万磅，价值近400万两白银。

——摘编自斯当东著《英使谒见乾隆纪实》

(2) 依据材料二，写出16世纪中期到18世纪中期，我国正处于的时期。结合所学，分析该时期白银大量流入中国的原因。

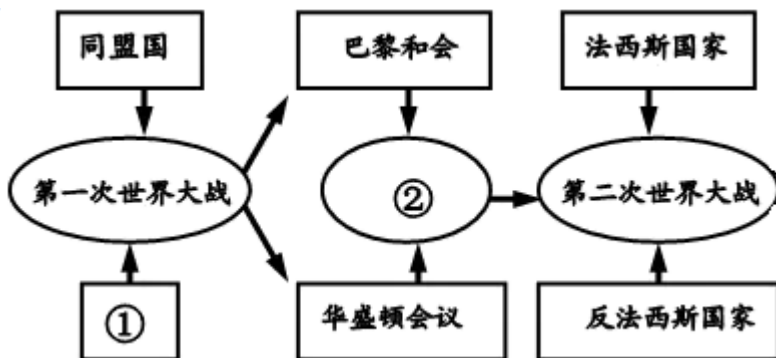
材料三 2021年12月，人民币在国际支付中的份额占比升至第四。这也是自2015年8月以来，人民币国际支付全球排名首次超越日元，跻身全球前四大活跃货币……国内经济长期发展向好，人民币稳步推进国际化，国内加快构建双循环发展格局，未来人民币在国际中支付、投资、储备作用不断增强。

——摘编自《上海证券报》2022年1月22日报道

(3) 依据材料三并结合所学，分析人民币国际化的背景。指出中国推进人民币国际化进程与实施“一带一路”建设等举措将为当今世界带来的愿景。

23. 国际关系包括政治关系、经济关系、民族关系等。

材料一 第一次世界大战后，国际政治形势变化很大，第一个社会主义国家苏联的诞生和逐步强大，改变了整个世界的政治格局……帝国主义国家争夺霸权的斗争日趋尖锐，这些矛盾和斗争复杂尖锐，最后终于爆发了第二次世界大战。



——摘编自黄玉章等《第二次世界大战》

(1) 依据材料一并结合所学，写出图示①②所对应的内容。概括第一次世界大战后国际格局中主要矛盾。

材料二 美国领导人在1945年夏对未来有三怕一是政治上的，怕斯大林，也就是怕社会主义。二是怕技术上的，怕原子弹秘密保持不住。第三是怕经济上的，随着和平的降临，经济会重新转向衰退。这也就促使美国走上向全世界扩张的道路。在美国看来，正当美国要实现霸权主义野心却遭遇到了第一个也是主要来自苏联的障碍，苏联和世界各国人民的革命力量也在全世界范围内达到一个新的高度。

——安布鲁斯《走向全球主义》

(2) 依据材料二，分析二战结束美国走上向全世界扩张道路的原因。结合所学，指出此后形成的世界格局。

材料三



位于联合国大楼前的雕塑

经济全球化是推动世界经济增长的引擎。当前，逆全球化思潮正在发酵，保护主义的负面效应日益显现……引导经济全球化更加健康发展。

——习近平《为建设更加关好的地球家园贡献智慧和力量》

(3) 依据材料三并结合所学，请给图一命名。分析全球化的主要阻碍因素。

24. 中山公园是北京第一家真正意义上的现代公园。

材料一 在我国古代，一直存在着“社稷祭祀”的制度，把祭祀土地神的地方称“社”，把祭祀谷物神的地方叫“稷”。北京中山公园的社稷坛建于1420年，一直作为明清两代皇家祭祀社稷的场所。社稷坛坛面上铺垫着五色土。五种颜色的土壤，寓含了全中国的疆土。每年春、秋两季祭祀前要更换新土，新土由全国各地纳贡交来，以表明“普天之下，莫非王土”之意。中央有一“社主石”，象征“江山永固，社稷长存”。

——摘编自汪金友《社稷坛与五色土》

(1) 依据材料一，概括社稷坛体现的理念。结合所学，说出这一时期的阶段特征。

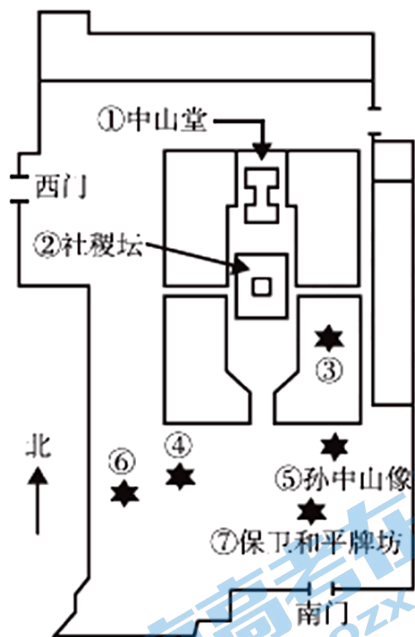
材料二 第一次世界大战结束后，中国人欢欣鼓舞，认为中国作为战胜国，此后可以进入世界强国之列。克林德牌坊依据《辛丑条约》规定，表示向德国“谢罪”而建，一贯被认为是中国屈辱的象征，此时它被拆迁至中央公园，改名为“公理战胜”牌坊。1918年，李大钊在中央公园发表演说《庶民的胜利》（后刊登于《新青年》），指出“一九一七年的俄国革命，是二十世纪中世界革命的先声”，中国应该沿着俄国革命的道路前进。

——摘编自戴海斌《中央公园与民初北京社会》

(2) 第一次世界大战后，中国人纷纷对国家发展作出自己的预测。依据材料二，结合所学，完成下表。

对中国发展的预测	是否实现	判断依据
中国成为世界强国	①	英、法、美等列强操纵巴黎和会，拒绝中国的正当要求，将德国在中国山东的特权全部转让给日本
李大钊：②	是	③

材料三
介绍（部分）



①中山堂原名“拜殿”，是明清两代皇帝祭祀社稷坛时休息的地方。

②1925年孙中山先生病逝北京，在此停灵吊唁公祭。此后中央公园改名为中山公园，拜殿改名为“中山堂”。

③音乐厅始建于1942年。是目前北京最好的专业音乐厅之一，每年演出古典音乐、当代音乐与戏曲等260多场。

④唐花坞始建于1915年，1992年进行了全面修缮，是公园内常年展览花卉的地方。

⑤孙中山像1986年建成。

⑥兰亭八柱亭亭中八根石柱刻有历代书法家临摹的《兰亭序》，是圆明园四十景之一“坐石临流”中的一个景点。英法联军将圆明园焚毁后，兰亭被弃于荒野。1917年移至中央公园

⑦保卫和平牌坊1952年中国民主人士发起“亚洲及太平洋区域和平会议”，来自37个国家的367位代表参加。大会决定将“公理战胜”牌坊改称“保卫和平”牌坊。

(3) 根据查询到的资料，同学们准备分小组走进中山公园进行实地考察。请你设计考察活动目标，并为他们选择合适的考察路线，进行简单的介绍。

参考答案

第一部分

本部分共 20 题，每题 1.5 分，共 30 分。在每题列出的四个选项中，选出最符合题目要求的一项。

1. 【答案】C

【解析】

【详解】根据所学可知，新石器时代距离今天已经非常久远，考古发掘是根据发掘计划，对埋藏文物的地方、对古文化遗址、古墓葬进行调查、勘探和发现、挖掘文物的活动或工作，是掌握历史第一手资料的重要途径，因此最科学的研究方法，就是通过考古发掘，C 项正确；史书记载也是后人运用第一手史料所做的研究与诠释以及在此基础上进行的再创造，属于第二手史料，排除 A 项；关于早期原始人类的神话传说本就可信度不高，排除 B 项；学术论著也是后人运用第一手史料所做的研究与诠释以及在此基础上进行的再创造，属于第二手史料，排除 D 项。故选 C 项。

2. 【答案】A

【解析】

【分析】

【详解】四幅图片能够体现青铜器种类繁多，用途广泛和工艺水平高超，这些文物有极高的史料价值。但仅从材料并不能得出青铜铸造业规模宏大，组织严密的特征。故 A 项符合题意；BCD 项正确，不符合题意。故选 A 项。

3. 【答案】C

【解析】

【详解】公元 439 年，北魏统一北方，结束分裂局面。孝文帝进行了以汉化政策为中心的改革。学习汉族礼仪制度、穿汉服、学汉化等。C 项正确；秦始皇、汉武帝和隋文帝都不符合材料中“古代社会制度和风俗习尚变迁的一个标记”的信息，排除 A、B 和 D 项。故选 C 项。

4. 【答案】C

【解析】

【详解】结合所学知识，西方“为神学所缠迷而处于蒙昧黑暗之中”正是中国的隋唐时期，隋唐时期与突厥、吐蕃等民族频繁交往，各少数民族的文化，经过吸收、改造、创新，成为隋唐文化中色彩绚烂的成分。通过西域传来的印度、中亚、西亚文明和通过海上丝绸之路传来的南亚文明，对隋唐中国产生重大影响。在唐三彩及唐诗中，骏马、骆驼和胡人，成为具有代表性的唐代文化符号，这也是丝绸之路兴盛的具体体现。而玄奘西行则自觉承担了沟通往来、传播文化的使命。隋唐文化对朝鲜、日本等国家的发展影响广而深，这些影响至今仍然不同程度地存在。因此中国人的思想却是开放的，兼收并蓄而好探求的时代是隋唐时期，C 项正确；夏商西周时期是古中国社会从奴隶制逐渐进入封建社会，而这时的欧洲正从铜器时代过渡到铁器时代，排除 A 项；春秋战国时期是处于公元前 475 至公元前 221 年的时间，当时的欧洲处于古希腊时代和古罗马时代，排除 B 项；明清（1840 年）时期，欧洲对外扩张势头高涨，而清廷仍然故步自

封，闭关自守，使中国错失了向西方学习先进的科学知识和生产技术的机会，中国逐渐落伍于世界历史的发展进程，排除 D 项。故选 C 项。

5. 【答案】B

【解析】

【分析】

【详解】宋代“坊市制”瓦解导致商民们竞相开设商铺，城市秩序混乱，为此宋朝政府专门采取措施进行管理，这说明宋朝商业的发展推动了城市管理的变化，故 B 正确；市打破了时间和空间上的限制不是材料的主旨，故 A 错误；收取杂税是对材料的误读，故 C 错误；重农抑商政策是封建政府的国策，宋代只是有所放松，故 D 错误。

6. 【答案】D

【解析】

【详解】元朝在中央设置宣政院，主管全国的佛教事宜和西藏的军政要务，图中④区域西藏地区，是宣政院管辖的区域，D 项正确；①是辽阳行省管辖地区，排除 A 项；②是中书省管辖区域，排除 B 项；③是台湾地区，属于福建省，排除 C 项。故选 D 项。

7. 【答案】A

【解析】

【详解】根据材料，实物壁画和唐代杜佑的《通典》内容相互印证，证明了图像史料与文献史料相互印证，①项符合题意，中原文化能够影响到西亚地区，说明了丝绸之路促进了东西方的文化交流，以及盛唐文化对中亚地区影响深远，②③项符合题意，即①②③项符合题意，A 项正确；根据所学知识，端午节划龙舟是中国特有习俗，④项不符合史实与题意，排除包含④的选项，即排除 BCD 项。故选 A 项。

8. 【答案】A

【解析】

【详解】东汉和帝元兴元年(105 年)，宦官蔡伦改进民间造纸方法。北宋庆历年(1041 年-1048 年)中国的毕昇(970 年-1051 年)发明的泥活字，标志着活字印刷术的诞生。《齐民要术》大约成书于北魏末年(公元 533 年-544 年)。李时珍历经 27 个寒暑，三易其稿，于明万历十八年(1590 年)完成了 192 万字的巨著《本草纲目》，所以按时间先后顺序排列应该是①③②④，即 A 项正确；B、C、D 项排列顺序错误，排除。故选 A 项。

9. 【答案】D

【解析】

【详解】由题干材料并结合所学可知，大革命失败后，中国共产党先后领导了南昌起义、秋收起义等一系列武装暴动。毛泽东在领导秋收起义过程中，逐渐将革命的重心放在偏僻的农村，开展工农武装割据的斗争，开辟出一条农村包围城市、武装夺取政权的道路，1929 年 12 月，中国工农红军第四军第九次党的代表大会，即古田会议，确立了“思想建党、政治建军”的建党建军原则，图示中的事件反映的共同的主题是毛泽东开辟井冈山道路，D 项正确；南昌起义时国共合作已经破裂，排除 A 项；材料中没有体现抗日民族统一战线的形成，排除 B 项；中国共产党已走向成熟的标志是遵义会议，材料中没有体现，排除 C 项。故

选 D 项。

10. 【答案】A

【解析】

【详解】根据材料和结合所学知识可知，日本发动侵华战争，在中华大地上犯的劣斑罪行，引起所有有良知中国的人的愤慨，面对日伪汉奸不断的骚扰，白石老人在大门贴上“白石老人心病复作，停止见客”“停止卖画”等纸条，正是体现了老人的民族气节，不与日伪为伍，A 项正确；孤芳自赏指自命清高，自我欣赏的人，B 项不符合题意，排除 B 项；精益求精指要求更好，C 项不符合题意，排除 C 项；材料不是反映老人性格怪异，D 项不符合题意，排除 D 项。故选 A 项。

11. 【答案】B

【解析】

【详解】1956 年底，我国基本完成了对农业、手工业和资本主义工商业的社会主义改造。通过三大改造，我国社会主义基本制度建立起来、实现了生产资料私有制向社会主义公有制的转变、我国从此进入社会主义初级阶段。为社会主义民主政治建设奠定了基础的是人民代表大会制度，B 项正确；根据所学可知，为社会主义民主政治建设奠定了基础的是人民代表大会制度，③错误，排除带有③的选项，排除 ACD 项。故选 B 项。

12. 【答案】A

【解析】

【详解】结合所学知识可知，①1950 年，中国人民志愿军跨过鸭绿江；②1956 年初，资本主义工商业的社会主义改造出现了全行业公私合营的高潮，公私合营后工商业界代表向毛主席报喜；③1964 年，我国第一颗原子弹爆炸；④1972 年，日本首相田中角荣访华。因此按其先后顺序排列正确的是①②③④。A 项正确；BCD 三项不正确，排除。故选 A 项。

13. 【答案】C

【解析】

【详解】结合所学可知，中共十一届三中全会是新中国成立以来党的历史具有深远意义的伟大转折，开启了我国改革开放和社会主义现代化建设的新时期，题干是中国共产党百年发展的历程，开启第三阶段的标志性事件是十一届三中全会的召开，C 项正确；中华人民共和国成立，开辟了中国历史的新纪元，排除 A 项；社会主义改造的完成标志着社会主义基本制度得到确立，排除 B 项；中共十九大的召开，习近平新时代中国特色社会主义思想被确立为中国共产党必须长期坚持的指导思想，对新时代党和国家事业发展、对推进中华民族伟大复兴历史进程具有决定性意义，排除 D 项。故选 C 项。

14. 【答案】D

【解析】

【详解】结合所学可知，2012 年，中国共产党第十八次全国代表大会在北京举行，②2016 年，“神威·太湖之光”超级计算机研制成功；③2017 年 5 月 5 日，国产民用大飞机 C919 试飞成功；④港珠澳大桥顺利通车时间是 2018 年 10 月 23 日；十八大以来我国取得的历史性成就有②③④，D 项正确；①第一颗人造地球卫星发射成功的时间是 1970 年，早于中共十八大，ABC 项中均有①第一颗人造地球卫星发射成功，排除

ABC项。故选D项。

15. 【答案】A

【解析】

【详解】根据卡片，卡片根据哥伦布发现美洲与屠杀印第安人的史实，论证出哥伦布给印第安人带来灾难，这属于史料实证法，A项正确；经验总结法是通过与实践活动中的具体情况，进行归纳与分析，使之系统化、理论化，上升为经验的一种方法，排除B项；唯物辩证法强调对立统一，卡片没有体现，排除C项；比较研究法可以理解为是根据一定的标准，对两个或两个以上有联系的事物进行考察，寻找其异同，探求普遍规律与特点的方法，排除D项。故选A项。

16. 【答案】C

【解析】

【详解】1905年印度人民反英斗争出现新高潮，1905—1911年伊朗发生了立宪革命，1911年中国爆发了辛亥革命，这表明20世纪初期亚洲民族解放运动继续高涨，并且出现了资产阶级领导的斗争，说明古老的亚洲已开始觉醒，C项正确；20世纪初期的亚洲民族解放运动并没有取得完全的胜利，如辛亥革命仍然没有改变中国半殖民地半封建社会的性质，排除A项；题干反映的是亚洲民族解放运动的高涨，不是无产阶级登上政治舞台，如中国无产阶级登上政治舞台的标志性事件是1919年五四运动，排除B项；第三世界国家走向联合是在第二次世界大战之后，如1961年不结盟运动诞生，排除D项。故选C项。

17. 【答案】B

【解析】

【详解】根据所学可知，俄国沙皇亚历山大二世通过农奴制改革，推动俄国走上了发展资本主义的道路，美国总统林肯通过南北战争维护了美国统一，废除了奴隶制，清除了资本主义发展的最大障碍，为以后经济的迅速发展创造了条件，日本的明治维新是日本历史的重大转折点，通过明治维新，日本迅速走上了发展资本主义的道路，实现了富国强兵，开始跻身资本主义强国之列，综合可知，与材料内容相关的主题应为“资本主义制度的扩展”，B项正确；与林肯相关的是战争，不是改革，排除A项；美国当时不是封建社会，排除C项；与资本主义制度初步确立相关的历史是英国资产阶级革命，美国独立战争，法国大革命，与材料内容不符，排除D项。故选B项。

18. 【答案】D

【解析】

【详解】①是1825年斯蒂芬森制造的蒸汽机车，是第一次工业革命的成果，动力机器是蒸汽机，标志着铁路时代的到来；④早期汽车是19世纪80年代德国人本茨制造的由内燃机驱动的汽车，D项正确；④早期汽车是19世纪80年代德国人本茨制造的由内燃机驱动的汽车，排除A项；②碳丝灯泡是第二次工业革命的成果；③赛璐珞技术是美国海厄特发明的，是第二次工业革命的成果，现代塑料工业由此诞生，排除B项；瓦特改进了蒸汽机，排除C项。故选D项。

19. 【答案】D

【解析】

【详解】根据题干材料中“（四）历史唯物主义……（八）《共产党宣言》……”，1848年，马克思、恩格

斯为共产主义者同盟起草的纲领《共产党宣言》在伦敦正式出版，D项正确；牛顿是英国近代自然科学的奠基人之一，发现了万有引力定律、微积分、光学分析等，排除A项；华盛顿领导了美国的独立战争，参与制定了《独立宣言》，主持制定了1787年宪法，1789年当选为美国总统，排除B项；拿破仑建立了法兰西第一帝国，主持制定了民法典《拿破仑法典》，排除C项。故选D项。

20. 【答案】A

【解析】

【详解】1857年的印度民族大起义沉重打击了英国殖民者，反映了印度民族意识的觉醒，也是19世纪中期亚洲民族解放运动的一个重要组成部分。埃及共和国成立后，埃及政府坚决要求收回苏伊士运河，最终迫使英国撤走了占领军。1956年，埃及总统纳赛尔宣布将苏伊士运河收归国有，极大地维护了埃及的民族利益和国家主权。1962年，阿尔及利亚人民经过长期的民族解放战争，推翻了法国的殖民统治，阿尔及利亚获得独立，②③④即A项正确；英国“光荣革命”标志着英国资产阶级革命的完成，为英国资本主义发展扫清了道路，对世界殖民体系起到了维护的作用，①错误，排除B、C、D项。故选A项。

第二部分

本部分共4题，共40分

21. 【答案】(1) 巴黎和会中国外交的失败。促进了马克思主义在中国的传播，拉开了新民主主义革命的序幕。(教材)五四运动以彻底反帝反封建的革命性、追求真理的进步性、各族各界群众积极参与的广泛性，推动中国社会的进步，促进了马克思主义在中国的传播，促进了马克思主义同中国工人运动的结合，为中国共产党成立做了思想上干部上的准备，为新的革命力量、革命文化、革命斗争登上历史舞台创造了条件，是中国旧民主主义革命走向新民主主义革命的转折点，在近代以来中华民族追求民族独立和发展进步的历史进程中具有里程碑意义。

(2) 第一次从封建主义思想转变为康、梁的改良主义(变法)思想。原因是洋务运动的破产、甲午中日战争的失败；第二次从康、梁的改良主义(变法)转变为孙中山的革命思想。原因是戊戌变法的失败；第三次从孙中山的革命思想转变为马克思主义。第三次的原因是辛亥革命的失败、俄国十月革命的影响等。(任意一个即可)

(3) 观点：陈独秀是新文化运动的倡导者。

选择的史事：(9)，(10)和(11)等

论述：他在上海创办《青年杂志》，后来受聘为北京大学文科学长，《新青年》编辑部随之迁到北京，开展文学革命，与李大钊创办《每周评论》，宣传马克思主义等。

(4) 青春年少；社会地位一般；志向远大等。中国共产党的诞生，是中国历史上开天辟地的大事变。自从有了中国共产党，中国革命的面貌就焕然一新了。中国共产党的诞生不是偶然的，是适应近代以来中国社会进步和革命发展的客观需要，是近代历史选择的必然结果。

【解析】

【小问1详解】

背景：结合所学知识可知，巴黎和会中国外交的失败，消息传到国内，长期积压在中国人民心头的怒火，终于像火山一样爆发了。意义：根据材料一中“一批又一批仁人志士为救国救民而苦苦追寻，一大批先进

青年在‘觉醒年代’纷纷觉醒”，结合所学知识可知，五四运动促进了马克思主义在中国的传播，拉开了新民主主义革命的序幕（五四运动以彻底反帝反封建的革命性、追求真理的进步性、各族各界群众积极参与的广泛性，推动中国社会的进步，促进了马克思主义在中国的传播，促进了马克思主义同中国工人运动的结合，为中国共产党成立做了思想上干部上的准备，为新的革命力量、革命文化、革命斗争登上历史舞台创造了条件，是中国旧民主主义革命走向新民主主义革命的转折点，在近代以来中华民族追求民族独立和发展进步的历史进程中具有里程碑意义）。

【小问2详解】

跨越：根据材料二中“①生于安徽安庆。自幼丧父，随祖父修习四书五经②考中秀才③入杭州中西求是书院学习，接受和阅读《时务报》，与维新人士交往”，可得出从封建主义思想转变为康、梁的改良主义（变法）思想；根据材料二中“④因反清宣传活动，受清政府通缉，逃亡日本，入东京高等师范学校学习⑤在芜湖创办《安徽俗话报》，宣传资产阶级民主革命思想”，可得出从康、梁的改良主义（变法）转变为孙中山的革命思想；根据材料二中“⑧与李大钊创办《每周评论》，宣传马克思主义”，可得出从孙中山的革命思想转变为马克思主义。原因：结合所学知识可知，洋务运动的破产、甲午中日战争的失败促使陈独秀的思想从封建主义思想转变为康、梁的改良主义（变法）思想；结合所学知识可知，戊戌变法的失败促使陈独秀的思想从康、梁的改良主义（变法）转变为孙中山的革命思想；结合所学知识可知，辛亥革命的失败、俄国十月革命的影响促使陈独秀的思想从孙中山的革命思想转变为马克思主义。

【小问3详解】

本题属自主选择性题目，要求：观点正确，史论结合，条理清楚。示例1：观点：陈独秀是新文化运动的倡导者。选择的史事：（9），（10）和（11）等论述：他在上海创办《青年杂志》，后来受聘为北京大学文科学长，《新青年》编辑部随之迁到北京，开展文学革命，与李大钊创办《每周评论》，宣传马克思主义等。

【小问4详解】

特征：根据材料三中“中共‘一大’的十二个代表，年龄最长的四十五岁，最轻的十九岁，平均二十八岁，作为湖南代表之一的毛泽东还没有满二十八岁”，可得出中共“一大”的代表都很年轻，青春年少；根据材料三中“参加会议的这些代表都是社会上还不知名的‘小人物’”，可得出这些代表社会地位一般；根据材料三中“这些年轻人以改天换地的豪迈气概，一心要在中国这块古老的国土上创立一个崭新的合理的社会”，可得出他们志向远大。意义：结合所学知识可知，中国共产党的诞生，是中国历史上开天辟地的大事变。自从有了中国共产党，中国革命的面貌就焕然一新了。中国共产党的诞生不是偶然的，是适应近代以来中国社会进步和革命发展的客观需要，是近代历史选择的必然结果。

22. 【答案】（1）规律：形状多样向统一的演变；由地方铸币向中央铸币的演变；由金属货币向纸币的演变；等等（任意一点即可）战国时期，各诸侯国自行铸币，货币的标准、形状、价值等多种多样（丰富多彩），秦朝时，以圆形方孔半两钱作为标准货币，在全国流通；我们发现的规律是形状多样向统一的演变。（其他略）

（2）时期：明清时期。原因：西方对中国商品的需求；中国手工业领先世界；新航路的开辟；殖民扩张，等（要求：中外各一点）

(3) 人民币在国际贸易中将发挥着更为重要的角色；人民币作为国际储备货币的功能必然得到加强；(加入世贸组织；“一带一路”等等)

愿景：在更高层面上推动了全球化发展，培育新的世界经济增长点，也为人民币国际化带来了新的历史机遇。

【解析】

【小问 1 详解】

规律：根据材料一中“战国：各诸侯国自行铸币，货币的标准、形状、价值等多种多样；秦国：以圆形方孔半两钱作为标准货币，在全国流通”，可得出货币由形状多样向统一的演变；根据材料一中“汉武帝把铸币权收归中央，统一铸造五铢钱”，可得出货币由地方铸币向中央铸币的演变；根据材料一中“两宋：出现纸币‘交子’‘会子’”，可得出货币由金属货币向纸币演变。说明：结合所学知识可知，秦始皇为了适应国家统一的需要，下令废除六国的货币，以秦国的圆形方孔半两钱作为统一货币在全国流通，改变了以往币制混乱的状况，有利于国家经济的管理，促进各地经济的交流。结合所学知识可知，汉武帝以前，私人铸币还没有完全禁绝，盐铁经营权也大都掌握在豪强手中，因此社会上出现了许多富商大贾，控制了国家的经济命脉。为了加强朝廷对社会经济的控制，汉武帝把铸币权收归中央，统一铸造五铢钱，使国家的财政状况有了很大改善。结合所学知识可知，商贸的繁荣促进了货币交易的增长，但市场流通的金属货币携带不方便，北宋出现了世界上最早的纸币“交子”。

【小问 2 详解】

时期：结合所学知识可知，16 世纪中期到 18 世纪中期，我国正处于明清时期。原因：根据材料二中 16—18 世纪世界白银的生产、出口和接受示意图，“1545 年到 1800 年，从海外流入中国的白银大约有 6 万吨，约 1/3 到 1/2 的美洲白银，最终流向了我国”，可得出国际因素有新航路的开辟、殖民扩张等；根据材料二中“18 世纪中期，每年由外国商船运到欧洲的中国茶叶约 2000 万磅，价值近 400 万两白银”，可得出西方国家对我国商品的需求；结合所学知识可知，我国丝织业、制瓷业等手工业领先世界。

【小问 3 详解】

背景：根据材料三中“人民币在国际支付中的份额占比升至第四。这也是自 2015 年 8 月以来，人民币国际支付全球排名首次超越日元，跻身全球前四大活跃货币”，可得出人民币在国际贸易中将发挥着更为重要的角色；根据材料三中“国内经济长期发展向好，人民币稳步推进国际化，国内加快构建双循环发展格局，未来人民币在国际中支付、投资、储备作用不断增强”，可得出人民币作为国际储备货币的功能必然得到加强。愿景：本题是开放性题目，言之有理即可。根据材料三，结合所学知识可在更高层面上推动了全球化发展，培育新的世界经济增长点，也为人民币国际化带来了新的历史机遇来回答我国推进人民币国际化进程与实施“一带一路”建设等举措将为当今世界带来怎样的愿景。

23. 【答案】(1) ①协约国②凡尔赛—华盛顿体系。

主要矛盾：社会主义国家苏联与美国等资本主义国家之间的矛盾；帝国主义国家争夺霸权的斗争。

(2) 原因：政治：苏联的政治竞争；军事（科技）：原子弹的军事机密公开；经济：战后经济的恢复面临挑战；等等。（没有了共同的敌人或者反法西斯战争结束，美国企图称霸全球，美苏在政治方面的竞争）

世界格局：两极格局。(3) 铸剑为犁（化干戈为玉帛、和平与发展）。逆全球化思潮，贸易保护主义；

等等

【解析】

【小问 1 详解】

根据材料一示意图，结合所学知识可知，①对应的内容是协约国；②对应的内容是凡尔赛—华盛顿体系。矛盾：根据材料一中“第一次世界大战后，国际政治形势变化很大，第一个社会主义国家苏联的诞生和逐步强大，改变了整个世界的政治格局”，可得出社会主义国家苏联与美国等资本主义国家之间的矛盾；根据材料一中“帝国主义国家争夺霸权的斗争日趋尖锐，这些矛盾和斗争复杂尖锐”，可得出帝国主义国家争夺霸权的斗争。

【小问 2 详解】

原因：根据材料二中“美国领导人在 1945 年夏对未来有三怕一是政治上的，怕斯大林，也就是怕社会主义。二是怕技术上的，怕原子弹秘密保持不住。第三是怕经济上的，随着和平的降临，经济会重新转向衰退。这也就促使美国走上向全世界扩张的道路”，可得出政治：苏联的政治竞争；军事（科技）：原子弹的军事机密公开；经济：战后经济的恢复面临挑战。根据材料二中“在美国看来，正当美国要实现霸权主义野心却遭遇到了第一个也是主要来自苏联的障碍，苏联和世界各国人民的革命力量也在全世界范围内达到一个新的高度”，可得出二战后美国企图称霸全球，美苏在政治方面的竞争等。世界格局：结合所学知识可知，二战后形成了两极格局。

【小问 3 详解】

命名：根据材料三中位于联合国大楼前的雕塑，结合所学知识可知，对雕塑的理解可以为铸剑为犁或化干戈为玉帛或和平与发展。因素：根据材料三中“当前，逆全球化思潮正在发酵，保护主义的负面效应日益显现”可得出全球化的主要阻碍因素有逆全球化思潮，贸易保护主义等。

24. **【答案】**（1）理念：重视农业；中央集权的大一统观念；加强皇权；巩固政权；等等
特征：统一多民族国家的巩固与发展

（2）①否

②中国应向苏俄学习，进行无产阶级革命。

③先进知识分子宣传马克思主义；中国共产党成立，领导和组织工人运动

（3）目标：了解古代祭祀和书法发展，传承中华优秀传统文化。路线：①⑥

介绍：中山堂原名‘拜殿’，是明清两代皇帝祭祀社稷坛时休息的地方。1925 年孙中山先生病逝北京，在此停灵吊唁公祭。反映的是祭祀；兰亭八柱亭中八根石柱刻有历代书法家临摹的《兰亭序》反映的是书法，通过两处景点，了解古代祭祀和书法发展，传承中华优秀传统文化。（其他略）

【解析】

【小问 1 详解】

问题一：依据材料一信息分析可以看出，祭祀土地和谷物神表明封建统治者重视农业。社稷坛五色土、春秋季换土象征疆土永固，体现中央集权大一统观念。中央“社主石”体现江山永固，社稷长存，表明巩固政权。问题二：依据题干信息“北京中山公园的社稷坛建于 1420 年，一直作为明清两代皇家祭祀社稷的场所”并结合所学可知，明清的阶段特征是统一多民族国家的巩固与发展。

【小问 2 详解】

问题一：依据所学可知，第一次世界大战后，中国虽然是战胜国，但是因为国家力量薄弱，并没有取得应有的正当权益。英、法、美等列强操纵巴黎和会，拒绝中国的正当要求，将德国在中国山东的特权全部转让给日本，这说明中国在一战后未成为世界强国，故①是否。问题二：李大钊是中国最早的马克思主义传播者，他宣传的目标是向苏俄学习，进行无产阶级革命，建立无产阶级专政。后先进知识分子宣传马克思主义，中国共产党成立，领导中国取得新民主主义革命的胜利，中国走上社会主义道路。故②是中国应向苏俄学习，进行无产阶级革命。③先进知识分子宣传马克思主义；中国共产党成立，领导和组织工人运动。

【小问 3 详解】

通过观看地图设计路线，目标一：了解是古代祭祀和书法，古代祭祀是①社稷坛，书法是⑥兰亭八柱亭，路线：①⑥。

介绍：中山堂原名“拜殿”，是明清两代皇帝祭祀社稷坛时休息的地方。1925 年孙中山先生病逝北京，在此停灵吊唁公祭。反映的是祭祀；兰亭八柱亭亭中八根石柱刻有历代书法家临摹的《兰亭序》反映的是书法，通过两处景点，了解古代祭祀和书法发展，传承中华优秀传统文化。

目标二：欣赏花卉和倾听音乐，可知音乐是③音乐厅，花卉是④唐花坞，路线是：③④。

介绍：在中山公园南门处有两个著名的景点，分别是唐花坞和音乐厅。唐花坞始建于 1915 年，1992 年进行了全面修缮，是公园内常年展览花卉的地方。音乐厅始建于 1942 年。是目前北京最好的专业音乐厅之一，每年演出古典音乐、当代音乐与戏曲等 260 多场。这两处景点是我们观赏花卉和倾听音乐的好去处。

关于我们

北京高考在线创办于 2014 年，隶属于北京太星网络科技有限公司，是北京地区极具影响力的中学升学服务平台。主营业务涵盖：北京新高考、高中生涯规划、志愿填报、强基计划、综合评价招生和学科竞赛等。

北京高考在线旗下拥有网站门户、微信公众平台等全媒体矩阵生态平台。平台活跃用户 40W+，网站年度流量数千万量级。用户群体立足于北京，辐射全国 31 省市。

北京高考在线平台一直秉承 “精益求精、专业严谨” 的建设理念，不断探索 “K12 教育+互联网+大数据” 的运营模式，尝试基于大数据理论为广大中学和家长提供新鲜的高考资讯、专业的高考政策解读、科学的升学规划等，为广大高校、中学和教科研单位提供 “衔接和桥梁纽带” 作用。

平台自创办以来，为众多重点大学发现和推荐优秀生源，和北京近百所中学达成合作关系，累计举办线上线下升学公益讲座数百场，帮助数十万考生顺利通过考入理想大学，在家长、考生、中学和社会各界具有广泛的口碑影响力

未来，北京高考在线平台将立足于北京新高考改革，基于对北京高考政策研究及北京高校资源优势，更好的服务全国高中家长和学生。



微信搜一搜

北京高考资讯