

2017 年普通高等学校招生全国统一考试（江苏卷）

政治

一、单项选择题：本大题共 33 小题，每小题 2 分，共计 66 分。在每题给出的四个选项中，只有一个选项是最符合题意的。

- 2017 年 2 月 5 日，新世纪以来第 14 个关注“三农”的中央一号文件发布。该文件指出，在新的历史阶段农业农村工作的主线是
 - 进一步增强农村发展活力
 - 全面深化农村改革，加快推进农业现代化
 - 深入推进农业供给侧结构性改革
 - 加大改革创新力度，加快农业现代化建设
- 2017 年 3 月 15 日，第十二届全国人民代表大会第五次会议通过了《中华人民共和国民法总则》。该法律
 - 具有最高的法律效力
 - 是我国民法典编纂的开篇之作
 - 废除了现行民法通则
 - 奠定了我国整个法律制度的基础
- 2016 年 9 月 25 日，我国一项国家重大科技基础设施在贵州正式启用，这标志着我国在科学前沿实现了重大原创突破。这项设施是

A. 500 米口径球面射电望远镜	B. 天宫二号空间实验室
C. “神威·太湖之光”超级计算机	D. “蛟龙号”载人潜水器
- 2016 年 11 月 20 日，亚太经合组织第二十四次领导人非正式会议在秘鲁首都利马举行。本次会议的主题是
 - 创新驱动，造福人类
 - 打造包容性经济，建设更美好世界
 - 高质量增长和人类发展
 - 构建创新、活力、联动、包容的世界经济

5. 当前,消费需求日益呈现新变化和新趋势,人们更加偏好旅游、文化、体育、健康、养老等领域的消费。据统计,2016年1月至11月,体育服务业、健康服务业和养老服务业营业收入同比分别增长24.4%、16.4%和17.1%。材料表明
- A. 第三产业已成为我国主导产业
B. 求实心理主导的消费处于支配地位
C. 人们的收入水平得到大幅提高
D. 发展资料和享受资料消费不断增加
6. 债转股是解决债务清偿问题以实现企业发展的重要手段之一。甲企业赊欠乙企业3亿元货款,到期后无力偿还,经过谈判,约定乙企业将所持有的甲企业债权转为股权,即乙企业持有甲企业51%的股份,将甲企业重组为一家有限责任公司。这意味着
- ①甲企业延期偿还所欠乙企业债务 ②乙企业获得甲企业经营控制权
③乙企业可将股份在甲企业内转让 ④乙企业有权再将股权转为债权
- A. ①② B. ①④ C. ②③ D. ③④
7. 数字经济是随着信息技术发展而产生的一种新的经济形态,近年来呈蓬勃发展态势。据某研究机构测算,2015年中美日英等主要国家数字经济平均增速约为7.5%,显著高于当年全球GDP增速。材料表明,发展数字经济
- A. 有助于增强国有经济的控制力
B. 可以为经济发展提供新的动力
C. 有利于完善我国收入分配制度
D. 能提高我国在国际分工中的地位
8. 近年来,随着网络技术和移动支付技术的发展,网络平台给消费者提供了良好的视频观感体验,网络电影市场规模呈现爆发式增长,企业纷纷增加投入。2016年,我国全网上线电影由上年的700多部增加到2500多部,企业也获得了丰厚回报。学科网.对这一经济现象解读正确的是
- A. 信息技术进步→消费方式改变→供求关系变化→企业效益增加
B. 消费需求增加→信息技术进步→市场规模扩大→产品供给增加
C. 信息技术进步→市场规模扩大→产品质量提升→企业效益增加

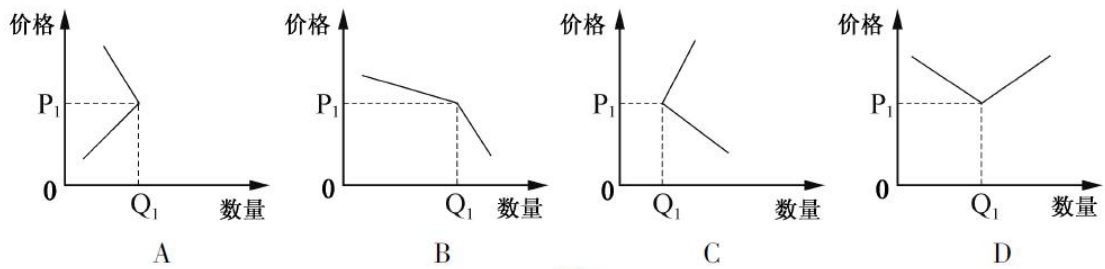


图 1

13. 县乡两级人大代表换届选举是全国人民政治生活中的一件大事，各地要加强对选举工作的监督，对违规违纪违法问题“零容忍”，切实保障公民的选举权和被选举权。这是因为
- 人大代表是由人民直接选举产生的
 - 人大代表代表人民管理国家各项工作
 - 选举权和被选举权是公民基本的民主权利
 - 选举权和被选举权是全体公民管理国家的基础
14. “放管服”是简政放权、放管结合、优化服务的简称，是党的十八大以来全面深化改革的重要内容。2017年2月，某省晒出了首批40961项“最多跑一次”项目清单，今后群众和企业到政府部门办事，只要材料齐全，最多跑一次。此举措体现了
- 政府的职能在不断减少
 - 政府求真务实的工作作风
 - 公民的权利在进一步扩大
 - 政府从群众中来到群众中去的宗旨
15. 某公共政策研究机构对我国地方财政信息公开情况进行研究和评估。其中，2011年以来31省份财政透明度平均分如图2所示。该图反映了

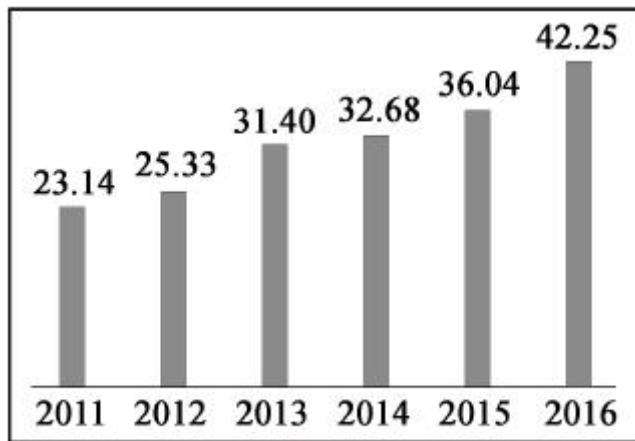


图 2

- A. 政府权威不断增强
B. 政府行政效率不断提高
C. 公民的监督权不断扩大
D. 公民知情权进一步落实
16. 2016 年 6 月，中共中央政治局审议通过了《中国共产党问责条例》，这是继《中国共产党廉洁自律准则》和《中国共产党纪律处分条例》之后管党治党的又一利器。《中国共产党问责条例》的审议通过
- ①有利于提升党的执政水平 ②体现了全面从严治党的不断深化
③确立了党的领导核心地位 ④实现了党内政治生活的令行禁止
- A. ①② B. ①④ C. ②③ D. ③④
17. 门巴族主要分布在西藏东南部的门隅和墨脱地区，解放前仍过着刀耕火种的生活。西藏解放后，实行民族区域自治，门巴族人民逐渐摆脱经济落后状态，生活有了显著改善。学科&网这说明
- ①我国积极引导宗教与社会主义社会相适应
②我国实行的民族区域自治制度具有优越性
③我国消除了各民族间经济发展不平衡的状况
④我国坚持民族平等、民族团结和各民族共同繁荣的原则
- A. ①② B. ①④ C. ②③ D. ③④

18. 近年来, 针对世界发展的难题, 习近平主席在多个场合阐述中国主张, 传递中国信心, 贡献中国智慧。2017 年 1 月 18 日, 他在联合国发表了《共同构建人类命运共同体》的主旨演讲, 清晰勾勒了共建人类命运共同体、实现共赢共享的中国方案。这一方案
- ①实现了世界各国政治经济的均衡发展
 - ②保障了各国平等参与国际事务的权利
 - ③顺应了各国维护和平、实现发展的共同心声
 - ④向世界展示了中国自觉承担国际责任的形象
- A. ①② B. ①④ C. ②③ D. ③④
19. 早在春秋战国时期, 扁鹊提出了“望、闻、问、切”的诊疗方法, 奠定了中医临床诊断和治疗的基础。此后, 中医药在不断汲取世界文明成果、丰富发展自己的同时, 也逐步传播到世界各地。目前, 世界卫生组织成员中已有 103 个认可使用针灸。这充分说明
- A. 中华文化兼收并蓄、源远流长
 - B. 文化交流以我为主、为我所用
 - C. 文化多样性是人类进步的动力
 - D. 中医药是中华文明的集中体现
20. 2016 年 11 月 30 日, 我国的“二十四节气”获批列入联合国教科文组织“人类非物质文化遗产代表作名录”。对此有人认为, “二十四节气在今天的作用已经微乎其微, 意义不大”。如果请你反驳这种观点, 下列可能用到的关键词最合适的一组是
- A. 文化平等摇 文化差异摇 文化交融
 - B. 文化影响摇 文化传承摇 文化自信
 - C. 文化借鉴摇 文化包容摇 文化繁荣
 - D. 文化传播摇 文化市场摇 文化自觉
21. 在一些旅游景区, 国内外的许多标志性建筑如天坛、鸟巢、兵马俑、埃菲尔铁塔、悉尼歌剧院等, 经常被照搬、模仿或抄袭, 山寨景观多次出现。对此类现象认识正确的是
- A. 满足了人民群众的文化需求
 - B. 促进了中西方文化的融合
 - C. 发展了国家倡导的大众文化
 - D. 需要通过文化创新去改变

22. 在每一个历史时期,中华民族都留下了无数不朽作品。从诗经、楚辞、汉赋,到唐诗、宋词、元曲、明清小说等,都是那个时代社会生活和精神的写照,都具有时代的烙印和特征。今天要创作出在人民中传之久远的精品力作,就要
- A. 超越生活、改变社会
B. 立足实践、扎根生活
C. 继承传统、满足大众
D. 博采众长、海纳百川
23. 习近平总书记在中国共产党政法大学考察时指出,中国特色社会主义法治道路的一个鲜明特点,就是坚持依法治国和以德治国相结合。培养高素质法治人才,必须坚持立德树人,德法兼修。下列说法能反映这一人才培养要求的是
- A. 德若水之源,才若水之波
B. 功以才成,业由才广
C. 穷理以致其知,反躬以践其实
D. 用人以德,唯德是举
24. 在中国古代“家国一体”的社会组织结构中,人们重视家庭的团聚、国家的统一、社会的和谐。受其影响,中国传统哲学有着浓厚的“尚圆”思维,讲究圆满、圆融、圆通,花好月圆、团团圆圆等也成为普通中国人的美好追求。由此可见
- ①传统文化对社会变革有深刻影响
②传统文化具有鲜明的民族性
③哲学可以指导人们正确改造世界
④哲学智慧产生于人类的实践活动
- A. ①②
B. ①③
C. ②④
D. ③④
25. 20 世纪 80 年代初,法国科学家首次用实验证实了“量子纠缠”现象的存在。科学家们设想,如果把“量子纠缠”原理用于通信,将极大提高通信的安全保密程度。为此,我国积极开展相关应用研究,并于 2016 年 8 月成功发射了世界上第一颗量子通信卫星。这表明
- A. 意识是客观存在的主观映象
B. 要一切从实际出发,实事求是
C. 客观物质世界是科学精神和理念的外现
D. 人们可以在意识指导下能动地改造世界
26. 风筝在我国已经有 2000 多年的历史,最初用于军事,到了唐代中期逐渐转向娱乐。后来,人们又将神话故事、吉祥如意等表现在风筝上,使风筝成为了一门艺术。现在,风筝艺术在我国仍然很受欢迎,并形成了以山东潍坊风筝、北京风筝、江苏南通风筝等为代表的风筝流派。从材料中可以看出

- ①事物是普遍性和特殊性的统一 ②事物的发展变化是有规律可循的
③事物变化发展的道路是曲折的 ④事物是绝对运动和相对静止的统一
- A. ①③ B. ①④ C. ②③ D. ②④

27. 有研究发现，在黑夜翻耕的土壤中，仅有 2%的野草种子日后会发芽，但如果在白天翻耕，发芽率高达 80%。进一步研究发现，绝大多数野草种子在被翻出土后的数小时内，如果没有受到光线的刺激，就难以发芽。材料表明

- A. 人为事物联系是主观的 B. 新事物具有强大的生命力
C. 事物的联系是有条件的 D. 新事物存在不完善的地方

28. 随着科技的进步尤其是“互联网+”的发展，出现了代驾、陪购师、网络主播等新兴职业。这些新兴职业在给社会带来效率或便利的同时，也面临着如何规范的问题，制定相关的法律法规刻不容缓。由此可见

- A. 实践具有客观物质性
B. 实践具有直接现实性
C. 实践是认识的最终目的
D. 实践是认识发展的动力

29. 下列选项与图 3 漫画蕴含的哲理相符的是

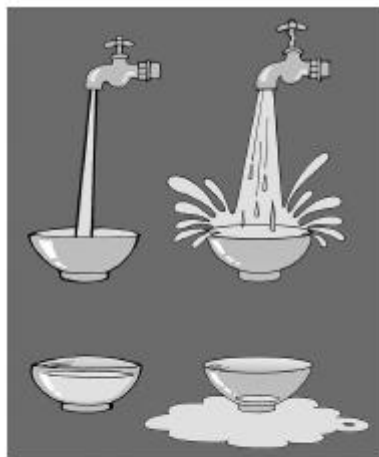


图 3

- A. 绳锯木断，水滴石穿
B. 流水不腐，户枢不蠹
C. 人往高处走，水往低处流

34. 近年来,“诗和远方”渐回公众视野。当今科技发达,物质资源丰富,但随着各类电子产品逐渐渗入人们的生活,很多人终日沉浸于网络,渐行渐远地偏离了心灵和自然。所以,“面朝大海,春暖花开”仿佛是物质和技术构筑的丛林里的丝丝清风,给人们带来了自然的气息和心灵的抚慰,引起了无数人的精神共鸣。

结合材料,回答下列问题:

- (1) 运用《文化生活》知识,说明经典诗歌为什么能引起人们的精神共鸣。(6分)
- (2) 有些青少年认为,有了高科技电子产品,就不需要“诗和远方”。请运用价值观的道理对此观点加以分析。(6分)

35. 材料一 税收政策会对市场参与者的行为和利益产生重要影响。假设某制造企业的某一产品当前销售单价为9.8万元(其中包含企业每销售一件产品应缴纳的税额1.8万元),年销售量10万件。现对该企业销售产品实行免税措施,免税后单价为9.2万元,年销售量为13万件。

材料二 智能制造是新一轮工业革命的核心。为主动应对世界新技术革命挑战,全球工业大国都在全力抢占智能制造的制高点,构筑全球新战略。经济新常态下,我国企业税负过重等问题依然突出,弱化了企业创新意愿和创新能力,减税已成为当前推动中国制造向中国智造转型升级的迫切要求和重要选择。

结合材料,运用《经济生活》知识,回答下列问题:

- (1) 计算销售单件产品后买卖双方从免税中分别获得的收益,并据此指出其收益变化情况。(4分)
- (2) 说明减税可以助推中国制造向中国智造转型升级的理由。(8分)

36. 【选做题】本题包括A、B两小题,请选定其中一小题,并在相应的答题区域内作答。若多做,则按A小题评分。

A【经济学常识】

美国一直深受个人主义价值观和自由主义经济思想的强烈影响,国家主要通过财政政策和货币政策调控经济,私人企业独立性强。但企业的过分投机,加上政府监管不力,最终导致美国金融危机的爆发。

日本除了财政政策和货币政策外,政府还通过经济计划、产业政策、私人关系等方式影响企业行为,导致政府与大企业形成了紧密的利益共同体,这也是战后日本经济高速发展的

重要原因之一。但对企业的过度扶持和频发的钱权交易丑闻也引发了人们的反思。

结合材料，回答下列问题：

(1) 美日两国市场经济模式各有什么特点？（6分）

(2) 两国市场经济模式对发展我国社会主义市场经济有何启示？（6分）

B【国家和国际组织常识】

跨太平洋伙伴关系协定（TPP）也被称作“经济北约”，旨在促进亚太地区的贸易自由化。2008年，美国高调加入谈判并主导其进程，2016年2月，美国等十二国正式签署协议。然而，特朗普和部分美国人认为TPP“存在很多缺陷，让美国失去了数百万个制造业工作”。2017年1月，特朗普总统签署上任后首份行政命令，正式宣布美国退出TPP。

2016年6月23日，英国公投决定“脱欧”。2017年3月16日，英国女王伊丽莎白二世签署“脱欧”法案，授权首相特蕾莎·梅正式启动“脱欧”程序。

结合材料，回答下列问题：

(1) 简要说明特朗普有权决定美国退出TPP的理由。同样是国家元首，英国女王权力的行使有何特点？（6分）

(2) 为促进国际组织发挥积极作用，各成员国应有怎样的作为？（6分）

三、探究题：本题18分。结合背景材料进行探究，能够发现问题、提出问题，并综合运用有关知识分析问题，创造性地提出解决问题的方案、策略等。

37. 社区是我们共同生活的家园。传统社区是一种“熟人社会”，人与人之间的关系以血缘、地缘、感情为纽带，身边都是亲人、熟人，人情交往密切。随着社会变迁和生活节奏加快，社区已近乎一个“陌生人社会”，个人权利得到更多尊重的同时，人与人之间的界限也越来越分明，居民之间缺乏必要的互助和互动，甚至出现“对门不相识”的状况。

如今，随着信息技术的发展，共享已成为时代潮流，这为建设新型“熟人社区”提供了新思路。社区通过建设“云平台”，公示政府公共服务政策、社区业务办理流程、活动通知等，实现信息共享。此外，还在“云平台”上专设“邻里互助”“邻里商圈”等专栏，使玩具、图书等闲置物品顺利置换，实现物品共享；私人厨房、书房、车位临时出借，实现空间共享。基层党组织、居委会还通过“云平台”与居民加强互动交流，实现共同治理……共享、共治使得“邻里之间不再陌生”成为可能。

结合上述材料，探究回答下列问题：

- (1) 从经济、文化角度看，“共享”会给社区带来哪些改变？（6分）
- (2) 运用《政治生活》知识，谈谈社区“共治”需要各方作出哪些努力。（6分）
- (3) 展望共享社区的未来，有人说，“共享是一种向传统的回归”。请运用一个最恰当的哲学道理评析上述观点。（6分）

要求：①观点明确，紧扣主题，理由充分，合乎逻辑。

②学科术语使用规范，字数 250 字左右。