

丰台区 2020-2021 学年度第二学期期中考试联考


高一化学 (B 卷) 考试时间: 90 分钟

可能用到的相对原子质量: H 1 O 16 Na 23 S 32

第一部分 (选择题 共 42 分)

本部分共 21 小题, 每小题 2 分, 共 42 分。在每小题给出的四个选项中, 选出符合题目要求的一项。

1. 下列设备工作时, 将化学能转化为热能的是

A	B	C	D
			
硅太阳能电池	铅蓄电池	燃气灶	电风扇

2. “三七”是一种名贵中药, 其有效成分中的人参皂苷 Re ($C_{48}H_{82}O_{18}$) 具有改善记忆的作用。人参皂苷 Re 属于

- A. 单质 B. 氧化物 C. 无机物 D. 有机化合物

3. 下列元素的原子半径最大的是

- A. Na B. Mg C. Si D. S

4. 下列元素中, 非金属性最强的是

- A. F B. Cl C. Br D. I

5. 下列物质中, 含离子键的是

- A. H_2O B. CO_2 C. $MgCl_2$ D. Cl_2

6. 下列属于吸热反应的是

- A. 氢氧化钠溶液与盐酸反应 B. 铁与盐酸反应
C. 碳酸氢钠分解 D. 甲烷在氧气中燃烧

7. 稀土被称为“工业黄金”和“新材料之母”, 其中钇 (Y) 是稀土元素的代表。下列关于 $^{89}_{39}Y$ 的说法中, 不正确的是

- A. 质子数为 39 B. 质量数为 128
C. 中子数为 50 D. 核外电子数为 39

8. 乙烯分子的球棍模型为 ，关于乙烯说法不正确的是





A. 分子式为 C_2H_4

B. 含有碳碳双键

C. 空间结构为直线型

D. 结构式为 

9. 在萃取分液操作中用到主要实验仪器是

A. 分液漏斗	B. 普通漏斗	C. 圆底烧瓶	D. 容量瓶
			

10. 控制变量是科学研究的重要方法。相同质量的锌与足量稀硫酸在下列条件下发生反应，初始阶段化学反应速率最快的是

	A	B	C	D
锌的状态	块状	块状	粉末	粉末
$c(H_2SO_4) / (mol \cdot L^{-1})$	1	2	1	2
$t / ^\circ C$	20	40	20	40

11. 一定温度下，在恒容密闭容器中 CO_2 和 H_2 发生反应：




下列说法能说明该反应已经达到化学平衡状态的是

A. CO_2 、 H_2 、 CH_3OH 、 H_2O 的浓度相等

B. CO_2 、 H_2 、 CH_3OH 、 H_2O 的浓度均不再变化

C. 单位时间内消耗 1 mol CO_2 ，同时生成 1 mol CH_3OH

D. CO_2 、 H_2 、 CH_3OH 、 H_2O 的分子数之比为 1 : 3 : 1 : 1

12. 某粒子的结构示意图为 ，关于该粒子的说法正确的是

A. 核电荷数为 18

B. 核外有 3 个电子层

C. 属于非金属元素的原子

D. 在化学反应中易得 1 个电子

13. 下列物质的电子式书写正确的是

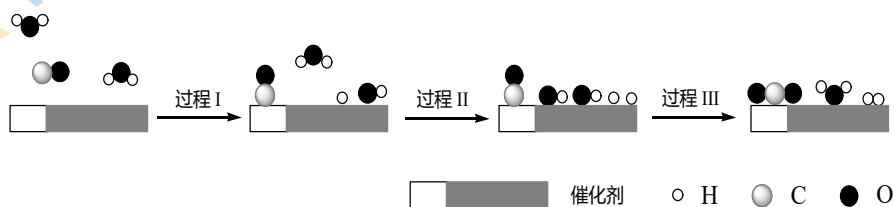
A. $:\ddot{O}::C::\ddot{O}:$

B. $H:O:H$

C. $Na:\ddot{Cl}:$

D. $\begin{array}{c} H \\ | \\ H:N:H \end{array}$

14. 下列化合物中，与 $\text{CH}_3\text{CH}_2\text{CH}_2\text{CH}_2\text{CH}_3$ 互为同分异构体的是
 A. CH_4 B. $\text{CH}_2=\text{CH}_2$ C. CH_3CH_3 D. $\begin{matrix} \text{CH}_3-\text{CH}-\text{CH}_2-\text{CH}_3 \\ | \\ \text{CH}_3 \end{matrix}$
15. 某课外小组同学通过实验发现钾和钠的化学性质相似。下列解释最合理的是
 A. 原子的最外层电子数相同 B. 原子半径相差不大
 C. 元素的最高正化合价相同 D. 都属于金属元素
16. 下列关于有机化合物结构特点的说法中，正确的是
 A. CH_4 具有正四面体结构 B. 碳原子之间只能形成 C—C 单键
 C. 含碳元素的物质都是有机化合物 D. 碳原子之间只能形成碳链
17. 水煤气变换反应的过程示意图如下：



- 下列说法不正确的是
- A. 该反应的化学方程式是 $\text{CO} + \text{H}_2\text{O} \xrightarrow{\text{催化剂}} \text{CO}_2 + \text{H}_2$
 B. H_2O 和 CO_2 分子中均含有极性键
 C. 过程 II 会放出能量
 D. 在上述过程中，都有 H_2O 的参与或生成
18. 根据元素周期律，由下列事实进行归纳推测，推测不合理的是

选项	事实	推测
A	Mg 与冷水较难反应，Ca 与冷水较易反应	Be (铍) 与冷水更难反应
B	Na 与 Cl 形成离子键，Al 与 Cl 形成共价键	Si 与 Cl 形成共价键
C	HCl 在 1500°C 时分解，HI 在 230°C 时分解	HBr 的分解温度介于二者之间
D	随核电荷数递增，第 IA 族元素单质的沸点逐渐降低	随核电荷数递增，第 VIIA 族元素单质的沸点也逐渐降低

19. 下列性质的比较中，正确的是

- A. 非金属性: $\text{Br} > \text{Cl}$ B. 碱性: $\text{Ca}(\text{OH})_2 > \text{Mg}(\text{OH})_2$
C. 酸性: $\text{H}_2\text{CO}_3 > \text{HNO}_3$ D. 稳定性: $\text{H}_2\text{S} > \text{H}_2\text{O}$

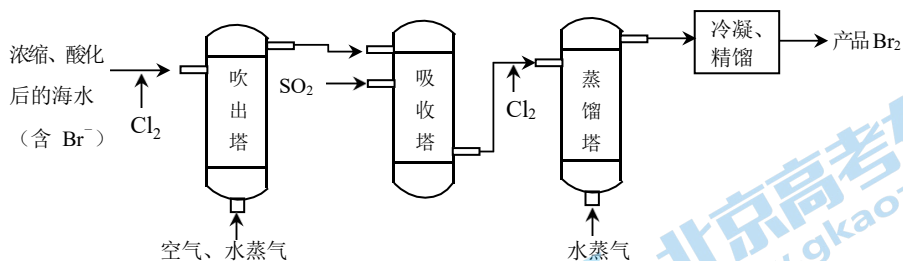
20. 几种短周期元素的原子半径及主要化合价见下表:

元素代号	L	M	Q	R	T
原子半径/nm	0.160	0.143	0.102	0.089	0.074
主要化合价	+2	+3	+6、-2	+2	-2

下列叙述正确的是

- A. L、R 的单质与稀盐酸反应的剧烈程度 $\text{L} < \text{R}$
B. L 的最高价氧化物的水化物具有两性
C. 单质的非金属性: $\text{Q} < \text{T}$
D. L、Q 形成的简单离子核外电子数相等

21. 工业上海水提溴的主要工艺方法为“空气吹出法”，过程如下:



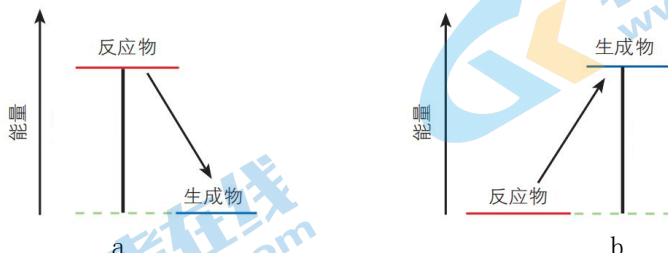
下列说法不正确的是

- A. 空气吹出法利用了溴单质的挥发性
B. 从吸收塔流出的溶液主要含 HBr 和 H_2SO_4
C. 在吸收塔中 Br_2 与 SO_2 发生反应以达到富集目的
D. 第一次通 Cl_2 的目的是氧化 Br^- ，第二次通 Cl_2 的目的是氧化 SO_2

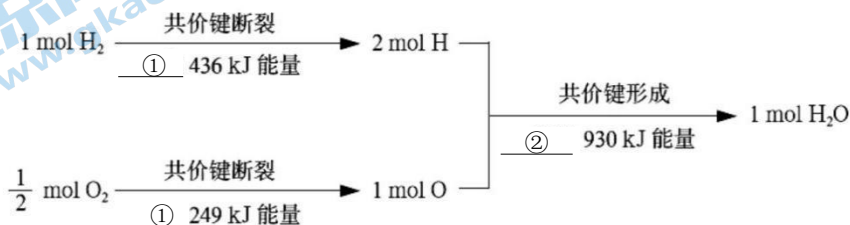
第二部分（非选择题 共 58 分）

22. (8 分) 在化学反应中, 不仅有物质的变化, 还伴随着能量的变化。

(1) 下图中, 表示放热反应能量变化的是_____ (填字母)。



(2) 从微观角度分析化学反应中能量变化的原因:



图中①和②分别为_____、_____ (填“吸收”或“释放”)。

从微观角度判断该反应为放热反应的证据为_____。

23. (16 分) 化学能在一定条件下可转化为电能。

(1) 如图所示为“锌-铜-稀硫酸”原电池, 请写出

锌与稀硫酸反应的离子方程式是_____。

(2) 装置中锌片上发生_____ (“氧化”或“还原”)

反应, 电极反应式是_____, 铜片上发生反应的电极反应式是_____, 能证明化学能转化为电能的实验现象为_____。

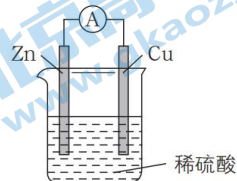
(3) 按照电化学装置的四个构成要素来看, Cu 的作用是_____,

稀硫酸的作用是_____。

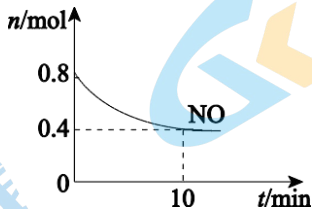
a. 电极反应物 b. 电极材料 c. 离子导体 d. 电子导体

(4) 从化学的角度分析, 原电池装置产生电流的原因是: 原电池装置可

将_____, 并通过能导电的物质形成闭合回路, 产生电流。



24. (6分) 汽车尾气中含有CO、NO等有害气体,某新型催化剂能促使NO、CO转化为2种无毒气体。T°C时,将0.8 mol NO和0.8 mol CO充入容积为1 L的密闭容器中,模拟尾气转化,容器中NO物质的量随时间变化如图。



(1) 将NO、CO转化为2种无毒气体的化学方程式是_____。

反应开始至10 min, $v(\text{NO}) = \underline{\hspace{2cm}} \text{ mol} \cdot \text{L}^{-1} \cdot \text{min}^{-1}$

(2) 下列说法正确的是_____。

- 新型催化剂可以加快NO、CO的转化速率
- 该反应进行到10 min时达到化学平衡状态
- 平衡时CO的浓度是 $0.4 \text{ mol} \cdot \text{L}^{-1}$

25. (16分) 下表所示为元素周期表的短周期,其中除标出的元素外,表中的每个编号表示一种元素。请用化学用语回答下列问题:

族 \ 周期	I A	II A	III A	IV A	V A	VI A	VII A	0
1	①							
2					②	③	F	Ne
3	④	Mg	Al			⑤	⑥	

- ④的原子结构示意图为_____。
- ④、镁、铝元素组成的单质中,与水反应最剧烈的是_____,该反应的离子方程式为:_____。④、铝二者的最高价氧化物对应的水化物之间可以发生反应,该反应的离子方程式为:_____。
- ①与⑥两种元素可形成化合物,用电子式表示其形成过程为_____,形成化合物的类型为_____ (填“离子化合物”或“共价化合物”)。
- ⑤、⑥元素的最高价氧化物对应水化物相比,酸性最强的是_____,其气态氢化物最稳定的是_____。

(5) 已知硒(Se)与⑤同主族,且位于⑤下一个周期,根据硒元素在元素周期表中的位置推测,硒可能具有的性质是_____。

- a. 得电子能力比⑤强
- b. SeO_2 既有氧化性又有还原性
- c. 最高价氧化物对应水化物的化学式为 H_2SeO_4

(6) 某同学设计实验,将 Cl_2 通入 NaBr 溶液,待充分反应后滴加 CCl_4 ,振荡、静置后,可观察 CCl_4 层溶液变成橙色,写出该反应的离子方程式_____,该实验的设计思路是通过比较_____,推知元素原子得电子能力的相对强弱。

26. (12分) 某小组同学探究 I_2 能否将 Fe^{2+} 氧化为 Fe^{3+} 。

试管中加适量铁粉,加入 10 mL 稀盐酸,充分反应后,铁粉有少量剩余,取适量上层清液于试管中,滴加少量棕黄色的碘水,振荡试管观察到溶液变为黄色。

(1) 小组同学认为试管中溶液呈黄色不能说明 I_2 将 Fe^{2+} 氧化为 Fe^{3+} ,其理由是:_____。

(2) 继续进行实验

操作	现象
向试管中继续加入 0.5 mL CCl_4 ,充分振荡,静置	静置后,上层溶液几乎无色,下层溶液为紫色
取出上层溶液,滴加 KSCN 溶液	溶液变成浅红色

① 试管中加入 CCl_4 的目的是_____。

② 滴加 KSCN 溶液后,溶液变成浅红色的原因是_____。

(3) 有同学认为该实验现象不能说明 I_2 将 Fe^{2+} 氧化为 Fe^{3+} ,理由是_____。

(4) 经查阅资料,发现 Cl_2 和 Br_2 都能将 Fe^{2+} 氧化,请写出 Cl_2 与 Fe^{2+} 反应的离子方程式为_____; I_2 与 FeCl_2 溶液反应的程度很小。

(5) Cl_2 、 Br_2 、 I_2 氧化 Fe^{2+} 的能力逐渐减弱,从原子结构解释其原因_____。

丰台区 2020—2021 学年度第二学期期中联考

高一化学 B 卷 参考答案 第一部分 (选择题 共 42 分)

题号	1	2	3	4	5	6	7	8	9	10	11	12	13	14
答案	C	D	A	A	C	C	B	C	A	D	B	B	A	D
题号	15	16	17	18	19	20	21							
答案	A	A	C	D	B	C	D							

第二部分 (非选择题 共 58 分)

22. (2分/空, 共 8分)

(1) a

(2) 吸收 释放

反应物断裂化学键吸收的总能量小于生成物形成化学键释放的总能量

23. (2分/空, 共 16分)

(1) $\text{Zn} + 2\text{H}^+ \rightleftharpoons \text{Zn}^{2+} + \text{H}_2 \uparrow$

(2) 氧化 $\text{Zn} - 2\text{e}^- \rightleftharpoons \text{Zn}^{2+}$

$2\text{H}^+ + 2\text{e}^- \rightleftharpoons \text{H}_2 \uparrow$

电流表指针发生偏转或铜片上有气泡产生

(3) b d a c (少选 1 分, 多选不给分)

(4) 氧化反应与还原反应分在不同的区域进行

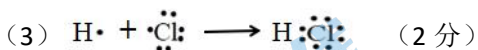
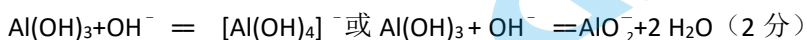
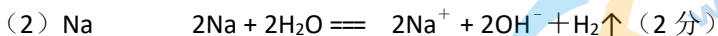
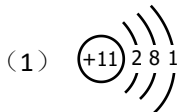
24. (2分/空, 共 6分)

(1) $2\text{NO} + 2\text{CO} \xrightleftharpoons{\text{催化剂}} \text{N}_2 + 2\text{CO}_2$

(2) 0.04

(3) a b c

25. (1分/空, 标记处除外, 共16分)



共价化合物



单质氧化性强弱

26. (2分/空, 共12分)

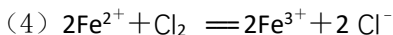
(1) 黄色可能是碘水稀释后的颜色, 无法说明反应是否发生

(2)

①萃取 I_2 , 排除 I_2 的干扰

②生成 Fe^{3+} 的浓度较低

(3) 亚铁离子与空气接触会被氧化, 应该排除空气对实验的影响



(5) Cl、Br、I 位于同一主族, 元素从上到下原子最外层电子数相同, 电子层数依次增多, 原子半径逐渐增大, 核对最外层电子的吸引力减小, 得电子能力逐渐减弱, 氧化性减弱。

关于我们

北京高考在线创办于 2014 年，隶属于北京太星网络科技有限公司，是北京地区极具影响力的中学升学服务平台。主营业务涵盖：北京新高考、高中生涯规划、志愿填报、强基计划、综合评价招生和学科竞赛等。

北京高考在线旗下拥有网站门户、微信公众平台等全媒体矩阵生态平台。平台活跃用户 40W+，网站年度流量数千万量级。用户群体立足于北京，辐射全国 31 省市。

北京高考在线平台一直秉承“精益求精、专业严谨”的建设理念，不断探索“K12 教育+互联网+大数据”的运营模式，尝试基于大数据理论为广大中学和家长提供新鲜的高考资讯、专业的高考政策解读、科学的升学规划等，为广大高校、中学和教科研单位提供“衔接和桥梁纽带”作用。

平台自创办以来，为众多重点大学发现和推荐优秀生源，和北京近百所中学达成合作关系，累计举办线上线下升学公益讲座数百场，帮助数十万考生顺利通过考入理想大学，在家长、考生、中学和社会各界具有广泛的口碑影响力

未来，北京高考在线平台将立足于北京新高考改革，基于对北京高考政策研究及北京高校资源优势，更好的服务全国高中家长和学生。



微信搜一搜

北京高考资讯