

# 2022 北京高中合格考政治

## (第一次)

考生须知:

1. 考生要认真填写考场号和座位序号。
2. 本试卷共 11 页, 分为两部分。第一部分为选择题, 共 30 小题 (共 60 分); 第二部分为非选择题, 共 5 小题 (共 40 分)。
3. 试题所有答案必须填涂或书写在答题卡上, 在试卷上作答无效。第一部分必须用 2B 铅笔作答; 第二部分必须用黑色字迹的签字笔作答。
4. 考试结束后, 考生应将试卷和答题卡放在桌面上, 待监考员收回。

### 第一部分(选择题共 60 分)

本部分共 30 小题, 每小题 2 分, 共 60 分。在每小题列出的四个选项中, 选出最符合题目要求的一项。

1. 中国共产党第十九届中央委员会第六次全体会议提出, 党的十八大以来, 中国特色社会主义进入新时代。党领导人民自信自强、守正创新, 创造了新时代中国特色社会主义的伟大成就。关于中国特色社会主义进入新时代, 下列理解正确的是 ( )

- ①我国已经跻身于发达国家行列
- ②我国社会主要矛盾发生了转化
- ③我国处于社会主义初级阶段的基本国情发生改变
- ④中国特色社会主义进入新时代是我国发展新的历史方位

A. ①② B. ①③ C. ②④ D. ③④

2. 马克思说: “手推磨产生的是封建主的社会。蒸汽磨产生的是工业资本家的社会。”这一论断说明。在人类社会发展的进程中 ( )

- ①生产力是最活跃、最革命的因素
- ②生产力是社会发展的最终决定力量
- ③生产关系总是推动生产力的发展
- ④生产力的发展会引起生产关系的变革

A. ①②③ B. ①②④ C. ①③④ D. ②③④

3. 1956 年 1 月 15 日, 北京各界 20 多万人在天安门广场举行庆祝社会主义改造胜利联欢大会。社会主义改造的伟大胜利 ( )

- ①标志着我国实现了从新民主主义到社会主义的转变
- ②极大地激发了广大人民群众建设社会主义的积极性
- ③意味着党带领人民成功开创了中国特色社会主义
- ④表明我国由落后的农业国变为先进的工业国

A. ①② B. ①③ C. ②④ D. ③④

4. 发展壮大国有经济, 要推进国有经济布局优化和结构调整, 推动国有经济向关系国家安日全、国民经济命脉的重要行业集中, 向提供公共服务、应急能力建设和公益性等关系国计民生的重要行业集中, 向前瞻性战略性新兴产业集中。下列行业中, 更适合国有资本投入的是 ( )

- ①电力电网
- ②航空航天
- ③社区餐饮服务
- ④小商品零售

A. ①② B. ①③ C. ②④ D. ③④

5. 2015—2020年，北京输出到天津、河北的技术合同成交额累计超过1200亿元：“四纵、四横、一环”的京津冀骨干路网格局初步建立；北京22家市属医院与天津、河北开展医疗合作，43项临床检验结果在京津冀485家医疗机构实现互认。如果给上述报道加一个标题，下列最合适的是（ ）

A. 打造京津冀对外开放新格局 B. 京津冀打赢蓝天保卫战  
C. 织密京津冀社会保障安全网 D. 京津冀协同发展新成效

6.

小吴拥有3项国家专利，改进过43项设计工艺和23种工艺设备，获得多种奖励，成为公司里的技术骨干。在公司工作的小张，爱好旅游、摄影。她应某网站约请开设个人专栏，分享旅途风光与见闻，受到网友欢迎，收入不菲。

企小马听说传销赚钱快，就做起了传销，结果不仅没有发家致富，反而债台高筑，并因触犯法律而受到制裁。

以上三人的经历启示我们（ ）

①只有体力劳动才是社会财富的源泉②劳动者要通过辛勤、诚实劳动致富  
③通过劳动才能创造更加美好的生活④劳动是每个人获得收入的唯一途径

A. ①② B. ①④ C. ②③ D. ③④

7. 北京市某中学生设计了一款“闲置物品公益转让”App（手机应用软件），在符合国家卫生标准的前提下，用户可以通过平台提供自己的闲置物品，或找到自己需要的书籍、过期杂志和学习用品等。这一做法体现的理念是（ ）

①节约资源，变废为宝②分类回收，循环再生  
③绿色生活，环保选购④重复使用，多次利用

A. ①② B. ①④ C. ②③ D. ③④

8. 建设社会主义现代化强国，实现中华民族的伟大复兴，需要不断改进党的领导方式和执政方式。中国共产党执政的基本方式是（ ）

A. 科学执政 B. 民主执政 C. 依法执政 D. 为民执政

9. 在我国，人民是国家的主人，拥有管理国家事务、管理经济和文化事业、管理社会事务的权利，对极少数敌对分子实行专政。这表明，我国人民民主专政的本质是（ ）

A. 建立民主制度 B. 维护国家稳定 C. 保卫国家安全 D. 人民当家作主

10. 2021年春节前夕，江西井冈山白银湖村村民邛冬华贴上新对联——上联：“脱贫全靠政策”；下联：“致富迎来幸福春”；横批：“共产党万岁”。90多年前的1928年，中国共产党制定《井冈山土地法》，穷苦农民获得梦寐以求的土地，邛冬华的曾祖父邱启山也曾写下一副对联——上联：“分田不忘共产党”；下联：“幸福牢记毛委员”；横批：“产党万岁”。这两副对联是中国百年巨变的缩影，也是中国共产党始终践行初心和使命的生动写照。党的初心和使命是（ ）

①为中国人民谋幸福②为中华民族谋复兴③推翻封建专制政治④发挥先锋模范作用

A. ①② B. ①④ C. ②③ D. ③④

11. 2021年9月至11月，北京市的区和乡镇人大换届选举工作全面展开，此次换届选举产生了4898名区人大代表和11137名乡镇人大代表。对此，下列理解正确的是（ ）

①北京市的区和乡镇人大代表是由选民直接选举产生的  
②北京市的区和乡镇人大代表来自人民，肩负人民重托

关注北京高考在线官方微信：[北京高考资讯\(微信号:bjgkzx\)](https://www.bjgkzx.com)，获取更多试题资料及排名分析信息。

③凡有北京市户口的居民都能以选民身份行使选举权

④当选的人大代表能决定全国和地方的一切重大事务

A. ①② B. ①④ C. ②③ D. ③④

12. 在每年召开的全国人民代表大会上, 国务院总理都要作政府工作报告。这表明, 全国人民代表大会 ( )

①是我国最高国家权力机关②是我国最高国家行政机关

③依法制定国家的基本法律④依法行使对国务院的监督权

A. ①③ B. ①④ C. ②③ D. ②④

13. 我国宪法规定了国家的根本政治制度。这一根本政治制度是 ( )

A. 协商民主制度 B. 民族区域自治制度

C. 人民代表大会制度 D. 基层群众自治制度

14. 下图场景反映出居民委员会承担的任务是 ( )



①调解民间纠纷②向人民政府反映居民的意见、要求

③惩治违法犯罪④办理本居住地区居民的公共事务和公益事业

A. ①②③ B. ①②④ C. ①③④ D. ②③④

15. 新中国成立 70 多年来, 中国人民政治协商会议走过了辉煌的历程。在中国共产党领导下, 人民政协积极投身建立新中国、建设新中国、探索改革路、实现中国梦的伟大实践, 建立了历史的功勋。人民政协的职能是 ( )

①政治协商的②民主监督③参政议政④团结民主

A. ①②③ B. ①②④ C. ①③④ D. ②③④

16. 在党的坚强领导下, 我国始终把民族地区和少数民族群众作为脱贫攻坚的重点区域、重点群体, 实施一系列发展规划。2013—2020 年, 东西部扶贫协作实现了 30 个民族自治州全覆盖; 中央财政对民族 8 省区投入近 3000 亿元, 占全国的 45%。上述举措 ( )

①是民族自治地方依法管理地方财政的表现②为推动民族地区脱贫致富提供了强大保障

③促进了各民族共同团结进步与繁荣发展④有助于铸牢中华民族共同体意识

A. ①②③ B. ①②④ C. ①③④ D. ②③④

17. 中共中央印发的《法治社会建设实施纲要 (2020—2025 年)》指出: 法治社会是构筑法治国家的基础, 法治社会建设是实现国家治理体系和治理能力现代化的重要组成部分。我们要建设的法治社会是 ( )


①彻底消除了违法犯罪行为的社会②社会治理依法开展的社会

③法律得到普遍认可和遵从的社会④公共生活和谐有序的社会

A. ①②③ B. ①②④ C. ①③④ D. ②③④



18. 用玻璃做的金鱼缸，透明度很高，不论从哪个角度观察，里面的情况都一清二楚。“金鱼缸效应”也叫“透明效应”，常常用来比喻一种高透明度的管理模式。下列有助于提高政府工作透明度的是（ ）



- ①依法公布政府的权力清单②加强学习型政府机关建设  
③合理配置政府部门间的关系④向社会公开“三公”经费  
A. ①② B. ①④ C. ②③ D. ③④

19. 习近平总书记曾多次引用英国哲学家培根的这句话：“一次不公正的裁判，其恶果甚至超过十次犯罪。因为犯罪虽是无视法律——好比污染了水流，而不公正的审判则毁坏法律——好比污染了水源。”这告诉我们（ ）

- A. 要努力实现立法过程的科学化 B. 要建立行政执法全过程记录制度  
C. 司法活动必须要坚持公平正义 D. 要大力弘扬中华优秀传统法治文化

20. 在实际生活中，学生要面对和处理自己的学习计划与学习实际之间的关系，教师要面对和处理自己的教学计划与教学实际之间的关系，医生要面对和处理处方与病情之间的关系……上述材料共同涉及到哲学的基本问题。这一问题（ ）

- A. 整体和部分的关系问题 B. 思维和存在的关系问题  
C. 必然和偶然的的关系问题 D. 量变和质变的关系问题

21. “一起向未来!”“Together for a Shared Future!”是北京 2022 年冬奥会和冬残奥会的主题口号。这个口号言简意赅，号召性强。在新冠疫情持续蔓延给人类生产生活带来巨大不确定性的当下，这一主题口号（ ）

- ①契合了构建人类命运共同体的中国倡议②体现了共建美好未来的价值追求  
③彰显了运动员超越规律挑战极限的精神④对成功举办本届盛会起决定性作用  
A. ①② B. ①④ C. ②③ D. ③④

22. 意象是中国古典诗词的一种艺术表现手段，饱含着人的情感。那些成为意象的事物，作者内心相交融，被赋予了情感属性，极大丰富了诗词的表现力。例如，“露从今夜台月是故乡明。”“海上生明月，天涯共此时。”经过诗人的吟咏和渲染，明月成为代表思乡思亲的意象，深入人心。诗词中的意象（ ）

- ①以有尽的笔墨表达出无尽情思②是客观事物与诗人情感的结合  
③根源于创作者独特的内心感受④是对具体事物的直接描摹复制  
A. ①② B. ①④ C. ②③ D. ③④

23. 对不同的人问的同一个问题，孔子往往给予不同的回答。孟懿子问孝，子曰：“无违。”违背礼仪就是孝。子游问孝，子曰：“今之孝者，是谓能养。至于犬马，皆能有养。不敬，何以别乎?”孝的关键是敬，而不是简单地养活父母。子夏问孝，子曰：“色难。在父母面前经常保持愉悦的容颜就是孝。上述问答表明（ ）

- ①“孝”的内涵不具有普遍性②“孝”的表现完全一致

③“孝”的要求具有特殊性④“孝”的方式因人而异

A. ①② B. ①③ C. ②④ D. ③④

24. 右图漫画告诉我们：“每个人的智力、体力以及各种能力都是有限度的，不可能在各方面都优秀。也许你在某个方面略胜一筹，但在其他方面，别人却会领先。”下列说法与漫画寓意相符的是（ ）



A. 音声相和，前后相随 B. 百尺竿头，更进一步

C. 尽有所短，寸有所长 D. 被门失火，殃及池鱼

25. 一位学业有成的博士来到天山脚下的一处草原，他运用学到的试管冻精、胚胎移植等新技术进行试验，繁育出良种牛犊。他把这一技术传授给当地牧民，帮助大家实现了共同富裕。这表明（ ）

①学到的知识越多自身价值越大②认识从实践中来，还要回到实践中去

③改造世界的目的在于认识世界④实践是检验认识的真理性的唯一标准

A. ①② B. ①③ C. ②④ D. ③④

26. 三角形内角之和等于  $180^\circ$ ，这是古希腊数学家欧几里得提出的定理。19 世纪初，俄国数学家罗巴切夫斯基提出：在凹曲面上，三角形内角之和小于  $180^\circ$ 。后来，德国科学家黎曼提出：在球形凸面上，三角形内角之和大于  $180^\circ$ 。由此可见（ ）

①真理是具体的、有条件的②认识具有反复性和无限性

③事物的性质根本无法确定④真理和谬误没有明显界限

A. ①② B. ①④ C. ②③ D. ③④

27. 在人类思想史上，没有一种思想理论像马克思主义那样对人类产生了如此广泛而深刻的影响。马克思主义极大推动了人类文明进程，至今依然是具有重大国际影响的思想体系和话语体系。马克思主义之所以影响深远，是因为它（ ）

①揭示了人类社会发展的—般规律②是在人民的伟大实践中形成的

③给出了解决社会问题的现成答案④是认识世界、改造世界的科学真理

A. ①②③ B. ①②④ C. ①③④ D. ②③④

28. 暗物质探测器叫“悟空”，探月工程叫“嫦娥”工程，航天站叫“天宫”，全球定位卫星系统叫“北斗”，全球低轨卫星系统叫“鸿雁”，太阳监测卫星计划叫“夸父”计划……这些取自于中国传统神话的名字，让标志着中国航天人奋斗史的大国重器具有了浪漫的色彩。这些令人遐想的命名（ ）

①说明了我国自古就是航天科技强国②表明传统神话是航天科技创新的源泉

③为航天事业增添了丰富的人文意蕴④引发了社会大众关注航天科技的热情

A. ①② B. ①③ C. ②④ D. ③④

29. 原宁郡王府家庙缘庆禅林，如今成为向居民免费开放的“缘庆书苑”；万松老人塔经过修缮，变身为非营利性公共阅读场所——“砖读空间”；在拥有五百多年历史的北京广福观中，建成了“什刹海文化展示中心”。以上做法（ ）

①是对历史文化遗产的保护和活化利用②对保存传统文化记忆进行了有益探索  
③把经营者获得经济效益放在了首要位置④将不可移动文物彻底改造为现代都市景观

A. ①② B. ①③ C. ②④ D. ③④

30. 国家大剧院自运营以来，常年持续不间断地开展艺术普及教育活动，助推文化发展。国家大剧院将每年的12月22日定为“公众开放日艺术节”。每年的这一天，近万名观众在这里与高雅艺术零距离互动，与艺术大家面对面交流。徜徉其中，人们耳之所闻、目之所见，皆为艺术。举办“公众开放日艺术节”等活动，有利于（ ）

①让国外民众认同中华文化②让文化发展成果惠及群众  
③向公众开展科普宣传教育④满足人民的精神文化需求

A. ①③ B. ①④ C. ②③ D. ②④

### 第二部分(非选择题共40分)

本部分共5小题，共40分。

31. (6分)阅读材料，回答下列问题。

为庆祝中国共产党成立100周年，中国国家邮政局发行了一套《中国共产党成立10周年》纪念邮票共20枚。这套邮票形象反映了中国共产党波澜壮阔的百年征程，展现：中国共产党带领中国人民取得的伟大成就。下列是其中的四枚邮票。



图1 开国大典

表现元素：天安门、华表、礼花



图2 制度奠基

表现元素：中华人民共和国宪法（1954年）、人民大会堂、社会主义改造





图3 改革春潮

表现元素：十一三中全会公报、恢复高考、小岗村大包干纪念雕塑




图4 摆脱贫困

表现元素：十八洞村、农村丰收场景、无人机播撒、光伏发电等

一，结合《中国特色社会主义》相关知识，说明其所反映成就的重要意义。

32. (6分) 阅读材料，回答下列问题。

某地是目前国内较大的菠萝产区，这里的菠萝纤维少、鲜甜多汁。由于小农户难以对接全国大市场，该地一度陷入菠萝“丰产不丰收”的困境。

在政府支持下，该地探索实施了品牌营销行动计划；多方联合建立农产品大数据平台，以大数据引导生产、拓展销售市场。产区按照市场需求和价格走势，调整种植结构，实现标准种植，确保品质可控，还建成了仓储、保鲜、加工、物流等全产业链，让滞销的菠萝“火”了起来。如今，该地菠萝出村进城、漂洋过海，农户实现了增收致富。

结合材料，运用《经济与社会》相关知识，分析菠萝“火”起来的原因。

33. (6分) 阅读材料，回答下列问题。

接诉即办是北京市对超大城市精细化治理的创新探索。2021年9月24日，《北京市接诉即办工作条例》施行。该条例被称为“为民服务法”，以下是该条例的制定背景和立法过程。

◆2019年，北京市深化党建引领“街乡吹哨、部门报到”改革，建立起以12345市民服务热线为主渠道的接诉即办机制，积极回应民众需求，解决了一大批群众身边的操

◆2020年，市委、市政府提出“加快推动接诉即办立法”等进一步深化接诉即办改革的要求。同年12月，“接诉即办条例”被列为北京市2021年立法计划审议项目。

◆市人大常委会就条例草案面向社会公开征求意见，召开座谈会、论证会，广泛听取基层人大代表、市民百姓、专家学者的意见，最大限度地凝聚共识。经过多次修改，市十五届人大常委会第三十三次会议表决通过了该条例。

结合材料，运用《政治与法治》相关知识，说明该条例为什么被称为“为民服务法”。

34. (6分) 阅读材料，回答下列问题。

塞罕坝林场位于河北省承德市北部、内家古高原浑善达克沙地南缘。历史上的塞罕坝水草丰美、森林茂密，有“美丽高岭”的盛誉。但清朝木平开围发垦后，由于乱砍滥伐，过度放牧，到上世纪中叶，塞罕坝变成气候恶劣、人烟稀少、风沙肆虐的荒原沙地。为改变这一严峻形势，1962年，原国家林业部建立了直属的塞罕坝机械林场。


几代塞罕坝人扎根坝上高原，始终保持坚韧不拔的斗志和永不言败的担当。他们尊重科学、顺应自然，最终探索出一套在高寒地区科学造林育林的方法，不仅为华北地区筑起防风固沙、涵养水源的生态屏障，还发展了森林旅

关注北京高考在线官方微信：[北京高考资讯\(微信号:bjgkzx\)](http://www.bjgkzx.com)，获取更多试题资料及排名分析信息。

游、绿化苗木、风力发电等绿色产业，辐射带动了周边近4万人脱贫致富。塞罕坝人用半个多世纪的接力传承，在创造“荒原变林海”奇迹的非凡实践中，熔铸出牢记使命、艰苦创业、绿色发展的塞罕坝精神，竖起了一座精神丰碑。



昔日塞罕坝



今日塞罕坝

结合材料，说明塞罕坝人是如何正确发挥主观能动性创造奇迹的。

35. (16分) 阅读材料，回答下列问题。

实现现代化是近代以来中华民族不懈追求的目标。

材料一 中国共产党成立后，为逐梦现代化强国，前赴后继奋斗了一百年，领导人民成功走出中国式现代化道路。

◆新民主主义革命时期，党明确工业化必须走社会主义道路，立足中国国情，总结世界资本主义国家的经验教训，确立了社会主义工业化道路的前途方向。




◆社会主义革命和建设时期，党提出社会主义现代化的目标，在计划经济体制下进行了工业化理论及实践的探索，为现代化的后继探索提供了宝贵经验、理论准备和物质基础。

◆改革开放和社会主义现代化建设新时期，党描绘了社会主义现代化蓝图，提出了“三步走”战略，第一次为中国现代化提供了清晰可靠的时间表和路线图。

◆中国特色社会主义进入新时代，党的十八大作出“到二〇二〇年实现全面建成小康社会”的庄严承诺；党的十九大明确了“两个阶段”的战略安排，为把我国建成富强民主文明和谐美丽的社会主义现代化强国、最终实现中华民族伟大复兴指明了奋斗方向。

(1) 结合材料一，运用所学，说明“走中国式现代化道路，必须坚持中国共产党的领导。”(6分)

材料二 共同富裕是社会主义的本质要求，龙中国式现代化的里妥符征。同学们围绕“实现全体人民共同富裕”的主题，展开了讨论。

 同学甲	当前，我国经济社会已经进入了新的发展阶段，实现全体人民共同富裕，需要坚持新发展理念，提高发展质量
共同富裕需要人人参与、各尽所能、各尽其责，必须用制度调动各方面的积极性，让一切创造社会财富的源泉充分涌流	 同学乙
 同学丙	共同富裕是全体人民的共同富裕，不是少数人的富裕，也不是绝对的平均主义，要处理好效率和公平的关系，既要做大“蛋糕”，又要分好“蛋糕”。

关注北京高考在线官方微信：北京高考资讯(微信号:bjgkzx)，获取更多试题资料及排名分析信息。



(2) 运用《经济与社会》所学，任选一位同学的发言，谈谈如何推动实现全体人民共同富裕。(6分)

材料三 在现代化建设的征程中，无数中国青年将小我融入大我，在做好每一件小事、完成每一项任务、履行每一项职责中诠释责任担当。改革开放时期，青年人发出“结起来，振兴中华!”的时代强音，勤勉工作、开拓奋进；中国特色社会主义进入新时代青年人秉承光荣传统，在科技创新、脱贫攻坚、乡村振兴等领域不惧挑战、拼搏奋斗。

(3) 结合材料三，从哲学角度思考，我们应如何以青春之我、奋斗之我，担负起建设社会主义现代化强国的时代使命。(4分)

## 参考答案

第一部分(选择题共 60 分), 本部分共 30 小题, 每小题 2 分, 共 60 分。

1. C 2. B 3. A 4. A 5. D 6. C 7. B 8. C 9. D 10. A 11. A 12. B  
13. C 14. B 15. A 16. D 17. D 18. B 19. C 20. B 21. A 22. A 23. D 24. C  
25. C 26. A 27. B 28. D 29. A 30. D

第二部分(非选择题, 共 40 分)本部分共 5 小题, 共 40 分。

31. (6 分)评分观察视角: 能运用所学, 准确说明中华人民共和国成立、社会主义制度确立、开放、消除贫困的重要意义。

水平等级	水平描述
水平 4	知识运用准确, 紧扣问题展开分析, 条理清晰
水平 3	知识运用比较准确, 能扣住问题展开分析, 有条理
水平 2	知识运用不够准确, 或单纯罗列知识, 条理性较差
水平 1	答非所问, 观点错误, 或没有应答

示例: 开国大典

中华人民共和国的成立, 实现了中国从几千年封建专制政治向人民民主的伟大飞跃, 彻底结束了旧中国半殖民地半封建社会的历史, 使中华民族以崭新的姿态自立于世界民族之林。

中华人民共和国的成立, 为实现由新民主主义向社会主义的过渡创造了前提条件, 从根本上改变了中国社会的发展方向, 为实现国家富强、民族复兴展示了美好前景和现实道路。

32. (6 分)该地政府履行经济职能, 优化公共服务, 推动数字技术与农业发展深度融合, 实现了产销对接, 激活了菠萝市场; 产区根据市场需求和价格走势, 优化种植和产业结构, 提高产品和服务品质, 推动了菠萝产业高质量发展。

33. (6 分)条例的制定坚持人民立场, 回应人民呼声, 推进接诉即办制度化、法治化, 进一步提高城市治理效能; 坚持民主立法, 广开言路, 集思广益, 确保体现人民意志, 维护人民权益。

34. (6 分)塞罕坝人在改变荒原面貌、发展绿色产业、带动群众致富的过程中, 遵循客观规律, 尊重科学, 正确发挥意识的能动作用, 牢记使命、艰苦创业, 不仅实现了生态效益、经济效益社会效益的有机统一, 还铸就了宝贵的塞罕坝精神。

35. (1) 中国共产党是我国最高政治领导力量, 中国共产党领导是中国特色社会主义最本质特征, 是中国特色社会主义制度的最大优势。党始终践行初心使命, 立足国情, 遵规律, 为中国式现代化作出科学规划和战略安排。坚持党的领导, 才能“一张蓝图到底”, 协调推进全面建设社会主义现代化国家。

(2) 评分观察视角: 能准确运用大力发展社会生产力、坚持社会主义基本经济制度、贯彻新发展理念等相关知识展开分析。

水平等级	水平描述
水平 4	知识运用准确, 紧扣问题展开分析, 条理清晰
水平 3	知识运用比较准确, 能扣住问题展开分析, 有条理
水平 2	知识运用不够准确, 或单纯罗列知识, 条理性较差

水平 1	答非所问，观点错误，或没有应答
------	-----------------

示例：同学丙的发言

实现全体人民共同富裕，归根结底要大力发展社会生产力。要坚持社会主义基本经济制度，不断解放和发展社会生产力。要全面贯彻新发展理念，加快建设现代化经济体系，做大“蛋糕”，建设体现效率、促进公平的分配体系，分好“蛋糕”。

(3) 评分观察视角：能恰当、准确运用联系观点、发展观点、创造和实现人生价值等理，结合材料分析说明。

水平等级	水平描述
水平 4	哲理选用恰当，紧扣问题展开分析，条理清晰
水平 3	哲理选用比较恰当，能结合问题展开分析，有条理
水平 2	哲理选用不够恰当，或单纯罗列哲理，条理性较差
水平 1	答非所问，观点错误，或没有应答

示例：

我们要树立全局观念和整体意识，把个人成长与国家发展结合起来坚定理想信念，练就过硬本领，锤炼品德修为，在奉献祖国、服务人民中建功立业，创造和实现人生价值。





## 2022 北京高三各区一模试题下载

北京高考资讯公众号搜集整理了【**2022 北京各区高三一模试题&答案**】，想要获取试题资料，关注公众号，点击菜单栏【**高三一模**】—【**一模试题**】，即可**免费获取**全部一模试题及答案，欢迎大家下载练习！

还有更多**一模排名**等信息，考后持续更新！



# 微信搜一搜

北京高考资讯

A screenshot of the WeChat public account interface for '北京高考资讯'. On the left is a vertical menu with options: '一模试题' (highlighted with a red box), '二模试题', '高考真题', '期末试题', and '各省热门试题'. In the center, there is a QR code with the text '识别二维码查看下载 北京各区一模试题&amp;答案'. At the bottom, there are three menu items: '高三一模' (highlighted with a red box), '热门资讯', and '福利资料'. On the right side of the screenshot, there is an illustration of a student sitting at a desk with books, and several callout boxes with text: '这里有最新热门试题' (Here are the latest popular exam questions), '考后最快更新分享' (Fastest updates and sharing after the exam), and '北京高考' (Beijing Gaokao).