

丰台区 2019-2020 学年度第一学期期中考试联考

高一历史 (B 卷) 考试时间: 90 分钟

第 I 卷 (选择题共 60 分)

一. 单项选择题 (共 40 题, 每小题 1.5 分, 共 60 分。在每小题给出的四个选项中, 只有一个选项是正确的。)

1. 考古专家对某新石器时代晚期文化遗存研究后, 认为当时阶级分化明显。下列能够为此结论提供证据的考古发现是

- A. 农作物和牲畜遗骸
- B. 比较大的氏族公共活动场所
- C. 制陶场和公共墓地
- D. 墓葬大小和随葬品差异悬殊

2. “赫赫始祖, 吾华肇造。胄衍祀绵, 岳峨河浩。聪明睿知, 光被遐荒。建此伟业, 雄立东方。此诗是纪念谁的碑文()

- A. 大禹
- B. 黄帝
- C. 蚩尤
- D. 女娲

3. 下面图片中的文字发现于 1899 年, 这些文字对于我们了解下列哪一时期历史有重要的参考价值



- A. 夏朝
- B. 商朝
- C. 战国
- D. 秦国

4. 甲骨文中的“封”字写作, “邦”字写作, 意为植树为帜, 划定疆界。该文字反映的中国古代政治制度是

- A. 禅让制
- B. 内外服制
- C. 分封制
- D. 郡县制

5. 商周时期主要的农业生产工具是

- A. 木、石、骨等材质的耒、耜
- B. 青铜材质的耒、耜
- C. 青铜、铁材质的耒、耜
- D. 铁、钢材质的犁、锄

6. 《左传》记载:“(周)王夺郑伯(郑庄公)政, 郑伯不朝。秋, 王以诸侯伐郑, 郑伯御之……(周)王卒大败, 祝聃(郑庄公的臣下)射王(周王)中肩。”这一事件反映出的时代特征是

- A. 民族交融
- B. 学术下移
- C. 王室衰微
- D. 诸侯争霸

7. 下列各图是考古发掘出的春秋战国时期的一些铁器, 据此可以推断



春秋时期的铁锛

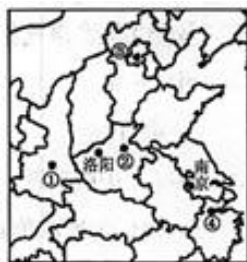


春秋穿有鼻环的牛尊



战国铁口犁

- A. 铁农具和牛耕在春秋战国时期已经出现
 B. 铁农具取代了青铜农具在农业中的地位
 C. 战国时期的农具种类比春秋时期更多样
 D. 战国时期的冶铁技术达到了古代的顶峰
8. 商鞅变法的措施中，遭到秦国守旧贵族极力反对的一项是
 A. 土地私有 B. 建立县制 C. 鼓励生产 D. 奖励军功
9. 战国时期，百家争鸣局面形成的原因有
 ①“学在官府”的局面被打破 ②社会处于大变革时期
 ③儒学成为正统思想 ④士受到统治者的重用
 A. ①②③ B. ①③④ C. ②③④ D. ①②④
10. 下列属于墨子思想主张是
 A. “福兮，祸之所倚；祸兮，福之所伏” B. “兼爱”、“非攻”“尚贤”
 C. “斧斤以时入山林，林木不可胜用” D. “仁者爱人”、“为政以德”
11. 唐朝孔颖达在《春秋左传正义》中写道：“中国有礼仪之大，故称夏；服章之美，谓之华。”这说明春秋时期
 A. 各诸侯国臣服于夏的统治 B. 各民族都推崇华夏文明
 C. 该时期少数民族势力增强 D. 华夏认同观念初步形成
12. 右图中的四个数字分别代表中国古代的重要都城，其中发生在①处的历史事件是



- A. 嬴政创立皇帝制度
 B. 元世祖设置中书省
 C. 明太祖废除丞相制
 D. 雍正帝设立军机处
13. 清代史学家赵翼据西汉初“其君既起自布衣，其臣亦自多亡命无赖之徒”的现象，认为“秦汉间为天地一大变局”。下列说法体现了这种“大变局”的是
 A. “废除苛政，休养生息” B. “罢黜百家，独尊儒术”
 C. “王侯将相，宁有种乎” D. “以法为教，以吏为师”
14. 汉字是世界上最古老的文字之一，下列字体按出现先后顺序排列正确的是

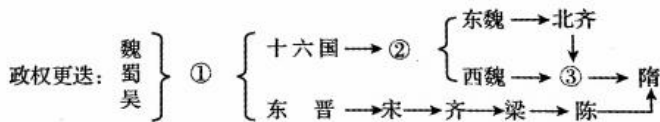
- A. 楷书→篆书→隶书 B. 隶书→篆书→楷书
C. 篆书→隶书→楷书 D. 篆书→楷书→隶书

15. 下表是相关史书关于儒家学者籍贯分布的记载，据此能够得出的结论是

	齐鲁地区	其他地区	籍贯不明者
《史记·儒林列传》	71.79%	17.95%	10.26%
《汉书·儒林传》	45.60%	46.11%	8.29%
《后汉书·儒林列传》	36.36%	63.64%	

- A. 齐鲁地区儒学的衰落 B. 儒家思想在各地传播
C. 百家争鸣的局面出现 D. 中央集权的空前强大

16. 下图为我国某一历史阶段的朝代更迭示意图。其中①②③分别代表的朝代是



- A. 西晋、北周、北魏 B. 西晋、北魏、北周
C. 北魏、西晋、北周 D. 北魏、北周、西晋

17. 3-6 世纪被称为汉唐盛世之间动荡复杂而又充满机遇的过渡期。下列曾出现于东晋的历史现象是

- A. 实现了短暂的统一 B. 君主专制达到顶峰
C. 南方经济超越北方 D. 高门士族执掌朝政

18. 下列关于北魏统一北方影响分析正确的是

- ①结束了北方地区长期战乱的局面
②为生产的发展提供了相对安定的环境
③削弱了北方世家大族的社会地位
④为各民族的交融创造了有利条件

- A. ①②③ B. ①②④ C. ①③④ D. ②③④

19. 有学者认为，汉代结束后，经过数百年的时间，中国南北的物产和人力

资源的配置由东西整合转向南北整合。以下为其提供便利的工程是

- A. 都江堰 B. 灵渠 C. 驰道 D. 大运河

20. 关于隋唐太原留守李渊起兵反隋一事，文献中有不同记载。下列分析正确的是

《旧唐书·高祖本纪》	617年，李世民与晋阳令刘文静首谋，刘劝李举义兵
------------	--------------------------

《旧唐书·宇文士及传》	613年，李渊与人“夜中密论时事”
《旧唐书·夏侯端传》	616年，夏侯端以天象异常劝李渊“早为计”，李渊听后“深然其言”

- A. 李世民劝李渊起兵反隋，这个说法最为可信
 B. 李渊早有起兵反隋之意，这个说法最为可信
 C. 《旧唐书》所记载的内容相互矛盾，需进一步考证
 D. 《旧唐书》作者与李渊不是同一时代，所记载内容绝对不可信
21. 唐初以三省长官为宰相。高宗时，打破宰相任用资历限制，允许四品以下官员以“同中书门下平章事”名义行使相权。其目的是
- A. 重用人才，推行科举取士 B. 分割相权，加强君主专制
 C. 分工协作，提高行政效率 D. 缓和矛盾，抑制朋党之争
22. 唐朝曾经强盛一时，8世纪中期之后开始出现衰落的迹象。唐朝由盛而衰的转折点是
- A. 农民起义 B. 武则天当政 C. 唐玄宗即位 D. 安史之乱
23. 《古今画鉴》在描述下图时写道：“太宗坐步辇上……曲眉丰颊，神采如生……后有赞普使者，服小团华衣，及一从者。”该图所反映的相关历史事件是
- A. 唐王朝与吐蕃和亲
 B. 唐太宗大破东突厥
 C. 新罗使者来唐朝见
 D. 唐太宗被尊为“天可汗”
- 
24. 唐代节度使冯宿曾奏请朝廷：“剑南两川及淮南道，皆以版印历日(日历)鬻于市。每岁司天台未奏颁下新历，其印历已满天下，有乖(违背)敬授之道。”结合所学判断，下列选项正确的有
- ①雕版印刷术在民间流行 ②活字印刷提高印制效率
 ③民间私印有损朝廷权威 ④私营商业活动比较活跃
- A. ①②③ B. ②③④ C. ①③④ D. ①②④
25. 美国学者伊佩霞指出：“与20世纪以前中国历史上任何其他时代相比，初唐和中唐时的中国人自信心最强，最愿意接受不同的新鲜事物……这个时期的中国人非常愿意向世界敞开自己。”可印证该观点的史实包括

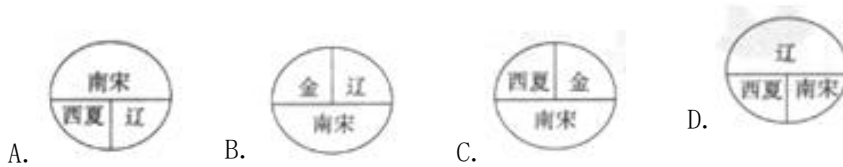
- ①玄奘西游 ②鉴真东渡 ③修建唐招提寺 ④伊斯兰教传入
A. ①② B. ①③ C. ②③ D. ①④

26. 宋朝形成了“中书主民，枢密院主兵，三司主财，各不相知”的局面。

这反映出

- A. 宰相职权范围扩大 B. 专制皇权达到顶峰
C. 君权对相权的制约 D. 中央对地方控制加强

27. 中华民族的历史是由各族人民共同缔造的，各民族之间有分有和，不断交融与碰撞。两宋时期，曾出现了宋与辽、西夏、金几个政权并立的局面。下列能正确反映南宋与少数民族政权并立的示意图是



28. “宋沿唐制，亦贵进士科。然唐时犹兼采誉望，不专辞章。宋则糊名考校，一决文字而已。”由此可见，与唐代科举相比，宋代

- A. 考试程序更加严谨 B. 取士科目有所减少
C. 进士及第尤为尊贵 D. 录取人数大大增加

29. 下列语句中，能够反映长江流域已成为我国古代经济重心的是

- A. 南朝四百八十寺，多少楼台烟雨中 B. 苏湖熟，天下足
C. 忆昔开元全盛日，小邑犹藏万家室 D. 买不尽松江布，收不尽魏塘纱

30. 下列为宋朝赋税结构变化表。该表能够说明

年代	农业税（万贯）	商税（万贯）	农业税:商税
至道三年（997年）	2408.1	1567.3	60:40
天禧五年（1021年）	2641.2	3874.0	40:60
熙宁十年（1077年）	2021.3	5117.2	28:72

- A. 商税逐渐成为政府主要财源 B. 纸币成为这一时期主要流通货币
C. 加强了对城市商业活动监管 D. 边境战争严重阻碍农业生产发展

31. 理学家以儒家的礼法、伦理思想为核心，吸收佛道思想中的精粹，提出“理”为宇宙万物的本原，形成了析理精微、论证明确的哲学体系。这反映出中华文明在发展过程中的基本特质是
- A. 中正平和，阴阳和合 B. 崇尚自然，清静无为
- C. 接受挑战，科学理性 D. 兼收并蓄，勇于创新
32. 史学家陈寅恪认为：“华夏民族之文化，历数千年之演进，造极于赵宋之世。” 下列能体现以上观点的是
- A. 发明司南 B. 发明造纸术
- C. 发明火药 D. 发明活字印刷术
33. 2018年2月《天路文华——西藏历史文化展》在首都博物馆隆重开幕。下列展品中，能够说明元朝对西藏实施有效管辖的是。



A. 金成公主
进藏图唐卡



B. 宣政院印



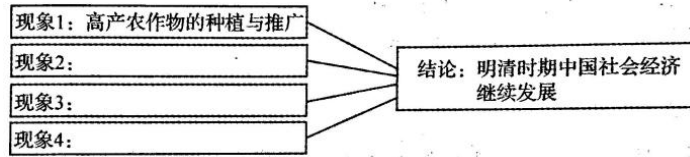
C. 驻藏大臣令牌



D. 达赖喇嘛
金印

34. 明朝废除中书省和丞相，分相权于吏、户、礼、兵、刑、工六部，直属皇帝，其目的是
- A. 提高办事效率
- B. 扩大统治基础
- C. 加强专制统治
- D. 增强六部权力
35. 下图是北京故宫里清朝某一机构的办公场所，它初设于雍正年间。此机构的设置进一步强化了君主专制。它是
- A. 东厂
- B. 锦衣卫
- C. 军机处
- D. 议政王大臣会议
36. 某同学参加主题为“明清时期的社会经济”的研究性学习，负责的任务

是“明清时期中国社会经济继续发展”，他应采用的论据包括



- ①农副产品商品化趋势加强 ②一些地方形成实力雄厚的商人群体
③城镇商业呈现繁荣的景象 ④官府实行闭关锁国政策
- A. ①②③ B. ②③④ C. ①③④ D. ①②④

37. 明中后期，有人认为：“商亦无害，但学者不当自为之，或命子弟，或托亲戚皆可，否则一家老小没办法养活”，这一观点反映了

- A. 农本思想被否定 B. 重商主义盛行
C. 传统义利观废弛 D. 抑商观念削弱

38. 右图描绘的是清朝同治、光绪年间的 13 位戏曲名家。作为史料，该图片可用于研究

- A. 京剧
B. 越剧
C. 粤剧
D. 黄梅戏



39. 黄宗羲指出：“古者以天下为主，君为客。凡君之所毕世而经营者，为天下也；今也以君为主，天下为客。凡天下之无地而得安宁者，为君也。”材料反映的核心思想是

- A. 维护封建礼教 B. 提倡经世致用
C. 抨击君主专制 D. 主张君主立宪

40. 1601 年，意大利传教士利玛窦带来了望远镜和世界地图，并将“四书”

译为拉丁文。随后陆续有传教士东来，系统介绍物理学等自然科学知识，并把“五经”等典籍译为拉丁文。在他们的引导下，徐光启等士大夫开始研究和介绍西方科技。这说明

- ①明末清初出现西学东渐 ②西方文化在我国产生巨大作用
③中国文化引起西方学者关注 ④传教士成为中西文化交流的桥梁
- A. ①②③ B. ①③④ C. ②③④ D. ①②④

第II卷（非选择题共40分）

二、材料分析题（共2题，共40分）

41.（24分）统一多民族国家随着时代的发展而不断演进。

材料一 华夏国家、民族从春秋战国起就逐渐加快了它的一体化进程。这种一体化进程打破“邦国”“宗族”壁垒，使国家、人民不论在政治制度、个人身份、族类从属上都发生极大变化。

——摘编自李禹阶《华夏民族与国家认同意识的演变》

（1）依据上述材料并结合所学，说明春秋战国时期华夏国家和民族的变化。（8分）

（2）秦汉是统一多民族封建国家建立和巩固的重要时期，请完成下列表格。（4分）

秦汉加强中央集权措施表

	秦始皇	汉武帝	影响
中央	三公九卿制	内外朝	
地方		推恩令	加强中央集权
	北击匈奴， 南伐百越		拓展疆域 巩固大一统

材料二 建隆二年(961)，(宋)太祖召赵普问曰：“天下自唐季以来，数十年间，帝王凡易八姓，战斗不息，生民涂地，其故何也？吾欲息天下之兵，为国家长久计，其道何如？”

普曰：“……此非他故，方镇太重，君弱臣强而已。今所以治之，亦无他奇巧，惟稍夺其权，制其钱谷，收其精兵，则天下自安矣。”

——《续资治通鉴长编》卷二

（3）依据材料并结合所学，简述宋太祖如何对地方“稍夺其权，制其钱谷，收其精兵”。（8分）

材料三 康熙皇帝是清朝最贤明的君主，以下是其统治期间中的重大举措：

- ①智擒鳌拜 ②治理黄河 ③统一台湾 ④反击沙俄
- ⑤册封班禅 ⑥奏折制度 ⑦平定三藩 ⑧引进农作物

(4) 根据材料三所列史实提炼主题，并列举符合主题的举措序号。

(4分) (要求：每个主题的材料序号至少两条以上)

例：主题：恢复发展经济 举措：②⑧

42. (16分) 民族交往是推动社会发展的重要动力。

材料一 北魏时期鲜卑族墓葬出土服饰形制演变

时期	盛乐时期 ^① (258-398年)	平城时期 (398-494年)	洛阳时期 (494-534年)
北魏墓葬出土服饰形制代表			
出土地址	呼和浩特鲜卑墓	大同深井墓	河南偃师染华墓
解释	该时期服饰多头戴风帽，上衣下裤，典型鲜卑风格。	多数头戴风帽，上衣下裤；个别窄袖袍衫与褒衣博带（汉服特点）并存。	既有南朝官服元素，又揉合鲜卑服饰款式特征。汉族墓葬也出现上衣下裤、长靴及膝现象。

①鲜卑拓跋部于公元258年迁居到盛乐(今内蒙古和林格尔)，后建立代政权，398年迁都平城(今山西省大同)。

(1) 依据材料概括北魏时期服饰发展趋势，从史料价值角度分析北魏墓葬出土文物对研究该时期社会历史的意义。(6分)

材料二 唐朝高度发达的经济和文化，对很多国家很有吸引力。安史之乱以前的唐朝，奉行“中国既安，四夷自服”的方针；在文化上也敢于并蓄兼收，百花同放。因此，唐王朝在对外交往中，采取了比较开明的政策，鼓励外国商人到中国贸易。再加对外交通发达，周边各国的使臣和商人，纷纷前来中国，与中国通商往来的国家发展到七十多个，出现了前所未有的盛况。

——《新课标中国历史》

(2) 依据材料二，概括唐朝对外交往发达的原因。(4分)

材料三 康熙二十三年平定台湾后，即开放海禁，翌年设立江（上海）、浙（宁波）、闽（漳州）、粤（广州）四海关。乾隆二十二年清廷实行“独口通商”政策，将国内与西洋各国的贸易集中于粤海关一口。

——《中国经济通史·清代经济卷》

(3) 上述材料反映清朝前期对外经济政策出现了怎样的变化？对中国历史发展有何影响？（6分）

丰台区 2019—2020 学年度第一学期期中联考

高一历史 B 卷参考答案 第 I 卷（选择题 共 60 分）

题号	1	2	3	4	5	6	7	8	9	10
答案	D	B	B	C	A	C	A	D	D	B
题号	11	12	13	14	15	16	17	18	19	20
答案	D	A	C	C	B	B	D	B	D	C
题号	21	22	23	24	25	26	27	28	29	30
答案	B	D	A	C	D	C	C	A	B	A
题号	31	32	33	34	35	36	37	38	39	40
答案	D	D	B	C	C	A	D	A	C	B

第 II 卷（非选择题 共 40 分）

二. 材料解析题（共 40 分）

41. (24 分)

(1) 国家变化：通过变法，废分封，行县制等措施(2 分)；加速分封、宗法制瓦解和中央集权体制形成；(2 分)

民族变化：通过争霸、兼并战争和各族间的密切交往(2 分)；华夏认同的观念得到发展，促进民族交融(2 分)

(2) 加强皇权(1 分)；郡县制(1 分)；反击匈奴、张骞通西域(2 分)

(3) 权：中央派文官担任地方长官(2 分)，设通判进行监督(2 分)；

钱：设转运司统管地方财政(2 分)

兵：地方精锐部队编入禁军，定期更换驻地(2 分)

(4) 答案：加强君主专制(2 分)：①⑥⑦(2 分)

巩固统一，奠定疆域(2 分)：②③④⑤⑧(2 分)

主题合理，史实对应即可得分。

标准：只列举一个正确序号给一分，列举举措的序号与主题不对应不得分。

42. (16 分)

(1) 趋势：民族交融(2 分)

价值：出土文物属于一手史料，可信度高。(2 分) 可用于研究北魏服饰发展、以及民族交融对社会生活的影响。(2 分)

(2) 国力强盛(1 分)；政治自信(1 分)；政策开明(1 分)，交通发达(1 分)，(言之有理即可给分)

(3) 变化：清朝政府从实行海禁政策到开放四处口岸，再到只允许开放广州“独口通商”。(3 分)

影响：妨碍了中国与世界的经济交流，使中国逐渐落后于世界潮流。(3 分)