

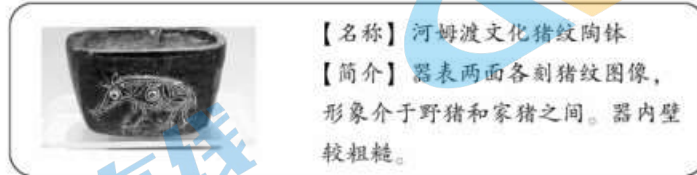
2022 北京平谷初三一模

历史

第一部分选择题（共 30 分）

本部分共 20 题，每题 1.5 分，共 30 分。在每题列出的四个选项中，选出最符合题目要求的一项。

1. 某校举办“文物图片展，如图为“河姆渡文化猪纹陶钵”文物介绍。据此推测

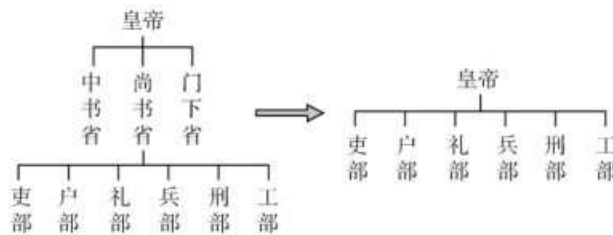


- ①该文物出土于黄河中游地区 ②河姆渡居民已开始了家畜饲养
③该文物是打制石器时代的器物 ④河姆渡居民已经能够烧制陶器

A. ①② B. ①③ C. ②④ D. ③④

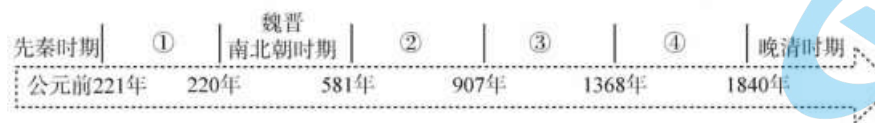
2. 我国某历史遗迹拥有世界文化遗产、世界自然遗产、世界灌溉工程遗产三项桂冠。它是 A. 长城 B. 故宫 C 都江堰 D. 京杭大运河

3. 下图是我国古代两个朝代的国家机构设置示意图，其变化反映了



A. 中央集权制度建立 B. 君主专制不断强化 C. 地方行政机构精简 D. 丞相权力不断增强

4. 时空观念是在特定的时间和空间联系中对事物进行观察、分析和思维方式。解读下面的中国历史时间轴，关于古代史上朝代及其阶段特征的表述，正确的是



- A. ①是秦汉时期，大一统国家的建立和巩固
B. ②是宋元时期，民族关系发展和社会变化
C. ③是隋唐时期，大一统国家的巩固和发展
D. ④是明清时期，封建社会繁荣与对外开放

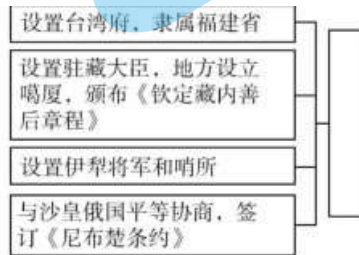
5. 下表呈现了中国古代某项制度的历史沿革，其中①②处应填

隋	①
唐	增加考试科目，创立殿试
宋	严格考试程序，增加录取人数
明	②
清	大兴文字狱

- A.①隋炀帝创立进士科②兴办太学 B.①隋文帝创立进士科②依据门第推荐
C.①隋文帝创立进士科②废除丞相 D.①隋炀帝创立进士科②八股取士

6.小华同学画了一个思维导图（如右图），其主题是

- A.清朝与少数民族的关系
B.清朝对边疆地区的管辖
C.清朝专制主义达到顶峰
D.清朝对外来侵略的反抗



7.图书馆筹备“中国古代科技”专题图书展，以下图书可以入选此次展览的是

- ①《史记》②《齐民要术》③《天工开物》④《本草纲目》⑤《红楼梦》
A.①②③ B.②③④ C.①②⑤ D.③④⑤

8.白寿彝在《中国通史纲要》中指出：“鸦片战争和一系列不平等条约的签订，使中国社会发生根本的变化。”这一“根本的变化”是

- A. 开启了中国的近代化进程 B. 中国开始从封建社会变为半殖民地半封建社会
C. 推翻了中国的封建制度 D. 中国完全沦为半殖民地半封建社会

9. 中国走向近代化的过程，也是不断向西方学习的过程。以下关于中国近代化探索过程的描述，排序正确的是

- A. 技术革新—思想革命—政治变革 B. 思想革命—政治变革—技术革新
C. 技术革新—政治变革—思想革命 D. 思想革命—技术革新—政治变革

10.2022年某校准备开展一场“纪念红军长征胜利86周年”合唱音乐会，演唱《长征组歌》中的四首：

- ①《四渡赤水出奇兵》②《过雪山草地》③《遵义会议放光辉》④《到吴起镇》

如果按红军长征路线依序演唱，其顺序应该是

- A.①②③④ B.①③②④ C.②④③①

11.下面展示的人民解放战争的年代时间轴中，在③时间段发生的战役是



- A.辽沈战役、淮海战役、平津战役 B.沙家店战役、淮海战役、渡江战役
C.辽沈战役、渡江战役、沙家店战役 D.淮海战役、渡江战役、青化砭战役

12.1953年开始的“一五”计划先后开工1万多个工业项目，集中在钢铁、煤炭、电力、机械制造、交通运输等领域。这样安排的用意在于

- A.满足日常生活需要 B.完成“两弹一星”的研制
C.夯实工业发展基础 D.便于实施社会主义改造

13.1971年，中华人民共和国五星红旗在联合国大厦前高高飘扬，这充分体现了新中国外交的胜利。这一胜利的表现是

- A.和平共处五项原则的提出 B.中日正式建交
C.恢复中国在联合国的合法席位 D.中美正式建交

14.历史解释是指以史料为依据，对历史事物进行理性分析和客观评判。以下属于历史解释的是

- A.1640年，英国议会重新召开，查理一世派军队闯入议会。
B.1689年英国议会颁布《权利法案》，确立了议会在国家政治生活中的最高地位，王权受到议会的限制；英国逐渐发展成“君主立宪制”国家。
C.1773年12月，一些波士顿市民把东印度公司商船上300多箱茶叶抛入大海。
D.1812年，拿破仑远征俄国。

15.19世纪中期，爆发了一系列影响世界发展进程的重大历史事件，如俄国1861年改革、美国内战、意大利和德意志实现统一以及日本的明治维新等。这些重大事件反映的历史发展趋势是

- A.奴隶制度的废除 B.资本主义世界经济体系最终形成
C.民主制度的初步确立 D.资本主义制度在世界范围内拓展

16.十九世纪诞生于英国的一项伟大理论，重创了教会的神创说，从根本上改变了人们以往对人类在生物界位置的看法。该理论是

- A.浮力定律 B.相对论 C.经典力学 D.生物进化论

17.斯塔夫里阿诺斯在《全球通史》中写到第一次世界大战时，曾经提到了四个方面：经济上的竞争，殖民地的争夺，相冲突的联盟体系和势不两立的民族主义愿望。这四个方面概括的是第一次世界大战的 A.背景 B.导火线 C.影响 D.实质

18.某同学在历史学习过程中制作了下面资料卡，其中“_”应填写

主题：_____	
1914—1918年	第一次世界大战
一战结束后	凡尔赛—华盛顿体系
1939—1945年	第二次世界大战
二战结束后	美苏争霸的两极格局
苏联解体后	多极化趋势

- A.世界经济格局的演变 B.两次世界大战的进程
C.世界科技的发展历史 D.世界政治格局的演变

19.同学们开展研究性活动，研究内容有：南美的“解放者”、印度非暴力不合作运动和“非洲年”。据此推断，研究的主题应是

- A.两极格局的形成 B.“一超多强”局面的形成

C. 亚非拉国家民族民主运动 D. 一战后世界新秩序的建立

20. 近期日本要将核污水排入太平洋引发热议，有网友创作右侧漫画讽刺日本的所谓“文明”，此事件提醒人类要关注的问题是

- A. 人口增长过快 B. 世界粮食短缺
C. 全球气候变暖 D. 生态环境恶化



神奈川冲浪里(局部)

第二部分综合题(共40分)

本部分共4题，共40分。

21. (11分) 思想引领行动，理论指导实践。

材料一

时代	代表人物	主要主张
春秋	孔子	① (核心思想)
战国	②	“以法治国、中央集权”
汉朝	董仲舒	③

(1) 请你把表格①②③空自处填上相应的内容。(3分)

材料二 19世纪三、四十年代，欧洲连续爆发了法国里昂丝织工人起义、英国宪章运动、德国西里西亚纺织工人起义。1848年2月21日，受共产主义者同盟第二次代表大会委托，马克思和恩格斯共同起草的著作在伦敦出版。此时正好赶上1848年欧洲革命爆发，油墨未干的著作立即分发到各国的同盟盟员手里，成为工人运动的思想武器。该著作指出，资本主义必然灭亡，共产主义必然胜利。著作的问世标志着马克思主义的诞生。

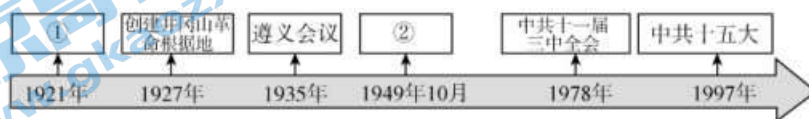
——摘编自英国学者埃里克·霍布斯鲍姆撰写的导言

(2) 材料二中提到的著作指的是什么?(1分) 依据材料二，说明国际工人运动与马克思主义诞生之间的关系。(1分)

材料三《正道沧桑—50年》，展示了社会主义由空想到科学、由理论到实践、由理想到现实、由一国实践到多国发展、由一种模式到多种模式的发展规律。重点强调了科学社会主义基本原则与俄国实际相结合，产生了伟大的实践。

(3) 依据材料三并结合所学，回答出“伟大的实践”所指的事件是什么?(1分) 概括该事件的历史意义。(1分)

材料四 中国共产党把马克思主义的普遍真理同中国的具体实际相结合，探索出了自己的道路。下面年代尺是中国共产党领导人民进行革命和建设的历程。



(4) 把1921年和1949年对应的①②处填上相应的内容。(2分) 仿照示例，从以下表格中任选一个主题，运用上面年代尺中的相关事件(除示例外)，说明该事件与主题的关系。(2分)

【示例】主题：开始探索适合中国实际的革命道路事件：遵义会议说明：在长征途中危急的情况下，挽救了中国共产党，挽救了红军，挽救了中国革命。是中国共产党历史上生死攸关的转折点。

主题	事件	说明
开始探索适合中国实际的革命道路		
开始探索中国特色社会主义道路		

22. (10分) 社会发展与艺术创作

材料一

① 	② 	③ 
虎门海滩折断的烟枪：该雕塑取材于林则徐虎门销烟壮举。	龙门石窟中飞天：北魏迁都洛阳后开凿的龙门石窟中，飞天的服饰、舞具都有中原汉风。	贾湖骨笛：发现于河南省贾湖遗址，属于新石器时代，距今约 8000 多年。
④ 	⑤ 	⑥ 
北京通州辽代墓葬出土的酱釉马盂壶：该壶用北宋定窑技术烧制，造型仿照皮水囊，扁身双孔，便于穿绳携带。	舞蹈纹彩陶盆：发现于青海省，属于新石器时代马家窑文化类型，距今约 5000 年。	徐悲鸿的《奔马图》：创作于抗日战争第二次长沙会战期间。

(1)从材料一中找出能体现以下主题的文物。(3分。写序号，多选、错选不得分)

中国境内文明的起源：

民族交融：

中国人民的抗争：

材料二唐代绘画中，描绘贵族生活的人物画成就极高，如张萱《虢国夫人游春图》等，展现出了唐代贵族的日常生活图卷。到了宋代以后，社会世俗化、平民化的特征日益凸显并在绘画领域中蔚然成风。风俗画从市井民间捕捉题材，如张择端《清明上河图》，是宋代风俗画中最著名的代表。宋代绘画进入手工业商业行列，职业画家，将作品作为商品在市场上出售，汴京及临安都有纸画行业。南宋临安早市、夜市、酒楼也有细画扇面、梅竹扇面出售。宋代绘画书院共有 203 个，以地域分布计算，长江流域占 74.85%，珠江流域占 21.53%，黄河流域占 3.52%。


——摘编自林若然《平民化趋势下唐宋绘画观念的变迁》

(2)依据材料二，比较唐代和宋代绘画的不同。(1分)结合所学回答，宋代绘画艺术变化和绘画书院地域发生变化的原因?(T,分)

材料三中世纪的欧洲许多绘画、雕像都以宗教为题材，且面无表情，身体僵直，千篇一律。14 世纪后，人性、个性的解放，西方的雕塑逐渐开始集合在人的旗帜之下，完全展现人的本来面貌，充分表达人性。

(3)依据材料三，说出 14 世纪前后西方绘画、雕塑的变化。(1 分) 结合所学，说明变化的原因。(2 分)




材料四欧洲画家笔下的绘画作品

 <p>英国画家：透纳（1775—1851 年） 《雨，蒸汽和速度》</p>	<p>创作过程：透纳在这幅画中表达出现代技术震撼人心的效果。画面的场景是高架桥上的火车在雨雾蒙蒙中呼啸而来，朝着伦敦方向疾驶。巨大的蒸汽机头喷出的白气与雨雾融为一体，造成迷蒙一片的效果。</p>
---	---

(4) 依据材料四，结合所学，分析《雨，蒸汽和速度》绘画内容创作的时代背景。(1 分)

23. (9 分) 民以食为天

材料一中国古代农业发展长期领先于世界，灌溉技术是其中的代表。

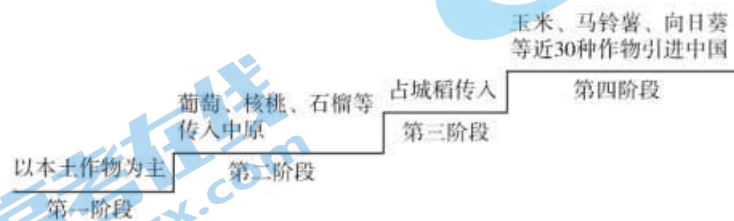
 <p>图一</p>	 <p>图二</p>	 <p>图三</p>
<p>间歇性灌溉工具——桔槔，利用杠杆原理依靠人力汲水。</p>	<p>灌溉工具——翻车，通过人力蹬踏带动龙骨汲水。</p>	<p>利用水力进行驱动，实现持续性的引水灌溉。</p>

(1)材料一的三幅图中哪幅图是唐朝灌溉工具？(1 分) 依据材料一，概括中国古代灌溉技术的进步之处。(1 分)

材料二：在我国现有的农作物中，至少有 50 多种来自外来作物的引进。宋以前我国引入的农作物大多是通过陆上丝绸之路传入的，多为果树和蔬菜，如葡萄、核桃、石榴等。宋朝时随着海上丝绸之路迅速发展，不断有新的农作物引进，如越南占城稻。明朝后期传入中国的农作物有玉米、马铃薯、向日葵、辣椒、番茄等近 30 种。

——摘编自王思明《美洲原产作物的引种栽培及其对中国农业生产结构的影响》

下面是依据材料二绘制的中国古代农作物传入、引进示意图。



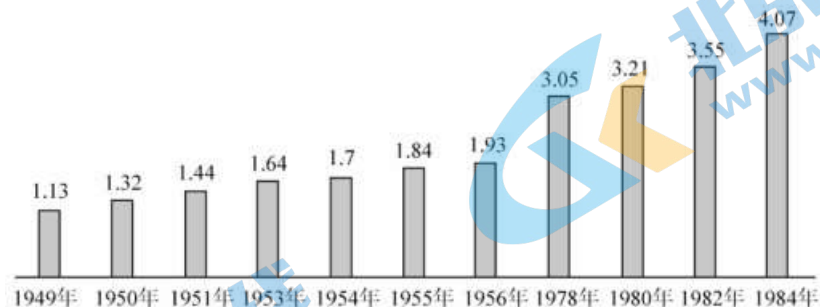
(2) 依据材料二，概括第二阶段和第四阶段传入农作物的特点。(1 分) 写出促成这两个阶段农作物交流的重大历史事件名称。(2 分)

材料三 1933 年 5 月 12 日，美国国会通过了第一部《农业调整法》。该法案采取的主要策略是“限额耕种”，农户自愿与政府签订市场协议，“自愿”减少耕地。限制产量的农户都可以得到政府的津贴。

——《历史教学》中学版 2011 年第 7 期

(3) 依据材料三指出，美国罗斯福新政采取了什么策略来稳定农产品价格？(1分) 结合所学分析罗斯福新政的主要特点。(1分)

材料四中华人民共和国不同时期粮食产量变化(单位:亿吨)



(4) 依据材料四，概括图表反映的共同现象。(1分) 运用相关的农业政策分析图表中1978年粮食产量明显增长的原因。(1分)


24. (10分) 北京的变化，见证了中国历史的变迁

材料一南起永定门，北至钟鼓楼，长约7.8公里的北京中轴线。始建于元大都，距今已有750余年历史。这条中轴线见证了北京城的发展变迁。日前，北京正在有序地推进中轴线申遗工作。下为中轴线上部分遗产点介绍。



(1) 结合材料一和所学知识填出j处遗产点名称。(1分) 请你为中轴线申遗工作提出合理化建议。(1分)

材料二中国共产党在北京的足迹

①《新青年》杂志刊载李大钊《我的马克思主义观》等文章	②北京共产党早期组织成员的照片	③对一二·九运动时任中共北平地下党北京大学党委书记刘导生的采访录
 <p>④北京市平谷区鱼子山抗日纪念馆内展出的兵工厂制造的地雷和手榴弹。</p>	⑤北京新文化运动纪念馆(北大红楼)	⑥《人民日报》北平版创刊号(1949年2月2日)

(2) 将材料二中的史料进行归类。(4分。填序号)

属于文献史料的是：_____ 属于口述史料的是：

属于实物史料的是：_____ 属于图像史料的是：

仿照下面的示例。选择史料④，加以说明。(2分)

【示例】选择：②说明：这张照片见证了中国共产党早期组织在北京成立。在此前后，全国各地共产主义小组纷纷成立，为中国共产党的诞生奠定了组织基础。

材料三北京成为历史上首个同时举办夏奥会与冬奥会的城市，阅读下面板报内容回答。

<p>北京冬奥火种灯使用环保材料再生铝合金，采用双层玻璃结构，在内外灯罩之间设计了一个导流通道，减小风力对火种灯火焰的影响，火焰即使遇到5至6级风也不会熄灭。</p> <p>火炬传递将以人机共融实现跨域火炬传递，网友可以通过AR、VR等高科技互动形式参与火炬接力。</p>	<p>速滑馆“冰丝带”的屋面需要核心零件高钒密闭索。国内没有厂家生产这种零件，建设团队没有选择“拿来主义”，而是选用索网结构体系，突破技术壁垒，成功建成了紧凑、集约、节能的冰场空间。这种国产高钒密闭索的应用，把国内行业的实力向前推动了一大步。</p>	<p>二氧化碳跨临界直冷制冰技术。该技术是当前冬季运动场馆最先进、最环保、最高效的制冰技术之一。温控精准，碳排放趋近于零，每年可以节省数百万度电。首都体育馆6小时内可实现“冰蓝转换”。</p>
--	---	--

(3) 依据材料三，请给板报拟一个主题：_____。(1分) 谈谈北京举办冬奥会的意义。(1分)

2022 北京平谷初三一模历史

参考答案

一、单选题：30分

题号	1	2	3	4	5	6	7	8	9	10
答案	C	C	B	A	D	B	B	B	C	D
题号	11	12	13	14	15	16	17	18	19	20
答案	A	C	C	B	D	D	A	D	C	D

二、综合题：40分

21. (11分)

(1) ①仁 ②韩非 ③罢黜百家，独尊儒术 (3分)

(2) 《共产党宣言》(1分) 结合工人运动的实践，马克思、恩格斯创立了《共产党宣言》，为国际工人运动提供了思想武器。(1分)

(3) 俄国十月革命。(1分) 俄国十月是人类历史上第一个胜利的社会主义革命，建立了第一个无产阶级专政的国家，推动了国际无产阶级革命运动，鼓舞了殖民地半殖民地人民的解放斗争。(1分)

(4) ①中国共产党成立；②中华人民共和国成立 (2分)

革命道路：井冈山革命根据地的创建。拉开了中国革命从城市转向农村、建立根据地的序幕。或社会主义道路：中共十一届三中全会是新中国成立以来党的历史上，具有深远意义的伟大转折，开启了改革开放和社会主义现代化建设的伟大政策。或中共十五大，把邓小平理论确定为党的指导思想。(2分)

22. (10分)

(1) (3分。写序号，多选、错选不得分)

中国境内文明的起源：③⑤

民族交融：②④

中国人民的抗争：①⑥

(2) 唐代绘画中描绘的是贵族生活；宋代绘画，以体现平民化、世俗化为主。反映市井生活为主。(1分) 经济重心南移；市民阶层出现；绘画作品成为商品；绘画进入商业行业。(2分)

(3) 14世纪前，面无表情，身体僵直。千篇一律。14世纪后，完全展现人的本来面貌，充分表达人性。或雕塑。绘画风格从呆板到展现人性之美。(1分) 文艺复兴运动兴起。文艺复兴运动中人文主义思想传播。提倡对人的重视。(2分)

(4) 第一次工业革命 (1分)

23. (9分)

(1) 图三 (1分)。由间歇式给水到持续性给水技术，由人力灌溉到利用水利灌溉 (1分)

(2) 外来农作物众多。(1分) 丝绸之路开通，新航路开辟 (2分)

(3) 限额耕种，限制产量。(1分) 加强国家对经济的干预和指导。(1分)

(4) 粮食产量提高。(1分) 家庭联产承包责任制 (1分)

24. (10分)

(1) A 故宫 (1分) 制作宣传申遗板报、宣传海报、文化创意小礼品等(言之有理即可)。(1分)

(2) (4分) 属于文献史料的是: ①⑥ 属于口述史料的是: ③

属于实物史料的是: ④⑤ 属于图像史料的是: ②

史料④鱼子山抗日战争纪念馆通过大量实物, 生动形象地展示了在中国共产党领导下, 抗日军民反侵略、求解放的斗争历程。(2分)

(3) 科技奥运、绿色奥运。(1分) 展示大国实力和精神风貌, 增强民族凝聚力和自豪感。提高全民参与冬奥热情。提高国民身体素质等。(言之有理即可)。(1分)

2022 北京各区初三一模试题下载

北京高考资讯公众号整理【**2022 北京各区初三一模试题&答案**】，持续为大家进行分享。

想要下载练习各区各科试题答案，可以扫描下方二维码，进入试题答案汇总下载高清电子版文件。

扫描二维码进入试题答案汇总
下载电子版试题



还有更多**一模成绩、排名**等信息，考后持续分享
记得关注我们的公众号【**北京高考资讯 (ID : bjgkzx)**】！



微信搜一搜

北京高考资讯