

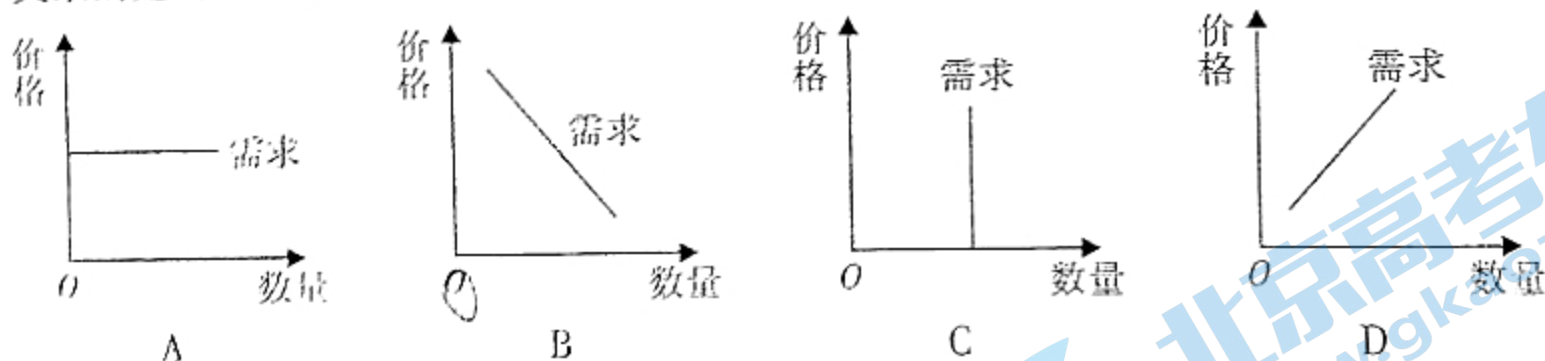
思想政治

本试卷共6页，20小题，满分100分。考试用时75分钟。

- 注意事项：1. 答卷前，考生务必将自己在所在的市（县、区）、学校、班级、姓名、考场号、座位号和考生号填写在答题卡上，将条形码粘贴在每张答题卡右上角“条形码粘贴处”。
2. 作答选择题时，选出每小题答案后，用2B铅笔在答题卡上将对应题目选项的答案信息点涂黑；如需改动，用橡皮擦干净后，再选涂其他答案。答案不能答在试卷上。
3. 非选择题必须用黑色字迹的钢笔或签字笔作答，答案必须写在答题卡各题目指定区域内相应位置上；如需改动，先画掉原来的答案，然后再写上新答案；不准使用铅笔和涂改液。不按以上要求作答无效。
4. 考生必须保证答题卡的整洁。考试结束后，将试卷和答题卡一并交回。

一、选择题：本题共16小题，每小题3分，共48分。每小题给出的四个选项中，只有一项是符合题目要求的。

1. 某网约车出租车公司通过与同行业几家大公司合并、相互持股等方式，市场份额达到近90%。不考虑其他因素，下列能正确反映该网约车出租车公司服务价格与市场需求关系的是（ ）



2. 甲企业用9年时间，投入巨资，运用大数据技术，迅速捕捉到用户的变化和新需求，快速反应，提供更好的产品和服务。2021年中报显示，甲企业营收和利润双双领跑该行业。甲企业的成功体现了（ ）

①新理念催生新模式
③新供给创造新需求

②新技术挖掘新需求
④新需求优化新供给

A. ①②

B. ①③

C. ②④

D. ③④

3. 分红递减法，是指公司回本后，资金股分配比例逐渐减少的股权分红法，旨在激发实际经营者的积极性。小红、小黄、小白三人准备成立一家公司，小红出资100万不参与经营，小黄出资50万并以管理入股，小白不出资但以技术入股，在协商利润分配时三人产生了分歧。根据分红递减法，以下利润分配方案合理的是（ ）
- ①小红认为，自己出资最多，利润分配应占大股
②小黄认为，自己出资又负责管理，应占最大股

③小白认为，技术是关键，应逐步加大分配占比

④律师认为，回本前资金优先，回本后管理优先

A. ①②

B. ①③

C. ②④

D. ③④

4. 某市财政安排相关项目资金，重点用于支持巩固拓展脱贫攻坚成果、推动三产融合、引领富民兴村，增强乡镇发展新优势，做大“蛋糕”，以实现共同富裕的目标。下列对该市发展路径传导理解正确的是（ ）

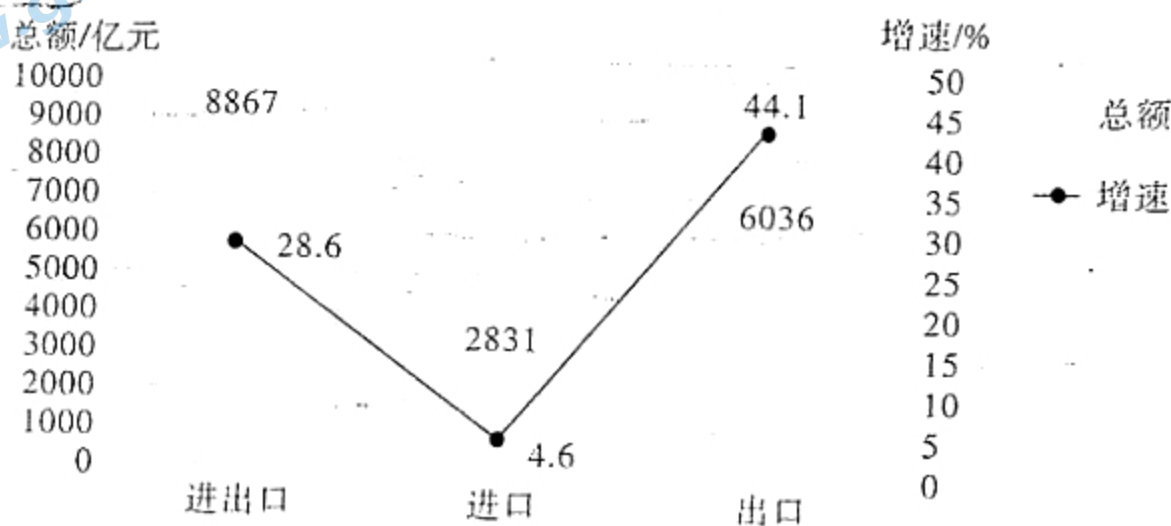
A. 科学宏观调控→增加货币发行→促进创新发展→实现富民兴村

B. 强化微观管理→增加财政支出→助力区域协调→推动乡村发展

C. 科学宏观调控→优化财政支出→推动产业融合→实现乡村发展

D. 强化微观管理→增加货币发行→助力脱贫攻坚→实现富民兴村

5. 新冠肺炎疫情的暴发，加速了零售企业布局全渠道融合的进程。我国进一步深化跨境贸易便利化改革、优化口岸营商环境，使得跨境电商呈现健康有序的发展态势。结合下图，以下说法正确的是（ ）



2021年上半年中国跨境电商进出口金额及增长情况

①跨境贸易便利化改革促进了跨境电商增长

②跨境电商发展可助推我国外贸转型和升级

③我国对外贸易的顺差主要得益于跨境电商

④零售企业全渠道融合将拓展企业发展空间

A. ①②

B. ①④

C. ②③

D. ③④

6. 2021年，某省公安部门开通“厅（局）长信箱”，广泛收集人民群众对公安工作的意见、建议、诉求。截至9月30日，共接收群众来信58884件，答复率97.8%，办结率91.2%，为群众快速解决“急难愁盼”问题13234个。以上举措意在（ ）

①畅通民意诉求渠道，增强为民服务的意识

②提高工作办事效能，着力打造法治型政府

③广泛集中民智、民意，提升社会治理水平

④深化行政体制改革，化解基层矛盾和纠纷

A. ①②

B. ①③

C. ②④

D. ③④

7. 2021年10月，禅城区向“两新”组织（新经济组织和新社会组织）选派第一书记的做法被升格为“佛山经验”，这一经验推动了“两新”组织党组织在组织建设、队伍建设、制度检核、阵地建设等方面全面提升，以党建工作促进“两新”组织健

康发展。向“两新”组织选派第一书记旨在（ ）

- ①确立基层党组织可对“两新”组织进行政治领导
- ②强化党在“两新”组织全部工作中的指挥和管理
- ③通过党建引领非公有制经济发展并促其提质增效
- ④把“两新”组织党组织锻造成党的基层战斗堡垒

A. ①② B. ①③ C. ②④ D. ③④

8. 2021年10月，十三届全国人大常委会第三十一次会议表决通过了家庭教育促进法、陆地国界法、关于修改审计法的决定，国家主席习近平分别签署第98、99、100号主席令予以公布。由此可见（ ）

- ①全国人大常委会坚持民主集中制的组织和活动原则
- ②全国人大常委会行使某具体领域的地方最高立法权
- ③国家主席根据全国人大常委会的决定行使元首职权
- ④国家主席具有法律否决权，有权决定法律是否通过

A. ①② B. ①③ C. ②④ D. ③④

9. 中华人民共和国恢复联合国合法席位50年来，中国始终维护联合国权威和地位，积极倡导以和平方式政治解决争端，中国愿同各国秉持共商共建共享理念，弘扬全人类共同价值，践行真正的多边主义，为推动构建人类命运共同体而不懈奋斗。以下判断正确的是（ ）

- ①中国积极支持联合国倡导的一切国际活动
- ②以和平方式解决争端符合全人类共同价值
- ③践行多边主义是中国对外活动的基本目标
- ④中国为世界永续和平发展贡献力量和智慧

A. ①② B. ①③ C. ②④ D. ③④

10. 某卫视通过实景拍摄和现代科技相结合的方式，打造了“中国节日”系列节目，其中，《重阳奇妙游》通过现代科技呈现了中华民族传统节日——“重阳节”对生活的美好寄托。该系列节目可以（ ）

- ①为传统文化科技赋能，使其作用得以全面发挥
- ②表达民族文化情感，展示好中华民族历史文化
- ③穿越千年历史，赋予中华文化源远流长的特点
- ④创新发展传统文化，为民族文化注入新的活力

A. ①② B. ①③ C. ②④ D. ③④

11. 为改变贫困山区女孩的失学辍学状况，人民教师张桂梅甘为人梯，用知识改变贫困山区女孩的命运。2021年8月出版的《中华人民共和国简史》一书将张桂梅的事迹收录其中，此举旨在（ ）

- ①发挥榜样的作用，筑牢理想信念之基
- ②倡导奉献精神，传播好主流社会价值
- ③改变落后的教育观念，促进教育改革
- ④彰显文化力量，构建终身学习型社会

A. ①② B. ①③ C. ②④ D. ③④

12. “马克思主义政治经济学”也称“马克思主义经济学”，“西方经济学”也是“西方政治经济学”。不能把“政治经济学”理解为既研究政治又研究经济的学科。根

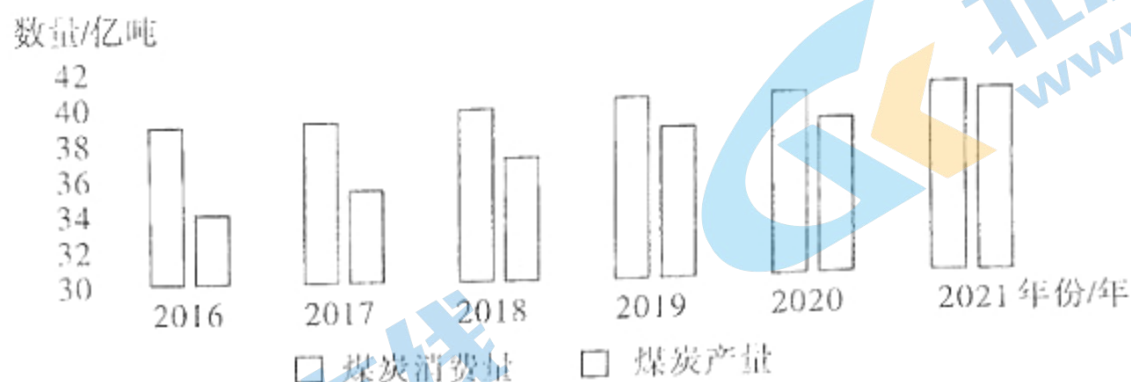
- 据上述观点,“马克思主义政治经济学”()
- ①与“西方经济学”存在前后相继的联系
 - ②是研究某具体领域规律的社会科学知识
 - ③与“西方经济学”是共性与个性的关系
 - ④为正确分析社会经济现象提供具体方法
- A. ①③ B. ①④ C. ②③ D. ②④
13. 2021年10月16日,神州十三号载人飞船首次以新技术实现对接,微波雷达在对接中发挥了重要作用,它在交会对接过程中承担测量任务,它的测量精度相当于在北京能够识别出石家庄的一张A4纸。由此可见()
- ①人类意识依赖于物质并且能够正确地反映世界
 - ②实践的广度与深度取决于人类认识能力的提高
 - ③意识能够创造出自然界中原来并不存在的东西
 - ④正确发挥人的主观能动性可以更好地造福人类
- A. ①② B. ①④ C. ②③ D. ③④
14. 当前,随着全球生态环境恶化,生物多样性丧失已经成为全球性挑战。中国历来重视“天人合一”,强调人与自然的和谐统一;进入现代社会,中国更以文明自觉的态度重视生态建设,积极保护生物多样性。这其中包含的中国智慧()
- ①对应对生物多样性丧失的挑战有借鉴意义
 - ②是世界保护生物多样性工作的根本出发点
 - ③来源于全球在保护生物多样性的实践之中
 - ④立足于事物整体以追求各个要素的有序性
- A. ①② B. ①④ C. ②③ D. ③④
15. 80多年前,美国记者埃德加·斯诺在《红星照耀中国》一书中由衷地赞叹,以毛泽东为代表的共产党人身上展现出一种“天命的力量”,这种力量“产生于他对中国人民大众,特别是农民……的迫切要求作了综合和表达,达到了不可思议的程度”。据此,以下判断正确的是()
- ①承认“天命”,这属于客观唯心主义的思想
 - ②“天命的力量”是一种强大持续的精神力量
 - ③“天命的力量”来源于顺应了社会发展规律
 - ④党的使命就是为了寻找出这种“天命的力量”
- A. ①③ B. ①④ C. ②③ D. ②④
16. 漫画《一个抵仟》(作者:徐壮)给我们的哲学启迪是()
- ①人的价值判断具有社会历史性
 - ②创新推动社会生产关系的变革
 - ③实践发展会影响人的价值选择
 - ④价值判断和价值选择因人而异
- A. ①③ B. ①④ C. ②③ D. ②④



二、非选择题：本大题共4小题，共52分。每个试题考生都必须作答。

17. 阅读材料，完成下列要求。(14分)

材料一



2016—2021年我国煤炭消费量和产量统计图

一直以来，我国的煤电价格并不能完全反映市场供求关系，价格调节作用受限。煤炭是电力生产的主要原材料，2021年全国市场交易煤炭平均价格从3月份约684元/吨大幅攀升到10月约1950元/吨。

材料二 为完善主要由市场决定电价的机制，保障电力安全稳定供应，2021年10月国家发改委发布《关于进一步深化燃煤发电上网电价市场化改革的通知》。通知要求：一是有序放开全部燃煤发电电量上网电价。燃煤发电电量原则上全部进入电力市场，通过市场交易在“基准价+上下浮动”范围内形成上网电价。二是扩大市场交易电价上下浮动范围。将燃煤发电市场交易价格浮动范围扩大为上下浮动原则上均不超过20%，高耗能企业市场交易电价不受上浮20%限制。三是推动工商业用户都进入市场。有序推动尚未进入市场的工商业用户全部进入电力市场。鼓励地方对小微企业和个体工商户用电实行阶段性优惠政策。四是保持居民、农业用电价格稳定，保持现行销售电价水平不变。

(1) 材料一反映了什么经济信息？(4分)

(2) 结合材料二，运用经济生活知识，分析我国深化燃煤发电上网电价市场化改革的原因。(10分)

18. 阅读材料，完成下列要求。(12分)

理解“全过程人民民主”，需要注意几个关键词：“全”“过程”“人民”。第一，它是全过程“人民”民主；第二，它是全“过程”人民民主；第三，它是“全”过程人民民主。

A市人大采取线上方式向社会公开《A市接诉即办工作条例（草案）》（以下简称《条例》），征求意见建议，组织人大代表到基层群众身边听取意见。2021年9月，《条例》表决通过，制度与法律完成了衔接。《条例》明确界定了诉求人包括全市自然人、法人或者其他组织，规定诉求人可以就经济发展、城市建设、社会管理、公共服务、民生需求等方面的事项提出诉求，有权了解诉求办理情况并作出评价；规定接诉即办工作接受公众和新闻媒体的监督，从而最大程度保障了人民广泛享有各方面权利。“接诉即办”中的“接”，就是认真倾听民情民意，是义不容辞的态度和职责；“诉”，就是群众有诉求向政府反映；“即”，就是马上行动，是闻风而动的作风和理念；“办”，就是解决问题，是扎扎实实的作为与担当。

结合材料，运用政治生活知识，说明 A 市人大在地方立法过程中如何贯彻“全过程人民民主”的理念。(12分)

19. 阅读材料，完成下列要求。(12分)

民俗是社会群体在现实生活中逐渐形成的相对稳定的生活方式。千百年来，中华民族孕育了多姿多彩的民俗文化，历经代代传承而生生不息。

习近平总书记强调：“一个国家的治理体系和治理能力是与这个国家的历史传承和传统文化密切相关的。解决中国的问题只能在中国大地上探寻适合自己的道路和办法。”乡村是维护和推动社会稳定发展的重要基础，根植于乡土的民俗文化已经深深嵌入乡村社会生活的方方面面。以广东省清远市连南瑶族自治县为例，在传统社会中，以血缘关系聚居的当地瑶族群众采用“刀耕火种”的生产方式，加之依山而建的木质结构居所，极易发生火灾。为了保护家园，瑶族群众纷纷自发组织开展灭火行动，这一习俗延续至今。他们联合当地消防部门组建了说瑶话、唱瑶歌的“瑶族乡村消防宣传队”，将灭火场景等内容，用歌舞、剪纸、刺绣等民俗文化体现出来，走乡入户宣传消防常识。

中共中央、国务院《关于实施乡村振兴战略的意见》中要求“开展移风易俗行动”“遏制大操大办、厚葬薄养、人情攀比等陈规陋习”。培育乡村治理的内生力量，要鼓励民众自觉抵制、摒弃不合时宜的习俗观念，畅通优秀民俗文化助力乡村治理的通道。

结合材料，运用文化生活知识，分析如何发挥好民俗文化的作用，助力乡村治理。(12分)

20. 阅读材料，完成下列要求。(14分)

2021年10月，香港特区提出“北部都会区发展规划”，把香港北部建设成为宜居宜业宜游的都会区，该地区占地达300平方千米，覆盖由西至东的深港口岸经济带及更纵深的腹地。

过去香港的城市发展呈现出“南重北轻”的格局，南部维多利亚港两岸的香港岛和新界南一直是香港的发展重心，而北部地区则荒山林地成片，未被纳入核心发展区域。此次北部都会区的规划，将有望根本性地改变香港百年来“南重北轻”的城市空间格局，升级原有的产业结构。其次，该规划将促进深港优势互补，发挥深港所长，强强联手，产生“一加一大于二”的效益。香港作为国际化人才汇聚中心，本身的大学科研能力非常强，有自己的鲜明特色，而深圳的优势在于产业集群和科技创新生态，深港的紧密合作势必将加强两地在经济、基建、创科、民生和生态环境等方面的联系。此外，该规划还进一步丰富了“一国两制”的实践，是香港全面融入国家发展战略的开始。

(1) 结合材料，运用唯物辩证法的联系观知识，说明“北部都会区发展规划”的合理性。(10分)

(2) 就如何“推动北部都会区建设”提一条具体建议并给出其唯物论的方法论依据。(4分)

2022 年广东省普通高中学业水平选择考模拟测试（一）

思想政治参考答案

评分说明：

非选择题部分，若考生答案与本答案不完全相同，但言之有理，可酌情给分，但不得超过该题分配的分数。

一、选择题：本题共 16 小题，每小题 3 分，共 48 分。在每小题给出的四个选项中，只有一项是符合题目要求的。

题号	1	2	3	4	5	6	7	8
答案	B	C	D	C	B	B	D	B
题号	9	10	11	12	13	14	15	16
答案	C	C	A	D	B	B	C	A

二、非选择题：本大题共 4 小题，共 52 分。每个试题考生都必须作答。

17. (14 分)

- (1) ①2016—2021 年我国煤炭消费量和产量不断增加，煤炭产量增速总体快于消费量的增速，虽供求差额逐渐缩小，但始终没有实现供需平衡，煤炭市场供不应求。(2 分)
- ②2021 年以来，煤炭价格快速上涨，促使电力生产成本增加，急需进行燃煤发电上网电价市场化改革。(2 分)
- (2) ①发挥市场在优化电力资源配置中的决定性作用，加快电力市场发展，推动构建新型电价形成机制。(3 分)
- ②引导企业绿色发展，加大节能技改投入，提高能源利用效率，促进企业转型升级。(3 分)
- ③促进燃煤发电市场化改革进程，推动有效市场和有为政府更好结合，保障电力安全稳定供应。(2 分)
- ④坚持以人民为中心的发展理念，发挥宏观调控稳物价保民生的作用，让电力改革发展成果由人民共享。(2 分)

18. (12 分)

- ①坚持人民主体地位，做到了一切为了人民，一切依靠人民，彰显了人民至上的民主价值和理念，彰显了全过程“人民”民主。(4 分)
- ②贯通民主决策、民主管理、民主协商、民主监督等环节，形成了完整的参与实践，彰显了全“过程”人民民主。(4 分)

③健全和完善民主法律法规，保障全体人民享有广泛的知情权、参与权、表达权和监督权，是人民民主真实性和广泛性的体现，彰显了“全”过程人民民主。(4分)

19. (12分)

①作为传统文化的基本形式之一，民俗是维系民族生存和发展的精神纽带，要发挥民俗文化在维系民族情感、稳定社会中的积极作用。(3分)

②精神活动离不开物质活动，要丰富民俗文化的表现形式和物质载体，为乡村治理注入生机和活力。(3分)

③发挥好民俗文化的作用要立足社会实践，深入群众生活，反映群众利益和呼声，探寻适合民族特点的乡村治理道路和办法。(3分)

④要批判继承传统民俗文化，推动其创造性转化、创新性发展，让民俗文化在乡村治理中彰显出时代价值。(3分)

20. (14分)

(1) ①联系具有普遍性和多样性。(2分) 该规划注重加强深港两地在经济、基建、创科、民生和生态环境等多样联系，把香港北部建设成为宜居宜业宜游、各方面紧密相连的都会区。(1分)

②掌握系统优化的方法，要遵循系统内部结构的有序性和优化趋向。(2分) 该规划将促进深港优势互补，发挥深港所长，强强联手，产生“一加一大于二”的效益。(1分)

③坚持整体与部分的统一。(2分) 香港是中国的一部分，该规划丰富了“一国两制”的实践，使香港全面融入国家发展战略。(2分)

(2) 示例：

①因势利导，科学推进——尊重客观规律与发挥主观能动性相结合。

②发挥香港自由港的优势和特点，融入国家发展战略——一切从实际出发。

(只需写一条即可，其中建议2分，对应的方法论依据2分，其他答案言之有理亦可得分)

关于我们

北京高考在线创办于 2014 年，隶属于北京太星网络科技有限公司，是北京地区极具影响力的中学升学服务平台。主营业务涵盖：北京新高考、高中生涯规划、志愿填报、强基计划、综合评价招生和学科竞赛等。

北京高考在线旗下拥有网站门户、微信公众平台等全媒体矩阵生态平台。平台活跃用户 40W+，网站年度流量数千万量级。用户群体立足于北京，辐射全国 31 省市。

北京高考在线平台一直秉承 “精益求精、专业严谨” 的建设理念，不断探索 “K12 教育+互联网+大数据” 的运营模式，尝试基于大数据理论为广大中学和家长提供新鲜的高考资讯、专业的高考政策解读、科学的升学规划等，为广大高校、中学和教科研单位提供 “衔接和桥梁纽带” 作用。

平台自创办以来，为众多重点大学发现和推荐优秀生源，和北京近百所中学达成合作关系，累计举办线上线下升学公益讲座数百场，帮助数十万考生顺利通过考入理想大学，在家长、考生、中学和社会各界具有广泛的口碑影响力

未来，北京高考在线平台将立足于北京新高考改革，基于对北京高考政策研究及北京高校资源优势，更好的服务全国高中家长和学生。



微信搜一搜

北京高考资讯

官方微信公众号: bjkzx

官方网站: www.gaokzx.com

咨询热线: 010-5751 5980

微信客服: gaokzx2018

关注北京高考在线官方微信: [北京高考资讯\(微信号:bjkzx\)](https://www.gkaozx.com), 获取更多试题资料及排名分析信息。