

成都市 2020 级高中毕业班第二次诊断性检测

数学(理科)参考答案及评分意见

第 I 卷 (选择题, 共 60 分)

一、选择题:(每小题 5 分, 共 60 分)

1. C; 2. C; 3. B; 4. C; 5. A; 6. B; 7. D; 8. A; 9. B; 10. D; 11. A; 12. D.

第 II 卷 (非选择题, 共 90 分)

二、填空题:(每小题 5 分, 共 20 分)

13. $\sqrt{2}$; 14. $-\frac{3}{5}$; 15. $\sqrt{31}$; 16. $(0, \frac{3}{e^2})$.

三、解答题:(共 70 分)

17. 解:(I)由题意,列联表如下:

报名班型	课 程		合 计
	“劳育课程”	“美育课程”	
文科班	35	35	70
理科班	10	20	30
合 计	45	55	100

……6 分

(II) $\because K^2 = \frac{100 \times (35 \times 20 - 35 \times 10)^2}{45 \times 55 \times 70 \times 30} = \frac{100}{297} \approx 2.357 < 6.635,$ ……10 分

\therefore 没有 99% 的把握认为“劳育课程”“美育课程”的选择与文理科有关. ……12 分

18. 解:(I)设数列 $\{a_n\}$ 的公比为 q .

$\because a_1, a_2 + 3, a_3 - 6$ 成等差数列,

$\therefore 2(a_2 + 3) = a_1 + a_3 - 6.$ ……2 分

$\therefore 2a_1q + 6 = a_1 + a_1q^2 - 6.$ ……3 分

$\because q = 3,$

\therefore 解得 $a_1 = 3.$ ……5 分

$\therefore a_n = 3^n.$ ……6 分

(II) 设 $b_n = na_n$, 则 $b_n = n \cdot 3^n$

$\therefore T_n = 3 + 2 \times 3^2 + 3 \times 3^3 + \dots + n \times 3^n$ ①

$\therefore 3T_n = 3^2 + 2 \times 3^3 + 3 \times 3^4 + \dots + n \times 3^{n+1}$ ②

由①-②得, $-2T_n = 3 + 3^2 + 3^3 + \dots + 3^n - n \cdot 3^{n+1}$ ……8 分

$\therefore -2T_n = \frac{3 \times (1 - 3^n)}{1 - 3} - n \cdot 3^{n+1}$ ……10 分

$$\therefore T_n = \frac{(2n-1)3^{n+1} + 3}{4} \quad \dots\dots 12 \text{分}$$

19. 解:(I)取 B_1C_1 的中点 O , 连接 AO, A_1O .

$\because \triangle A_1B_1C_1$ 与 $\triangle AB_1C_1$ 均是边长为 2 的正三角形,

$\therefore AO \perp B_1C_1, A_1O \perp B_1C_1, A_1O = AO = \sqrt{3}$.

$\dots\dots 2 \text{分}$

$\therefore \angle AOA_1$ 为二面角 $A-B_1C_1-A_1$ 的平面角.

$\dots\dots 3 \text{分}$

$\because AA_1 = \sqrt{6}$,

$\therefore A_1O^2 + AO^2 = AA_1^2$.

$\therefore A_1O \perp AO$.

$\dots\dots 5 \text{分}$

\therefore 平面 $AB_1C_1 \perp$ 平面 $A_1B_1C_1$.

$\dots\dots 6 \text{分}$

(II)由(I)知, $A_1O \perp AO, AO \perp B_1C_1, A_1O \perp B_1C_1$.

以 O 为坐标原点, OA_1, OB_1, OA 的方向分别为 x 轴, y 轴, z 轴正方向, 建立如图所示的空间直角坐标系 $Oxyz$.

则 $A_1(\sqrt{3}, 0, 0),$

$C_1(0, -1, 0), A(0, 0, \sqrt{3}), B(-\sqrt{3}, 1, \sqrt{3}).$

$A_1C_1 = (-\sqrt{3}, -1, 0), AC_1 = (0, -1, -\sqrt{3}),$

$BA_1 = (2\sqrt{3}, -1, -\sqrt{3}).$ $\dots\dots 8 \text{分}$

设平面 A_1C_1B 的一个法向量为 $n = (x_1, y_1, z_1)$.

$$\text{由 } \begin{cases} n \cdot A_1C_1 = 0, \\ n \cdot BA_1 = 0 \end{cases} \text{ 得 } \begin{cases} \sqrt{3}x_1 + y_1 = 0, \\ 2\sqrt{3}x_1 - y_1 - \sqrt{3}z_1 = 0. \end{cases}$$

令 $x_1 = 1$, 得 $n = (1, -\sqrt{3}, 3)$.

$\dots\dots 9 \text{分}$

设平面 A_1C_1CA 的一个法向量为 $m = (x_2, y_2, z_2)$

$$\text{由 } \begin{cases} m \cdot A_1C_1 = 0, \\ m \cdot AC_1 = 0 \end{cases} \text{ 得 } \begin{cases} \sqrt{3}x_2 + y_2 = 0, \\ y_2 + \sqrt{3}z_2 = 0. \end{cases}$$

令 $x_2 = 1$, 得 $m = (1, -\sqrt{3}, 1)$.

$\dots\dots 10 \text{分}$

$$\therefore \cos \langle n, m \rangle = \frac{n \cdot m}{|n| |m|} = \frac{7}{\sqrt{13} \times \sqrt{5}} = \frac{7\sqrt{65}}{65}$$

$\dots\dots 11 \text{分}$

\therefore 所求锐二面角的余弦值为 $\frac{7\sqrt{65}}{65}$.

$\dots\dots 12 \text{分}$

20. 解:(I)由题意, 双曲线 $\frac{x^2}{4} - y^2 = 1$ 的焦点为 $F_1(-\sqrt{5}, 0), F_2(\sqrt{5}, 0)$,

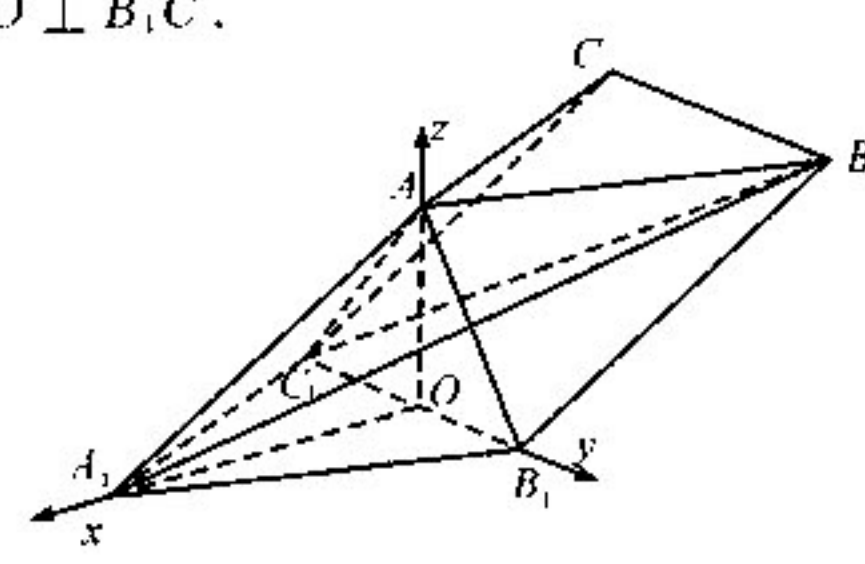
\because 双曲线 $\frac{x^2}{4} - y^2 = 1$ 与椭圆 C 有相同焦点且在第一象限交点为 P ,

又 $|PF_2| = 1, \therefore |PF_1| = 6, |PF_1| + |PF_2| = 6$.

$\dots\dots 2 \text{分}$

$\therefore 2a = 6; a = 3$.

$\dots\dots 3 \text{分}$



$\therefore b^2 = 4.$

\therefore 椭圆 C 的方程为 $\frac{x^2}{9} + \frac{y^2}{4} = 1.$ 4 分

(II) 设 $A(x_1, y_1), B(x_2, y_2)$, 则 $D(mx_2, my_2).$

\therefore 四边形 $OAED$ 为平行四边形,

$\therefore \vec{OD} = \vec{AE}, E(x_1 + mx_2, y_1 + my_2),$

\therefore 点 A, B, E 均在椭圆 C 上,

$\therefore \frac{x_1^2}{9} + \frac{y_1^2}{4} = 1, \frac{x_2^2}{9} + \frac{y_2^2}{4} = 1, \frac{(x_1 + mx_2)^2}{9} + \frac{(y_1 + my_2)^2}{4} = 1.$

$\because m > 0,$

$\therefore 4x_1x_2 + 9y_1y_2 + 18m = 0.$ 7 分

$\therefore (4 + 9k^2)x_1x_2 + 9k(x_1 + x_2) + 9 + 18m = 0.$ 8 分

由 $\begin{cases} y = kx + 1, \\ \frac{x^2}{9} + \frac{y^2}{4} = 1 \end{cases}$ 消去 y , 得 $(9k^2 + 4)x^2 + 18kx - 27 = 0.$

显然 $\Delta = 432(3k^2 + 1) > 0.$

$\therefore x_1 + x_2 = \frac{-18k}{9k^2 + 4}, x_1x_2 = \frac{-27}{9k^2 + 4}.$ 9 分

$\therefore \frac{-27}{9k^2 + 4} \times (4 + 9k^2) - \frac{18k}{9k^2 + 4} \times 9k + 18m + 9 = 0.$

$\therefore m = 2 - \frac{4}{9k^2 + 4}.$ 11 分

$\therefore m \in [1, 2).$ 12 分

21. 解: (I) $\because f'(x) = \frac{x^{a-1}e^{2x}(2x-a)}{x^{2a}}.$ 2 分

$\because x > 0, a \in \mathbf{R}$

\therefore 当 $a \leq 0$ 时, $f'(x) \geq 0$ 恒成立, 函数 $f(x)$ 在 $(0, +\infty)$ 上单调递增.3 分

当 $a > 0$ 时,

当 $0 < x < \frac{a}{2}$ 时, $f'(x) < 0$; 当 $x > \frac{a}{2}$ 时, $f'(x) > 0.$

函数 $f(x)$ 在 $(0, \frac{a}{2})$ 上单调递减, 在 $(\frac{a}{2}, +\infty)$ 上单调递增.4 分

综上所述, 当 $a \leq 0$ 时, 函数 $f(x)$ 的单调递增区间为 $(0, +\infty)$, 无单调递减区间;

当 $a > 0$ 时, 函数 $f(x)$ 的单调递减区间为 $(0, \frac{a}{2})$, 单调递增区间为 $(\frac{a}{2}, +\infty).$

.....5 分

(II) 函数 $g(x) = a \ln x + \frac{f(x)}{e^{2x}} - 2x + 1$ 恰有两个零点,

等价于方程 $\frac{e^{2x}}{e^4 x^a} = 2x - 1 - a \ln x$ 有两个不等的实数解.

$$\because x > 0, a > 0, \frac{e^{2x}}{e^2 x^a} = 2x - 1 - a \ln x = \ln e^{2x} - \ln e - \ln x^a = \ln \frac{e^{2x-1}}{x^a},$$

$$\text{令 } t = \frac{e^{2x-1}}{x^a} > 0, \text{ 则 } \frac{t}{e} = \ln t.$$

$$\text{令 } h(t) = \ln t - \frac{t}{e}, \text{ 则 } h'(t) = \frac{1}{t} - \frac{1}{e}.$$

\therefore 当 $0 < t < e$ 时, $h'(t) > 0$; 当 $t > e$ 时, $h'(t) < 0$.

\therefore 函数 $h(t)$ 在 $(0, e)$ 上单调递增, 在 $(e, +\infty)$ 上单调递减.

$$\because h(e) = 0,$$

\therefore 方程 $\frac{t}{e} = \ln t$ 有唯一解 $t = e$.

\therefore 方程 $\frac{e^{2x}}{e^2 x^a} = 2x - 1 - a \ln x$ 有两个不等的实数解等价于方程 $e = \frac{e^{2x-1}}{x^a}$ 有两个不相等的实数解. ……7分

等价于方程 $a \ln x = 2x - 2$ 有两个不相等的实数解.

$$\text{构造函数 } k(x) = a \ln x - 2x + 2, \text{ 则 } k'(x) = \frac{a}{x} - 2.$$

$$\because a > 0,$$

\therefore 当 $0 < x < \frac{a}{2}$ 时, $k'(x) > 0$; 当 $x > \frac{a}{2}$ 时, $k'(x) < 0$.

\therefore 函数 $k(x)$ 在 $(0, \frac{a}{2})$ 上单调递增, 在 $(\frac{a}{2}, +\infty)$ 上单调递减.

$$\because x \rightarrow 0^+, k(x) \rightarrow -\infty; x \rightarrow +\infty, k(x) \rightarrow -\infty.$$

\therefore 只需要 $k(\frac{a}{2}) = a \ln \frac{a}{2} - a + 2 > 0$, 即 $\ln \frac{a}{2} + \frac{2}{a} - 1 > 0$. ……9分

$$\text{构造函数 } m(a) = \ln \frac{a}{2} + \frac{2}{a} - 1, \text{ 则 } m'(a) = \frac{1}{a} - \frac{2}{a^2}.$$

\therefore 当 $0 < a < 2$ 时, $m'(a) < 0$; 当 $a > 2$ 时, $m'(a) > 0$.

\therefore 函数 $m(a)$ 在 $(0, 2)$ 上单调递减, 在 $(2, +\infty)$ 上单调递增.

$$\because m(2) = 0,$$

\therefore 当 $a \neq 2$ 时, $\ln \frac{a}{2} + \frac{2}{a} - 1 > 0$ 恒成立. ……11分

$\therefore a$ 的取值范围为 $(0, 2) \cup (2, +\infty)$. ……12分

22. 解: (1) \because 曲线 C 的参数方程为 $\begin{cases} x = 3t^2 \\ y = 3t \end{cases}$ (t 为参数),

\therefore 曲线 C 的普通方程为 $y^2 = 3x$. ……2分

\because 直线 l 的极坐标方程为 $2\rho \sin(\theta + \frac{\pi}{6}) = 3$,

$\therefore 3\rho \sin\theta + \rho \cos\theta = 3$. ……3分

$\because x = \rho \cos \theta, y = \rho \sin \theta,$

\therefore 直线 l 的直角坐标方程为 $x + \sqrt{3}y - 3 = 0.$

.....5分

(II) 由(I)知, 点 P 在直线 l 上,

\therefore 直线 l 的参数方程为
$$\begin{cases} x = -3 - \frac{\sqrt{3}}{2}m \\ y = 2\sqrt{3} + \frac{1}{2}m \end{cases} \quad (m \text{ 为参数}),$$

.....7分

代人 $y^2 = 3x$ 得, $m^2 + 14\sqrt{3}m + 84 = 0.$

设 m_1, m_2 是上述方程的两根,

$\therefore \Delta > 0, m_1 + m_2 = -14\sqrt{3}, m_1 m_2 = 84 > 0.$

.....9分

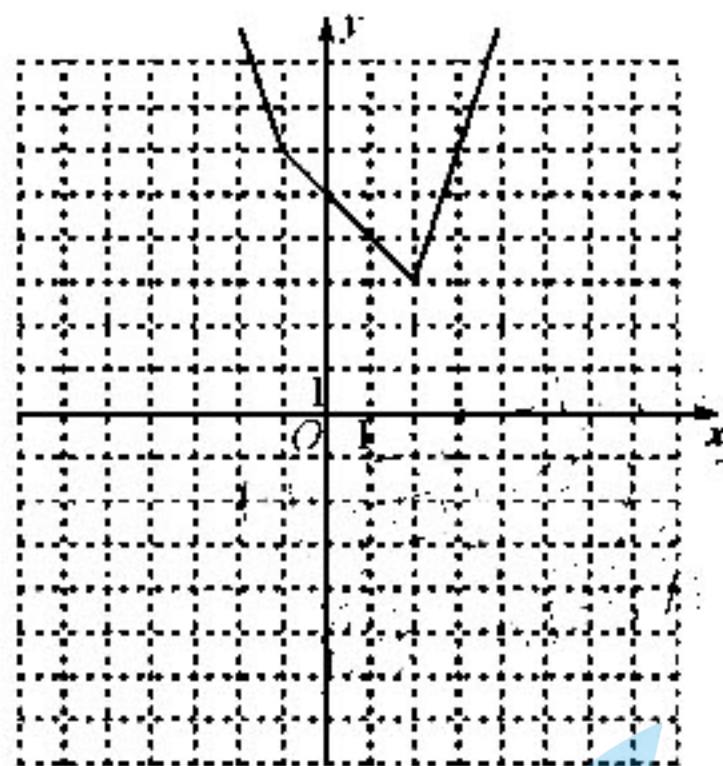
$\therefore |PA| + |PB| = |m_1| + |m_2| = |m_1 + m_2| = 14\sqrt{3}.$

.....10分

23. 解:(I) 由题得, $f(x) = |x+1| + 2|x-2| = \begin{cases} -3x+3, & x \leq -1 \\ -x+5, & -1 < x < 2 \\ 3x-3, & x \geq 2. \end{cases}$

.....3分

函数 $y = f(x)$ 的图象为



.....5分

(II) 函数 $y = f(x)$ 的图象向左平移 2 个单位长度后得到函数 $y = f(x+2)$ 的图象, $y = f(x)$ 的图象与 $y = f(x+2)$ 的图象如右图所示.

.....7分

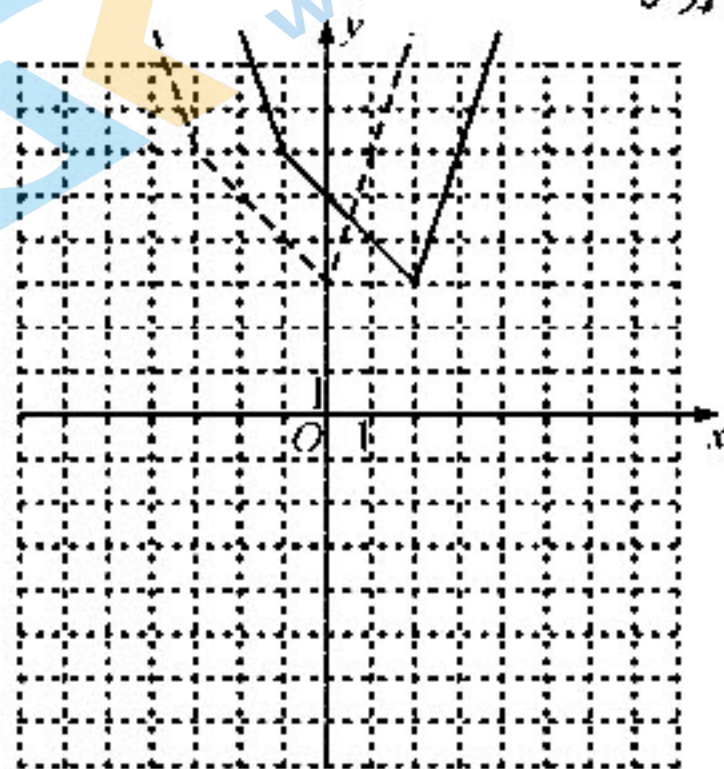
当 $x \in (0, 2)$ 时, 由 $f(x+2) = f(x)$ 解得, $x = \frac{1}{2}$

.....9分

由图象可知不等式 $f(x+2) > f(x)$ 的解集为

$(\frac{1}{2}, +\infty).$

.....10分



关于我们

北京高考在线创办于 2014 年，隶属于北京太星网络科技有限公司，是北京地区极具影响力的中学升学服务平台。主营业务涵盖：北京新高考、高中生涯规划、志愿填报、强基计划、综合评价招生和学科竞赛等。

北京高考在线旗下拥有网站门户、微信公众平台等全媒体矩阵生态平台。平台活跃用户 40W+，网站年度流量数千万量级。用户群体立足于北京，辐射全国 31 省市。

北京高考在线平台一直秉承 “精益求精、专业严谨” 的建设理念，不断探索 “K12 教育+互联网+大数据” 的运营模式，尝试基于大数据理论为广大中学和家长提供新鲜的高考资讯、专业的高考政策解读、科学的升学规划等，为广大高校、中学和教科研单位提供 “衔接和桥梁纽带” 作用。

平台自创办以来，为众多重点大学发现和推荐优秀生源，和北京近百所中学达成合作关系，累计举办线上线下升学公益讲座数百场，帮助数十万考生顺利通过考入理想大学，在家长、考生、中学和社会各界具有广泛的口碑影响力

未来，北京高考在线平台将立足于北京新高考改革，基于对北京高考政策研究及北京高校资源优势，更好的服务全国高中家长和学生。



微信搜一搜

北京高考资讯