

# 北京一六一中学 2023—2024 学年度第一学期期中阶段测试

## 高三政治试卷

班级 \_\_\_\_\_ 姓名 \_\_\_\_\_ 学号 \_\_\_\_\_

考 生 须 知	1. 本试卷共 5 页，满分 100 分，考试时长 90 分钟。 2. 试题答案一律书写在答题纸上，在试卷上作答无效。 3. 在答题纸上，选择题用 2B 铅笔作答，非选择题用黑色字迹签字笔作答。 4. 考试结束后，将答题纸、试卷和草稿纸一并交回。
------------------	--


一、选择题：本大题共 15 道小题，每小题 3 分，共 45 分。在每小题给出的四个选项中，只有一项符合题目的要求。把正确答案涂写在答题卡上相应的位置。

1. 北京市“十四五”规划提出要建设“韧性城市”。北京加快推进韧性城市建设，应旨在
- A. 坚持政府主导、强化社会参与
  - B. 合理配置职能，将权限和责任法定化
  - C. 研究超大城市运行规律，打造良好营商环境
  - D. 防范和应对灾害，保障人民群众生命财产安全

“韧性城市”  
在工程力学领域，韧性指“回到最初的状态”。“韧性城市”是指在逆境环境中具备承受、适应和快速恢复能力的城市，是城市安全发展的新范式。

2. 民为国基，谷为民命。粮食安全是国家安全的重要基础，是关乎国运民生和社会稳定的头等大事。关于积极推进节约粮食、反对食品浪费，以下说法正确的是
- ①全国人大常委会作为最高国家权力机关，审议反食品浪费法草案
  - ②民法典关于民事主体节约资源的规定，为促进食品节约提供了有效法律依据
  - ③餐饮企业应履行提醒责任，鼓励消费者适量点餐，在菜品分量上提供多样化选择
  - ④公民管理国家和社会事务，在全社会推广促进节约资源的消费模式
- A. ①②                      B. ①④                      C. ②③                      D. ③④

3. 备案审查制度是符合中国国情、具有中国特色的一项制度设计。党的十八大以来，全国人大常委会共接收公民、组织提出的审查建议 19200 多件，累计推动、督促制定机关修改、废止各类规范性文件 2 万余件。对此，下列理解最恰当的是
- A. 我国加强宪法实施和监督，维护宪法权威与法治统一
  - B. 我国通过完善的法律制度加强对权力运行的制约和监督
  - C. 我国一切权力属于人民，人民享有监督宪法实施的权力



高三政?

D. 以宪法为核心的中国特色社会主义法律体系日趋完善

4. 某地是红枣的故乡，种枣历史最早可追溯到 8000 多年前。甲镇政府及乙村委会因工程占地需要，在未办理采伐手续的情况下，违法移栽枣树 1870 棵，导致其中 680 棵树死亡。当地法院判决，甲镇政府及乙村委会补种 5 倍林木，赔偿 360 多万元，并向公众道歉，在当地设立警示标志。对这一案件的正确认识是



- ①镇政府和村委会的全部行政权力来源于人民
- ②公民可以选择司法途径，矫正错误的公共权力
- ③公民与镇政府、村委会的法律地位是平等的
- ④法院是法律监察机关，有责任对政府、村委会进行监督

A. ①②                      B. ①③                      C. ②③                      D. ②④

5. 张某于 2020 年 9 月入职某报刊公司从事投递员工作，双方签订劳动合同，约定张某每天工作 6 小时，每周工作 6 天，月工资 3500 元。2021 年 6 月，因同区域另外一名投递员离职，该报刊公司在未与张某协商的情况下，安排其加班承担该投递员的工作任务。张某拒绝了公司的安排，公司以张某不服从工作安排为由与其解除劳动合同关系。对此分析合理的有

- ①对原劳动合同的变更需要双方协商一致，因此张某拒绝公司安排是合理的
- ②张某应当以公司变相强迫其加班为由直接向人民法院提起劳动争议诉讼
- ③公司并没有侵犯张某休息休假的权利，因此公司的做法是合理的
- ④公司单方面解除劳动合同违反了劳动合同法，应当承担法律责任

A. ①③                      B. ①④                      C. ②③                      D. ②④

6. 我国宪法规定，公民有劳动的权利和义务，国家奖励劳动模范和先进工作者。回顾历史，劳模表彰随着党和国家事业的发展而发展。劳模表彰起步于新民主主义革命时期，历经几十年探索与发展，在中国特色社会主义新时代得到发扬光大。开展劳模表彰

- ①旨在保障劳动者接受职业技能培训的权利，提高劳动生产效率
- ②是有效的社会动员方法，也是国家治理中不可或缺的制度安排
- ③能进一步激励全党全国各族人民积极投身经济社会发展的实践
- ④可以从根本上解决发展不平衡不充分的问题，实现共同富裕

A. ①③                      B. ①④                      C. ②③                      D. ②④

7. 在一些地区开展的农村集体资产股份合作制改革，通过市场化运作方式，积极推动农村资源变资产、资金变股金、农民变股东。以下对农村“三变”改革分析，正确的是

- ①土地所有权仍归农户所有，经营权流转，能调动农民生产积极性

②聚集分散的资金，提高资金使用效益，能提升集体经济活力

⑤农户享受入股分红收益，拓宽了农民增收致富的渠道

④市场有效配置农村土地资源，使个人生产力超越了社会生产力

A. ①③

B. ①④

C. ②③

D. ②④

8. 近年来，我国以网络购物、移动支付、线上线下融合等新业态新模式为特征的新型消费迅速发展。为加快新型消费发展，政府主管部门可以

①对新型消费领域企业优化税收征管

②建立“网络+服务”和直播电子商务平台

③开展用工余缺调剂，帮助劳动者灵活就业

④推动相关部门调整不适应新型消费发展的法律法规

A. ①②

B. ①④

C. ②③

D. ③④

9. 社会保障关乎人民最关心最直接最现实的利益问题。下面是2023年全国两会期间对推动我国社会保障事业高质量发展、可持续发展热议的一些话题。

◆统一城乡居民养老保险制度，为广大农村地区老年人筑牢兜底保障；

◆加大对养老服务产业的支持力度，鼓励社会力量参与，有助于建立更加完善的养老服务体系；

◆推动多层次医疗保障有序衔接，尽力改变医疗资源分配不均衡现状；

◆着眼新产业、新业态、新模式发展需要，完善新就业形态劳动者劳动权益保障法律法规，强化平台责任，进一步扩大社会保险覆盖面。

完善我国社会保障体系，推动社会保障事业高质量发展，需要

①消除城乡、区域、群体之间的差异，发挥经济运行“减震器”的作用

②由政府和社会承担社会保障主要责任，优化统筹市场主体及各方力量

③推进新兴产业进军养老医疗市场，发挥企业在社会保障中的基础作用

④配套的劳动权益保障法律法规与时俱进，与社会经济发展水平相适应

A. ①③

B. ①④

C. ②③

D. ②④

10. 在推进“一带一路”建设过程中，具有强大科研能力及雄厚资金的某国有制造企业与具有丰富经营经验及灵活决策机制的某私营企业合作“走出去”，产生了“1+1>2”的共赢效应。这从一个侧面表明

①国有经济与非公有制经济在经济发展中相互促进，共同发挥主导作用

②各种所有制企业充分发挥比较优势，有利于提高企业的国际竞争力

③各种所有制取长补短、共同发展，坚持和完善社会主义基本经济制度

④公有制经济与非公有制经济都是社会主义经济的重要组成部分

A. ①②

B. ①④

C. ②③

D. ③④

11. 下图为某社区发布的信息。

3月30日(星期三)什刹海街道人民调解委员会  
爱民联合调解室  
值班律师: 张\*\*  
【张\*\*律师】  
北京\*\*事务所专职律师 合伙人 中共党员  
教育背景: 中国人民大学民商法硕士学位  
业务领域: 私人律师、企业法律顾问、民商事诉讼、知识产权保护与诉讼、刑事辩护  
咨询电话: \*\*\*\*  
咨询地址: 厂桥派出所调解室

下列表述正确的是

- ①邻里间以和为贵, 调解往往是当事人解决纠纷的优先选择
- ②调解达成的协议具有强制执行效力, 当事人双方必须履行
- ③法律服务进社区, 有利于快速便捷地化解矛盾
- ④人民调解委员会有效实现了当事人的诉讼权利

- A. ①③      B. ①④      C. ②③      D. ②④

12. 读数看经济。我国 2022 年政府工作报告中的部分数据如下:



①



②



③



④

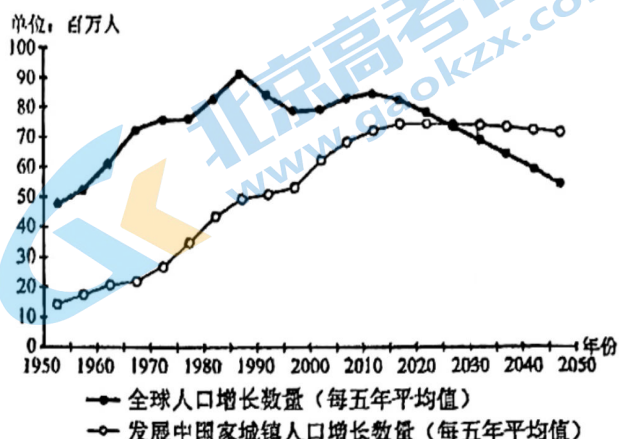
- ①是政府调整财政收支, 通过公开市场业务来调节社会总需求
- ②是中央通过转移支付平衡各地区的政府收入差距, 统筹区域发展
- ③是政府通过初次分配促进社会公平正义, 兜民生底线、织安全密网
- ④“藏粮于地”, 有利于提高粮食综合生产能力, 维护粮食安全

- A. ①②      B. ①③      C. ②④      D. ③④

13. 城镇化是当今世界发展的重要趋势之一，高质量的城镇化是经济增长的重要动力。根据联合国经济和社会事务部在《世界城镇化展望（2018）》中的估算和预测，1950—2050年全球及发展中国家的人口变动情况如右图所示。

材料表明

- ①人口是国家最重要的基本要素，人口数量影响一个国家的经济增长
- ②2025—2030年，全球人口增长几乎全部来自发展中国家的城镇人口增长
- ③2030—2050年，发展中国家城镇人口增长数量将高于全球人口增长数量
- ④发展中国家推进高质量的城镇化对全球可持续发展至关重要



- A. ①②                      B. ①③                      C. ②④                      D. ③④

14. 某国有酿酒食品有限责任公司2018年启动混合所有制改革。企业分别引入一家行业上游民营企业投资3300万元，持股15%；引入两家员工持股平台，投资金额合计近4400万元，持股比例合计为20%。2021年该公司实现2.36亿元销售收入、2005万元利润总额，同比分别大增109%和547%。混合所有制改革对该企业影响路径是

- ①引入民营企业投资→整合上下游资源→扩大企业规模→降低市场竞争风险
- ②引入民营企业投资→放大国有资本功能→增强市场竞争力→实现跨越式发展
- ③引入员工持股平台→增加员工转移性收入→激励员工创造业绩→增强企业活力
- ④引入员工持股平台→实现利益共享、风险共担→调动员工积极性→提高企业效益

- A. ①③                      B. ①④                      C. ②③                      D. ②④

15. 为了增加市场知名度及用户美誉度，某电商发起“好评返现”活动，如果买家按照“全五星+15字评语+晒图或视频”的要求给出商家好评，将获得现金红包。该电商还授权委托他人通过电话或短信方式联系买家进行好评，根据获得的好评数量支付其费用。

《反不正当竞争法》第八条第一款  
经营者不得对其商品的性能、功能、质量、销售状况、用户评价、曾获荣誉等作虚假或者引人误解的商业宣传，欺骗、误导消费者。

《电子商务法》第十七条 电子商务经营者应当全面真实准确及时地披露商品或者服务信息，保障消费者的知情权和选择权。电子商务经营者不得以虚构交易、编造用户评价等方式进行虚假或者引人误解的商业宣传，欺骗、误导消费者。

结合上述条文，对于该商家的行为，下列评析正确的是

- ①本质上是商家花钱买好评，涉嫌虚假宣传，侵害了消费者的知情权和选择权  
②该行为属于合法的商业行为，可督促经营者提高产品质量和服务水平  
③该行为破坏了诚信和公平交易规则，扰乱市场秩序，属于不正当竞争行为  
④“好评返现”系该商家和消费者之间的民事行为，并未损害其他商家的合法权益

A. ①③                      B. ①④                      C. ②③                      D. ②④

二、非选择题：本大题共 7 小题，共 55 分。把答案填在答题纸中相应的位置上。

16. (9 分) 盐作为大自然的恩赐，与人的生存息息相关。它在历史上曾是一些国家或地区的大宗商品和重要税收来源。

某网站编辑撰写一篇关于“取消食盐专营”的短文。请你运用经济学知识，帮助他在横线上填写 4 个“信号”及其得出这种结论的“理由”。

小编看取消食盐专营制度对我们老百姓的好处

工信部发出消息称，盐业将进行体制改革，实现政企分开。从 2016 年起，废止盐业专营有关规定，允许现有食盐生产定点经营企业退出市场，允许食盐流通企业跨区经营，放开所有盐产品价格，放开食盐批发、流通经营。废止盐业专营说白了就是取消垄断，听到这一消息，振奋人心啊！这一消息可以带来以下信号：

①信号一：食盐价格可能\_\_\_\_\_——这对于消费者来说是一件非常好的事情。现在像贵州一包 500 克的盐要卖 3 元钱，是米价的两倍，太贵了。

理由：\_\_\_\_\_

②信号二：生产咸味食品（如咸菜）的企业，可能\_\_\_\_\_——这是商家经营的直接目的。

理由：\_\_\_\_\_

③信号三：跨区域用盐将\_\_\_\_\_——2014 年曾有经过两个地区顺道买盐的餐馆老板，被盐务局执法人员发现后罚款。这是因为专营能带来巨额垄断收益，不少省通过地方立法来保护当地盐业企业。改革后，就不再会有这种“奇葩罚款”事件啦。

理由：\_\_\_\_\_

④信号四：考验相关政府部门对食盐销售的\_\_\_\_\_——以后假冒盐可能混入市场，相关政府部门要为消费者提供一个可靠的食物安全环境。

理由：\_\_\_\_\_

17. (9分) 今年以来,为稳定宏观经济和推动经济高质量发展,我国政府出台了一系列调控政策。

材料一 我国实施新的组合式税费支持政策,精准实施对中小微企业、个体工商户减税降费,2022年全年预计退税减税约2.5万亿元。

材料二 我国2022年一般公共预算支出安排26.71万亿元,比上年扩大2万亿元以上。财政部门优化支出结构,优先支持已纳入国家“十四五”规划纲要、重点专项规划的重点项目,适度超前开展基础设施投资,加大对科技攻关、生态环保、基本民生、现代农业等领域及区域重大战略的支持力度。

材料三 4月25日,中国人民银行降低金融机构存款准备金率0.25个百分点,向市场释放长期资金5300亿元。5月15日,中国人民银行和中国银行保险监督管理委员会调整差异化住房信贷政策。政策出台后,多家银行下调首套房贷款利率。

运用《经济与社会》知识,分析上述材料中的政策工具在稳定宏观经济和推动经济高质量发展方面如何发挥作用。


18. (6分)

人力资本是劳动者积累的知识、技能和健康水平的总和,是一国消除贫困和实现经济可持续发展的重要驱动力。人力资本的个人回报相当丰厚,有研究发现,劳动者的受教育年限每增加一年,劳动收入平均会提高5~15%。但有些家庭受固有观念的束缚,没有意识到人力资本的重要性。还有些家庭愿意投资改善健康和教育状况,却可能心有余而力不足。此外,人力资本的社会回报同样不容忽视,提升全社会的人力资本水平有助于促进科技创新、公民参与和社会和谐。

结合材料,运用《经济与社会》知识,谈谈在培育人力资本方面,为什么需要政府发挥重要作用。

19. (8分)

材料一 “今日可团：冷鲜牛腱肉、糯玉米、鹌鹑蛋、精选鸭掌和牙膏……”在某小区的一个品牌社区团购微信群里，从蔬菜水果、肉蛋奶食品到居家百货等一应俱全，犹如一家“生活超市”。每天早上“团长”将当日新上架的产品链接发送到团购群里，随后小区居民可以在群里或小程序下单。在购物、打车、外卖这些热点之后，卖菜成了平台经济的又一个风口。多家平台相继砸重金发展社区团购业务，通过“烧钱大战”补贴平台，开展低价促销，例如“一分钱一盒鸡蛋”“九分钱一棵白菜”，以及各种限时抢购的优惠券……



材料二

具有市场支配地位的平台经营者，可能滥用市场支配地位，没有正当理由，以低于成本的价格销售商品，排除、限制市场竞争。

——《国务院反垄断委员会关于平台经济领域的反垄断指南》

不得通过低价倾销、价格串通、哄抬价格、价格欺诈等方式滥用自主定价权。在依法降价处理鲜活商品、季节性商品、积压商品等商品外，严禁以排挤竞争对手或独占市场为目的，以低于成本的价格倾销商品。

——《互联网平台企业严格遵守“九不得”》

结合材料，从经济角度分析如何使民生福祉得到有效保障和改善。



20. (8分) 北京市人大常委会从 2019 年聚焦民生领域“关键小事”立法修法, 首创“万名代表下基层”做法, 到 2020 年组织人大代表围绕条例实施深入基层开展“三边”(身边、路边、周边) 检查, 到 2021 年人大代表走进“家”(人大代表之家)“站”(人大代表联络站)就“接诉即办”立法征集意见建议, 再到 2022 年进一步拓展“万名代表下基层”机制。经过几年的探索完善, “万名代表下基层”在京华大地逐渐铺展开来, “润物细无声”地浸润于普通老百姓的日常生活里。

镜头微观察			
镜头	地点	人物	事件
代表“沉下去”, 民意“聚起来”	西城区某街道人 大代表之家	市、区两级人大代 表与来自某街道 的居民代表	召开征求立法意见建议座谈会, 收集大家对《北京市城市更新条例 (草案)》和《北京市节水条例(草案)》 等法规的意见建议。
“路边”检查	海淀区某路段	北京市人大代表	在《北京市非机动车管理条例》 立法实施后开展“回头看”, 相关部 门邀请代表在路边参加调研检查。
家·站	东城区某街道, 代表家站联合社 区议事厅	东城区人大代表 及居民代表等	人大代表、居民代表、居委会工 作人员等一起给“美丽院落”改造 出谋划策。

运用《政治与法治》知识, 说明北京市人大常委会实施“万名代表下基层”机制的意义。

21. (6分)

甲公司在党委领导下, 定期召开职工代表大会, 涉及职工切身利益的重大事项均经过职工代表大会审议通过并公示。推动电子劳动合同普及与服务平台建设, 每年节省费用超过 500 万, 职工体验提升。按技术、管理、工匠等不同岗位设置了职业发展通道, 每年培训经费支出 3000 万元以上。员工收入已连续多年 10% 以上的增长, 还享有幸福家庭假、义工假等。

工作中最幸福的是: 你为企业做贡献, 企业为你谋发展。和谐共赢的劳动关系更有温度。结合材料, 综合运用所学, 分析甲公司是如何建设和谐劳动关系的。

22. (9分)

在每天的生活中，我们经常会与合同打交道，乘坐出租车、超市购物、交物业管理费都是在与他人订立合同。在订立合同时，我们在合同格式条款中常常看到：“寄物柜属于服务性质，商场不负责保管及赔偿责任”“本店商品一经售出，概不退换”“降价、处理、打折商品，不予退换”；商家在购物卡或优惠券中写明“最终解释权归商家”等内容。

《中华人民共和国民法典》（节选）

第四百九十六条 格式条款是当事人为了重复使用而预先拟定，并在订立合同时未与对方协商的条款。

第四百九十七条 有下列情形之一的，该格式条款无效：

（一）提供格式条款一方不合理地免除或者减轻其责任、加重对方责任、限制对方主要权利；

（二）提供格式条款一方排除对方主要权利。

结合材料，说明民法典允许采用格式条款的同时又对格式条款加以规范和约束的原因。

# 北京一六第一中学 2023-2024 学年度第一学期期中阶段测试

## 高三政治标准答案和评分标准

### 第一部分 选择题（共 45 分）

1	2	3	4	5	6	7	8	9	10
D	C	A	C	B	C	C	B	D	C
11	12	13	14	15					
A	C	D	D	A					

### 第二部分 非选择题（共 55 分）

16. (9 分) 除特殊标注外, 每空 1 分。

①降低; 取消盐业专营, 企业自主经营、公平竞争。

②利润增加; 食盐价格降低, 咸味食品加工行业的生产成本降低。

③不受限制/放开/不被罚款/都成为合法; 放开食盐批发、流通经营, 打破地方保护主义。

④监管水平; 为维护市场秩序, 保障食品安全, 相关政府部门应对食盐销售实施有效监管。(2 分)

17. (9 分)

减税降费减少企业负担, 保市场主体, 增强企业活力, 扩大投资和就业。

财政政策扩大政府投资, 提高社会总需求; 财政支出优化结构, 有助于调整产业结构、实现国家战略。

降准增加金融机构资金来源, 扩大货币供给; 降低房贷利率促进房地产和相关行业发展。

18. (6 分)

市场调节存在盲目性, 个人可能由于信息的匮乏和观念的限制, 对人力资本的重要性认识不足, 需要政府引导。低收入家庭人力资本投资负担较重, 需要政府提供补贴和资助, 促进社会公平。

个人的人力资本投资会忽视或低估其社会回报, 因此人力资本投资不能完全由市场调节, 需要政府在教育、卫生等方面增加财政投入, 以弥补个人投资不足, 提升全社会的人力资本水平。

19. (8 分)

“菜篮子”与民生福祉直接相关。政府要履行经济职能, 依法加强对社区团购价格行为和反不正当竞争的监管, 规范市场秩序, 维护公平竞争的市场环境。只有有效竞争, 价格随供求变化而波动, 才能使市场在价值规律基础上, 发挥提升经济运行效率、激发企业活力、保证消费者长远利益的作用, 确保民生福祉得到有效保障和改善。

20. (8 分)

人大代表作为人大的组成人员, 来自人民, 是人民利益的代言人, 通过代表联络机制, 密切联系群众, 征求群众对立法的意见建议, 有利于推动科学、民主立法。

人大代表依法履行职权, 对立法实施后开展“回头看”、“路边”检查, 落实北京市人大监督, 帮助政府推进工作, 推动法治政府建设。

人大代表与居委会工作人员、居民代表联席会议, 践行全过程人民民主, 创新基层社会治理, 推进国家治理体系和治理能力现代化。

21. (6 分)

甲公司坚持党的领导, 畅通民主参与渠道, 保障职工合法权益, 职工的幸福感和归属感增强。

依法与员工签订电子劳动合同, 推动管理服务便利化, 职工维权有据, 公司提质增效。

合理调节收入分配关系，与职工共享发展成果，给公司带来持久动能。

22. (9分)

①在合同中使用格式条款，相对简捷、省时、方便，利于降低交易成本，适应现代市场经济发展要求。所以，民法典允许采用格式条款。

②格式条款的提供方通常是商品或服务提供者，而对方通常是消费者。提供方可能利用优势地位，制定有利于自己而不利于对方的条款，限制对方当事人的权利。为贯彻公平原则，明确合同双方的权利义务关系，维护当事人合法权益，引导依法、诚信经营，民法典有必要对格式条款加以规范和约束。

# 北京高一高二高三期中试题下载

京考一点通团队整理了【**2023年10-11月北京各区各年级期中试题 & 答案汇总**】专题，及时更新最新试题及答案。

通过【**京考一点通**】公众号，对话框回复【**期中**】或者点击公众号底部栏目<**试题专区**>，进入各年级汇总专题，查看并下载电子版试题及答案！

