

中学生标准学术能力诊断性测试 2023 年 9 月测试

文科综合试卷

本试卷共 300 分，考试时间 150 分钟。

一、选择题：本题共 35 小题，每小题 4 分，共 140 分。在每小题给出的四个选项中，只有一项是符合题目要求的。

2023 年 5 月下旬，东方甄选直播团队走进山西，将山西省的自然景观、历史文化以及民俗风情全方位地展示给了全国观众，100 多款山西农特产品几乎全部售罄，特别是山西老陈醋在短时间火爆全网，进一步推动了山西传统文化产业的发展。据此，完成 1~2 题。

- 山西传统老陈醋在酿造过程中要经历“夏伏晒，冬捞冰”环节，其目的是
A. 加快发酵，提高酿醋效率
B. 捞出杂质，提高老陈醋的品质
C. 降低醋中水分，浓缩陈醋
D. 自然除菌，降低酿造成本
- 东方甄选走进山西专场直播，使山西省农特产品
A. 迎合大众口味
B. 销售范围扩大
C. 营销渠道减少
D. 销售环节增加

中国和印度是世界上人口最多、经济体量最大、发展很快的亚洲大国。有学者认为，虽然印度城镇化水平低，但城市发展潜力大。新德里、孟买、加尔各答和班加罗尔是印度经济发展最活跃的“一线城市”，堪称印度版的“北上广深”。据此，完成 3~5 题。

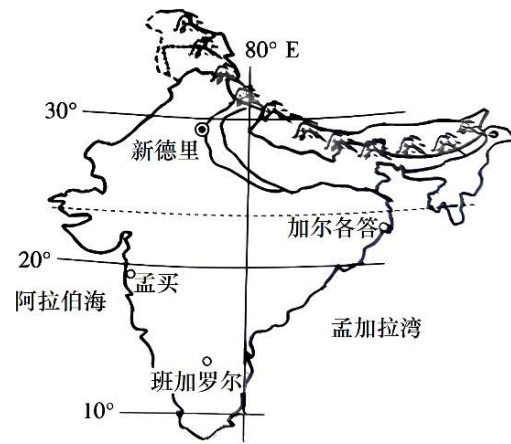


图 1

- 与中国相比，印度城镇化水平较低的主要原因是
A. 社会问题突出
B. 城市人口分布过度集中
C. 制造业发展缓慢
D. 政府对城镇化干预较多
- 印度城市发展潜力大的最大优势是
A. 资源优势显著
B. 创新能力突出
C. 基础设施完善
D. 软件产业发达

- 从定位和功能上看，孟买市相当于中国的
A. 北京市
B. 上海市
C. 广州市
D. 深圳市

2023 年 6 月 10 日傍晚，南京市遭遇强对流天气，出现了壮观的悬球状云，俗称乳状云，并持续 10~15 分钟。某地理研究小组为了探究乳状云的成因及其为何会持续一定时间，设计以下演示实验：把装满水的气球（相当于充满水和冰的乳状云）和普通气球混和并悬挂起来模仿云团，再提供一些大气能量模仿云团受热状况（图 2）。据此，完成 6~8 题。

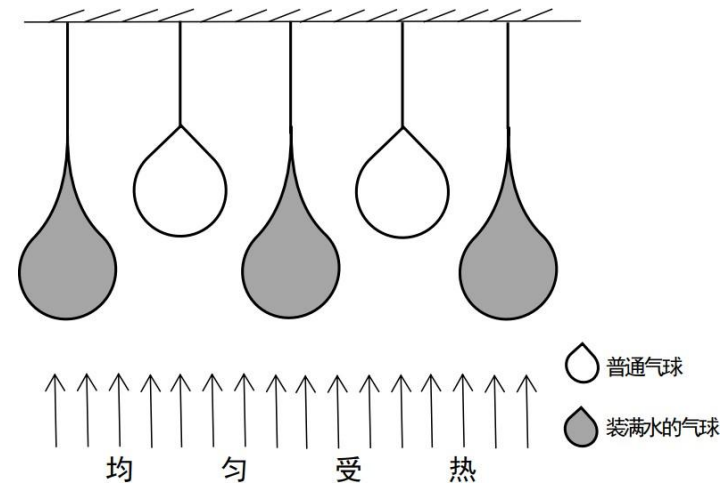






图 2

- 下列为乳状云景观的是
A.  B.  C.  D. 
- 根据演示实验，推测乳状云的形成需要具备的条件有
①具有大水滴或冰粒的云胞
②强烈的上升气流
③旺盛的下沉气流
④稳定的大气环境
A. ①②③
B. ①②④
C. ①③④
D. ②③④
- 下列对乳状云持续时间较长的模拟实验的解释，最合理的是
A. 普通气球受热后上升较快
B. 普通气球受热后立即爆裂
C. 装满水的气球比热容较大，受热慢
D. 装满水的气球离热源较近，受热快

月球围绕地球运行的轨道是一个椭圆，因而地月距离不固定。当月相为上弦月时，月球运行至远地点附近，此时上弦月的视直径（天文学中常用视直径来计算星体的距离）小。图 3 示意月相变化。据此，完成 9~11 题。

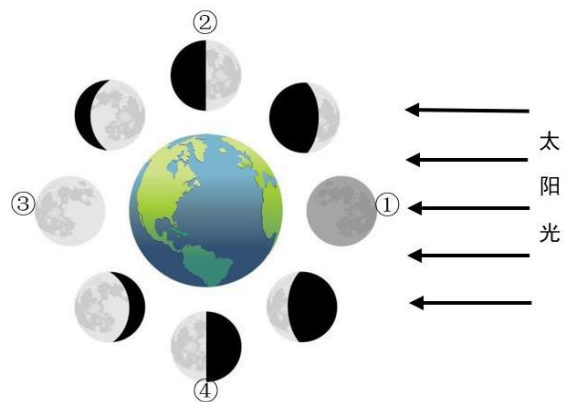


图 3

9. 图 3 中表示上弦月的是
A. ① B. ② C. ③ D. ④
10. 图中②所示月相出现时, 伴随有
A. 大潮 B. 月食 C. 小潮 D. 月面朝东
11. 2023 年 4 月 28 日, 迎来本年度最小上弦月, 5 月 12 日前后可能出现
A. 最大下弦月 B. 最小下弦月 C. 最大满月 D. 最大上弦月
12. 党的二十大报告强调, 中国共产党为什么能, 中国特色社会主义为什么好, 归根到底是马克思主义行, 是中国化时代化的马克思主义行。拥有马克思主义科学理论指导是我们党坚定信仰信念、把握历史主动的根本所在。这是因为马克思主义是
①科学的理论, 奠定了科学社会主义的强大理论基石
②人民的理论, 创立了人民实现自身解放的思想体系
③实践的理论, 是指导人民认识世界改造世界的基础
④开放的理论, 不断丰富和发展, 始终站在时代前沿
A. ①② B. ①③ C. ②④ D. ③④
13. 改革开放 45 年来, 浙江义乌从“鸡毛换糖”到“买全球卖全球”的“世界超市”, 从贫穷落后的传统农业小县到全国经济强市、世界小商品之都, 不断书写着市场建设、经济发展的传奇故事。浙江义乌巨变这一缩影
①印证了改革开放是当代中国发展进步的活力之源
②彰显了我国不断深化改革开放所取得的巨大成就
③证明了改革开放是我国取得一切胜利的重要法宝
④揭示了改革开放决定着我国社会性质面貌的变革
A. ①② B. ①④ C. ②③ D. ③④
14. 中国是世界上最大规模使用工业机器人的国家。图 4 为关于“企业使用机器人的影响因素”的调查结果。

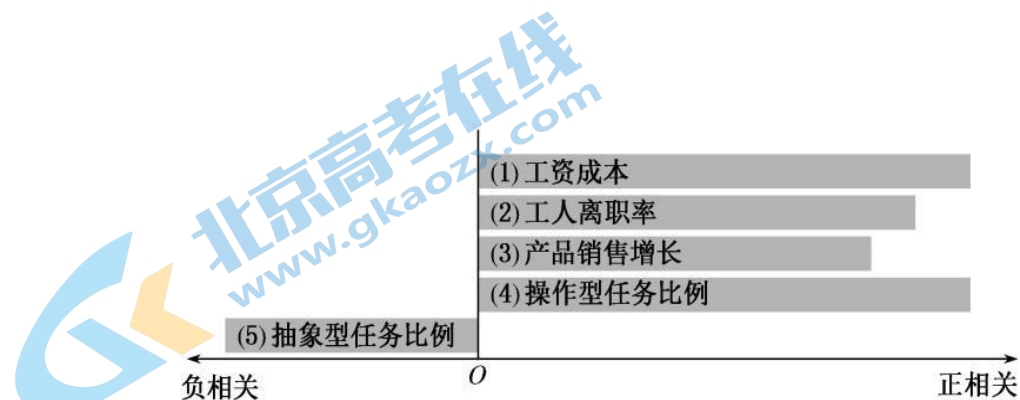


图 4

- 根据调查结果, 下列说法正确的是
①企业用工成本高且人员流动小会用机器人
②产品的市场需求量会影响生产要素的投入
③机械操作占比高的企业会减少使用机器人
④使用机器人无法全面替代人类的所有劳动
A. ①② B. ①③ C. ②④ D. ③④
15. 在坚定不移推动绿色低碳转型发展的同时, 某市深入推进实施换道领跑战略行动、优势再造战略行动、数字化转型战略行动、绿色低碳转型战略行动, 提升传统产业、做强新兴产业, 持续推动结构调整、产业升级。这些行动有利于该市
①推动产业转型升级, 培育经济发展动能
②融入现代产业体系, 畅通内外经济循环
③转变经济发展方式, 助推经济高速发展
④守牢绿色生态底线, 推动绿色低碳发展
A. ①③ B. ①④ C. ②③ D. ②④
16. 2023 年 6 月底, 习近平总书记对党的建设和组织工作作出重要指示强调, 新时代党的建设和组织工作要以坚持和加强党中央集中统一领导为最高原则, 以忠诚为党护党、全力兴党强党为根本使命, 以解决大党独有难题、健全全面从严治党体系为重大任务, 为推进强国建设、民族复兴伟业提供坚强组织保证。上述要求
①体现了科学执政是党执政的基本方式
②以组织建设为统领, 增强党的领导力
③为推进新时代组织工作提供根本遵循
④有利于推动全面从严治党向纵深发展
A. ①② B. ①④ C. ②③ D. ③④
17. 某自治区一民族乡政府为解决当地村民饮用水问题, 依托“代表委员”平台组织人大代表、政协委员进村入户征集意见, 通过召开由代表委员、村干部、农业用水大户、村民代表和有关负责人组成的民主协商恳谈会, 决定由政府 and 村民共建一批蓄水池, 取得令人满意的效果。该乡政府的做法是基于
①协商民主是全过程人民民主的重要实践形式

- ②政府作为国家行政机关有领导村委会的职能
- ③政协委员可以通过协商民主的渠道建言资政
- ④自治区各级政府既是行政机关又是自治机关

A. ①② B. ①③ C. ②④ D. ③④

18. 图 5 漫画《换个姿势去调研》（来源：中央纪委国家监委网站）中的“转换”给我们的哲学启示是

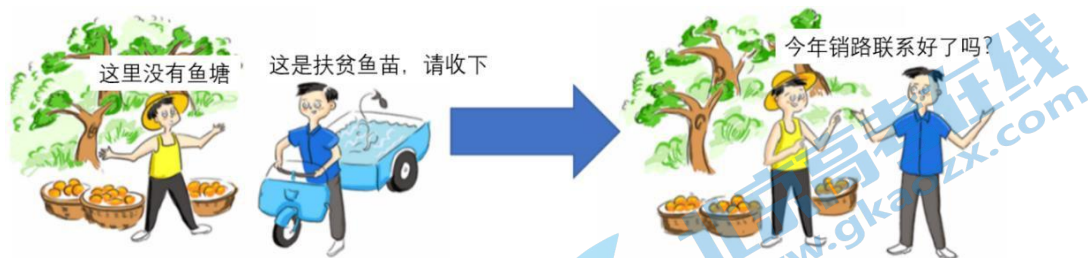


图 5

- ①加强基层调研, 做到主观与客观具体的统一
- ②坚定人民立场, 自觉维护人民群众利益诉求
- ③坚持实事求是, 实现科学性与价值性的统一
- ④注重实际行动, 保障惠民政策及时贯彻落实

A. ①③ B. ①④ C. ②③ D. ②④

19. 2023 年 6 月, 深圳第十九届文博会上, 寒梅绽放, 你便能闻到幽香; 水仙摇曳, 自有淡香扑鼻; 行至水畔, 还能嗅到竹林的气息。这是浙江馆的沉浸式体验项目《光影万象·水墨江南》。被数字“记住”的气味, 和音视频内容联动, 让观众如身临其境! 这种高科技数字文化产品给我们的文化生活带来别样体验。这启示我们

- ①以数字技术手段进行跨界融合与创新, 提升美育的可及性
- ②借助文博与科技的真实联系, 延展文化的时代内涵与价值
- ③智慧文博作为新事物取代传统实体博物馆是未来必然趋势
- ④打破固有思维重视感性体验, 找准世博会创新的时代韵脚

A. ①② B. ①④ C. ②③ D. ③④

20. 中央保密办（国家保密局）发布的 2023 保密公益宣传片《藏在照片里的秘密》，通过展示“旅游风景照”“实验加班照”“会议记录照”“军车偶遇照”等常见的拍照情景，指出看似平常的镜头可能会泄露军事地点、实验数据、会议记录、武器装备等涉密敏感信息，倡导大家紧绷保密之弦，共筑保密防线，守护家国之安。这警示我们，做好保密工作要

- ①坚决贯彻以军事安全为基础的总体国家安全观
- ②尊重和保障人权，依法保护公民的权利和自由
- ③夯实以新安全格局保障新发展格局的社会基础
- ④坚持以预防为主，专门工作和群众路线相结合

A. ①② B. ①③ C. ②④ D. ③④

21. 上海合作组织产业链供应链论坛暨 2023 上合国际投资贸易博览会于 6 月 14 日在青岛举行。本次论坛主题是“协同共赢·链通区域经济合作新未来”，旨在搭建上合组织国家务实合作新平台，推动构筑安全稳定、畅通高效、开放包容、互利共赢的产业链供应链体系。材料表明上合组织

- ①加强沟通协调, 致力于推动各成员国根本利益相一致
- ②扩大贸易往来, 成为新兴市场国家间合作的重要平台
- ③谋求共同发展, 开展符合时代主题的综合性和区域性合作
- ④深化务实合作, 积极践行共商共建共享的全球治理观

A. ①② B. ①④ C. ②③ D. ③④

22. 2023 年 4 月, 7 岁的小敏在一幢大楼附近玩耍, 不料被突然坠落的一个塑料花盆砸在身上, 造成小敏轻伤。经公安机关调查核实, 确认了该塑料花盆的所有人、管理人、使用人均均为甲公司。对此, 正确的判断是

- ①小敏父母应当提起刑事诉讼并附带民事赔偿
- ②小敏父母可通过与甲公司协商解决赔偿事宜
- ③不论甲公司有无过错, 均应当承担侵权责任
- ④甲公司诉讼时对自己没有过错承担举证责任

A. ①② B. ①③ C. ②④ D. ③④

23. 2023 年 3 月, 习总书记在中央党校建校 90 周年庆祝大会上强调, 坚守党校初心, 就必须始终坚持从严治校、质量立校, 发挥不正之风“净化器”、党性锻炼“大熔炉”、全面从严治党“风向标”的作用。借用“净化器、大熔炉、风向标”反映党校独特价值的思维形式

- ①形象地触及到事物的本质规律
- ②实现了从思维抽象到思维具体
- ③运用迁移和想象反映认识对象
- ④属于以比较为基础的类比推理

A. ①③ B. ①④ C. ②③ D. ②④

24. 春秋时期晋国大夫史墨在筮占实践中推究人事变化规律, 提出“火胜金”“水胜火”之论; 战国时期的邹衍以五德（金木水土火）相胜之说解释王朝更替; 战国时期儒家思孟学派将“五行”赋予了伦理道德的内容。这些思想

- A. 传承了“敬德保民”的为政理念
- B. 反映了思想分化的社会现实
- C. 彰显了对自然和人文关系的探索
- D. 适应了统治阶级的政治需要

25. 唐代科举制规定, 士子应在本地参加府试获得解送资格, 若要离开本籍, 到其他府州参加府试以取得解送资格再到京师参加全国性考试, 即为冒籍。这一规定

- A. 保证了科举考试的公平性
- B. 有利于提升社会文化水平
- C. 促进了官僚政治日益成熟
- D. 缘于地区发展的不平衡性

26. 五代十国时期南唐画家顾闳中的绘画作品《韩熙载夜宴图》（图 6）描绘了官员韩熙载家设夜宴载歌赏乐的场面。该作品体现了



图 6

- A. 追求意境的文人画成为主流
B. 史料价值和艺术鉴赏的结合
C. 门阀政治下贵族的奢靡生活
D. 经济发展促进市民文化兴起
27. 明代中期后，无论银差、力差，都以银两作为衡量徭役轻重的标准，并且力差常常由应役人户雇募他人应役，因此徭役经费可以在数额上予以量化编制。这一现象
- A. 促进了人口迅速增长
B. 减轻了农民赋税承担
C. 提高了基层治理能力
D. 得益于政府赋税改革
28. 清政府于 1909 年颁布《城镇乡地方自治章程》，规定了县乡基层行政建制，吸纳各种新兴政治力量参与社会管理。该章程促使农村的非正式组织纷纷建立，各种职业的人经常以宗族结构或血缘关系的方式组织起来。这一举措
- A. 旨在扩大基层统治基础
B. 开启了基层自治制度先河
C. 为废除科举制做了铺垫
D. 加强了国家政权组织力量
29. 南京临时政府颁布了《商业银行暂行则例》《商业注册章程》等法令，支持国人成立中国实业公司，还增加了个人财产、工商企业权益受法律保护的规定，同时成立了中央实业部、交通部和财政部。这些举措
- A. 完善了中国近代经济法律体系
B. 提高了民族资产阶级政治地位
C. 有利于民族资本主义经济发展
D. 有利于抑制官僚资本主义膨胀
30. 陈独秀在 1919 年 5 月 26 日出版的《每周评论》上发表了《山东问题与国民觉悟：对外对内两种彻底的觉悟》一文中呼吁，应该抱定“强力拥护公理”和“平民征服政府”两大宗旨。这表明
- A. 民主科学思想广泛传播
B. 作者政治和革命意识逐渐增强
C. 平民文化日益深入人心
D. 作者深受马克思主义思想影响
31. 新中国外交服饰经历了站起来：以“中山装”为标志，到富起来：以“西装”为标志，再到强起来：在遵循国际规范的基础上，吸收世界服饰文化精华，并强化中国传统文化特色的“新中装”为标志的过程。这一变化
- A. 根源于思想发展的决定作用
B. 彰显了文化自信的丰富内涵
C. 体现了科技实力的不断增强
D. 反映了外交基本立场的变化
32. 雅典五百人议事会分为十个五十人委员会，500 名议员以部落为单位分成十组，每组在一年中十分之一的时间里服务，每个委员会每天抽签出一人作为主席，一个公民一生仅能任职一次。这一制度
- A. 保证了政治秩序良性运转
B. 有效提高了行政工作效率
C. 扩大了雅典公民构成范围
D. 体现了民主政治体制特点

33. 新教改革造成传统宗教物质文化遗产的大规模损毁，宗教冲突令 16~17 世纪的基督教欧洲陷入连绵不绝的战乱。而冠以“反改革”之称的天主教会改革在相当大程度上是天主教会自我调整以适应时代的努力，并不一定以新教为对立面。这一认识

- A. 阐明了宗教改革影响的复杂性
B. 体现了政治立场影响历史认知
C. 纠正了对宗教改革的传统评价
D. 突出强调天主教会的历史价值
34. 19 世纪的英属殖民地中，由英国殖民政府控制和由亲殖民政府的英人或当地人创办的报刊数不胜数。如《加尔各答日报》《孟买信使报》《新加坡纪事报》《开普敦公报》《悉尼公报》等。这些报纸
- A. 标志着新闻传播的近代化
B. 重在宣传工业革命的信息
C. 完善了世界各地之间沟通
D. 为殖民统治提供宣传服务
35. 二战后，东德政府重视传统音乐和古典音乐中政治意义的挖掘，西德政府重在吸收当时西方大众音乐元素。与此同时，美国推动本国作曲家进入德国传统音乐领域，支持西德大众音乐兴起。该现象
- A. 促进了东西方文化交流
B. 反映了冷战思维的影响
C. 有利于传统音乐现代化
D. 旨在提高民众艺术素养

二、非选择题：共 160 分。

36. 阅读材料，完成下列要求。（28 分）

材料一：广阳岛位于重庆主城铜锣山、明月山之间，是长江上游面积最大的江心绿岛，从古代巴人的农耕渔猎，到机场抗战的浴血同盟，再到物产丰美的国营农场，无一不彰显着当地优美的田园风光和悠久的历史文。2017 年前，广阳岛通过实施征地拆迁和平场整治进行大规模的房地产开发，千百年来形成的自然人本格局被严重破坏。

材料二：图 7 为广阳岛地理位置及其大开发前后卫星影像图。



图 7

材料三：2017年8月以来，重庆市委、市政府将广阳岛定位为“长江风景眼、重庆生态岛”，停止商业开发，并启动广阳岛生态修复实践。当地结合“护山、理水、营林、疏田、清湖、丰草”六大策略进行自然恢复和生态修复，实现了“山青、水秀、林美、田良、湖净、草茂”的生态目标，为更多的动物提供了优良栖息地。广阳岛生态系统的完整性初步形成，生态系统的原真性逐渐呈现，成功入选《中国生态修复典型案例》。

- (1) 描述江心绿岛的形成过程。(6分)
- (2) 结合图文信息，指出广阳岛大开发阶段，可能造成的破坏。(8分)
- (3) 说明当地在生态修复实践中，为实现“湖净”的生态目标所采取的措施。(6分)
- (4) 从生态安全和资源安全方面，分析广阳岛生态修复实践对国家的意义。(8分)

37. 阅读材料，完成下列要求。(28分)

2023年是共建“一带一路”倡议提出10周年。10年间，中国和中亚国家之间的水利合作项目为当地产业升级、民生改善提供了有力支撑。如：西北农林科技大学与乌兹别克斯坦共建的中乌节水农业海外示范园于2022年建成，该示范园采用太阳能喷灌和智能水肥一体滴灌。从信息采集、传输、决策到远程控制，实现灌溉和施肥的信息化、精准化和自动化。通过智能水肥一体化灌溉设备，可使当地棉花产量提高50%，节水50%，投资减少40%。图8为乌兹别克斯坦位置图。

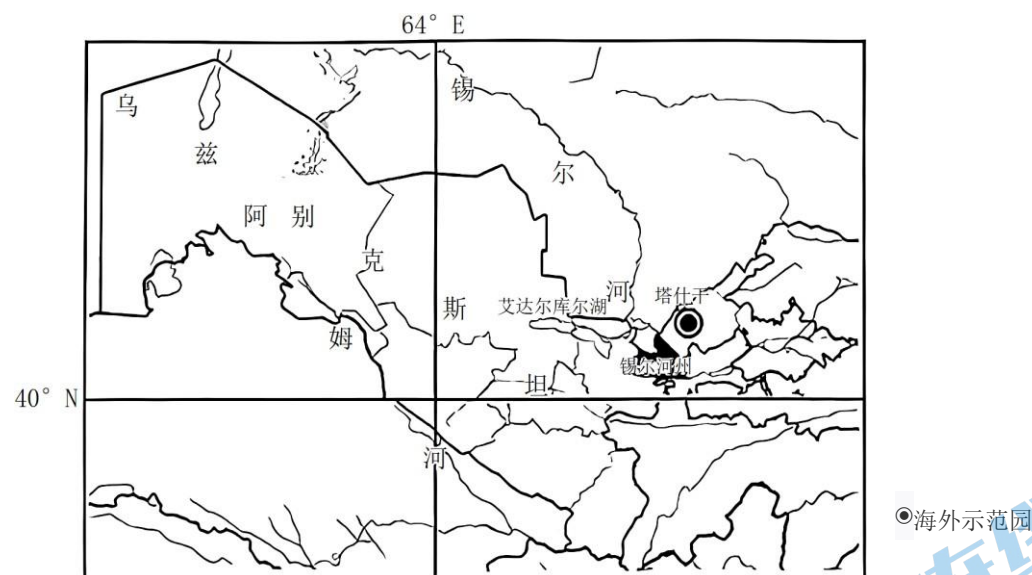


图8

- (1) 分析中国选择在乌兹别克斯坦建节水农业海外示范园的地理背景。(8分)
- (2) 说明示范园采用太阳能喷灌机进行灌溉的原因。(6分)
- (3) 简析示范园采用智能水肥一体化滴灌后对棉花生产成本的影响。(8分)
- (4) 简述中乌在节水农业领域的合作对乌兹别克斯坦农业发展的促进作用。(6分)

38. 阅读材料，完成下列要求。(12分)

党的十八大以来，全国人大常委会坚持以习近平新时代中国特色社会主义思想为指导，深入贯彻习近平法治思想，全面贯彻党中央决策部署。十年来(截至2022年)，共有205件次法律草案在中国人大网上公开征求意见，参与人次超过119万，提出的意见有350多万条；设立了22个基层立法联系点，130多部法律草案通过基层立法联系点征求意见。

全国人大常委会推出了设立国家宪法日、实行宪法宣誓制度、推进合宪性审查工作等若干项重大举措。十年来，全国人大及其常委会根据经济社会发展需要，一共作出了30件授权决定和改革决定，涉及关系经济社会发展稳定的重点领域和关键环节的全面深化改革开放，形成了可复制可推广的经验，已上升为国家法律制度。

结合材料，运用《政治与法治》知识，说明全国人大常委会是如何推动高质量立法的。

39. 阅读材料，完成下列要求。(10分)

迄今为止，世界上实现工业化的国家不超过30个，人口总数不超过10亿。中国14亿多人口实现现代化将是人类发展史上前所未有的大事。走和平发展道路，是中国式现代化的鲜明特征和必然选择。我国不走一些国家通过战争、殖民、掠夺等方式实现现代化的老路，始终在和平发展道路上推进现代化，又以自身发展更好维护世界和平。中国式现代化造福中国、利好世界，不仅使中国在短短几十年时间内成为“世界现代化的增长极”，也创造了人类文明新形态，拓展了发展中国家走向现代化的路径选择，为人类和平与发展的崇高事业作出巨大贡献。

结合材料，运用《当代国际政治与经济》的知识，以“中国式现代化的世界贡献”为主题撰写一篇短评。

要求：①围绕主题，观点明确；②论证充分，逻辑清晰；③学科术语使用规范；④总字数在200字左右。

40. 阅读材料，完成下列要求。(20分)

进入新时代，人民群众对美好生活的需要越来越广泛、越来越丰富，对民生实事也寄予了更多期望，提出了更高要求。某市扎实推进“我为群众办实事”实践活动，各级党组织采取调查研究、入户走访、个别访谈、召开座谈会、设立意见箱、发放征求意见表、新媒体留言等多种方式征求意见，切实把问题找全、把群众期待摸清摸准。在基层工作中，要求党政干部创新思维，多进行换位思考，要循果究因，从源头上解决问题。把群众反映的“问题清单”变成“履职清单”，聚焦民生实事这个靶心，定期召开重点民生事项调度会，逐一研究分析推进过程中遇到的困难和问题，提出解决问题的最优方案和思路，高标准高质量推进民生项目。

- (1) 结合材料，运用创新思维要多路探索的知识，分析该市是如何解决民生问题的。(10分)
- (2) 结合材料，运用社会历史的主体知识，说明该市能够高标准高质量推进民生项目的原因。(10分)

41. 阅读材料，完成下列要求。(10分)

王亮在某商场购买了一套健身器材，服务员发现他要的款式只有样品没有现货，需从仓库调取，于是和王亮协商后约定：王亮先付款，当日下午商场会指示仓库将健身器材快递给王亮。王亮付款并

留下信件信息后离开。第二天，王亮了解到，本市一辆快递运输车因驾驶员饮酒驾驶侧翻，自己的快件在该车内且已被损坏。

结合本案，运用《法律与生活》的相关知识，回答下列问题：

- (1) 王亮有没有取得该套健身器材的所有权？请说明理由。（5分）
- (2) 请说明本案中商场应当承担民事责任的理由。（5分）

42. 阅读材料，完成下列要求。（25分）

材料一：一战爆发伊始，鉴于胶州湾作为德国远东舰队基地，极易成为燃起战火之地，也因近半个世纪以来连绵不断的外来入侵给中国社会带来的不稳定，为了避免卷入两大军事阵营的纠纷漩涡，北洋政府决定保持中立，对于同盟国与协约国的矛盾采取不干涉政策。一战爆发后不久，围绕胶州湾的何去何从，就出现了明争暗抢的博弈。虽然北洋政府有愿收复，且德方也曾主动表示愿意归还，但日本却趁西方列强无暇全力东顾之机，强行将胶州湾据为己有。尽管如此，德国方面却一直试图争取袁世凯政府和德国知名人士站在德国一边。中德关系在一战爆发后较长时间内仍然维持着相对和平的状态。1917年2月9日，鉴于德军大炮击沉法国载运华工赴欧洲的“阿托斯”号船，出于对本国公民人身安全和利益保护的需 要，北京政府也接受了美国方面的劝请，向德方发出了照会，在抗议无效的情况下，北洋政府决定与德国断交。在辛亥革命民主平等精神影响下，国内各界围绕“中立”还是加入“协约国”，展开了一场规模宏大的热议。1917年8月北京政府决定参加协约国，正式对德宣战。战后德国国际地位一落千丈，国家负债累累，割地赔款，在中国失去殖民地租界，由此也扫除了中德关系重建的障碍。1921年，德国通过与中国签署单独媾和协约，成为首个放弃在华所有不平等条约的西方大国，中德关系由此开始在平等、友好、互惠的基础上走向正常化，并迎来了一个特殊的“金色二十年”。

——摘编自孟虹《一战前后中德关系的演变及其对中国近代外交理念的影响》

材料二：新中国与联邦德国建交之初双边贸易额仅为 2.74 亿美元，2021 年已达 2351 亿美元。机电设备、纺织原料及纺织制品、各类生活器具等杂项制品是中国出口德国的主要商品，中国是德国机电设备与运输设备的最大市场。截至 2021 年底，德国企业在华投资项目 11836 个，实际投入 380.9 亿美元。2016 年，中国在欧盟的投资增长了 77%，投资总额超过 350 亿欧元，其中德国占了 31%。2019 年底，德国对华输出技术累计 25166 项，合同金额 862.7 亿美元。中德与时俱进地逐步建立起一系列双边经贸磋商、对话平台和机制。在中欧贸易关系不断深化的同时，欧盟针对中国产品进行的反倾销也持续不断，并施加严格的技术壁垒限制。德国政府以中国投资影响国家安全为由修订《外国投资监管条例》，将监管审查的股权比例从 25% 降至 10%，并敦促欧盟构筑了审查机制。

——摘编自丁纯、陈芊凝《中德经贸关系 50 年：成就、问题与前景》

- (1) 根据材料一并结合所学知识，概括一战前后中德关系的变迁并分析原因。（13分）
- (2) 根据材料二并结合所学知识，分析中德经贸关系的特点及其原因。（12分）

43. 阅读材料，完成下列要求。（12分）

材料一：子曰：“为政以德，譬如北辰，居其所而众星共之。”

——《论语·为政》

材料二：乾道七年（1171），朱熹在福建省崇安县创办“五夫社仓”，并在总结实践经验的基础上，制订了经营管理办法，即《社仓事目》。淳熙八年（1181），朱熹在《辛丑延和殿奏札》中，当面奏请孝宗皇帝批准他的《社仓事目》在全国实施。此后，这个《社仓事目》被称之为“朱子社仓法”。“五夫社仓”也就成为在全国农村普遍推广的储粮备荒及社会救济的主要形式。这个社仓法即成为一个以实物形式实行的社会保障制度。

——摘编自张品瑞《朱熹与社仓法》

材料三：井冈山斗争时期，根据地内民众食盐断绝。1928年，红军把打土豪时缴获的一些食盐送给李尚发。李尚发满怀感激地收下了这一瓢盐，可他一直舍不得吃，特意找来一只褐色的陶罐儿把它装起来。1929年第三次反围剿时，他将这罐盐藏在老杉树下。1949年，李尚发小心翼翼地挖出那罐食盐，1959年，他把珍藏30年的这罐食盐献给了井冈山博物馆收藏。

——摘编自《红色故事》

根据以上材料并结合所学知识，自拟论题并加以阐述。（要求：论题明确，史论结合，论据充分，表达清晰，逻辑严谨）

44. 阅读材料，完成下列要求。（15分）

材料：1764年，经叶卡捷琳娜二世批准创办斯莫尔尼女子学院，并开办了平民班，学院培养目标是培养理智稳重、品行端正、行为得体、道德高尚、不矫揉做作、具有一切美德的女性，课程设置包含了西方与本国文化知识。建立莫斯科儿童收养所，教授劳动技能并予以适当的文化教育。1786年颁布《国民学校教育章程》，这是俄国首次对国民教育立法。在省城兴办了26所先进中心学校，在中小城市兴办大量小学。法律赋予了妇女管理和处理家庭财产的权利，受过教育的女性能够在家庭中积极作用。教育也激发了妇女在文学领域的探索兴趣，十八世纪晚期妇女文学作品首次得到出版，知识使女性走入社会公共领域，妇女的职业化成为可能。

——摘编自朱川豫《试论女皇叶卡捷琳娜二世妇女教育改革》

- (1) 根据材料并结合所学知识，概括叶卡捷琳娜二世妇女教育改革的特点。（9分）
- (2) 根据材料并结合所学知识，分析叶卡捷琳娜二世妇女教育改革的影响。（6分）

中学生标准学术能力诊断性测试 2023 年 9 月测试

文综地理参考答案

一、选择题：本题共 11 小题，每小题 4 分，共 44 分。在每小题给出的四个选项中，只有一项是符合题目要求的。

1	2	3	4	5	6	7	8	9	10	11
C	B	C	A	B	D	A	C	B	C	A

二、非选择题。

36. (28 分)

- (1) 嘉陵江和长江汇聚，丰水期河流流量增大，河流侵蚀搬运泥沙量增大；至广阳岛附近河道变宽，流速减慢，泥沙淤积形成水下堆积体；随着时间反复淤积露出水面，不断发育形成的江心岛；岛上属于亚热带季风气候，温暖湿润，植被丰富且生长旺盛，成为江心绿岛。（每点 2 分，答出 3 点得 6 分）
- (2) 森林破坏；河湖湿地萎缩；生物多样性减少；土壤侵蚀；草地退化；田园景观、历史文化和和谐背景的破坏甚至消失。（每点 2 分，答出 4 点得 8 分）
- (3) 清理湖底淤积的泥沙，提高湖泊蓄水量，增强湖水的自净能力；修复杂乱的湖岸线，推进湖岸线绿化；疏浚河道，促进水体交换，改善湖泊水质；加大宣传教育，提高居民的环保意识；加强监测管理，制定相关法律法规，严格控制污水排放。（每点 2 分，答出 3 点得 6 分）
- (4) 发挥自然环境的调节服务功能，遏制生态环境恶化，维护生态安全；修复鸟场、渔场栖息地，保障物种安全；通过“营林、理水、清湖”，涵养水源、提高水质，为下游地区提供丰富优质水源，保障水资源安全；通过“疏田”，改善耕地质量，增加耕地面积，提高粮食产量，保障粮食安全。（每点 2 分，答出 4 点得 8 分）

37. (28 分)

- (1) 乌兹别克斯坦气候干旱，蒸发旺盛，水资源短缺；土地资源丰富，生产潜力大，农业用水需求大；灌溉设施陈旧老化，灌溉利用率不高，水资源浪费严重；乌兹别克斯坦是“一带一路”沿线的重要国家，具有地缘优势；双方政策的大力支持，具有良好的投资环境。（每点 2 分，答出 4 点得 8 分）
- (2) 当地深居内陆，降水稀少，晴天多，光照充足，太阳能丰富；河流多为季节性河流，径流量小，水量的季节性和年际变化大，水资源少且不稳定；喷灌可提高水资源的利用效率；减轻园区用电压力、缓解供电紧张状况。（每点 2 分，答出 3 点得 6 分）

- (3) 从信息采集、传输、决策到远程控制，信息化程度高，技术成本投入大；灌溉更精准，可节约水资源，减少用水成本；施肥更精准，减少化肥与农药的使用量，减少生态破坏产生的治理成本；自动化灌溉，减少劳动力成本；减轻土壤盐碱化、改善土质，降低改良土地的成本；适量提供作物生长所需的水和养分，达到降低成本、提高产量、改善品质的目的。（每点 2 分，答出 4 点得 8 分）
- (4) 精准灌溉和施肥，改良土地和灌溉设施，促进农业技术水平提高；扩大耕地面积，提高农作物的单产和品质；促进农民收入的提高和国家农业的发展，客观上保障了国家粮食安全。（每点 2 分，答出 3 点得 6 分）

中学生标准学术能力诊断性测试 2023 年 9 月测试

文综历史参考答案

一、选择题：本题共 12 小题，每小题 4 分，共 48 分。在每小题给出的四个选项中，只有一项是符合题目要求的。

24	25	26	27	28	29	30	31	32	33	34	35
C	D	B	D	A	C	B	B	D	A	D	B

二、非选择题。

42. (25 分)

(1) 一战期间：从最初的保持相对和平到后期的断交甚至战争。(2 分)

原因：德国为了迫使日本无法参战，主动修复两国关系；中国欲收回胶州湾；英法日等帝国主义的阻挠；辛亥革命民主平等的观念深入人心的影响；民众参与政治热情的逐渐提升；中国各政治派别博弈的日趋尖锐。(每点 2 分，任答 3 点得 5 分)

一战后：中德关系由战争走向正常化。(2 分)

原因：一战德国战败实力下降，失去在华殖民地；巴黎和会中国外交失败；德国政府着力恢复经济，改善对华关系；中国需要德国援助；德国放弃在华不平等条约。(每点 2 分，任答 2 点得 4 分)

(2) 特点：贸易额逐渐增长；合作范围逐渐扩大；合作程度逐渐加深；经济结构互补；双方投资规模越来越大；技术交流密切；合作机制逐渐健全；是保持中德良好关系的重要因素；合作与竞争并存；成果与问题并存。(每点 2 分，任答 3 点得 6 分)

原因：合作符合各自利益需求与互利互惠原则；中国经济实力的增强；经济全球化深入发展，各国经济联系不断加强；欧洲贸易保护主义政策；社会制度和意识形态的差异；受欧盟和美国的影响。(每点 2 分，任答 3 点得 6 分)

43. (12 分)

例：论题：中国共产党继承和发扬中华传统德政思想

中华德政思想源远流长，《左传》中“太上有立德，其次有立功，其次有立言；虽久不废，此之为不朽。”其中将立德放置首位；孔子明确指出“为政以德，譬如北辰，居其所而众星共之。”意指为政者立德政、行德治、施德教，就会得到人民的拥护，就会社会安定、社稷稳固。

中国共产党是中国优秀传统文化的继承者和发扬者，这其中就包括对德政思想的践履。革命年代，中国共产党坚持为人民服务的根本宗旨，坚持“一切为了群众，一切依靠群众，从群众中来，到群众中去”的群众路线，如材料中提到的“一罐食盐”的故事，得到广大人民的拥护和支持，最终取得了新民主主义革命的胜利；新中国成立后，中国共产党依靠和带领人民恢复国民经济，巩固新生政权，在条件极其艰苦的情况下依靠广大人民取得了抗美援朝战争的伟大胜利，提前完成“一五”计划，为社会主义工业化奠定基础，完成三大改造，建立社会主义制度，涌现出像焦裕禄这样一心为民、勤于德政的“好公仆”；改革开放后，中国共产党坚持以经济建设为中心，着力提高人民生活水平，综合国力显著增强；新时代，中国共产党团结带领人民打赢脱贫攻坚战，全面建成小康社会，为实现中华民族伟大复兴奠定了坚实基础。

综上所述，德政就是做有利于人民的政治实践，德政思想是贯穿于中国几千年的优秀政治文化。百年来，中国共产党正是心系人民、服务人民、依靠人民，从革命年代到新时代，取得了一个又一个胜利。

评分说明：观点明确 2 分、论述 8 分、总结 2 分。

一等 (10-12 分)	1. 观点明确；观点必须符合唯物史观 2. 合理引用史实，时间跨度大，进行多角度评论
--------------	---

	3. 论证充分，逻辑严密，表述清楚
二等（5-9分）	1. 观点较明确，观点必须符合唯物史观 2. 基本能引用史实，能多角度评论 3. 论证较完整，表述清楚
三等（0-4分）	1. 观点较明确，观点不符合唯物史观，按0分处理 2. 引用史实有限，不能多角度评论 3. 论证欠缺说服力，表述不清楚

44. （15分）

- (1) 特点：创办专门女子学校；增设教育机构；加大平民教育力度；明确培养目标；优化课程设置；技能培训和知识教育并行；西方文化教育和本国文化教育并存；实行国民教育立法。（每点2分，任答5点得9分）
- (2) 提升了妇女处理家庭事务的能力；提高了妇女家庭地位；提高了妇女文化素养和劳动技能；促进妇女文学的兴起；促进妇女职业化发展；有利于改良社会风气；有利于转变思想观念；促进社会平等。（每点2分，任答3点得6分）

中学生标准学术能力诊断性测试 2023 年 9 月测试

文综政治参考答案

一、选择题：本题共 12 小题，每小题 4 分，共 48 分。在每小题给出的四个选项中，只有一项是符合题目要求的。

12	13	14	15	16	17	18	19	20	21	22	23
C	A	C	B	D	B	A	B	D	D	C	A

二、非选择题。

38. (12 分)

- ①始终坚持党中央对立法工作的集中统一领导，将党的主张上升为国家意志。
- ②拓宽公民有序参与立法的途径，广泛凝聚社会共识，实现民主立法。
- ③崇尚宪法权威，依宪立法，发挥宪法在立法体制发展完善中的基础作用。
- ④顺应时代发展要求，通过作出授权决定和改革决定，将经验上升为法律制度，实现了科学立法。(每点 3 分)

39. (10 分)

赋分维度	维度描述
维度 1 (0-2 分)	从世界和平角度或国际政治角度概括中国式现代化的意义
维度 2 (0-3 分)	运用世界多极化、我国外交政策的相关理论依据进行阐释
维度 3 (0-3 分)	运用经济全球化、我国改革开放的相关理论政策进行阐释
维度 4 (0-2 分)	从世界发展角度或国际经济角度概括中国式现代化的意义

答案示例：

- ①坚持奉行独立自主和平外交政策，积极构建以合作共赢为核心的新型国际关系，推进全球治理体系改革和完善；(3 分)促进国际关系民主化，推动构建人类命运共同体，是维护世界和平的重要力量。(2 分)
- ②坚持改革开放的基本国策，积极参与经济全球化，以共建“一带一路”为重点，为世界各国发展提供机遇；(3 分)建设开放型世界经济，为广大发展中国家实现现代化提供中国方案，是世界发展的积极贡献者和有力推动者。(2 分)

40. (20 分)

- (1) ①坚持发散思维，采取多种方式广泛征求群众意见。(3 分)
- ②坚持聚合思维，聚焦民生实事这个靶心，定期召开重点民生事项调度会，寻求最优方案和思

路。(3分)

③坚持逆向思维,发挥思维正逆互补的作用,要求党政干部多进行换位思考,循果究因,从源头上解决问题。(4分)

(2) ①人民群众是社会历史的主体,要树立群众观点走群众路线。(1分)该市围绕更好满足人民群众对美好生活的需要,找准了解决民生问题的着眼点。(3分)

②发挥人民群众在解决民生问题中的主体作用,集思广益,问计于民,把握了解决民生问题的思路和途径。(3分)

③立足于人民群众的实践活动,通过基层调查研究等实践活动,提出解决方案,提高了解决民生问题的实效。(3分)

41. (10分)

(1) 没有。(1分)理由:健身器材属于动产,一般是通过交付实现动产所有权的转让。(2分)本案中商场没有将健身器材交付给王亮占有,故王亮没有取得该套健身器材的所有权。(2分)

(2) 本案中商场与王亮已构成买卖合同关系,双方的意思表示真实,没有违反法律的强制性规定和公序良俗,是有效合同。(2分)当事人应当按照约定全面履行自己的义务,商场没有依约将健身器材交付给王亮,违反了合同义务,致对方受损。(2分)在没有免责情形的情况下,商场应承担违约责任。(1分)