

2023 北京朝阳高一（下）期末

历史

2023.7

（考试时间 90 分钟 满分 100 分）

第一部分 选择题（每小题 2 分，共 60 分）

在下列各题的四个选项中，只有一项是符合题意的。

1. 依据下面示意图和所学知识，判断下列选项正确的是

- A. 原始人群时期使用天然火和打制石器的代表
- B. 指黄河中游地区重要的新石器时代彩陶文化
- C. 以精美的磨光黑陶作为显著特征的文化遗存
- D. 目前世界上最古老、最丰富的稻作文化遗址

2. 出身于春秋后期鲁国没落贵族家庭的孔子针对礼乐崩坏、社会动荡的形势，就伦理和政治重建问题提出了自己的主张。他主张

- A. 尊崇儒术，表章六经
- B. 封建亲戚，以蕃屏周
- C. 仁者爱人，为政以德
- D. 天下兴亡，匹夫有责

3. 中华文明是世界上唯一以国家形态连续发展至今的文明，向内凝聚的统一性既是文明连续的前提，也是文明连续的结果。下列各项中属于秦朝的历史贡献的是

- A. 以嫡庶血缘确定继承名分制度
- B. 推广郡县制并统一文字度量衡
- C. 确立儒学于意识形态主流地位
- D. 重文抑武提倡文治强化了集权

4. 西晋末年到东晋统治南方的时候，中国北方等地先后出现了一批割据政权，合称“十六国”。对下列选项进行判断准确的是

- A. 由内迁的少数民族建立
- B. 与东晋对峙分布于北方
- C. 采用中原模式国号年号
- D. 频繁接触消除民族隔阂

5. 第一煮饭酋长毕集洛阳……于端门街盛陈百戏，戏场周围五千步，执丝竹者万八千人，声闻数十里，自昏至旦，灯火光烛天地。终月而罢，所费巨万……（胡客）其黠者颇觉之，见以缯帛缠树，曰：“中国亦有贫者，衣不盖形，何如以此物与之，缠树何为？”市人惭不能答。

依据材料，结合所学知识，判断下列选项中属于隋朝灭亡的原因的是

- A. 财政枯竭
- B. 滥用民力

C.外敌入侵 D.自然灾害

6.宋代苏轼曾这样评价以下文学、艺术领域中的人物，“诗至于_____，文至于韩退之（韩愈），书至于颜鲁公（颜真卿），画至于_____，而古今之变，天下之能事毕矣。”其中，“_____”上的人分别被称为“诗圣”“画圣”，他们诗

- A.李白 张择端 B.杜甫 吴道子
C.白居易 赵佶 D.王维 顾恺之

7.宋元时期农业和手工业较之前代有明显的发展，且商业十分发达。下列关于宋元时期经济发展史实与结论对应准确的一组是

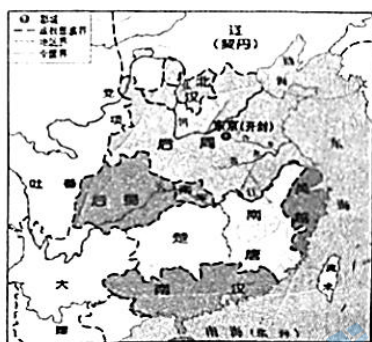
选项	史实	结论
A	一年两熟的稻麦复种制在南方已经相当普及	提高粮食产量，适应南迁北人的饮食习惯
B	昔汴都数百万家，尽仰石炭，无一家燃薪者	宋元时期燃料结果发生革命性变化
C	港中大海船白艘（大船）船员千人，水手六百，卫兵四百，船为四舱，有三帆至十二帆	以澳门为主要中转站的海上贸易网络形成
D	北宋东京和南宋临安人口过百万；元大都是北方最大的经济中心和商品集散地	以经济功能为主的工商业市镇广泛兴起

8.右面诗句反映的是中国古代的

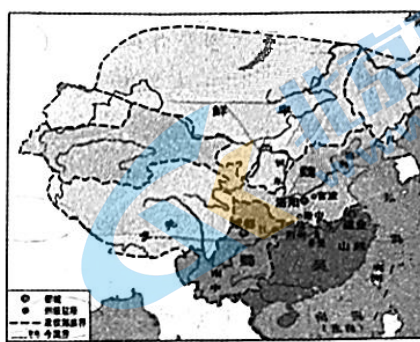
- A.分封制
B.均田制
C.察举制
D.科举制

少小须勤学	文章可立身	满朝朱紫贵	尽是读书人
自小多才学	平生志气高	别人怀宝剑	我有笔如刀
朝为田舍郎	暮登天子堂	将相本无种	男儿当自强

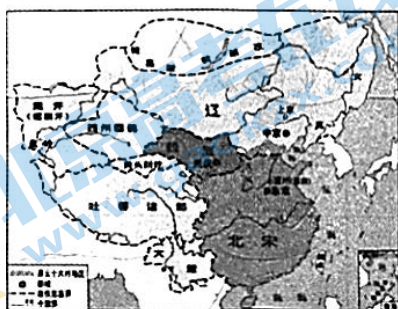
9.地图承载了丰富的历史信息，帮助我们理解历史。对下列四幅地图反映的时段，排序正确的是



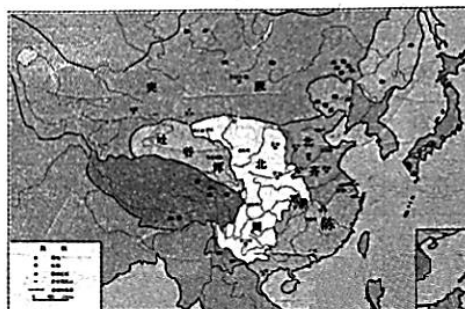
①



②



③






④

- A.①②③④ B. ②①④③ C. ②④①③ D. ④②①③

10.自明朝中期起，社会的变化与剧烈动荡促进了思想界的活跃。这一时期思想界出现了新的倾向

- A.政治上“无为”，崇尚“清淡” B.主张儒、佛、道“三教合归儒”
C.人生目标是“存天理，灭人欲” D.提倡个性自由，反对君主专制

11.下面图示显示中国古代对边疆某一地区进行治理、管理的措施。据此可知，这一地区是

		
<p>与唐主文武孝德皇帝舅甥商量社稷儒一统，结大和盟约于唐之京师西兴唐寺前，时大蕃彝泰七年，大唐长庆元年，即阴铁牛年（辛丑）冬十月十日也。</p>	<p>宣政院 印</p>	<p>清乾隆五十年（1792年）正式设立。该仪式通过中央代表主持监督，经金瓶掣签认定，报朝廷批准</p>

- A.云南 B.台湾 C.西藏 D.新疆

12.鸦片战争后，出现了一批探讨当时世界形势的论著，如魏源的《海国图志》、徐继畲的《瀛寰志略》等，这些论著

- ①初步提出向西方学习的主张 ②意在探索中国强国御侮之路
③打破盲目自大和僵化的状态 ④引发知识阶层中的思想动荡
A.①②③ B.②④③ C.①③④ D.①②③④

13.太平天国运动与义和团运动，对近代中国社会发展到共同的积极作用是

- A.直接促成中国自然经济的解体 B.迫使清政府执政纲领根本转变
C.促进民族资本主义经济的发展 D.面对困境中国人民的奋起反抗

14.近代以来，中国不断遭受西方列强侵略，英勇的中国军民也不断掀起反抗外来侵略的斗争。下面是某位同学做的相关知识结构图，空白处应填

侵略与反侵略	第一次鸦片战争	中法战争	中日甲午战争	八国联军侵华战争
	⇕	⇕	⇕	⇕
	三元里人民抗英	冯子材率领清军取得镇南关大捷		义和团在廊坊天津等地阻击侵略军

- A.郑成功驱逐殖民者收复台湾 B.戚家军在浙江台州九战九捷
C.刘永福率台湾人民武装抗日 D.杨靖宇率东北抗联牵制日军

15.中国共产党的成立，是一个开天辟地的大事变，给灾难深重的中国人民带来了光明和希望。学生作出以下总结：

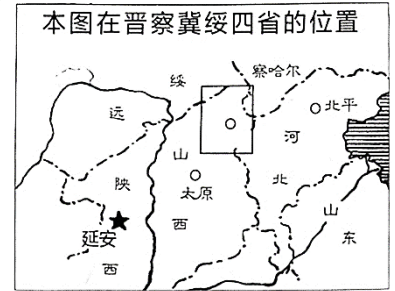
- ①新的思想引领了中国救亡运动
- ③改变了近代以后的方向和进程

- ②改变了中华民族的前途和命运
- ④改变了世界发展的趋势和格局

在下面一些同学的补充中，正确的还有

- A.有了新的组织凝聚革命力量
- B.马克思主义思想开始传入中国
- C.工人阶级开始登上政治斗争的舞台
- D.由旧民主主义革命向新民主主义革命的转折

16.右图记录的是 1937 年 9 月的一场战事。其中方框中的“○”发生了一场首次集中较大兵力对日军进行的成功伏击战。“○”应指的是



- A.台儿庄
- B.平型关
- C.沙家店
- D.山海关

17.“1948 年 7 月至 11 月，人民解放军共歼灭国民党军队 100 万人，使其总兵力下降到 290 万人；人民解放军则增加到 310 万人。至此，人民解放军不但在质量上占有优势，而且在数量上也取得优势。”这段话描述的形式出现在下列哪场战役之后

- A.辽沈战役
- B.淮海战役
- C.平津战役
- D.渡江战役

18.

水调歌头·游泳

才饮长沙水，又食武昌鱼。万里长江横渡，极目楚天舒。
 不管风吹浪打，胜似闲庭信步，今日得宽馥。子在川上曰：逝者如斯夫！
 风樯动，龟蛇静，起宏图。一桥飞架南北，天堑变通途。
 更立西江石壁，截断巫山云雨，高峡出平湖。神女应无恙，当惊世界殊。

诗中的“一桥飞架南北”指的是



A.钱塘江大桥



B.鸭绿江大桥



C.武汉长江大桥

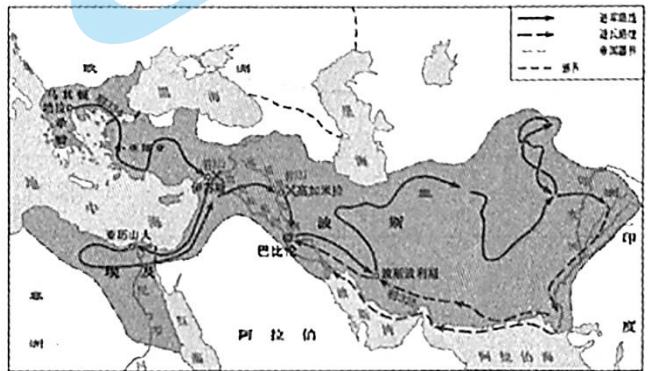


D.港珠澳大桥

19.右面为公元前4世纪某一古代帝国示意图。

这一帝国是

- A.波斯帝国
- B.亚历山大帝国
- C.罗马帝国
- D.拜占庭帝国



20.墨西哥国徽中鹰吃蛇图案源自古代印第安人的传说。这支印第安人是

- A.玛雅人
- B.阿兹特克人
- C.印加人
- D.雅利安人

21.阿拉伯文化对古代世界文化的继承和发展起到了重要作用。以下说法正确的是

- A.说法之一：其都城君士坦丁堡成为沟通东西方的桥梁
- B.说法之二：阿拉伯依靠军事实力迅速完成了文化蔓延
- C.说法之三：阿拉伯人发明数字及造纸术，并传入欧洲
- D.说法之四：通过广泛翻译古代文献，融合东西方文化



22.1518年3月21日，西班牙国王和麦哲伦等人订立了关于发现香料群岛的协定，其中规定：“朕愿下令赐给，从你们发现的岛屿和大陆获得的一切利润和收入，以及捐税和替朕征收的其他进款中，除去你们负担的开之后，给你们留下二十分之一。朕也把朕在上述地方和岛屿的钦差和总督官衔赐给你们。”对该协定的认识正确的是

- A.麦哲伦在环球航行的过程中发现了香料群岛
- B.西班牙凭借麦哲伦的航行垄断欧亚香料贸易
- C.对金银财富的需求是新航路开辟的动因之一
- D.西班牙在此发展种植园经济并屠杀印第安人

23.对以下数据的理解，最为全面、准确的是

- A.蒸汽机的发明使人类开始进入“火车时代”
- B.第二次工业革命推动产业部门焕发新活力

C.欧亚大陆内部通过铁路网络被纳入世界市场

D.美洲各国实现了民族独立，加速了铁路修建

	全世界	欧洲	美洲
1870 年	210	105	93
1900 年	760	284	402

24.马克思在 1872 年《共产党宣言》德文版的序言中写道：“不管最近 25 年来的情况发生了多大的变化，这个《宣言》中所阐述的一般原理整个说来（自发表以来）直到现在还是完全正确的”。符合德文版所说的“最近 25 年来的情况”的史实是

- ①宪章运动 ②第一国际 ③巴黎公社 ④共产国际
A.①② B.③④ C.①④ D.②③

25.观察右面海报，其宣传主题是

- A.宣告了北美殖民地的独立
B.击败美国南方的分裂势力
C.从西班牙手中夺得菲律宾
D.美国参加协约国一方作战



26.1917 年俄国革命的亲历者认为“布尔什维克成功的唯一原因在于：他们实现了最基层百姓那普遍而单纯的愿望，号召他们起来摧毁旧制度，然后同他们一道，在旧制度的废墟上构建起新制度的框架。”能够为这一观点提供证据的史实是

- A.推翻沙皇统治 B.成立布尔什维克党领导的苏维埃政权
C.组建临时政府 D.建立“苏维埃社会主义共和国联盟”

27.以下为美国进出口贸易情况表（单位：亿美元），该数据反映出

- A.固定汇率制被浮动汇率所取代
B.关贸总协定等国际经济组织成立
C.战后西欧日本经济恢复增长迅速
D.资本主义国家社会结构的新变化

年代	1950	1960	1970	1973
与日本	2.4	2.0	-15.9	-19.4
与西欧国家	2.0	10.7	-5.8	-17.8

28.“9·11”事件后，美国迅速展开反恐行动，先后发动了

- ①朝鲜战争 ②越南战争 ③阿富汗战争 ④伊拉克战争
A.①② B.③④ C.①④ D.②③

29.下面历史场景中记录着中国作为联合国发起国之一，参加旧金山会议的是



A



B



C



D

30.“一带一路”是“丝绸之路经济带”和“21世纪海上丝绸之路”的简称。中国提出的共建“一带一路”倡议的核心理念是

- A.交往、交流、交融
- B.开放、包容、均衡
- C.共商、共建、共享
- D.多元、自主、平衡

第二部分 非选择题（共40分）

31.（20分）疏源浚流与古为新

材料一 东夷文化源于沂山区，是华夏文明重要源头之一，传说时代较突出的东夷族首领有太昊、少昊、蚩尤、舜、皋陶、伯益等。伯益在舜时担任过虞官，负责治理山泽；辅佐过大禹治理水患、开垦荒地、种植水稻（相传伯益发明了凿井之术），禹曾让位于伯益。商族以玄鸟为图腾，故有商族源于东夷的说法；商末纣王无道，东夷叛之，纣王以主力征讨东夷，周武王借机起兵，纣王释放囚犯以御周军，最终自焚于鹿台，故史称“纣克东夷而陨其身”。

（1）结合所学，在上述材料中，你能提取出哪些历史事实？（4分）

材料二 齐地本属东夷之地，太公（姜太公）初就齐，形势严峻·····

齐国、鲁国的述职	
鲁国	鲁有天子礼乐者，以褒周公之德也。周公卒，子伯禽固已前受封，是为鲁公。鲁公伯禽之初受封之鲁，三年而后报政周公。周公曰：“何迟也？”伯禽曰：“变其俗，革其礼，丧三年然后除之，故迟。”
齐国	太公亦封于齐，五月而报政周公。周公曰：“何疾也？”曰：“吾简其君臣礼，从其俗也。”
<p>点评：及后闻伯禽报政迟，乃叹曰：“呜呼，鲁后世其北面事齐矣！夫政不简不易，民不有近；平易近民，民必归之。”</p>	

齐国、鲁国“何以治国”	
鲁国	亲亲上恩
齐国	尊贤尚功
点评：鲁自此削矣	

(2) 为什么点评者说“鲁自此削矣”“呜呼，鲁后世其北面齐矣”。(4分)

材料三

<p>臣窃惟欧洲诸国，百十年来，由印度而南洋，由南洋而中国，闯入边界腹地，前史所未载，亘古所未通，无不款关而求互市。我皇上如天之度，概与立约通商，以牢笼之，合地球东西南朔九万里之遥，胥聚于中国，此三千余年一大变局也。</p> <p style="text-align: right;">——1872年李鸿章《复议制造轮船未可裁撤折》</p>
<p>然今之部寺，率皆守旧之官，骤与改革，势实难行，既立制度局总其纲，宜立十二局分其事：一曰法律局……二曰度支局……三曰学校局……四曰农局……五曰工局……六曰商局……七曰铁路局……八曰邮政局……九曰矿务局……十曰游会局……十一曰陆军局……十二曰海军局……十二局设，庶政可得而举矣。</p> <p style="text-align: right;">——1898年康有为《应诏统筹全局折》</p>
<p>第一折参考古今，会通文武，育才兴学，建立新式学校，改革科举制度，第二折法必应变，整顿者十二，提议停止捐纳买官，裁撤屯卫、绿营等；第三折西法必应，兼采并用者十一，广派游历、练外国操、广军实、修农政、劝工艺、定矿律路律商律及交涉刑律、用银元、行印花税、推行邮政、官收洋药、多译东西各国书籍等。</p> <p style="text-align: right;">——1901年刘坤一、张之洞《江楚会奏变法三折》</p>

(3) 晚清的几次变革中分别取得哪些收效？从几次变革的结局看，给予我们哪些启示。(8分)

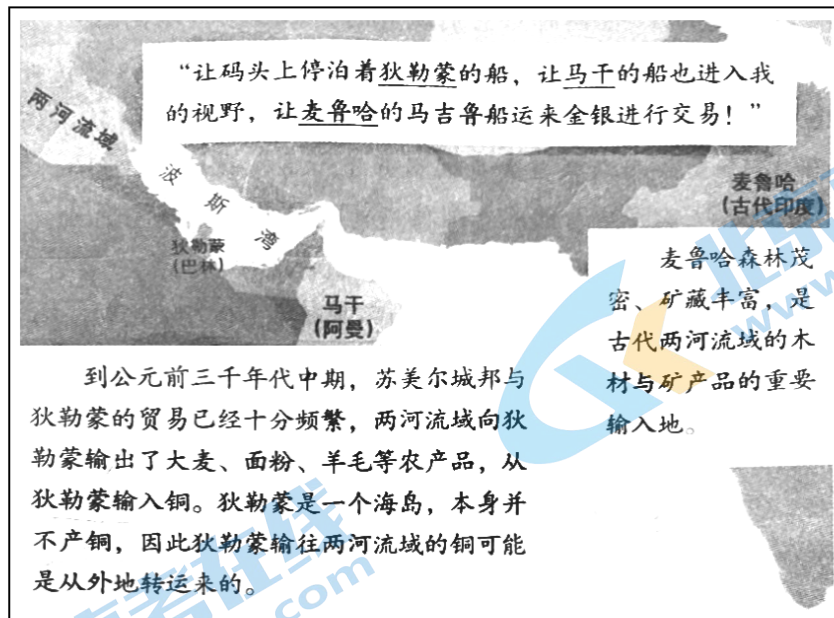
新中国史是中国共产党领导中国人民为了实现民族复兴而努力的探索史、奋斗史、创业史合发展史。改革开放前的历史是党领导全国各族人民进行社会主义革命和建设并取得巨大成就的历史，改革开放后的历史是成功开创和发展中国特色社会主义的历史。

有学者在做改革开放前新中国历史研究中，列出三个角度：①重大的创新论断；②建立社会主义基本制度；③社会文明程度显著提高。

(4) 在上述角度中任选一个，结合所学知识加以说明。(4分)

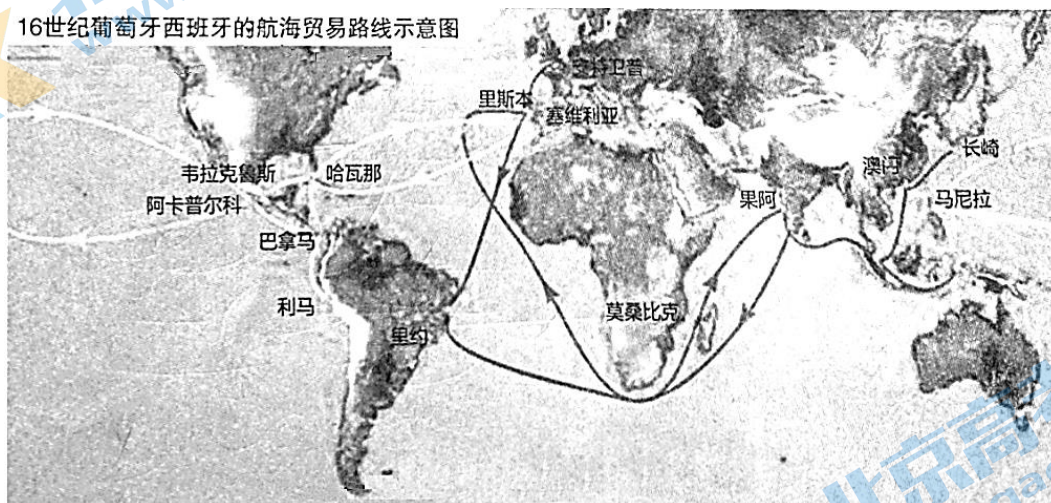
32.海纳百川

材料一



(1) 结合所学，分析上述材料中海上贸易的特点。(4分)

材料二



(2) 为什么当时的人将西班牙大帆船称为“银船”？(6分)

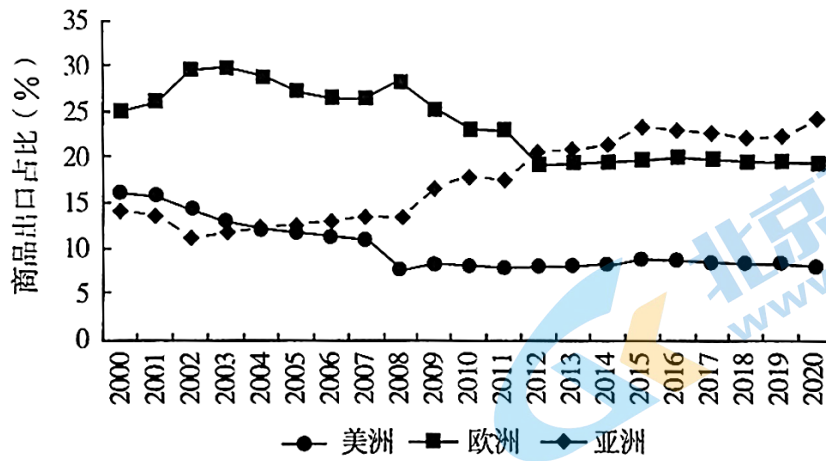
材料三 1941年《大西洋宪章》宣布的八点原则中包括：他们(英美)希望将努力使未来世界的所有国家无论大小、战胜国或战败国，都享有在平等的条件下进行贸易并获得它们经济繁荣所需要的原料，同时对它们现有的义务给予应有的尊重。

从1942年到战争结束时，美国共计向38个国家提供了租借援助，这些国家都不同程度地承担“按无歧视原则开放国内市场、实行多变自由贸易”的条约义务。

1944年44个反法西斯联盟成员国召开了布雷顿森林会议、1947年美国借助关贸总协定草案，为实现以多边互惠性最惠国待遇为核心的国际贸易自由化奠定了基础。

——金卫星《二战期间美国筹建战后世界多变自由贸易体系的历程》

(3) 结合材料三，分析二战后世界多边自由贸易体系建立的原因。(4分)



2000-2020 年间美洲、欧洲和亚洲商品出口占比发展趋势

数据来源：世界银行数据库

(4) 结合所学知识，对上图中的信息作出相关分析。(6分)

参考答案

1	2	3	4	5	6	7	8	9	10	11	12	13	14	15
B	C	B	C	B	B	A	D	C	D	C	A	D	C	A
16	17	18	19	20	21	22	23	24	25	26	27	28	29	30
B	A	C	B	B	D	C	B	D	D	B	C	B	B	C

31. (20分)

(1) 新石器时代晚期的“万邦时代”；华夏诸部落的组成部分；与炎黄部落之间互动；早期的职官设置；原始农业的发展；夏商周早期国家政权的更迭；禅让制；武王伐纣、牧野之战等。

(2) 齐国因俗而治、简政顺俗、因地制宜、奖贤任能，有利于民心归附，有利于人才的选拔与任用。鲁国齐国在治国方略和施政措施上的区别，为“鲁后世其北面事齐矣”埋下了伏笔。

(3) 成效：洋务运动引进西方的机器生产技术，是中国早期现代化的尝试，开启了近代中国工业化的历程；戊戌变法推行了涉及政治、经济、军事、文化、教育等方面除旧布新的改革措施，在一定程度上冲击了旧官僚体制，推动了民族资本主义的发展和新思想的传播；清末新政通过在官制、军事、商业、教育等方面的改革，推动了法制、工商业、教育等领域的近代化历程。

启示：只有在民族独立、国家统一的前提下，改革才能成功；改革是有方向、有立场、有原则的，需要清晰的顶层设计，推行符合中国国情的、全面系统的改革措施；改革需要坚实的领导力量、严密的组织、广泛可靠的社会基础，在不断实践探索中推进。

(4)

角度① 重大的创新论断：过渡时期，我国成功开辟一条适合自身特点的社会主义改造道路；在全面建设社会主义时期，探索适合中国国情的社会主义建设道路，取得了伟大成就；《论十大关系》、“百花齐放、百家争鸣”的方针、《关于正确处理人民内部矛盾问题》等，毛泽东思想不仅在新民主主义革命、社会主义革命、社会主义建设中发挥了重要作用，也为新的历史时期开创和建设中国特色社会主义发挥了重要作用。

角度② 建立社会主义基本制度：过渡时期，三大改造完成，标志着生产资料公有制占绝对优势的社会主义经济制度初步建立；1954年一届人大和宪法的颁布，确立人民代表大会制为根本政治制度，与共产党领导的多党合作政治协商制度、民族区域自治制度两个基本政治制度，初步构成我国社会主义的政治制度体系。

角度③ 社会文明程度显著提高：从“一五”时期起到“四五”时期，我国逐步建成了一批门类比较齐全的基础工业项目，为国民经济的进一步发展打下了坚实的基础，建立起独立的、比较完整的工业体系和国民经济体系；成功地爆炸了原子弹、氢弹，试制并成功发射了中远程弹道导弹和人造卫星；较大幅度地提高了粮食生产水平和抵御自然灾害的能力；人民物质生活和文化生活水平得到逐步提高；教育事业取得长足进步，医疗卫生事业也得到蓬勃发展；涌现出无数先进典型和英雄模范人物，形成了具有特定内涵的时代精神。

32. (20分)

(1) 早在苏美尔时期逐步形成了以两河流域为中心、环波斯湾和印度洋北部的贸易网，起源时间早；

以各自农牧产品、矿产等特产作为商品，互通有无，狄勒蒙成为重要的贸易中转站，区域贸易活动频繁。

(2) 西班牙殖民者疯狂开采、掠夺美洲财富，大量贵金属源源不断流入欧洲；西班牙经营着横跨太平洋的贸易，利用其两大殖民地菲律宾和墨西哥为基地，以美洲白银交换中国的生丝、丝绸、棉布和瓷器等；西班牙的船运载白银在大洋中穿行，故称为“银船”。

(3) 经济危机、第二次世界大战的教训，使得西方国家认识到在国际贸易领域加强协调，维护世界贸易秩序的必要性；二战期间的合作及美国援助的附加条件为战后建立以美国为中心的世界多边自由贸易体系提供了便利；国际货币基金组织、世界银行、关贸总协定等国际经济组织，为战后世界多边自由贸易体系的建立提供了制度和组织保障。

(4) 答题思路：

分别描述美洲、欧洲、亚洲经济发展态势（关注转折点 2008 年）；

分析角度：当今世界正处于大发展大变革大调整时期，世界经济增长的动力与发达经济体需求问题；广大发展中国家总体实力发展状况；面对现状的合理化建议。

北京高一高二高三期末试题下载

京考一点通团队整理了【**2023年7月北京各区各年级期末试题&答案汇总**】专题，及时更新 最新试题及答案。

通过【**京考一点通**】公众号，对话框回复【**期末**】或者底部栏目<**高一高二**>**期末试题**>，进入汇总专题，查看并下载电子版试题及答案！

